

辽宁 2022—2023 学年度高考适应性测试 地理试题

注意事项:

1. 答卷前,考生务必将自己的姓名、考生号、座位号、准考证号填写在答题卡上。
2. 回答选择题时,选出每小题答案后,用铅笔把答题卡上对应题目的答案标号涂黑。如需改动,用橡皮擦干净后,再选涂其他答案标号。回答非选择题时,将答案写在答题卡上。写在本试卷上无效。
3. 考试结束后,将本试卷和答题卡一并交回。

考试时间为 75 分钟,满分 100 分

一、选择题:本大题共 16 小题,每小题 3 分,共 48 分,在每小题给出的四个选项中,只有一项是符合题目要求的)

图 1 为四川省人口密度分布图。据此完成 1~2 题。

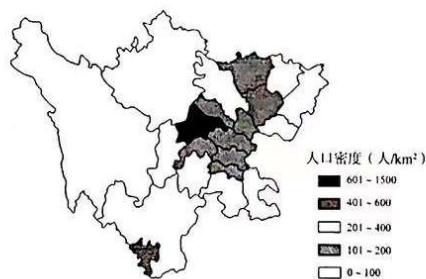


图 1

1. 四川省人口分布的特点是
A. 东多西少,北多南少
B. 中东部多,中南部少
C. 东部密集,西部稀少
D. 东南部多,西北部少
2. 影响四川省人口分布的直接因素是
A. 自然因素
B. 经济因素
C. 历史因素
D. 文化因素

甘肃陇南的万象洞(图 2)是我国 4A 级旅游景区,有“华夏第一洞”、“地下艺术宫殿”等美誉。据此完成 3~4 题。



图 2

7. 日本文化创意产业布局的特点是
- A. 濑户内海沿岸集中布局
B. 空间分布比较均衡
C. 主要分布于经济发达城市
D. 历史悠久地区密度大
8. 东京成为动漫产业和动漫游戏中心的主要原因是东京
- A. 首都城市, 政策优惠
B. 濒临海洋, 土地辽阔
C. 贸易繁荣, 出口便利
D. 人才集聚, 市场广阔

图5示意世界某区域表层洋流分布。据此完成9~10题。

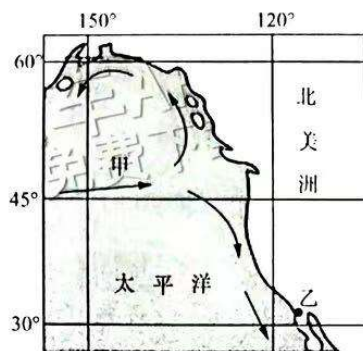


图5

9. 影响甲洋流流向的主要因素是
- A. 盐度差异
B. 密度差异
C. 海陆轮廓
D. 大气环流
10. 受图示洋流影响, 乙地
- A. 夏季多雨冬季少雨
B. 夏季温和冬季寒冷
C. 沿海等温线向南凸
D. 沿海营养盐类丰富

雄安新区, 对于集中疏解北京非首都功能有重大现实意义。构建雄安新区与京津地区快捷高效交通网, 打造绿色交通体系(绿色交通指低污染、适合都市环境的交通)是京津冀协同发展(促进人口、经济、资源、环境协调发展)的重要环节。图6示意雄安新区位置。据此完成11~12题。

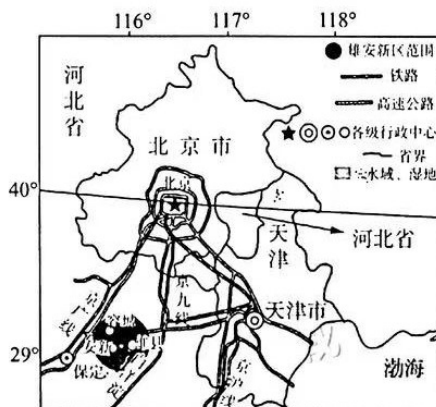


图6

11. 雄安新区的设立对北京城市交通具有明显的改善作用,主要是因为北京
- 减少交通拥堵和交通事故的发生
 - 纵横交织的城市交通得到外延
 - 向雄安新区进行产业和人口迁移
 - 基础设施建设的融资渠道增多
12. 雄安新区与京津地区快捷高效交通网的建设带来的有利影响是
- 降低出行费用,节省通勤时间
 - 加强联系,优化城市间的分工与合作
 - 引导市民绿色低碳出行
 - 完善城市内部的公共交通网络

随着人地矛盾的加剧,海洋空间资源开发日益受到关注。2022年11月25日,澳门轻轨延伸横琴线海底盾构隧道贯通,标志着跨海段的关键性工程顺利完成,进一步巩固2024年通车目标。据此完成13~14题。

13. 相比于海面,海底空间的优势主要在于
- 日照充足
 - 环境稳定
 - 水温较高
 - 地形平坦
14. 与陆地空间资源相比,海洋空间资源
- ①储量巨大
 - ②不易开发
 - ③价值量小
 - ④开发程度高
- ①②
 - ②③
 - ①③
 - ②④

下表所列的是2021年12月22日甲、乙、丙、丁四地的白昼时长。根据表中的数据完成15~16题。

	甲地	乙地	丙地	丁地
昼长	5小时30分	9小时09分	11小时25分	13小时56分

15. 该日,甲、乙、丙、丁四地中,正午太阳高度角最低的是
- 甲
 - 乙
 - 丙
 - 丁
16. 北半球夏至日,四地的白昼时间分别为
- 甲—9小时03分
 - 乙—14小时51分
 - 丙—8小时04分
 - 丁—12小时25分

二、非选择题:本题共3小题,共52分。

17. 阅读图文材料,完成下列要求。(18分)

中美洲地区的萨尔瓦多(图7)地形以山地、高原为主,多火山,被称为“火山之国”,境内的圣安娜活火山海拔2385m,为全国最高峰。该国北部为伦帕河谷地,南部为狭长的沿海平原。全境属热带气候,沿海和低地气候湿热,山地气候凉爽;山区年降水量在1800mm以上,沿海地带约为1000mm。

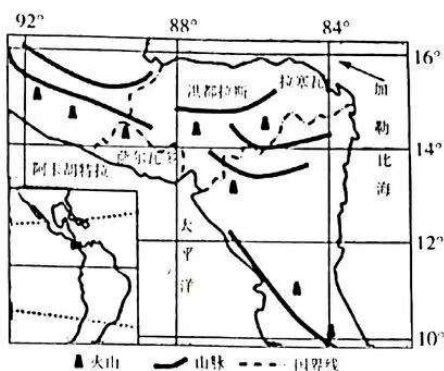


图7

(1)说明萨尔瓦多被称为“火山之国”的原因。(4分)

(2)分析萨尔瓦多山区和沿海地带降水量差异明显的主要原因。(6分)

(3)从自然环境的整体性角度,说明伦帕河的水文特征。(8分)

18. 阅读图文材料,完成下列要求。(18分)

台积电是目前全球最大的半导体和芯片代工制造商,总部和主要工厂位于台湾,其4.7%的营业收入来自日本公司。2021年11月,台积电计划与索尼公司(台积电在日本的最大客户)联合在日本建立其有史以来首家芯片制造厂。该芯片制造厂设在日本熊本县,厂址靠近索尼公司的一家主要生产半导体及汽车芯片的工厂,于2022年开始建设,2024年正式启用。图8示意日本熊本县地理位置。

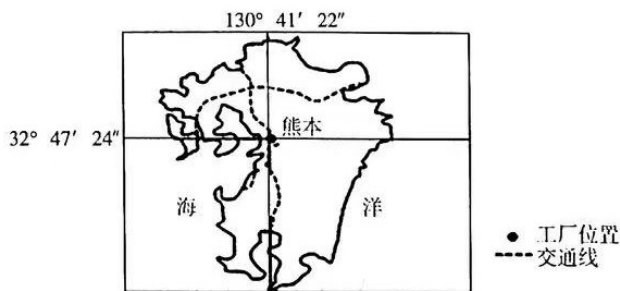


图8

(1)说明台积电到日本建厂的主要目的。(6分)

(2)指出熊本县吸引台积电芯片制造厂落户的优势。(6分)

(3)简述新工厂正式启用后对日本的有利影响。(6分)

19. 阅读图文材料,完成下列问题。(16分)

材料一 库布齐沙漠位于黄河“几”字弯里的黄河南岸,属于中温带干旱、半干旱区。1988年,出于对沙漠的热爱和荒漠化的担忧,亿利资源集团踏上了治沙征途。经过30多年的努力,该集团探索出治沙与经济并存的复合生态模式,实现了治沙和经济绿色循环互动,累计带动沙区10万多人摆脱贫困。

材料二 图9示意库布齐沙漠的位置,图10示意库布齐沙漠的治沙和经济绿色循环互动发展模式。

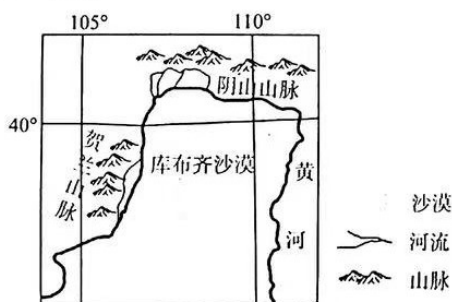


图9

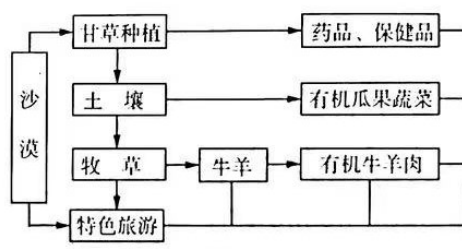


图10

(1)曾经库布齐沙漠每年向黄河岸边推进数十米、流入泥沙1.6亿吨,800千米之外的北京也饱受沙尘暴之苦。分析其人为原因。(6分)

(2)说明为了阻挡库布齐沙漠的流沙和沙尘暴,人们采取的主要措施。(4分)

(3)简述治沙和经济的绿色循环互动带来的显著效益。(6分)

关于我们

自主选拔在线是致力于提供新高考生涯规划、强基计划、综合评价、三位一体、学科竞赛等政策资讯的升学服务平台。总部坐落于北京，旗下拥有网站（[网址: www.zizzs.com](http://www.zizzs.com)）和微信公众平台等媒体矩阵，用户群体涵盖全国90%以上的重点中学师生及家长，在全国新高考、自主选拔领域首屈一指。

如需第一时间获取相关资讯及备考指南，请关注**自主选拔在线**官方微信号：**zizzsw**。



 微信搜一搜

 自主选拔在线



自主选拔在线
微信号: zizzsw



自主选拔在线
微信号: zizzsw



自主选拔在线
微信号: zizzsw