

2022~2023 学年新乡高三第二次模拟考试 文科综合

考生注意:

1. 本试卷分第 I 卷(选择题)和第 II 卷(非选择题)两部分,共 300 分。考试时间 150 分钟。
2. 请将各题答案填写在答题卡上。
3. 本试卷主要考试内容:高考全部内容。

第 I 卷 (选择题 共 140 分)

本卷共 35 小题,每小题 4 分,共 140 分。在每小题给出的四个选项中,只有一项是符合题目要求的。

巴哈马是一个位于中美地区大西洋和墨西哥湾之间的岛国,人口约 38.5 万。出售岛屿成为巴哈马的重要产业,部分人迹较少的岛屿在原住民迁到大岛后,以千万美元的起拍价拍卖。据此完成 1~3 题。

1. 出售岛屿成为巴哈马的重要产业,反映出巴哈马
 - A. 国土空间大
 - B. 经济水平高
 - C. 自然风光好
 - D. 配套服务佳
2. 被出售的岛屿其原住民在过去主要从事
 - A. 渔业
 - B. 农耕业
 - C. 旅游业
 - D. 海运业
3. 推测巴哈马岛屿的买家主要来自
 - A. 巴哈马国内
 - B. 中美地区
 - C. 南美地区
 - D. 北美地区

深圳市为建设“世界著名花城”,充分利用路口优势打造花境景观来提升城市文明。下表示意深圳市路口造景植物构成。据此完成 4~6 题。

类型	乡土植物种数/种	乡土植物占比/%
乔木	32	57.14
灌木	44	45.83
藤本	3	60.00
多年生草本	31	45.59
一二年生草本	15	27.27
合计	125	44.80

4. 与草本相比,乔木乡土植物占比较高,主要是因为乔木
 - A. 耗水量大
 - B. 适应能力强
 - C. 造景效果差
 - D. 运输成本高
5. 深圳绿化植被中乡土植物占比有限,反映出当地
 - ①对外开放程度高
 - ②乡土植物品种多
 - ③花卉产业弱
 - ④绿化投入大
 - A. ①③
 - B. ①④
 - C. ②③
 - D. ②④

【高三文科综合 第 1 页(共 12 页)】

10. 黄河三角洲“游耕”模式的主要危害是
- A. 导致全球气候变暖
B. 引发土壤次生盐渍化
C. 农产品产出降低
D. 净化水质的能力减弱
11. 黄河三角洲地区实施生态优先发展策略的首要目的是
- A. 稳定河口生态环境
B. 增加土地资源
C. 开展生态旅游
D. 庇护鸟类生存
12. 下图是某商品一定时期内的变化情况。假定其他条件不变,下面列举的经济现象中与对应图示(D 表示需求)的变化一致的是

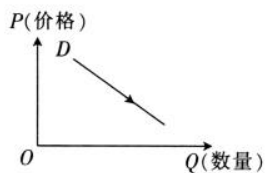


图 I

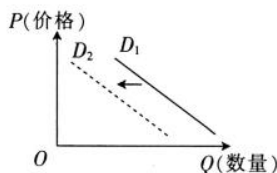


图 II

- ①国内汽油价格下降对国内燃油汽车销售的影响——图 I
②M 商品社会劳动生产率提高对 M 商品销售的影响——图 I
③欧洲能源危机对来自中国取暖设备消费的影响——图 II
④“上门做饭”服务的兴起对传统餐饮业的影响——图 II
- A. ①②
B. ①③
C. ②④
D. ③④
13. 国务院 2023 年《政府工作报告》指出,政府投资和政策激励要有效带动全社会投资,今年拟安排地方政府专项债券 3.8 万亿元,加快实施“十四五”重大工程,实施城市更新行动……鼓励和吸引更多民间资本参与国家重大工程和补短板项目建设。上述举措意在
- ①促进财政收支平衡
②扩大资本市场规模
③推动经济平稳发展
④着力扩大国内需求
- A. ①②
B. ①④
C. ②③
D. ③④
14. 从中老铁路到雅万高铁,从阿盟峰会主会场阿尔及尔国际会议中心到卡塔尔世界杯主会场卢赛尔体育场,中国参与建设的高速公路、高铁、港口、桥梁、电站、体育场等基础设施遍布世界各地,“中国建造”越来越成为中国合作伙伴的可靠选择。这说明
- ①“中国建造”走出去的步伐正在不断加快
②中国坚持联动发展,使全球经济发展更加平衡
③我国国内国际双循环的经济发展格局基本形成
④我国开放型经济水平提高,助力世界经济发展
- A. ①②
B. ①④
C. ②③
D. ③④
15. 2022 年 4 月,中国人民银行指导利率自律机制建立了存款利率市场化调整机制,引导银行根据市场利率变化合理调整存款利率,进一步推进存款利率市场化。这一政策发挥作用的传导路径是
- ①引导金融资源的优化配置
②为企业提供更多金融活水

【高三文科综合 第 3 页(共 12 页)】

- ③发挥利率杠杆的调节作用
A. ②→③→④→①
C. ③→①→②→④
- ④激发市场微观主体的活力
B. ③→④→②→①
D. ③→②→④→①
16. 某市加快“数字政府”工程建设,在政府公共服务场所设立政务公开专区,专门提供政府信息查询、信息公开申请、办事咨询答复、政策文件解读等服务;增添了政务服务“好差评”功能,并与 12345 热线对接,形成评价、整改、反馈、监督全流程衔接的政务服务评价体系。上述举措
- ①能增强政府工作人员的责任意识
②促进了政府简政放权切实落到实处
③完善了政府决策的智力支持系统
④坚持政府主导与社会参与有机结合
- A. ①③ B. ①④ C. ②③ D. ②④
17. 习近平总书记在二十届中央纪委二次全会上强调,如何始终不忘初心、牢记使命,如何始终统一思想、统一意志、统一行动,如何始终具备强大的执政能力和领导水平,如何始终保持干事创业精神状态,如何始终能够及时发现和解决自身存在的问题,如何始终保持风清气正的政治生态,都是我们这个大党必须解决的独有难题。解决“大党独有难题”
- ①是全面从严治党适应新形势新要求必须啃下的硬骨头
②是赢得人民支持确立和巩固党的执政地位的内在要求
③是以中国式现代化推进中华民族伟大复兴的必然要求
④是提升党管理各级党组织和国家机关能力的重要内容
- A. ①③ B. ①④ C. ②③ D. ②④
18. 近年来,国际社会对调解的需求增加,但缺乏专门进行调解的政府间国际组织。2023 年 2 月,国际调解院筹备办公室在香港举行成立仪式。国际调解院是由中国发起牵头、多个友好国家参与,在平等相处的基础上成立的一个国家间调解矛盾、避免冲突的新组织。成立国际调解院
- ①回应了国际社会对和平安全、公平正义、合作共赢的强烈诉求
②体现了中国始终做世界和平的建设者和国际秩序的维护者
③是基于国际组织能以更中立的方式解决争端,得到各国普遍认同
④彰显了中国文化软实力随经济、政治影响力的增强而不断增强
- A. ①② B. ①④ C. ②③ D. ③④
19. 从先秦时期“五方之民”共天下到隋唐“六合同风,九州共贯”,从“洛阳家家学胡乐”到“万里羌人尽汉歌”……从“夷夏有别”到“夷夏一家”,“中华民族”的概念逐渐从“自在”走向“自觉”。这体现了
- ①各民族文化寓于中华文化之中 ②中华文化求同存异、兼收并蓄
③中华文化具有明显的区域特征 ④华夏文明文脉相通、多元一体
- A. ①② B. ①③ C. ②④ D. ③④

【高三文科综合 第 4 页(共 12 页)】

20. 多少人曾一遍遍观看经典红色电影《党的女儿》《青春之歌》，在李玉梅、林道静的经历中找到自己的人生方向；多少人曾把《平凡的世界》作为枕边书，一次次与孙少安、孙少平隔空对话，为改变命运而不懈奋斗；多少人看完豫剧《朝阳沟》后，立志扎根农村为乡村振兴贡献青春力量。可见，经典文艺

- ①能启迪人们发现生活之美、心灵之美
- ②弘扬主流价值观，传递向上向善的正能量
- ③以超越生活的艺术创造感动人心、引发共鸣
- ④以创作者为真正的主角揭示生活底蕴、幸福内涵

A. ①② B. ①③ C. ②④ D. ③④

21. 被誉为“地球之肾”的湿地，除了具有涵养水源、净化水质、调节气候、维护生物多样性等多种生态功能外，还是地球上最重要的碳库之一，在减缓全球气候变化方面的作用非常明显。湿地如果遭受到破坏，就会从“碳汇”变成排放二氧化碳的“碳源”，加速全球气候变化。根据材料，下列理解正确的有

- ①湿地与生态的联系是普遍和多样的
- ②处理人与湿地关系应发挥整体的统率作用
- ③湿地保护必须尊重事物的固有联系
- ④人与湿地联系的客观性受人的意识的影响

A. ①② B. ①③ C. ②④ D. ③④

22. 漫画给我们的哲学启示有

- ①要坚持两点论与重点论相结合
- ②成功与失败相互依赖、相互贯通
- ③量的积累必然导致事物质的发生
- ④要承认矛盾，正确认识失败的两面性



《失败是成功的阶梯》

A. ①② B. ①③
C. ②④ D. ③④

23. 在 2022 年世界技能大赛特别赛瑞士赛区比赛中，22 岁中国小伙李某勇夺中国自参加世界技能大赛以来在家具制作项目上的首枚金牌，向世界展示了中国的工匠精神。李某认为他是幸运的，赶上了国家高度重视技能人才队伍建设、大力发展职业教育和技工教育的黄金时代。由此可见

- ①个人与社会的统一是实现人生价值的根本途径
- ②实现人生价值需要学会辨别是非、排除干扰
- ③良好的素质可以帮助人们把握难得的人生机遇
- ④实现人生价值要充分利用社会提供的客观条件

A. ①② B. ①④ C. ②③ D. ③④

24. 西周宗法制度不仅适用于周室同姓贵族，也适用于分封的异姓贵族。西周王室不仅将同姓不婚的习俗发展为以法律强制维护的礼制和社会规范，还进一步规定凡同姓不问远近亲疏、

【高三文科综合 第 5 页(共 12 页)】

相隔几代,均不通婚姻。西周实行这一制度的主要目的是

- A. 保持稳固的政治格局
B. 维护诸侯的独立地位
C. 形成开放的治理结构
D. 确立严格的等级秩序

25. 汉光武帝时期,政府即令内迁的八郡之民复归匈奴本土,“布还诸县,皆赐以装钱,转输给食”;明帝时期,政府又规定若“边人遭乱为内郡人妻,在己卯赦前,一切遣还边,恣其所乐”,积极鼓励内迁之民返迁边疆故土。这些举措可从侧面反映出东汉初期

- A. 边疆危机得以解除
B. 内迁之民的数量庞大
C. 中原地区地位优势
D. 统治疆域的日渐缩小

26. 宋以前的家训内容主要以修身养性、治国齐家为主;宋代以来,家训中逐渐增添了重文的内容,如家颐的“养子弟如养芝兰,既积学以培植之”“士人家切勤教子弟,勿令诗书味短”等语。这一变化

- A. 催生了崇文抑武的政策
B. 推动了文学家庭的发展
C. 改变了家训家规的宗旨
D. 促进了社会规范的变化

27. 下表为明清时期山东地区集市分府统计表。据表可知,明清时期的山东地区

府别	明代			清初			清中叶		
	州县	集市数	平均	州县	集市数	平均	州县	集市数	平均
兖州府	6	113	18.8	9	157	17.4	5	121	24.2
曹州府	4	51	12.8	10	285	28.5	5	93	18.6
东昌府	5	35	7.0	6	54	9.0	8	132	16.5
济南府	3	62	20.7	7	125	17.9	13	340	26.2
武定府	2	32	16.0	2	26	13.0	6	102	17.0
泰安府	2	59	29.5	5	79	15.8	7	183	26.1
沂州府	5	112	22.4	5	88	17.6	7	198	28.3
青州府	6	95	15.8	7	129	18.4	6	111	18.5
莱州府	7	127	18.1	5	79	15.8	7	177	25.3
登州府	2	20	10.0	8	104	13.0	10	123	12.3
合计	42	706	16.8	64	1126	17.6	74	1580	21.4

- A. 经济控制逐渐放松
B. 经济发展呈均衡趋势
C. 农本商末观念松弛
D. 商品经济得到了发展

28. 1900年6月21日,清政府对英法等国宣战,下令各省督抚召集义民,调兵北上援京共同灭洋。然而当时李鸿章率先电奏朝廷,称此为“乱命”,“粤不奉召”。受其影响,多数地方督抚也宣布懿旨难从,并暗中同与朝廷交战的列强接洽互保。这反映出当时

- A. 汉族官僚地位得到了提升
B. 清政府中央权威的式微
C. 地方督抚势力与中央决裂
D. 地方督抚成列强代理人

29. 下表所示为南京国民政府统治前期颁布的部分法规。这反映出这一时期

时间	内容
1930 年	关税自主权成功实现,南京国民政府重新制定海关进口新税则,分 12 级按物品性质,分别征收 5%至 50%的进口税
1931 年	公布《盐法》,人民可以自由买卖,任何人不得垄断,废弃了两千多年的食盐专卖制度
1934 年	下令废除全部厘金制度,规范市场流通

- A. 中国与世界市场联系更密切
B. 官僚资本规模化经营受重视
C. 政府扫除民营经济发展障碍
D. 民族工业发展环境有所改善
30. 据统计,1940 年华北太行山区有村剧团一百多个,剧团作品保存了鲜活的乡土气息,农民喜闻乐见的文学作品如雨后春笋般地涌现,代表作品有《小二黑结婚》《李有才板话》《荷花淀》《白毛女》等。这主要体现了当时中共
- A. 运用文艺加强进步思想宣传
B. 扎实在全党开展整风运动
C. 重视抗日根据地的政权建设
D. 大力鼓励文学艺术的发展
31. 新中国成立初期,上海地区的青年团就发展了 6 万多团员,组建了 1901 个团支部,工厂企业中有 1158 个团组织;新成立的上海总工会根据新的工会组织原则把各种劳动者组织起来,组织了 25 个产业工会,2555 个工会委员会。这些组织的建立
- A. 推动了基层民主建设
B. 提高了民众参政积极性
C. 加强了党的统一领导
D. 促进了国民经济的恢复
32. 罗马帝国初期,奥古斯都授予法学家以解答权,使得法学家的解答对法官构成制约,而裁判官甚至对君主准可的法学家解答产生了依附。皇帝哈德良组建了有法学家参与的君主顾问委员会,法学家协助元首起草谕令,并为君主过问的个案提供帮助。这表明此时的罗马法学家
- A. 丰富和发展了罗马法
B. 强化了君主专制权力
C. 完善了罗马政治体制
D. 阻碍了罗马法的发展
33. 14 世纪末,德国纽伦堡出现了装有 16 个计时纽的用于冬天长夜计时的闹钟,它使得人们不再根据昼或夜的自然长度来判断时间。16 世纪时,英国清教徒不但强调“用好你的时间”,而且更重视“用好每一分钟”;英国公共场合悬挂的钟,常以分针最为醒目。由此可知,近代西欧
- A. 时间观念的更新促进人类的解放
B. 科技发展助推人们观念的革新
C. 钟表的发明使人们生活节奏加快
D. 宗教改革推动了生产力的进步
34. 19 世纪末,英国棉花种植协会在非洲进行了大量的棉种试验。英国棉花种植协会派专家教非洲农民棉花种植技术,并且制定棉花销售等相关法规,给予英国棉花种植协会特殊照顾。这一做法
- A. 推动了非洲地区的工业化
B. 促进了英国工业革命的开展
C. 满足了资本原始积累需要
D. 强化了殖民地对英国的依附

【高三文科综合 第 7 页(共 12 页)】

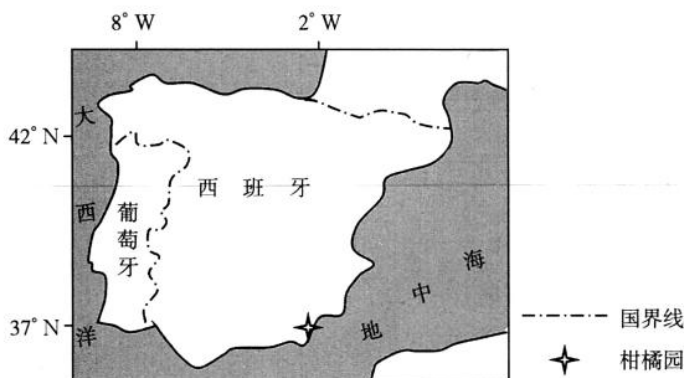
35. 1990年4月,美国国防部向国会提交的《亚太区域战略框架报告》中以“维持均势”、防止任何“地区性霸权”作为未来战略取向;1990年8月,美国总统布什也首次强调“地区威胁”的问题,此后,美国更加注重对地区威胁的应对。美国此举表明
- A. 苏联的威胁仍然存在
B. 亚太地区和平稳定
C. 多极化趋势不断发展
D. 两极格局土崩瓦解

第 II 卷 (非选择题 共 160 分)

本卷包括必考题和选考题两部分。第 36 题~第 42 题为必考题,每个试题考生都必须作答。第 43 题~第 47 题为选考题,考生根据要求作答。

36. 阅读图文材料,完成下列要求。(24 分)

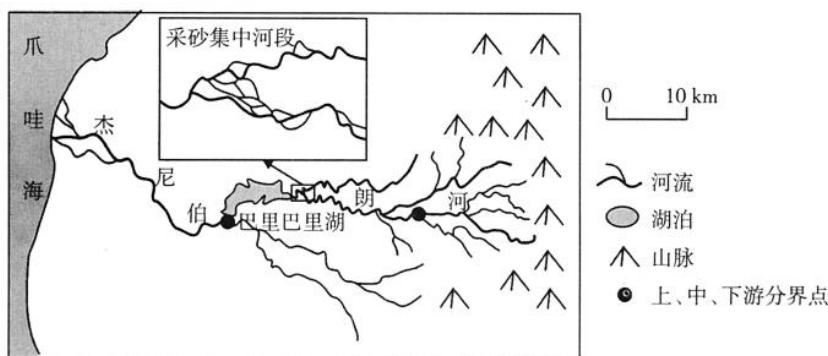
柑橘喜亚热带温暖湿润的气候,最冷月均温需大于 3°C 。西班牙东南部某柑橘园土壤水分和有机质含量有限,长期采用滴灌的方式,并将修剪的残枝覆盖地表。某农业研究小组在该柑橘园的一角选定 3 行种植带,每行共有 6 棵柑橘树,在行与行之间的巷道进行混合种植,2~6 月种植大豆,9~12 月种植蚕豆,巷道混合种植作物生长空间的地表无柑橘修剪残留物覆盖。经过 3 年的试验发现,与未进行巷道混合种植的柑橘相比,这 3 行种植带的柑橘品质明显提高,但土壤水分、土壤有机质含量并未出现显著变化。下图示意柑橘园的位置。



- (1) 判断该柑橘园最缺水的季节,并简述理由。(6 分)
 - (2) 分析巷道混合种植对提高柑橘品质的作用。(6 分)
 - (3) 简述在巷道混合种植的情况下,土壤水分并未出现显著变化的原因。(6 分)
 - (4) 某组员提出“巷道混合种植不能提高地中海地区土壤肥力”的观点,试从该项目研究的角度反驳这一观点。(6 分)
37. 阅读图文材料,完成下列要求。(22 分)

杰尼伯朗河地处印度尼西亚苏拉威西岛,发源于海拔 2830 m 的巴瓦卡朗山,上游地区的岩石由火山岩组成,流域河砂资源储量丰富。杰尼伯朗河流域传统建筑为木质结构,1950 年现代建筑从荷兰传入,当地对河砂的需求逐渐增长。20 世纪 80 年代开始,当地形成了较为稳定的传统采砂业。传统采砂业仅挖掘河道中部的底砂,且控制采砂规模。与巴里巴里湖以上的中游河段相比,杰尼伯朗河下游采砂难度大、产量低。2000 年以来,随着当地城镇化的快速发展,对河砂的需求激增,现代采砂业替代了传统采砂业。现代采砂业在巴里巴里湖以上局部河段划定了采砂场,大规模机械化采砂,极大地带动了相关产业发展,大量农民转为采砂工。下图为杰尼伯朗河流域及采砂集中河段局部水系放大图。

【高三文科综合 第 8 页(共 12 页)】



- (1) 简述杰尼伯朗河河砂资源储量丰富的自然原因。(6分)
- (2) 分析杰尼伯朗河下游采砂可能面临的困难。(6分)
- (3) 说明传统采砂阶段仅开采河道中部底砂的好处。(4分)
- (4) 与传统采砂业相比,分析现代采砂业带动相关产业的表现。(6分)

38. 阅读材料,完成下列要求。(14分)

近年来,我国机器人应用已经取得显著成效,我国已连续9年成为全球最大的机器人应用市场。工业机器人有效解决了行业精密加工难度大、恶劣环境高风险作业等痛点,并且能24小时连续作业,可以代替2~4个人工;以扫地机器人、陪伴机器人、康复机器人等为代表的服务机器人走入人们的生活;特种机器人在多个国家重大工程领域实现创新应用,帮助人类征服“星辰大海”。

2023年1月,工业和信息化部等十七部门联合发布《“机器人+”应用行动实施方案》,提出到2025年,制造业机器人密度较2020年实现翻番,服务机器人、特种机器人行业应用深度和广度显著提升。方案聚焦十大应用重点领域,要求突破100种以上机器人创新应用技术及解决方案,推广200个以上具有较高技术水平、创新应用模式和显著应用成效的机器人典型应用场景,打造一批“机器人+”应用标杆企业。

结合材料,运用经济生活知识,说明扩大“机器人+”应用对我国经济社会发展的积极影响。

39. 阅读材料,完成下列要求。(12分)

2022年以来,D市着力推进基层社会治理工作,构建“村(社区)党委(党总支)—网格党支部—村屯(楼院)党小组—党员联系(中心)户”的党组织体系,在全市重新整合划分网格并建立了1.5万余个网格党支部;印发社区工作事项目录清单,对不应由社区承担或社区无力承担的事项“一票否决”;市、区两级派出党员干部3400余人下沉基层,推进法官、检察官、警官、律师进社区,推广社区“法治超市”……全市以制度形式把综合管理、统筹协调、应急处置的“事权”下沉到乡镇街道,围绕社会矛盾纠纷和风险隐患的排查处置,推动调解力量融合、调解处置配合。

结合材料,运用政治生活知识,说明D市是如何提升基层社会治理能力的。

40. 阅读材料,完成下列要求。(26分)

这些年来,随着乡村文化振兴的持续推进,我国农村公共文化建设基础越打越牢、效果越来越好。与此同时,无论是在城市还是乡村,老百姓对乡村文化的期待也水涨船高。城里人盼着能从田园中寻找更美的“诗和远方”,村里人则梦想故乡的小路上也能感受到阳春白雪的芬芳。但在部分地区,农村的“空心化”造成了乡村文化的“荒芜化”,而乡村文化的“荒芜化”反过来又加剧了这些地方农村的“空心化”。乡村文化供需不平衡是影响乡村振兴成

效的一个重要短板。在不少地方,乡村文化需求一直很旺盛,但乡村文化供给却长期不能得到很好的解决。与城市相比,乡村文化产业的基础还较薄弱,存在市场投入较大、回报周期较长等问题。

乡村文化资源是一座富矿,乡村文化市场是一个旺铺。治理乡村文化的“水土流失”,做好了不仅能收获村里人的“芳心”,更能吸引城里人的目光。2023年2月,文化和旅游部、农业农村部、国家乡村振兴局三部门印发工作方案,在2023年举办“大地欢歌”全国乡村文化活动的年,以“四季村晚”“农业文化遗产里的中国”等文化展示活动为引导,带动各地因地制宜组织开展系列群众性文化活动。“四季村晚”等活动的显著特征是时代性强、乡土味浓、人情味重——时间线贯穿二十四节气,地点主要在村里头和家门口,主人公大部分是土生土长的“咱们屯里的人”,展现的都是新时代各地农村的新气象和广大农民的新风貌。

(1)举办“大地欢歌”全国乡村文化活动的年是助力乡村振兴的重要抓手。结合材料,运用文化生活知识对此加以说明。(10分)

(2)结合材料,运用一切从实际出发,实事求是的知识,说明我们应如何治理乡村文化“水土流失”。(12分)

(3)为加大2023年“大地欢歌”全国乡村文化活动的宣传力度,请你写两条宣传标语。(4分)

要求:围绕主题,言简意赅,每条标语限15字以内。

41. 阅读材料,完成下列要求。(25分)

材料一

15~17世纪的英国急剧变化,司法体系在新旧交替中发展。英国大致存在几种不同类型的法庭:一是构成近代早期司法之主体的普通法(建立在习惯法基础上、全国普遍适用的法律)法庭;二是以“良心”和“衡平”为原则的衡平法法庭;三是传统封建法庭;四是教会法庭。每种法庭都有不同的司法管辖权以及各自相应的组织结构。普通法法庭和衡平法法庭是当时英国政府所倚重的主要司法统治工具。各种法庭司法管辖权的重叠交叉为普通民众解决纠纷、维护利益、带来便利的同时,也使他们在面临诉讼时的选择变得多元化。

——摘编自陈娟《近代转型时期英国基层司法机构探析》

材料二

在清代前期,州、县主要受理笞杖刑以下的民事案件、轻微刑事案件,徒刑以上较重的刑事案件则归省与中央司法机关管辖。通过对242个真实判例的研究发现,清代州、县的基层司法官员主要依靠“礼(儒家伦理)、情(案情、常理)”来断案,体现了古代基层司法的价值追求。从判牍来看,州、县官员推崇民间调解,如果能够在民间调解可以解决的案件,他们就不主张再进行诉讼。对于已诉讼的案件,也会在审理中进行调解。基层官员注重在司法过程中,实现社会的教育作用,实现对良好社会风气的培养。曾任布政使的于成龙认为,司法官判案时一定要结合案件具体情况,不能完全拘于法律条文,提到了“实质正义高于形式正义”等问题。这些司法价值追求有着深远的历史文化因素,反映了统治阶层治国理政的经验和智慧。

——摘编自王新霞、任海涛《清代基层司法的价值追求及启示——以清代州县判牍为材料》

(1)根据材料一并结合所学知识,指出近代早期英国基层司法体系的基本特点及其意义。(11分)

(2)根据材料二并结合所学知识,概括清代前期基层司法的价值追求及其形成的历史背景。(11分)

【高三文科综合 第10页(共12页)】

(3)根据材料并结合所学知识,阐述近代英国和清代前期基层司法体系的历史启示。(3分)

42. 阅读材料,完成下列要求。(12分)

材料

农业的规模经营确实会带来劳动效率的提高,但同时管理跨度的扩大也会使管理成本相应提高,从而抵消了经营性农业的优势。这就出现了规模效应和管理成本权衡的问题。规模效应的发挥依赖于市场的发展和扩大,尤其是与大规模工业化需求相联系的农产品市场的发展。管理成本的降低需要技术条件和相关经济制度的支持。正像近代中国农业专家陈翰笙所说:“因为地主要出租而不经营出租的田地……地权愈集中,耕地愈分散而缩小,经营面积也很少能扩大。”近代中国的土地集中与规模化农业没有像英国、德国那样同步发展。近代中国的农业生产,无论是生产力层面的技术,还是生产关系层面的劳动组织方式,均无大的改变,经营式农业的比重也很有限。

——摘编自龚会莲、刘文瑞《民国时期的农业问题及其启示》

根据材料并结合所学知识,围绕“近代中国农业”自拟一个具体论题并予以阐述。(要求:论题明确,史论结合,逻辑清晰。)

请考生从2道地理选考题、3道历史选考题中每科任选一题作答。如果多做,则每科按所做的第一题计分。

43. [地理——选修3:旅游地理](10分)

近日,素有“地球彩带”“杜鹃王国”美誉的毕节百里杜鹃,精心打造了贵州省内首个5G+5A级景区,结合丰富多彩的5G业务,在百里杜鹃景区内配置多架无人机,搭载360°全景摄像头,分时段飞行采集视频,对花海盛况进行24小时直播,让游客借助“天空之眼”来全方位观景。无人机带来的鸟瞰视角让即使曾经到过景区的游客,也能有全新的观感,故地重游变得趣味横生。下图为无人机航拍的百里杜鹃景观图。



简述无人机对改善旅游体验的作用。

44. [地理——选修6:环境保护](10分)

西昌市位于四川省西南部,山地面积约占市域总面积的80%,是农、林、牧交错的生态脆弱区,面临水土流失严重、地质灾害多发、环境污染加剧等问题。近年来,西昌市大力推行合村并居,对农村居民点布局进行集中优化,在改善居住条件的同时能为人类提供自然资源,满足人类生存和发展的空间与物质需求,为人类提供相对适宜的生存环境,使人类从自然环境中获得较好的精神享受,维持自然环境自身的相对稳定状态。

说明西昌市农村居民点布局优化的作用。

45. [历史——选修 1:历史上重大改革回眸](15 分)

材料

隋代管理军籍的军府称骠骑府,炀帝时改成鹰扬府,州郡地方官与军府无相互统领关系,隋代统领地方州郡兵的都尉,也与地方无关。唐代前期的地方军事力量以府兵为主,唐代州级官员中,刺史被明确规定具有与军事行动相关的职掌。代宗朝规定,州政府与折冲府共同拥有对隶属于地方户籍的府兵的管辖权,府兵户籍必须同一般民户一起登记,归州县所管。“凡发府兵,皆下符契,州刺史与折冲勘契乃发。”在州级场合,刺史遇到突发军事事件时,可以先自行发兵,但必须呈报中央。此外,府兵的招募工作也由州县级政府担任,这种由地方官和折冲府共同进行的府兵军事管理机制,互相监督,使军权得到更有效的发挥。

——摘编自夏炎《唐代刺史的军事职掌与州级军事职能》

(1)根据材料,指出唐代州级政府对府兵管理权限的变化。(6分)

(2)根据材料并结合所学知识,简析唐代州级政府对府兵管理权限变化的积极作用。(9分)

46. [历史——选修 3:20 世纪的战争与和平](15 分)

材料

诺门坎战役是苏联与日军在中国内蒙古自治区诺门坎布尔德至蒙古国的哈勒欣河地区爆发的战役,战役从 1939 年 5 月开始到 9 月结束,苏军在朱可夫的指挥下,打败了日本关东军。诺门坎战役期间,苏联统帅部在将近 750 公里路程的蒙古大草原上,日夜不停地穿梭在运输路线上,苏联最先进的作战飞机和最优秀的飞行员也源源不断地飞往远东。朱可夫还利用情报人员搜集了包括人员配置、武器装备情况和坦克装甲车、汽车的数量及驻地、骑兵马匹数量在内的战争情报。战役中,苏军坦克兵和步兵、炮兵、航空兵大规模的协同配合,以及地面部队机动灵活的作战,为坦克装甲部队对敌实施迅速而坚决的突击创造了条件,确保了战役的胜利。此次战役后,日军放弃了“南北并进”战略,开始着手南进。

——摘编自赵立业《信息化战争视角下的诺门坎战役》

(1)根据材料,指出诺门坎战役中苏联取胜的原因。(9分)

(2)根据材料并结合所学知识,分析诺门坎战役的影响。(6分)

47. [历史——选修 4:中外历史人物评说](15 分)

材料

陈天华(1875—1905),湖南新化县人。陈天华十五岁开始读书,考入提倡新学的新学堂后,“慨然欲任天下事”,此后,赴日本留学,逐步走上民主革命的道路。陈天华呼吁全国人民“效命疆场”,保卫祖国,感慨当时国家“主权丢矣,利权去矣”,认为只有反帝才能维护近代中国的独立。他历数封建专制的弊端,依据近代西方民权理论,指出“专制之为祸烈矣”,惟有民权制度才能立国。陈天华认为各民族都是“同等之国民”,不应有等级之分,“鄙人以排满也,非如倡复仇论者所云,仍为政治问题也”。他的“只有讲革命独立,不能讲勤王”的主张,就是认为只有革帝国主义和清王朝的命,中国才能获得独立。

——摘编自肖万源《陈天华思想研究》

(1)根据材料,概括陈天华的民主革命思想。(8分)

(2)根据材料并结合所学知识,简析陈天华民主革命思想产生的原因。(7分)

关于我们

自主选拔在线是致力于提供新高考生涯规划、强基计划、综合评价、三位一体、学科竞赛等政策资讯的升学服务平台。总部坐落于北京，旗下拥有网站（[网址: www.zizzs.com](http://www.zizzs.com)）和微信公众平台等媒体矩阵，用户群体涵盖全国 90% 以上的重点中学师生及家长，在全国新高考、自主选拔领域首屈一指。

如需第一时间获取相关资讯及备考指南，请关注**自主选拔在线**官方微信信号：**zizzsw**。

