

文科综合测试题

考试时间：150分钟 满分：300分

本试卷分为第Ⅰ卷(选择题)和第Ⅱ卷(非选择题)

注意事项：


- 1.答第Ⅰ卷前，考生务必将自己的姓名、考号、考试科目涂写在答题卡上。
- 2.第Ⅰ卷每小题选出答案后，用铅笔把答题卡上对应题目的答案标号涂黑，如需改动，用橡皮擦干净后，再选涂其他答案，不能答在试卷上。
- 3.考试结束，监考人只将答题卡收回。

一、本卷共有35小题，每小题4分，共140分。在每小题列出的四个选项中，只有一项是符合题目要求的。

中国某医药企业2000年创立于西藏，随后五年内在四川成都、辽宁沈阳建设生产基地，西藏总部的生产职能剥离。2019年，该企业在拥有大规模工程院的澳大利亚新南威尔士州投资设立研发基地，部分核心技术人员迁到该地办公。据此回答1~3题。

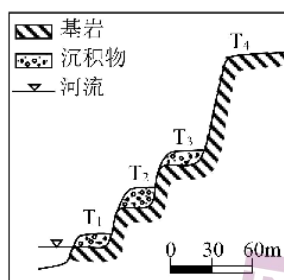
- 1.与西藏相比，该企业在成都、沈阳建设生产基地，能够节约
A.劳动力成本 B.土地成本 C.原料成本 D.营销成本
- 2.该企业研发部门转移到澳大利亚新南威尔士州，主要是为了
A.促进国际移民 B.缩短研发周期 C.推动国际合作 D.降低市场风险
- 3.该企业为持续扩大产品市场占有率，最应
A.加强技术研发 B.扩大招工规模 C.加强品牌宣传 D.大幅降低产品价格

雨水花园(图a)是自然形成或人工挖掘的浅凹绿地，用于汇聚并吸收来自地面的雨水。近年来雨水花园在建设海绵城市中有效解决了雨水径流处理的难题。我国自然环境多样，为应对某些地区的特殊环境，相关研究人员设计了错置型雨水花园(图b)。据此回答4~5题。



- 4.采用错置型雨水花园的地区，环境的特殊性体现在
A.地势起伏大，降水较集中 B.河网稠密，污染严重
C.植被覆盖少，水土流失多 D.地势低平，内涝多发
- 5.与常规雨水花园相比，错置型雨水花园
A.可种植的植物种类更多 B.雨水汇水范围更大
C.汇集净化雨水能力更强 D.维护和管理更方便

阶地是由河流作用形成的高出洪水位的阶梯状地貌，因形成年代早晚差异，分不同级别。下图为太行山某河流单侧河谷剖面图，图中阶地用T表示，数字下标表示阶地级数。据此回答6~8题。



6.图中任一级河流阶地沉积物堆积过程中

- A.地壳相对稳定 B.地壳持续上升 C.河流不断下切 D.河流间断上升

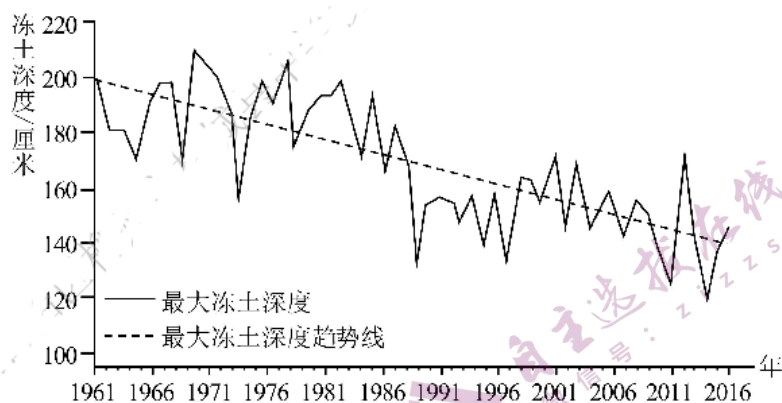
7.图中 T₄阶地几乎无堆积物的原因最可能是

- A.阶地抬升前风力剥蚀 B.阶地抬升时重力崩塌
C.阶地抬升后外力侵蚀 D.人类工程建设的采挖

8.推测图示时期内该河段各阶地经历了

- A.T₁阶地仍继续接受河流沉积 B.T₂阶地形成时期为地壳第二次抬升
C.T₃阶地形成时期地壳持续抬升 D.T₄阶地形成时期地壳抬升幅度最大

冻土是指温度在 0℃ 及其以下并含有冰的土壤和岩石。受全球气候变化影响，黑龙江省季节性冻土层厚度变化明显。研究发现，冻土层厚度的变化对黑龙江省湿地面积有较大影响。下图示意 1961~2016 年黑龙江省季节性冻土深度的变化趋势。据此回答 9~11 题。



9. 推测黑龙江省季节性冻土冻结深度达一年中最大值的时间可能是
 A. 12月~1月 B. 1月~2月 C. 2月~3月 D. 3月~4月
10. 黑龙江省季节性冻土层厚度变化反映出该省
 A. 冻土初日提前 B. 冻土终日提前 C. 冻土期延长 D. 冻土面积增加
11. 季节性冻土层厚度的变化导致黑龙江省湿地萎缩，主要是因为
 A. 降水减少 B. 蒸发增加 C. 下渗增加 D. 融雪减少

第 II 卷

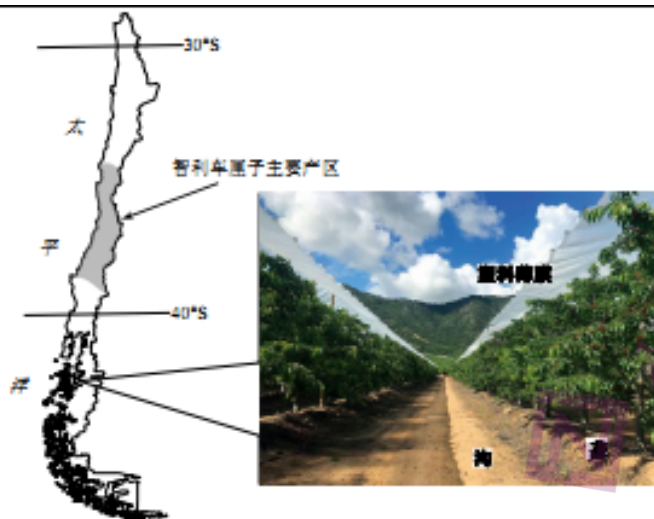
本卷包括必考题和选考题两部分。第 36 题—第 42 题为必考题，每个试题考生都必须作答。第 43 题—第 46 题为选考题，考生根据要求作答。

(一) 必考题：共 135 分

36. (24 分) 阅读图文材料，完成下列要求。

车厘子喜光、喜温且不耐寒，要求土质疏松，排灌条件良好。智利中部独特的自然条件使车厘子品质极高被誉。智利车厘子采用人工采摘，收获季是每年的 11 月到次年 2 月，从采摘、筛选、加工、冷链包装、空运到中国消费者手里，只需要 72 个小时，批发价格每箱(5 公斤)人民币 400~700 元。“车厘子自由”已经成为近两年来年轻人衡量自己收入水平的新标准。近年来，智利车厘子种植开始向南向北扩展，南部地区的农场主为了种车厘子还建造了房顶，采取塑料薄膜保护。下图为智利车厘子主产区分布示意图和智利南部车厘子种植景观图。

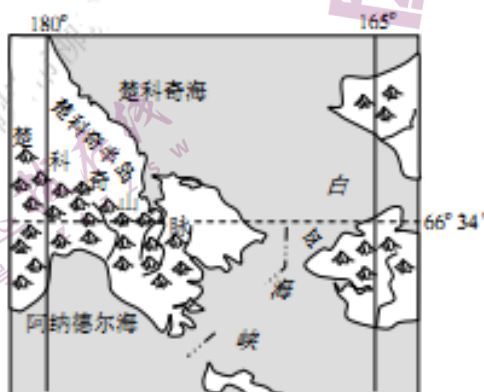
共 14 页 第 8 页



- (1)分析智利中部成为车厘子主产区的有利气候条件。(6分)
- (2)简述智利车厘子运输到中国采用空运的原因。(6分)
- (3)分析智利南部采用建造屋顶、覆盖薄膜、垄上种植车厘子的原因。(4分)
- (4)简述中国年轻人没有实现“车厘子自由”的原因。(8分)

37.(22分)阅读图文资料，完成下列要求。

楚科奇半岛位于俄罗斯东北部，面积约8万平方千米，地势起伏较大，大部属楚科奇山脉东部，半岛最高峰海拔1158米，北部和沿海有狭长平原。楚科奇半岛地表冻土发育广泛，沼泽广布，并随季节而变化。半岛上植被以苔原(苔藓和地衣)为主，但地表苔原厚度南北差异较大，南部厚度明显大于北部。楚科奇半岛人口稀少，村落也很少，民居建筑独具特色。下图为楚科奇半岛位置示意图。



- (1)指出楚科奇半岛沼泽主要出现的季节，并分析原因。(6分)

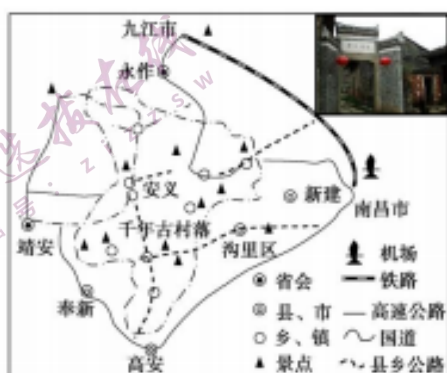
(2)楚科奇半岛南部地表苔原较厚，分析其气候原因。(8分)

(3)根据自然环境与民居设计的因果关系，推测楚科奇半岛居民房屋建筑的特点。(8分)

(二) 选考题：共 25 分。

43.(10分)[地理—选修3：旅游地理]

在深度旅游中，旅游者会用更多时间细品当地历史，体验风土人情与生活习俗。安义古村落群由三大自然村落组成，明清古建筑规模宏大，雕饰精美，文化内涵厚重，是古代赣文化和赣商文化的完美结合。下图为安义县交通旅游图。



深度旅游已逐渐成为时尚，请为安义古村落发展深度旅游提供合理化建议。

44.(10分)[地理—选修6：环境保护]

净菜是指将新采摘的蔬菜经过分级、整理、挑选、清洗、切分、消毒等加工操作，再包装而制成的一种短保质期产品，是无残留农药、茎叶类菜无菜根、无枯黄叶、无泥沙、无杂物的蔬菜。为配合新版《北京市生活垃圾管理条例》的实施，北京市于2019年5月开始逐步推进净菜上市工作。

评价推进净菜上市对城市垃圾处理利用产生的影响。

地理参考答案

一、选择题

1	2	3	4	5	6	7	8	9	10	11
D	B	A	A	C	A	C	D	D	B	C

二、综合题

36. (24分)

(1)(地中海气候)夏季干燥少雨,日照时间长,满足车厘子喜光的需求;夏季高温,热量充足,满足车厘子喜温的需求;冬季温和,满足车厘子不耐寒的需求;昼夜温差很大,利于车厘子糖分积累。(答对1项得2分,答对3项即可得6分)

(2)(车厘子)易腐烂变质,空运速度快;价格较贵,支付运费能力强;中国与智利距离较远。(答对1项得2分,答对3项即可得6分)

(3)建造屋顶、覆盖薄膜可以遮挡、拦截雨水;垄上种植并设有排水沟有利于排水。(答对1项得2分,答对2项即可得4分。)

(4)人工采摘,劳动力成本较高;采用分级、冷链包装等技术,技术成本较高;离市场距离远,运输成本高;品质极高,价格昂贵;上市时间为我国春节前后,市场上水果较少,价格较贵;年轻人工作年限短,绝大部分收入较低。(答对1项得2分,答对4项即可得8分)

37. (22分)

(1)夏季(2分)。原因:地处高纬度,气候寒冷,春、秋、冬三季地表冻土广布;夏季气温较高,表层冻土消融;夏季降水较多,下层冻结层阻碍水分下渗,表层水分汇集形成沼泽。(答对1项得2分,答对2项即可得4分)

(2)南部纬度较低,接受太阳辐射较多,气温较高;南部受楚科奇山脉阻挡,从极地吹来的冷空气对其影响较小,气温较高;地处楚科奇山脉南坡,光照条件较好;夏季来自南部海域的暖湿气流经地形抬升,降水较多。(答对1项得2分,答对4项即可得8分)

(3)半岛地处高纬度,气候寒冷,为了防寒保暖,房屋墙体较厚;降水以降雪为主,降雪量大,为防止压塌房屋,房屋屋顶较尖(或坡度较大);太阳高度角小,为增加采光,房屋门窗朝南;风力强劲,为防御寒风,房屋窗户较少;为降低成本,多就地取材,建筑材料多采用石材、兽皮等。(答对1项得2分,答对4项即可得8分)

43. (10分)

注重对古建筑群的保护与修缮维护;挖掘古建筑群文化,打造古建筑文化主题游;挖掘赣商文化,打造赣商文化主题游;展示古村落传统生产、生活场景,增强游客深度体验;提高古村落居民和从业人员文化素质,更好的提高旅游体验和服务质量;加强古村落深度游的宣传力度等。(答对1项得2分,答对5项即可得10分)

44. (10分)

有利:减少餐厨垃圾;垃圾集中,减少清运成本;便于垃圾无害化处理(或综合利用)。不利:需要包装储存与销售,增加塑料垃圾;保质期短,过期变质成为新的垃圾。(答对1项得2分,答对5项即可得10分。本小题满分不得超过10分。)

监工作有关的文物，如作为司礼太监，参与批红的文件；作为厂卫头目，负责监察的报告等；以此展示太监地位与职能的演变。展览与太监生活有关的文物，以此了解太监的饮食起居及空闲生活。结合所学史实，得出意义：太监是中国皇宫的特殊群体，反映了中国封建君主专制统治的异态与残酷。了解明清太监生存状态，也可以间接了解明清两代中国皇权的运行与演变。

45.【历史上重大改革回眸】（15分）答案：

（1）历史背景：新中国成立初期，经济凋敝，科技教育落后；大规模工业化建设的展开需要科技支撑，党和政府已经在科技领域采取了一系列措施，为人才激励政策提供了条件。（8分）

（2）主要特点：提高待遇与规范奖励相结合；以激发科技人员的创造发明热情为出发点；科技奖励主要以自然科学奖和技术发明奖为主，和国家重大战略相结合。（7分）

46.【中外历史人物评说】（15分）

（1）原因：中国传统史学观影响；强烈的历史使命感和社会责任感；国人渴望了解中国和世界的现实需求。（一点3分，两点5分，三点7分）

（2）意义：开拓了民众的视野；为研究中国近现代史留下可靠的资料；推动了民国新闻报业的发展；对现代报业发展具有借鉴意义。（每点2分，8分）