

新疆维吾尔自治区 2023 年普通高考第三次适应性检测

文科综合能力测试

(卷面分值:300分;考试时间:150分钟)

注意事项:

1. 本试卷分第I卷(选择题)和第II卷(非选择题)两部分。答题前,考生务必将自己的姓名、准考证号填写在本试卷和答题卡相应的位置上。
2. 回答第I卷时,选出每小题答案后,用2B铅笔把答题卡上对应题目的答案标号涂黑。如需改动,用橡皮擦干净后,再选涂其他答案标号。写在本试卷上无效。
3. 回答第II卷时,将答案写在答题卡上。写在本试卷上无效。
4. 考试结束后,将本试卷和答题卡一并交回。

第I卷(选择题)

本卷共35小题,每小题4分,共140分。在每小题给出的四个选项中,只有一项是符合题目要求的。

宜家作为瑞典的一家乡村家具便利店,秉承“提供种类繁多、美观实用、老百姓买得起的家居用品”经营理念,经过70多年的发展,已成为全球性的家居用品商业帝国。其设计采用“模块化”的方法,让消费者体验到DIY(自己提货、自助拆卸组装)家具的乐趣,产品具有“简约、清新、自然”的特点。1998年进入中国市场,现已在多个城市设点经营。据此完成1~3题。

1. 在发展中国家,经济实力较强和市场腹地广阔的城市往往是跨国公司的首选,宜家亚洲的扩散路径及目标城市的选择皆以市场门槛为基础。基于市场门槛的考虑,宜家在中国的扩散依次是
A. 上海、北京、广州、成都
B. 北京、上海、成都、广州
C. 成都、上海、北京、广州
D. 广州、上海、北京、成都
2. 在欧美,宜家一向把自己的商店开在郊区,而进驻中国时则将店址转向市区繁华地段,主要考虑的因素是
A. 产业结构的变化
B. 人口分布密度
C. 私家车普及程度
D. 产业集聚效益

3. 相较于欧美地区,宜家进入中国市场后可能失去的竞争优势是

- A. 风格独特 B. 价格低廉 C. 运输成本 D. 服务品质

古村落不仅承载着区域的历史空间,而且凝结着区域的空间历史,是区域发展和环境变迁的“活化石”。山西省地域开发历史悠久,古村落众多,根据古村落开始的原始驱动力,可分为农耕型、商贸型、工矿型、军事型4类。图1为山西省古村落开始的时空差异分布图,据此完成4~6题。

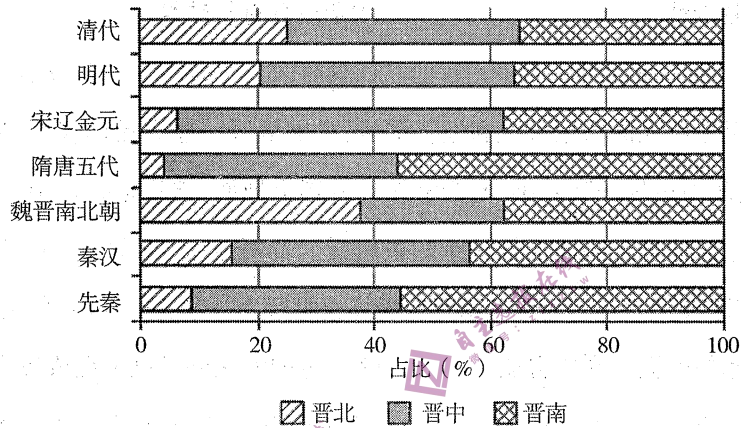


图1

4. 山西省古村落开始拓展的总体方向为

- A. 从中间向南北 B. 从南北向中间 C. 从南向北 D. 从北向南

5. 形成上述特点的主要影响因素是

- A. 煤炭资源的分布 B. 农耕条件的差异
C. 交通的便捷程度 D. 军事驻防的变化

6. 推测山西省军事型古村落主要分布在

- A. 晋东 B. 晋南 C. 晋西 D. 晋北

潜热通量是单位面积下垫面通过蒸发和植物蒸腾输送到大气当中的热量(单位:瓦/平方米)。图2为非洲2021年7月潜热通量等值线图,据此完成7~8题。

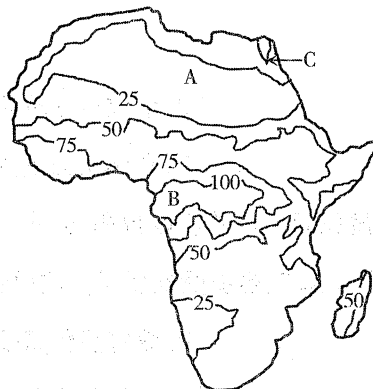


图2

7. 造成 A、B 两处潜热通量差异巨大的根本原因是

- A. 大气环流 B. 纬度 C. 地形 D. 植被

8. 等值线 C 数值及主要影响因素是

- A. 50, 降水 B. 25, 气温
C. 50, 人类活动 D. 25, 水系

深泓点是河道中的最深点,深泓指数为河道深泓点到河流左岸的距离同河面宽度之比,是反映河道时空变化趋势的重要指标。图 3 为黄河下游三个连续河段河道深泓指数变化示意图。据此完成 9~11 题。

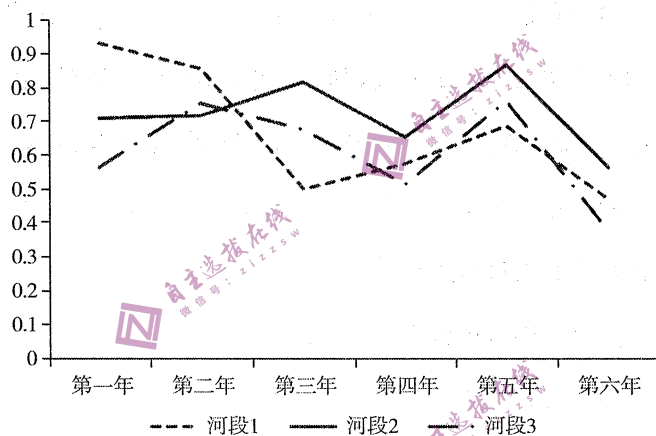


图 3

9. 图示时段内该河段河道的总体特征是

- A. 河道总体偏北,比较稳定 B. 河道总体偏南,摆动频繁
C. 河道总体偏北,摆动频繁 D. 河道总体偏南,比较稳定

10. 河道摆动幅度较大的年份为

- A. 第一年至第二年 B. 第二年至第三年
C. 第三年至第四年 D. 第五年至第六年

11. 深泓指数及其变化反映出该时段内

- A. 河流含沙量减小 B. 河流水量减少
C. 河流流速较快 D. 河段 1 摆动幅度最大

12. 2023年2月,全面实行股票发行注册制改革在我国正式启动。与核准制不同,注册制改革把审核主体从证监会搬到了证券交易所,审核部门仅保留了企业公开发行股票必要的资格条件、合规条件,将核准制下的实质性门槛尽可能转化为对信息披露的要求,审核部门不再对企业的投资价值作出判断。这说明,股票发行注册制改革

- ①是建立高水平社会主义市场经济体制的重大举措
- ②通过放松政府的监管使企业股票的发行更加便利
- ③通过完善个人收入分配促进居民财产性收入增加
- ④更大程度发挥了市场在资源配置中的决定性作用

A. ①② B. ③④ C. ①④ D. ②③

13. 2022年我国汽车市场主要数据

	产量	销量	产量同比增速	销量同比增速
所有汽车	2702.1万辆	2686.4万辆	3.4%	2.1%
乘用车	2383.6万辆	2356.3万辆	11.2%	9.5%
新能源汽车	705.8万辆	688.7万辆	96.9%	93.5%
纯电动汽车	546.7万辆	536.5万辆	83.4%	81.6%

下列对这组数据的解读中,正确的是

- ①我国汽车供大于求、产能过剩严重
- ②新能源汽车是居民汽车消费的主流
- ③我国新能源汽车发展具有巨大潜力
- ④我国居民升级类消费需求加快释放

A. ①② B. ①③ C. ②④ D. ③④

14. 个人养老金是政府政策支持、个人自愿参加、市场化运营的补充养老保险制度。2022年11月,我国个人养老金制度在北京、上海等36个先行城市或地区启动实施。根据有关部门规定,个人养老金资金账户按照1.2万元/年的限额标准,可投资银行理财、储蓄存款、商业养老保险、公募基金等,封闭运行(开始领取养老金前不能提前支取)。在缴费、投资收益环节暂时不缴纳个人所得税,在领取环节单独按照3%的税率计算缴纳个人所得税。下列关于这一制度传导机制的分析,正确的是

- ①建立个人养老金制度—增加养老保险渠道—顺应养老保险多样化的需求—完善养老保险体系
- ②投资账户封闭运行—规避金融市场风险—投资收益稳定提高—领取的养老金增加

③缴费、投资税收优惠—缴纳个人所得税减少—参加者积极性提高—个人养老金制度得以推广

④个人养老金投资理财—商业银行个人储蓄减少—资金流入保险证券市场—金融市场稳定发展

A. ①②

B. ①③

C. ②④

D. ③④

15. 据国家农业农村部有关负责人介绍,2012年至2022年底,全国返乡入乡创业人员数量累计达到1220万人。出现这一经济现象的原因可能是

①工业化、城镇化进程基本完成

②全面推进乡村振兴不断深入

③农村基础设施短板逐步补齐

④乡村创业成功率远高于城镇

A. ①④

B. ②③

C. ①③

D. ②④

16. 男子全程直播拍摄,请人为孕妇让座;插队引发互殴的视频在网上热传……类似的网络视频曝光行为不时出现于互联网平台,有的在短时间内引爆舆论焦点,引来众多网友围观评论。下面各种评论中,正确的是,网络视频曝光

①是舆论监督的有效方式,应在全社会大力提倡

②是公民具有社会责任感的体现,应当积极参与

③存在触碰法律“红线”的风险,应当审慎行使

④可能引发负面社会影响,应坚持动机与效果统一

A. ①②

B. ①③

C. ②④

D. ③④

17. 在某市人大常委会开展的“聚焦环湖公路建设打造运河百里画廊”现场询问专题会议上,8名全国、省、市人大代表结合调研了解的情况,针对征收拆迁推进缓慢、土地指标调整不及时等环湖公路建设中的突出问题,向市政府及相关部门进行针对性询问,既问出了不足、问出了原因,还问出了解决办法。这表明

①人民代表大会制度贯彻民主集中制原则

②不同级的人大代表有共同的责任和使命

③行使质询权是人大常委会监督政府的重要方式

④人大常委会和政府都必须自觉接受人大的监督

A. ①②

B. ①④

C. ②③

D. ②④

18. 2023年1月,就日本在国际原子能机构技术工作组仍在开展审查、评估的情况下,单方面宣称将于今年春夏期间启动福岛核污染水排海问题,我国表示高度关注。明确指出:在同周边邻国等利益攸关方和有关国际机构充分协商前,日方不得擅自启动核污染水排海。这体现了我国

- ①积极推动世界多极化发展
- ②努力构建人类命运共同体
- ③尊重国际规则和国际组织的正常工作
- ④尊重各国参与国际事务享有的平等权

A. ①② B. ③④ C. ①④ D. ②③

19. 国家图书馆是海内外中华典籍的重要收藏地,近年来国家图书馆与相关单位合作,先后建成数字方志专题库,以及甲骨世界、碑帖菁华、前尘旧影、年画撷英、宋人文集等数据库,向社会开放,供读者阅读,让图书馆里的古籍活了起来。这说明

- ①科学技术对文化发展有促进作用
- ②博大精深的中华典籍是中华民族之魂
- ③建设文化强国必须保持开放心态
- ④弘扬优秀传统文化必须善于创新

A. ①② B. ③④ C. ①④ D. ②③

20. 近年来,随着文明实践、文明培育、文明创建工作的持续全面深入推进,我国志愿服务蓬勃发展。截至2022年底,我国注册志愿者已逾2.3亿人,志愿队伍总数达135万个,志愿项目总数1010万个,记录志愿服务时间超过52亿小时。这从一个侧面反映了

- ①文化与经济、文化与政治相互交融
- ②文化事业发展,文化市场繁荣兴盛
- ③践行社会主义核心价值观蔚然成风
- ④中华优秀传统美德得到继承和弘扬

A. ①② B. ③④ C. ①④ D. ②③

21. 新时代十年,在现代化建设的坐标上,留下了这些时间刻度:党的十八大,锚定第一个百年奋斗目标;党的十九大,对实现第二个百年奋斗目标作出分两个阶段推进的战略安排;党的二十大,对“两步走”战略安排宏观展望,对中国式现代化进行战略部署。从哲学角度看,这体现了
- ①意识具有能动性
②联系具有客观性
③发展具有曲折性
④矛盾具有特殊性
- A. ①③ B. ②③ C. ①④ D. ②④
22. 看中了蚯蚓身上巨大的药用价值和经济价值,个别地区一些人借助仪器,通过在土壤里面释放高压电,刺激蚯蚓呼吸困难,便会争先恐后爬上地面,然后进行捕捉。正常情况下,一个成年人使用仪器每天能轻松抓获蚯蚓数百斤。针对这种“毁灭式”电捕,2023年中央一号文件明确指出要“严厉打击电捕蚯蚓等破坏土壤行为”。从哲学角度看,这警示我们必须
- ①在尊重规律的前提下利用自然 ②在量的积累的基础上促成质变
③依据条件防止矛盾双方的转化 ④在正确价值观指导下运用技术
- A. ①② B. ③④ C. ①④ D. ②③
23. 诺贝尔经济学奖获得者罗纳德·科斯曾由衷赞叹,中国的改革“是谦逊又刚毅的中国人民为了美好生活奋斗的故事”。从哲学角度看,罗纳德·科斯曾赞叹的合理性在于
- ①社会生活在本质上是实践的 ②改革是社会发展的强大动力
③群众是推动发展的决定力量 ④道德观念是社会进步的基础
- A. ①② B. ①③ C. ②④ D. ③④
24. 春秋时期,诸侯国君朝觐周王的事例已不多见,中小侯国“聘问”霸君的事例却很多。例如,鲁国“聘问”晋君12次、楚君1次。公元前545年,齐、陈、蔡、燕等国国君曾共同“聘问”晋平公。由此可知
- A. 传统政治秩序渐趋瓦解 B. 诸侯争霸现象严重
C. 宗法血缘关系受到冲击 D. 晋国实力最为强大
25. 秦《法律答问》记载:凡是隐匿民间田亩并收取税租的,定以“匿田”之罪;凡是对户口数登记错误,即使错算1户,即为“大误”,也要受到惩罚。这说明当时
- A. 官员腐败现象严重 B. 政府强化赋役管理
C. 王朝统治腐朽没落 D. 法律制度非常严苛

26. 翰林学士胡宿向宋仁宗进言：“臣窃以殿前、马军、步军等帅臣，统陛下爪牙之兵，为陛下心腹之佐，宿卫宫省、拱扈宸极。凡所进任，固先出于圣意，然后参访大臣，公议既同，方可除授……不宜轻用论荐，以收私恩，或任非其才，则开隙生事。”由此可知，胡宿的建议是
- A. 放松抑武政策
B. 提高三衙地位
C. 加强君主权力
D. 慎选军事将领
27. 汤显祖认为戏曲具有强烈的艺术感染力和教化作用，是“以人情之大窦，为名教之至乐”。冯梦龙认为《论语》《孝经》等儒家经典的感染力都不如小说“捷且深”，他在整理民歌时“借男女之真情，发名教之伪药”，把矛头直指封建礼教的虚伪性。这表明
- A. 民间文艺冲击了儒学正统地位
B. 小说戏曲成为社会教化主体
C. 通俗文学影响力超过高雅文学
D. 八股取士制被知识分子舍弃
28. 近代中国，文化阶层的人口流动是一个引人注目的现象。1902—1907年间，仅武汉三镇学生就达一二万人。1915年全国有大专生32076人、中专生82778人、师范生26679人、职业学校学生9600人，1936年全国大学生及研究生达到37330人，他们绝大多数集中在城市。这些现象出现的主要原因是
- A. 革命形势的发展
B. 城市化进程的加快
C. 教育体制的变革
D. 新文化运动的推动
29. 1933年，习仲勋在陕北照金苏区实行的土地改革规定：“红军公田”的经营，要在分配土地过程中，适当留出部分土地由苏维埃政府经营，收成的一部分用于优抚红军家属和烈属，一部分用于往来的红军和游击队食用。这一规定
- A. 激发了广大民众抗日热情
B. 废除了农村土地私有制度
C. 推动了革命根据地的发展
D. 解决了红军粮食供应问题
30. 1937年1月，共产国际致电中共中央，第一次明确提出了放弃苏维埃制度、放弃普遍没收地主土地和将苏维埃政府改为人民革命政府、将红军改为人民革命军的重要主张。这些指令
- A. 体现了苏联的大国强权政治
B. 指明了中国抗战胜利的方向
C. 迫使中共中央作出战略调整
D. 推动了国共两党的再次合作

31. 改革开放前,我国所有女性从业者中,从事农业、工业、地质勘探和建筑行业等重体力劳动的占比达70%以上。改革开放后,商业、饮食、供销、卫生、文教、广播等行业的女性从业者大幅增加,就业层次不断提高。造成这一变化的主要原因是
- A. 妇女地位的提升
B. 经济结构的调整
C. 市场经济的出现
D. 政府政策的倾斜
32. 古希腊的市政广场是城邦经济和政治生活的中心,人们定期从各地聚集于此从事买卖。这里市政建筑集中,是城邦公共生活和政治生活的空间。人们在此交流有关城邦事务的信息,参与市政议事会和公民大会。这反映出
- A. 希腊成为人文精神的起源地
B. 民主制植根于商品经济活动
C. 人们对自由平等的积极追求
D. 城邦政治具有开放性民主性
33. 18世纪中叶,经济学家雅各布·尼古拉斯·莫罗指出:棉布在英国销售的成功,绝不仅仅因为价格低廉,更是因为人们出于对虚荣的新社会时尚的追求。下层女性一旦穿上新奇艳丽的印花布,就认为自己会跨越阶层分野,成为贵妇中的一员。由此可知,棉布的普及
- A. 冲击了传统等级秩序
B. 提升了女性社会地位
C. 推动了工业革命发展
D. 刺激了民众消费需求
34. 1838年,普鲁士制定的《雇主责任制法案》强化了雇主在工伤事故中的责任;1845年,《工业法典》规定对疾病和生活困难者提供福利基金;1861年,《商业保险法》明确规定店员一年内连续生病三个月期间的工资要照发。这些措施的实施
- A. 完善了国家福利体系
B. 缩小了社会贫富差距
C. 加重了政府财政负担
D. 保障了工人应有权益
35. 1959年,美苏两国破天荒地进行了历史上首次文化交流。苏联在纽约举办博览会,展出了人造卫星、核动力破冰船等令美国人叹为观止的高科技。不甘示弱的美国人在莫斯科展出了别具特色的爵士乐、篮球、高跟鞋、抽象艺术以及加长汽车等。双方的文化交流旨在
- A. 展示先进科技以引领世界潮流
B. 证明本国道路是人类未来方向
C. 寻求两国和平共处的新型方式
D. 炫耀文化实力以威慑对方阵营

第Ⅱ卷(非选择题)

本卷包括必考题和选考题两部分。第36~42题为必考题,每个试题考生都必须作答。第43~47题为选考题,考生根据要求作答。

(一)必考题(7题,共135分)

36. 阅读图文材料,完成下列要求。(22分)

邮驿是在水陆交通线上每隔一定距离修置的馆舍,具备传递公文、飞报军情、物资转运、官员使者接待等功能。江苏省高邮市(图4)地处高邮湖东岸高地,自秦代在此筑高台,置邮亭,至明代开设水旱码头孟城驿,千年运河古驿,通达天下,高邮因邮而生,因驿而兴,成就了“东方邮都”的美名。十九世纪中叶,近代邮政电信业兴起,邮驿地位逐渐淡化,悄然消失。

2014年,高邮孟城驿被列为世界文化遗产,当地政府以此为契机,以邮文化为起点和依托,构建邮产业集群,再造“东方邮都”的辉煌。

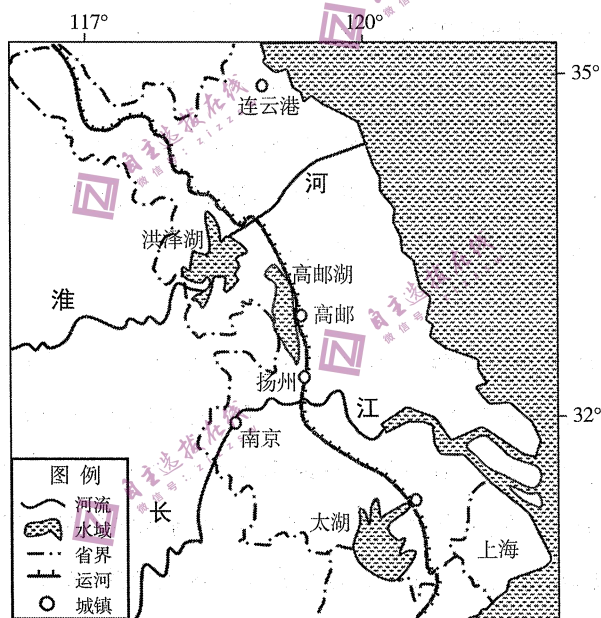


图4

- (1) 简述高邮成为“东方邮都”的优势地理条件。(8分)
- (2) 分析近代以后高邮邮驿逐步衰落的主要原因。(6分)
- (3) 请从产业类型方面为高邮市构建邮产业集群提出你的合理化建议并说明理由。(8分)

37. 阅读图文材料,完成下列要求。(24分)

进入冬季,美国各地天气差异显著。图5为某年冬至日美国局部地区天气状况分布图,图中温度为当日最高气温。

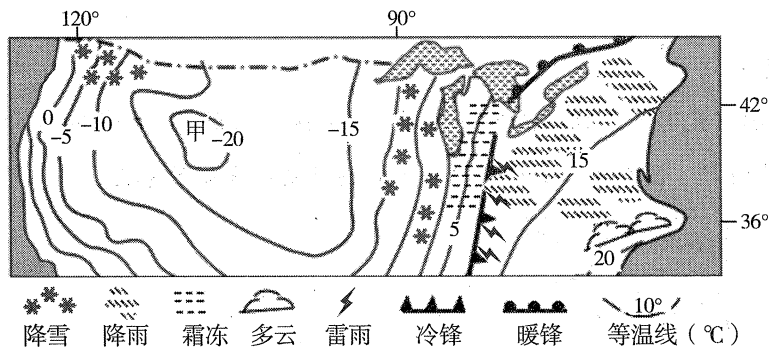


图 5

- (1) 比较图中两处降雪区域天气成因的差异(8分)
- (2) 简述甲区域天气特点并说明其形成原因(8分)
- (3) 描述冷锋前方雷雨天气的形成过程。(8分)

38. 阅读材料,运用经济知识回答下列问题。(14分)

《区域全面经济伙伴关系协定》(RCEP),是由东盟十国发起,中国、日本、韩国、澳大利亚、新西兰共同参加(“10+5”),通过削减关税及非关税壁垒,建立 15 国统一市场的自由贸易协定,是全球规模最大的自贸协定。自 2022 年 1 月 1 日生效实施以来,2022 年中国与 RCEP 贸易伙伴的进出口总额达到 12.95 万亿元,同比增长 7.5%,占中国外贸总额的 30.8%。其中,对 8 成员国进出口增速超过两位数,对印尼、新加坡、缅甸、柬埔寨、老挝进出口增速均超过 20%。有学者指出,参与 RCEP 合作,不仅对我国对外开放,也对我国扩大国内消费具有重要意义。

运用经济生活知识,说明材料中学者观点的合理性。

39. 阅读材料,运用政治生活知识回答问题。(12分)

完善社会治理体系,加快推进社会治理现代化,是再创“中国之治”新辉煌的必然要求。党的十八大以来,以习近平同志为核心的党中央着眼于国家长治久安、人民安居乐业,建设更高水平的平安中国,完善社会治理体系,推动社会治理现代化取得重大成就,续写了社会长期稳定奇迹。党的二十大站在推进国家安全体系和能力现代化的战略高度,对完善社会治理体系作出新的部署,提出“完善社会治理体系,健全共建共治共享的社会治理制度,提升社会治理效能,畅通和规范群众诉求表达、利益协调、权益保障通道,建设人人有责、人人尽责、人人享有的社会治理共同体”。

- (1) 从我国国体的角度,说明建设社会治理共同体的依据。(6分)
- (2) 运用政治生活知识,就如何建设社会治理共同体提出合理化建议。(6分)

40. 阅读材料,运用所学知识回答问题。(26分)

材料一

“团结就是力量,团结就是力量,这力量是铁,这力量是钢,比铁还硬,比钢还强……”80年前,一首名为《团结就是力量》的歌曲从河北省平山县西柏坡镇北庄村唱响。歌曲一经演唱,就凭借强大的号召力很快传遍全国,感染激励了一批又一批热血青年积极投身伟大的抗日战争,成为亿万人民至今仍广为传唱的红色经典。

2021年2月,习近平总书记给河北平山县西柏坡镇北庄村全体党员的回信中,引用了《团结就是力量》这首歌的歌词,称赞他们带领乡亲们传承红色基因,团结一心,苦干实干,摘掉了贫困帽子。勉励他们“充分发挥先锋模范作用,把乡亲们更好团结起来、凝聚起来,心往一处想,劲往一处使,让日子过得越来越红火”。

材料二

国家主席习近平在二〇二三年新年贺词中说:“明天的中国,力量源于团结。中国这么大,不同人会有不同诉求,对同一件事也会有不同看法,这很正常,要通过沟通协商凝聚共识。14亿多中国人心往一处想、劲往一处使,同舟共济、众志成城,就没有干不成的事、迈不过的坎。”

(1)依据材料一,运用文化生活知识,分析歌曲《团结就是力量》至今仍广为传唱的原因。(10分)

(2)结合材料二,运用哲学认识论知识,说明如何正确看待人们在同一问题上的认识分歧。(12分)

(3)某校高三·1班决定举行一次以“团结就是力量”为主题的社会实践活动,班主任鼓励同学们为这次活动设计活动方案。假如你是这个班的学生,请你为这次活动提出几条方案设计。(4分)

41. 阅读材料,完成下列要求。(25分)

材料一

书院肇端于唐朝中期,当时的主要功能是收藏、校勘书籍。北宋初,国家推崇儒学,而官办学校不能满足社会需求,以教育为目的的书院才蓬勃发展起来。976年,潭州太守朱洞在长沙岳麓山下建立讲堂。1015年,宋真宗赐“岳麓书院”匾额,并赠内府图书,岳麓书院开始驰名。许多士大夫包括周敦颐 and 朱熹等理学大师都开设书院,授徒讲学,形成了古代学术的高峰。当时全国共建书院442所,超过过去历代总和。到了元代,政府对书院给以资助,并加以管理,书院趁机扩张到云南、甘肃等地。明代初期,政府提倡官学,压制书院,书院经历了一段沉寂。明代中期后,王阳明等大儒告老还乡后纷纷在故乡兴建书院,普及乡村教育,提携后辈人才,书院又兴盛起来。到了清代,书院进入官方主导阶段,在经费来源、院长任免和学生管理方面都受到政府影响,官学化趋势越来越明显。

——摘编自曹磊《中国古代书院教育的特点及其影响》

材料二

1901年,慈禧太后颁布上谕:“著各省所有书院,于省城均改设大学堂,各府及直隶州均改设中学堂,各州县均改设小学堂,并多设蒙养学堂。”全国随即掀起一股书院改学堂的热潮,各级各类新式学堂如雨后春笋般涌现。据统计,到1903年全国共有680余所公立学堂。1905年,科举制度废止令让一些徘徊观望的书院彻底失去了挣扎的勇气,主动向新式学堂转变,到清末各省书院基本完成改制工作。由于书院改制诏令中有将不同级别书院改为相应级别学校的规定,于是在全国书院改制完成时,不同级别的学校教育系统随之建立起来。各类新式学堂在办学目标、招生考试、教学管理、课程设置等方面都采取新举措,具备了近代教育的特征。

——摘编自张传燧、李卯《晚清书院向近代学校转型的内外条件》

(1) 根据材料一并结合所学知识,概括中国古代书院教育的特点。(10分)

(2) 根据材料二并结合所学知识,简析晚清书院改革的背景和作用。(15分)

42. 阅读材料,完成下列要求。(12分)

材料

下表是中华人民共和国成立后中国对外援助的发展历程。

探索阶段 (1950~1978年)	抗美援朝战争期间,中国政府向朝鲜无偿提供大量战争急需和人民生活必需的物资援助,并在战后继续帮助朝鲜恢复经济、重建家园。1964~1970年,中国的受援国达31个,并先后同10个非洲国家建立经济技术合作关系,援建成套项目和提供技术援助成为对外援助的主要方式。 在努力克服“文革”时期严重财政困难和各种干扰因素的情况下,中国全力支持越南、柬埔寨、老挝人民的抗美救国战争,同时全面铺开对其他亚非友好国家的经济技术援助,受援国增至66个;1971~1978年,对外援助支出达到前20年支出总和的159%。
改革阶段 (1979~2012年)	中国不断推进对外援助机制改革,包括:淡化意识形态色彩,重新明确对外援助作为“南南合作框架下发展中国家之间相互帮助”的基本定位;强调按经济规律办事,走互利合作的新道路。
创新阶段 (2013~至今)	中国全面开启对外援助方式的结构性改革和管理体制的市场化改革。例如,设立多种形式的援外专项资金和合资合作专项基金,贴息优惠贷款成为对外援助资金的创新形式。除传统的成套项目和物资项目援助外,技术援助和智力援助的比重明显提升。

——摘编自俞子荣《不平凡的探索与成就——中国对外援助70年》

根据材料信息自拟一个具体论题,并结合中国史的相关史实予以阐述。(要求:论题明确,阐述充分,论据准确,逻辑清晰)(12分)

(二) 选考题

43. [旅游地理](10分)

芬兰北部的罗瓦涅米是世界上唯一被称为“圣诞老人故乡”的城市,以其独特的旅游资源,吸引着大量游客。图6为罗瓦涅米位置示意图及景区分布示意图。

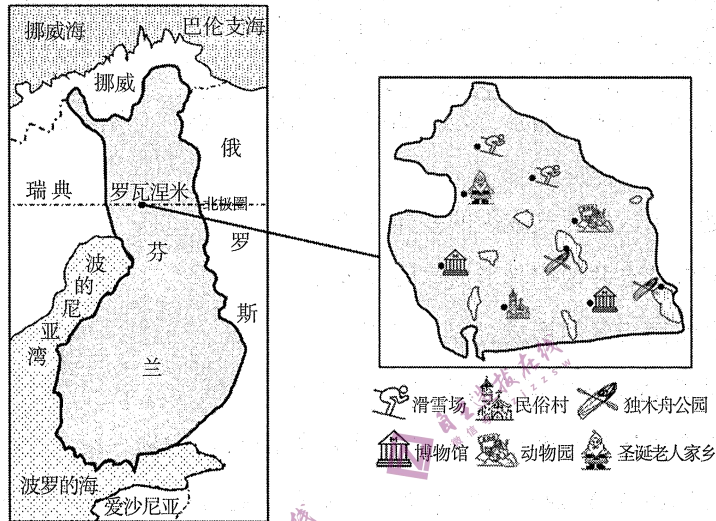


图6

说明该地区旅游资源的独特性,并从游客角度对罗瓦涅米旅游活动进行合理规划。

44. [环境保护](10分)

2022年10月,湖北鄂州市的26层家畜饲养大楼建成投产,成为世界最高、单体面积最大的楼房家畜饲养基地。家畜住进楼房,楼层分区明确,智能化投喂饲料,实现自动化控制,项目建设使用了存量工业用地,并且用地面积仅占普通养殖模式的5%。图7为该饲养基地景观图。




图7

评价该种家畜饲养方式对环境的影响。

45. [历史——选修1:历史上重大改革回眸](15分)

材料

20世纪70年代中期,法国体力劳动者与董事长间的工资差距是1:20。到80年代初期,四分之一最富裕的家庭占有全国总收入的一半,而四分之一最贫穷的家庭仅占6%。当时法国穷人的比例高达14.8%(穷人的标准是全国平均收入的一半),约有789万人。因此,1981年密特朗上台后,首先改善穷人处境,提高他们的收入。据统计,从1981年6月到1984年7月,共11次增加工人的最低工资,工资额从每小时15.20法郎增加到23.84法郎。

1982年1月,议会通过每周39小时工作制和每年5周带薪休假法案。为加强国家对经济的干预,政府实施了较大规模的国有化政策,采用对股东赔偿的办法,将5大工业垄断公司、两大金融公司和36家存款额在10亿法郎以上的银行收归国有。为平衡国家预算收入,政府还实施了“让富人多交税”的税收改革。由于工资增幅较大,加上带薪休假增加,这大大提高了生产成本,导致法国产品竞争力降低,企业经营困难增加。其中,大型国有企业1983年亏损303.42亿法郎,1984年亏损306.22亿法郎。

——摘编自徐鹤森《试论密特朗执政初期的改革》

(1)根据材料并结合所学知识,概括密特朗执政初期实行改革的原因。(8分)

(2)根据材料并结合所学知识,简析密特朗执政初期改革造成的影响。(7分)

46. [历史——选修3:20世纪的战争与和平](15分)

材料

中东各国竭力扩充军备的原动力,始于1948年以色列建国后阿以冲突的不断激化。许多国家纷纷扩充军力,地区军备在数量和质量上都有了明显跃升。20世纪下半叶,伴随地区霸权的争夺和战争频发,以色列、伊朗和阿拉伯国家在民族问题、领土争端和教派分歧等方面的矛盾进一步激化。同时,美国、前苏联、欧盟等为实现各自战略图谋,不惜利用中东地区的内部纠纷,长期提供军事支援、开展军火贸易。在中东地区这块世界“石油宝库”上,大量国家的军火贸易采取“石油美元换武器”的形式,巨额石油收入为采购现代化武器提供了雄厚的资金保障。

中东地区各种高精尖武器特别是核武器的扩散对有关国家的社会发展、地区乃至全球的安全稳定产生了严重影响。当前,海湾六国的先进武器技术几乎全部从外部引入,势必增强这些国家的对外依赖程度。愈演愈烈的军备竞赛大大削弱了海湾地区的安全系数,本已十分脆弱的中东安全环境将愈加险恶。此外,中东地区的军备扩散,特别是核军备的扩散,为恐怖活动提供了方便,对国际安全造成重大隐患。

——摘编自刘正茂、岳杨《试析中东地区的军备竞赛与军备控制》

(1)根据材料并结合所学知识,概括中东地区军备竞赛扩大的背景。(8分)

(2)根据材料并结合所学知识,简析中东地区军备竞赛扩大的影响。(7分)

47.[历史——选修4:中外历史人物评说](15分)

材料

1931年,梁漱溟来到山东邹平投身乡村建设的实践。他认为,中国乡村的破败源自西方文化的入侵,导致本土文化失调,因此,乡村社会建设要在中国传统伦理关系之上进行,通过知识分子深入乡村,建立阐发中国传统文化和传授实用技术的乡村学校,进而培养农民形成民主政治习惯,达到社会改良的目的。此外,他希望通过组织合作社以满足消费,引导大家参与社区生活,把以家庭为本位的儒家伦理主义改造成一种“互以他人为本位”的社会组织方式。

梁漱溟在邹平的乡村建设实践并未取得预期效果。1937年日本全面侵华,他的乡村建设实践宣告结束。1938年,他到延安考察,中国共产党在延安农村的建设实践给他留下深刻印象。建国后,他到山东、河南、东北的农村调研,发现其一直孜孜追求的乡村建设目标在此都已实现。此后,他主动要求参加西南地区的土改,长期致力于对乡村问题的思考和研究。

——摘编自谢君君《从文化自救到文化复兴:梁漱溟乡村建设思想的现代价值》

(1)根据材料并结合所学知识,概括梁漱溟乡村建设思想的内容。(8分)

(2)根据材料并结合所学知识,简评梁漱溟的乡村建设思想和实践。(7分)