

文科综合

全卷满分 300 分,考试时间 150 分钟。

注意事项:

- 答卷前,考生务必将自己的姓名、准考证号填写在答题卡上,并将条形码粘贴在答题卡上的指定位置。
- 回答选择题时,选出每小题答案后,用铅笔把答题卡上对应题目的答案标号涂黑。如需改动,用橡皮擦干净后,再选涂其他答案标号。回答非选择题时,将答案写在答题卡上。写在本试卷上无效。
- 考试结束后,将本试卷和答题卡一并收回。

一、选择题:本题共 35 小题,每小题 4 分,共 140 分。在每小题给出的四个选项中,只有一项是符合题目要求的。

不同区域的乡村因自然禀赋和社会环境存在差异,呈现出不同的变化脉络和发展态势。陕西省内地域差异明显,乡村发展水平受不同要素的制约。某学者将陕西省乡村发展水平的影响要素归类并进行数据分析。右图示意陕西省地形和主要城市分布。读图,完成 1~3 题。

1. 陕西省乡村发展水平影响要素指标归类不合理的是

- 干燥度指数——气候条件
- 道路长度——基础设施
- 平均受教育年限——人力资本
- 人均工业增加值——资源禀赋

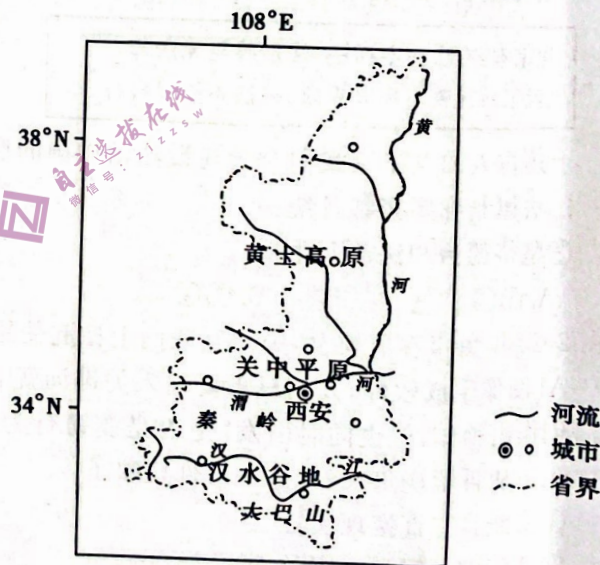
2. 陕西省乡村发展水平受人力资本制约最小的是

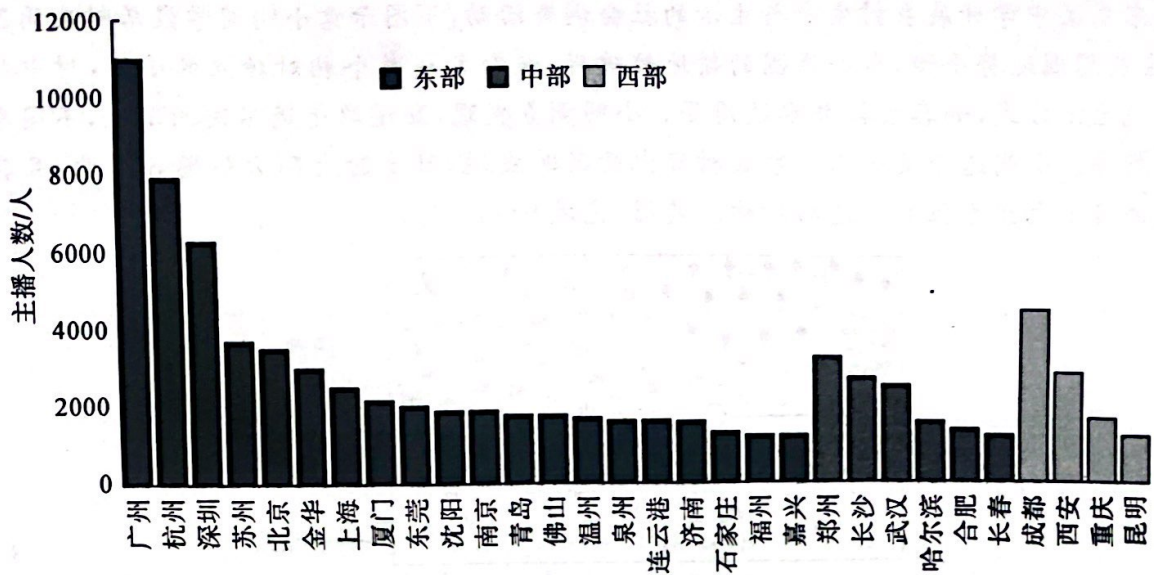
- 黄土高原
- 关中平原
- 秦巴山区
- 汉水谷地

3. 为提高陕西省美丽乡村发展水平,建议

- ①矿业城市周边加大矿产勘探力度
 - ②关中平原丰富都市农业种类
 - ③黄土高原有序推动合村并居
 - ④秦巴山区林地修筑度假别墅
- A. ①②
 - B. ①④
 - C. ②③
 - D. ③④

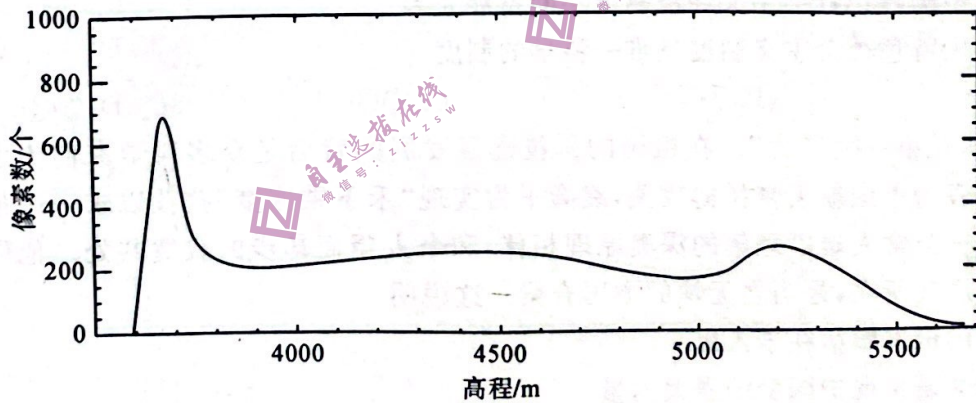
直播带货作为粉丝经济与电商结合的新经济现象,其核心是通过直播方式与观众互动的带货主播。据统计,截至 2020 年 7 月,共有 15 万粉丝数量大于 1 万的有效带货主播(不含港澳台),涵盖了 287 个地级市(本题中的带货主播指通过直播或者在抖音小店上架商品的主播)。下图示意不同区域抖音带货主播人数分布(前 30 名城市)。读图,完成 4~6 题。






4. 下列关于带货主播人数前30名的城市及主播人数分布特点的叙述,正确的是
- A. 东部地区城市数量最多
B. 东部地区城市主播人数均多于中部
C. 城市人口数量越多,主播人数越多
D. 经济越发达的城市,主播人数越多
5. 与传统电商相比,直播带货的优点是
- A. 货源丰富
B. 价格优惠
C. 主播能与观众互动
D. 运营成本低
6. 广州带货主播人数最多,其原因最可能是
- A. 信息网络基础设施完善
B. 珠三角轻工业发达,产品货源丰富
C. 科技发达
D. 人口文化素质高

青藏高原某流域由山顶、高山剥蚀面、山坡、河谷组成,雪线高度约5500米。下图示意该流域地形高程统计分布(图中像素指组成图像的小方格,是图像中不可分割的元素,同一图像中像素个数与面积大小呈正比)。读图,完成7~8题。



7. 与其上下两侧相比,平均坡度明显偏小的范围是海拔
- A. 3650米附近
B. 4500米附近
C. 5000米附近
D. 5200米附近
8. 海拔4000~4800米范围主要的外力作用为
- ①流水侵蚀
②冰川侵蚀
③风力堆积
④冻融风化
- A. ①②
B. ①④
C. ②③
D. ③④

山东省某中学开展乡村生产与生活的社会调查活动,下图示意小明同学聚居村庄周围的局部,村庄及周围地势平坦,水井周围的耕地较破碎,被分割成多个相对独立的小块,村中居民多保留传统生活方式,如喜欢挑井水饮用等。小明调查发现,距道路远近不同的草地,不同季节草的疏密有异。小明选择某一周观察该村日出情况时发现,日出时太阳方位逐日偏北,且其中有若干天的日出太阳方位关于道路对称。读图,完成9~11题。



9. 水井周边耕地多分割成小块的原因是
- A. 地势起伏 B. 土壤肥力 C. 人类活动 D. 河流纵横
10. 下列时间中草的疏密差异最大的是
- A. 2月 B. 5月 C. 8月 D. 10月
11. 推测观察日出期间,太阳直射点
- A. 直射赤道附近,且向北移动 B. 直射 $23^{\circ}26'N$ 附近,且向北移动
- C. 直射赤道附近,且向南移动 D. 直射 $23^{\circ}26'S$ 附近,且向南移动
12. “嫦娥”落月、“天问”探火、神舟飞天、高铁奔驰、C919首飞、南水北调、“西电东送”……从南海之滨到北国雪原,从东部沿海到西北内陆,一个个重大工程相继问世,一项项发展成就硕果累累,汇聚成一幅波澜壮阔的时代画卷。上述成就的取得
- ①表明中国特色社会主义制度具有显著优势
 ②能进一步坚定人们对中国特色社会主义制度的自信
 ③意味着中国特色社会主义经济制度不断发展完善
 ④说明中国特色社会主义制度是唯一科学的制度
- A. ①② B. ①④ C. ②③ D. ③④
13. “科学技术是第一生产力”。在祖国的科技迅猛发展的背后是众多科学家们为之奉献的一生。钱学森为中国航天梦拼搏攻关,袁隆平为实现“禾下乘凉梦”孜孜以求……他们在无数日日夜夜里与常人难以理解的深奥原理相伴,和令人望而却步的寂寞共处。他们是国家创新发展的底气所在,是当之无愧的中国脊梁。这说明
- ①中国梦的根本归宿在于人民
 ②中华儿女是实现中国梦的强大力量
 ③人民是中国梦的主体,是中国梦的创造者
 ④中国梦凝结着中华民族和中国人民的具体利益
- A. ①③ B. ①④ C. ②③ D. ②④
14. “大飞机”一直被誉为“现代制造业的明珠”。集成新材料、现代制造、先进动力、电子信息、自动控制、计算机等众多领域,需要投入大量人力物力财力;需要政府、市场、社会等拧成一股绳。2022年9月,我国C919大飞机取得型号合格证。C919研制成功意味着我国民机技术实现集群式突破,整个民机产业链将显著受益。可见

- ①我国的现代化产业体系已经完全形成
- ②社会主义市场经济体制能集中力量办大事
- ③大飞机投入市场后,机票价格将大幅下降
- ④我国的举国体制能使政府和市场有效结合

A. ①③ B. ①④ C. ②③ D. ②④

15. 根据全国人大常委会的决定,自2022年12月30日起,各地商务主管部门停止办理对外贸易经营者备案登记,对于申请进出口等相关证件和资格的市场主体,有关部门不再要求提供对外贸易经营者备案登记材料。这是外贸经营领域重大改革举措。下列关于这一举措对我国经济影响的传导机制正确的是

- ①释放外贸潜力 ②提高外贸信心 ③推动高质量发展
- ④优化营商环境 ⑤降低制度成本

A. ⑤→②→①→④→③ B. ⑤→④→②→①→③
C. ④→⑤→①→②→③ D. ④→⑤→②→①→③

16. 2023年1月6日,江苏省泰州市政协六届二次会议闭幕。在会议召开期间泰州市政协召开了一次特别座谈会。九个政府部门负责人与政协委员相对而坐,面对面回应政协委员的提案。在两个多小时的时间里,各部门负责人虚心接受了一批委员建议,也对一些问题进行了开诚布公的说明。这次座谈会反映出人民政协

- ①作为监督机关积极履行监督职责 ②把协商民主贯穿政协履职全过程
- ③通过行使质询权提高行政机关效率 ④建言资政凝聚共识促进双向发力

A. ①③ B. ①④ C. ②③ D. ②④

17.

沈家本:有法而不循法,法虽善与无法等。
《孟子》:徒善不足以为政,徒法不能以自行。

上述古人的主张给我们今天建设法治中国的启示是

- ①法律制度要完善且统一 ②加强严格执法公正司法
- ③坚持德治和法治两手抓 ④坚持法律面前人人平等

A. ①③ B. ①④ C. ②③ D. ②④

18. 2023年兔年春节前夕,中国互联网上掀起使用人工智能(AI)制作绘画和插图的热潮。通过AI图像生成软件,人们只需要输入关键词就能自动生成相关图像。无论谁都可以在一瞬间创作出神作,但也同时引发“是否是剽窃行为”的批判以及“AI艺术是否拥有著作权”的讨论。从哲学视角来看,这一事件反映了

- ①实践具有直接现实性 ②实践是认识发展的动力
- ③认识的发展是无限的 ④认识推动了存在的发展

A. ①③ B. ①④ C. ②③ D. ②④

19. 大寨村地处知名的龙脊梯田核心区,经过各种尝试后,大寨村同桂林的旅游公司合作,村民积极入股水田,将田地打造成景区,“打旗公”、红瑶婚礼等特色民俗活动也吸引大量中外游客参观,村里的民宿和餐饮业迅速发展。大寨村的转变说明

- ①文旅融合是促进乡村振兴的有效途径 ②文旅融合能够促进村民道德素质提高
- ③文旅融合有助于推动传统文化的传承 ④文旅融合能够体现中华文化的包容性

A. ①③ B. ①④ C. ②③ D. ②④

20. 2022年,美国交出的成绩单并不好看:民主党禁枪,但共和党积极支持民众拥枪,美国2022年全年有4万多人死于枪下;在两党对立加剧的环境下,移民难题不断升级……此外,仇恨犯罪、种族主义、贫富差距等痼疾持续困扰美国民众。这说明美国的两党制
- ①赋予了民众更多的自由和权利 ②加剧了美国社会的对立与撕裂
③无法平衡资产阶级内部的对立 ④促进了美国社会治理成本上升
- A. ①② B. ①③ C. ②④ D. ③④
21. 我国实施防疫政策优化措施后,一些国家对中国游客的人境采取了歧视性的限制措施,包括要求提供行前核酸检测阴性证明,阳性人员集中隔离、限制入境等措施。据此,我国针对这些国家也作出了停止签证、暂停往来等措施。由此可见
- ①我国坚持独立自主的外交政策 ②我国政府坚定维护人民的利益
③强权政治危害世界和平与安全 ④自卫权是主权国家的基本权利
- A. ①② B. ①③ C. ②④ D. ③④
22. 原告张某是计算机软件(嗨斯快跑)的著作权人,并经过登记。该软件于2018年投放到某移动平台上,以18元的价格让用户购买使用。徐某未经许可,擅自破解该游戏。第三方网站明知徐某的游戏为破解版,仍用于免费下载,导致原告利益受损。下列关于该案件的说法正确的是
- ①张某对该游戏享有的著作权是50年 ②张某可以要求徐某赔礼道歉、赔偿损失
③徐某可以利用法定许可进行抗辩 ④网站应当与徐某承担连带责任
- A. ①③ B. ①④ C. ②③ D. ②④
23. “蜂群”是一个仿生学概念,指的是将多架无人机组合起来,模仿蜜蜂在一起飞行的状态进行任务执行。通过把多架低成本无人机按照蜂群模式组织起来,能够执行复杂的任务,发挥更大的威力,实现 $1+1>2$ 的效果。下列关于该段材料的说法正确的是
- ①知识迁移能够促进开拓性结果的产生 ②“蜂群”技术是逆向思维的体现
③通过类比一定可以获取必然性的知识 ④优化部分可以实现物质变
- A. ①③ B. ①④ C. ②③ D. ②④
24. 孔子认为:“夫政者,正也。凡上者,民之表也,表正,则何物不正?”据此可知,孔子
- A. 维护儒家思想的正统地位 B. 强调统治者应加强道德修养
C. 宣扬君臣平等的民主思想 D. 对礼崩乐坏的现状深怀忧虑
25. 史载,东汉魏晋时期,乐则胡笛、箜篌,御则胡床,食则羌煮、貊炙,器则蛮盘,祠则胡天。对此合理的解释是
- A. 民族之间的交融进一步加强 B. 华夷之间的差别基本消失
C. 政府尊重少数民族风俗习惯 D. 各族同源共祖的观念滋生
26. 宋代,在边远地区的广西,农村的集市已发展成为定期的集市(当地称“圩”),“有的地方五天一圩,有的地方三天一圩,有的地方隔一天一圩”。这一现象反映出
- A. 市的发展突破时间限制 B. 城市经济职能增强
C. 农产品商品化程度提高 D. 经济重心南移完成
27. 明太祖洪武十年(1377年),有内侍久侍内廷,言论政事,即被太祖斥遣还乡,且终生不用,并说“其小忠小信足以固结君心,及其久也,假威窃权,势遂不可抑”。这反映出该时期
- A. 宦官专权的严重性 B. 君主专制日趋强化
C. 政治统治日益黑暗 D. 中枢机构发生变化

28. 在第二次鸦片战争期间,沙俄虽与英、法等国一起行动,但却一直以中间人的面貌出现,并曾正式致函清廷,表示愿意“调停”中国与列强之间的冲突。这使当时清廷上下形成了利用沙俄“调停”“以夷制夷”的共识。这反映出当时清政府

- A. 尚未认清帝国主义侵略本质
- B. 注重捍卫国家主权
- C. 逐渐放弃“天朝上国”的思维
- D. 缺乏近代外交理念

29. 1902年至1913年,全国共创办各种女性报刊50余种。这个时期的女性报刊,其主流是以宣传女学和女权为宗旨,在当时中国产生了非凡的影响。这反映出

- A. 新文化运动的影响日益扩大
- B. 大众传媒推动思想解放
- C. 女性社会地位得到普遍提升
- D. 妇女解放成为社会共识

30. 古希腊剧作家欧里庇得斯(公元前480年—前406年)称:“城邦属于群众时,个人就会为了自己的利益,用语言迷惑群众,也许能暂时有利于群众,可是一旦出现错误,他就会通过诽谤别人来隐藏自己的错误,然而群众却可能毫无辨别。”这表明在古希腊

- A. 政治演说是公民参政的必经途径
- B. 城邦事务掌握在演说家手中
- C. 人文精神贯穿于政治生活的始终
- D. 民主政治带有非理性的一面

31. 中世纪时期,庄园法庭之于领主,是其对农民进行统治和剥削的工具,他们通过在庄园法庭上享有的司法审判权来实现维护自己利益并达到对庄园内的农民进行人身限制的目的;农民则通过在庄园法庭上的合法斗争,限定了劳役量,以防止领主任意增加负担。这反映出西欧

- A. 庄园实现了自给自足
- B. 庄园法庭拥有独立司法权
- C. 庄园法庭具有二重性
- D. 庄园法庭维护了农民利益

32. 牛、山羊、猪和马引入美洲后,为美洲印第安人提供了皮革和羊毛以及新的动物蛋白质来源;马和牛提供了重要的畜力,使人们第一次可以在美洲土地上开垦耕种;有轮子的车辆和更多种类的牲畜也提高了交通运输的可能性。由此可见,新航路开辟后的物种交流

- A. 导致了美洲人口数量的激增
- B. 是以动物物种交流为主
- C. 影响了美洲地区的社会生活
- D. 导致美洲自然经济解体

33. 苏格兰宗教改革家诺克斯(1513—1572年)认为,在上帝那里,人与人的差别不在于贵族还是平民,而在于信仰是否纯正,是否谨守圣约。据此可知,诺克斯

- A. 积极维护上帝权威
- B. 反对封建君主专制
- C. 强调公平平等思想
- D. 努力践行民本理念

34. 下表为1983—1984年度英国税收与福利支出对收入的影响表(单位:英镑)。据此可以推知,英国福利国家制度

每月收入	50	80	100	130	200
儿童津贴	13.00	13.00	13.00	13.00	13.00
家庭津贴	22.55	17.60	13.89	8.29	0
家庭收入补助	22.50	7.50	0	0	0
家庭免费早餐	5.00	5.00	0	0	0
纳税	0	-7.88	-13.88	-19.88	-43.83
国民保险	-4.50	-7.20	-9.00	-10.80	-18.00
实际收入	108.55	108.00	104.01	110.61	151.12

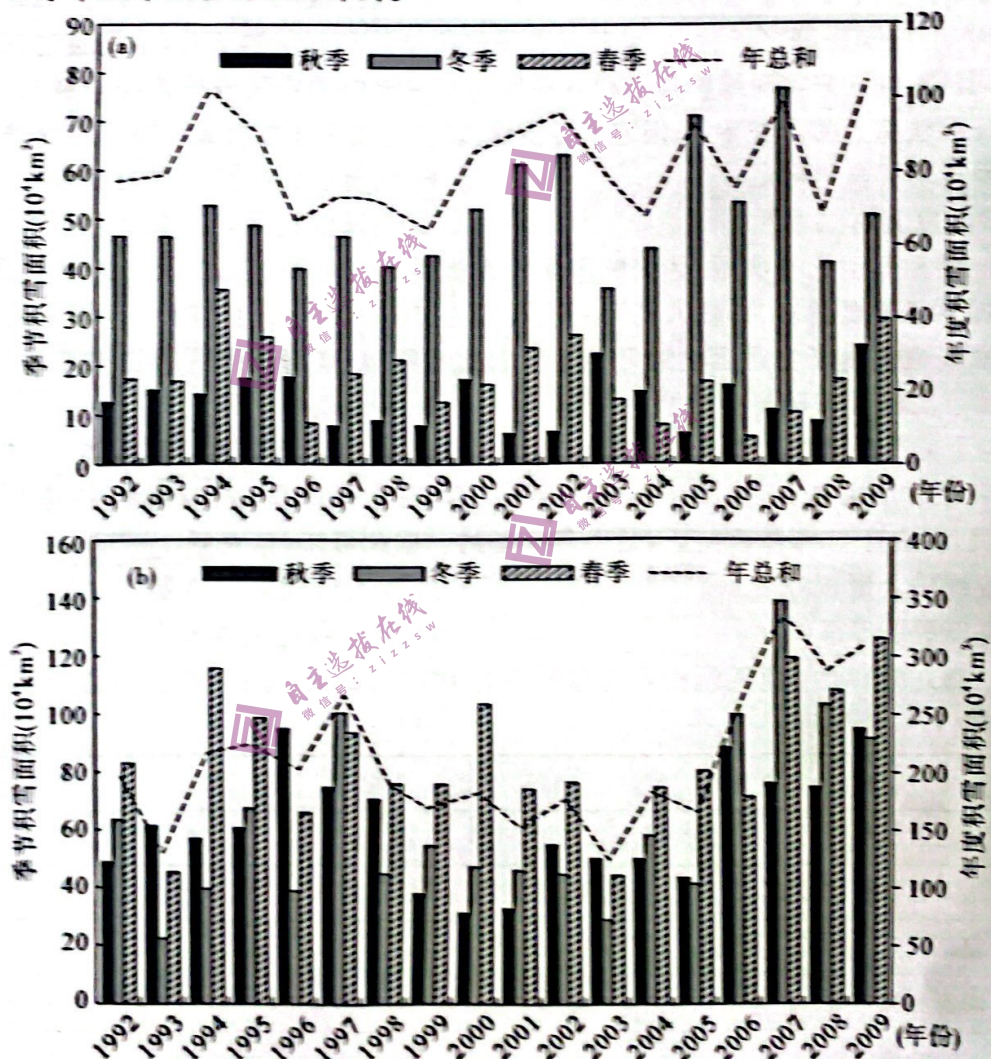
- A. 体现了财富平均主义的原则
- B. 平衡了社会各阶层的利益
- C. 反映了资产阶级的利益诉求
- D. 降低了人们工作的积极性

35. 据统计,2000 年美国总统大选花费的金钱高达 30 亿美元,比 4 年前高出 50%。2004 年大选花费接近 40 亿美元。所以有学者指出,“只要在联邦大选委员会那里查一下筹集资金的账户,就可以在大选之前知道大选的最终结果。”从中可以看出美国总统大选
- A. 成为两党政治斗争的工具
B. 带来经济发展新动力
C. 尽显金钱政治的本质特征
D. 呈现出公开性的特征

二、非选择题:共 160 分。

36. 阅读图文材料,完成下列要求。(24 分)

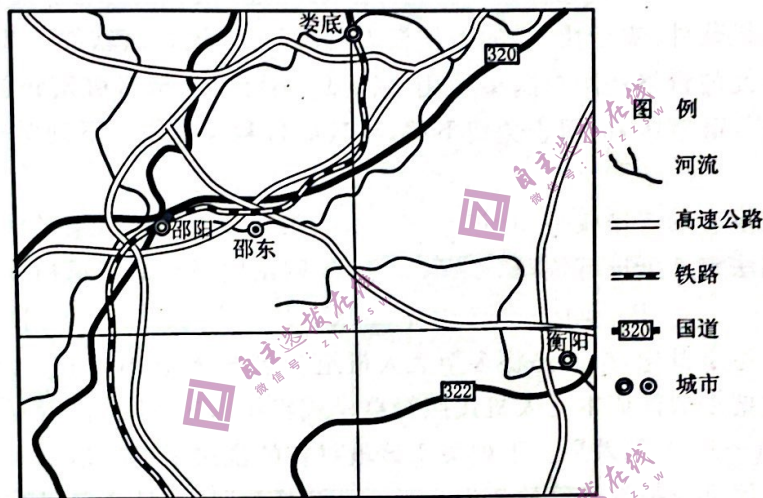
积雪是指由降雪形成的覆盖在地球表面上的雪层,它是地面气温低于冰点的寒冷地区或寒冷季节的特殊自然景观和天气现象。季节性积雪是地表覆盖的重要组成部分之一,在北半球的冬季每年有 40% 的地表面积被积雪所覆盖,它对全球地表能量平衡、全球水循环以及气候变化都有重要影响。中国位于北半球,且疆域辽阔,每年冬春季节国内大部分地区都有降雪发生,部分地区更是常年有积雪覆盖。因此,能否获得准确的长时间序列和连续的积雪变化信息对研究我国生态环境、气候变化机制等至关重要。下图(a)(b)分别为新疆和青藏高原各季节及年积雪面积统计图。



- (1) 据图示积雪状况推测 2003 年的气候异常事件并给出判断依据。(4 分)
- (2) 比较新疆与青藏高原呈现最大积雪面积的大致季节差异,并分析原因。(8 分)
- (3) 说出青藏高原比新疆积雪面积大的原因。(6 分)
- (4) 全球变暖对青藏高原影响有害而无益。你对该观点是否赞同并说明理由。(6 分)

37. 阅读图文材料,完成下列要求。(32分)

小小打火机有13道工序、30多个零配件、10多项测试标准……湖南邵东是目前全球最大打火机基地,生产了全国70%左右的打火机,有114家制造企业,其中出口企业12家,拥有完整的产业链,上下游产业链企业80余家,形成4大打火机产业集群,打火机种类多达300余种,每年产值超过百亿元。2022年,邵东出口打火机35.2亿个,占同期全国打火机出口总量50.1%,稳居全国第一。邵东打火机可满足世界各地市场需求,出口印度、尼日利亚、俄罗斯、美国等100多个国家和地区,东南亚是主要出口市场。邵东生产的一次性打火机,20年前卖1元,今天还卖1元,而且还有“赚头”。目前,邵东已有10多家打火机龙头企业基本完成自动化改造,工艺技术全国领先。2022年,邵东打火机协会和邵阳海关一起对国内外标准进行了深入研究,随着产品升级、规模扩大,将扩大技术革新覆盖面,全面提升发展动能,并继续在标准修订方面发出邵东声音。邵东政府官员自信地说,“任何一个地方都拿不走这个产业链”,东南亚不能,印度也不能。



- (1)说出邵东打火机产业快速发展的优势条件。(6分)
- (2)简析邵东一次性打火机20年始终售价1元的原因。(6分)
- (3)简述形成产业集群具有哪些生产优势。(6分)
- (4)分析邵东打火机在国际市场上竞争力强的原因。(8分)
- (5)从东南亚或印度的角度,说明这些地区“拿不走这个产业链”的原因。(6分)

38. 阅读材料,完成下列要求。(10分)

为顺应人民群众对美好生活的期盼,锚定建设农业强国的目标任务,全国人大常委会有针对性地开展了一系列立法修法和监督法律实施的工作,充分发挥法治在改革发展中的引领、规范和保障作用。

除了制定乡村振兴促进法、修改种子法和农产品质量安全法外,全国人大常委会还修改了农村土地承包法、土地管理法等。初步形成了以农业法为基础,以乡村振兴促进法为统领,以基本经营制度、土地管理、基层村民自治等法律为主干,以其他法律法规为辅助的农业农村领域法律制度框架体系。

这些立法和法律实施活动,把党中央决策部署通过法定程序转化为国家意志,把地方实践中成熟的经验做法上升为可复制推广的制度成果,把满足人民美好生活需要与全面深化农村改革、激发乡村发展活力有机结合起来,充分发挥中央和地方的积极性,真正使广大农民成为农业农村现代化的参与者、支持者和受益者。

农业农村现代化离不开法治护航。运用《政治与法治》的相关知识,阐释我国是如何以良法善治护航农业强国建设的。

39. 阅读材料,完成下列要求。(12分)

“天下之治,有因有革,期于趋时适治而已。”面对新时代新征程提出的新任务,党和国家机构设置和职能配置同全面建设社会主义现代化国家、全面推进中华民族伟大复兴的要求还不完全适应,同实现国家治理体系和治理能力现代化的要求还不完全适应,同构建高水平社会主义市场经济体制的要求还不完全适应。

改革是发展的强大动力。新的使命任务、新的战略安排、新的工作需要要求我们在巩固党和国家机构改革成果的基础上继续深化改革,对体制机制和机构职责进行调整和完善,进一步构建系统完备、科学规范、运行高效的党和国家机构职能体系。根据方案,政府机构将进一步精简,主要是通过合并部门、撤销职能重复的机构等方式实现,比如,将发改委、工信部、商务部等3个部门整合为国家发展改革委员会。此外,方案还提出了对一些现有机构职能的重新划分和调整,以适应新时代中国的发展需要,比如,设立人民银行金融稳定局,强化金融监管。

2023年,新的党和国家机构改革方案将全面落实。通过进一步精简机构、优化职能,加强政府的治理体系和治理能力,为中国未来的发展提供更加有力的制度保障。

结合材料,运用“经济基础与上层建筑辩证关系”知识,说明新的党和国家机构改革的合理性。

40. 阅读材料,完成下列要求。(10分)

2023年以来,中国经济继续呈现恢复向好态势,市场预期明显改善。中方有信心、有能力推动中国经济的巨轮乘风破浪、行稳致远,为世界经济发展作出更大贡献。中国发展离不开世界,世界发展也需要中国。习近平主席指出,中国将加快开拓国内市场,同时大力推进高水平对外开放,稳步扩大规则、规制、管理、标准等制度型开放。4月10日,第三届中国国际消费品博览会在海口开幕。第133届中国进出口商品交易会也如期在广州举办。今年中国还将举办第三届“一带一路”国际合作高峰论坛、第六届中国国际进口博览会等活动。中国开放的大门会越开越大,环境会越来越好,服务会越来越优。在不确定的世界中,中国的确定性是维护世界和平与发展的中流砥柱。

结合材料,运用《当代国际政治与经济》知识,谈谈你对“中国发展离不开世界,世界发展也需要中国”的理解。

41. 阅读材料,完成下列要求。(8分)

苏某在某合作社的养殖场从事养牛工作,工资实行月薪制 2400 元/月,双方没有签订劳动合同。某日,因牛生病,苏某在下班后仍被场长要求看护病牛至深夜,在夜间苏某在养牛场不慎摔倒,脑后出血导致死亡。苏某近亲属要求该合作社作出赔偿,但合作社以双方没有签订劳动合同,且苏某在非正常工作时间死亡为理由拒绝。

结合材料,运用《法律与生活》有关知识,分析除了和解和调解,苏某亲属还可以通过哪些途径维权,该合作社是否应该作出赔偿,并说明理由。

42. 阅读材料,完成下列要求。(12分)

《中国奇谭》作为致敬中国动画诞生 100 周年的作品,既传承了《大闹天宫》《天书奇谈》等优秀民族风格作品的神韵,又彰显出了新时代创作者的探索与创新,是“中式想象力”的一次集中展现。

在百年国产动画探索中,我们从未放弃过以文化软实力构筑动画中国梦。四十多年前,一部《哪吒闹海》,“斗”出了一场深刻而又悲壮的“英雄梦”;1981年,一部广为传颂的《三个和尚》的故事,“抬”出了一场关于团结合作的“哲思梦”;1988年,国产水墨动画《山水情》,“奏”响了一出淡然悠远的“诗意梦”……

在 21 世纪,中国动画新百年的路口,全新推出《中国奇谭》,在回望过去的基础上结合现代语境,用八个不同风格的故事编织了一场“奇境之梦”,梦里有关理想与现实、有关欲望与自我、有关成长与告别、有关自私与奉献、有关人文关怀与乡土眷恋……在动与静之间,知与行之中,构筑属于自己的动画中国梦。

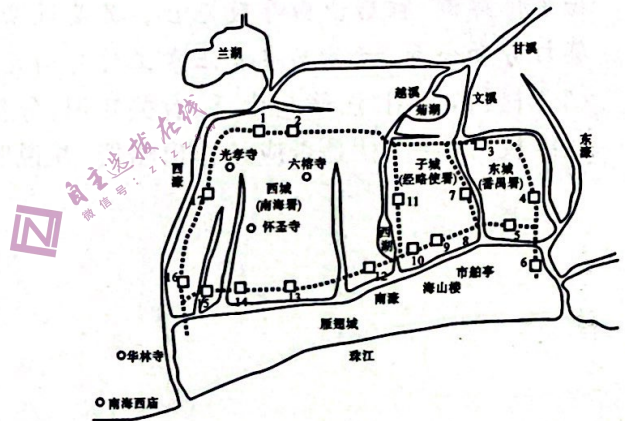
梦不改、魂不灭,《中国奇谭》为动画行业的发展添上了浓墨重彩的一笔。运用《逻辑与思维》中“辩证否定”的知识,阐释《中国奇谭》如何为动画行业的发展添上了浓墨重彩的一笔。

43. 阅读材料,完成下列要求。(25分)

材料一 宋代,广州成为我国最大的港口之一,也是世界级的商港,其贸易范围之广、商业发展之盛、经济作用之重,大大超过前代。北宋时期西夏崛起导致陆上丝绸之路受阻,宋政府规定“由广州路入朝……不得于西蕃出入”。雍熙四年(987年),宋太宗派遣内侍持敕书和金帛“各往海南诸蕃国,勾招进奉”。宋代广州,子城为三城核心,官衙区以经略安抚使司为中心,居于北部,朝南而治;而番禺县署和许多官员住宅却安排在东城,将交通便捷、位置优越的大片南部子城区域让位于商业区。西城因商业而兴,是主要的商业区和蕃商居住区。宋代广州形成了内外八港、城外三濠、城内六脉的水系格局,基本确立了广州港口城市的空间形态。广州的商业街市依托于大大小小的水道,形成以东濠、西濠和南濠为骨架,以珠三角细密水网为毛细血管的分布形态。随着对外贸易和海洋开发的日趋活跃,海神崇拜越来越流行,广州的真武大帝信仰、普陀山的观音信仰、湄洲岛的天后信仰,都是在宋朝兴起和盛行的。



广州的地理区位



宋代广州城市格局

——摘编自孙振亚《商业贸易影响下宋代广州城市风貌特征》

材料二 中国资本主义工商业在19世纪末、20世纪初和第一次世界大战期间,获得了较快的发展。广州城市的近代化也在这一阶段全面展开。据不完全统计,仅机器制造、火柴、橡胶、机器修理、纺织针织几个门类,1914~1921年间新办的企业就有20多家。1898年中国自办的第一家商办银行——中国通商银行在广州开设分行。民国建立后,城乡分治和实行地方议会政治的呼声更加强烈,政府层面的酝酿筹划也一直在进行之中。到20年代初,广州已有各类新式学校270所,据不完全统计,“民国初年,仅广州市就有书局约102家”。1918年广州市政公所成立后,对城市规划和建设更加重视,决定实施近代广州第一个大的市政建设工程。与此同时,近代新型知识分子群体在城市中的活动和影响力也明显增强,这一时期出现的众多新式社团、政党、学会、研究会、讲习所之类的组织,基本上都是他们的活跃之地。

——摘编自赵春晨《晚清民国时期广州城市近代化略论》

- (1) 根据材料一并结合所学知识,概括宋代广州对外贸易发展的原因,并分析商业贸易对广州的影响。(12分)
- (2) 根据材料二并结合所学知识,指出清末民初广州城市的近代化的表现。(8分)
- (3) 根据材料一、二并结合所学知识,谈谈你对中国城市发展的基本认识。(5分)

44. 阅读材料,完成下列要求。(12分)

材料 历史学家伊曼纽尔·沃勒斯坦指出,迄今为止,在全球范围内出现了3个世界性大国,17世纪是荷兰的崛起,19世纪是英国的崛起,20世纪是美国的崛起。其中,经济因素对大国崛起的影响巨大。

经济体制的维度	荷兰、英国和美国崛起的历史表明,凡是能够成功崛起的大国都必须积极建立和培育自由竞争的市场经济体制,从而为其经济发展注入持久的活力
科技创新的维度	近代历史已雄辩地证明,科技创新在国家进步中扮演着重要的角色,能够崛起的大国不仅具有较强的技术创新能力,而且具有较强的技术转化和应用能力,持续的技术创新和先进的科研体系往往是大国崛起的重要因素
经济全球化的维度	从荷兰、英国和美国崛起的历程来看,能否构筑开放的贸易格局,将国内产业结构与国际分工有机衔接,在广阔的国际市场空间优化配置资源,是决定大国能否成功崛起的必要条件

——摘编自温俊萍《经济史视野中的大国崛起——基于荷兰、英国和美国的经验》
围绕材料,选择一种观点或者自拟一个观点,并运用世界史的具体史实予以论述。(要求:观点明确,论证充分,史实准确,表述清晰)

45. 阅读材料,完成下列要求。(15分)

材料 新中国成立以后,面对复杂的国内外形势和旧中国留下的一盘散沙的社会局面,为了尽快“摸清家底”、重建秩序、稳固政权,新中国逐步建立了人民公社、单位制、街居制和户籍管理制度。1958年版《户口登记条例》主张实行严格的户籍制度,明确人口流动应严格遵循出具手续证明的规定。改革开放使二元户籍制度逐渐被打破,在城市,居民委员会、街道办事处职能和机构于1980年重新恢复,1986年,为满足居民需求和实现社会管理功能,首次引入“社区”概念,自此揭开了我国在城市中开展社区服务、社区建设工作的序幕。在农村,随着家庭联产承包责任制的全面落实和城镇单位制的日渐瓦解,社会流动日趋加速,为适应经济社会发展的需要,基层社会治理领域的“管控”开始放松,并逐步向“管理”过渡。总的来看,改革开放之后,基层社会逐渐从政治束缚中摆脱出来,国家与社会的职能开始分离,社会成员的自主性不断增强。

——摘编自魏和平《新中国成立以来基层社会治理的范式变迁与主要启示》

- (1) 根据材料,概括相比于新中国成立初期,改革开放后中国基层治理的新变化。(8分)
- (2) 根据材料并结合所学知识,分析改革开放后中国基层治理改革的作用。(7分)