



高三 12 月“备考检测”联合调考 历史

本试卷满分 100 分,考试用时 90 分钟。

注意事项:

1. 答题前,考生务必将自己的姓名、考生号、考场号、座位号填写在答题卡上。
2. 回答选择题时,选出每小题答案后,用铅笔把答题卡上对应题目的答案标号涂黑。如需改动,用橡皮擦干净后,再选涂其他答案标号。回答非选择题时,将答案写在答题卡上。写在本试卷上无效。
3. 考试结束后,将本试卷和答题卡一并交回。
4. 本试卷主要考试内容:《中外历史纲要》(上)(下)、选择性必修 1。

一、选择题:本大题共 15 小题,每小题 3 分,共 45 分。在每小题所给的四个选项中,只有一项是最符合题目要求的。

1. 河南淇县所发掘的西周卫国墓葬群,共发掘中小型墓 224 座,其中 10 余座墓葬配有腰坑且出土有毁坏的铜戈、铜戟。其中腰坑葬俗为商人所流行的葬俗,而毁兵葬俗是周人特有的葬俗。这一现象表明西周

- A. 礼乐制度日益完善
B. 继承了商朝的政治制度
C. 贵族等级秩序破坏
D. 族群文化出现交融趋势

2. 表 1 所示为唐玄宗时期的新建州县分布。据表可推知,唐代

表 1

新建州县	今属	新建州县	今属
巴川县	重庆	尤溪县	福建
汀州	福建	青阳县	安徽
唐城县	湖北	唐年县	湖北
明州	浙江	太平县	安徽
歙州	安徽	浦阳县	浙江

A. 郡县制度趋于完善
B. 南方经济得到发展
C. 君主专制日益强化
D. 疆域范围不断开拓

3. 南宋后期,《袁氏世范》在分析士大夫子弟可就之业时,虽然仍将习儒登进士而致富贵视为首选,将私塾教师作为第二选择,但同时也将代书人、巫医、僧道、农业、商业、技术等作为养生之计。这反映出宋代

- A. 商人社会地位得到提高
B. 经济发展冲击传统观念
C. 市民兴起瓦解传统伦理
D. 政府商业政策发展变化

4. 1902年,梁启超明确提出要用“淬厉其本有”“采补其本无”的方法来“维新吾国民”,尤其要借鉴西方“博考各国民族所以自立之道,汇择其长者而取之,以补我之所未及”。这表明梁启超
- A. 坚持中体西用的原则
B. 宣扬变法维新思想
C. 强调对民众进行启蒙
D. 思想观念日益保守
5. 1939年,毛泽东提出:“所谓联合,就是同资产阶级的统一战线。所谓斗争,在同资产阶级联合时,就是在思想上、政治上、组织上的和平的不流血的斗争。”当时毛泽东强调这一观点意在
- A. 发动群众参加革命战争
B. 巩固全民族的抗战路线
C. 建立抗日民族统一战线
D. 动员社会各界进行抗战
6. 表2所示为1949~1956年《人民日报》头版中有关少数民族的报道。当时报道的这些政策和措施

表2

在少数民族报道中的具体体现	出现次数	合计
报道体现了各民族利益分配的均衡性	7	17
报道体现了少数民族经济的发展	2	
报道了为达到各民族利益均衡而实施的政策、采取的措施	3	
报道了为帮助少数民族发展经济,达到了各民族经济均衡发展而实施的政策、采取的措施	5	

- A. 说明少数民族问题是国家的工作中心
B. 反映了民族区域自治制度得到了贯彻
C. 表明我国工业落后的局面得到了改善
D. 有利于强化少数民族对新政权的认同
7. 15世纪初叶,英格兰沃克伯爵的全体佃户经与领主数次较量与谈判,迫使领主作出重大让步,地租下降2/3以上。在那一年的庄园档案上,记载着领主作出妥协的理由:“若不降低地租,他们就要集体离开庄园。”这表明当时的英格兰
- A. 地主阶层的政治特权受到限制
B. 佃农的人身依附关系逐渐弱化
C. 庄园具有一定的基层自治特色
D. 圈地运动赋予了民众迁徙自由
8. 1789年7月20日,西哀耶斯在法国制宪议会上提出:所有的人都可以享有社会的种种好处;但只有那些对公共事业作出贡献的人,才是社会这个大企业的真正股东。只有他们才是积极公民,才是这个组合的真正成员。这一言论
- A. 阐释了人民主权思想
B. 促进了工业革命的发展
C. 限制了公民的参政权
D. 否定了波旁王朝的统治
9. 1847年,恩格斯撰文强调:“正像不能一下子就把现有的生产力扩大到为实行财产公有所必要的程度一样。因此,很可能就要来临的无产阶级革命,只能逐步改造现今社会,只有创造了所必需的大量生产资料之后,才能废除私有制。”恩格斯这一论述
- A. 标志着科学社会主义的诞生
B. 阐述了无产阶级革命的阶段性
C. 肯定了英国工业革命的成就
D. 丰富了马克思主义的革命理论

10. 图 1 所示为 1921 年刊载于英国报刊上的一幅漫画, 标题是《无法令人满意的金蛋》。该漫画意在揭示




图 1

- A. 凡尔赛体系违背了英法两国意志
B. 凡尔赛体系对德制裁过于严苛
C. 英法在一战后积极争夺欧洲霸权
D. 一战后欧洲政治局势动荡不安
11. 20 世纪 50 年代末, 美国政府加大了对拉美的援助力度, 不但同意成立美洲开发银行, 以更加便利和系统地向拉美国家和地区提供资本和技术援助, 还决定拨款 5 亿美元设立“社会进步信托基金”。美国的这些举措旨在
- A. 抵制不结盟运动的发展
B. 阻止拉美民族民主运动
C. 助推美洲地区经济合作
D. 加强对拉美地区的渗透
12. 秦代将“为不善”一词用作法律术语, 将“不孝”“不道”“禽兽行”等罪着重惩罚; 统治者表彰忠孝、慈爱的个人与家庭, 对于“孤寡贫困老弱独转”者加以照顾。这些举措
- A. 瓦解了血缘宗法制
B. 根源于儒家伦理的影响
C. 旨在巩固统治秩序
D. 反映了统治思想的转变
13. 1994 年, 卢旺达国际刑庭建立; 1995 年后, 世界贸易组织内争端解决程序的效率大大提高; 1996 年, 联合国海洋法庭建立; 2000 年, 国际刑事法院建立。这反映出
- A. 国际政治新秩序的确立
B. 和平与发展成为时代主题
C. 美国霸权地位受到削弱
D. 国际法执行有了制度保障
14. 表 3 所示为 1920 年营口营平银 1000 两折合东三省各地的现银数。这些数据说明当时

表 3

地方银两标准	银(两)数	地方银两标准	银(两)数
沈阳沈平银	1002.00	吉林省城吉平银	1009.00
辽宁平银	980.40	山海关平银	967.30
长春宽平银	1005.60	铁岭平银	991.00

- A. 国民经济结构比例失衡
B. 东北尚未形成统一市场
C. 政府财政危机日益加重
D. 中央与地方矛盾激化

17. (13分)阅读材料,回答问题。

首届全国手工艺品展会的举办

1936年6月3日,《国民经济建设运动委员会总章》出炉,该章程强调了“研究发展全国农工副业及地方特殊产品”的目标,手工业为内容之一。6月8日,经建总会筹委会成立,蒋介石为会长,行政院副院长孔祥熙、实业部部长吴鼎昌、秘书翁文灏为筹委。筹委会主任吴鼎昌在广播讲话中呼吁“手工艺品近年来为机器制品所压倒”,“有改良其艺术、推广其销路之必要”。7月4日,经建总会在南京成立。经建总会于同年10月暂定全国手工艺品展览会于1937年5月在南京举行,为期一个月,各地名流学者纷纷撰文或发表演讲,响应此次展会。

材料一

服用品中适合都市销路,又足以代替外货的有察哈尔民生工厂出产之纹布、天津大方成记纱厂之美术布等;在冶炼品多为旧法冶炼,大都为农业用品及日用品,仍墨守旧规……各种出品,皆能跟着时代努力迈进!

——摘编自褚光《参观手工业展览会记》

材料二

旧法冶炼品多为旧式农工用具,如犁、锄、镰等,“不能与现社会之生产方式相适应”,建议政府将新式生产工具输入农村。

——摘编自薛光《全国手工艺品一个初步的研究》

材料三

每一种手工制造,均有简单机器相辅佑,与昔日之纯手工制造,均有改良。

——摘编自《经建总会摄制手工艺影片》

作为历史的观察者,概括说明展览会的兴办为何会引发广泛的社会关注,并谈谈“展览会”新生的出路在哪里。(13分)

18. (14分)阅读材料,回答问题。

材料

历史的透视:一幅讽刺漫画




图3 《比利时国王利橡胶藤(利橡胶藤代指比利时国王利奥波德二世) 缠绕的黑人 刚果“自由”国场景》,19世纪末20世纪初所作

【高三历史 第5页(共6页)】

· 23-149C ·

结合所学知识,以“《比利时国王利橡胶藤缠绕的黑人——刚果“自由”邦场景》赏析”为题写一则历史短文。(要求:表述成文,叙述完整;立论正确,史论结合;逻辑严密,条理清晰。)

19. (16分)阅读材料,回答问题。

材料

图4为某学者在研究当代中国外交时所绘制的外交战略转型示意图。

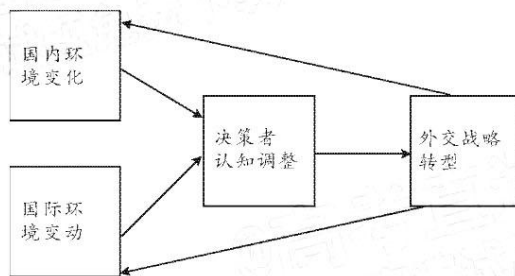


图4

——据钟龙彪《1980年代中国外交战略转型研究》

- (1)概括指出外交战略转型示意图的编绘者力图告诉我们的内容。(6分)
- (2)如果让你按图4的战略示意图说明20世纪80年代中国外交战略的转型并说明理由。(10分)

关于我们

自主选拔在线是致力于提供新高考生涯规划、强基计划、综合评价、三位一体、学科竞赛等政策资讯的升学服务平台。总部坐落于北京，旗下拥有网站（[网址: www.zizzs.com](http://www.zizzs.com)）和微信公众平台等媒体矩阵，用户群体涵盖全国90%以上的重点中学师生及家长，在全国新高考、自主选拔领域首屈一指。

如需第一时间获取相关资讯及备考指南，请关注**自主选拔在线**官方微信号：**zizzsw**。



 微信搜一搜

 自主选拔在线



自主选拔在线
微信号: zizzsw



自主选拔在线
微信号: zizzsw



自主选拔在线
微信号: zizzsw