



2021 年泰安市高考全真模拟试题

历史

本试卷满分 100 分, 考试用时 90 分钟。

注意事项:

1. 答题前, 考生务必将自己的姓名、考生号、考场号、座位号填写在答题卡上。
2. 回答选择题时, 选出每小题答案后, 用铅笔把答题卡上对应题目的答案标号涂黑。如需改动, 用橡皮擦干净后, 再选涂其他答案标号。回答非选择题时, 将答案写在答题卡上。写在本试卷上无效。
3. 考试结束后, 将本试卷和答题卡一并交回。
4. 本试卷主要考试内容: 高考全部内容。

第 I 卷 (选择题 共 45 分)

一、选择题: 本大题共 15 小题, 每小题 3 分, 共 45 分。在每小题所给的四个选项中, 只有一项是符合题目要求的。

1. 在夏商由盛而衰以至覆灭的过程中, 周人最终将“天”与“民”确定为“政”之本, 用人伦道德重塑“天”“帝”内核, 天神与天命的权威性和可靠性也得以重新确立。周人的这些观念

- A  A. 完善了君权神授理论  B. 破除了对原始神灵的崇拜  
 C. 丰富了先秦人文主义  D. 体现了对理想政治的追求

2. 表 1 所示为部分汉魏乐府民歌的内容。这些内容可以说明汉代

表 1

作品	内容
《陌上桑》	“青丝为笼系, 桂枝为笼钩。”“ <u>细绮(丝)为下裙, 紫绮为上襦。</u> ”“青丝系马尾, 黄金络马头。”
《羽林郎》	“就我求清酒, 丝绳提玉壶。”“ <u>贻我青铜镜, 结我红罗裾。</u> ”
《孔雀东南飞》	“十三能织素, 十四学裁衣。”“ <u>妾有绣腰褙, 葳蕤自生光。</u> ”

- D  A. 丝质衣物较为常见  B. 手工制品技艺精湛  
 C. 丝帛贸易日益繁荣  D. 家庭分工较为明确
- ③ 《魏书·食货志》记载: “旧制, 民间所织绢、布, 不依尺度。”太和十九年(495 年), 孝文帝诏令: “改长尺大斗, 依《周礼》制度, 班之天下。”改革后长度单位有端、匹、丈、尺、寸; 重量单位有石、斤、两; 容量单位有斗、斛、升。这一改革
- D  A. 有利于经济生活的开展  B. 开创了度量衡统一局面  
 C. 推动了经济重心的南移  D. 制定了明确的赋役标准

4. 有学者指出,宋代造物设计更加强调器物作为日常生活用品的理性美,且更加讲究器物造型上的简洁美,因此宋人所设计制造的器物不会出现大面积装饰,特别是在家具设计上多流行单色漆的运用。由此可知,宋代造物设计

- B  A. 体现了器物形态的变化  B. 蕴含了理学价值的追求  
 C. 推动了务实精神的出现  D. 丰富了日常家具的风格

5. 表 2 所示为明代的货币制度和货币币材变化。这一变化

表 2

D

时间	年号	主币	辅币	货币制度	货币币材
1368~1436 年	明前朝	大明宝钞	铜钱	钱钞兼行	纸币
1436 年	正统元年	白银 大明宝钞	铜钱	银钱钞兼行	铜钱
1525 年	嘉靖四年	白银	铜钱	银钱兼行	白银
1581 年	万历九年	白银	铜钱	银钱兼行	白银

- A. 结束了货币混乱的局面  B. 加重了百姓的赋役负担  
 C. 营造了宽松的商业环境  D. 推动了商品经济的发展
6. 乾嘉时期,《墨子》《老子》等著作成为“要道”,“羽翼六经”的流行。道光与同治年间,社会上出现了“通子致用”的言论,甚至有人提出“西学源于诸子说”。这一变化反映了当时

- C  A. 政府文化政策走向松弛  B. 国人对西学认识的深化  
 C. 传统思想观念发生变动  D. 科举改革影响内容选择


7. 1919 年 8 月,毛泽东在一篇文章中说道:“辛亥革命让我们知道圣文神武的皇帝,也是可以倒下的,大逆不道的民主,也是可以建设的,我们有话要说,有事要做,是无论何时可以说可以做的。”该文所描述的现象表明辛亥革命

- A. 推翻了封建专制制度  B. 推动了民主思想的萌发  
 C. 揭开了宪政民主序幕  D. 增强了民众的政治意识

8. 1946 年 5 月 4 日,中共中央发出《关于土地问题的指示》,肯定农民群众在反奸、清算、减息、减租等斗争中已经使用的集中从地主手中获得土地的方式,且要求绝不可侵犯中农利益和一般不变动富农的土地。这一指示

- C  A. 适应了民族战争的需要  
 B. 贯彻了新民主主义原则  
 C. 阐述了土地革命的思想  
 D. 具有社会主义革命倾向

9. 1993 年,广电部将国产影片由中影公司统购统销改为自主发行;1997 年,广电部又发布《关于实行〈故事影片单片摄制许可证〉的通知》,放宽故事片单片拍摄资格限制。这些措施

- A. 适应了市场化改革的需要  
B. 放宽了影片放映资格的限制  
C. 完成了电影商业化的转型  
D. 丰富了影视艺术创作的题材
10. 罗马共和国晚期,罗马大法官在司法的实践中针对新产生的各种法律关系,发布各项告示,补充、矫正旧司法的程序、方法,致力于调整罗马人与外邦人以及广大被征服地区居民的关系。罗马大法官的做法
- A. 实现了新旧司法平稳过渡  
B. 为万民法的出现奠定基础  
C. 缩小了公民法的适用范围  
D. 调整了罗马人之间的关系
11. 马丁·路德认为:“基督教的首领是基督而不是教皇,教皇仅仅是罗马的主教和牧师。”加尔文也说:“我们所谓预定,是指上帝以其永恒旨意,也就是上帝自己决定了世界上每个人的成就。”两人的主张旨在
- A. 动摇上帝在人们心中的地位  
B. 将人们从宗教神学中解放出来  
C. 提倡追求现实社会中的幸福  
D. 以上帝的权威否定教皇的权威
12. 法国 1875 年宪法一方面肯定了共和政体,把“共和国”一词写入宪法,另一方面又赋予总统过大的权力,参议院由间接选举产生,并有 75 名终身议员。它没有规定司法制度,对公民的权利更是只字不提。据此可知,该宪法
- A. 确立了三权分立的体制  
B. 使议会成为国家权力中心  
C. 是政治势力妥协的产物  
D. 加剧了各派别之间的矛盾
13. 图 1 是一幅创作于 1942 年的漫画《“东线”牙痛》,牙痛让希特勒痛苦难当,他手中举的是一张俄文的战争公报。希特勒的牙痛源于
- A. 二战走向了战略反攻阶段  
B. 德国的军事进攻态势受阻  
C. 苏联夺取了战争的主动权  
D. 反法西斯同盟力量的增强
- 
- 图 1
14. 1973 年,勃列日涅夫访问美国,这是 1972 年尼克松访问苏联后勃列日涅夫首次访问美国。在尼克松为他举办的欢迎仪式结束后,两人再次在白宫阳台上亲切交谈,这就是著名的“阳台对话”。勃列日涅夫此行的历史背景是

【2021 年泰安市高北全真模拟试题历史 第 3 页(共 6 页)】

· 21-03-322C ·

7. A. 苏联希望与美国共同主宰世界  
 B. 美国扭转了争霸劣势的局面  
 C. 苏联成为匹敌美国的超级大国  
 D. 苏联为改革营造和平的环境

5. 图2所示为21世纪以来世界不同经济体的经济增速。据此可知,当今世界

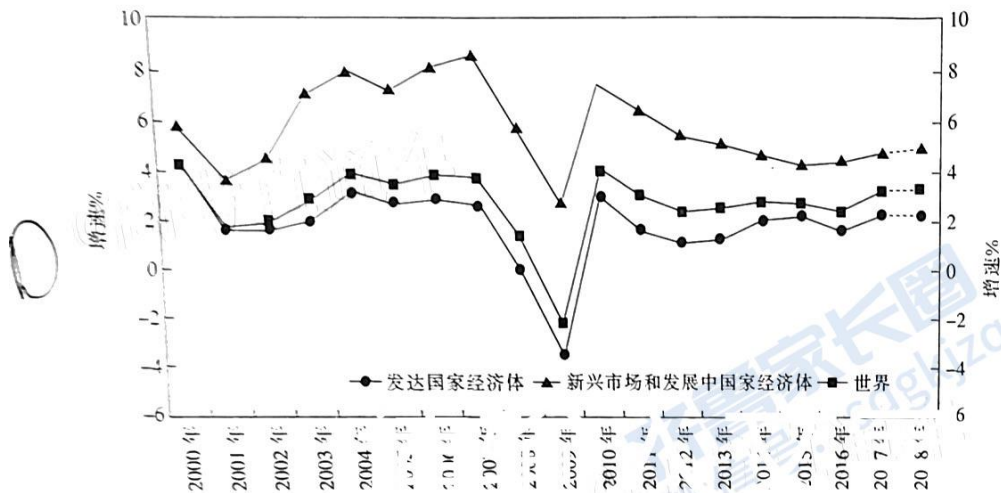


图2

- A. 新兴经济体成为世界经济发展主动力  
 B. 新兴市场国家主导着国际经济格局  
 C. 发达国家丧失了经济发展的优势地位  
 D. 发展中国家经济体制转型收效明显

## 第II卷 (非选择题 共55分)

二、非选择题:本大题共4小题,共55分。

16. (16分)阅读材料,回答问题。

材料一

清顺治十六年(1659年),贵州巡抚赵廷臣升任云贵总督,开云贵督府设置之端,拉开全面治理云南的帷幕。顺治十七年(1660年),清军占领昆明,平定南明政权;康熙六年(1667年),以“教化、王弄、安南三长官司地为开化府”,并下设永平、东安等八里。康熙二十年(1681年),平定三藩之乱,重置绿营兵,形成3标、7镇、6协、7营的军事建制;康熙二十六年(1687年),云南总督、巡抚同驻云南府城,确立了云南的督、抚同城体制。雍正四年(1726年),鄂尔泰作为云贵总督办理边界事务并建关立界;中法战争后,清政府派内阁学士周德润为勘界大臣前往云南,签订中法《续议界务专条》,收回部分失地。

——摘编自聂迅《清代滇东南边疆民族地区国家治理的区域演进与历史进程研究》

材料二

1952年9月,云南省委边疆工作委员会做出了《关于党对边疆民族聚居区统一领导的决定》,从1953年中期开始,组织召开各级人民代表大会,成立各民族地方人民政府。20世纪50年代初期,昆明军区3.14万名官兵,响应党的号召,参与“屯垦戍边”战略,1952年,中共云南省委组织3000多人的工作队深入边疆民族地区,积极与各阶层人士联系,开展“做好事,交朋友”活动。十一届三中全会以后,国家批准云南畹町、瑞丽等作为首批边境开放城市,云南边境地区开启了沿边开放的新时期。1991年,瑞丽市边境贸易额达7.5亿元,货物吞吐量超过80万吨,瑞丽成为当时中国最大的边境贸易口岸。

——摘编自李邦伟《建国以来我国边疆治理模式的变迁及重构研究》

(1)根据材料一并结合所学知识,概括清代治理云南边疆地区的措施及其作用。(10分)

(2)根据材料二并结合所学知识,分析新中国成立后云南边疆治理的特点。(6分)

17. (15分)阅读材料,回答问题。

材料一

梁启超从1895年创办《中外纪闻》到1920年从欧洲回国从事新闻事业长达二十五年之久,主编报刊十种以上,被推为“舆论界之骄子”。戊戌变法时期,梁启超在报刊进行政治宣传的过程中,初步形成了自己的新闻思想,他深刻认识到报刊在文明中的作用,认为报刊可以“去塞求通”,推动“国魂”之觉醒。戊戌变法失败至1912年年初,梁启超东游日本,接受资产阶级新闻理论,认为报馆是与“政府立于平等之地位者”,其新闻思想具有浓厚的自由主义色彩。民国建立后,梁启超表示接受共和政体,不仅盛赞报纸宣传在政治变革中的丰功伟绩,还感慨“吾侪从事报业者,其第一难关,则在经济之不易独立”。

——摘编自柴志芳等《试析梁启超新闻思想的产生、转变和发展》

材料二

胡适从15岁参与《竞业旬报》编辑工作,创办和参与编辑的报刊有七种之多,还坚持“政治为体,新闻为用”的政治新闻观。早在1908年,胡适就在《竞业旬报》中高呼“我们的祖国万岁”,以报刊为平台,宣传其对日政策的主张,发出追求民主、自由的呐喊。胡适不仅及早地接受了国内新闻思想的精华,还吸纳西方资本主义新闻理论,追求新闻自由,希望通过报刊活动来宣传科学知识,树立国民自强自立的精神态度,从根本上对国民素质进行提高。胡适积极主张“文艺救国”,抨击北洋军阀的新闻制度,认为“办报只要采取锲而不舍的精神,用公平的态度去批评社会、教育、文化、政治”,终是有社会价值的。

——摘编自王博《简论胡适新闻思想》

(1)根据材料一并结合所学知识,概括梁启超新闻思想的主张。(6分)

(2)根据材料一、二并结合所学知识,指出胡适与梁启超新闻思想的相同特点。(5分)

(3)根据材料并结合所学知识,简述你对梁启超与胡适新闻思想的认识。(4分)

【2021年泰安市高考全真模拟试题历史 第5页(共6页)】

· 21-03-322C ·

18. (12分) 阅读材料, 回答问题。  
材料

表3 2016年几个经济合作区块与驱动中心概况

区块名称	驱动中心	国家和地区数量	GDP (万亿美元)	进出口贸易额 (万亿美元)	进出口额占 全球份额(%)
“一带一路”沿线国家	中国	65	23.2	11.04	34.31
区域全面经济伙伴关系协定	东盟	16	23.8	9.14	28.4
欧亚经济联盟	俄罗斯	6	1.50	0.6	1.86
欧洲	欧盟	44	19.07	11.97	37.2
美洲自由贸易区	美国	34	25.2	6.37	19.8
全面与进步跨太平洋伙伴关系协定	日本	11	10.15	4.81	14.94

——据《百年大变局: 国际经济格局新变化》整理

请就材料整体或其中任意一点拟定一问题, 并结合所学知识予以阐述。(要求: 论题明确, 持论有据, 论证充分, 表达清晰。)

19. (12分) 阅读材料, 回答问题。

亲国王的阵营(信奉国教)	反国王的阵营(不信奉国教)
贵族	贵族
商人	商人
乡绅	乡绅
农民	农民

图3 英国资产阶级革命时的两大阵营组成

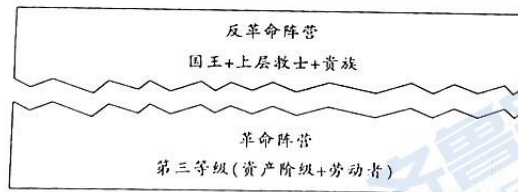


图4 法国大革命爆发时的两大阵营组成

——摘编自钱乘旦《西方那一块土》

解读材料信息, 提取英法资产阶级革命的两处不同, 并予以阐述。

2021 年泰安市高考历史模拟试题

## 历史参考答案

1. C 2. A 3. A 4. B 5. D 6. C 7. D 8. B 9. A 10. B 11. D 12. C 13. B 14. C 15. A

16. (1)措施:进行军事平叛,稳定边疆局势;设置各抚机构,规划行政建制;构筑军事体系,明确边界范围;签订专门条约,收回部分失地。(6分,答出三点即可)

作用:稳定了云南边疆局势,促进了经济文化的交流与发展;巩固了统一的多民族国家;规范了边疆治理模式,填补了边境管理的制度空缺;为后世边疆管理奠定了基础。(4分,任答两点即可)

(2)特点:突出地方各族人民的政治地位;政治建设与经济开发相结合;坚持党的统一领导,注重群众参与;治理模式与时俱进,正确科学;充分发挥地方优势。(6分,任答三点即可)

17. (1)主张:发挥报刊的政治宣传功能;肯定报馆独立地位和新闻自由精神;经济发展促进新闻事业的发展。(6分)

(2)相同特点:具有爱国热情,深受西方影响;主张新闻自由;重视社会价值。(5分,任答三点即可)

(3)认识:他们的新闻思想产生于近代中国民族危机的历史环境中,对近代中国新闻制度的转型和民主、自由思潮的传播产生了深刻影响;丰富了新闻的社会功能和价值体系,具有强烈的爱国主义情怀。(4分,言之有理皆可得分)

18. 示例一:

论题:经济区域集团化推动经济全球化不断发展。(2分)

阐述:冷战结束后,西方发达国家既想摆脱经济增长低速、危机不断的困扰,又欲扩大各自的经济势力范围,以争夺世界市场;发展中国家要求更快的经济发展速度,以缩小同发达国家的差距。总之,二战后两个平行市场的瓦解,市场经济与国家调节相结合的模式,上述两大国家所共同接受,集团化和全球化的经济前提才真正具备。1989年成立的亚太经合组织,尽管其内部的一体化水平较低,经济差异大,政治关系复杂,但对外却具有鲜明的非排他性,通过区域一体化,使得成员国与区域外国家间经济联系。应该说,亚太经合组织的这个目标符合全球化发展的目标,目前确立这种目标,区域性集团太少。(9分)

综上所述,区域集团化和经济全球化共同推动世界经济不断发展。(1分)

示例二:

论题:区域经济一体化对国际贸易发展具有积极影响。(2分)

阐述:欧盟、美洲自由贸易区、亚太经合组织这三大经济集团的形成和发展,使国际贸易逐渐呈现出新的格局。各国要想在新形势下发展经济,必须以自身所处区域一体化的发展为依托,进而求得共同发展。这样的格局也将要求各国更加注重国内经济发展,只有自身经济发展良好,才能更好地融入新的国际贸易格局当中。自由市场建立之后,必将推动和加剧区域经济一体化组织之外的国际垄断资本在这一市场的竞争,比如跨国投资的兴起和跨国公司的大量产生。而跨国投资的高速增长,不仅推动了不同国家间资本的渗透和交融,还使得区域经济一体化组织内部优化资源配置,使经济全球化发展到新阶段。(9分)

综上所述,区域集团化有利于域内各国经济的发展。(1分)

(“示例”仅作参考,不作为评卷唯一标准)

19. 不同 1:英法资产阶级革命的激烈程度不同。(2分)

论述:图 3 中英国资产阶级革命以是否信仰国教为标准纵向地把社会分开,但从社会成分来看,两大阵营的组成人员没有区别,都有贵族、商人、乡绅、农民。因此,无论哪一阵营胜利,社会结构都不会发生太大变化,所以我们说英国革命不是一次彻底的阶级革命,带有极强的妥协色彩。而图 4 中法国是横向地把社会切割开来,因此如果国王和贵族这个阵营胜利,那么原有的社会结构会被保留,但是如果是第三等级取得胜利,那么整个社会就会被颠覆,将出现一个全新的社会,这意味着法国革命是一场社会阶层的殊死搏斗。(4分)

不同 2:英法资产阶级革命的领导阶级存在差异。(2分)

阐述:图 3 中英国资产阶级革命纵向地把社会分开,但从社会成分来看,两大阵营的组成人员没有区别,都有贵族、商人、乡绅、农民,因此从当时的经济力量而言,英国贵族和商人经济力量更为强大,因此英国新贵族和资产阶级成为革命的领导阶级;而图 4 中法国革命是两大阵营的殊死搏斗,因此第三等级中的资产阶级成为革命的领导阶级。(4分)

## 关于我们

齐鲁家长圈系业内权威、行业领先的自主选拔在线旗下子平台，集聚高考领域权威专家，运营团队均有多年高考特招研究经验，熟知山东新高考及特招政策，专为山东学子服务！聚焦山东新高考，提供新高考资讯、新高考政策解读、志愿填报、综合评价、强基计划、专项计划、双高艺体、选科、生涯规划等政策资讯服务，致力于做您的山东高考百科全书。

第一时间获取山东高考升学资讯，关注齐鲁家长圈微信号：sdgkjzq。



微信搜一搜

齐鲁家长圈

打开“微信 / 发现 / 搜一搜”搜索