

24届广东省普通高中学科综合素养评价
9月南粤名校联考

历史

本试卷共8页，20小题，满分100分。考试用时75分钟

- 注意事项：**1. 答卷前，考生务必用黑色笔迹的钢笔或签字笔将自己的姓名和考生号、考场号、座位号填写在答题卡上。将条形码横贴在答题卡指定位置。
2. 选择题每小题选出答案后，用2B铅笔把答题卡上对应题目的答案信息点涂黑；如需改动，用橡皮擦干净后，再选涂其他答案，答案不能答在试卷上。
3. 非选择题必须用黑色笔迹的钢笔或签字笔作答，答案必须写在答题卡各题目指定区域内相应位置上；如需改动，先划掉原来的答案，然后再写上新的答案；不准使用铅笔和涂改液。不按以上要求作答的答案无效。
4. 考生必须保持答题卡的整洁，考试结束后，将试题与答题卡一并交回。

一、选择题：本大题共16小题，每小题3分，共48分。在每小题给出的四个选项中，只有一项是符合题目要求的。

1. 《礼记·表记》“殷人尊神，率民以事神，先鬼而后礼”；《论语·雍也》“周人尊礼尚施，事鬼敬神而远之，可谓知（智）矣”。这反映了商周时期（ ）
- A. 王权与神权相结合 B. 天子权威不断强化
C. 对天命神意的批判 D. 人文意识逐渐增强
2. 近期考古学者在昆明发掘出主体为两汉时期的文化堆积层，其中发现封泥共500余枚，有官印封泥和私印封泥，包括“益州太守章”及益州郡下辖24个县中18个县县长官封泥等。这表明汉代（ ）
- A. 中央对云南行使治权 B. 西南地区经济得到开发
C. 民族交融进一步加强 D. 官僚行政制度体系完善
3. 钱穆在《国史大纲》中说：“南北朝本是一个病的时代。此所谓病，乃指文化病。若论文化病，北朝受病较南朝为浅，因此新生的希望亦在北朝，不在南朝”，其意在说明（ ）
- A. 南朝门阀士族制度是历史倒退 B. 北魏改革促进“以夷变夏”
C. 北朝政治改革为隋唐全盛奠基 D. 南朝玄学不利于文化发展
4. 北宋吕大钧《吕氏乡约》：“一、德业相劝；二、过失相规；三、礼俗相交；四、患难相恤”。这些体现了（ ）
- A. 践行儒学经世致用的思想
B. 儒士具有强烈社会责任感
C. 确立理学已成为主流思想
D. 北宋儒学呈现基层化趋势

5. 明代徐光启所著《农政全书》，全书共六十卷，分十二门：农本、田制、农事、水利、农器、树艺、蚕桑、蚕桑广类、种植、收养、制造、荒政。这反映了（ ）
- A. 中西农业思想的交汇 B. 以农治国的农业生态观
C. 农本商末的经济思想 D. 农工商皆本的撰写宗旨
6. 下表是学者对维新时期的重要报刊1-10期进行的统计，由此可知，这一时期（ ）

类别	占比
政治性文章	29.7%
政治性文章	29.6%
政治性文章	34%
政治性文章	41%
政治性文章	58%

- A. 西方文化在中国广泛传播 B. 政治转型成为国人共识
C. 救亡图存成为时代最强音 D. 维新变法思想深入人心
7. 在世界文化遗产、著名道教圣地武当山的太子坡，这个宛若世外桃源的地方，曾经是红三军8师驻扎的根据地。当地一个叫“福”字照壁的墙上，如今依然清楚地写有：“红军是工农贫民的军队”、“实行土地革命”两幅红军标语。这可以用来说明（ ）



- A. 北伐战争推动农民革命热情 B. 中共建立农村革命根据地的探索
C. 力争建立抗日民族统一战线 D. 中共注意吸收传统文化的精髓
8. 1940年10月，中共中央宣传作出《关于各根据地内党支部教育的指示》，要求“普通党员的政治教育，一般的应当包含：怎样做共产党员，支部本身的工作，统一战线政策，乡村工作，争取敌伪军工作，临时的策略教育等。”这表明，中国共产党在抗日根据地的党性教育（ ）
- A. 注意结合敌后抗战的实际需要 B. 侧重提高普通党员的军事水平
C. 强调各党支部的战斗堡垒作用 D. 强化贯彻党对军队的绝对领导
9. 第三届全国人民代表大会第一次会议于1964年12月21日至1965年1月4日在北京举行，国务院总理周恩来作《政府工作报告》，报告首次提出“在不太长的历史时期内，把我国建设成为一个具有现代农业、现代工业、现代国防和现代科学技术（即：四个现代化）的社会主义强国”。这一报告（ ）

- A. 有利于国民经济的恢复和调整
- B. 凝聚国人共同奋斗的精神力量
- C. 改变了我国工农业落后的局面
- D. 严重脱离国民经济建设的实际

10. 1995年7-8月江苏昆山、浙江乐清部分农民调查统计表(单位:%),反映了()
(调查对象中60%为18-35岁的青壮年)

选择意向明确的统计结果					
你是否同意以下说法	很赞同	比较赞同	说不准	不太赞同	很不赞同
农民的孩子应当以种田为本	2.9	4.3	8.2	23.0	61.1
父母在, 不远游	7.2	15.1	21.8	34.9	20.8
改革有风险, 但比大锅饭强	45.4	29.2	17.5	5.0	2.6
富贵贫贱是命定	6.8	11.2	15.4	25.1	41.2
重新选择职业意向明确表					
	经商	乡镇企业	上大学	大城市打工	继续种田
如果有机会重新选择, 你将选择	35.2	14.1	31.8	2.7	8.5

- A. 青壮年思想具有前瞻性
- B. 市场经济拓宽就业渠道
- C. 江浙地区对外开放深入
- D. 改革开放促进思想解放

11. 查士丁尼一世编订了《罗马民法大全》, 该法提出“没有任何事物比皇帝陛下更高贵和神圣”, 明确了皇帝拥有的包括国家主权、立法权、行政权、司法权等在内的各项至高权力, 承认教会法庭的地位和承认奴隶制的存在。这表明, 罗马法()

- A. 具有皇权至上的特征
- B. 近代西方国家立法蓝本
- C. 确立了三权分立原则
- D. 是维护阶级统治的工具

12. 特许状是指中世纪欧洲国王赐予领主领地免受管辖的特恩权时所颁发的一种证明文书。12—13世纪, 英国国王慷慨颁授城市特许状甚至以各种手段吸引手工业者和商人到自己的领地建立城市。据此可知, 特许状()

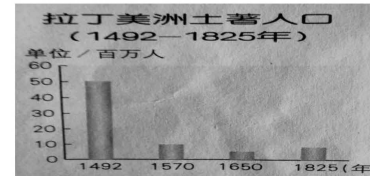
- A. 反映了资本主义萌芽
- B. 证明了王权推动城市兴起
- C. 推动了封建庄园经济瓦解
- D. 促使了英国民族国家形成

13. 启蒙运动时期, “中国热”一度在欧洲流行。不少思想家在著述中论及中国文化, 伏尔泰还根据中国历史故事, 编写了剧本《中国孤儿》。这反映出当时()

- A. 启蒙运动借助中国传统文化提出反封建的因素


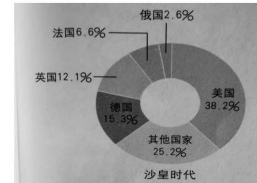
- B. 宣传中国传统思想文化是启蒙运动的重要内容
- C. 中国传统思想文化的停滞引起西方哲人的反思
- D. 中国传统思想文化推动西方启蒙运动蓬勃开展

14. 下表是拉丁美洲土著人口(1492-1825)统计情况, 这主要说明()



- A. 新航路开辟推动拉美人口流动
- B. 三角贸易是美洲人口的灾难
- C. 殖民扩张是美洲人口减少的根源
- D. 工业革命促使美洲人口迁移

15. 下图是沙皇时代和苏联时期工业总产值在世界工业中的比例, 这一变化反映了()



- A. 社会变革促进了经济发展
- B. 经济危机造成的破坏较小
- C. 一战使西方受到重大挫折
- D. 苏联社会主义探索的成效

16. 第16届不结盟运动峰会于2012年8月26日至31日在伊朗首都德黑兰召开, 来自不结盟运动成员国的国家元首、政府首脑、高级代表以及观察员国代表等出席了峰会。上述材料反映的会议的召开()

- A. 推动了世界社会主义革命的进程
- B. 摧毁了西方主导的世界殖民体系
- C. 体现了发展中国家全球治理诉求
- D. 冲击了美苏为首的两极政治格局

二、非选择题(共4大题,共52分。其中17题14分,18题14分,19题12分,20题12分)

17. 阅读材料,回答问题。

材料一

至于永嘉末……兵车勿用,民不外劳,役宽务简,氓庶整息,至余粮栖亩,户不夜扃(jiōng),盖东西之极盛也……地广野丰,民勤本业,一岁或稔(ren),则数郡忘饥。会土带海傍湖,良畴亦数十万顷,膏腴上地,亩直一金,郡(hu)、社之间,不能比也。荆城跨南楚之富,扬州有全吴之沃,鱼盐杞梓之利,充仞八方,丝绵布帛之饶,覆衣天下。 ----《宋书》

材料二

明清时期,在工商业发达地区和交通要冲,兴起了一大批以经济功能为主的中小工商业市镇,尤以江南地区为盛。这些市镇商业繁荣,人口密集,有的多达数万人。

——摘编自范文澜《中国通史》

材料三

这一时期(明清)大为繁荣的小说、戏剧也竞相以普通人丰富多彩的生活以及他们的情感追求作为题材,屠夫、小贩、商人、妓女、牧童、村姑、绿林好汉,以至三教九流进入文学殿堂,成为文学中的主人公,“好货”“好色”成为许多作品的共同主题。

——冯天瑜等著《中华文明史》

(1) 根据材料一并结合所学知识,概括江南经济发展的成就,分析东晋南朝江南开发的历史影响(6分)

(2) 根据材料二并结合所学知识,概括明清商业发展经济有哪些新现象,用唯物史观解释材料三与材料二的关系(8分)

18. 阅读材料,完成下列要求。(14分)

材料一

不列颠人给印度斯坦带来的灾难,与印度斯坦过去所遭受的一切灾难表现出来,毫无疑问在本质上属于另一种,在程度上要深重得多……

的确,英国在印度斯坦造成社会革命完全是受极卑鄙的利益所驱使,而且谋取这些利益的方式也很愚蠢。但是问题不在这里。问题在于,如果亚洲的社会状态没有一个根本的革命,人类能不能实现自己的使命?如果不能,那么,英国不管犯下多少罪行,它造成这个革命毕竟是充当了历史的不自觉的工具。

——摘自马克思《不列颠在印度的统治》,《马克思恩格斯文集》第二卷

材料二

一些西方学者和政治家认为,一些殖民地的独立是宗主国自愿结束殖民统治的结果。例如,英国前首相艾德礼就在一次讲演中宣称:“在世界历史上,有许多大帝国兴起,繁荣一个时期,然后垮掉了。……只有唯一一个帝国,这个帝国在没有外来压力下或没有对统治的负担感到厌倦的情况下,统治民族自愿地放弃了对臣民族的统治,把自由给予了它们。……这个唯一的例子就是大英帝国。”

——摘编自2019年版《中外历史纲要》下册

(1) 根据材料一并结合所学知识,分析英国殖民侵略对印度历史发展的影响。(6分)

(2) 结合材料二和所学知识,探讨二战后殖民体系瓦解的主要原因(8分)

19. 读材料，完成下列要求。(12分)

材料一

罗斯福新政时期，1933年5月美国国会通过了《联邦紧急救济法》，并成立了以霍普金斯为首的“联”得到了救济。在救济困难家庭的同时，还实行了以工代赈计划，成立了公共工程署等机构，其中最宏伟的工程是田纳西流域的水利工程。——百度百科



田纳西水利工程中的水坝

材料二

中华人民共和国成立以后，中国共产党和政府着手大规模治理洞庭湖。20世纪50年代并垸合流、整修堤垸。先后动员民工2100多万人，10年内完成土方5.87亿立方米，形成了湘、资、沅、澧独立入湖洪道，奠定了洞庭湖垸湖基本格局。20世纪60年代兴建电排，治理渍涝。到1969年底，随着各类机排发展，湖区堤垸渍涝状况初步改善。20世纪70年代开挖排水渠，改造低产田，减少了低垸渍灾，扩大了耕地面积，实现了田园化。20世纪80年代起，开始进行洞庭湖综合治理，清理淤积，加高加固大堤，兴建蓄洪安全楼，扩建电排等，水利建设轰轰烈烈。从1986年到1993年，完成国家投资11.6亿元。党的十四大后，党和国家领导人频频视察洞庭湖，为治理洞庭湖指明了方向。

——摘编自聂芳容、罗毅君《洞庭湖治理50年》

(1) 根据材料一并结合所学知识，分析美国田纳西利工程的历史影响(4分)

(2) 根据材料二并结合所学知识，概括新中国洞庭湖等河流治理的特点及意义(8分)

20. 阅读下列材料，完成下列要求(12分)

材料一

1935年部分大事记

1月	中共中央召开遵义会议，确立了以毛泽东为核心的党中央的正确领导。
4月	国民党提出开展“国民经济建设运动”，推动了民族工业较快发展。
5月	日本策动华北事变，中日民族矛盾上升为主要矛盾。
8月	中共中央发表《为抗日救国告全体同胞书》，呼吁停止内战，一致抗日。
10月	红一方面军到达陕北吴起镇，与当地红军会师。
11月	南京国民政府实行币制改革，统一币制。实行初期对社会经济的发展起了一定的积极作用，也提供了抗战所必要的物质基础。
12月	一二九运动，中共领导北平大中学生数千人举行了抗日救国示威游行，掀起全国抗日救国新高潮。 中共中央政治局召开瓦窑堡会议，会议分析了华北事变后国内阶级关系的新变化，制定了抗日民族统一战线的策略方针。

材料二：如果说，我们过去的政府是工人、农民和城市小资产阶级联盟的政府，那末，从现在起，应当改变为除了工人、农民和城市小资产阶级以外，还要加上一切其他阶级中愿意参加民族革命分子。在目前，这个政府的基本任务是反对日本帝国主义吞并中国。

——摘编毛泽东1935年瓦窑堡党的活动分子会议上报告《论反对日本帝国主义的策略》

问题：依据材料并结合所学知识，谈谈你对1935年中国的认识(任意一点或整体)。(12分)(要求：观点明确，史论结合，阐述充分，逻辑清晰。)

关于我们

自主选拔在线是致力于提供新高考生涯规划、强基计划、综合评价、三位一体、学科竞赛等政策资讯的升学服务平台。总部坐落于北京，旗下拥有网站（[网址：
www.zizs.com](http://www.zizs.com)）和微信公众平台等媒体矩阵，用户群体涵盖全国 90% 以上的重点中学师生及家长，在全国新高考、自主选拔领域首屈一指。

如需第一时间获取相关资讯及备考指南，请关注**自主选拔在线**官方微信号：[zizzsw](https://www.zizs.com)。



微信搜一搜

自主选拔在线