

高三文科综合

考生注意：

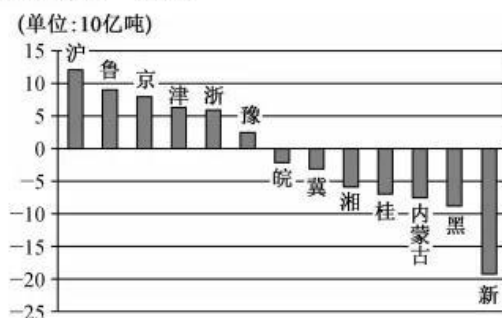
1. 本试卷分选择题和非选择题两部分。满分 300 分，考试时间 150 分钟。
2. 答题前，考生务必用直径 0.5 毫米黑色墨水签字笔将密封线内项目填写清楚。
3. 考生作答时，请将答案答在答题卡上。选择题每小题选出答案后，用 2B 铅笔把答题卡上对应题目的答案标号涂黑；非选择题请用直径 0.5 毫米黑色墨水签字笔在答题卡上各题的答题区域内作答，**超出答题区域书写的答案无效，在试题卷、草稿纸上作答无效。**
4. 本试卷主要命题范围：高考范围。

一、选择题：本题共 35 小题，每小题 4 分，共 140 分。在每小题给出的四个选项中，只有一项是符合题目要求的。

我国以占世界 7% 的土地养活了世界 22% 的人口，取得举世瞩目的成果，但 20 世纪 90 年代开始，我国耕地大幅减少。2008 年 10 月 23 日国务院印发《全国土地利用总体规划纲要（2006～2020 年）》，其核心是对我国的耕地资源实行最严格的保护措施，划定了具有法律效力的耕地红线，确保耕地保有量在 18 亿亩以上，确保基本农田不低于 15.6 亿亩。据此完成 1～3 题。

1. 20 世纪 90 年代开始，我国耕地大幅减少，主要是因为
 - A. 人口快速增长
 - B. 工业化、城市化发展
 - C. 自然灾害频发
 - D. 农业劳动力严重流失
2. 我国划定具有法律效力的耕地红线的主要目的是
 - A. 保障国家粮食安全
 - B. 提高土壤肥力，保证耕地质量
 - C. 促进耕地面积逐年增加
 - D. 退耕还林还草，保护生态环境
3. 我国以占世界 7% 的土地养活世界 22% 的人口，主要得益于
 - A. 耕地面积广大
 - B. 粮食进口量大
 - C. 农业科技进步
 - D. 农业历史悠久

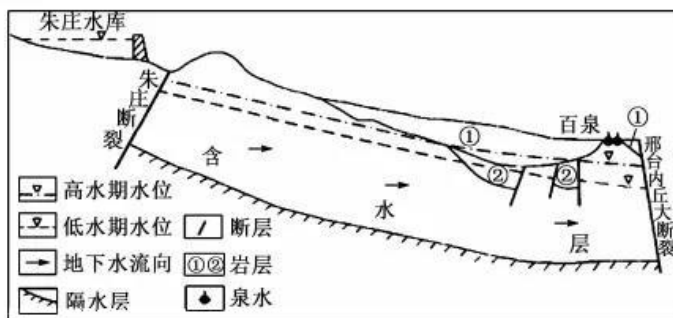
“虚拟水”是指生产商品和服务所需要的水资源数量，是以“无形”的形式寄存在商品中的水。“虚拟水战略”主要是指缺水国家或地区从富水地区购买水密集型农产品，尤其是粮食。下图示意我国部分省区“虚拟水”净输入量统计。据此完成 4～5 题。



【高三 1 月质量检测巩固卷·文综 第 1 页(共 12 页)】

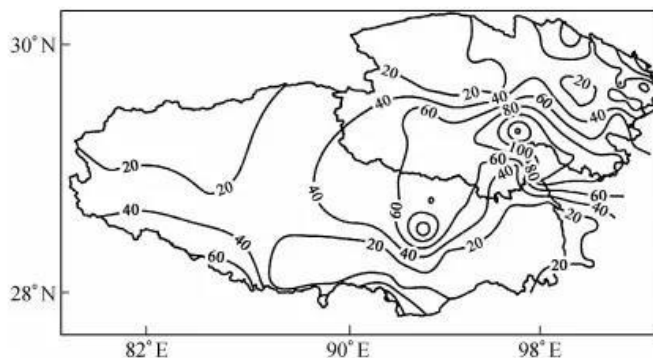
4. 各省区“虚拟水”净输入量存在差异的关键是
- A. 经济发展不平衡
B. 人均可耕地数量不同
C. 城市化水平不等
D. 水资源丰欠程度不一
5. 若新疆“虚拟水”净输入量持续维持在图示状况,对当地产生的主要影响是
- A. 生态环境得到改善
B. 土地荒漠化减轻
C. 冰川面积大量减少
D. 水资源短缺加剧

地下水库是指以地层空隙为储水空间,在人工干预作用下形成的具有一定调蓄能力的水资源开发利用工程,其选址需要考虑地形封闭条件、库容条件、水量交换条件和可利用条件。下图示意河北邢台百泉地下水库。据此完成6~8题。



6. 地下水库适宜选址在
- ①向斜构造带 ②背斜构造带 ③断陷盆地 ④丘内断裂带
- A. ①③
B. ①④
C. ②③
D. ②④
7. 朱庄水库回灌地下水,多选择在
- A. 1月
B. 4月
C. 7月
D. 10月
8. 百泉地下水库的正常使用
- A. 能保障泉水持续喷发
B. 需要修建隔水底板
C. 能解决当地缺水问题
D. 需要修建地下拦水坝

一般采用年积雪日数 60 天作为稳定积雪和不稳定积雪的阈值,下图示意 1971~2016 年青藏高原部分地区平均积雪日数。据此完成9~11题。



9. 图中信息显示,1971~2016 年青藏高原
- A. 大部分地区为稳定积雪
B. 积雪天数东部少,西部多
C. 积雪天数差值可达五个月
D. 高纬度地区积雪日数差异大
10. 与青藏高原年平均积雪日数空间差异关联性最大的是
- A. 地形地势
B. 距海远近
C. 植被状况
D. 人类活动
11. 与二十世纪六七十年代相比,近年青藏高原的年平均积雪日数
- A. 剧烈波动
B. 保持稳定
C. 持续增加
D. 逐渐减少

【高三1月质量检测巩固卷·文综 第2页(共12页)】

12. 平常的米价格一般会在 3 块钱到 5 块钱一斤,但是广西金粟康富硒米的价格会上涨到 6—10 块钱一斤,原因就是这种米奇缺,需要有很好的种植环境,并且需要对土壤进行改良,导致产量相对较少,而且大米里面富含人体所需的硒元素。可见
- ①商品价格通常取决于商品的使用价值 ②供求关系是影响商品价格的重要因素 ③生产条件是衡量商品价值大小的尺度 ④商品价值由社会必要劳动时间决定
- A. ①② B. ①③ C. ②④ D. ③④
13. 2021 年 1 月 4 日,我国发布通知,普惠小微企业贷款延期还本付息政策延期至 2021 年 3 月 31 日。截至 2020 年 8 月末,各商业银行已累计对 157 万家市场主体的贷款本金和 81 万家市场主体的贷款利息实施了延期,共涉及 3.7 万亿元到期贷款本息;2020 年 3 月至 8 月,商业银行累计发放普惠小微信用贷款超过 3 000 万笔,共计 1.89 万亿元,同比多 6 300 亿元。上述银行疫情期间的上述举措
- ①有利于缓解我国小微企业融资难问题,推动我国经济恢复、发展 ②体现了我国商业银行能够为我国经济建设筹集和分配资金 ③体现了我国商业银行向社会吸收资金,把存款业务当作基础业务 ④有利于树立我国商业银行良好的形象,维持我国小微企业的生存与发展
- A. ①② B. ③④ C. ②③ D. ①④
14. 银保监会等六部门发布通知,取消信贷资金管理费用。银行不得收取信贷资金受托支付划拨费。对于小微企业信贷融资,不得在贷款合同中约定提前还款或延迟用款违约金,取消法人账户透支承诺费和信贷资信证明费。实施上述规定有利于
- ①规范金融市场秩序,降低企业融资综合成本 ②更多释放货币供应量,带动社会总需求增长 ③有效规范银行经营行为,提升银行经济效益 ④推进要素市场制度建设,增强市场主体活力
- A. ①② B. ①④ C. ②③ D. ③④
15. 2021 年我国政府工作报告确定,2021 年将小规模纳税人增值税起征点从月销售额 10 万元提高到 15 万元。对小微企业和个体工商户年应纳税所得额不到 100 万元的部分,在现行优惠政策基础上,再减半征收所得税。这一举措有利于
- ①增强市场主体的发展信心和创业活力 ②稳定市场运转环境,扩大企业发展空间 ③实现国民经济各项发展指标快速增长 ④减少财政收入,以更好地实现藏富于民
- A. ①② B. ①③ C. ②④ D. ③④
16. 黑龙江代表团小组审议关于加强和改进社区治理的建议,引起了与会代表的共鸣。有代表表示,社区是基层基础,只有基础坚固,国家大厦才能巩固。疫情发生以来,广大社区工作者坚守在疫情防控第一线,充分发挥了组织群众、宣传群众、凝聚群众、服务群众的重要作用。加强和改进社区治理
- ①有利于社区居民直接参与管理国家事务 ②是我国发展社会主义民主政治的需要 ③可以有效提升社会治理能力现代化水平 ④能进一步扩大基层社区居民的民主权利
- A. ①② B. ①④ C. ②③ D. ③④
17. 2021 年 12 月 14 日,汕头市市长曾风保主持召开座谈会,广泛听取市人大代表、政协委员、民主党派代表及专家学者关于 2022 年《政府工作报告》的意见建议,进一步推动做好政府各项工作。上述座谈会的召开
- ①有利于促进政府科学民主决策 ②是完善行政监督体系的创新之举 ③是我国政党制度独特优势的体现 ④是我国政党协商的制度化程序化安排
- A. ①② B. ①③ C. ②④ D. ③④
18. 2021 年 3 月 8 日,全国人大常委会向十三届全国人大四次会议作《全国人民代表大会常务委员会工作报告》。2020 年,全国人大常委会共收到报送备案的行政法规、地方性法规、自治条例和单行条例、经济特区法规、司法解释、特别行政区法律 1 310 件,逐件进行主动审查。对 5 146 件公民、组织提出的审查建议,也在逐一审查后,向审查建议人作了反馈。上述备案审查

【高三 1 月质量检测巩固卷·文综 第 3 页(共 12 页)】

- ①有利于保障国家令行禁止和宪法法律有效实施 ②是我国人大立法权不断下移的有益探索 ③对保护公民和组织合法权益发挥重要作用 ④为公民参与民主管理提供制度和法律保障
- A. ①② B. ①③ C. ②④ D. ③④
19. 2020年12月17日,联合国教科文组织保护非物质文化遗产政府间委员会将我国申报的“太极拳”项目列入联合国教科文组织人类非物质文化遗产代表作名录。太极拳自17世纪中叶形成以来,世代传承,习练者遍布全国各地,并在海外有着广泛传播和传承。太极拳申遗成功,有助于
- ①提高中华文化的影响力,推动世界对中华文化的认同 ②展示中华文化的源远流长,提高中华文化的包容性 ③进一步展现文化的多样性,促进世界文化的繁荣 ④增进世界对中华文化的理解,推动中外文化交流互鉴
- A. ①② B. ①④ C. ②③ D. ③④
20. 北京顺义区红铜营村完善村规民约,对村级环境维护、文化建设等内容进行了规范和约定,包括加大对文体设施建设、生态投入和支持;打造“山西洪洞人在北京的家”特色民俗项目,修缮古井和闲置房屋,建设民俗村,使之成为红铜“根”文化的特色乡村。这给我们的启示是
- ①发展公共文化基础设施,保障村民基本文化权益 ②借助多样化平台建设,提升中华文化国际影响力 ③推动中华优秀传统文化创造性转化、创新性发展 ④提高村民的科学素养,为乡村发展提供智力支持
- A. ①② B. ①③ C. ②④ D. ③④
21. 韩国卫生部门发布了针对新冠病毒进行的抗体检测调查,通过对3055个样本的检测初步结果显示,只有1人产生了中和抗体。由此可见,被西方国家刻意吹嘘的所谓“群体免疫”行不通,因为专家普遍认为,要有60%以上人口对病毒免疫才能实现“群体免疫”。材料告诉我们
- ①人们对事物的认识受到多种因素的限制 ②人类的实践活动具有社会历史性的特点 ③实践活动是检验认识真理性的唯一标准 ④真理与谬误往往是相互交融、相伴而行
- A. ①② B. ①③ C. ②④ D. ③④
22. 为适应产业升级趋势和绿色消费新需要,国务院常务会议通过了《新能源汽车产业发展规划》。《规划》指出,要加大关键技术攻关,鼓励车用操作系统、动力电池开发创新;加快形成快充为主的高速公路和城乡公共充电网络;加大对公共服务领域使用新能源汽车的政策支持。这告诉我们
- ①新能源汽车产业的发展与国家政策等因素之间存在广泛的联系 ②要善于把握新能源汽车产业发展的各种有利条件,促使其成长 ③可以根据自己的需要,改变事物的状态,建立起新的固有联系 ④新能源汽车产业的发展将会促进政策的出台和关键技术的攻关
- A. ①② B. ①③ C. ②④ D. ③④
23. 从目前来看,“外防输入、内防扩散”风险依然存在,特别是国际新冠疫情依然严峻,部分地区输入性新增确诊病例风险较大。新冠肺炎疫情发生以来,某地结合国内外疫情形势,坚持综合施策,科学救治,疫情防控工作取得了较好的成效。由此可见
- ①社会存在决定社会意识 ②社会意识具有相对独立性 ③辩证否定是破解疫情的密码 ④创新是打赢疫情防控战争的动力
- A. ①② B. ①④ C. ②③ D. ③④
24. “国人”一词起源于西周时期,指的是居住在大邑以内的人。“国人”有参与政治的传统,或决定国君的废立,或过问外交和战,或参议国都迁徙。这反映出西周时期
- A. 君主的绝对权威尚未建立 B. 国人参政左右了国家决策
C. 原始民主制约社会的发展 D. 分封等级制度遭到了破坏
25. 汉初赋税主要有田租、算赋、力役及工商杂税等。汉文帝即位后多次“除田租税之半”,算赋也由每人每年120钱减至40钱,徭役减至每3年服役一次。这一举措在当时

- A. 贯彻了重农抑商的政策
B. 有利于汉初经济的复苏
C. 促进了农耕经济的转型
D. 迎合了富国强兵的诉求

26. 下面是不同史籍对唐代某时期社会现象的记述。据此可知,当时

记 述	出 处
“江东诸州,业在田亩,每岁善熟,则旁资致道”。	叔德撰《论江淮水灾上疏》
杜牧称浙东一带“机杼耕稼,提封九州,其间董税鱼盐,衣食丰天下”。	杜牧《崔公行状》
(唐)僖宗诏称“湖南、江西管内诸郡,出米至多”。	《南郊赦文》

- A. 经济呈现南北平衡发展的局面
B. 江南地区农业生产技术领先北方
C. 长江流域的经济地位日益重要
D. 江南地区人们具有浓厚经商意识
27. 王阳明提出“良知只在声色货利上用功,酌量利害之多寡,审察人情之顺逆,务求公私两便,经久可行之策”的思想,认为“致良知”与“声色货利”等人的日常生活密不可分,主张考虑利害、人情,而务求公私两便。由此可见,王阳明学说
- A. 已包含有“经世致用”的思想
B. 肯定了儒家学说的功利和事功
C. 强调修身的关键是“致良知”
D. 主张为人处世要学会趋利避害
28. 1895~1898年,各省由商股开办的资本在万元以上的厂矿企业共80家。商办厂矿的总数在甲午战争后四年间,比战前增加了一半以上,尤以纺织业发展最为迅速。与当时这一现象的出现密切相关的是
- A. 清政府对洋务企业的扶植
B. 维新变法鼓励发展民族工矿业
C. 列强对华资本输出加剧
D. 清政府放宽对民间办厂的限制
29. 某学者指出,五四运动在思想上“还没有能够科学地分析、批判以前历次革命运动失败的经验教训,还没有能够从批判旧世界中找出新世界”,但在“实际行动上,已经对于中国近代革命历史做了惩前毖后与承先启后的表示。”由此可知,该学者认为五四运动是
- A. 近代空前的人民思想解放运动
B. 彻底的反帝反封建爱国运动
C. 无产阶级登上历史舞台的起点
D. 对新文化运动的继承和发展
30. 毛泽东在《论持久战》中认为抗战作战形式应该是“基本的游击战,但不放松有利条件下的运动战”,并多次强调“战争的伟力之最深厚的根源,存在于民众之中”。正是基于这样的认识,中共
- A. 实行群众性的人民战争路线
B. 建立抗日民族统一战线
C. 团结海外力量以结成反日同盟
D. 组织民兵以遏制日军攻势
31. 2018年11月,“伟大的变革——庆祝改革开放40周年大型展览”在国家博物馆开幕。下面是其中的一件重要展品——邓小平同志给深圳、珠海、厦门经济特区的题词。由此可知,这些题词



- A. 正式开启了中国改革开放的历史新时期
B. 推动城市经济体制改革在全国全面展开
C. 更加坚定了办好经济特区的信心和决心
D. 使对外开放进一步扩大到沿海港口城市
32. 1459年,德国(神圣罗马帝国)皇帝马克西尼安一世发出通告,“宣布帝国法院的审判以共同的法律为基础,由十六名法官共同执行”。法官中至少有八名是法律博士,他们必须精通罗马法;另外八名,则是从罗马法赋予其特权而对罗马法深具好感的贵族阶级中选任。材料表明

【高三1月质量检测巩固卷·文综 第5页(共12页)】

- A. 德国是古罗马帝国的继承者
B. 罗马法具有超越时空的价值
C. 罗马法奠定了近代立法基础
D. 罗马法体系完备且内容翔实
33. 罗素认为,路德的宗教改革在北欧的大部分地区,既受统治者的欢迎,又受人民的欢迎。这是因为君主们认识到,如果他们自己领土上的教会完全变成本民族的,他们便可以控制教会。这样,他们在本土的统治就要比以往和教皇分享统治权的时候更加强而有力。材料体现了
- A. 宗教改革运动的必然性
B. 资产阶级强烈的革命性
C. 宗教改革提高了欧洲世俗君主的权力
D. 宗教改革推动欧洲各国民族意识高涨
34. 18~19 世纪的普鲁士,海外贸易公司是独立的国家金融机构,以向政府提供短期和长期贷款以及从事工商业为主要职能。1848 年财政部直接把海外贸易公司置于其控制下,并出卖了公司的部分工厂和矿山。这说明该时期的普鲁士
- A. 两次工业革命正在交叉进行中
B. 重工业和交通运输业发展异常迅速
C. 国营资本和私营资本竞争激烈
D. 国家资本主义是工业化的重要动力
35. 下面是 2018~2019 年美国 and 俄罗斯分别采取的关于核方面的措施。这体现了

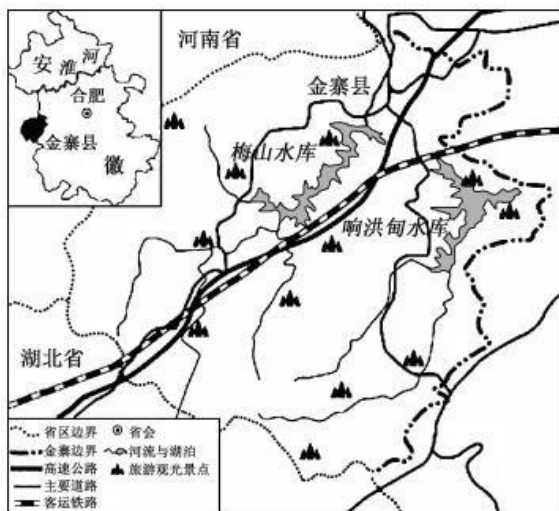
时间	美国	俄罗斯
2018 年	美国发布《核态势报告》,突出强调来自中俄两国的核威胁。	俄罗斯“三位一体”核武器现代化水平达到 82%。
2019 年	美国正式宣布暂停履行《中导条约》,公布新版《导弹防御评估报告》,明确提出进一步发展针对中俄高超音速武器的防御能力。	俄罗斯紧随美国宣布暂停履行《中导条约》,俄外长表示,若美国部署条约所禁导弹,俄罗斯将以“对等措施”回应。

- A. 大国间核威慑与战略平衡问题的博弈
B. 美俄在军控问题上分歧的出现
C. 俄罗斯对外战略开始追随美国的步伐
D. 美国谋求建立绝对核力量优势
- 二、非选择题:共 160 分。第 36~42 题为必考题,每个试题考生都必须作答。第 43~47 题为选考题,考生根据要求作答。

(一)必考题:共 135 分。

36. 阅读图文材料,完成下列要求。(24 分)

金寨县地处安徽省西部,大别山北麓,与鄂、豫两省相邻,境内有中山、低山、丘陵、盆地和河谷平原多种地貌,有乔灌木 700 余种,是安徽省面积最大、人口最多的山区县和旅游资源大县。境内地表水资源丰富,河流注入淮河,水量季节变化大,梅山水库和响洪甸水库是境内两大综合型水利水电工程。下图示意金寨县主要地理事物分布。

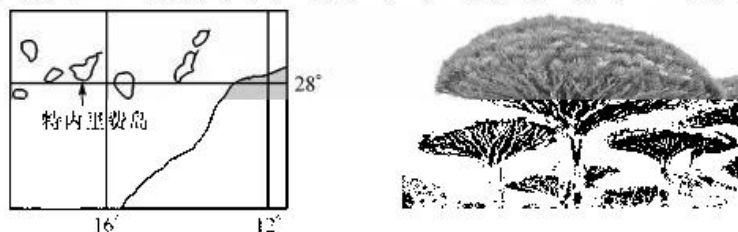


【高三 1 月质量检测巩固卷·文综 第 6 页(共 12 页)】

- (1)描述金寨县的地形特征。(6分)
- (2)指出梅山水库和响洪甸水库发挥的主要功能。(6分)
- (3)金寨县有乔灌木 700 余种,说明其形成原因。(6分)
- (4)为金寨县经济的进一步发展献计献策。(6分)

37. 阅读图文材料,完成下列要求。(22分)

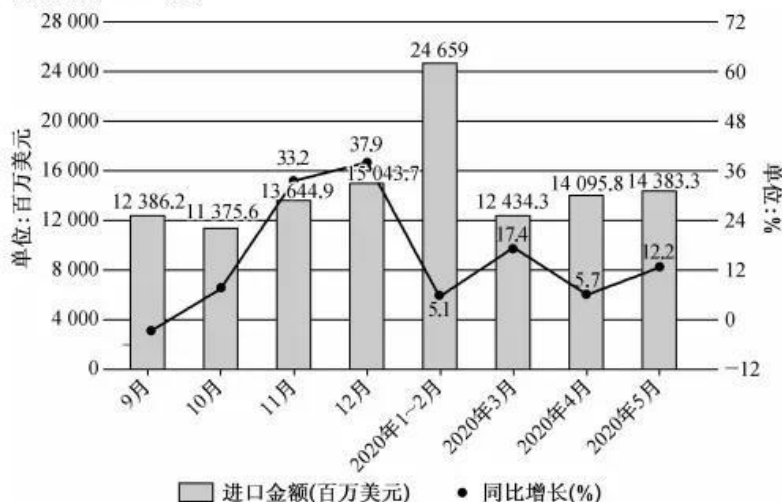
特内里费岛是加那利群岛中最大的岛屿,土地面积 2 034.38 平方千米,多山地,最高峰泰德峰海拔 3 718 米,岛上气候独特,拥有许多珍稀特有物种,如龙血树。龙血树是名贵的活血药材,适应热带干旱环境,生长期长,树冠巨大密集,叶片多蜡质。下图示意特内里费岛地理位置和龙血树景观。



- (1)指出特内里费岛的气候特点及成因。(8分)
- (2)龙血树树冠巨大密集,叶片多蜡质,分析其形态特征对水循环环节的主要影响。(8分)
- (3)有人建议,在该岛大规模种植龙血树以增加经济收入,说明此建议可行的理由。(6分)

38. 阅读材料,完成下列要求。(14分)

材料一



2019年9月~2020年5月我国农产品进口金额增长情况

【高三1月质量检测巩固卷·文综 第7页(共12页)】

材料二 全国两会期间,习近平总书记在看望参加全国政协十三届三次会议经济界委员时指出:“手中有粮、心中不慌在任何时候都是真理。”对我们这样一个有着 14 亿人口的大国来说,农业基础地位任何时候都不能忽视和削弱,端牢中国饭碗至关重要。正因如此,粮食生产气可鼓不可泄,确保国家粮食安全这根弦一刻也不能放松。据农业农村部农情调度和专家实地调查分析,2020 年夏粮面积稳定、单产提高,“十七连丰”已成定局。越是农业生产形势好的时候,越不能麻痹松懈。展望未来,中国有条件、有能力、有信心依靠自身力量筑牢国家粮食安全防线。

(1)解读材料一包含的经济信息。(4分)

(2)结合材料并运用经济生活知识,说明当前我国应如何筑牢国家粮食安全防线。(10分)

39. 阅读材料,完成下列要求。(12分)

2021年1月28日,中共中央政治局召开会议,审议了《关于十九届中央第六轮巡视情况的综合报告》。

会议强调,巡视是加强党内监督的战略性制度安排,是党委(党组)履行全面监督职责的直接抓手。要坚持巡视工作的政治定位,深入贯彻巡视工作方针,精准落实政治巡视要求,聚焦“两个维护”根本任务,围绕中心、服务大局,着力加强对党的十九届五中全会精神、“十四五”重大部署落实情况的监督检查。要坚持问题导向,高质量推进巡视全覆盖,盯住权力和责任,加强对各级领导班子和关键少数特别是“一把手”的监督,精准发现问题、推动解决问题。要坚持系统观念,深入推进巡视巡察上下联动、与其他监督贯通融合,更好发挥巡视综合监督作用和联系群众纽带功能。要坚持依规依纪依法,不断提高规范化法治化水平,使巡视工作更加精准科学、更加有力有效,为“十四五”时期我国发展开好局、起好步提供坚强保障,以优异成绩庆祝建党 100 周年。

结合材料,运用政治生活知识,说明开展巡视工作对坚持和加强党的领导的意义。

40. 阅读材料,完成下列要求。(26分)

李子柒与人民日报联名款螺蛳粉在网络上大卖,官宣微博刚一推出就迅速获得10万点赞。人民日报联名款点亮时尚卖场,吸睛无数。

人民日报一直是严肃媒体的代表。近年来人民日报为了与当代年轻人更多互动,在微博、微信、抖音及各大网站形成多媒体矩阵,改变表达方式,用年轻人喜欢的流行语发布信息。此外,与各大时尚潮流品牌的联名也成为其全新的发展路径。2019年,人民日报和国潮品牌李宁进行了跨界合作,推出了联名款服饰,在潮人圈引起了不小的轰动。之后,人民日报联名款一路高歌,相继与奥康、百雀羚、哈尔滨啤酒、联想、北京烤鸭联袂。在联名过程中,消费品品牌需要支付给人民日报相应的费用,这是传统媒体的一种新的营销方式,从广告经营转化成文化包装形式的营销,这也是目前的一种趋势。

任何商业合作都会有一定的风险。人民日报不是私人属性的市场化公司,在背书产品的时候一定要注意产品与其所代表的公共部门的形象的高度一致,注意产品本身的品质、产品定位。不能把商业运营变成一个品牌价值的短期透支行为。权威媒体是代表党和政府公信力的,而这种公信力正是最重要的价值所在,当然更需要注意谨慎遴选联名合作对象。

(1)结合材料并运用文化生活知识,说明人民日报跨界联名对推动传统媒体发展的启示。(10分)

(2)人民日报在品牌联名过程中必须注意克服商业合作的风险,运用矛盾主次方面的辩证关系的知识加以分析。(12分)

(3)请就人民日报跨界联名写两条广告宣传用语。(4分)

41. 阅读材料,完成下列要求。(25分)

材料一

商代的占卜结果会被记录在甲骨上以显示商王的权威。周王则将赐封官职等事铭铸于带有神秘威严气氛的青铜器上。无论甲骨文,还是金文,当被书写在带有神秘性和权威性的材料上时,也就被赋予了某种类似的气质。而秦代向民众下达皇帝旨意的诏书石刻以小篆写成,可以说是中央集权国家和统一帝国的产物,这显然带有将刻写的内容永远流传后世的期待。这些文字也都被政治权力在某种程度上垄断,正如黄帝创制表意文字的意图就在于避开俚语方言以控制人与神交往的媒介。

——摘编自苏颖《文字与王权——探索中国一元权力结构政治文明的一个视角》等

材料二

1456年德国人古登堡发明了金属活字印刷,这对欧洲社会的影响是深远而显著的。用统一的本国语言印刷的文本资料降低了知识信息的解码成本。15世纪中期,欧洲会识字的男人还不到10%,到17世纪早期,已经有超过30%的男人和10%的女人会读和写了。印刷术的发明改变了只有僧侣才能受高级教育的状况,使看书学习逐渐变成小孩、少年和青年人的日常生活的焦点。此外,为解决印刷行业的利益冲突,1469年威尼斯通过立法,规范了印刷商在指定时间段里印刷和销售一本指定的书籍的权利,这成为知识产权史上一个里程碑事件。

——摘编自余军华、李贞芳《印刷术与西方世界的兴起:经济学视角的解读》

【高三1月质量检测巩固卷·文综 第9页(共12页)】

- (1)根据材料一,概括甲骨文、青铜器金文和石刻小篆三种文书形态的共同特点,并结合所学知识指出当时统治者采用这些文书形态的意图。(18分)
- (2)根据材料二并结合所学知识,说明印刷术传播对欧洲文明的影响。(7分)

42. 阅读材料,完成下列要求。(12分)

材料

协商民主并非西方民主理论与实践的专利,中国协商民主是对民主理论的丰富和发展,是中国特色的社会主义民主形式之一。由于中西方阶级基础、政治文化环境以及经济发展条件等诸多因素的不同,协商民主在中国与西方语境下是两种本质上完全不同的民主,但在实践中两者所追求的精神、价值与体现出来的一些原则具有某种契合性。西方协商民主在客观上为我国特色社会主义协商民主的发展提供了经验借鉴和发展的思路,对于新时代背景下,中国特色社会主义协商民主的深入发展起到良好的借鉴意义与价值。


——摘编自郭小聪 代凯《试论中西方协商民主的区别与联系》

根据材料并结合所学知识,以“中西方协商民主”为主题自拟一个论题,并就所拟论题进行简要阐述。(要求:论题明确,史论结合,条理清晰。)

(二)选考题:共 25 分。请考生从 2 道地理题、3 道历史题中每科任选一题作答。如果多做,则每科按所做的第一题计分。

43. [地理——选修 3:旅游地理](10 分)

在新冠肺炎疫情期间,“云旅游”(如下图)成为国家支持鼓励的旅游分享形式之一,得到大力推广并受到广泛欢迎。“云旅游”能让人们观看全国博物馆线上展览、参观虚拟展厅、查询博物院文物信息等。由此,“云旅游”如雨后春笋般被各大博物馆推出,得到广大民众的热烈响应。



指出疫情期间推广“云旅游”的优势和不足。

44. [地理——选修 6:环境保护](10 分)

废钢是指钢铁厂生产过程中的钢铁废料(如切边、切头等)以及使用后报废的设备、构件中的钢铁材料。目前我国炼钢采用短流程工艺(废钢为主要原料,生铁为辅料,能源为电能)和长流程工艺(铁矿石为主要原料,废钢为辅料,能源为焦煤)两种方式。随着我国废钢资源逐步进入高回收期以及电力体制改革的不断推进,发展短流程工艺炼钢将会成为钢铁工业结构调整的重要内容。

简述我国积极推进短流程工艺炼钢的意义。

45. [历史——选修 1:历史上重大改革回眸](15 分)

材料

1982 年,党的十二大《党章》明确规定:“党的各级领导干部,无论是由民主选举产生的,或是由领导机关任命的,他们的职务都不是终身的,都可以变动或解除。”1987 年中共十三大打破了领导干部单一的任用方式,开始探索新时期干部分类管理办法。后来,《国家公务员法》的出台进一步推进了这一进程,使干部选任与干部分类管理的改革相结合,探索多元化、规范化、制度化的方式。1995 年,《党政领导干部选拔任用工作暂行条例》首次以法律的形式对干部选拔任用工作的重要原则和基本程序作出了明确的规定。2009 年中共十七届四中全会提出“坚持民主、公开、竞争、择优,提高选人、用人公信度”和《2010~2020 深入干部人事制度改革十年规划纲要》要求着重解决干部人事制度改革的重点、难点问题及人民群众反映强烈的突出问题后,2010 年 3 月,又颁布了《党政领导干部选拔任用四项监督制度》。

——摘编自李民《干部选拔任用制度的历史考察》

(1)根据材料,概括 1982 年以来改革干部选用制度的主要举措。(6 分)

(2)根据材料并结合所学知识,分析 1982 年以来改革干部选用制度的意义。(9 分)

【高三 1 月质量检测巩固卷·文综 第 11 页(共 12 页)】

46. [历史——选修3:20世纪的战争与和平](15分)

材料

英法都是第一次世界大战的获利国,它们拥有广大的殖民地,并且操纵了国联。但战后20年来,英法经济都处于衰退和不稳定状态。正因如此,英法已不敢奢望战争给它们带来更多的好处。相反,它们却担心战争会动摇其霸主地位。虽然法国政府曾有抵抗的表示,但实力逐渐衰退的法国,不得不唯英国马首是瞻,处处按英国意志行事,绥靖法西斯,牺牲他国。英法还寻求一种和平手段来满足希特勒的扩张,只要希特勒不同意打仗,什么都可以出卖。此外,在20世纪30年代,英法和其他欧洲民主国家比任何时候都流行一种强烈的和平主义思想。英国政府正是利用了人民要求和平的思想,对苏联提出的对德强硬的主张加以拒绝。他们害怕战争引起革命,所以他们对法西斯国家挑起的局部战争没有引起重视,使德国法西斯对弱小国家的占领和吞并得以顺利进行。

——摘编自文晓燕《欧洲集体安全制的失败与二战的爆发》

(1)根据材料,概括英法推行绥靖政策的原因。(8分)

(2)根据材料并结合所学知识,评价英法的绥靖政策。(7分)

47. [历史——选修4:中外历史人物评说](15分)

材料

伍连德,祖籍广东新宁(今台山),马来西亚华侨,中国检疫、防疫事业的先驱。1896年进入英国剑桥大学意曼纽学院学医,1910年底,哈尔滨发生严重瘟疫,他运用多年研究病理学、细菌学的心得,积极探索病源,控制交通,隔离疫区和病人。因东北严寒,泥土冻结,无法埋葬,致使死尸、棺木堆积街头。伍认为,如果老鼠咬食尸体,势必使疫病传染得更快,便与当地官吏商量,采取集体火化尸体办法,作为紧急措施,这在世界防疫史上是一创举,但违背中国土葬传统,由于得到政府的信任和支持,加之他执法认真,严格按科学精神办事,不到四个月的工夫,这场震惊中外的传染,被扑灭了。1914年5月,伍连德在上海与颜福庆等人发起成立中华医学会,为发展中国现代医学,做了许多有益的工作。1949年北平解放后,他主动提出把他在北平的一幢楼房捐赠给中华医学会,表示他对祖国解放的拥护。

——摘编自《中华民国史》人物传第六卷

(1)根据材料,指出伍连德消除鼠疫措施的特点,分析能够成功的原因。(10分)

(2)根据材料并结合所学知识,概括伍连德的历史贡献。(5分)

高三文科综合参考答案、提示及评分细则

1. B 20世纪90年代开始,我国进入工业化、城市化高速发展时期,城市建设占用大量耕地,导致我国耕地面积大幅减少。
2. A 我国划定具有法律效力的耕地红线的主要目的是保护有限的耕地,保证粮食总产量,以保障国家粮食安全。
3. C 我国人口众多,人均耕地少,要利用有限的耕地资源养活众多的人口主要是依靠科技进步,提高单位面积的粮食产量,来满足众多人口的粮食需求。
4. B 由材料可知,“虚拟水战略”购入的主要是粮食,“虚拟水”净输入量越大,说明本地人均粮食占有量低,人均可耕地数量少。
5. D 新疆“虚拟水”净输入量为负值且绝对值很高,说明该省区输出的农产品数量多,灌溉用水量,若持续维持在高值,会加剧当地水资源紧张状况,使生态环境恶化,加剧土地荒漠化。
6. A 地质构造中向斜是良好的储水构造,断层处地下水易出露,结合示意图可知,向斜构造带和断陷盆地带利于储存地下水。
7. B 地下水库的水量变化与地下水资源开采利用有关,地下水开采量过大,补给量过小,地下水位下降,需要水库水回灌。河北春季降水量少,农业生产需水量大,地下水开采过量,地下水水位下降,此时需回灌。
8. D 由材料可知地下水库选址需要考虑地形封闭条件,地下水位线为倾斜线,因此必须要有地下拦水坝把地下水拦截下来不至于流失到更低处;在人类目前技术下,隔水底板的建设难度大,由不透水岩层自然形成;地下水库对水资源具有调节作用,无法完全解决缺水问题;地下水库中水资源的利用,会导致水位变化,无法保障泉水持续喷发。
9. C 根据图中信息,积雪日数大于60天的区域相对较小,因此大部分地区为不稳定积雪,积雪天数整体上东部多,西部少,自东向西减少;图中积雪天数最多的地方其积雪天数为140~160天,最少的地方积雪天数为0~20天,最大差值在120~160天之间。
10. A 青藏高原地形地势空间差异大,整体西北高、东南低,西南季风和东南季风分别从地势较低的东南边缘带来海洋水汽,遇山地阻挡形成丰富降水,因此降雪多,积雪日数多。
11. D 近年来全球气候日趋变暖,受其影响,青藏高原的年均积雪日数逐渐减少。
12. C 广西金粟康富晒米奇缺,产量相对较少,显示出供求关系是影响商品价格的重要因素,②符合题意;需要对土壤进行改良,显示出耗费的社会必要劳动时间多,④符合题意。价值决定价格,①排除;社会必要劳动时间是衡量商品价值大小的尺度,③排除。
13. D 我国商业银行对市场主体的贷款本金和贷款利息实施延期,发放普惠小微信用贷款增多,显示出①④符合题意;材料不涉及我国商业银行的存款业务,也不涉及我国商业银行筹集资金,②③不选。
14. B 取消信贷资金管理费用,有利于规范金融市场秩序,降低企业融资成本,推进要素市场制度建设,增强市场主体活力,①④符合题意;上述规定不涉及货币供应量问题,排除②;取消信贷资金管理费用,不会提升银行经济效益,排除③。
15. A 减税能够减轻企业负担,增强市场主体信心和创新活力,能够稳定市场运转环境,扩大企业发展空间,①②入选;③中“各项”夸大了减税的作用,不选;减税有扩大税源的作用,并不一定会引起财政收入下降,④不选。
16. C 加强和改进社区治理,是我国发展社会主义民主政治的需要,可以有效提升社会治理能力现代化水平,②③符合题意;在我国,人民不都直接参与管理国家事务,①不选;加强基层社区治理不会扩大居民的民主权利,④不选。
17. B 汕头市政府广泛听取各方意见建议,重视发挥民主党派在2022年《政府工作报告》中的作用,说明了①③。材料没有涉及创新行政监督体系的问题,②不选;材料没有涉及政党协商的问题,④不合题意。
18. B 全国人大常委会开展备案审查,既是对我国宪法和法律实施的监督,也有利于国家令行禁止、维护公民和组织的合法权益,故①③符合题意。材料没有涉及人大立法权问题,也没有涉及民主管理问题,故②④不合题意。
19. D 太极拳申遗成功,能够向世界展现文化的多样性,促进世界文化的繁荣,能够增进世界对中华文化的理解,推动中外文化交流互鉴,③④符合题意;认同的应该是本民族文化,排除①;申遗成功与中华文化的包容性无关,排除②。
20. B 加大对文体设施建设,启示我们发展公共文化基础设施,保障村民基本文化权益,①符合题意;修缮古井和闲置房屋,建设民俗村,启示我们推动中华优秀传统文化创造性转化、创新性发展,③符合题意;材料没有涉及中华文化国际

【高三1月质量检测巩固卷·文综参考答案 第1页(共4页)】

- 影响力,也没有涉及提高村民的科学素养,②④不选。
21. B 韩国卫生部门通过对新冠病毒进行的抗体检测调查,证明西方国家的“群体免疫”观点行不通,说明实践是检验认识真理性的唯一标准,也说明认识受多种因素的影响,如西方主观需要的吹嘘、检测条件及客观事物本质的暴露过程等因素,故①③入选;材料没有体现实践活动的社会性,也没有体现实践的历史发展,②不选;真理与谬误往往是相互交融的说法错误,④不选。
22. A 新能源汽车产业的发展与国家政策、公共充电网络等因素有关,①②符合题意;联系是客观的,不能根据自己的需要建立固有的联系,③不选;④颠倒了国家政策与新能源汽车产业的发展的因果关系,不选。
23. A 某地结合国内外疫情形势,坚持综合施策,科学救治,疫情防控工作取得了较好的成效,表明社会存在决定社会意识,先进的社会意识对社会发展起促进作用,①②符合题意;材料没有体现辩证否定观,也没有体现创新,③④不选。
24. A 考查西周时期的政治制度。根据题干时间并所学知识可知,此时“国人”有参与政治的传统,或决定国君的废立,或过问外交和战,或参议国都迁徙,由此可以看出原始民主遗存仍然存在,君主尚未建立绝对权威,故 A 项正确。根据材料信息可知,国人参与政治,但材料并没有体现参与的结果,故排除 B 项;材料只是列举了国人参与政治的传统,根据所学可知原始民主是影响社会发展而非制约,故排除 C 项;题干所给时间为西周时期,此时是分封等级制度从建立到破坏的时期,D 表述不严谨,排除。
25. B 考查汉代经济。根据材料信息并结合所学知识可知,汉文帝实行轻徭薄赋的政策,这有利于缓和社会矛盾,推动汉初经济的复苏,故 B 项正确。材料体现的是减轻赋税与徭役的具体措施,未涉及对工商业的限制与打压,故 A 项错误;汉文帝的做法有利于农耕经济的发展,“促进了农耕经济的转型”明显与史实不符,故 C 项错误;材料中汉文帝的措施是休养生息政策的具体体现,不能反映“富国强兵的诉求”,故 D 项错误。
26. C 考查唐朝经济。据材料中“江东诸州……旁资数道”“浙东一带……衣食半天下”“湖南、江西管内诸郡,出米至多”等信息可知,当时长江流域成为全国粮食主产区和商品粮基地,故 C 项正确。材料中没有体现南北方经济对比的信息,故 A 项错误;从材料中不能得出 B、D 两项结论,故排除。
27. A 考查王阳明心学。结合材料信息和所学知识可知,作为心学家的王阳明虽反对一味追求个人私利和欲望的庸俗功利之学,但却重视人们客观物质利益的满足,并将其与“致良知”联系起来。结合材料“只在声色货利上用功”“务求公私两便”等信息,可以判断这反映了王阳明心学与社会实际、人情世故相结合的一面,亦是其经世致用思想的表现,故 A 项正确。其他三项均不符合题干主旨,故排除。
28. D 考查近代经济。由材料中的时间“1895~1898 年”并结合所学知识可知,中国民族工业在甲午战争后发展迅速,这与清政府为解决财政危机而放宽对民间办厂的限制有关,故选 D 项。材料信息与洋务企业无关,A 项错误;维新变法发生于 1898 年,与材料中的时间不符,B 项错误;虽然 C 项与史实相符,但资本输出加剧了对中国民族工业的排挤,排除 C 项。
29. B 考查五四运动。结合材料信息,学者认为五四运动没有在思想上“从批判旧世界中找出新世界”,但是在实际行动上“对于中国近代革命历史做了惩前毖后与承先启后的表示”,这可以看出该学者主要强调的是五四运动在实际行动上的反帝反封建运动的价值,而不是思想解放的作用,故 B 项正确,其他选项不符合材料的主旨,故排除。
30. A 考查毛泽东思想。根据材料“基本的游击战”“存在于民众之中”并结合所学知识可知,1938 年,毛泽东在《论持久战》中系统阐明了中国共产党的持久抗战战略,提出在战争中发动群众,依靠群众,通过持久战不断赢取最终胜利,故选 A 项。材料并未体现国共合作,排除 B 项;材料并未提及海外力量,排除 C 项;D 项表述与材料“存在于民众之中”不符,排除 D 项。
31. C 考查改革开放 40 周年和邓小平的贡献。1984 年,邓小平到经济特区正好是中国经济开放的重要时刻,社会上出现了否定经济特区的声音,邓小平的题词就是对人们疑问的回答,坚定了发展经济特区的决心,故 C 项正确。A 项反映的是 1978 年十一届三中全会,故排除;B、D 两项与材料经济特区的主旨不符,故排除。
32. B 考查罗马法。材料表明,十六名法官中有八名“必须精通罗马法”,另外八名“对罗马法深具好感”,由此可知,即使到了 1459 年,罗马法仍然具有强大的影响力,这是因为罗马法具有超越时空的价值,故 B 项正确。A 项表述在材料中体现不出来,错误;C 项表述时间与题干不符,错误;D 项与题干无关,错误。
33. C 考查宗教改革。根据材料“在本土的统治就要比以往和教皇分享统治权的时候更加强而有力”可知,路德的宗教改革受到统治者的支持的原因是,它有利于欧洲世俗君主权力的提高,故选 C 项。A、B、D 三项不符合题意,排除。
34. D 考查德国的工业革命。18~19 世纪的德意志各邦政府积极兴办工厂、矿山和经营铁路,大力发展国家资本主义,

在这一方面普鲁士堪称表率,题干即是这一背景的重要体现,普鲁士财政部在推动其所在邦的工业化方面直接冲在了一线,故D项正确。材料没有体现两次工业革命的交叉进行,排除A项;C、B两项是对材料的片面解读或误读,故排除。

35. A 考查当今世界局势。根据表格中的信息,美俄都退出了制约核扩散的《中导条约》并在各自的军事领域内发展核武器,且目的都是相互制约对方在核军控领域的成果,这体现了大国间进行的核威慑与战略平衡问题的博弈,故选A项。美国与苏联在军控上的分歧早已出现,故排除B项;虽然表格中有“俄罗斯紧随美国宣布暂停履行《中导条约》”的信息,但不能体现俄罗斯对外战略开始追随美国的步伐,故排除C项;D项在材料中无法体现,故排除。
36. (1)以山地、丘陵为主;地势起伏较大;地势整体自南、西南向东北倾斜。(每点2条,共6分)
(2)防洪调蓄功能为主;利用地势起伏发电;灌溉农田;发展养殖等。(每条2分,答对3条得6分,共6分)
(3)位于亚热带与暖温带过渡地带,水热条件优越;多山区,地势起伏大,自然条件复杂多样;位于亚热带常绿阔叶林带向暖温带落叶林带的交汇地带,植物物种丰富;面积大,宜林地区广等。(每条2分,答对3条得6分,共6分)
(4)充分发挥旅游资源优势,发展旅游业;利用山区优势,发展特色林果业;利用交通和劳动力优势,对外劳务输出;对农产品进行深加工,延长产业链,提高附加值等。(每条2分,答对3条得6分,共6分)
37. (1)气候特点:气候温和干燥,气温年较差较小。(2分)成因:位于亚热带海洋,受副热带高压带控制时间长,气温年较差较小;多山地,海拔较高,受加那利寒流影响,气候温和干燥。(6分)
(2)径流:该岛受副热带高压带和寒流影响,气候干燥,龙血树向上生长的叶片和枝干利于收集水分并将其导流至根系,有利于水分下渗;蒸发:巨大密集的树冠使地面阴凉,减少地面水分蒸发;植物蒸腾:蜡质叶片有利于反射太阳光,减小蒸腾,保存水分。(每条4分,答对2条得8分,共8分)
(3)特内里费岛气候条件独特,适宜龙血树生长;龙血树观赏、药用价值高,市场需求量大;能够扩大就业,增加经济收入;带动相关产业发展,促进经济发展等。(每条2分,答对3条得6分,共6分)
38. (1)我国农产品一直保持着较大进口;(2分)2020年1月以后,我国农产品进口同比增长幅度整体上有所下降。(2分)(其他答案,符合题意,可酌情给分)
(2)依靠科技创新,促进新农技、新农机的运用,走提升单产实现增产的内涵式发展之路;(3分)贯彻新理念、新方式,让粮食生产从主要追求产量增长和拼资源、拼消耗的粗放经营,转向数量质量效益并重的“绿色增产”、结构优化;(4分)加强农业基础设施改善、耕地质量提升,把保障粮食安全的能力根基夯得更实。(3分)(其他答案,符合题意,可酌情给分)
39. ①开展巡视工作可以加强党内监督,有助于推进以党的政治建设为统领的党的全面建设,维护党中央的权威和集中统一领导。(4分)②开展巡视工作,有助于把全面从严治党引向深入,保证党不忘初心牢记使命,践行立党为公、执政为民的理念,永葆党的先进性和纯洁性。(4分)③开展巡视工作有助于党坚持科学执政和依法执政,推进党的执政能力建设,全面提高党组织的号召力和战斗力。(4分)(其他答案,符合题意,可酌情给分)
40. (1)坚持以人民为中心的导向,努力为人民服务,满足人们多样化个性化的文化消费需求;(3分)抓住新时代文化与经济相互交融的新特点,增加文化包装,创新营销方式;(2分)充分利用互联网,坚持严肃和流行并举的风格,采用为人民大众所喜闻乐见的表达方式;(3分)主动适应经济社会的发展变化,大胆吸纳市场元素,开展与知名品牌、传统品牌的跨接融合,丰富自身内涵,提高知名度。(2分)(其他答案,符合题意,可酌情给分)
(2)矛盾主次方面辩证关系原理要求全面看问题,既要着重把握矛盾的主要方面,也不忽视矛盾的次要方面,坚持两点论与重点论的统一。(4分)人民日报在品牌联名过程中要坚持社会效益和经济效益的统一,社会效益是矛盾主要方面,经济效益属于矛盾次要方面。(4分)与品牌联名要始终把社会效益放在首位,要弘扬时代主旋律,坚持正确价值导向,维护党和政府形象,不断提高自身的影响力、引导力、公信力和传播力,自觉抵制过度商业化和市场化,克服商业合作的风险。(4分)(其他答案,符合题意,可酌情给分)
(3)牵手知名品牌,打造全新媒体;经得住岁月沉淀,耐得住潮流洗礼;联名国货品牌,引领传统媒体发展。(每条2分,答出两条即可得4分)(其他答案,符合题意,可酌情给分)
41. (1)共同特点:材质耐久;材料带有权威性;文字被政治权力垄断。(9分)意图:强化君主权力,稳定统治秩序;彰显历史功业;延续政治传统。(9分,任答三点即可)
(2)影响:推动了语言文字的规范应用;提高了欧洲民众的识字率;有利于民族国家的形成;打破了教会的文化垄断,削弱了教会的社会影响力;促使知识产权相关法规的出台。(7分,言之有理即可)

42. 示例一:

论题:中西方协商民主兴起的实践基础不同。(2分)

阐述:从历史基础来看,西方协商民主吸收和继承了古希腊雅典民主人民主权与自治的理念以及共和主义民主关于主权在民的思想。从现实条件来看,当代西方国家在政党政治的格局下,国家权力被少数政治精英所操纵,代议制民主背离了人民主权的价值理念,民主变得虚化。随着全球化的不断深入,社会结构不断分化与复杂化,公民的价值观和道德日益多元,而收入水平的差距扩大更加剧了贫富悬殊和社会不平等。协商民主则在一定程度上克服了这些局限,适应了社会现实的需求。与西方协商民主兴起的实践基础不同,中共在抗战时期实行“三三制”,是对协商民主的探索。新中国成立后,在吸取西方民主政治经验的基础上,建立了人民代表大会制度、多党合作政治协商制度、民族区域自治和基层民主制度,重视选举民主和协商民主的联合。因而,中国协商民主是由中国共产党在领导中国人民进行革命、建设和改革的长期实践中,在吸收和借鉴人类民主政治发展的有益成果的基础上,逐渐形成的具有中国特色的社会主义民主形式。(8分)

综上所述,西方协商民主既是对西方民主理论传统的继承与批判,也是对当代西方社会现实挑战的回应。而中国协商民主的形成是中国革命与建设的产物,是建设中国特色社会主义民主政治的必然结果。(2分)

示例二:

论题:中西方协商民主都拓展了公民政治参与的渠道,有利于切实实现公民的民主权利。(2分)

阐述:从西方国家来看,西方协商民主理论鼓励参与决策制定相关的公民积极参与公共协商,通过协商程序表明自己的偏好和价值取向,并在这一过程中通过理性、审慎的反思、讨论和辩论等,就涉及公共利益的政策达成共识。从这一层面来看,协商民主在一定程度上弥补了西方发达国家代议制民主的内在缺陷,拓展了公民参与政治决策的机会和渠道,有效地维护了公民自身利益与公共利益。中国协商民主通过人民政协这一渠道和载体,来自不同党派、团体和社会阶层的人士,以制度化与组织化的途径有效表达其利益诉求,增加了公民政治参与的效果,尊重和满足了公民的民主诉求,从国家基本政治制度层面保证和拓宽了公民合法化的政治参与途径。(8分)

因此,虽然中西方协商民主根植于不同的政治体制,然而协商民主作为一种民主形式,都在很大程度上拓展了公民政治参与的渠道,有利于切实实现公民的民主权利。(2分)

43. 优势:满足疫情期间部分旅游爱好者的旅游欲望,使旅游者得到旅游新体验;在家享受历史文化艺术熏陶,为隔离的单调生活增添趣味;使政府和企业通过“云旅游”形式为疫情过后的旅游经济复苏做准备;为疫情后文旅线上线下融合发展转型打下基础等。(每条2分,答对3条得6分,共6分)不足:缺乏身临其境的旅游体验,不能大量创造旅游收入;对相关产业的发展带动作用弱等。(每条2分,答对2条得4分,共4分)
44. 减少铁矿石的进口;节约原料投资成本;减少对煤炭资源的开采和使用;减少二氧化碳等温室气体的排放,节能减排效益明显;减少废钢堆积对土地的占用,对环境的污染;促进我国钢铁工业结构的调整,优化产能布局等。(每条2分,答对5条得10分,共10分)
45. (1)举措:废除领导职务终身制;以法律的形式出台选任干部制度;打破领导干部单一的管理体制和任用方式,对新时期干部实行多元化、规范化、制度化的分类管理;注重整治选任干部的不正之风。(6分,答出三点即可)
- (2)意义:顺应了改革开放和社会主义市场经济发展的需要;推动了我国干部选拔任用制度的改进完善;保证了党的理论、路线、方针、政策全面贯彻执行和中国特色社会主义事业的顺利发展。(9分)
46. (1)原因:一战后英法实力下降;英法害怕战争爆发损害其既得利益;英法对德国法西斯抱有不切实际的幻想;害怕参加战争引起国内和殖民地的革命;20世纪30年代,和平主义思潮盛行。(8分,任答四点即可)
- (2)评价:绥靖政策是英国在自身实力削弱的背景下维护欧洲霸权的一种策略;牺牲弱小国家利益,助长了法西斯的势力;一定程度上削弱和遏制了防御法西斯扩张的力量。(7分,其他言之有理亦可得分)
47. (1)特点:科学防疫;系统防疫;重视调查;突破传统,大胆创新。(4分,任答两点即可)原因:受到良好的专业教育;政府的支持;严格执法;观念的更新,采取科学的方法。(6分,任答三点即可)
- (2)贡献:控制了瘟疫传播;为传染病防治积累了经验;促进了中国医疗卫生事业进步;关注祖国医疗卫生事业发展体现了爱国华侨的爱国精神。(5分,任答三点即可)

关于我们

自主选拔在线是致力于提供新高考生涯规划、强基计划、综合评价、三位一体、学科竞赛等政策资讯的升学服务平台。总部坐落于北京，旗下拥有网站（[网址: www.zizzs.com](http://www.zizzs.com)）和微信公众平台等媒体矩阵，用户群体涵盖全国90%以上的重点中学师生及家长，在全国新高考、自主选拔领域首屈一指。

如需第一时间获取相关资讯及备考指南，请关注**自主选拔在线**官方微信号：**zizzsw**。

