

## 2023 届高三二轮复习联考(三) 文科综合

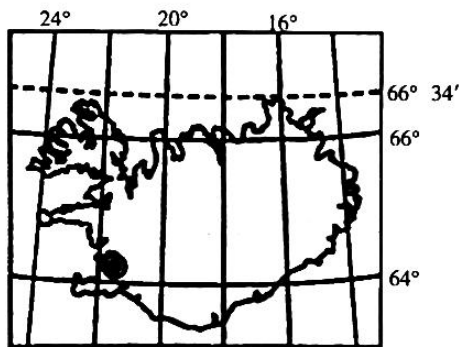
**注意事项:**

1. 答卷前,考生务必将自己的姓名、考生号等填写在答题卡上。
2. 回答选择题时,选出每小题答案后,用铅笔把答题卡上对应题目的答案标号涂黑。如需改动,用橡皮擦干净后,再选涂其他答案标号。回答非选择题时,将答案写在答题卡上。写在本试卷上无效。
3. 考试结束后,将本试卷和答题卡一并交回。


考试时间 150 分钟,满分 300 分

一、选择题:本题共 35 小题,每小题 4 分,共 140 分。在每小题给出的四个选项中,只有一项是最符合题目要求的。

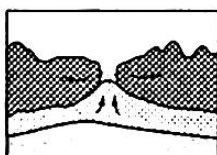
下图为世界某岛国示意图,该国从牙买加和圭亚那进口铝土矿发展了炼铝工业,是世界铝生产大国之一。据此完成 1~2 题。



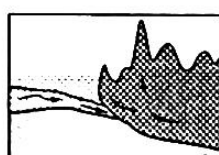
1. 关于该国所在海域海底地貌状况,对应正确的是




①



②



③



④

A. ①

B. ②

C. ③

D. ④

2. 该国发展铝生产的最主要因素为

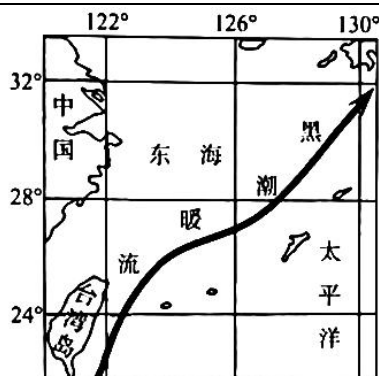
A. 原料

B. 土地

C. 劳动力

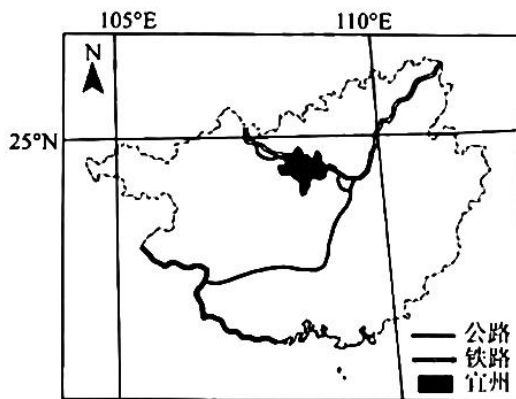
D. 能源

黑潮是北赤道暖流的延续,起源于台湾岛东南和吕宋岛以东海域,在 24°N 左右通过台湾岛以东进入东海,一直延伸至 35°N、141°E 附近海域。在整个黑潮系统中,将位于 130°E 以西,30°N 以南海域,主流经过东海外缘的黑潮,称为东海黑潮。东海黑潮的盐度分布具有显著的季节变化特点。下图示意东海黑潮分布。据此完成 3~5 题。



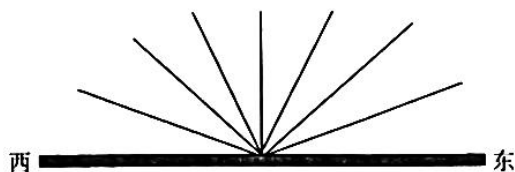
3. 东海黑潮表层海水盐度最高的季节是
  - A. 春季
  - B. 夏季
  - C. 秋季
  - D. 冬季
4. 影响东海黑潮表层海水盐度的主要因素是
  - A. 降水量、含沙量
  - B. 蒸发量、径流量
  - C. 含沙量、蒸发量
  - D. 径流量、降水量
5. 黑潮暖流海水盐度垂直变化规律是
  - A. 夏季变化率大
  - B. 冬季变化率小
  - C. 春秋变化率大
  - D. 秋冬变化率大

我国传统的桑蚕产业主要分布在长江中下游和珠江三角洲地区。“东桑西移”是指我国逐步把蚕茧主产区从东部(主要是长江中下游和珠江三角洲)地区向西部地区转移的蚕丝产业发展战略。广西的宜州市是东部蚕丝产业的主要承接地。宜州的养蚕季节(3月~11月)较长。目前,宜州的桑园面积已居全国县域第一,但在蚕桑品种选育、种养殖技术方面相对落后。下图为广西宜州示意图。据此完成6~8题。



6. 长江中下游和珠江三角洲桑蚕产业移除的主要原因是
  - A. 劳动力短缺,后继无人
  - B. 土地、劳动力价格上升
  - C. 生态破坏,环境遭污染
  - D. 耕地撂荒、大面积退化
7. “东桑西移”选址宜州,主要是为了
  - A. 开发山区资源,利用良好气候
  - B. 沿铁路线布局,发展对外贸易
  - C. 免遭环境污染,减轻土地压力
  - D. 获得丰富原料,降低生产成本
8. 为了提高品种选育、种养殖技术,宜州市应采取的措施是
  - A. 扩大规模,形成竞争优势
  - B. 吸纳人才,鼓励创新研发
  - C. 重视环保,保持生态平衡
  - D. 加强水利,保障稳产高产

太原市(37°54'N,112°33'E)某中学地理研学小组在校园的操场竖立一竹竿,通过观察竹竿影子朝向和长短的变化,印证地球公转的地理意义。小组成员将日出到日落的观察记录绘制成图(见下图),图中实线表示不同时刻竹竿的朝向和影长。据此完成9~11题。



9. 当竹竿影长最短时,北京时间约  
A. 10时48分      B. 11时30分      C. 12时48分      D. 12时30分
10. 由此推测,该日太阳  
A. 向北移动      B. 向南移动  
C. 昼短夜长      D. 昼长夜短
11. 若该研学小组连日的观测竹竿影子朝向和长短的变化,可以印证地球公转的地理意义有  
①正午太阳高度的变化      ②当地所处的气候带  
③一日内昼与夜的交替      ④当地所处的季节  
A. ①②      B. ③④      C. ②③      D. ①④
12. 在中国传统文化中,兔子有多子多孙、健康长寿的美好寓意,古人常将兔的形象融入生活中,希望为自己带来福气,帝王公侯也不例外。在山西省晋国博物馆内,陈列着4件青铜兔尊,出土于约3000年前的晋国晋穆侯墓。在晋国晋穆侯时期  
①土地逐渐变成私有财产,私有制确立起来  
②存在着人类社会最早形成的两大对立阶级  
③金属工具得到广泛使用,推动生产力发展  
④收取地租是剥削阶级剥削被剥削阶级的主要方式  
A. ①③      B. ①④      C. ②③      D. ②④
13. 2023年,中国的改革开放迈入到第45个年头。45年来,我国在公共文化服务、乡村振兴、文化产业、传统文化等方面的发展令人瞩目(如漫画)。这些成绩的取得是因为



新时代

新华社发 曹一作

- ①中国特色社会主义制度具有明显优势      ②我国基本实现了社会主义现代化的目标  
③始终坚持以中国特色社会主义理论为指导      ④改革开放从根本上改变了中国社会发展方向

- A. ①②                      B. ①③                      C. ②④                      D. ③④
14. 习近平总书记指出,高质量发展对民营经济发展提出了更高要求,有能力、有条件的民营企业要加强自主创新,在推进科技自立自强和科技成果转化中发挥更大作用。同时中国式现代化是全体人民共同富裕的现代化,无论是国有企业还是民营企业,都是促进共同富裕的重要力量,都必须担负促进共同富裕的社会责任。这要求民营企业要
- ①增强家国情怀,自觉践行以人民为中心的发展思想  
②坚持自主创新、回报社会,树立企业的良好社会形象  
③积极发展壮大农村集体经济,担负起促进共同富裕的社会责任  
④鼓励、支持、引导非公有制经济发展,培育更多市场主体
- A. ①②                      B. ①③                      C. ②④                      D. ③④
15. 2023年1月9日,财政部、税务总局发布了2023年的第1号公告,明确增值税小规模纳税人减免增值税等政策。自2023年1月1日至2023年12月31日,对月销售额10万元以下(含本数)的增值税小规模纳税人,免征增值税;增值税小规模纳税人适用3%征收率的应税销售收入,减按1%征收率征收增值税。若不考虑其他因素,此项政策传导正确的是
- ①落实积极财政政策——减轻企业成本负担——增加企业所得——扩大生产规模  
②降低增值税起征点——减轻企业税负——激发企业活力——推动经济复苏发展  
③增加财政支出——缓解企业资金短缺——扶持小微企业发展——扩大税收来源  
④加强国家宏观调控——企业支出减少——激励创业创新——刺激经济增长
- A. ①③                      B. ①④                      C. ②③                      D. ②④
16. 2023年1月,第十四届全国政协委员会名单公布。全国政协34个界别中,“环境资源界”首次亮相。从人员构成看,环境资源界85名委员的背景涵盖生态环境、自然资源、海洋、林业、地质等多个领域,三成以上是专家学者。在今年的政协会议上,该界别委员建言献策高度聚焦“环境资源”主业,不断提出真问题,找到好办法。由此可以看出
- ①民主党派作为参政党,参与国家社会事务的管理  
②政协委员通过行使提案权,为国家发展建言献策  
③政协委员聚焦社会热点重点问题,积极参政议政  
④政协完善协商议政的内容,切实履行职能
- A. ①②                      B. ①③                      C. ②④                      D. ③④
17. 2022年12月4日是我国第九个国家宪法日,也是我国现行宪法公布施行四十周年。2022年全国“宪法宣传周”宣传活动的主题为“学习宣传贯彻党的二十大精神,推动全面贯彻实施宪法”。全面贯彻实施宪法应
- ①提高宪法的国家根本法地位,坚持维护宪法权威和尊严  
②与时俱进,加快完善以宪法为核心的中国特色社会主义法律体系  
③有自信、有志气宣传中国宪法制度、宪法理论的显著优势和强大生命力  
④把宪法实施贯穿到治国理政各方面全过程,提高政府依宪治国、依宪执政的能力
- A. ①③                      B. ①④                      C. ②③                      D. ②④
18. 2018年11月5日,习近平总书记宣布在上海证券交易所设立科创板并试点注册制,标志着注册制改革进入启动实施阶段。经过4年试点,市场各方对注册制的基本架构、制度规则总体认同,向全市场推广的条件已经具备、水到渠成。2023年2月1日,全面实行股票发行注册制改革正式启动,统筹完善多层次资本市场体系,统筹推进发行、上市、交易、退市等基础

制度改革,统筹抓好证监会自身建设。这体现出股票发行注册制改革

- ①遵循了联系的普遍性,认为任何事物之间都存在着联系
- ②坚持了系统优化的方法,用综合的思维方法认识事物
- ③坚持了从矛盾的特殊性到普遍性,再从普遍性到特殊性的方法
- ④属于人为事物的联系,具有“人化”的特点,以人的意志为转移

A. ①③                      B. ①④                      C. ②③                      D. ②④

19. 2023年3月15日,国家主席习近平在中国共产党与世界政党高层对话会上首次提出全球文明倡议,他说:“我们愿同国际社会一道,努力开创世界各国人文交流、文化交融、民心相通新局面,让世界文明百花园姹紫嫣红、生机盎然。”这有利于

- ①更好认同其他民族文化,推动世界文化繁荣发展
- ②世界各国不同文化更好实现交流互鉴、包容共存
- ③推动中华优秀传统文化创造性转化和创新性发展
- ④促进不同文明的美美与共,构建人类命运共同体

A. ①②                      B. ①③                      C. ②④                      D. ③④

20. 2023年1月7日,共和党领袖凯文·麦卡锡当选美国众议院议长。在众议院的434个席位中,共和党掌控222个议席,民主党控制212个议席。尽管共和党占据议席优势,但由于麦卡锡遭到共和党内极端保守派强烈反对,经过众议院议员5天15轮表决,麦卡锡才“艰难”当选众议院议长。由此可以看出

- ①美国实行的政权组织形式是总统共和制                      ②美国两党制存在着效率低下的弊端
- ③美国众议院议长由众议院议员选举产生                      ④两党制已经不适合美国当前的政治发展

A. ①②                      B. ①④                      C. ②③                      D. ③④

21. 2023年4月6日,国家主席习近平同来华进行国事访问的法国总统马克龙举行会谈。近年来,中法关系保持良好发展,两国战略沟通富有成效,务实合作成果丰硕,在国际和地区事务中保持着良好的沟通协作。中法两国的沟通协作

- ①是中法两国政府坚持独立自主的和平外交政策的结果
- ②有利于积极应对全球性挑战,更好推动国际关系民主化
- ③充分体现我国在维护他国合理关切的同时,兼顾自身的利益
- ④有利于践行真正的多边主义,维护世界和平、稳定和繁荣

A. ①②                      B. ①③                      C. ②④                      D. ③④

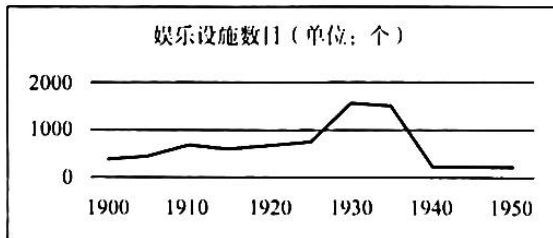
22. 河北衡水的郑女士通过房产中介购买了一套74平米的住房,但来到新买的房子发现套内面积只有40平米,买的房屋公摊面积约为46%,远超楼市常见的公摊系数,而且购房合同也没有对公摊的具体项目、面积大小等进行说明。对此,下列认识正确的是

- ①房产中介的做法侵犯了郑女士的知情权
- ②郑女士有权委托辩护人帮助其进行诉讼
- ③房产中介的做法侵犯了消费者安全消费的权利
- ④郑女士可以向有关行政部门投诉或者申请仲裁

A. ①②                      B. ①④                      C. ②③                      D. ③④

23. 2023年3月15日,国家统计局新闻发言人表示,政府工作报告提出今年经济增长5%左右的预期目标综合考虑了各方面的因素,符合当前经济发展的实际和需要。经济增速如果过低,可能导致经济中存在的一些问题暴露,风险就会增加。如果经济增速设定过高,会导致各方面资源条件比较紧张,不利于实现经济高质量发展。这表明


- ①整体性是辩证思维的重要特征  
②在实践中要掌握适度的原则  
③认识要从感性具体发展到思维抽象  
④事物的发展是渐进性与飞跃性的统一
- A. ①②                      B. ①③                      C. ②④                      D. ③④
24. 他认为音乐的本质是表现“民之常性”，故他的音乐美学观点表现为“法天贵真”。法天贵真的音乐就是合乎人的自然情性、自由抒发人的情性的音乐。这一思想曾极大地影响了嵇康、李贽。材料中的“他”是
- A. 孟子                      B. 墨子                      C. 庄子                      D. 韩非子
25. 西汉高祖时“诸侯皆赋”，“(王国)置丞相，黄金印”。景帝时，“(王国)去丞相曰‘相’，银印，诸侯独得食租税”。这一转变旨在
- A. 削弱丞相权力                      B. 加强中央集权  
C. 完善官僚政治                      D. 实施“推恩令”
26. 据《蜀堰记》记载，顺帝至正元年(1341年)重修都江堰，效果很好，修堰之前，“常岁获水之用仅数月，堰辄坏。今虽缘渠所置碓磑纺绩(借助水力推动的捣米器具和纺车)之处以千万数，四时流转而无穷”。这表明，都江堰的重修
- A. 有利于古代水力机械的推广                      B. 巩固了官营手工业的技术优势  
C. 促成手工业领域的技术革新                      D. 推动了中国南北经济均衡发展
27. 清代规定：“满洲、蒙古尚书以下，司官、小京官以上，亲伯叔兄弟同衙门者，令官小者回避。……祖孙父子，均令子孙回避。……汉官在京部院祖孙父子亲叔伯兄弟回避之例，与满洲蒙古同。”清政府此举主要是为了
- A. 维护等级制度                      B. 学习汉族文化                      C. 加强官员管理                      D. 消除民族隔阂
28. 19世纪60年代，为解决生源问题，清政府规定同文馆的学生可以拿薪水。开始年薪为36两银子，后又提高到120两，最高时达到140两。当时七品官年薪才45两，五品官也不过80两上下。这从侧面深刻反映了
- A. 科举制度渐趋衰落                      B. 官办学校待遇较高  
C. 洋务运动成效显著                      D. 传统思想根深蒂固
29. 清末，东北地区的大豆及大豆制品在未建铁路时出口量不多，1890年输出总值为白银37万两，自有了铁路后，大豆及大豆制品输出总值逐年增加，1900年达白银547万两，1910年达白银3669万两。这说明，铁路在当时
- A. 促进了农产品的商品化                      B. 改变了农业的产业布局  
C. 导致了传统农业的衰落                      D. 丰富了出口货物的种类
30. 下图为20世纪上半期上海近代文化娱乐设施数量曲线图。影响这一时期上海娱乐设施数目变化的主要因素是



- A. 人口数量的增减                      B. 民族工业的发展  
C. 政治局势的变化                      D. 租界面积的大小

二轮复习联考(三) 文科综合 第6页(共12页)

31. 1955年,毛泽东说:“我们……所钻研的,是钻社会主义工业化……并且开始要钻原子能……”;1963年,他又指出“科学技术这一仗,一定要打,而且必须打好。……不搞科学技术,生产力无法提高”。这表明毛泽东
- A. 对科学技术重要性的认识不断深化  
B. 看到了参与国际科技竞争的重要性  
C. 主张科技成果由军用逐步转为民用  
D. 认为“一五”计划要为科技现代化服务
32. 公元前4世纪,九执政官是雅典最重要的官职,分管军事、宗教和司法等相关事务。但他们就职前须先经五百人议事会初审,之后还必须通过陪审法庭的复审。这一举措
- A. 体现了古代分权制衡原则的运用  
B. 是防止公共权力腐败的重要机制  
C. 是原始行政程序繁琐的典型表现  
D. 促成了民主政治鼎盛时期的到来
33. 这一时期,他们对宗教秉持着一种以理性改之的态度,开始摆脱宫廷、教会进行创作,对于某些基督教神学的荒谬、教会因迷恋权力而导致的堕落以及因人民的盲从与轻信而仍然影响人民生活的有害权力予以讽刺和抨击。材料中的“他们”可能包括
- A. 但丁                      B. 马丁·路德                      C. 哥白尼                      D. 休谟
34. 1849—1870年,英国第三级铁路客运(为下层人民提供运输服务)人数增长了6倍,而其他两级客运人数只增长了4倍。1846—1870年,第三级客运人数的比重由不足一半提高到65%,而客运收入的比重则由不足20%提高到44%。这表明铁路客运
- A. 促进了城乡经济的一体化                      B. 实现了交通运输的商业化  
C. 推动了社会观念的平等化                      D. 加速了交通服务的大众化
35. 下图为2018年加拿大讽刺特朗普的漫画,以反对美国对加拿大等盟友的进口钢铁和铝分别征收25%及10%的高关税。据此可知



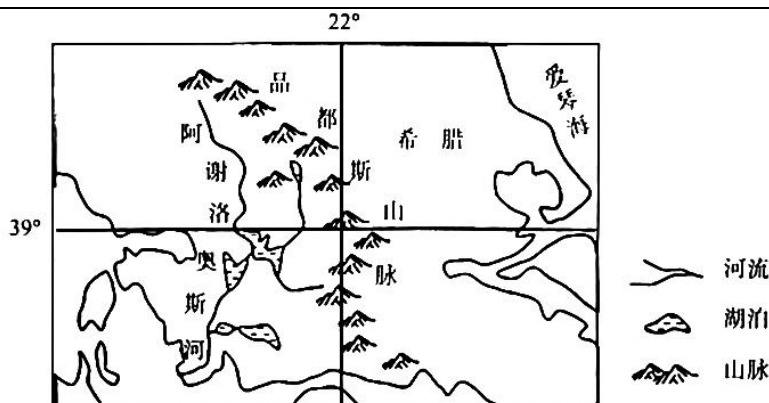
- A. 霸权主义导致资本主义阵营的动荡                      B. 经济危机使多极化趋势放缓  
C. 单边主义易加重“逆全球化”现象                      D. 经济全球化使单极世界解体

二、非选择题:本题共10小题,共160分。36—37题为地理,38—42题为政治,43—45题为历史。

36. 阅读图文材料,完成下列要求。(30分)

阿谢洛奥斯河是希腊最长的河流之一,源出品都斯山脉,流程220千米,流域面积0.63万平方千米。该河流多流经峡谷,最后注入爱奥尼亚海。河流上游建有两座大坝,河口水深不足0.6米。下图示意阿谢洛奥斯河水系。

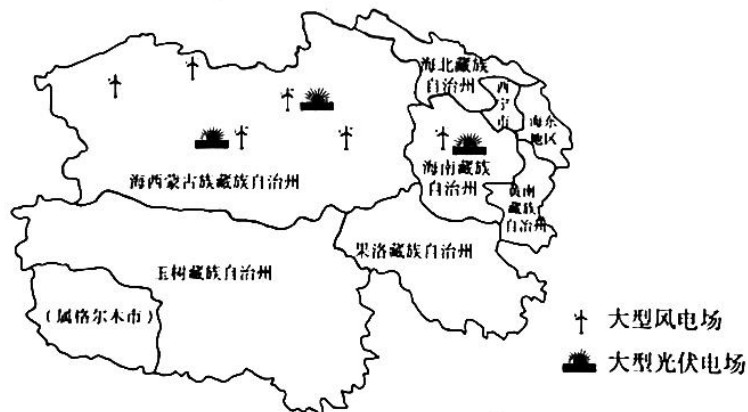
二轮复习联考(三) 文科综合 第7页(共12页)



- (1) 由阿谢洛奥斯河的流程可知希腊河流比较短促,试分析原因。(9分)
- (2) 简述阿谢洛奥斯河流域的水文特征。(6分)
- (3) 判断阿谢洛奥斯河的航运价值,并说明理由。(7分)
- (4) 分析阿谢洛奥斯河两座大坝的社会经济效益。(8分)

37. 阅读图文材料,完成下列要求。(26分)

碳达峰指的是二氧化碳达到峰值,是指我国承诺2030年前,二氧化碳排放不再增长,达到峰值之后逐步降低。为此我国积极开发新能源,其中青海省成为我国新能源的战略基地,助推我国碳达峰目标的实现。目前,青海省清洁能源装机占比达到90.36%,海南州、海西州两个太阳能和风能、水光风多能互补的能源基地全部跃上千万千瓦级台阶。下图示意青海省太阳能和风电基地分布。



- (1) 阐释青海省新能源基地建设的有利条件。(8分)
- (2) 分析与海西州相比,海南州建立新能源基地的区位优势。(6分)
- (3) 简述青海省新能源开发对实现碳达峰目标的重要意义。(4分)
- (4) 说出青海省除太阳能、风能外,还可开发的清洁能源,并分析原因。(8分)



38. 阅读材料,完成下列要求。(10分)

履职五年来,十三届全国人大及其常委会紧紧围绕党和国家工作大局,认真履行宪法法律赋予的职责,人大工作取得新的重大进展。

从民法典编纂,到助力打好污染防治攻坚战,再到维护特别行政区宪制秩序和法治秩序等,十三届全国人大及其常委会坚决贯彻落实党中央决策部署,在大事要事上担当尽责。加快立法步伐,通过宪法修正案,制定法律47件,修改法律111件次,作出法律解释1件。抓住提高立法质量这个关键,遵循和把握立法规律,使每一项立法都符合宪法精神、反映人民意志、得到人民拥护。听取、审议109个有关监督工作的报告,检查30件法律和决定实施情况,开展33项专题调研、11次专题询问,对近万件规范性文件进行备案审查。五年间,近3000名十三届全国人大代表深入基层、深入群众,了解民情、反映民意、集中民智,共提出2282件议案和43750件建议,均已办结,为党和国家事业发展提供了重要决策参考。

结合材料,运用政治与法治的知识,谈谈十三届全国人大及其常委会这五年的工作是如何体现社会主义民主政治特点的。

39. 阅读材料,完成下列要求。(10分)

材料一 2022年中央经济工作会议于2022年12月15日至12月16日在北京举行,会议对2023年的经济工作作出全面部署。中央经济工作会议提出,当前我国经济恢复的基础尚不牢固,企业预期有所走弱,稳增长紧迫性明显提升,会议将“稳增长”摆在“三稳”首位,通过稳增长实现稳就业、稳物价。但同时还要看到,我国经济韧性强、潜力大、活力足,各项政策效果持续显现,明年经济运行有望总体回升,要坚定做好经济工作的信心。我国经济发展已由高速增长阶段转向高质量发展阶段,必须进一步优化产业政策,更好统筹经济质的有效提升和量的合理增长,加快建设现代化产业体系。

材料二 当前,我国经济正面临需求收缩、供给冲击、预期转弱三重压力。如何坚定信心,做好今年经济工作,为全面贯彻落实党的二十大精神开好局起好步?2023年3月6日,习近平参加民建、工商联界委员联组会时说:“企业家要增强家国情怀,自觉践行以人民为中心的发展思想,增强先富带后富、促进共同富裕的责任感和使命感。”

结合材料一,运用矛盾的特殊性原理分析当前我国的经济形势。

40. 阅读材料,完成下列要求。(10分)

位于“五海三洲之地”的中东地区历来是中国外交重点关注的区域之一。

材料一 在当前全球能源紧张,价格一路飙升的大背景下,2022年11月21日,卡塔尔国家能源公司宣布与中国达成为期27年的液化天然气长期购销协议,该公司将从其北方气田扩能项目每年向中国石化供应400万吨液化天然气。中国石化董事长马永生表示,中国与卡塔尔两国关系友好、密切,在能源领域有天然互补性,为双方不断深化合作创造了良好环境。

材料二 沙特和伊朗两国关系长期紧张,两国在信仰和政治上存在严重分歧。2023年3月

10日,在中国的积极调解下,沙特和伊朗在北京会晤,两国恢复外交关系。沙伊双方表示愿恪守《联合国宪章》宗旨和原则,通过对话和外交方式解决双方分歧,尊重各国主权,不干涉别国内政。沙伊赞赏并感谢中方承办和支持此次对话并推动其取得成功。

中共中央政治局委员、中央外办主任王毅表示,沙特伊朗北京对话是和平的胜利。结合材料,运用世界多极化的知识进行阐释。

41. 阅读材料,完成下列要求。(12分)

老旧小区加装电梯,本是为方便居民出行,但在实际改造中,常常遭到低楼层业主的反对。

某县某小区单元共有六层,其中三至六楼住户申请加装电梯。在获得专有部分占建筑物总面积三分之二以上业主同意,并经过公示、社区乡镇调解、安全性鉴定、审批等多项程序后,电梯公司准备入场施工,但却遭到了一楼业主的反对和阻挠,理由是:一楼房屋本身处于低洼地段,加装电梯影响采光,雨季可能造成雨水倒灌等。于是楼上三至六楼的住户起诉了一楼的住户。

2023年3月6日,该县人民法院对这起小区电梯加装纠纷案进行了公开宣判,判决一楼两名住户立即停止对电梯安装施工的阻碍。

(1) 结合材料,运用法律与生活的知识,分析法院判决的理由。(7分)

(2) 加装电梯对低楼层业主的通行、采光等方面产生了一定影响。请运用法律与生活的知识说明如何保障其合法权益。(5分)

42. 阅读材料,完成下列要求。(10分)

材料一 2022年中央经济工作会议于2022年12月15日至12月16日在北京举行,会议对2023年的经济工作作出全面部署。中央经济工作会议提出,当前我国经济恢复的基础尚不牢固,企业预期有所走弱,稳增长紧迫性明显提升,会议将“稳增长”摆在“三稳”首位,通过稳增长实现稳就业、稳物价。但同时还要看到,我国经济韧性强、潜力大、活力足,各项政策效果持续显现,明年经济运行有望总体回升,要坚定做好经济工作的信心。我国经济发展已由高速增长阶段转向高质量发展阶段,必须进一步优化产业政策,更好统筹经济质的有效提升和量的合理增长,加快建设现代化产业体系。

材料二 当前,我国经济正面临需求收缩、供给冲击、预期转弱三重压力。如何坚定信心,做好今年经济工作,为全面贯彻落实党的二十大精神开好局起好步?2023年3月6日,习近平参加民建、工商联界委员联组会时说:“企业家要增强家国情怀,自觉践行以人民为中心的发展思想,增强先富带后富、促进共同富裕的责任感和使命感。”

党和国家对2023年的经济工作提前作出了全面部署。结合材料一,运用超前思维的知识对此加以说明。

43. 阅读材料,完成下列要求。(25分)

材料一 萌发于中世纪的英国职业教育,在19世纪后半期迅速发展。19世纪,马尔萨斯等人提出了教育是一项公共事业的思想,教育家阿诺德等人积极提倡发展职业教育。斯德奇等人更是直接参与职业教育,如创办的成人夜校就推动了机械工人讲习所运动的发展。19世纪中期,英国成立了“皇家工艺学会”等以加强对职业教育的管理。1889年,通过了《技术教育法》,要求地方当局提供技术教育等。19世纪后半期的大学不仅开始培养工商业人才,而且也“向每天的劳动仅足以糊口的人民群众的子弟开放”。为了提升英国的经济竞争力,1880年,“伦敦同业公会”成立了旨在从旁援助技术教育的“伦敦市成人教育协会”。

——摘编自李渝红《英国职业教育介绍》

材料二 建国之初中等技术教育的很多实施机构来源于旧时的公、私立职业学校。1952年3月政务院对其进行调整,规定每所学校都有特定的专业方向,统称为中等专业学校。同时,由于生产部门急需补充技术工人,技工教育制度逐步建立起来。中专和技工学校的毕业生由其管理部门分配工作。为了使不能升学的学生掌握一技之长以便就业,国家还尝试开辟新的途径,从1958年开始,各地农村职业学校大量开办,开展农牧、林果、养殖以及农副产品加工等多类教学。与此同时,城市职业教育也逐步发展,1965年,全国中专在校生54.7万人,技校在校生18.3万人,农业等职业中学在校生443.3万人,三者已占到当时中学在校生总数的34.8%。

——摘编自俞启定《新中国成立以来职业教育定位及规模发展演进的回顾》

- (1) 根据材料一并结合所学知识,概括19世纪后半期英国职业教育迅速发展的原因。(8分)
- (2) 根据材料二并结合所学知识,说明20世纪五六十年代我国职业教育发展的特点及意义。(17分)

44. 阅读材料,完成下列要求。(12分)

材料 晚清时期,画报画刊作为“图文并茂”的新式媒介开始出现,以下为其发展历程简表。

时期	阶段	概况
1872—1883	发轫期	教会画报画刊独步天下,如《画图新报》就以宣传基督教义为主,兼及科学知识介绍
1884—1899	兴起期	创办主体逐渐向国人自办转变,一系列丧权辱国的事件使国内各阶层不断掀起反帝反封建的浪潮,画报画刊更以独特的图像叙事方式深受人们欢迎
1900—1904	发展期	“刊载国内外时事、揭露帝国主义侵略、介绍西方科学技术知识”成为画报画刊宣传的主流。部分画报画刊为吸引读者、扩大发行量,颇为重视编辑业务的改革,如1904年商务印书馆出版的《东方杂志》经常选登官办或民办报刊上的新闻讯息,留下了回看历史场景的珍贵影像资料

(续表)

时期	阶段	概况
1905—1911	鼎盛期	共创刊 93 种,占晚清画报画刊出版总数的 73.8%;除政治中心北京外,主要集中在上海、广州等南方沿海沿江城市,其中上海最为抢眼有 72 种,占晚清画报画刊出版总数的 57.1%。各政治派别不断创办画报画刊作为宣传其主张、形象的代言平台,如 1905 年留日学生创办的《醒狮》、汉口黄陂街昌明公司发行的《不缠足画报》等。此外,还有些跳出“政治圈”的画报画刊,如劝募赈灾的《图画灾民录》、专注知识介绍的《科学画报》、文化遗产保护的《中国名画》等

——摘编自任谢元《晚清时期画报画刊出版的历程、特点及影响》

根据材料及所学,谈谈你对晚清时期画报画刊出版这一历史现象的认识。

45. 阅读材料,完成下列要求。(15 分)

**材料** 一战中,英国政府成立了战争宣传局等专门机构,利用报刊、传单、漫画、书籍等形式展开有战争史以来最大规模的宣传战。报刊、书籍、漫画主要供国人阅读,官方出版物旨在影响中立国政府和民众,传单则用飞机撒向敌战区的平民和德军。英国的宣传家们相信,在信息不对称的环境下,像是事实的谎言,有时会收到奇效。如 1915 年英国就把德军一次割下数百名比利时少女耳朵的传闻当成事实煞有介事地广为宣传。为确保英国的正义形象,英国官方还对宣传内容实行严格的检查制度,以封杀不同声音,确保舆论一致。同时,协约国定期在伦敦举行宣传工作联席会议,并设立了专门的协调宣传机构。在英国舆论的凌厉攻势面前,德国的抗辩一开始就十分被动,如德国总理关于国际公约只是“一张废纸”的不加掩饰的坦率令全世界为之震惊。因此,西方学者普遍承认英国一战时的宣传取得了巨大的成功。

——摘编自吴文武《国际法、女权保护与第一次世界大战期间的英德宣传战》

(1) 根据材料并结合所学知识,概括一战中英国宣传战取得成功的原因。(6 分)

(2) 根据材料并结合所学知识,说明一战中英国宣传战的历史作用。(9 分)

## 2023 届高三二轮复习联考(三) 文综政治参考答案及评分意见

12. C 【解析】晋国晋穆侯时期处于奴隶社会,人类社会最早形成的两大对立阶级是奴隶阶级和奴隶主阶级,这一时期金属工具得到广泛使用,推动生产力发展,②③正确。土地逐渐变成私有财产,私有制确立起来是在原始社会末期,①不符合题意。收取地租是地主阶级剥削农民的主要方式,④不符合题意。故选 C。

13. B 【解析】改革开放以来我国文化领域成绩的取得是因为坚持中国特色社会主义制度,坚持以中国特色社会主义理论为指导,①③符合题意。我国到 2035 年的目标是基本实现社会主义现代化,②错误。中华人民共和国的成立从根本上改变了中国社会的发展方向,④错误。故选 B。

14. A 【解析】材料中在推动经济高质量发展和实现共同富裕方面的要求,说明民营企业企业家要增强家国情怀,自觉践行以人民为中心的发展思想,坚持自主创新、回报社会,树立企业的良好社会形象,①②符合题意。集体经济属于公有制经济,民营企业属于非公有制经济,③不符合题意。鼓励、支持、引导非公有制经济发展是对国家的要求,④不符合题意。故选 A。

15. B 【解析】此项政策是在落实积极财政政策,有利于减轻企业成本负担,增加企业所得,扩大生产规模,①符合题意。此项政策是在加强国家宏观调控,使企业支出减少,激励创业创新,刺激经济增长,④符合题意。此项政策没有降低增值税起征点,②排除。此项政策并没有增加财政支出,③排除。故选 B。

16. D 【解析】在今年的政协会议上,环境资源界委员建言献策高度聚焦“环境资源”主业,不断提出真问题,找到好办法,可以看出政协委员聚焦社会热点重点问题,积极参政议政,③符合题意。全国政协 34 个界别中,“环境资源界”首次亮相,可以看出政协完善协商议政的内容,切实履行职能,④符合题意。材料与民主党派无关,①排除。人大代表行使提案权,政协委员没有提案权,②错误。故选 D。

17. C 【解析】全面贯彻实施宪法应完善中国特色社会主义法律体系,宣传中国宪法制度、理论,②③符合题意。提高宪法的国家根本法地位说法错误,应该是坚持宪法的国家根本法地位,①排除。提高政府依宪治国、依宪执政的能力说法错误,应该是提高党依宪治国、依宪执政的能力,④说法错误。故选 C。

18. C 【解析】统筹完善多层次资本市场体系,统筹推进发行、上市、交易、退市等基础制度改革,统筹抓好证监会自身建设,这坚持了系统优化的方法,用综合的思维方法认识事物,②符合题意。先试点再推广坚持了从矛盾的特殊性到普遍性,再从普遍性到特殊性的方法,③符合题意。联系是有条件的,任何事物之间都存在着联系的说法错误,①排除。人为事物的联系,具有“人化”的特点,但也具有客观性,不以人的意志为转移,④错误。故选 C。

19. C 【解析】提出全球文明倡议有利于世界各国不同文化更好实现交流互鉴、包容共存,促进不同文明的美美与共,构建人类命运共同体,②④符合题意。应该是尊重而非认同其他民族文化,①错误。材料与中华优秀传统文化创造性转化和创新性发展无关,③排除。故选 C。

20. C 【解析】尽管共和党占据议席优势,但由于麦卡锡遭到共和党内极端保守派强烈反对,经过 5 天 15 轮表决,麦卡锡才“艰难”当选众议院议长,由此可以看出美国两党制存在着效率低下的弊端,②符合题意。麦卡锡经过众议院议员 5 天 15 轮表决当选众议院议长,体现美国众议院议长由众议院议员选举产生,③符合题意。材料并没有涉及美国各个国家机关之间的关系,看不出其政权组织形式,①不符合题意。两党制已经不适合美国当前的政治发展的说法不符合实际,④排除。故选 C。

21. C 【解析】中法两国良好的沟通协作,有利于积极应对全球性挑战,更好推动国际关系民主化,有利于践行真正的多边主义,维护世界和平、稳定和繁荣,②④符合题意。中国坚持独立自主的和平外交政策,其他国家的外交政策与此不同,①错误。我国在维护自身利益的同时,兼顾他国合理关切,③错误。故选 C。

22. B 【解析】购房合同没有对公摊的具体项目、面积大小等进行说明,这侵犯了郑女士的知情权,①

符合题意。面对中介的侵权行为,消费者郑女士可以向有关行政部门投诉或者申请仲裁,④正确。郑女士有权委托诉讼代理人而不是辩护人帮助其进行诉讼,②错误。材料未涉及消费者安全消费的权利,③不符合题意。故选B。

23. A 【解析】经济增长5%左右的预期目标综合考虑了各方面的因素,这表明整体性是辩证思维的重要特征,①符合题意。经济增速不能过低或过高,表明在实践中要掌握适度的原则,②符合题意。材料与认识要从感性具体发展到思维抽象,事物的发展是渐进性与飞跃性的统一无关,③④不符合题意。故选A。

38. 【参考答案】

①坚持党的全面领导,贯彻落实党中央决策部署,确保人大工作始终坚持正确政治方向。②行使立法权,推进科学立法、民主立法、依法立法,遵循和把握立法规律,反映人民意志,得到人民拥护,贯彻全过程人民民主,加快完善中国特色社会主义法律体系。③行使监督权,依法实行正确、有效的监督,使人大监督更有力度、更具权威性。④充分发挥人大代表的作用,支持和保障代表依法履职,回应人民关切,做到民有所呼,我有所应。⑤十三届全国人大及其常委会五年工作坚持了党的领导、人民当家作主、依法治国有机统一。(每点2分,共10分)

【解析】本题为认识类主观题,需要结合材料信息进行分析和总结。十三届全国人大及其常委会坚决贯彻落实党中央决策部署,这是在坚持党的全面领导。通过多部法律等是在行使立法权;遵循和把握立法规律,使每一项立法都符合宪法精神、反映人民意志、得到人民拥护,是在推进科学立法、民主立法、依法立法,贯彻全过程人民民主。听取、审议有关监督工作的报告等,是在行使监督权,依法实行正确、有效的监督。全国人大代表深入基层、深入群众,了解民情、反映民意、集中民智,共提出2282件议案和43750件建议,均已办结,是在充分发挥人大代表的作用,支持和保障代表依法履职。最后总结材料,十三届全国人大及其常委会五年工作坚持了党的领导、人民当家作主、依法治国有机统一。

39. 【参考答案】

①矛盾的特殊性,是指矛盾着的事物及其每一个侧面各有其特点。(2分)②不同事物有不同的矛盾。我国经济发展形势有其特殊性,稳增长紧迫性明显提升。(2分)③同一事物在发展的不同过程和阶段上有不同的矛盾。我国经济发展已由高速增长阶段转向高质量发展阶段,要根据变化不断优化产业政策。(3分)④同一事物中的不同矛盾,同一矛盾的两个不同方面也各有其特殊性。我国经济形势既有不利因素,又存在有利因素,具有不同的特点。(3分)

【解析】本题的知识范围比较窄,因此要准确把握矛盾特殊性这部分知识,然后结合材料从矛盾特殊性的一种情形分别加以论述:当前我国经济恢复的基础尚不牢固,企业预期有所走弱,稳增长紧迫性明显提升,会议将“稳增长”摆在“三稳”首位,通过稳增长实现稳就业、稳物价,这体现出不同事物有不同的矛盾。我国经济发展已由高速增长阶段转向高质量发展阶段,这体现出同一事物在发展的不同过程和阶段上有不同的矛盾。我国经济恢复的基础尚不牢固,企业预期有所走弱,同时经济韧性强、潜力大、活力足,这体现出同一事物中的不同矛盾、同一矛盾的两个不同方面也各有其特殊性。

40. 【参考答案】

①国家利益是影响国际关系的决定性因素之一,国家间的共同利益是国家合作的基础。沙特伊朗北京对话符合两国共同利益,有利于中东地区的和平与稳定。(3分)②和平与发展是当今时代的主题。沙特伊朗北京对话通过谈判与对话解决冲突,顺应了时代潮流,有利于国际关系民主化,推动了地区和平与发展。(3分)③我国的国家性质和国家利益决定了我国奉行独立自主的和平外交政策。中国是维护世界和平与稳定的积极因素和坚定力量,是促进世界经济发展的重要力量。在中国的积极调解下,沙特伊朗恢复外交关系,有利于推动构建人类命运共同体。(4分)

【解析】本题属于说明类主观题,主要是从理论和意义角度分析。沙特伊朗对话符合两国的共同利益,有利于中东地区的和平与稳定。沙特伊朗对话顺应了和平与发展的时代主题,有利于国际关系民主化,推

动了地区和世界的和平与发展。沙特伊朗对话是在中国的积极调解下进行的,这体现了中国独立自主的和平外交政策。

41.【参考答案】(1)民法典确立了公平、守法和公序良俗等基本原则。(1分)民法典规定,不动产的相邻权利人应当按照有利生产、方便生活、团结互助、公平合理的原则,正确处理相邻关系。(2分)相邻关系一方在为自己便利行使权利时,应当照顾到相邻方的利益。(1分)案涉单元加装电梯一事手续齐全,程序合法,符合法律规定。加装电梯将给大多数业主带来极大便利,低楼层业主应当本着方便生活、团结互助的原则给予安装电梯便利。(3分)

(2)法律保护民事主体的财产权。(1分)加装电梯尽量减少或避免对相邻不动产权利人造成损害,要精心实施、人性化设计。(2分)增设电梯后的确对低楼层业主在通风、采光、通行等方面造成影响,各方亦可就补偿问题另行协商或通过法律途径另行解决。(2分)

【解析】(1)法院判决的理由可以从法律和现实两个方面作答。法律依据就是民法典的原则和处理相邻关系的原则。现实依据即本案涉单元加装电梯一事符合法律规定,并将给大多数业主带来极大便利,因此法院判决一楼两名住户立即停止对电梯安装施工的阻碍。

(2)侵权责任的承担方式有多种,可以结合本案选择合适的方式,一是尽量减少对低楼层住户的影响,二是对其进行合理补偿。

#### 42.【参考答案】

①超前思维是在多角度、全方位地分析事物的历史和现状的基础上,从事物发展的现实情况出发,认识和把握事物的发展状态,运用合理的推理和想象,判断事物未来发展趋势的思维形态。(4分)②超前思维要运用矛盾分析方法。此次部署既分析我国经济形势的不利因素,又分析经济形势的有利因素,在矛盾对立统一中推动国民经济高质量发展。③超前思维要运用推理和想象的方法。此次部署把握事物发展的因果关系,运用推理和想象的方法预测下一年的经济发展,提出切实可行的方案。④超前思维要注重调查研究。此次部署在充分调查基础上进行分析、综合,认识我国经济工作面临的各种困难和问题,对今后的经济工作作出正确的判断和预测。(②—④每点3分,任答2点即可得6分,本题最高不超过10分)

【解析】本题为说明类主观题,该类型题目要坚持理论结合材料的思路。首先是理论上说明什么是超前思维,把握超前思维的方法;其次是结合材料信息进行合理的分析。此次部署既分析我国经济形势的不利因素,又分析经济形势的有利因素,是在运用矛盾分析方法。此次部署是对下一年经济工作的安排,这是在运用推理和想象的方法。此次部署是在充分了解我国经济形势的基础上作出的,注重了调查研究。



## 2023 届高三二轮复习联考(三) 文综历史参考答案及评分意见

24. C 【解析】根据“法天贵真”“合乎人的自然情性”“影响了嵇康、李贽”可知,材料反映了庄子崇尚自然,追求自由的思想,故选 C 项。以孟子为代表的儒家主张音乐的政治、教化作用,排除 A 项;墨子认为音乐是统治阶级奢靡的生活表现且劳民伤财,排除 B 项;材料思想主旨与韩非子的法家思想内涵不符,排除 D 项。

25. B 【解析】根据材料并结合所学可知汉高祖时期“诸侯皆赋”,其权利很大,丞相是王国重要官职,地位高;而到了景帝时,为了加强对地方的控制,通过实施削藩政策,“诸侯独得食租税”,地方诸侯权力明显变小,“丞相”变成“相”,地位衰落,这是加强中央集权的需要。故选 B 项。材料降低的是地方诸侯王国丞相的地位,其实是反映了诸侯国由强到弱的变化,旨在加强中央集权,排除 A 项;材料与完善官僚政治无关,排除 C 项;“推恩令”实施于汉武帝时期,排除 D 项。

26. A 【解析】据“今虽缘渠所置确磴纺绩(借助水力推动的捣米器具和纺车)之处以千万数,四时流转而无穷”及所学可知,都江堰的重修为水力机械的使用创造了条件,有利于水利机械的推广,故选 A 项。材料内容不涉及官营手工业的技术优势,排除 B 项;材料强调修堰后水力机械被广泛使用,体现不出技术革新,排除 C 项;宋元时期经济重心逐渐南移,南北方发展并不均衡,排除 D 项。

27. C 【解析】据“亲伯叔兄弟同衙门者,令官小者回避”“均令子孙回避”“汉官在京部院祖孙父子亲叔伯兄弟回避”等信息及所学可知,清政府此举是通过回避制度以防止官员因亲属等关系徇私舞弊,从而加强官员管理,故选 C 项。材料强调亲属不能在同部院衙门共同任职,体现不出等级制度问题,排除 A 项;对汉族文化的学习,不是材料中行为的主要目的,排除 B 项;避免亲属在同衙门任职并不能起到消除民族隔阂的作用,排除 D 项。

28. D 【解析】据材料及所学可知,同文馆为了招生不仅规定学生可以拿薪水,而且薪水不断提高,这从侧面深刻反映了在传统思想的影响下,同文馆招生困难,以薪水吸引生员,故选 D 项。同文馆给学生薪水体现不出科举制的衰落,排除 A 项;材料只是提到了同文馆的学生能拿薪水,不代表所有官办学校的待遇都高,排除 B 项;材料说明洋务运动的阻力大而不是成效显著,排除 C 项。

29. A 【解析】据材料可知,铁路的修建推动了东北地区大豆及大豆制品的出口,这促进了农产品商品化,故选 A 项。仅大豆及大豆制品出口量增加体现不出农业产业布局的改变,排除 B 项;大豆的种植属于传统农业,材料中大豆的出口金额增长体现不出传统农业的衰落,排除 C 项;材料只是反映大豆及大豆制品输出总值的增加,无法体现出口货物种类丰富,排除 D 项。

30. C 【解析】根据材料及所学可知,上海在近代首先成为通商口岸,受到西方文化影响,且 1912 年中华民国建立,娱乐设施项目数量缓慢增长,至 20 年代后南京国民政府统一全国,政治环境相对稳定,娱乐设施数量明显上升,30 年代中期以后,受到抗日战争及解放战争的影响,娱乐设施数量大幅度减少,这表明政治局势的变化直接影响上海娱乐事业的发展,故选 C 项。人口增减和民族工业发展状况与图中娱乐设施数目变化曲线不相符,排除 A、B 两项;近代上海娱乐设施不仅仅存在于租界之内,结合所学可知,租界在设立与收回过程中面积的变化与图中娱乐设施数目的变化并不存在对应关系,排除 D 项。

31. A 【解析】根据“是钻社会主义工业化……并且开始要钻原子能”及所学可知,1955 年毛泽东认识到科技的重要性,“科学技术这一仗,一定要打,而且必须打好。……不搞科学技术,生产力无法提高”说明他意识到科技对生产力发展的作用,对科技重要性的认识进一步提升,故选 A 项。材料未涉及国际竞争的问题,排除 B 项;材料中毛泽东对科技的主张从“钻社会主义工业化”“钻原子能”到发展生产力,体现了其认识的提升,材料并没有明确“军用”到“民用”的转变,排除 C 项;1963 年“一五”计划已经完成, D 项说法与题干不符,排除 D 项。

32. B 【解析】材料主要体现了古代雅典对重要官员任职资格进行审查,这种官员监督制度是防止公共权力腐败的重要机制,故选 B 项。分权制衡原则表现为具体权力的划分与相互制衡,材料没有体现,排除 A 项;材料强调对九执政官的任职资格进行考察,并非行政程序且体现不出繁琐,排除 C 项;雅典民主政治鼎盛时期是在公元前 5 世纪的伯利克里执政时期,材料所述措施与政治鼎盛时期到来无直接因果关系,排除 D 项。

33. D 【解析】据材料“对于某些基督教神学的荒谬,教会因迷恋权力而导致的堕落以及因人民的盲从



与轻信而仍然影响人民生活的有害权力予以讽刺和抨击”可判断材料中的“他们”要求摆脱宫廷王权和教会神权的思想束缚,并用理性进行抨击,属于启蒙思想家,故选D项。根据“开始摆脱宫廷、教会进行创作”可排除文艺复兴与宗教改革时期的代表人物,排除A、B两项;材料与科学革命无关,排除C项。

34. D 【解析】根据“英国第三级铁路客运(为下层人民提供运输服务)人数增长了6倍”“1846—1870年,第三级客运人数的比重由不足一半提高到65%”等信息及所学可知,在工业革命的影响下,选择火车出行的人数比重及火车客运收入比重不断增加,这加速了交通服务的大众化进程,故选D项。材料体现不出城乡经济的一体化,排除A项;交通运输的商业化在此之前就已经实现,排除B项;材料强调第三级铁路客运人数与收入比重增长,体现不出推动社会观念平等化的问题,排除C项。

35. C 【解析】据材料信息可知,美国在七国峰会上,奉行美国优先的单边主义,采用的高关税政策极易加重“逆全球化”现象,故选C项。材料并未体现资本主义阵营的动荡,排除A项;材料体现不出此时存在经济危机,也看不出多极化趋势放缓,排除B项;材料中美国的做法是单方面加征关税,属于贸易保护主义,逆全球化,这与全球化的影响无关,排除D项。

#### 43. 【答案】

(1)原因:继承了前期职业教育的成果;工业革命的推动;教育思想的发展;有识之士的推动;国家立法推动或政府扶持;民间教育机构的创办等。(1点2分,共8分)

(2)特点:继承性;计划色彩明显;创新性;与生产劳动紧密结合;城市与农村职业教育并举;成就突出等。(1点2分,共8分)

意义:有利于国民经济的恢复和发展;为工业化建设提供了人才和工人;推动职业教育体系初步建立;为新时期的职业教育提供借鉴等。(1点3分,共9分)

【解析】(1)原因,根据“萌发于中世纪的英国职业教育,在19世纪后半期迅速发展”及所学可得出继承了前期职业教育的成果及工业革命的推动;根据“19世纪,马尔萨斯等人提出了教育是一项公共事业的思想,教育家阿诺德等人积极提倡发展职业教育。斯德奇等人更是直接参与职业教育”可得出教育思想的发展及有识之士的推动;根据“1889年,通过了《技术教育法》”及所学可得出国家立法推动或政府的重视;根据“创办的成人夜校就推动了机械工人讲习所运动的发展”“‘伦敦同业公会’成立了旨在从旁援助技术教育的‘伦敦市成人教育协会’”可得出民间教育机构的创办。

(2)第一小问特点,根据“建国之初中等技术教育的很多实施机构来源于旧时的公、私立职业学校”可得出继承性;根据“规定每所学校都有特定的专业方向”“中专和技工学校的毕业生由其管理部门分配工作”及所学可得出计划色彩明显;根据“国家还尝试开辟新的途径,从1958年开始,各地农村职业学校大量开办”可得出创新性;根据“开展农牧、林果、养殖以及农副产品加工等多类教学。与此同时,城市职业教育也逐步发展”及所学可得出与生产劳动紧密结合及城市与农村职业教育并举;根据“1965年,全国中专在校生54.7万人,技校在校生18.3万人,农业等职业中学在校生443.3万人”及所学可得出成就突出等。第二小问意义,根据“规定每所学校都有特定的专业方向,统称为中等专业学校。同时,由于生产部门急需补充技术工人”及所学,从推动国民经济的恢复及适应工业化发展等角度进行分析,根据“1965年,全国中专在校生54.7万人,技校在校生18.3万人,农业等职业中学在校生443.3万人,三者已占到当时中学在校生总数的34.8%”及所学,从职业教育体系及对新时期职业教育的影响等角度进行分析即可。

#### 44. 【答案】

示例:

晚清时期画报画刊的出版既是欧风美雨的产物,又受到了民族危机不断加深、民族工业不断发展的影响,有识之士的推动也是其发展的重要影响因素。(4分,任意写出2点即可)

晚清时期画报画刊的出版呈现出许多鲜明的特点,历史阶段性特征明显,时空分布不均衡,且呈现聚集特性,出版内容多元化,创办主体多元化(或国人自办逐渐成为主流)且注重运营策略。(3分,任意答出3点即可)晚清时期画报画刊的出版首先助推了出版市场的繁荣;造就了一批职业化的画报画刊出版人才,促进了出版行业的社会化分工;画报画刊以新的视觉文化形态传播了科学知识,促进了思想解放,适应了救亡图存的需要;并且留存了丰富多彩的文字图片影像,成为研究晚清历史的重要史料。(5分,任意写出3点即可)

(本题为开放性试题,答案仅供参考,其他角度合理认识可酌情给分。)

【解析】本题的解题思路可从分析晚清时期画报画刊发展的背景、特点及影响等方面入手。背景方面结合时代特征,内部从政治、经济及有识之士等因素,外部从欧风美雨的影响等角度加以分析即可。特点方面,根据四个时期的划分可得出历史阶段性特征明显;根据“共创刊 93 种,占晚清画报画刊出版总数的 73.8%;除政治中心北京外,主要集中在上海、广州等南方沿海沿江城市,其中上海最为抢眼有 72 种,占晚清画报画刊出版总数的 57.1%”可得出时空分布不均衡,且呈现聚集特性;根据“如 1905 年留日学生创办的《醒狮》、汉口黄陂街昌明公司发行的《不缠足画报》等。此外,还有些跳出‘政治圈’的画报画刊,如劝募赈灾的《图画灾民录》、专注知识介绍的《科学画报》、文化遗产保护的《中国名画》等”可得出出版内容多元;根据“教会画报画刊独步天下”“创办主体逐渐向国人自办转变”可得出创办主体多元化(或国人自办逐渐成为主流);根据“颇为重视编辑业务的改革,如 1904 年商务印书馆出版的《东方杂志》经常选登官办或民办报刊上的新闻讯息”可得出注重运营策略等。影响方面,首先从画报画刊所在的出版业领域进行分析,接着根据“兼及科学知识介绍”“刊载国内外时事、揭露帝国主义侵略、介绍西方科学技术知识”及所学可得出画报画刊以新的视觉文化形态传播了科学知识、促进了思想解放,适应了救亡图存的需要;最后还可根据“《东方杂志》经常选登官办或民办报刊上的新闻讯息,留下了回看历史场景的珍贵影像资料”及所学可得出画报画刊留存了丰富多彩的文字影像等,成为研究晚清历史的重要史料。

#### 45.【答案】

(1)原因:政府对舆论宣传作用的高度重视;宣传策略灵活有效并极尽夸张虚构之事;对舆论实施有效检查与控制;战时协约国在宣传方面协调行动;德国宣传战的失败等。(1 点 2 分,共 6 分)

(2)作用:调动了本国民众的参战热情;影响了中立国特别是美国的舆论倾向(或争取到中立国人民的同情与支持);重创了德军的形象,打击了德军的上气;为一战协约国的最终胜利做出了贡献;为二战时的舆论战提供了借鉴等。(1 点 3 分,共 9 分)

【解析】(1)原因,根据“一战中,英国政府成立了战争宣传局等专门机构,利用报刊、传单、漫画、书籍等形式展开有战争史以来最大规模的宣传战”可得出政府对舆论宣传作用的高度重视;根据“英国的宣传家们相信,在信息不对称的环境下,像是事实的谎言,有时会收到奇效。如 1915 年英国就把德军一次割下数百名比利时少女耳朵的传闻当成事实煞有介事地广为宣传”可得出宣传策略灵活并进行夸张与虚构;根据“为确保英国的正义形象,英国官方还对宣传内容实行严格的检查制度,以封杀不同声音,确保舆论一致”可得出对舆论实施有效检查与控制;根据“同时,协约国定期在伦敦举行宣传工作联席会议,并设立了专门的协调宣传机构”可得出战时协约国在宣传方面协调行动;根据“德国的抗辩一开始就十分被动”可得出德国宣传战的失败等。

(2)作用,根据“报刊、书籍、漫画主要供国人阅读,官方出版物旨在影响中立国政府和民众,传单则用飞机撒向敌战区的平民和德军”及所学,从对英国、中立国、德国、战争走向及对以后的影响等方面进行分析即可。



## 2023 届高三二轮复习联考(三) 文综地理参考答案及评分意见

1. A 【解析】仔细阅读图,从经纬度位置和海陆轮廓看,可以判断该岛国为冰岛。冰岛位于板块的生长边界上。①为海岭,位于生长边界,A 正确;②为裂谷,位于生长边界,但不是位于海洋,B 错误;③为消亡边界附近的海沟和海岸山脉,C 错误;④为海盆,位于大洋中部,D 错误。选项 A 正确。

2. D 【解析】从题干信息“该国从牙买加和圭亚那进口铝土矿”,说明冰岛发展铝生产的原料不足,A 错误;炼铝厂需要消耗大量能源,属于动力指向型,冰岛降水较多,地势起伏大,水能资源丰富,同时,冰岛位于板块交界地带,地热能丰富,D 正确。选项 D 正确。

3. D 【解析】根据海水表层盐度与降水量、蒸发量和径流量之间的关系推测,东海黑潮表层海水盐度最高的季节应是降水量少,东海陆地径流量少的冬季。选项 D 正确。

4. D 【解析】根据上题结论,影响东海黑潮表层海水盐度的主要因素应是降水量和径流量,因东海黑潮流经较低纬度,全年蒸发量的季节变化不及降水量和径流量季节变化大。选项 D 正确。

5. A 【解析】夏季因降水多,陆地径流汇入量大,黑潮暖流表层海盐度最低,与下层海水高盐度之间差异较大,故夏季海水盐度的变化率最大。选项 A 正确。

6. B 【解析】长江中下游和珠三角地区是我国城镇密集,经济发达,土地和劳动力价格高的地区,所以大面积土地和劳动力的桑蚕业逐渐萎缩,难以为继,从而转向西部发展。选项 B 正确。

7. D 【解析】由材料“宜州的养蚕季节(3月~11月)较长。目前,宜州的桑园面积已居全国县域第一”可知,宜州市适宜桑树生长和养蚕,蚕丝产业的原料供应充足;宜州市位于我国经济欠发达地区,劳动力工资水平较低,土地租金和商务成本均低,可以降低生产成本,提高经济效益。选项 D 正确。

8. B 【解析】由材料“在蚕桑品种选育、种养殖技术方面相对落后”可知,解决这一问题的关键是加大科技投入,引进科技人才,鼓励创新研发。选项 B 正确。

9. D 【解析】当竹竿影长最短时是太原地方时 12 时时,北京时间为东经 120°的地方时。两地经度约相差 7.5°,时间相差 30 分钟。北京位于太原以东,时间要早,即北京时间为 12 时 30 分。选项 D 正确。

10. C 【解析】根据日出时竹竿影子朝向西北方向判断,该日兰州市日出东南,日落西南,昼短夜长,太阳直射点位于南半球,是否向北和向南移动不得而知。选项 C 正确。

11. D 【解析】连日观测,可以通过正午竿影的变长或变短,推知正午太阳高度的变化以及该地所处的天文季节,昼夜交替为地球自转的地理意义,无法通过该方法得知当地所处的气候带。选项 D 正确。

### 36.【参考答案】

(1)希腊领土由半岛和岛屿组成,面积较小;(3分)海岸线曲折,多海湾;(3分)大陆轮廓破碎,限制流程长的河流发育。(3分)

(2)阿谢洛奥斯河流量不大;(2分)径流季节变化显著,冬季为汛期,夏季为枯水期;(2分)无结冰期,含沙量小。(2分)

(3)航运价值不高。(1分)理由:阿谢洛奥斯河多流经峡谷,河道狭窄,多急流、瀑布,不利于航运;(3分)该河流流程短,流域面积小,流经的经济重镇有限,航运价值较低。(3分)

(4)阿谢洛奥斯河两座大坝的建设,可以进行水能发电,为流域内的生产生活提供清洁电力;(2分)建大坝,拦蓄洪水,可以减轻下游的洪涝灾害,保护居民的生命财产安全,保护生产和生活设施;(2分)建大坝可以提供淡水资源和灌溉水源;(2分)利用大坝而形成的广阔水域,发展淡水养殖业和捕捞业。(2分)

【解析】第(1)题,从希腊的领土组成特点入手,分析希腊河流比较短的主要原因。

第(2)题,根据阿谢洛奥斯河流经地中海气候区,植被状况良好等信息,简述阿谢洛奥斯河流域的水文特征。

第(3)题,从河流的水文和水系特点入手,先判断阿谢洛奥斯河的航运价值的高低,并说明理由。

第(4)题,从水库大坝能够拦蓄洪水入手,从水能发电、提供淡水和灌溉水源、发展养殖等方面分析阿

谢洛奥斯河两座大坝的社会经济效益。

### 37.【参考答案】

(1)青海省海拔高,晴日多,太阳能资源丰富;(2分)气候干旱,风力强劲,风能资源丰富;(2分)地广人稀,土地资源丰富且租金低廉;(2分)有国家政策的大力支持。(2分)

(2)海南州邻近人口、城镇密集,经济比较发达的西宁市,电力消费市场广阔;(3分)输电线路短,资金投入少,电力得到有效输送。(3分)

(3)风能和太阳能属于清洁能源;(2分)在发电过程中,达到了无碳排放,有助于我国实现碳达峰的目标。(2分)

(4)地热能、水能资源。(2分)青海省位于青藏高原,多山脉和凹陷盆地,位于板块交界,地壳活跃,地热能资源分布普遍,开发价值高;(3分)青海省东部位于我国第一级和第二级阶梯交界处,地势起伏大,河流落差大,水能资源丰富。(3分)

【解析】第(1)题,从青海省气候特点、海拔、土地、政策等方面阐释青海省新能源基地建设的有利条件。

第(2)题,从接近电力市场入手,分析与海西州相比,海南州建立新能源基地的区位优势。

第(3)题,从太阳能和风能的生态属性入手,简述青海省新能源开发对实现碳达峰目标的重要意义。

第(4)题,从青海省的自然环境特点入手,指出青海省除太阳能、风能外,还可开发的清洁能源,并分析其原因。



## 关于我们

自主选拔在线是致力于提供新高考生涯规划、强基计划、综合评价、三位一体、学科竞赛等政策资讯的升学服务平台。总部坐落于北京,旗下拥有网站(网址: [www.zizzs.com](http://www.zizzs.com))和微信公众平台等媒体矩阵,用户群体涵盖全国90%以上的重点中学师生及家长,在全国新高考、自主选拔领域首屈一指。

如需第一时间获取相关资讯及备考指南,请关注**自主选拔在线**官方微信号: **zizzsw**。



微信搜一搜

自主选拔在线