

保密★启用前

2022年菏泽市高三二模考试

历史试题

注意事项：

1. 本试卷分选择题和非选择题两部分。满分100分，考试时间90分钟。
2. 答题前，考生务必将姓名、考生号等个人信息填写在答题卡指定位置。
3. 考生作答时，请将答案答在答题卡上。选择题每小题选出答案后，用2B铅笔把答题卡上对应题目的答案标号涂黑；非选择题请用直径0.5毫米黑色墨水签字笔在答题卡上各题的答题区域内作答。超出答题区域书写的答案无效，在试题卷、草稿纸上作答无效。

一、选择题：本题共15小题，每小题3分，共45分。每小题只有一个选项符合题目要求。

1. 图1是商代第一座都城偃师商城遗址平面图，内有大型宫殿建筑和军事防御设施，护城壕、排水沟、大渠一应俱全，王城、府库、兵营、城门排列井然有序。这主要反映出，商王朝

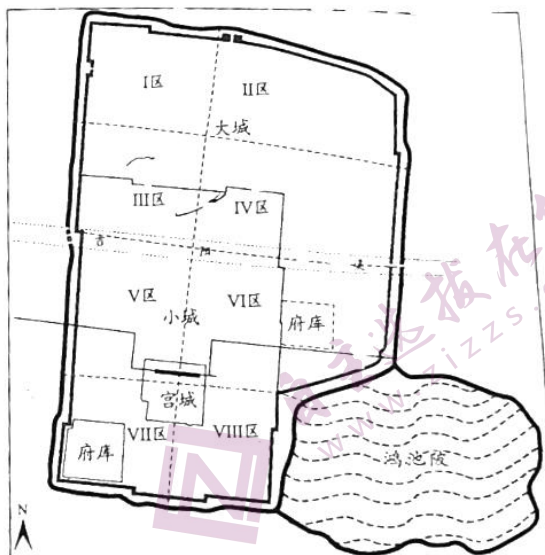


图1

2. 图2是学者阎步克对南北朝时期新兴的政治文化的比较。这反映出

- A. 南朝政治文化的成熟
- B. 南北实力的此消彼长
- C. 民族交融的历史潮流
- D. 北朝政治文化的优势

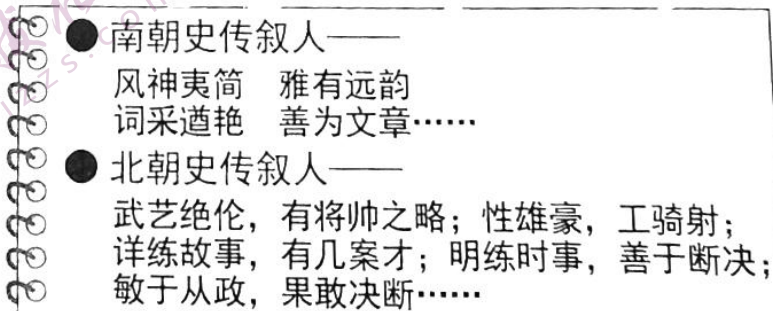


图2

高三历史试题 第1页 (共8页)

3. 有学者认为，北宋中期，地主阶级内部剧烈分化，为变法造成了一些条件，但始终没有产生过一股足以不断推动变法前进的强大力量，王安石变法中各股地主政治势力都是朝后退步。这意在说明，当时
- A. 经济的发展导致地主阶级的分化
B. 过度中央集权的弊端日益显现
C. 王安石变法不符合时代发展要求
D. 统治阶级缺乏政治自救的能力
4. “这一套复杂的财务政策在康熙朝达到高峰，其主要特征是以白银来估算并征收田赋。地主需要现金来付税，也开始要求以现金来缴交田租，而这让佃农有更强烈的动机转向可换取现金的作物”。这一财务政策
- A. 限制了海外贸易的发展
B. 有利于专制皇权的加强
C. 沿袭了明朝的一条鞭法
D. 体现出藏富于民的理念
5. 日本学者丸山松幸认为，与“墨守祖法”不切实际一样，“全盘西化”也不可能成为现实，“中体西用”论也缺乏使两者有机结合的内在逻辑；康有为的尝试虽然失败了，但他所提出的问题却寓意深远。作者肯定的康有为“提出的问题”是
- A. 学习西方政治制度
B. 传统与近代的结合
C. 以皇帝的名义变法
D. 将传统儒学宗教化
6. 20 世纪初，立宪派批评革命派的“排满”主张，认为中国“乃合汉满蒙回藏苗而共同所有之中国也”，各民族人民“皆中国国民”，满族当然也是中国人。孙中山回应：“革命的宗旨，不专在对满，其最终目的，尤在废除专制，创造共和。”由此可见，孙中山
- A. 接受了立宪派的批评意见
B. 回击了立宪派的政治攻击
C. 对民族主义有了正确认识
D. 具有百折不挠的奋斗精神
7. 表 1 是四部美国中学历史教科书对中日战争的描述。其共同之处是

表 1

教科书具体叙述	教科书书名	作者
珍珠港美军基地遭袭之前，有“大约三分之一的日军陷在了中国的泥沼之中”	《世界文明史》	斯特恩斯
尽管日军在组织和战斗技能上颇为先进，但其对中国的进攻却并未得到自己所希望的结果。	《地球人类史》	布列耶特
中共以在二战中顽强抗日而赢得了支持。	《世界的历程》	斯特雷尔
尽管中国军队没能打败……日本，但是到 1941 年，他们成功地牵制了一半的日本军队——大约 75 万士兵。	《新全球史：传统与交流》	本特利 齐格勒

- A. 明确交待了中日战争的性质
B. 对东方盟友的抗战有所肯定
C. 指出了中国抗战的历史地位
D. 详细交待了中国抗战的贡献

高三历史试题 第 2 页 (共 8 页)

8. 图3是我国东、中、西部基本建设投资比重，1953—1968年投资比重变化的原因是

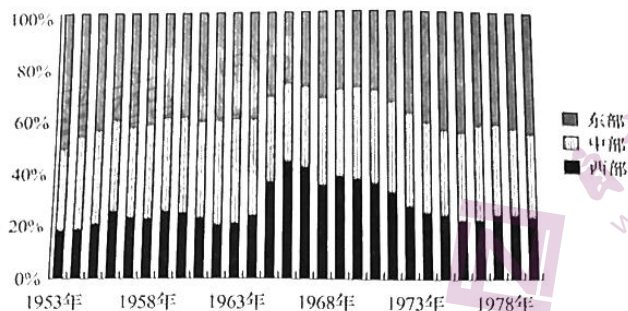


图3

- A. 一五计划的实施
B. 民族团结的需要
C. 三线建设的开展
D. 西部开发的推动

9. 图4是海外中国共产党研究趋势图。这一变化趋势的出现主要是因为

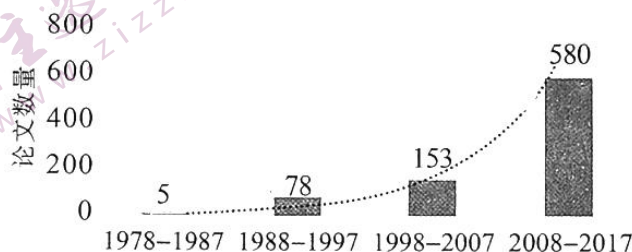


图4

- A. 西方对中国的敌意日益明显
B. 世界的时代主题发生了变化
C. 海外对中国的研究起步较晚
D. 中国发生了翻天覆地的变化
10. 中世纪晚期，欧洲诸多君主国，统治者往往大力赞助艺术，建造宫殿、树立雕像，英国的威斯敏斯特厅和温莎城堡就是其中的典型。其主要用意是
- A. 与教会争夺城市控制权
B. 宣示王权合法性以加强王权
C. 争取新兴市民阶层支持
D. 保护中世纪欧洲的文化遗产
11. “宗教不再成为人们生活的中心，所谓来世虚无缥缈的幸福也不再能迷惑人。人开始成为衡量时间的尺度。诗人们也在诗篇中抒发自己对时间的看法，通过对永恒时间与短暂生命的思考……突出了这一时代的整体风貌。”这一时间观念的变化
- A. 彰显了文艺复兴的核心精神
B. 受到了宗教改革的影响
C. 与启蒙运动的追求相辅相成
D. 是近代科学革命的产物

12. 1913年墨西哥民选总统马蒂罗被害。1914年，美国以崇高的道义为名出兵墨西哥，但遭到迎头痛击，各地革命军领袖也纷纷痛斥美国的侵略行径，美国大感意外。对此的合理解释是
- A. 墨西哥民族自决意识的增强
B. 美国利他主义行为不被理解
C. 墨西哥独立后面临新的困境
D. 美墨两国之间缺乏有效沟通
13. 李普顿一书指出：“苏联解体初期，中国“倒爷”在俄罗斯贩卖皮夹克，倒爷要多少钱俄罗斯人就给多少，皮夹克的价格比国内可以翻几倍，俄罗斯人是不会讨价还价的。”这根源在于，苏联时期
- A. 缺乏商品经济的意识
B. 经济体制的僵化保守
C. 轻工业发展相对缓慢
D. 社会福利制度的缺陷
14. 图5是1500—2000年中，美、英、日四国国家实力变迁示意图（Y轴为国家实力对比）。其中代表日本实力变迁的是

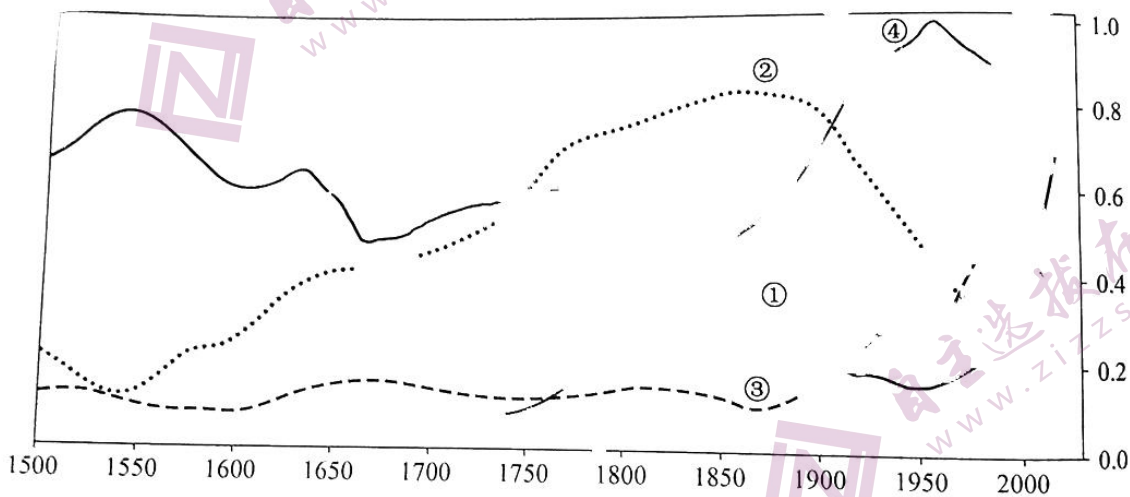


图5

- A. ①
B. ②
C. ③
D. ④
15. 图6是《联合早报》漫画“911事件20年后”，该漫画的主要寓意是
- A. 和平发展大势不可逆转
B. 恐怖主义在世界的转移
C. 美国难以甩掉政治包袱
D. 国际力量对比失去平衡



图6

二、非选择题：本题共4小题，共55分。

16. (12分) 1989~2018年，是中国边疆研究的热潮期。阅读材料，回答问题。

材料一

表2 1989~2018年30年边疆研究高频关键词统计

聚类主题词	高频关键词
边疆重点地区	新疆、清代新疆、新疆建省、新疆维吾尔自治区、云南、云南省、云南边疆、云南边疆民族地区、西藏、拉萨、日光城、噶厦政府、达赖喇嘛、十三世达赖喇嘛、蒙古、内蒙古、蒙古地区、黑龙江、黑龙江流域、黑龙江省、广西、海南岛、海南
边疆关注时段	清朝(清代、清朝、乾隆、清政府、清代前期、清廷、明清时期、康熙帝、雍正帝、乾隆朝)、明代(嘉靖、万历、明初、明廷、朱元璋)、唐朝(唐代、唐王朝、唐前期、隋唐时期)、元(元代、成吉思汗)、汉(秦汉、西汉、西汉王朝、汉武帝、两汉、东汉)
边疆治理	边疆治理、边疆政策、治理、边疆教育、对策、边疆问题、改土归流、宗藩关系、治边思想、屯田(制)、经略、土司制度、伊犁将军、驻藏大臣、社会治理、国家治理、政策、理藩院、羁縻州府、西藏地方政府、安西四镇、策略、黑龙江将军、朝贡关系、朝贡贸易、卫所、天下观

——改编自朱尖《中国边疆研究学术热点、特征与边疆内涵认知》

材料二 在清朝的前150年，领土较明帝国增加了一倍多，并大部分遗留给20世纪的后继者，被视为今日中国的疆域。中国自身历史的一些产物，被积极地移植到边疆地域，而作为文明人类社会的典范。

——摘编自(加)卜正民等《哈佛中国史·最后的中华帝国——大清》

- (1) 指出材料一中边疆研究最突出关注的地区，谈谈对其研究的重要意义。(3分)
- (2) 分析材料一、二，指出在边疆研究方面关注最多的朝代，说明其在边疆治理上的贡献。(6分)
- (3) 中国边疆研究还应关注什么问题，说说你的看法。(3分)

高三历史试题 第5页(共8页)

17. (14分) 阅读材料，回答问题。

材料

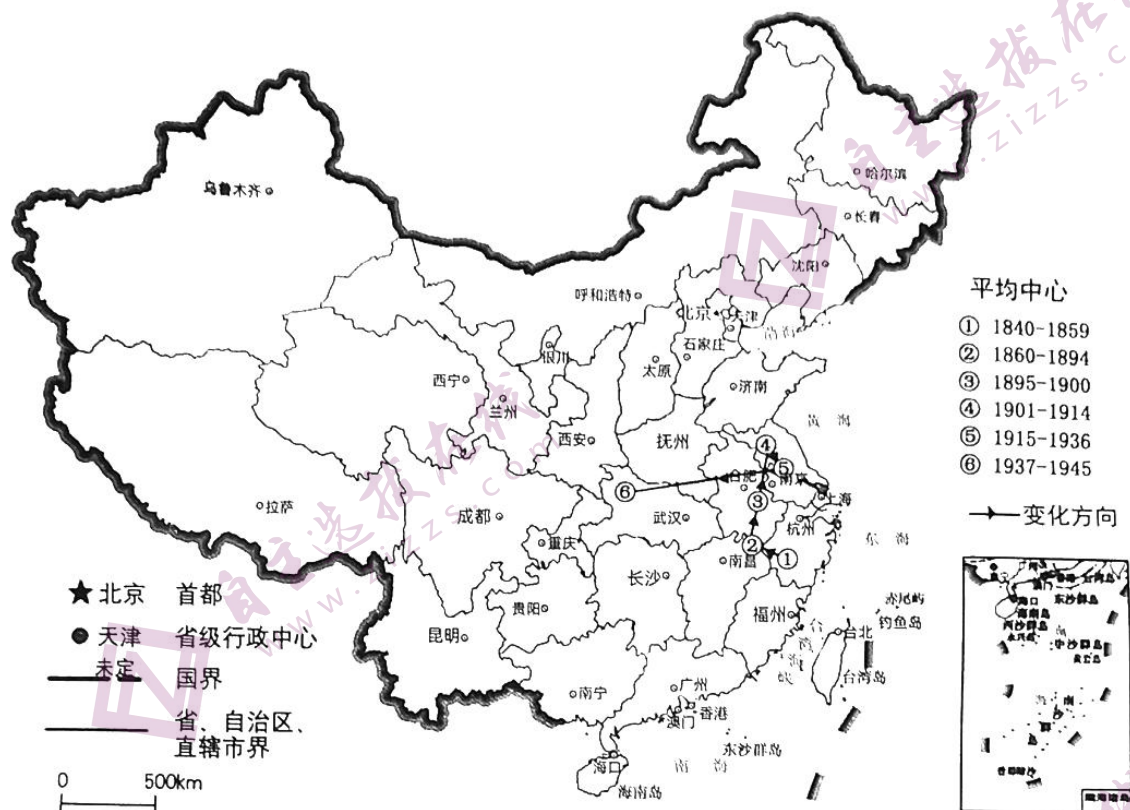


图7 中国近代工业1840-1945年平均中心变动轨迹

(平均中心：通过计算研究区域内所有工业分布的平均坐标而得出。)

——据刘静等《中国近代城市工业时空演变分析》

提取材料信息，对中国近代工业的时空演变加以阐释。(14分)

18. (13分) 阅读材料, 回答问题。

“方寸之间”的中国

材料 邮票被誉为“国家名片”, 是传播国家形象的重要载体之一。1949至2016年的68年间, 新中国共261套样本邮票中中国的国家形象发生了巨大变化。

表3 国家形象的变迁

历史年代	1949—1976	1977—1992	1993—2007	2008—2016
国家形象	革命的中国	探索的中国	现代化的中国	负责任的大国

表4 中层框架与年代的交叉表格分析

框架名称	1949—1978	1979—1992	1993—2008	2009—2016
面对挑战	88	8	3	2
团结一致	100	10	3	2
开放合作	0	37	2	2
调整转型	0	34	2	1
有所作为	0	2	42	3
深化改革	0	3	47	3
引领国际事务	0	0	14	20
发展民生经济	0	0	7	22

——摘编自杨柳等《“方寸之间”的中国：1949—2016年邮票上的国家形象变迁》

根据材料并结合史实, 围绕新中国的国家形象, 自拟题目, 写一则历史短文。(13分)

(要求: 表述成文, 叙述完整; 立论正确, 史论结合; 逻辑严密, 条理清晰。)

19. (16分) 阅读材料, 回答问题。

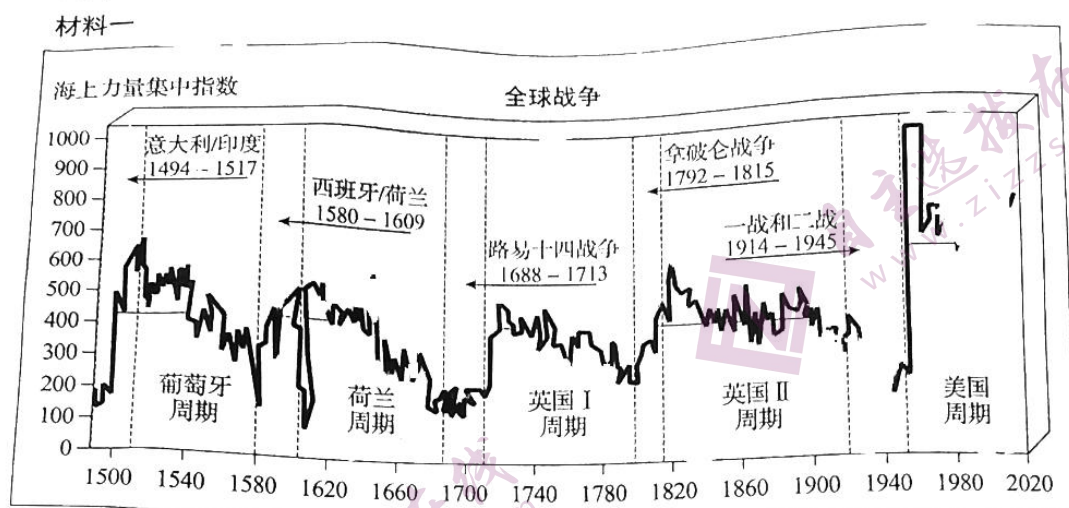


图 8

图 8 全球领导权和全球战争的长周期 (1494—2020 年)

——摘编自 (美) 香农等《世界政治——趋势与变革》

材料二 通过掌控国际规则整合力量和优势, 是美国不同于以往帝国或霸主国的治理方式。尽管自罗马帝国到英帝国, 历史上的世界或地区霸主都或多或少地运用制度移植等手段进行管理, 但广泛地运用规则主导权构建覆盖全球范围的制度网络, 却始于美国。更重要的是, 以往世界大国所确立的霸权地位与国际规则之间的共生性和从中获益都远不及二战后的美国。

——摘编自高程《从规则视角看美国重构国际秩序的战略调整》

材料三 那些预言在目前局势下保持平衡的国际关系理论, 是在 1648 年建立的欧洲威斯特伐利亚体系下发展起来的。在这个体系中的所有国家都分享着它们所认定的一种共同的欧洲文化。而今天的全球政治是和多文明化一样的多极化, 法国、俄国、中国在挑战美国霸权方面有着共同的利益, 但是文化的差异使他们难以组织一个有效的联盟去反对美国的霸权。

——摘编自 (美) 塞缪尔《全球战争与和平的前景或一超多极世界的转变》

- (1) 对图 8 中的信息加以解读。(5 分)
- (2) 分析材料二结合史实, 说明二战后的美国“不同于以往帝国或霸主国的治理方式”。(5 分)
- (3) 综合上述材料, 谈谈你对战争与和平前景的认识。(6 分)

高三历史试题 第 8 页 (共 8 页)

2022 年高考适应性测试

历史（一）参考答案

一、选择题

1.D 2.C 3.C 4.C 5.A 6.B 7.A 8.D 9.B 10.D 11.A 12.C 13.A 14.D 15.D

二、非选择题

16. (15 分)

(1) 史料来源不同，著史者的立场不同。(2 分)

(2) 高宗对岳飞的犒赏诏，记载了对岳飞郾城大捷的高度赞赏，可直接证明岳飞的战绩；金章宗的书信中对岳飞“战功暴于南北”的评价，则以来自敌方阵营的高度评价侧面验证了岳飞的卓著战功，二者相互印证、支撑。(4 分)

(3) 《金史》本纪对宗弼取胜一事轻描淡写，只字不提金军与岳家军三个月之间发生的一系列重要战役，可能是对其战绩的隐瞒；其《宗弼传》《阿鲁补传》关于岳飞和韩世忠占据州郡要害地区、岳飞袭取三州之后得到其他地区响应等细节记载能够侧面佐证岳飞大捷。故得出结论：宋金对战中，岳飞屡次取得大捷，战功卓著，创造神话。(6 分)

(4) 选择史料要有典型性、代表性；注重史料的多元性；史料之间相互参证等。(3 分)

17. (13 分)

鸦片战争后，西方列强侵略不断加深；西学不断传入；近代企业的发展；有识之士的推动等等，清政府先后进行一系列教育改革。(4 分)

教育改革主要涉及兴办新式学堂，增开天文、数学、商学等实用科目；派遣留学生出国，学习西方先进科技；改革科举考试制度。但改革的同时注重儒学等纲常礼教的学习。清政府主导的晚清教育改革呈现中学为体、新旧并存的特点。(5 分)

改革冲击了传统观念，培养了新式人才，促进了西学的进一步传播，推动了近代教育的发展，顺应了近代化的趋势。但传统思想根深蒂固，其改革无法挽救其统治。(4 分)

18. (12 分)

聂荣臻家书写于 20 世纪 20 年代初北洋军阀统治时期。信中信息反映了《二十一条》签订后列强加紧侵华、巴黎和会外交失败，北洋军阀割据混战、人民生活困苦的社会现状。聂荣臻出国留学，探索救国救民的道路，这封信充满了忧国忧民、矢志革命的高尚情怀和责任担当。(4 分)

谢晋元家书写于 1937 年日本全面侵华时期。信中记述了全民族抗战开始，正面战场国民党政府组织的淞沪会战，国民党将士英勇抗战重创日军的史实。表达了作者坚决抵抗日本侵略的坚强决心和不怕牺牲、不顾个人安危的奉献精神。(4 分)

李振华家书写于 1955 年过渡时期。信中可以看出，新中国成立，人民当家作主，革命和建设热情空前高涨。一五计划和农业集体化的实行，人民生活水平得到提高。反映了作者

积极投身国家经济建设的主人翁精神、乐观精神和奋斗精神。(4分)

19. (15分)

中世纪妇女社会地位低下，基督教会控制人们精神生活，女性阅读受到极大限制。15世纪以来，新航路开辟、殖民扩张、英国资本主义经济迅速发展，资本主义制度逐步确立；文艺复兴、宗教改革运动推动了思想解放，涌现出部分具备一定读写能力的女性。(6分)

18世纪以来随着启蒙运动的发展，自由平等思想广泛传播，女性自我意识不断提升；民主政治逐渐发展；报刊许可制废除，报刊业迅速发展，为女性阅读提供有利条件。(4分)

工业革命的开展，城市化的迅猛发展，初等教育不断推广以及政府加大对教育的支持等，女性获得大量教育和就业机会，经济地位逐步上升，独立意识增强，通过小说传达自己的心声。(5分)

关于我们

自主选拔在线是致力于提供新高考生涯规划、强基计划、综合评价、三位一体、学科竞赛等政策资讯的升学服务平台。总部坐落于北京，旗下拥有网站（网址：www.zizzs.com）和微信公众平台等媒体矩阵，用户群体涵盖全国90%以上的重点中学师生及家长，在全国新高考、自主选拔领域首屈一指。

如需第一时间获取相关资讯及备考指南，请关注**自主选拔在线**官方微信号：[zizzsw](https://www.zizzs.com)。



微信搜一搜

自主选拔在线