

德阳市高中 2020 级“三诊”考试

文科综合试卷

说明：

1. 本试卷分为两卷，第 I 卷为选择题，第 II 卷为非选择题，共14页。
2. 考生作答时，须将答案答在各科答题卡上(答题注意事项见答题卡)，在本试卷、草稿纸上答题无效。考试结束后，将答题卡交回。
3. 本试卷满分300分, 150分钟完卷。

第 I 卷 (选择题 共140分)

本卷共35小题，每小题4分，共计140分。在每小题列出的四个选项中，只有一项是最符合题目要求的。

喀什老城地处少数民族聚集区，以前城内建筑以土木、砖石结构为主，危旧房安全隐患严重。2010年，喀什正式启动老城改造。与传统拆旧城建新城异地安置的改造模式不同，当地探索出一条原地安置、就地更新的模式。2015年喀什老城景区被授予国家5A级景区称号。据此完成1~3题。

1. 与异地安置改造模式相比，喀什老城改造模式

- | | |
|------------|------------|
| A. 扩展了城区范围 | B. 节约了土地利用 |
| C. 降低了人口密度 | D. 优化了功能分区 |

2. 采用新改造模式对喀什老城区居民的主要影响有

①改善居住条件 ②缓解交通拥堵 ③延续传统文化 ④拓展活动空间

- | | | | |
|-------|-------|-------|-------|
| A. ①③ | B. ①④ | C. ②③ | D. ②④ |
|-------|-------|-------|-------|

3. 喀什老城区“原地安置、就地更新”改造模式难以在同级别城市中大规模推广，主要影响因素是

- | | | | |
|-----------|-----------|-----------|-----------|
| A. 历史文化价值 | B. 居住人口规模 | C. 土地出让价格 | D. 拆迁安置难度 |
|-----------|-----------|-----------|-----------|

改革开放初期，珠江三角洲遍布1-3层的扁平式中小企业厂房。近年来，多层“立体工厂”厂房广泛兴起，当地企业纷纷寻求“工业上楼”。根据生产设

备、生产工艺、环境、物流等不同需求，单个企业不同部门或多个企业往往集中于一栋“立体工厂”之中，选择适宜的楼层布局。电子信息企业生产设备尺寸大、重量大，且核心零部件生产不容许有较大震动。据此完成4~6题。

4. 当地企业寻求“工业上楼”的主要原因是

- A. 环保要求提高 B. 市场竞争加剧 C. 付租压力上升 D. 政府统一规划

5. 当地生物医药企业往往不与其他企业共享厂房而独立布局，主要考虑的因素是

- A. 生产设备 B. 生产工艺 C. 物流需求 D. 环境质量

6. 某电子信息企业在一栋“立体工厂”中，不同部门从低层到高层的布局应为

- A. 核心零部件生产、产品组装、产品展示
 B. 产品组装、核心零部件生产、产品展示
 C. 产品展示、核心零部件生产、产品组装
 D. 产品组装、产品展示、核心零部件生产

秦岭山脉东西绵延1600km, 南北跨度200km。自T₄（距今约240万年）至现代T₆时期, 秦岭山脉整体抬升至平均海拔2000m以上。图1示意秦岭山体剖面不同时期高度变

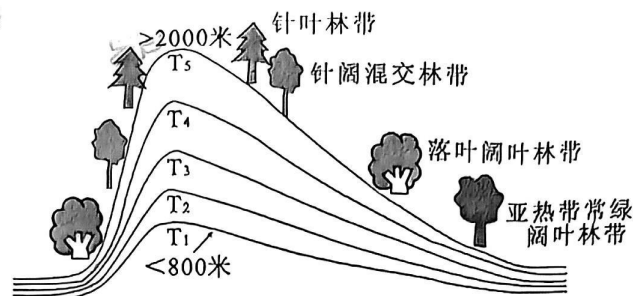


图1

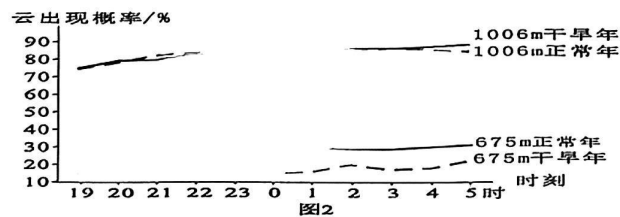
7. 与T₁阶段相比, T₅阶段图示秦岭两坡

- A. 降水量差异减小 B. 自然带类型增加
 C. 年均温差异减小 D. 植被覆盖率上升

8. 只考虑地形变化影响, T₁至T₆时期该区域常绿阔叶林带北界向

- A. 北及较高海拔移动 B. 北及较低海拔移动
 C. 南及较高海拔移动 D. 南及较低海拔移动

盛行风携带潮湿空气遇山地抬升冷却，常形成云。波多黎各岛地处北纬18°附近，北临大西洋，南滨加勒比海，中央山脉横贯东西，较高海拔区域常被云层浸没。通过对中央山脉迎风坡向675m、1006m监测区的云进行观测统计，得到正常年份与干旱年份夜间云出现概率(图2)。据此完成9~11题。



9. 该岛中央山脉不同坡向同海拔高度云出现概率

- A. 北坡低, 南坡高 B. 北坡高, 南坡低 C. 南坡高, 东坡低 D. 西坡高, 东坡低

10. 影响1006m与675m区域云出现概率差异较大的主要因素是

- A. 坡度 B. 植被 C. 风力 D. 气温

11. 与正常年份相比，干旱年份该山地迎风坡云层

- A. 云顶高度下降 B. 水平范围扩大 C. 云底高度上升 D. 夜间变化减少

12. 2023年3月31日, 人民币兑美元中间价6.8717元, 较上一交易日(3月30日)的

6.8886元上调169个基点。不考虑其他因素, 这种变化趋势带来的影响有

- ①中国在国际市场进口先进设备的能力减弱.
- ②中国企业出口美国的商品价格竞争力下降
- ③中国的投资者在外汇市场更愿意持有美元
- ④具有美元债务的中国企业的还款压力减轻

- A. ①③ B. ①④ C. ②③ D. ②④

13. 某省加快构建与居家社区机构相协调、医养康养相结合的养老服务体系，将发展智慧养老摆在重要位置，充分利用互联网、大数据、云计算等信息技术手段，建立起智慧养老管理平台、智慧养老服务平台、养老信息网。智慧养老

- ①提升养老服务质量→增强高品质服务体验→满足人民美好生活需要
- ②扩大养老有效供给→实现养老服务全覆盖→提高生活养老服务水平
- ③强化科技赋能养老→提升养老业管理效能→优化调整养老服务模式

④丰富社会优抚形式→积极应对老龄化实际→满足老年人的保障诉求

- A. ①③ B. ①④ C. ②③ D. ②④

14. 中小企业特色产业集群是定位在县级区划范围内，以新发展理念为引领，以中小企业为主体，具有较强核心竞争力的产业集群。工信部《促进中小企业特色产业集群发展暂行办法》提出，“十四五”期间，在全国范围内认定200个左右中小企业特色产业集群，引导和支持地方培育一批省级集群，此举旨在

- ①推进产业链现代化，提升产业链供应链韧性
- ②更好汇聚产业资源，充分激发县域经济活力
- ③推进产业数字化升级，提高中小企业经济效益
- ④弥补中小企业散弱劣势，提升中小企业的地位

- A. ①② B. ①③ C. ②④ D. ③④

15. 2022年中国国际服务贸易交易会举办了7场高峰论坛、100多场专业论坛和行业会议，共达成各类成果1339个，百余项新产品、新技术首发首秀，成交规模超过上届，质量进一步提升，充分展示了中国服务贸易创新发展成就，为推动全球经济贸易发展贡献了智慧和力量。这表明我国

- ①引领国际服务贸易，推动生产要素全球流动
- ②坚持开放合作共享，畅通国内国际双循环
- ③秉持人类命运共同体理念，促进共同繁荣
- ④坚持引进来与走出去并重，拓展对外贸易

- A. ①② B. ①④ C. ②③ D. ③④

16. 某市以社区为主体，建立市、区、街道、社区“四级联创机制”，建设“一刻钟便民生活圈”，积极整合街道、社区、物业、商户等各方力量，完善便民生活圈管理制度，“便民生活圈”日益成为“人民幸福圈”。“两圈”建设需要

- ①坚持以人民为中心，凝聚社会各方力量
- ②依托社区，发挥其协调各方的核心作用
- ③转变治理理念，构建多元共治共享格局

④完善协商机制，充分发挥基层协商优势

- A. ①② B. ①③ C. ②④ D. ③④

17. 近日，中共中央办公厅印发《推进领导干部能上能下规定》，要求以习近平新时代中国特色社会主义思想为指导，贯彻新时代党的建设总要求和党的组织路线，吸收全面从严治党的新鲜经验，健全能上能下的选人用人机制，推动形成能者上、优者奖、庸者下、劣者汰的用人导向和从政环境。上述规定有利于

- ①加强党的建设，保持共产党员的先进性和纯洁性
- ②建设高素质执政骨干队伍，维护人民的根本利益
- ③发挥共产党员先锋模范作用，建立党的执政基础
- ④推进党的指导思想与时俱进，使党走在时代前列

- A. ①② B. ①③ C. ②④ D. ③④

18. 内蒙古是党领导下最早成立的少数民族自治区，是我国民族区域自治制度的发源地。自治区设立75年来，内蒙古经济综合实力明显增强，2022年全区生产总值23159亿元，比上年增长4.2%。覆盖城乡的基本公共服务体系日益完善，教育、医疗、文化、体育、社会保障等事业长足发展。这些成就的取得得益于

- ①坚持以党的领导为前提的民族原则民族政策
- ②党和人民成功探索中国特色民族理论和实践
- ③在党的坚强领导下筑牢中华民族共同体意识
- ④民族自治区各级国家机关充分行使了自治权

- A. ①② B. ①④ C. ②③ D. ③④

19. 四川熊猫和青神竹编组“CP”亮相卡塔尔世界杯，向全球观众展示中国的青神竹编文化，让竹艺之花烂漫在世界各处。青神竹编是流传在四川眉山青神县的一种古老民间工艺，也是国家级非物质文化遗产，被联合国教科文组织专家称为“竹编史上的奇迹，艺术中的艺术”。材料表明

- ①文化传播离不开厚重的历史积淀
- ②艺术创作应该坚持国际化的导向
- ③文化因交流而多彩因差异而丰富

④文化既是民族的同时又是世界的

A. ①②

B. ①③

C. ②④

D. ③④

20. 谷雨，蕴含“雨生百谷”之意，是春季最后一个节气。据《淮南子》记载，“中华文字始祖”仓颉造字，感动上苍，天降谷子雨，福泽万民，后人就把这天定名谷雨。联合国将“中文日”定在谷雨这一天以纪念仓颉的贡献，并每年举行展览、讲座和中文学习论坛等庆贺活动。联合国设立“中文日”并举行庆贺活动

①有助于世界了解中国悠久的文明和灿烂的文化

②彰显了中文的独特魅力和中华文化的博大精深

③体现了汉字传承中华文明书写中华文化的作用

④实现了国际社会对中国人宇宙观天下观的认同

A. ①②

B. ①④

C. ②③

D. ③④

21. 漫画《问题与对策》给人们的哲学启示是

①人的意识活动具有主动创造性

②要充分发挥主观能动性解决问题

③要承认矛盾的普遍性分析解决矛盾

④做事情要着重抓住事物的主要矛盾



图3

A. ①②

B. ①③

C. ②④

D. ③④

22. “羲和号”成功发射以来，我国开展卫星平台超高指向精度、超高稳定度技术试验300余次，太阳光谱成像1000余次，取得了重要科研成果，创下5个国际首次，包括首次实现了对太阳氢阿尔法波段的光谱扫描成像，记录了太阳活动在光球层和色球层的响应过程。这表明

①实践的发展为人们提供日益完备的认识工具

②科学实验是主观见之于客观的能动思维活动

③实践活动始终不能摆脱社会历史条件的制约

④太阳活动复杂性决定了对其认识的不确定性

- A. ①② B. ①③ C. ②④ D. ③④

23. “作为国家领导人，人民把我放在这样的工作岗位上，我就要始终把人民放在心中最高的位置”，从小村庄到党中央，从农村大队党支部书记到党的总书记，习近平始终心怀家国、躬身为民。这体现了

- ①正确的价值选择是正确的价值判断的基础
 ②价值观对人们认识和改造世界有导向作用
 ③要把人民群众的根本利益作为最高价值追求
 ④群众观点是我们党根本领导方法和工作方法

- A. ①③ B. ①④ C. ②③ D. ②④

24. 表1 秦代至西汉中期粮食价格变化表(单位：钱/斛)

	秦始皇	汉高祖	汉文帝	汉武帝	汉宣帝
最低价	30	5000	十余至数十	30-80	5
最高价	1600	万	500	—	百余

据表1可知，在此期间

- A. 政治局势持续动荡 B. 农耕技术得到发展
 C. 土地兼并受到抑制 D. 农民税负明显减轻

25. 自汉代始，皇帝年幼，太后临朝渐成常规；北朝时更是出现了“威福兼作，震动中外”的少数民族女主。进入隋唐时期，宫廷妇女参政呈现扩大化趋势，不仅后妃干政，公主、女官等等也纷纷插手政事，蔚成一代风气。导致这一趋势的主要因素是

- A. 外戚势力的膨胀 B. 民族交融的加强
 C. 专制皇权的强化 D. 社会风气的开放

26. 北宋中叶，学者开始突破汉魏以来注重章句训诂的束缚。欧阳修撰《诗本义》，以为“先儒于经不能无失”，强调于汉代经学派别毛萁、郑玄二家之说，要尽其是而论证其不通之处。北宋儒学研究的转向

- A. 推动了儒学的唯物倾向 B. 与传统儒学思想相违背

C. 完成了儒学信仰的重建 D. 为理学崛起创造了条件

27. 明清易代，清朝改行三跪九叩礼，而越南却坚守明朝的五拜三叩礼。两国在经历了康、雍两朝的礼仪争执之后，最终在乾隆皇帝的坚持下，确立了以三跪九叩之礼作为越南君臣接受清帝诏书的礼仪。乾隆帝对越南坚持推行三跪九叩礼旨在

A. 更新传统的华夷观念 B. 维护清朝的正统地位
C. 适应国际形势的变化 D. 改善中越的宗藩关系

28. 1862年，江苏巡抚李鸿章奉命率淮军到达上海。此后，李鸿章在上海的官绅、富商、买办的支持下，开始与外国合作；为保证淮军新式武器装备和军饷的供应，上海被经营成近代军事工业与民用工业的重要发祥地。据此可知

A. 太平军遭到中外反动势力联合绞杀 B. 洋务派成为列强利益的代理人
C. 农民战争客观上推动了上海近代化 D. 地方实权派离心倾向逐渐增强

29. 表2 《新青年》在部分省份和城市销售状况统计表

地区	销售状况
湖南全省	1919年8月长沙文化书社成立，半年之内销售2000本。此前销行极少。
四川成都	1916年底初到成都时只卖了5份，3个月后，销数才超过30份。到1919年下半年，销售顿然改观。
浙江杭州	新文化刊物在杭州的集中出现是1919年夏秋以后。

从史料实证角度解读表2中的现象，最合理的是

A. 南方社会比北方更加保守 B. 爱国浪潮激发民众关注时事
C. 北京是新文化运动的中心 D. 《新青年》主流价值发生转变

30. 1945年8月烟台解放，人民政府接管了东海关，对其进行了一番改造：一方面强调海关工作人员的政治可靠性、积极开展“群众路线”式的缉私活动；另一方面，从军队和地方调入人员补充关税干部。这些改造措施旨在

A. 更好地发挥人民海关的职能 B. 巩固壮大敌后抗日根据地
C. 将战时经验运用于海关管理 D. 完善海关人才培养的制度

31. 20世纪80年代后，粤菜大规模东进、西闯、北上、南下，人们以品粤菜为时尚，以进粤菜馆为身份象征。随后，粤菜进一步向东亚、东南亚、欧美国家进军。粤菜的流行

- A. 反映出各地饮食差异的缩小
- B. 表明广东经济影响力的增强
- C. 证明了中外饮食文化的互鉴
- D. 说明人民生活水平普遍提高

32. 公元前479年，希腊联军在抗击波斯的决定性战役——普拉提亚战役中取胜，迫使波斯军队全部撤离希腊半岛。但因为雅典方面的将领是贵族阿里斯提德，这场战役在当时雅典民众中很少被提及。这反映出雅典

- A. 平民与贵族的矛盾尖锐
- B. 民主政治的弊端已显现
- C. 贵族垄断战争的指挥权
- D. 民众有较高的民主意识

33. 15世纪末16世纪初，欧洲建筑的结构成了可自由表达的艺术，外观上可自由延伸，建筑内饰也可依据雕刻家与画家的个人喜好进行制作。这反映出当时欧洲

- A. 科技进步提高了建筑水平
- B. 人文主义影响了建筑风格
- C. 建筑内饰摆脱了宗教束缚
- D. 建筑技术与工业化相适应

34. 1958年，苏联与美国进行电影交流谈判，最终苏联同意购买10部美国电影，美方同意购买7部苏联影片，

双方同意交流15部纪录片。这说明

- A. 美国重视对苏联的文化输出
- B. 冷战格局下美苏交流与对抗并存
- C. 美苏意识形态分歧逐渐消除
- D. 电影成为美苏文化交流主要形式

35. 图4所示的一组绘画作品都



杜米埃《三等车厢》

米勒《拾穗者》

列宾《伏尔加河上的纤夫》

图4

- A. 体现出作者对理想社会的追求
- B. 反映出近现代美术的发展历程
- C. 凸显出作者对人民群众的关切
- D. 利用光学的感觉加强绘画效果

第II卷(非选择题 共160分)

本卷包括必考题和选考题两部分。第36题~第42题为必考题,每个试题考生都必须作答。第43题~第46题为选考题,考生根据要求作答。

36. 阅读图文资料,完成下列要求。(22分)

智利总人口 1949.3 万(2021 年),是南美洲最发达的经济体。因公共交通体系不完善,私家车在智利民众的日常出行中扮演着举足轻重的角色,特别是通过性较好的 SUV(运动型多用途汽车)更受民众的青睐。智利对整车进口实施零关税政策,日本、韩国、法国、德国、中国等国的汽车品牌能在这里自由竞技。中国车企于 2006 年进入智利市场,经过多年的经销网络搭建和质保体系完善,中国车企赢得了良好的市场口碑。加之 2019 年后,疫情导致全球供应链受阻,华系车在智利市场占有率迅猛攀升,2022 年达到 39.7%。图 5 示意智利位置。

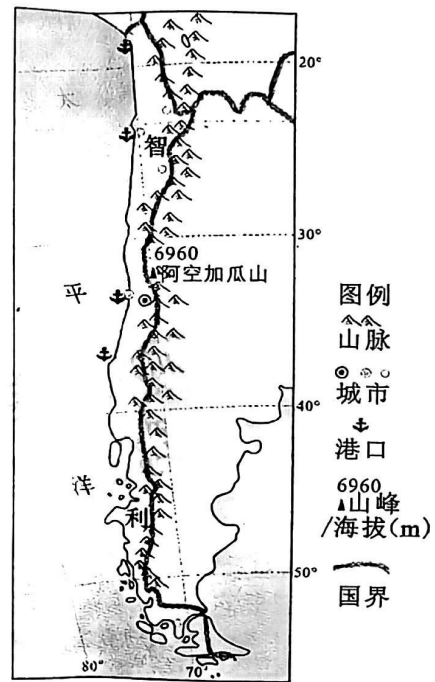


图 5

- (1) 分析智利汽车进口依赖于海运的原因。(6分)
- (2) 从地理角度说明智利汽车市场青睐 SUV 的理由。(6分)
- (3) 说明智利引进整车生产企业的有利条件。(6分)
- (4) 从产业链角度,分析 2019 年后中国汽车在智利市场份额占有率攀升的原因。(4分)

37. 阅读图文资料,完成下列要求。(24分)

第四纪(240 万年-1 万年前)至今,涪江(源头雪宝顶海拔 5588 米)冲出青藏高原后形成 Q_1 — Q_4 四个不同地质时期典型冲积扇(图 6)。受青藏高原抬升和山

前断层水平错动影响，四个冲积扇在盆地内呈东北—西南方向排布，其中 Q_3 冲积扇已完全埋藏于 Q_4 冲积扇之下。

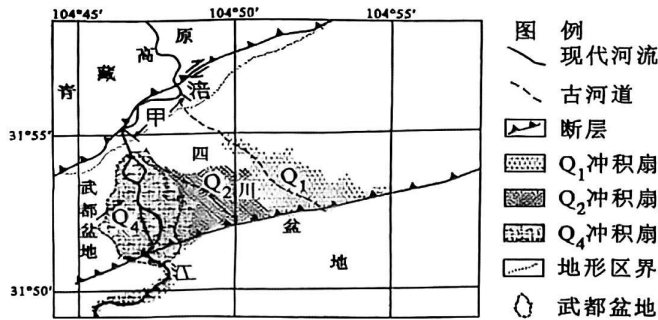


图 6

- (1) 从地壳运动角度分析武都盆地的成因。(8分)
- (2) 指出图中甲河段的河流流向，并说明该河段河谷的发育过程。(10分)
- (3) 推测 Q_4 冲积扇将 Q_3 冲积扇完全掩埋需具备的自然地理条件。(6分)

38. 阅读材料，完成下列要求。

2023年，“庭院经济”首度被写入中央一号文件。庭院经济即农户家庭院落经济，指的是农民以自己的住宅院落及周边场域为空间范围、以家庭为单位进行小规模生产经营、为自家和社会提供农业土特产品和有关服务的经济形式，是农业经济的组成部分。2022年9月底，农业农村部、国家乡村振兴局印发《关于鼓励引导脱贫地区高质量发展庭院经济的指导意见》明确提出：高质量发展庭院经济，是促进就地就近就业创业、发展乡村特色产业、拓展增收来源的有效途径。

目前，不少地区已经推出当地小而美的庭院经济建设方案，并将其作为乡村振兴的重要抓手。重庆市着重打造“小果园、小花卉园、小瓜菜园、小水产园、小养殖园”为主的“五小”涉农经济，和以“小加工、小餐饮、小民宿、小制作、小买卖”为主的“五小”非农经济。甘肃省在“牛羊菜果薯药”六大特色产业的基础上，扶持发展小庭院、小家禽、小手工、小买卖、小作坊“五小”产业，尽显乡土本色。各地积极探索形成具有自身特色的发展模式，让小

庭院逐渐焕发出大生机。

结合材料并运用经济生活有关知识，说明发展庭院经济的积极意义。(14分)

39. 阅读材料，完成下列要求。(12分)

党的十八大以来，以习近平同志为核心的党中央把深化党和国家机构改革作为推进国家治理体系和治理能力现代化的一项重要任务。面对新时代新征程提出的新任务，党和国家机构设置和职能配置同全面建设社会主义现代化国家、全面推进中华民族伟大复兴的要求还不完全适应。

党的二十大对深化党和国家机构改革作出了重要部署。党的二十届二中全会审议通过《党和国家机构改革方案》，同意将其中涉及国务院机构改革的内容提交第十四届全国人民代表大会第一次会议审议。第十四届全国人民代表大会审议并通过了国务院机构改革的决定。本轮改革旨在加强科学技术、金融监管、数据管理、乡村振兴、知识产权、老龄工作等重点领域的机构职责优化和调整，转变政府职能，加快建设法治政府。

结合材料并运用政治生活知识，概括国务院机构改革方案出台的基本程序并分析为什么要推动国务院机构改革。

40. 阅读材料，完成下列要求。(26分)

党的二十大报告中指出：“团结奋斗是中国人民创造历史伟业的必由之路”。团结奋斗是一百年来中国共产党人、中国人民、中华民族锤炼铸就的宝贵精神品质。

中华优秀传统文化中蕴含着团结奋斗精神。团结奋斗的优良传统启迪中国人民精诚团结、不懈奋斗，建立起统一的多民族国家。作为马克思主义政党，中国共产党把实现共产主义作为最高理想，把为中国人民谋幸福、为中华民族谋复兴作为初心使命，这种远大志向和抱负赋予中国共产党人始终把团结奋斗鲜明写在自己的历史答卷上，形成了党的团结奋斗优良传统，同时结合新形势不断开创出团结奋斗的新局面。

党的百年历史，是一部党领导人民团结奋斗、赢得伟大胜利的历史。土地

革命战争时期，我们党号召“唤起工农千百万，同心干”；抗日战争时期，抗日民族统一战线旗帜下“四万万人齐蹈厉，同心同德一戎衣”；新中国成立后，我们党强调正确处理人民内部矛盾，号召团结全国人民，争取一切国际朋友的支援，为了建设一个伟大的社会主义国家而奋斗；党的十一届三中全会强调解放思想，实事求是，团结一致向前看，号召为把我国建成现代化的社会主义强国而奋勇前进。党的十八大以来，习近平总书记反复强调：“团结就是力量，奋斗开创未来；能团结奋斗的民族才有前途，能团结奋斗的政党才能立于不败之地。”

(1) 传承和弘扬团结奋斗精神对建设中国特色社会主义文化意义重大，结合材料运用文化生活的知识加以说明。(10分)

(2) 结合材料，运用社会历史主体的知识，分析中国共产党是如何领导人民团结奋斗，创造历史伟业的。(12分)

(3) 中华优秀传统文化中蕴含着团结奋斗精神，请列举两条体现团结奋斗精神的名言名句。(4分)

41. 阅读材料，完成下列要求。(25分)

材料一 1880年，法国共和国政府颁布法令，决定把7月14日作为国庆日。1889年，法国政府制定了纪念大革命100周年的计划，其中各种节日和庆典活动有20余项之多。5月5日，法国政府在凡尔赛举行纪念三级会议100年的仪式。全国各地都有游行、演说、栽种自由树以及散发《人权和公民权宣言》等活动。法国各地教育督察还发布通告，要求教师向学生讲述大革命的意义，并且向他们所居住地点的成年人描述革命所带来的好处。到7月14日，庆祝活动更为盛大、持久。仅以巴黎为例，便有盛大的游行和规模巨大的音乐会，整个巴黎到处都是欢庆活动。

——摘编自顾杭《1889年法国大革命100周年纪念活动及其历史作用探析》

材料二 1941年10月6日，中共中央发出《关于纪念今年双十节的决定》，提出隆重纪念辛亥革命30周年。10月10日，延安举行了“盛况空前”的纪念活

动。“到会者有延安大学等80余单位，共3万余人，四邻民众也扶老携幼，赶来参加”。朱德等人发表了热烈演说，“强调坚持团结，抗战到底，并追忆孙中山缔造民国之丰功伟业”。延安四大礼堂分别举行晚会，演出话剧、平剧。《新华日报》发表了《为民主共和而斗争》的纪念文章，号召建立“全世界反法西斯统一战线”，以争取民主共和斗争的胜利。延安成为纪念辛亥革命的又一中心。

——摘编自朱斌《论抗日战争时期中国共产党对辛亥革命的纪念》

- (1)根据材料一并结合所学知识，概括法国大革命100周年纪念活动的特点。(8分)
- (2)根据材料二并结合所学知识，说明与法国大革命100周年纪念活动相比，抗战时期中国共产党纪念辛亥革命30周年活动有何不同，并简析其原因。(10分)
- (3)根据材料二并结合所学知识，说明抗战时期中国共产党纪念辛亥革命的意义。(7分)

42. 阅读材料，完成下列要求

材料 有学者将殖民帝国形态的构成要素设计成一张“菜单”(如表3所示)，认为这些要素的结合方式决定了一个帝国的盛衰。

表3

宗主国政体	目标	公共利益	统治手段	经济制度	谁受益	社会特征
暴政制	安全	和平	军事	种植型	统治精英	种族灭绝型
贵族制	沟通	贸易	官僚政治	封建型	都市人口	等级分化型
寡头制	国土	投资	殖民	重商型	殖民者	转化型
民主制	原材料	法律	非政府组织	市场型	本地精英	同化型
	人力	治理	公司	混合型	所有居民	
	地产收益	教育	本地精英代表	计划型		
	税款	文化转化				
		健康				

——摘自(英)尼尔·弗格森著《巨人》

根据材料并结合所学知识，从菜单中任取三个要素，并以世界史上某一殖民帝国的盛衰状况为例说明选取的理由。（要求：明确列出所选要素，每栏仅可选取一个要素，要素之间应有逻辑联系，史实准确，理由充分，表述清晰。）

请考生在第43、44两道地理题中任选一题作答，如果多做，则按所做的第一题计分。作答时用2B铅笔在答题卡上把所选题目的题号涂黑。

43. [地理——选修3:旅游地理] (10分)

一定空间范围内，旅游资源级别高、特色显著、产品品牌效应大的旅游地，常对其他旅游地形成“遮蔽效应”。重庆大足石刻1999年被列入世界文化遗产，现已建成5A级旅游景区，接待游客众多。四川安岳县距离大足石刻80km，有“中国石刻之乡”的美誉，石刻群散布于全县16个乡镇，雕刻题材极为丰富，被学术界认为有“上承云冈、龙门，下启大足”的历史价值，目前主要接待周边散客以及科学考察团，客流量较小。2022年，川渝两地达成协作意见，拟共同打造石刻旅游精品线路。

说明川渝两地联合开发石刻旅游中，安岳石刻为避免大足石刻带来的“遮蔽效应”应采取的相关措施。

44. [地理——选修6:环境保护] (10分)

湿地深水区不利于多数水鸟栖息和觅食，传统上多采用塑料等材料制成人工浮岛，在浮岛上直接固定水生植物以改善鸟类栖息环境，但收效甚微。福建某湖区仿照自然生态环境搭建浮岛，绑接毛竹固定成浮床，浮床上铺稻草，稻草上铺5cm厚的稻田土，取生长良好的水游草(一年生植物，根系发达，带土厚度约10cm)铺设在稻田土上，并穿插种植风箱树和水稻等植被，形成相对独立的湿地水鸟栖息地。

与传统人工浮岛相比，说明此类仿生态浮岛在水鸟栖息地环境营造中的优势。(10分)

请考生在第45、46两道历史题中任选一题作答，如果多做，则按所做的第一题计分。作答时用2B铅笔在答题卡上把所选题目的题号涂黑。

45. 【历史上重大改革回眸】 (15分)

材料 明朝中叶之后，土地兼并加剧，宗藩繁衍，地方政府户籍黄册失效，赋税不均。在张居正的推动下，户部拟定《清丈条例》共八款颁行天下，“明清丈之例，议应委之官，复坐派之额……严欺隐之律，定清丈之期”。在全国各地揭开了清丈田粮的序幕，大规模的重新丈量土地，查出大量的隐田隐户。在此基础上，张居正改革税制，实行“一条鞭法”，把各州县的田赋、徭役以及其他杂征总为一条，合并征收银两，按亩折算缴纳。清丈之后，全国各地官方编纂《赋役全书》定为制度，清承明制，保留了这种财政户籍的编纂。全国清丈土地完成，一条鞭法水到渠成，较好的实现了均平赋役，充裕国家财政收入，也推动了财政体系从实物税全面转向货币税，标志着明代中国从古代赋役国家向近代赋税国家的转型。

——摘编自万明《传统国家近代转型的开端：张居正改革新论》

(1)根据材料并结合所学知识，概括张居正财政改革的特点。(6分)

(2)根据材料并结合所学知识，简析张居正财政改革的意义。(9分)

46.【中外历史人物评说】(15分)

材料 一战的爆发，导致了旧国际秩序的崩溃。美国总统威尔逊(1856—1924)试图重建国际秩序，认为美国应该不以领土扩张为目的，主张保障弱国的独立以及民族自决，支持中国的领土完整和独立自主，防止日本对中国的领土野心。这些理念，便是“威尔逊主义”的核心。为了推广“威尔逊主义”，美国媒体把威尔逊的思想与《论语》进行比较，认为美国所提倡的国际主义，与中国儒家的和平思想、普世主义并行不悖。1917—1918年间，威尔逊的理念广泛地被中国人所接受，中国人对美国好感度达到高潮，威尔逊被当时的中国人誉为“世界上第一个好人”。巴黎和会上，由于西方列强和日本的抵制，美国在山东问题上妥协，使中国直接收回胶州湾的计划落空，导致了中国人对美国和威尔逊的不信任。巴黎和会以后，威尔逊有关世界新秩序的十四点计划被中国媒体尖刻地挖苦为“14=0”。

——王笛《短暂辉煌：威尔逊主义与巴黎和会前后的中国》

(1)根据材料并结合所学知识，分析巴黎和会前中国社会对威尔逊的态度产生的

原因。(6分)

(2) 根据材料并结合所学知识，简评威尔逊主义。(9分)