

淮北市 2023 届高三第二次模拟考试

文科综合试题卷

一、选择题:本题共 35 小题,每小题 4 分,共 140 分。在每小题给出的四个选项中,只有一项是符合题目要求的。

湖南省浏阳市地处湘赣接壤处。罗霄山脉余韵悠悠,对古人而言,丛林悠远,薄雾浓云,充满魅惑之气……唐代,浏阳人李畋发明了鞭炮,被尊为花炮之父。现在,浏阳丘陵间的沟谷中,点缀着众多花炮生产车间,2022 年总产值达 300 亿元,被称为“中国烟花之乡”。如今,浏阳烟花企业已经从过去单纯制造烟花产品,升级到为全球“烟花秀”提供设计、产品、人才等全套解决方案。据此完成 1~3 题。

1. 浏阳成为花炮诞生地的主要因素有
A. 地形 原料 B. 劳动力 原料 C. 地形 文化 D. 劳动力 植被
2. 浏阳花炮生产车间多分布在丘陵间沟谷中,主要是因为沟谷
A. 地价低 B. 利于安全隔离 C. 湿度大 D. 生态环境优良
3. 浏阳烟花企业为全球“烟花秀”提供全套解决方案,直接目的是
A. 缓解环境压力 B. 增加企业利润 C. 加强文化交流 D. 提高产品质量

研究表明,现阶段长江三角洲集装箱港口演化,已处于港口区域化阶段(如图 1 所示)。读图 1 完成 4~6 题。

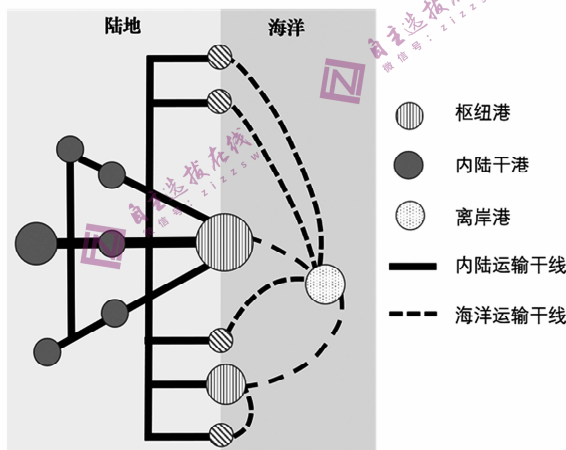


图 1

4. 长三角各港口间存在
A. 功能一致性 B. 区域均衡性 C. 空间封闭性 D. 等级差异性
5. 与枢纽港相比,离岸港
A. 航道水深更深 B. 腹地范围更大 C. 建设时间更早 D. 建设难度更小
6. 建设离岸港使枢纽港短期内
A. 交通拥堵加剧 B. 用地成本增加 C. 设备水平降低 D. 吞吐总量减少

冰川在重力作用下缓慢移动,侵蚀地表,形成U形谷。待冰川退缩后,U形谷两侧残留垄状堆积体往往形成侧碛垄。图2为我国太白山地区第四纪末期冰川遗迹。读图2完成7~9题。

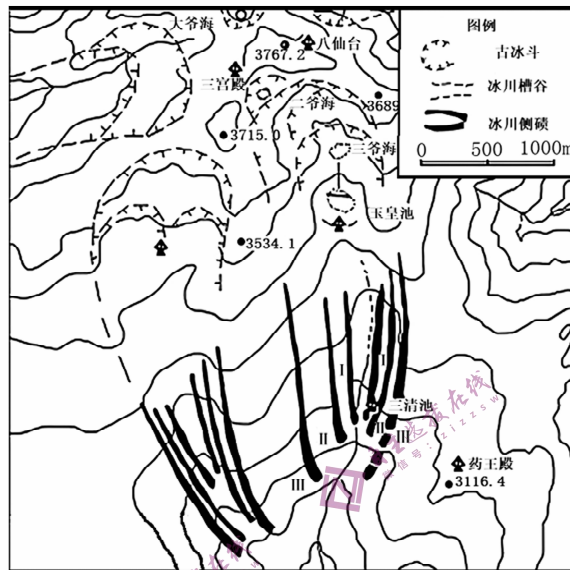


图2

7. 图中侧碛垄Ⅲ形成期间
- A. 冰川规模较大
 - B. 冰川末端持续向北移动
 - C. 冰川规模较小
 - D. 冰川末端持续向南移动
8. 图中Ⅰ、Ⅱ、Ⅲ三组侧碛垄形成的先后顺序是
- A. Ⅰ、Ⅱ、Ⅲ
 - B. Ⅰ、Ⅲ、Ⅱ
 - C. Ⅲ、Ⅰ、Ⅱ
 - D. Ⅲ、Ⅱ、Ⅰ
9. 推测第四纪冰期太白山古冰川经历了
- A. 间歇性扩张
 - B. 持续性扩张
 - C. 间歇性退缩
 - D. 持续性退缩

图3示意某季节孟加拉湾海域海面高程等高线分布(单位:cm,虚线表示负值)。据此完成10~11题。

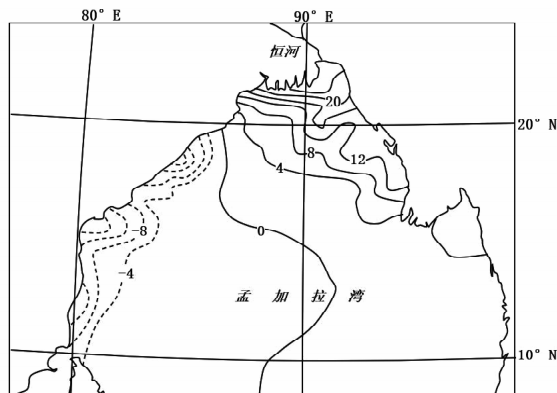


图3

10. 图示季节孟加拉湾北部海平面较高的影响因素是
- A. 冬季风 河流径流
B. 夏季风 河流径流
C. 冬季风 海水温度
D. 夏季风 海水温度
11. 随着全球气候变暖,图示季节孟加拉湾北部海平面高度变化趋势及原因是
- A. 变低 东北季风减弱
B. 变低 东北季风增强
C. 变高 西南季风增强
D. 变高 西南季风减弱
12. “中国共产党为什么能,中国特色社会主义为什么好,归根到底是马克思主义行,是中国化时代化的马克思主义行”。这一重要论述
- ①阐明了“能”“行”“好”三者之间的辩证关系
②是中国特色社会主义理论体系发展的最终成果
③标志着中国特色社会主义进入新时代迈入新征程
④对于党在新时代坚定马克思主义信仰具有重要意义
- A. ①②
B. ①④
C. ②③
D. ③④
13. 领导新民主主义革命、开展社会主义革命、进行改革开放、推动社会主义进入新时代……中国共产党带领中国人民创造了一个又一个奇迹。对此期间发生的重大事件,下列表述正确的有
- ①新中国的成立实现了科学社会主义从理论到现实的首次飞跃
②1956年“一化三改”的完成标志着社会主义制度的确立
③1978年的改革开放从根本上改变了中国社会的发展方向
④党的二十大鲜明回答了中国之问、世界之问、人民之问、时代之问
- A. ①③
B. ①④
C. ②③
D. ②④
14. 近年来,虽然我国数字经济发展迅猛,但也面临一些问题和挑战——关键领域创新能力不足;产业链供应链受制于人的局面尚未根本改变;数据资源规模庞大,但价值潜力还没有充分释放等。促进数字经济健康发展需要
- ①充分发挥市场和政府在数字资源配置中的决定性作用
②企业加快建立健全适应数字经济发展的政策法规体系
③激活数据要素潜能,以数据流促进各个环节高效贯通
④坚持创新,把创新作为引领数字经济发展的第一动力
- A. ①②
B. ①③
C. ②④
D. ③④
15. 习近平总书记在2023年全国两会上强调,要健全社会保障体系,强化基本公共服务,兜牢民生底线,解决好人民群众急难愁盼问题。这为我们进一步推动社会救助兜底保障工作提供了重要遵循和行动指引。要织密扎牢基本民生兜底保障安全网,我们需要做到
- ①兜住底——推动社会救助扩围增效,确保不发生规模性返贫
②兜准底——提高主动发现能力,全面落实由急难发生地实施临时救助
③兜好底——实行社会保障资金政府担负政策,夯实社会救助基层基础
④兜牢底——完善社会保险制度,坚决守住社会保障的最后一道防线
- A. ①②
B. ①④
C. ②③
D. ③④

16. 中国共产党领导人民实现全过程人民民主,体现于党治国理政全部活动,覆盖依法治国各个环节,具有科学有效的制度安排,具有具体现实的民主实践,是广泛真实管用的民主,既有鲜明的中国特色,也体现全人类共同价值,为丰富和发展人类政治文明贡献了中国智慧、中国方案。材料说明全过程人民民主
- ①坚持了党的领导、人民当家作主、依法治国的有机统一
 - ②画出了最大同心圆,推进了中国特色社会主义民主政治建设
 - ③通过人民政治协商会议把人民意愿和党的主张上升为国家意志
 - ④扩大了民主权利,发展了民主理论,丰富了人类政治文明形态
- A. ①② B. ①④ C. ②③ D. ③④
17. 互联网是人类文明发展的重要成果,它在促进经济社会发展的同时,也对监管和治理形成巨大挑战。发展好治理好互联网,让互联网更好造福人类,是世界各国共同的追求。实践证明,法治是互联网治理的基本方式。运用法治观念、法治思维和法治手段推动互联网发展治理需要
- ①科学立法,合理设定互联网监管部门的权力与责任
 - ②严格执法,依法追究一切网络违法行为的刑事责任
 - ③公正司法,通过程序公正有效保护网民的程序权利
 - ④全民守法,学会使用各种手段维护自己的网络权益
- A. ①② B. ①③ C. ②④ D. ③④
18. 文化遗产的开发与保护既不能片面追求发展,也不能过分强调保护。要根据各地发展条件,量力而行,区别对待,综合考虑影响开发和保护的各因素,加强“顶层设计”。文化遗产的开发与保护要
- ①发挥主观能动性,从政策出发做好“顶层设计”
 - ②一分为二,辩证地看待文化遗产的开发与保护
 - ③具体问题具体分析,依据各地不同条件精准施策
 - ④立足局部,综合文化遗产开发与保护的各因素
- A. ①③ B. ①④ C. ②③ D. ②④
19. 淮北历史文化悠久,古代十大名曲中的“高山流水”“广陵散”和“梅花三弄”谱写着淮北的古乐传奇;剪纸、面塑、戏曲等走进中小学校课堂,让孩子们在玩乐中感受非物质文化遗产魅力;文昌宫小磨香油、临涣包瓜、培乳肉、手工面皮等“非遗”美食,成为“非遗产品年货节”直播间市民争相抢购的爆品……非遗活起来、火起来、用起来,才是最好的传承与保护。材料说明
- ①非遗文化是经济的集中表现,能够促进政治经济发展
 - ②优秀文化助推经济发展,要盘活地方优秀非遗文化资源
 - ③文化交流聚合人心,要搭起不同民族非遗文化交融的桥梁
 - ④文化教化育人,传承优秀非遗文化有助于促进人的全面发展
- A. ①③ B. ①④ C. ②③ D. ②④

20. 越来越多的美国民众对美国的两党失去信心,把大选称为“从两个烂桃子中挑一个不太烂的”。美国一些学者认为,明智的政党领袖们总是按照中间路线办事,避免采取可能使大部分选民惊慌和疏远的极端做法。候选人如果不走中间路线,败选的可能性将增大。在美国两党制下,明智的政党领袖们都乐于按中间路线办事,表明
- ①两党之间的相互监督、相互制衡,更具有对人民大众的欺骗性和迷惑性
 ②两党在意识形态、阶级基础上没有本质区别,都维护资本主义民主制度
 ③两党的具体政策和主张没有差别,都代表着美国资产阶级的利益和意志
 ④在大选中获胜的党派为执政党,执政党党首担任总统,失败者为参政党
- A. ①② B. ①④ C. ②③ D. ③④
21. 2023 博鳌亚洲论坛年会以“不确定的世界:团结合作迎挑战,开放包容促发展”为主题,朝着团结合作、开放包容的方向深入交流对话,在不确定的世界中探寻确定性。与会各方探讨自身利益和共同利益、短期利益和长远利益的关系,不断凝聚开放合作共识。而中国在着力推动高质量发展的同时,主动张开双臂,敞开怀抱,与世界共享机遇,共谋发展。材料表明
- ①我国热爱和平的举措赢得世界各国的支持
 ②国际关系健康发展需协调国家间利益关系
 ③我国在国际交往中奉行双边主义反对单边主义
 ④我国在维护自身利益的同时兼顾他国合理关切
- A. ①② B. ①③ C. ②④ D. ③④
22. 民法调整平等主体的自然人、法人和非法人组织之间的人身关系和财产关系。下列案例中不属于民法调整对象的是
- ①杨某与刘某因违反交通规则被交警处罚
 ②赵某与市体育局签订 3 万元的采购协议
 ③李某与王某约定周三一起看电影,但是王某因故失约
 ④张某在小区内发布悬赏告示:找到宠物狗,1000 元酬谢
- A. ①② B. ①③ C. ②④ D. ③④
23. 2023 年 3 月 20 日至 22 日,国家主席习近平应俄罗斯联邦总统普京邀请,对俄罗斯进行了为期三天的国事访问。有媒体评价:“此访既是中国最高领导人三年多来首次访俄,也是新一届中国政府外交开篇之作,更是一次友谊之旅、合作之旅、和平之旅。”该媒体的评价
- ①是复合判断中的联言判断 ②是简单判断中的关系判断
 ③是复合判断中的选言判断 ④为真的前提是各支判断都为真
- A. ①② B. ①④ C. ②③ D. ③④
24. 平王东迁后,认为“周德虽衰,天命未改”,时人却称颂“齐、晋亦唯天所授”,吴越也“唯天所授”等。这表明当时
- A. 天命观念开始发生改变 B. 周王室统治合法性受到质疑
 C. 争霸战争导致礼崩乐坏 D. 多个政治权力中心同步出现

25. 考古发现,秦汉时期中原地区的水井按垒制材料分为土井、瓦井、陶圈井和砖井,多集中分布于冶铁遗址密集的环嵩山地区、南阳盆地和黄淮平原西南部。由此可知,秦汉时期中原地区
- A. 经济发展格局严重不平衡
B. 政府重视灌溉工程的建设
C. 工农业生产影响人口布局
D. 生活方式由地理条件决定
26. 宋代以前,民众对善政的地方官员,往往采取向官府陈状、直诣宫阙、遮道攀辕等方式乞求留任。宋初朝廷只禁止诣阙方式,徽宗至南宋时期则禁止任何乞留。这一变化反映出
- A. 官员久任是地方割据的根源
B. 政府强化对地方政治的调控
C. 朝廷有意塑造和谐政治氛围
D. 民众诉求左右选官制度调整
27. 明朝政府编修《大明一统志》,所构建的疆域观未包括边疆地区尤其是长城以外的“三北”。清朝前期设一统志馆,隶属于内阁,选用内阁、翰林院等官员充任,《大清一统志》由各省县、蒙古等藩属、部分海外朝贡国的地志汇编而成。清朝这一举措
- A. 意在构建新型“大一统”观念
B. 实现对文化思想的全面控制
C. 强化了对“康乾盛世”的认同
D. 沿用了中原王朝的修史制度
28. 1935年,蒋介石发起“新生活运动”,将英国艺术家威廉·莫里斯追求民主和自由的“生活艺术化”概念引申为具体的职业道德规范,同时认为“礼乐射御书数之六艺运动,不难使国民循序渐进于劳动创造武力之习练与整备。”这说明,新生活运动
- A. 塑造了国民劳动精神
B. 实现了生活的军事化
C. 服务于政治统治需要
D. 恢复了儒家礼教传统
29. 图4是1953年为庆祝“三八国际妇女节”而发行的邮票《纺织女工》,面值800圆(注:旧版人民币,等于新币8分)。这枚邮票可以用来说明



图4

- A. 国家积极调动女性的现代化建设热情
B. 通货膨胀问题得到了彻底解决
C. “一五计划”推动了经济结构合理调整
D. 公私合营促进纺织业迅猛发展
30. 希腊古典时代,入侵者会把军队开入对方最好的平原,如果对方拒不出战,则会火烧庄稼,砍掉葡萄藤和橄榄树。双方作战的主力是以农民为主的重装步兵,多以方阵形式开展正面决战。这可以说明,当时
- A. 城邦混战加重农民赋役负担
B. 战争形式凸显农耕文明特色
C. 区域战争加速古典文明发展
D. 民主政治体制影响军事策略

31. 在中世纪城市存在的五六个世纪中,无论哪个国家的哪个城市,都没有公开张扬要建立等级制度,在法理上规定社会等级。城市即使呈现出等级分层,也是以财富为基础的,理论上,人人都可通过发家致富而进入城市上层。这一现象
- A. 实现了社会成员的平等
B. 体现了社会契约理念的普及
C. 反映了阶级结构的改变
D. 得益于商品货币关系的发展
32. 图 5 为乔托(1266—1337 年)的代表作《哀悼基督》(局部),描绘了圣母玛利亚看到耶稣遇难后的场景。画面中的玛利亚无力地坐在地上,轻轻抚摸着死去的儿子,那悲伤与无奈的神情,充分体现了慈母的爱怜。该作品



图 5

- A. 彰显了人文主义精神
B. 背离了基督教的信仰
C. 引领了美术变革潮流
D. 代表了宗教改革诉求
33. 萨尔瓦多在拉丁语中意为“救世主”,除了中南美洲的萨尔瓦多共和国,巴西、墨西哥等美洲大陆国家也有超过 30 座以“萨尔瓦多”命名的城市。这一现象的出现源于
- A. 拉丁语系的影响
B. 美洲原生文化的没落
C. 西方的殖民扩张
D. 欧美政治制度的移植
34. 1935 年 3 月,德国宣布已经拥有一支空军,随后又向英法等国表示将实行义务兵役制,并建立一支约 50 万兵力的陆军。对此,英法等国实际上予以了默认。据此可知,当时
- A. 德国取得了军事上的优势地位
B. 凡尔赛—华盛顿体系已经解体
C. 民族复仇主义刺激了纳粹崛起
D. 绥靖主义助长法西斯势力扩张

35. 表 1 苏联工业部门(1966—1980 年)经济数据分析表

年度	平均物耗率(%)	不变资本贡献率(%)	科技贡献率(%)
1966—1970	58.7	81.5	4.74
1971—1975	60.8	58.9	33.2
1976—1980	62.4	47.6	38.9

(注:不变资本指用于购买生产资料的固定投资部分)

据此可知,苏联

- A. 经济改革成效明显
- C. 国民经济逐渐停滞

- B. 有意追求集约化经济模式
- D. 摆脱了计划经济体制束缚

二、非选择题:本题共 9 小题,共 160 分。

36. 阅读图文资料,完成以下要求。(26 分)

福建省尤溪县的联合梯田开垦于唐代,经过漫长的历史演化,逐渐形成了“水源林—聚落—梯田—复合景观”的空间分布格局。因“稻鸭共作”“稻鱼共作”等传统稻作体系和丰富的传统农耕文化,联合梯田被联合国评为“全球重要农业文化遗产”。2000 年以来,当地家具、采矿产业发展迅速,对传统农业生产造成巨大冲击。2017 年,为保护农业文化遗产,当地成立了旅游公司,初步实现废弃梯田复垦及传统文化的现代回归。

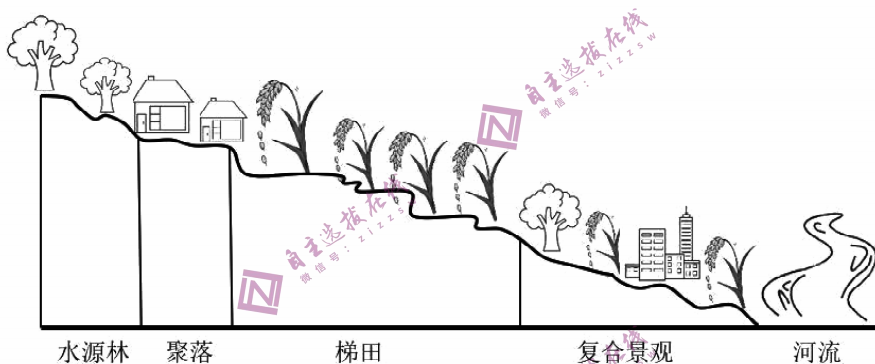


图 6

- (1) 分析该地聚落最初建在梯田上方而非河谷地区的原因。(6 分)
- (2) 近年来,与传统聚落相比,河谷地区聚落规模不断增大,试分析原因。(6 分)
- (3) 阐述家具等产业的发展对传统稻作体系的影响。(8 分)
- (4) 为保护农业文化遗产,推测旅游公司采取的主要措施。(6 分)

37. 阅读图文资料,完成以下要求。(30 分)

厚田沙地被誉为“江南第一沙漠”,该地大风日数多且集中于冬季(位置和频次见图 7a),研究表明:厚田沙地沉积物的粒度大小与东亚季风强度密切相关,干冷的气候环境有利于发育颗粒较粗的沙丘砂,末次冰期以来,该地沉积物出现序列沉积(见图 7b)。调查发现,近年来厚田沙地面积基本稳定,沙地旅游业快速兴起。

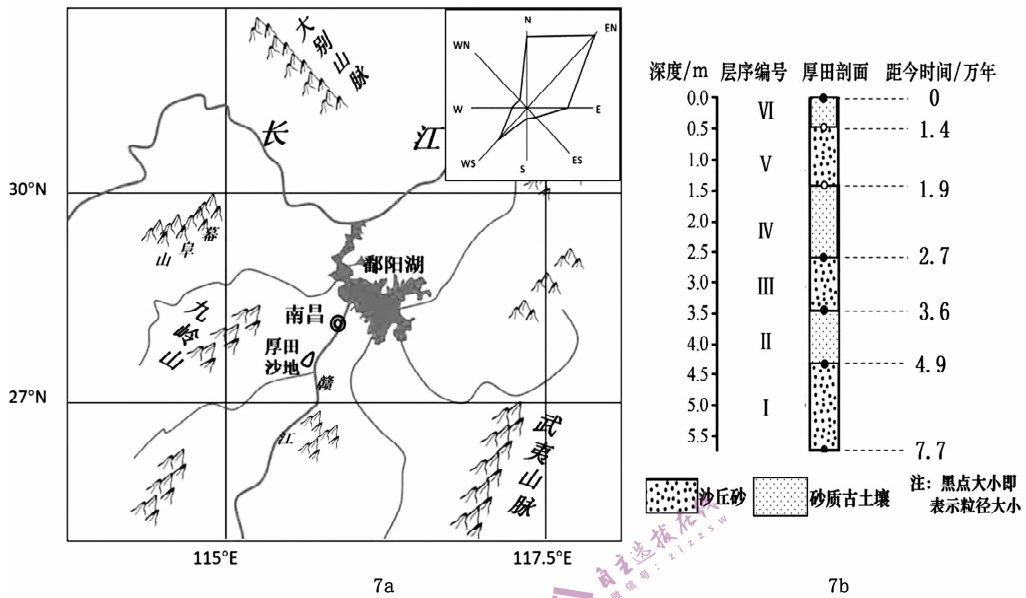


图 7

- (1) 试解释厚田沙地冬季风风速较大的原因。(6分)
- (2) 厚田沙地被誉为“江南第一沙漠”，试描述其形成过程。(6分)
- (3) 根据沉积物粒度大小和序列，推测末次冰期以来，当地气候的演变特点。(6分)
- (4) 近年来厚田沙地没有继续扩张，试说明原因。(8分)
- (5) 当地经历了“惧沙—治沙—人沙共存”的几个发展阶段，试从人地关系的角度谈谈你的两点感受。(4分)

38. 阅读材料，完成下列要求。(10分)

马克思主义科学揭示了人类社会的发展规律，指明了人类寻求自身解放的道路，极大地推进了人类文明进程。但马克思主义并没有结束真理，而是开辟了通向真理的道路。习近平总书记指出，马克思主义是不断发展的开放的理论，本土化才能落地生根，时代化才能充满生机。只有把马克思主义基本原理同中国具体实际相结合、同中华优秀传统文化相结合，坚持运用辩证唯物主义和历史唯物主义，才能正确回答时代和实践提出的重大问题，才能始终保持马克思主义的蓬勃生机和旺盛活力。

结合材料，运用政治与法治的知识，分析坚持“两个结合”对加强党自身建设的意义。(10分)

39. 阅读材料，完成下列要求。(22分)

材料一

“家文化”是传统文化中最大的内容，也是最主要的部分，中国人以“修身、齐家、治国、平天下”来说明“家”与“国”的关系。“家”对中国人有着特殊的意义，从家庭到家乡，再到国家，一脉相承。



图 8

材料二

1999 年中央电视台春节联欢晚会上,一曲《常回家看看》激起了人们强烈的情感共鸣,表达了中华儿女对家的那份亲情,以及父母对子女的心声。2012 年修改的老年人权益保障法,对赡养人的“精神慰藉”义务进一步细化,明确规定:与老年人分开居住的家庭成员,应当经常看望或者问候老年人。该条回应了老年人关切,得到社会一致肯定和赞同。但是,因涉及具体行为,强制执行的难度远比给付金钱案件大得多,实施过程中存在一定的困难,强制执行的社会效果也不好。“谁言寸草心,报得三春晖”,“常回家看看”应当是子女们发自内心的道德行为,而不应是法律强制的结果。为推动相关法律规定内化于心,外化于行,十年来,人民法院通过深化家事审判方式和工作机制改革,进一步更新审判理念,更多关注当事人的情感利益,加大心理疏导力度,通过家事调查、家事调解等方式,晓之以理、动之以情,让子女明白“精神赡养”和“物质赡养”同样重要,取得了较好的效果。

- (1) 结合材料,运用文化遗产与文化创新的有关知识,谈谈家文化的当代价值。(10 分)
- (2) 结合材料,运用法律与生活的有关知识,谈谈你对家庭责任的理解。(8 分)
- (3) 有人认为,如果运用法律强行约束子女,用一纸判决去规范子女遵守孝道探望父母,这种履行判决书式的探望已经变质,亲情就没有了实际意义,因此,道德比法律更加重要。请运用法律与生活知识,谈谈你对该观点的理解。(4 分)

40. 阅读材料,完成下列要求。(10 分)

材料一

机器换人是推动传统制造业实现产业转型升级的一项重要举措,它以现代化、自动化的装备提升传统产业,推动技术红利替代人口红利,已成为新的产业优化升级和经济持续增长的动力之源。

材料二

西安国际港务区坚持以“建设世界一流内陆港,打造‘双循环’核心枢纽”为目标,全力构筑效率高、成本低、服务优的国际化现代物流体系。今年以来,西安国际港务区持续扩大中欧班列长安号优势,班列开行量持续稳定增长。截至 3 月 21 日,开行量达到 1006 列,开行量、货运量、重箱率等核心指标稳居全国第一。

结合材料,运用当代国际政治与经济的相关知识,说说科技发展是如何推进经济全球化的。(10分)

41. 阅读材料,完成下列要求。(10分)

走中国式现代化道路,全面建成社会主义现代化强国,总的战略安排是到本世纪中叶把我国建成富强民主文明和谐美丽的社会主义现代化强国。中国式现代化是我们党领导全国各族人民在长期探索和实践中历经千辛万苦、付出巨大代价取得的重大成果,首先要从理论和实践中深刻理解中国式现代化的科学内涵,即人口规模巨大的现代化、全体人民共同富裕的现代化、物质文明和精神文明相协调的现代化、人与自然和谐共生的现代化、走和平发展道路的现代化;从更宏阔的视角,我们要认识到中国式现代化创造了人类文明的全新形态,打破了“现代化=西方化”的迷思,其蕴含的独特世界观、价值观、历史观、文明观、民主观、生态观等及其伟大实践,是对世界现代化理论和实践的重大创新,进而更加坚定以中国式现代化全面推进中华民族伟大复兴的信念。

结合材料,运用超前思维的有关知识,谈谈你对“中国式现代化”的理解。(10分)

42. 阅读材料,完成下列要求。(25分)

材料一

先秦儒家有着丰富的人口伦理思想。孔子称赞卫国人口富足,指出“足食、足兵”百姓就会信任统治者。孔子把人口分为“君子”和“小人”;孟子则进一步把人口分为“劳心者”和“劳力者”;荀子将人口划分为“士农工商”,认为“工商众则国贫”。孔子认为人民生活富足后就应该接受教育,要以德为先、全面发展,培养为国效力的合格人才,充分肯定了人的社会性,主张“礼之用,和为贵”,重视人的身心和谐。孟子首次系统提出了建立“人和”社会的理念,认为战争、政治胜负的关键是“人和”。

——据蒋琴《先秦儒家人口伦理思想初探》等

材料二

1894年,孙中山认为“今日之中国,已大有人满之患矣”。1924年,他却指出中国面临“亡国灭种”的威胁。相比人口数量,孙中山更重视人口的其他问题。1912年3月,孙中山颁布“飭外交部妥筹禁绝贩卖猪仔及保护华侨办法令”等,同时力主引进外资和“外才”;在国内移民方面以国家的力量来主导,以外国有经验的人士辅助,达到发展经济、舒缓人口和巩固边防的作用。他还主张人生而平等,“天赋人权,男女本非悬殊,平等大公,心同此理”;在教育、养老、医疗、卫生等方面也提出了很多设想,以“为人民谋社会种种之幸福”。

——据李道缉《孙中山人口思想刍议》

(1) 根据材料一并结合所学知识,指出先秦儒家人口思想的主要内容,并简析其产生的背景。(12分)

(2) 根据材料二并结合所学知识,概括孙中山人口思想的特点。(8分)

(3) 根据以上材料并结合所学知识,谈谈你对中国古代、近代人口思想的认识。(5分)

43. 阅读材料,完成下列要求。(12分)

材料

国旗是近代民族国家的象征,近代中国在不同历史时期出现了四种不同的国旗。



图9

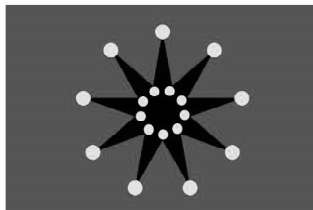


图10



图11



图12

图9:清政府黄龙旗,黄底、青龙、红珠,象征皇权。(1888年)

图10:十八星旗,又称首义旗,十八颗星象征清朝内地十八行省。(1911年)

图11:五色旗,又称五族共和旗,1912年被定为中华民国国旗。

图12:青天白日满地红旗。青天白日旗(图12左上角),是辛亥革命时期制定的第一面旗帜,由兴中会会员陆皓东设计,中国国民党沿用为党旗。1925年后,广州国民政府将“青天白日满地红旗”作为中华民国国旗。

根据材料,提出一个论题,并结合中国近现代史的相关史实加以说明。(要求:论题明确,持论有据,表述清晰。)

44. 阅读材料,完成下列要求。(15分)

材料

1931年,英国违背金汇兑本位制,停止英镑自由兑换黄金并大幅贬值,这使美、法等金本位制国家遭受了严重损失,以英国为首的英镑集团、以法国为核心的金集团和以美国为首的美元集团先后成立,加剧了国际货币关系的混乱。1933年,美英法召开伦敦货币会议,大多数代表认为货币稳定是摆脱经济萧条的根本,然而罗斯福更关注美国“健全的内部经济体制”,这熄灭了英法与美国达成货币稳定协议的希望。随着英美两国经济的恢复,特别是德国加紧重新武装,促使美国积极推动美英法三方货币合作。1936年,三国达成《三方货币稳定协议》,一致同意为改善国际贸易环境而努力,“黄金价格将围绕35美元兑换1盎司的金价浮动,并愿意将之延伸至以后加入宣言的国家”。这是三方同时发表的接受法郎适度贬值、承诺相互合作来降低汇率波动的声明,也是一个没有执行机制的“君子协定”。

——据谈谭《从“货币战”到“有限合作”》

(1) 根据材料并结合所学知识,指出20世纪30年代美国货币政策的变化,并分析其变化的原因。(8分)

(2) 根据材料并结合所学知识,简评《三方货币稳定协议》。(7分)