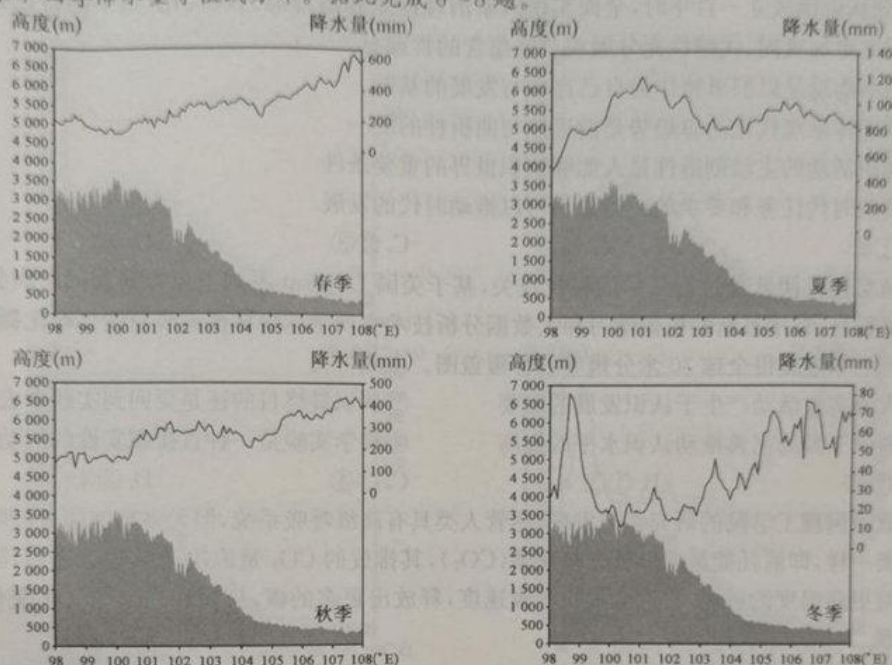



四川省位于青藏高原和长江中下游平原的过渡地带,显著的地形起伏以及多山地的特点导致其气候复杂,区域内降水差异大。下图示意四川省平均(27°N~35°N)纬向地形高度剖面(灰色区域)和四季降水量等值线分布。据此完成6~8题。



6. 四川省平均纬向降水量
- A. 春季与海拔高度大体呈正相关
  - B. 夏季峰值在 6 300 米附近
  - C. 秋季最大值出现在低海拔地区
  - D. 冬季纬向空间变化最大
7. 导致四川省平均纬向降水量季节变化的主要因素是
- A. 地形地势
  - B. 大气环流
  - C. 海陆位置
  - D. 植被盖度
8. 冬季降水峰值出现的主要原因是
- A. 西风气流与山地相互作用所致
  - B. 冷暖气流在高空形成锋面雨
  - C. 暖湿气流沿东部山坡爬升所致
  - D. 河谷气温较高,形成对流雨

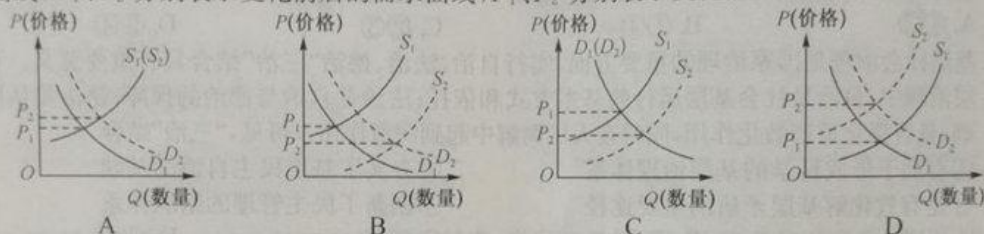
武夷山位于福建省西北部,区内森林植被茂密,植物种类繁多,保存着大量完整无损、多种多样的林带,自然带垂直分布明显。近几十年来,武夷山大量天然林被破坏,当地林业局启动了造林复绿工程。下图示意武夷山垂直自然带分布。据此完成9~11题。



【文科综合能力测试 第2页(共12页)】

9. 甲处地带性植被可能为  
 A. 积雪冰川  
 B. 高寒荒漠  
 C. 山地草甸  
 D. 高寒灌丛
10. 武夷山基带天然林被破坏后,若未受到人为干扰首先会演化成  
 A. 次生灌丛  
 B. 落叶阔叶林  
 C. 针叶林  
 D. 针阔混交林
11. 与武夷山基带相同海拔高度和坡向的天然林相比,人工林  
 A. 土壤温度高  
 B. 林冠成层性强  
 C. 土壤湿度大  
 D. 生长速度缓慢

12. 2019年12月6日,国务院关税税则委员会决定对此前受加征关税影响的部分美国大豆、猪肉等商品开展排除工作,对排除范围内商品不再加征关税。若不考虑其他因素,此政策出台后,这些相关商品未来在我国市场上变动趋势最有可能是( $S_1$ 、 $S_2$  分别表示变化前后的供给曲线, $D_1$ 、 $D_2$  分别表示变化前后的需求曲线, $P_1$ 、 $P_2$  分别表示变化前后的价格)



13. 所谓“耳朵经济”,主要指网络听书、知识付费、音频直播等新兴网络音频业务模式。下图是中国网络音频行业发展概况表。



注:国家统计局数据显示,2018年中国居民人均可支配收入28228元,比去年名义增长8.7%。其中,人均教育文化娱乐消费支出2226元,增长6.7%,占人均消费支出的11.2%。

由此可知

- ①网络音频消费增长促进该行业发展,增幅在逐渐加大  
 ②我国居民消费结构发生改变,对文化娱乐的需求持续增加  
 ③居民收入的增长是推动音频行业发展的基础性因素  
 ④网络音频价值的不断丰富从而使其使用价值得到实现
- A. ①②  
 B. ①④  
 C. ②③  
 D. ③④
14. 2019年8月,某省发布加快推进农村承包土地经营权流转的意见,提出将通过创新土地股份合作的实现形式,以土地经营权入股来发展农业产业化,进一步深化土地股份合作制改革。不考虑其他因素,下列对上述改革的传导描述正确的是  
 ①创新了集体经济的经营模式 ②带动农业产业化发展 ③推动农村混合所有制改革  
 ④促进农民收入的增收 ⑤提高农村的消费能力
- A. ①→②→⑤→④  
 B. ③→①→②→④  
 C. ③→①→④→⑤  
 D. ①→②→④→⑤

2019年12月20日,是澳门回归祖国20周年,也是《中华人民共和国澳门特别行政区基本法》实施20周年,我们可以通过系列数据了解澳门。据此完成15~16题。

15. 澳门本地生产总值(GDP)从回归之初的518.7亿澳门元增加到2018年的4447亿澳门元;2018年年底,累计财政盈余达到5056亿澳门元,外汇储备为1636亿澳门元,较1999年分别增长193倍和6.2倍。从这些数据可以推断出,澳门

- ①经济的增长有助于税收的增加
  - ②发展成就体现了社会主义市场经济优势
  - ③抵御外部风险的能力大大增强
  - ④从中高速发展阶段进入高质量发展阶段
- A. ①③                      B. ①④                      C. ②③                      D. ②④

16. 澳门特别行政区政府自成立以来,设立了“认识祖国、爱我中华”项目,至今已有6.5万名师生参与。并进一步推出“千人计划”,至今已组织超过3000名青少年到内地学习交流。这些活动的开展

- ①彰显出中华文化强大的凝聚力和区域性
  - ②有利于让澳门同胞更加坚定文化自信
  - ③为尊重文化多样性奠定了广泛民意基础
  - ④有助提升澳门人民对中华文化的认同
- A. ①③                      B. ①④                      C. ②③                      D. ②④

17. 基层社会治理是国家治理的重要方面,实行自治、法治、德治“三治”结合具有重要意义。在基层治理中,自治是社会基层运行的基本方式和依托;法治是自治与德治的保障;德治是认同基础,具有强化道德教化作用,同时在人民调解中起到润滑作用。可见,“三治”结合

- ①有助于形成科学的基层治理体系
  - ②夯实了基层民主自治的基础
  - ③是有效化解基层矛盾的重要途径
  - ④创新了民主管理的组织体系
- A. ①③                      B. ①④                      C. ②③                      D. ②④

18. 2019年11月20日,全国政协召开围绕“协同推进公益诉讼检察工作”为主题的协商议政座谈会。会议强调,要坚持党的领导,坚持以人民为中心,坚持以问题为导向,坚持在探索中前进,把这项具有鲜明中国特色的诉讼制度发展好完善好,更好维护公共利益和国家利益。从中可以看出

- ①人民政协是国家治理体系的重要组成部分
  - ②人民政协通过政治协商等形式有效行使国家职能
  - ③协商民主是党领导下的社会主义民主的特有形式
  - ④民主党派通过参政议政共同协商国家的重大事项
- A. ①③                      B. ①④                      C. ②③                      D. ②④

19. 2019年11月10日,习近平主席在希腊媒体发表署名文章中指出,面对未来,希望中希两国要加紧提升共建“一带一路”合作水平,充分发挥各自优势,把握机遇、和睦相处、务实合作,助力中欧互联互通平台发展,做中欧合作的典范。上述愿望是基于

- ①中希合作符合两国和两国人民的根本利益
  - ②构建国际新秩序应对共同挑战
  - ③中希合作发展是扩大双方共同利益的基石
  - ④和平与发展是当今时代的主题
- A. ①②                      B. ②③                      C. ①④                      D. ③④

20. 120年前,“一片甲骨惊天下”,沉睡多年的甲骨文开始走进人们视野。120年后的今天,甲骨文越来越“时髦”。“开心”“吃货”“神马(见右图)”……一组会动的甲骨文表情包在微信上走红,从高冷变得亲民,让刻在甲骨上的文字“活”了起来。这启示我们

- ①要促进优秀传统文化创造性转化、创新性发展
  - ②通过创新传播形式,不断丰富汉字的文化内涵
  - ③通过利用现代科技推动文化的继承和传播
  - ④文化与经济相互交融,要发挥科技的突出作用
- A. ①③                      B. ①④                      C. ②③                      D. ②④



【文科综合能力测试 第4页(共12页)】

21. 十九届四中全会明确提出：“到我们党成立一百年时，在各方面制度更加成熟更加定型上取得明显成效；到二〇三五年，各方面制度更加完善，基本实现国家治理体系和治理能力现代化；到新中国成立一百年时，全面实现国家治理体系和治理能力现代化，使中国特色社会主义制度更加巩固、优越性充分展现。”这蕴含的哲理有
- ①新事物总是以旧事物作为自己存在与发展的基础  
②治理体系现代化的总趋势是前进性与曲折性的统一  
③意识活动的主动创造性是人能够认识世界的重要条件  
④反映时代任务和要求的正确意识可以推动时代的发展
- A. ①②                      B. ①④                      C. ②③                      D. ③④
22. 中国某研究团队经过近三年的科技攻关，基于美国 Landsat 系列卫星数据和国产高分辨率卫星数据，利用最新的机器学习和大数据分析技术实现全球森林覆盖高精度自动化提取，在国际上率先获得全球 30 米分辨率森林覆盖图。由此可见
- ①人类实践活动产生于认识发展的需要                      ②认识最终目的还是要回到实践中去  
③科学工具的完善推动认识水平的提高                      ④科学实验是一种直接现实性的活动
- A. ①②                      B. ①③                      C. ②④                      D. ③④
23. 伦敦帝国理工学院的研究人员发现，尽管人类具有高级呼吸系统，但大多数细菌进行呼吸与人类一样，即消耗能量并释放二氧化碳(CO<sub>2</sub>)，其排放的 CO<sub>2</sub> 量取决于其呼吸速率，随着细菌对更高温度的适应，它们会加快呼吸速度，释放出更多的碳，从而加速全球气候变化。这体现
- ①矛盾的普遍性与特殊性相互联结                      ②违背自然规律必然受到规律的惩罚  
③矛盾的同一性和斗争性相互转化                      ④事物之间的联系构成了事物的变化
- A. ①③                      B. ①④                      C. ②③                      D. ②④
24. 孟子认为，没有“恒产”的人就没有“恒心，苟无恒心，放辟邪侈无不为已”，等犯了罪，再施加刑法去处置他，这是对人民的坑害，“仁人在位”哪能这样治理国家呢？这体现了孟子
- A. 重义轻利的道德观念                      B. 人性本善的哲学思想  
C. 仁政爱民的民本思想                      D. 礼法并施的治国方略
25. 汉宣帝诏云：“其令郡国举孝弟(悌)、有行义闻于乡里者各一人。”“行义闻于乡里”就是在郡国乡里受到舆论好评的人物。前者如“冯唐以孝著，为郎中署长”。这说明了汉代察举制
- A. 有利于激发官民的责任感                      B. 重视乡论与德行的考察  
C. 存在地方独揽选官的现象                      D. 孝廉成为选官唯一标准
26. 唐代中后期，节度观察使成为道一级地方行政长官，并拥有司法权。到五代时期，节度判官和观察判官并称为“两使判官”，代表节度观察使具体承担了对州县司法案件的审复工作，改变了唐初州县案件直接上报朝廷、由刑部进行审复的司法程序。这种变化
- A. 有利于进一步加强中央集权                      B. 扭转了武夫乱政的割据局势  
C. 适应国家法制化运作的需要                      D. 促进了司法审复程序的完善
27. 明中叶以来，商人经商的原始资本，有的是在宗族内集聚的，有的是借贷于族人的；在人员的组合上，有的经商者完全使用族人作为助手或伙计。这主要是为了
- A. 应对激烈复杂的商业竞争                      B. 提高家族在社会中的声望  
C. 强化家族内部的宗法体制                      D. 规避国家“重农抑商”政策

【文科综合能力测试 第 5 页(共 12 页)】

28. 以下是不同人物对魏源《海国图志》的评价。对此解读正确的是

人 物	评 语
郭士立 (19世纪中期德国汉学家)	全书塞满了对我们自己地图的可悲的模仿品,其世界地图是古老的,好像它们是一千年前画出来的。
梁启超 (维新派人物)	其书在今日,不过东隅覆瓿之价值,然日本之平象山、吉田松阴、西乡隆盛辈,皆为其书所刺激。
李少军 (当代北大教授)	通观《海国图志》,人们留下深刻印象的,与其说是它作为外部世界历史地理著作的学术价值,还不如说是它通过介绍外部世界状况来提供“制宜”谋略的思想意义和实用特性。

- A. 历史事实的评价具有多元性与系统性
- B. 学术价值是评价历史著作的唯一尺度
- C. 时代与眼界影响了对历史著作的评价
- D. 对历史著作的评价受政治因素的左右

29. 下图为1907年《日新画报》上刊登的《不开通》漫画。此画实质上反映了清末



- A. 清朝政府极力阻挠教育的变革
  - B. 男女平等思想深入人心
  - C. 新旧思想交锋表现异常的激烈
  - D. 社会转型之路困难重重
30. 20世纪三四十年代,国民政府致力于边疆教育的实施与推广,实现了从“蒙藏教育”到“边疆教育”的转换。这一转换
- A. 增强了少数民族教育的独特性
  - B. 说明了教育是抗日救亡的内在动力
  - C. 导致了民族文化差异性的消失
  - D. 一定程度上强化了民族国家认同感
31. 下表为1978—2010年中国的城市化水平。这反映了

年 份	1978	1980	1990	2000	2010
城市化率(%)	17.9	19.4	26.4	36.2	47.5

- A. 城乡二元结构差别已基本消失
  - B. 改革开放促使城市化进程加快
  - C. 我国初步改变了工业落后局面
  - D. 中国城市化发展具有不均衡性
32. 《十二铜表法》第五表第一条规定,“除威士塔修女外,妇女受终身的监护”;在《罗马民法大全》里规定,“禁止剥夺妇女的自由。无论在何种情况下,禁止其自由受到限制”。这一变化表明
- A. 罗马法律体现对生命和财产的尊重
  - B. 罗马法超越了种族与性别的界限
  - C. 罗马法兼顾了社会各个群体的利益
  - D. 罗马女性的法律地位得到了提高
33. 佛罗伦萨著名画家波提切利(1446—1510)运用新的绘画方法,发展了中世纪的装饰风格,创造出富于线条节奏、精致明净的独特画风,其作品《春》《维纳斯的诞生》,富有生气地描绘了美惠三女神,女神维纳斯的形象。这些作品

【文科综合能力测试 第6页(共12页)】

- A. 体现出鲜明的人文主义色彩  
B. 表明现实主义已成为时代主流  
C. 推动非宗教理性时代的到来  
D. 体现了新古典主义的绘画风格
34. 苏联在实施“四五”计划期间(1946—1950年),国民经济在短时期内取得了恢复和发展,西方舆论断言的“苏联将从世界大国的名单中被勾销”不攻自破。据此可知,这一时期
- A. 苏联模式是向社会主义过渡的正确途径  
B. 意识形态领域斗争取得阶段性胜利  
C. 苏联“斯大林模式”仍具有一定积极作用  
D. 美苏争霸成为战后国际关系的主题
35. 国际社会普遍认为,之前的国际体系中,西方一直占绝对主导地位。现在,发展中国家作为整体在政治、经济、文化等各方面对世界的贡献越来越大;原有的国际秩序以国家为中心,现在包括专业团体、跨国公司、非政府组织、个人等在内的非国家行为主体发挥了越来越重要的作用。这表明
- A. 全球治理的主体日趋多元化  
B. 西方定制的世界规则已退出国际舞台  
C. 南北问题影响着东西方关系  
D. 合作取代对抗已成为国际关系的主流

二、非选择题:共 160 分。第 36~42 题为必考题,每个试题考生都必须作答。第 43~47 题为选考题,考生根据要求作答。

(一)必考题:共 135 分。

36. 阅读图文材料,完成下列要求。(24 分)

埃塞俄比亚—肯尼亚(埃肯)直流输电工程被称为“东非电力高速公路”,该项目是埃塞俄比亚与肯尼亚两国政府规划的重点骨干项目,工程由我国公司承建,项目工程管理基本实现了属地化(即一切均以当地方针、政策为准,大力聘用当地工人等)。埃肯直流输电工程建成后,将成为埃塞俄比亚清洁能源输出的重要通道。下图示意埃塞俄比亚、肯尼亚地理位置及其周边地区。

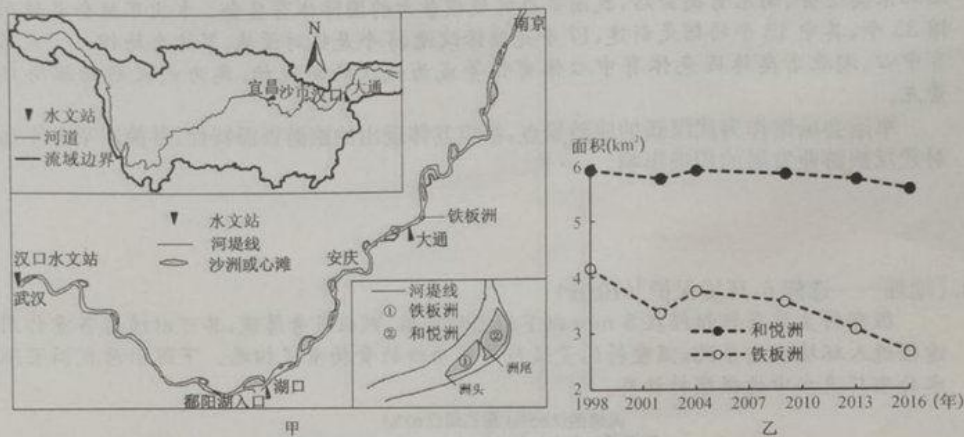


- (1)说明埃肯直流输电工程由我国公司承建的原因。(6分)
- (2)分析埃肯直流输电项目建设过程中可能面临的困难。(8分)
- (3)指出项目工程管理实现属地化对当地电力行业发展的促进作用。(4分)
- (4)推测埃塞俄比亚输出的清洁能源的主要类型,并说明理由。(6分)

【文科综合能力测试 第7页(共12页)】

37. 阅读图文材料,完成下列要求。(22分)

铁板洲位于长江下游距离河口约 600 km 的微弯河段,其下游 200 m 处有一个相邻沙洲——和悦洲,可认为是一对子母洲。甲图示意铁板洲、和悦洲的地理位置,乙图示意 1998—2016 年铁板洲、和悦洲的面积变化状况。



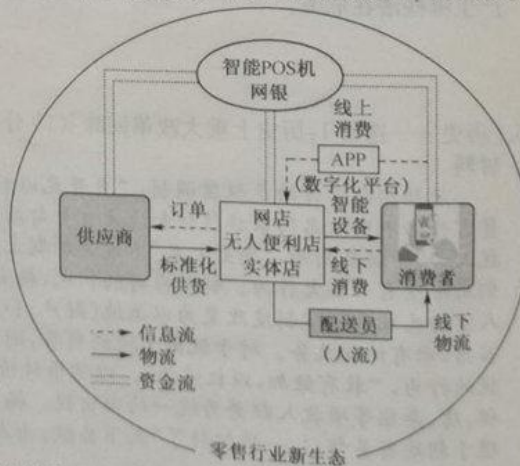
- (1) 分析铁板洲、和悦洲的形成过程。(6分)
- (2) 指出 1998—2016 年铁板洲、和悦洲面积变化状况的异同,并分析原因。(6分)
- (3) 列举研究铁板洲、和悦洲面积变化可采用的方法。(4分)
- (4) 指出铁板洲被水流侵蚀的主要部位,并说明原因。(6分)

38. 阅读材料,完成下列要求。(14分)

2019 年 11 月 12 日,天猫双十一狂欢节当日交易额为 2 684 亿元,再次刷新纪录。从第 11 个“双十一”放眼未来,零售行业的数字化旅程将如何发展? IDC(互联网数据中心)认为,在云计算、5G、人工智能等技术的作用下,实现高效的商品流通,消费者享受全新购物体验,传统零售业正在构建新的生态系统。(如右图)

IDC 认为,零售革命的再爆发存在多方面驱动因素,其中最重要的是消费者诉求的变化,随着数字化原生代逐渐成为市场主力,消费者的生活节奏加快,时间更加碎片化,用户需求不断深化,对个性化产品、高消费体验的诉求日益增强。零售商必须以数字化的思维和持续的技术投入为依托,以提供无摩擦、不间断的卓越消费体验为使命,进行持续的数字化转型,确保自身能够在短期内应对变革,在长期内获得成功。

结合材料,请你概括两条零售行业新生态的特点,并运用经济生活知识说明零售企业应该如何更好地适应零售行业新生态。





39. 阅读材料,完成下列要求。(12分)

2019年10月23日,国务院公布的《优化营商环境条例》自2020年1月起施行。

近年来,各地区、各部门按照党中央、国务院部署,顺应社会期盼,持续推进“放管服”等改革,推动取消一批行政许可等事项,进一步清理规范各类行政审批中介服务事项,我国营商环境明显改善。在市场监管领域继续加强推进跨部门“双随机、一公开”监管,优化环保、消防、税务、市场监管等执法方式,对违法者依法严惩、对守法者无事不扰。安排时间表,争取2020年6月底前全面推广证明事项告知承诺制,有效解决困扰群众的各种“奇葩”证明、循环证明、重复证明等问题。加快整合政务信息系统,构建全国政务服务“一张网”,力争到2022年前,全国所有政务服务事项全面实现“一网通办”,让信息多跑路、群众少跑腿。结合材料并运用政治生活知识,分析我国政府是如何推进国家治理体系和治理能力现代化的。

40. 阅读材料,完成下列问题。(26分)

人无信不立,信用又被称为“市场经济的基石”,建立诚信系统富有现实意义。2019年11月4日,国家卫生健康委等11部委联合颁布下发《关于进一步促进无偿献血工作健康发展的通知》。

《通知》要求,各地各部门要加强无偿献血宣传、教育、组织、动员等工作,将无偿献血工作与精神文明建设、卫生城市创建等结合,进一步巩固多部门协作、社会广泛参与的无偿献血工作格局。《通知》强调,各级文明办应当把推动无偿献血工作与培育弘扬社会主义核心价值观、提高公民道德素养相结合,应当探索将无偿献血纳入社会征信系统,将无偿献血工作纳入精神文明建设总体规划。

《通知》发布后,迅速在网络上引起热议,其中,对于将无偿献血纳入征信系统是否合理,网友们支持与反对的声音均有。支持者认为,该通知的目的在于激励献血,对参与的人来说也是一种补偿;反对者则怀疑这个做法会让自愿行为变成了软性强迫,也有一些网友担心不献血信用会降分或者减分。其实,社会征信体系具有两个方面的功能。一是惩戒失信,但更重要的是褒扬诚信,即要加大对守信激励的力度。无偿献血纳入个人征信系统,是个人信用的加分项目。

- (1) 结合材料,运用文化生活的知识说明颁布《关于进一步促进无偿献血工作健康发展的通知》的积极意义。(10分)
- (2) 结合材料并运用“认识社会与价值选择”的知识,对“探索无偿献血纳入征信系统”的合理性加以说明。(12分)
- (3) 从全国献血率来看,我国与一些发达国家仍然存在差距。在公众当中,有不少人对献血存在误区与偏见,认为献血会影响献血者的身体健康。为了让这部分人走出误区,提出两条具体建议。(4分)

41. 阅读材料,完成下列要求。(25分)

材料一

甲午战后,受战败的刺激,国人东渡留学的热情高涨。在维新变法运动期间,开启了留日教育的闸门,地方督抚率先派遣了留日学生。维新运动时期,留学生作为新的社会群体有了崭新的形象。光绪二十四年(1898年),张之洞撰写了《劝学篇》,强调教育要传授中国传统之学,再学习西学中有用的东西,以补中学之不足,这受到清政府的赞赏并广为刊布。后留学日本成为时代潮流,带动了晚清留学教育的风起云涌。在此后很短的时间内,留学生、特别是留日学生成为中国“存亡绝续”所仰赖的力量。

——摘编自刘晓琴《晚清民初留学生社会形象及其演变》

材料二

1921—1925年留学美国官费生籍贯统计表(局部)

年份 省份	1921	1922	1923	1924	1925	总计	百分比
江苏	31	35	55	29	23	173	18.52
浙江	11	17	25	13	6	72	7.71
广东	8	21	11	4	22	66	7.07
安徽	7	9	6	6	4	32	3.43
江西	3	13	6	5	2	29	3.10
直隶	3	14	5	3	2	27	2.89

——摘编自孙璐《民国初年中国留学生群体考析》

材料三

新中国成立初期的“留苏潮”是在特定的国内外环境下形成的。新中国成立之初,百废待举,一个突出的困难在于建设和管理人才奇缺。在中苏友好结盟的条件下,向苏联派遣留学生,加速培养一支强大的建设人才队伍,成为新中国的一项重要战略选择。尽管“留苏潮”经历了潮起潮落、起伏曲折,但它对新中国建设事业的作用是不容低估的,最重要的是为国家培养了一大批技术骨干和各种专门人才。

——摘编自周尚文《新中国成立初期“留苏潮”述评》

- (1)根据材料一并结合所学知识,指出清末民初中国留学日本人数增多的历史背景。(10分)
- (2)根据材料二并结合所学知识,概括20世纪20年代中国赴美留学学生群体的特点。(6分)
- (3)根据材料三并结合所学知识,分析新中国成立初期“留苏潮”形成的原因。综合上述材料并结合所学知识,谈谈你对近现代中国“留学潮”的认识。(9分)

42. 阅读材料,完成下列要求。(12分)

材料

马克思对世界历史进行了全面的研究与阐述,他生前就预感到人类会打破各民族的原始封闭状态,不断跨越空间障碍,在世界范围内通过生产力的发展和相互交往而使各民族相互依存并走向统一。他在其著作《德意志意识形态》中指出:“各个相互影响的活动范围在这个发展进程中越是扩大,各民族的原始封闭状态由于日益完善的生产方式、交往以及因交往而自然形成的不同民族之间的分工消灭得越彻底,历史也就越成为世界历史。”

——摘编自刘晓颖《应对全球化的矛盾:构建人类命运共同体》

从材料中提取历史信息,拟定一个论题,并对所拟的论题进行简要阐述。(要求:明确写出所拟的论题,阐述须有事实依据。)

【文科综合能力测试 第10页(共12页)】

(二)选考题:共25分。请考生从2道地理题、3道历史题中每科任选一题作答。如果多做,则每科按所做的第一题计分。

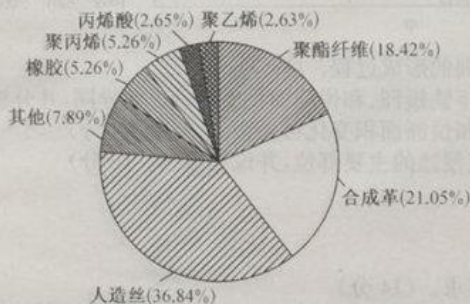
43. [地理——选修3:旅游地理](10分)

第七届世界军人运动会于2019年10月18日至2019年10月27日在武汉举行,这是继北京奥运会、南京青奥会后,我国举办的规模最大的国际体育盛会。本次军运会共使用场馆35个,其中13个场馆是新建,17个是维修改造,5个是临时设施,军运会场馆——武汉体育中心、湖北省奥林匹克体育中心体育馆等成为武汉的新地标,成为武汉新的旅游热门景点。

军运会场馆作为武汉新的旅游景点,指出其体现出的旅游资源特性,并简述举办军运会对武汉旅游业发展的积极影响。

44. [地理——选修6:环境保护](10分)

微塑料主要是指粒径在5mm以下的塑料纤维、颗粒或者薄膜,其可以通过多重作用和途径进入环境生态系统,微塑料的量级与许多动物的食物量级相近。下图示意我国某地污水处理厂进水中的微塑料种类。



说明该污水处理厂进水中微塑料的组成特征,若这些污水不经过净化处理排入环境将产生哪些潜在危害。

45. [历史——选修1:历史上重大改革回眸](15分)

材料

唐朝初期实行的是租庸调制。“自开元以后,天下户籍久不更造,丁口转死,田亩卖易,贫富升降不实”,名门豪族往往和地方官员勾结,肆意逃避税收责任,甚至出现“随要而税,吏扰人劳”的混乱局面,“安史之乱”不过是加剧上述过程而已。德宗登基,杨炎成为新宰相,他们都希望有一番大作为。针对当时的状况,杨炎提出内府把持国库收支权应收归朝廷,把以人丁为基础的税赋制度改变为以土地(财产)和人丁为基础的税赋制度,强调人口不分主籍、客籍,都有纳税义务。对于脱离土地的商贾,则对其收入“三十取一”。限制地方政府随意征税的行为,“敢有敛加,以枉法论”。以货币计价确定应缴纳实物数,简化税赋征缴方式。将租、庸、杂徭等项收入归并为统一的田亩税。杨炎财政改革的成果是显著的。还国库收支管理于朝廷有关部门,一举扭转了“天下公赋,为人君私藏,有司不得窥其多少,国用不能计其赢缩”的被动局面。

——摘编自张俊伟《杨炎的财税改革及其变形》

(1)根据材料并结合所学知识,概括杨炎财税改革的时代背景及内容。(10分)

(2)根据材料并结合所学知识,说明杨炎财税改革的积极作用。(5分)

【文科综合能力测试 第11页(共12页)】

46. [历史——选修 3:20 世纪的战争与和平](15 分)

材料

1904 年,英法签订协约,英国承认法国在摩洛哥的特权。但这侵犯了德国在摩洛哥的殖民利益。1905 年 3 月,德皇威廉二世突访摩洛哥港口城市丹吉尔,宣称德国要维护摩洛哥的独立,摩洛哥危机爆发。于是,法、德两国开始谈判。英国困惑于法德毫无进展的外交,一方面害怕卷入对德战争,对此采取事不关己的态度,另一方面也在静观其变,这导致危机进一步恶化。1911 年春,摩洛哥爆发反法起义,同年 5 月,法国乘机以保护侨民为由出兵摩洛哥。德皇要求法国分割一部分法属非洲殖民地给德国作为补偿,并派遣军舰“豹”号开往摩洛哥,摩洛哥危机升级。面对可能的战争威胁和法德秘密谈判,英国不得不重新调整自己的外交政策,外长格雷由静观其变转为明确支持法国而反对德国的强硬立场。这一举措不但稳固了英法关系,而且使得英俄靠近,保证英国的“不孤立”和欧洲的均势。

——摘编自徐娴《从阿加迪尔危机看一战前格雷的对法外交》

- (1)根据材料并结合所学知识,分析摩洛哥危机出现的历史背景。(6 分)
- (2)根据材料并结合所学知识,说明英国在摩洛哥危机中调整外交政策的原因及其影响。(9 分)

47. [历史——选修 4:中外历史人物评说](15 分)

材料

饶宗颐(1917—2018 年),广东人。他毕生孜孜不倦地研究中华文化,致力于中华民族文化的复兴。他以“华学”指称中华文化之学,认为海外华人同样是中华文化的承载者,“华学”应该是全球化和世界性的。他在研究汉民族文化的同时,也关注藏、满、蒙、苗、瑶等诸族的文化。他认为经学是“华学”的核心,“经书是我们的文化精华的宝库,是国民思维模式、知识涵养的基础;亦是先哲道德关怀与睿智的核心精义,不废江河的论著。重新认识经书的价值,在当前是有重要意义的”。20 世纪 90 年代,他创办主编大型学术集刊《华学》,在发刊词中他呼吁:“从洋务运动以来,国人对自己的传统文化已失去信心,外来的冲击,使得许多知识分子不惜放弃本位文化,向外追逐驰鹜,久已深深动摇了国本。……现在,应该是反求诸己,回头是岸的时候了。”

——摘编自郑炜明等《饶宗颐关于复兴中华民族文化的思想研究》

- (1)根据材料并结合所学知识,概括饶宗颐的文化观。(6 分)
- (2)结合材料评析饶宗颐对中华民族文化发展的主要贡献。(9 分)

## 专注名校多元录取

自主招生在线创立于 2014 年，致力于提供强基计划、综合评价、三位一体、学科竞赛、新高考生涯规划等政策资讯的服务平台。总部坐落于北京，旗下拥有网站 (www.zizzs.com) 和微信公众平台等媒体矩阵，用户群体涵盖全国 90% 以上的重点中学师生及家长，在全国强基计划、综合评价领域首屈一指。

如需第一时间获取相关资讯及备考指南，请关注**自主选拔在线**官方微信号：**zizzsw**。



识别二维码，快速关注

### 温馨提示：

全国中学大联考 2020 届高三下学期模考试题及答案汇总（更新下载中），点击链接获得

<http://www.zizzs.com/c/202002/42364.html>