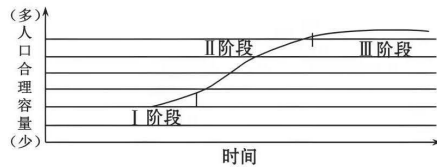


2022—2023 学年度高一下学期 6 月测试

地 理

一、单选题（每题 2 分共 54 分）

香港特别行政区陆地面积约为 1104km²，人口约 730 万，是世界人口密度最大的地区之一，市区平均人口密度 2.1 万平方千米。下图示意香港特别行政区人口合理容量发展趋势。据此完成下面小题。



1、香港特别行政区人口容量大主要得益于()

- ①生活消费水平低 ②开放程度高 ③科技水平高 ④矿产资源丰富

A. ②③ B. ①② C. ③④ D. ①④

2、制约香港特别行政区人口容量增加的首要因素是()

- A. 科技水平 B. 自然资源状况 C. 填海造陆 D. 地区开放程度

流动人口集聚是流动人口空间分布变动的一种形式，是指流动人口在某个特定地理区域内不断集中的现象及过程。远郊区流动人口集聚主要表现为中心城区流动人口向远郊区的迁移扩散和外来流动人口的迁移流动。下表为 2000~2007 年上海市常住流动人口分布表。据此完成下面小题。

城市区域	2000 年人数(万人)	2007 年人数(万人)	2000~2007 年增幅(%)
中心城核心区	23.53	24.48	4.04

中心城边缘区	74.45	68.93	-7.41
近郊区	151.76	255.60	68.42
远郊区	52.23	150.21	187.59

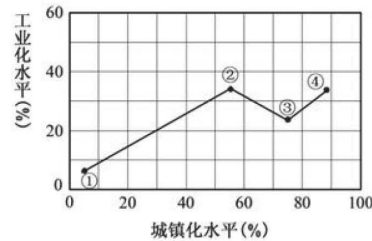
3、影响上海市远郊区流动人口集聚的因素不包括()

- A. 政府政策引导 B. 交通条件发展
C. 产业布局调整 D. 历史文化影响

4、上海市城市人口向远郊区迁移,可以()

- A. 缓解市中心交通拥堵等城市问题 B. 降低远郊区的社会治安管理难度
C. 促进市中心经济发展 D. 提高远郊区人口收入

下图为某国工业化和城镇化进程变化图。读图,完成下面小题。



5、图示国家不同时期城镇化与工业化进程的特点是()

- A. ①~②阶段,工业化与城镇化水平共同提高
B. ②~③阶段,工业化水平提高,城镇化水平降低
C. ③~④阶段,工业化水平高于城镇化水平
D. ①~④阶段,工业化与城镇化水平持续提高

6、②~③阶段,该国吸纳劳动力的主要产业可能是()

A.第一产业 B.第二产业 C.第三产业 D.第二、三产业

下表示意我国城镇化发展过程中相关数据变化。完成下面小题。

年份	常住人口城镇化率 (%)	城市数量 (个)	城市建成区面积 (万平方公里)
2000年	36.2	663	2.24
2010年	49.7	657	4.01
2020年	63.9	687	6.07

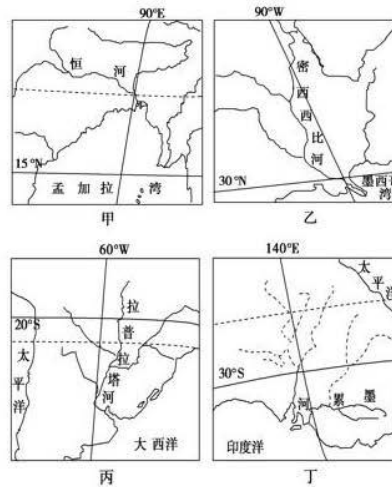
7、与发达国家相比，当前我国城市化的特点有()

A. 城市化水平高 B. 城市化速度快 C. 逆城市化明显 D. 城市人口数少

8、中国城市建成区面积变化对城市自然环境产生的影响是()

A. 热岛效应加剧 B. 植被覆盖增加 C. 地价房租上涨 D. 雨水下渗增多

下图表示的四个区域均是世界上著名的农业生产区。读下图完成下面小题。



9、农业地域类型以牧牛业为主的大牧场放牧业分布在()

A. 甲 B. 乙 C. 丙 D. 丁

10、关于四个区域农业生产条件的叙述,正确的是()

A. 甲—草场茂密,光、热不足 B. 乙—土壤肥沃,雨热适宜

C. 丙—地势东西高、中间低,平原面积大 D. 丁—地面平坦,水网稠密

11、关于四个区域农业生产特点的叙述,正确的是()

A. 甲—粮食商品率高 B. 乙—机械化水平低

C. 丙—水利工程量大 D. 丁—市场适应性强

我国Q汽车公司在大连设立整车基地,主要生产中高端轿车,主攻海外市场。工厂主要设备全部从国际上采购,工厂自动化率达到国内汽车工厂先进水平。近年来,Q汽车公司调整出海策略由

“走出去”到“走进来”再到“走进来扎根发展”。据此完成下面小题。

- 12、Q 汽车公司在大连设立整车基地,主要是因为大连()
- A.劳动力丰富 B.交通便利 C.技术水平高 D.市场广阔
- 13、Q 汽车公司大连整车基地主要设备全部从国际上采购的主要目的是()
- A.降低运输费用 B.降低生产成本 C.提高产品质量 D.减少关税支出
- 14、Q 汽车公司“走进来扎根发展”阶段数量最多的是()
- A.生产基地 B.研发设计中心 C.服务网点 D.零部件生产厂

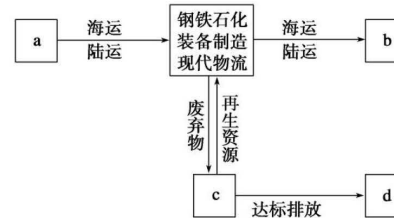
前置仓是指更靠近消费者的小型仓储单位。其运营模式是:生鲜产品销售方利用冷链物流(冷藏车)提前将产品配送至前置仓存储待售,客户下单后,由前置仓经营者组织完成包裹生产和“最后一公里”的上门配送。下图为生鲜电商前置仓模式示意图。据此完成下面小题。

前置仓的业务模式



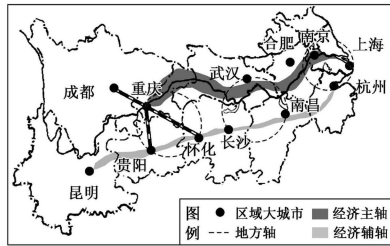
- 15、与城市仓相比,前置仓()
- A.服务范围较大 B.服务种类较多 C.服务等级较高 D.距离市场较近
- 16、生鲜前置仓物流模式的优点有()
- ①缩短运输距离 ②配送时效性高 ③保证了产品的品质 ④消费人群范围广
- A.①② B.③④ C.②③ D.①④

读“我国某市生态经济示范区体系示意图”,完成下面小题。



- 17、该生态经济示范区体系中,a、b、c、d 表示的事项依次为()
- A.环境、自然资源、市场、环保体系 B.自然资源、市场、环保体系、环境
- C.环境、市场、自然资源、环保体系 D.自然资源、市场、环境、环保体系
- 18、关于该示范区生态经济体系优势的叙述,正确的是()
- ①以高新技术工业为主导,降低了产业对资源的依赖
②采用清洁生产技术,有利于节能减排、保护环境
③拥有廉价劳动力和自然资源丰富的区位优势
④依托海港,有利于利用国内外资源、市场
- A.①② B.③④ C.①③ D.②④

长江经济带是兼顾自然地理、人文脉络、经济区的整体功能和行政区的完整性等诸多因素的一种经济区形式。下图为长江经济带空间结构示意图。据此回答下面小题。



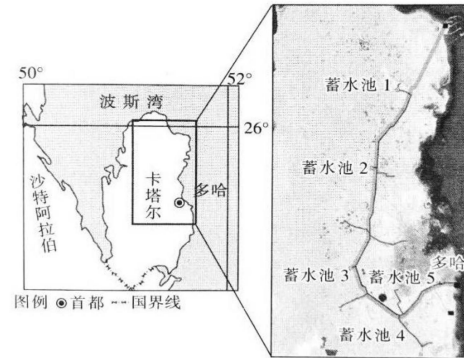
19、长江经济带空间结构中的经济辅轴的分布规律是()

- A.沿长江干流分布 B.沿长江支流南北延伸
C.沿沪杭—浙赣—湘黔—贵昆铁路线分布 D.沿公路线分布

20、下列对重庆成为长江上游区域中心城市条件分析,错误的是()

- A.地处长江上游区域中心,地理位置优越 B.是上游地区的交通枢纽
C.经济总量大,对周围辐射带动作用大 D.进行城市建设的地形条件优越

为了增强饮用水的储水和供水能力,也给 2022 年世界杯足球赛提供清洁水源,卡塔尔在沙漠中修建了多个大型的饮用水蓄水池,这些蓄水池通过输水管道与多哈相连,其中部分工程由我国企业承建。该企业在项目建设过程中大力推进国际化、属地化。卡塔尔所处地区气候条件极端恶劣,对施工技术是一次严峻的考验。下图示意卡塔尔地理位置和输水管道走向。据此完成下面小题。



21、推测图中蓄水池的水主要来自()

- A.大气降水 B.地下水 C.海水淡化 D.再生水

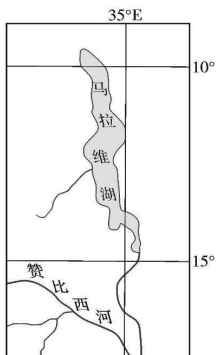
22、该项目建设难度大的原因有()

- ①气候干燥,日照较强 ②海拔较高,气温较低 ③沙漠地区,风沙较大 ④距海较近,潮湿多雨
A.①② B.①③ C.②④ D.③④

23、中国企业能参与该项目的建设是因为我国()

- A.人口众多,劳动力廉价 B.技术先进,工程质量高
C.科技发达,建设周期短 D.原料丰富,建造成本低

马拉维湖位于东非大裂谷最南端,是非洲第三大淡水湖,四周有众多河流注入。马拉维湖湖水的透明度受温度和降水的影响,随季节的变化较为剧烈,12 月份湖水透明度不足 1 米。马拉维湖中生物种类十分丰富,仅慈鲷鱼就有 850 多种。慈鲷鱼生活在湖底,且只有沿湖岸线的狭窄区域才有分布。如图为马拉维湖及周边地区示意图。据此完成下面小题。



- 24、马拉维湖 12 月份湖水透明度低的主要原因可能是()
- A.风力弱,湖水流动性差 B.降水量丰富,入湖水量大
- C.气温高,蒸发旺盛 D.太阳高度角小

- 25、慈鲷鱼只分布于沿湖岸线的狭窄区域,主要是因为()
- A.河流入湖带来丰富的营养物质 B.底层湖水上涌,饵料丰富
- C.湖岸沿线水质好 D.湖岸沿线水域较浅,阳光和氧气充足

至 2018 年 8 月,首都地区环线高速公路,即人们俗称的“北京大七环”全线贯通,标志着京津冀“1 小时生活圈”正式成型(如下图)。“大七环”中仅通州—大兴段就建有 15 座立交桥。据图文材料,回答下面小题。

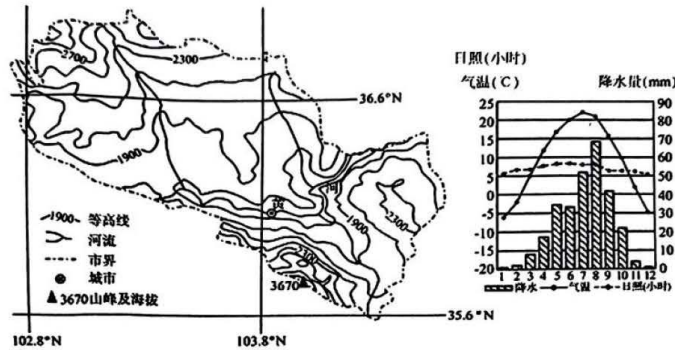


- 26、公路里程比是指公路实际长度与起讫点间线段长度的比值。京津冀地区公路里程比大,主要原因是()
- A.地势较平坦 B.河网密度小 C.聚落密度大 D.工业规模大
- 27、“大七环”90%里程在河北省境内,有利于()
- A.减少北京过境车辆,缓解交通拥堵 B.疏解北京人口,扩大首都服务范围
- C.进一步增大北京市地域面积 D.促进城市分工,降低竞争力

二、综合读图题(共 46 分)

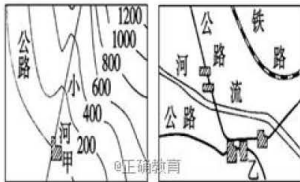
28、阅读图文材料,完成下列要求。

高原夏菜是指夏季在气候凉爽的高原地区生长的蔬菜。2004 年兰州菜农开始改种高原夏菜,这里的蔬菜口感好,极少有病虫害。每天菜农凌晨摘菜,经专业检测,冷冻后即刻运往我国东南沿海、东南亚、日本、加拿大等地。高原夏菜价格一直较贵,但 2016 年 6 月以来,受南方蔬菜退市延迟、产量过剩等影响,高原夏菜价格持续低迷。下图示意兰州市等高线地形图及每月日均日照时数统计资料。



- 说明兰州地形对高原夏菜种植的有利影响。(6分)
- 分析兰州高原夏菜价格较贵的原因。(6分)
- 针对兰州高原夏菜价格持续低迷的现状,请你提出有效的解决方案。(4分)

29、读下图,回答问题。(14分)

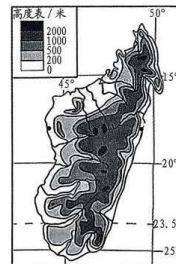


- 甲、乙两城市中_____城市更有条件发展成为商业中心,因为该城市_____。(6分)
- 甲地的商业网点密度要小于乙地的商业网点,原因是_____。(2分)
- 甲地的运输网由_____组成。乙地的综合运输网是由_____、_____、_____等多种形式和层次的交通运输方式组成。(4分)
- 若甲、乙两地是我国东部、西部地区的代表,那么,代表东部地区的是_____。(2分)

30、(共16分)材料分析题

阅读图文资料,完成下列要求。

马达加斯加岛在1.65亿年前脱离了非洲大陆板块,如今距非洲东南海岸约有480km。人类两千年前才登陆这座岛屿,大多数人都是从现在的马来西亚和印度尼西亚划船前来的。马达加斯加岛动植物种类繁多,大约有20多万种植物是特有物种。近些年来,由于受人口压力以及动荡政局的影响,非法采伐森林现象日益严重。如图示意马达加斯加岛的地理位置。



- 分析马达加斯加岛难以发育长河的原因(6分)。
- 说明森林破坏对该地河流水文特征的影响(4分)。
- 分析马达加斯加岛多特有物种的原因(6分)。

关于我们

自主选拔在线是致力于提供新高考生涯规划、强基计划、综合评价、三位一体、学科竞赛等政策资讯的升学服务平台。总部坐落于北京，旗下拥有网站（[网址：
www.zizzs.com](http://www.zizzs.com)）和微信公众平台等媒体矩阵，用户群体涵盖全国 90% 以上的重点中学师生及家长，在全国新高考、自主选拔领域首屈一指。

如需第一时间获取相关资讯及备考指南，请关注**自主选拔在线**官方微信号：[zizzsw](https://www.zizzs.com)。



 微信搜一搜

 自主选拔在线