

绝密★启用前

天一大联考
“顶尖计划”2023 届高中毕业班第三次考试

文科综合

考生注意：

1. 答题前，考生务必将自己的姓名、考生号填写在试卷和答题卡上，并将考生号条形码粘贴在答题卡上的指定位置。
2. 回答选择题时，选出每小题答案后，用铅笔把答题卡对应题目的答案标号涂黑。如需改动，用橡皮擦干净后，再选涂其他答案标号。回答非选择题时，将答案写在答题卡上。写在本试卷上无效。
3. 考试结束后，将本试卷和答题卡一并交回。

一、选择题：本题共 35 小题，每小题 4 分，共 140 分。在每小题给出的四个选项中，只有一项是符合题目要求的。

土壤呼吸是土壤中异养生物(如土壤微生物)和自养生物(如植物根)通过呼吸作用释放二氧化碳的过程。甘肃马鹿养殖场地处祁连山中段北麓，有 3 个季节牧场(冬季和春秋季牧场属于寒温微干山地草甸，夏季牧场属于亚高山灌丛草甸)，平均海拔 2 850 米，年均温 3.6℃，年均降水量 253 毫米，主要集中在 6—9 月。牧草一般 4 月下旬返青，7 月上旬进入生长旺盛期，9 月上旬开始枯黄。放牧率为单位放牧地面积上家畜数量与放牧时间的乘积。图 1 示意冬季牧场和春季牧场放牧率与土壤呼吸速率的关系。据此完成 1~3 题。

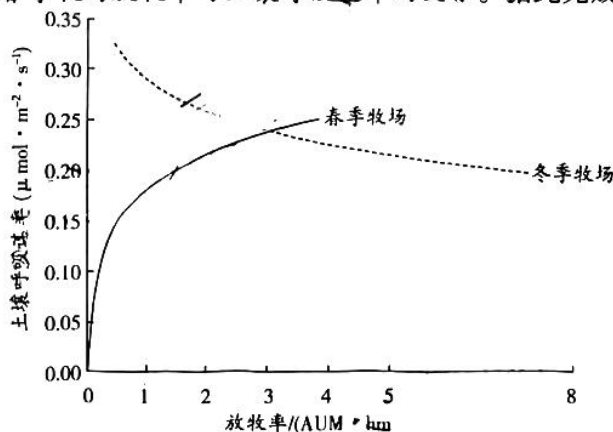


图 1

1. 冬季牧场和春季牧场
 - A. 放牧率相同时，冬季牧场土壤呼吸速率较高
 - B. 放牧率越高，土壤呼吸速率越高
 - C. 冬季牧场的平均土壤呼吸速率较高
 - D. 放牧率越高，土壤呼吸速率越低
2. 造成春季牧场放牧率与土壤呼吸速率变化特点的主要原因是
 - A. 牲畜踩踏使土壤紧实度提高
 - B. 牲畜采食使根系减少
 - C. 牲畜采食提高了太阳透射率
 - D. 牲畜踩踏利于种子萌发

文科综合试题 第 1 页(共 12 页)

3. 针对冬季牧场放牧率与土壤呼吸速率的关系,可采取的应对措施是

- A. 提前向春季牧场转场
B. 宰杀部分能繁母畜
C. 扩大冬季牧场的范围
D. 提前储备人工牧草

鱼梁洲隧道(图2)是连接襄阳市东津新区与樊城区的双向6车道城市快速通道,下穿“城市绿心”鱼梁洲,两过汉江,全长约5.4千米,是目前国内整体建设规模最大的内河沉管隧道,于2022年10月31日建成通车。鱼梁洲隧道建设严格遵循生态保护原则,总体采用隧道结构,沉管隧道由东汉660米6节沉管和西汉351米4节沉管组成,平均单个管节重约2.7万吨。据此完成4~6题。

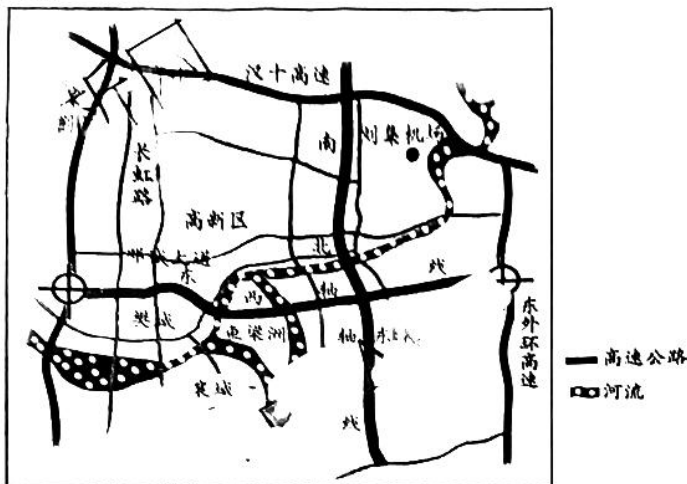


图2

4. 鱼梁洲隧道采用T穿式设计需要攻克的难题是

- A. 松软透水的砂卵石地层
B. 沉管构件缓沉
C. 高温多雨的气候
D. 地势起伏大

5. 除了有利于保护鱼梁洲生态外,相比架桥,隧道的优点还有

- ①灵活性高 ②受恶劣天气影响小 ③承载超载的能力强 ④投资成本较低
A. ①②
B. ②③
C. ③④
D. ①④

6. 鱼梁洲隧道建成通车对于襄阳城市的重要意义是

- A. 促进鱼梁洲旅游开发
B. 增加居民出行的交通方式选择
C. 提升湖北省辐射能力
D. 促进樊城区与东津新区的联动

密西西比河是美国境内第一长河,河口年均径流量为5800亿立方米,年均输沙量3.12亿吨。图3示意密西西比河入海水体月均径流量与月均悬沙浓度的关系。据此完成7~8题。

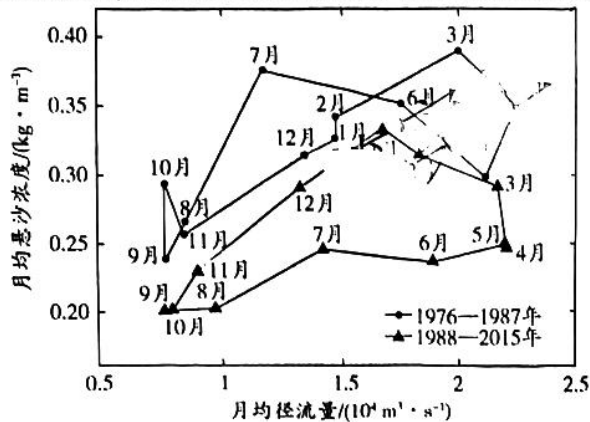


图3

7. 密西西比河春季和初夏径流量大的主要原因是

- A. 融雪量大,降水增多
B. 气温较低,蒸发量小
C. 湖泊水补给量增大
D. 人类用水量少

8. 1976—2015 年密西西比河入海水体月均悬沙浓度发生变化的原因可能有

- ①流域内人口密度增大 ②实施水土保持措施 ③修建众多水利工程 ④第一产业占比大幅下降
A. ①②
B. ②③
C. ③④
D. ①④

非飞行小型兽类是对体型较小、体重较轻、但分布相对较广的兽类物种的统称,主要包括食虫类、啮齿类(有贮存食物的习性)、兔形类等类群。勒布沟地区位于喜马拉雅山脉东段南坡,植被景观多样,植被变化明显。图 4 示意勒布沟地区各小型兽类海拔分布范围。据此完成 9~11 题。

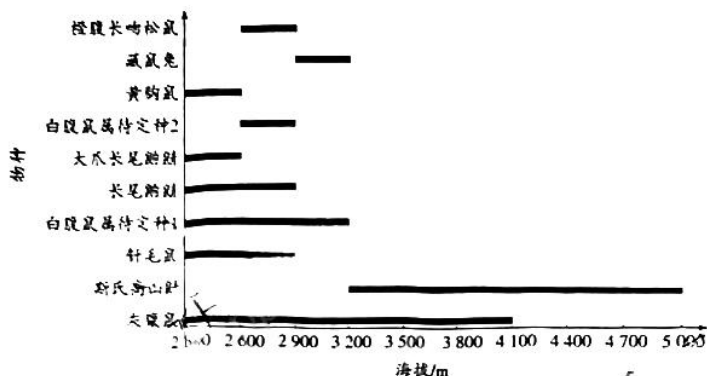


图 4

9. 勒布沟地区植被类型多样、植被变化明显的主要原因是

- A. 区域面积广阔
B. 纬度低,垂直高差大
C. 生物多样性高
D. 人口密度小,人为影响小

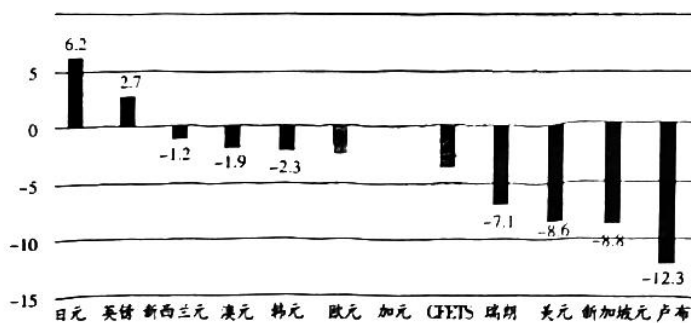
10. 勒布沟地区的非飞行小型兽类

- A. 藏鼠兔为宽域分布物种
B. 斯氏高山鼯为狭域分布物种
C. 海拔越高,物种越丰富
D. 中低海拔物种多样性较高

11. 冷季地表非飞行小型兽类活动频率比暖季小,其主要原因是

- A. 动物贮存了充足的食粮
B. 冷季迁徙至别处
C. 冷季天敌的数量增多
D. 海拔高,空气稀薄

12. 图 5 是 2022 年(2022 年 12 月 31 日—2022 年 12 月 28 日)人民币对主要货币的升贬值幅度



注:CFETS 指数,即中国外汇交易中心公布的人民币汇率指数,主要用来综合计算人民币对一篮子外国货币加权平均汇率的变动,能更全面地反映人民币的价值变化。

图 5

对上图数据的分析推理正确的是

- ①人民币与部分外币利率差扩大是人民币贬值的重要因素
- ②人民币对外币总体贬值意味着我国出现了严重通货膨胀
- ③人民币对卢布贬值会增加我国从俄进口初级产品的成本
- ④人民币对日元升值必然大幅度扩大中日贸易和投资规模

A. ①② B. ①③ C. ②④ D. ③④

13. 庭院经济是农民以自家住宅院落及其周围为基地,以家庭为生产和经营单位,为自己和社会提供农业土特产品和有关服务的经济。在社交平台,可以看到许多农户整合房前屋后的空闲土地,发展起果蔬、药材种植等。花木盆景错落有致,院落杂物尽数清除,“小庭院”变成“经济园”,农民生活更加惬意,还借此走上致富道路。发展庭院经济,有利于

- ①健全社会化服务体系,进一步盘活农村经济活力
- ②培育新型农业经营主体,创新农村基本经营制度
- ③发展乡村特色产业,促进农民就地就近就业创业
- ④多渠道增加农民收入,推动生态宜居和生活富裕

A. ①② B. ①④ C. ②③ D. ③④

14. 2022 年以来,我国新增专项债靠前发力,前三季度新增专项债发行超过 3.54 万亿元。专项债券是地方政府债券的一种,地方政府债券按资金用途和偿还资金来源分类,通常可以分为一般债券和专项债券,其主要区别如表 1 所示。据此,下列认识正确的是

表 1

类别	一般债券	专项债券
预算种类	纳入一般公共预算管理	纳入政府性基金预算管理
项目投向	没有收益的公益性项目	有一定收益的项目

- ①发行两类债券是地方财政收入的来源之一
- ②两类债券均以国家税收作为还本付息的保证
- ③两类债券对稳经济、稳投资都有积极意义
- ④发行两类债券的目的在于弥补地方财政赤字

A. ①② B. ①③ C. ②④ D. ③④

15. 在“中国电力机车之都”株洲,只需喝一杯咖啡的时间,就可集齐生产一台电力机车所需要的上万个零部件。目前株洲建成了全球最大的轨道交通装备研制基地,集聚上下游企业 380 多家,本地配套率超过了 80%。2021 年轨道交通装备产业集群规模将近 1400 亿元,2022 年 1—7 月增长 9.5%。发展产业集群能够

- ①避免外部冲击,构建区域内部循环
- ②把自然资源优势转化为发展的优势
- ③节省交易成本,提高资源配置效率
- ④增加产业链供应链的韧性和稳定性

A. ①② B. ①④ C. ②③ D. ③④

16. “小区周边人行道井盖破损,存在安全隐患,请有关部门帮忙解决。”某热心居民办事途中,随手将井盖破损的情况拍下来上传到城管局数管中心“随手拍”平台。当日,某办事处工作人员对破损井盖进行修复,并将修复完毕的图片通过“随手拍”平台反馈给该市民。对此评述正确的是

- ①凝聚群众力量,提高城市精细化管理水平
- ②依托现代科技,畅通民众民主参与渠道
- ③广泛听取民意,完善科学决策体制机制
- ④创新组织形式,发挥基层群众自治优势

A. ①② B. ①④ C. ②③ D. ③④

17. 近年来,在深入推进政务服务“一网、一门、一次”改革、“互联网+政务服务”的基础上,一些地区将多个部门相关联的“单项事”整合为企业和群众视角的“一件事”,推行集成化办理,实现“一件事一次办”,大幅减少办事环节、申请材料、办理时间和跑动次数。深入推进“一件事一次办”改革,有助于



- ①简政放权,推动转变政府职能
②利企便民,打造政务服务升级版
③节约行政资源,提高行政效率
④强化行政监督,建设服务型政府
A. ①② B. ①④ C. ②③ D. ③④
18. 2022年4月,习近平主席在博鳌亚洲论坛首次提出全球安全倡议,为应对国际安全挑战实现世界长治久安提出中国方案,得到国际社会积极响应。6月,习近平主席主持首次全球发展高层对话会,推出中方落实全球发展倡议的32项主要举措。已有100多个国家和多个国际组织支持倡议,近70个国家加入“全球发展倡议之友小组”。这表明
①中国在国际事务中的影响力和话语权日益增强
②和平、发展、合作、共赢是人心所向大势所趋
③中国在外交活动中坚定维护世界各国共同利益
④维护共同安全和实现共同发展已成为各国共识
A. ①② B. ①④ C. ②③ D. ③④
19. 青年强则国家强,国家和民族的未来在青年。中央电视台推出系列报道《青春匠心》,展现青年技能人才风采,讲述能工巧匠的奋斗故事。节目将镜头对准一批青年技能人才,他们有理想、敢担当、能吃苦、肯奋斗,通过勤奋的双手,让青春绽放绚丽之花。央视制作并播出该节目旨在
①繁荣文化产业以满足群众精神需求 ②为传播先进文化提供新渠道和载体
③引导青年践行社会主义核心价值观 ④用榜样力量激发青年成才报国热情
A. ①② B. ①④ C. ②③ D. ③④
20. “唐诗的回响”新春音乐会在美国费城金梅尔表演艺术中心举行,来自10个国家的15位歌唱家共同演绎《静夜思》《将进酒》等15首以唐诗名篇为基础创作的音乐作品。主创团队将流传千年的古诗谱成交响乐,以西曲激发唐诗的强大底蕴,让李白、杜甫、白居易等传世大家的诗篇跨越千载,漂洋过海。这启示我们
①以文化交流互鉴引领政治经济合作 ②文化创新需融通古今中外文化资源
③创新可以使优秀传统文化绽放活力 ④应在文化传播中赋予唐诗新的价值
A. ①② B. ①④ C. ②③ D. ③④
21. 不用画笔、颜料,输入一段描述性文字,计算机就能自动解析,生成相应的画作——人工智能的绘画本领,吸引了众多职业画师和零基础用户尝鲜。未来,人工智能技术还将广泛应用于艺术创作等领域,通过技术的进步让更多人参与到当代的审美创造中来。对此理解正确的是
①人工智能绘画是人类发挥主观能动性取得的成果
②人工智能思维能力的提升将推动艺术的繁荣发展
③人工智能运用于艺术创作扩展了实践的基本形式
④人工智能能影响但不能取代人类的艺术创作活动
A. ①② B. ①④ C. ②③ D. ③④
22. 阅读图6漫画,从中我们可以感悟到
①人生是否有压力取决于主体的思维方式
②只要转换思路就可以把任何坏事变成好事
③学会多角度看问题有利于调节身心健康
④人们能创造条件促进矛盾向有利方向转化
A. ①② B. ①④ C. ②③ D. ③④
23. 由国家语言资源监测与研究中心、商务印书馆、光明网联合主办的“汉语盘点2022”揭晓仪式在京举行。“稳”“党的二十大”“战”“俄乌冲突”分别当选年度国内字、国内词、国际字、国际词。体悟年度汉语,我们能洞见中国视野下的社会变迁和世界万象,这表明



图6

- ①社会生活在本质上是实践的
②社会意识归根到底是对社会存在的反映
③生产方式决定社会的性质和面貌
④源于实践的社会意识能正确预见社会发展方向

A. ①② B. ①④ C. ②③ D. ③④

24. 图7为肃卤铭文,记载了匭伯赏赐其弟肃从庶人选取六家作奴仆,被选六家向上谏诤。周王认为匭伯“非令”“害义”,后在肃辅佐周王东征时,周王付给肃奴仆六家。这一记载说明当时



图7

- A. 庶人政治地位低下 B. 诸侯纷争引发民众不满
C. 国家推行军功爵制 D. 周王对贵族的有效管理
25. 清代学者唐晏在《两汉三国学案》中写道：“凡朝廷决大疑，人臣有献替，必引《春秋》为断。”《汉书》各篇中多有记载朝廷或官员将《春秋》作为决定疑难之标准的典型事例。这说明，汉代
- A. 政府决策模式为清代借鉴 B. 儒学影响国家机器的运转
C. 史学家注重历史真实呈现 D. 国家治理具有了神秘色彩
26. 随着唐代墓葬壁画不断出土，涌现出著名的韦贵妃“胡人献玛瑙”“董怀太子“蕃客使节图”、懿德太子“驯豹架鹰图”以及“胡汉打马球图”“胡人乐舞图”等杰作。这些壁画
- A. 反映了中外文化交流 B. 刻画了贵族生活奢靡
C. 体现了民族间的交融 D. 见证了丝绸之路繁荣
27. 元代茶叶生产，“闽、浙、蜀、荆湖、江南、淮南皆有之”。据《元典章》记载，元代榷茶提举司最多时共16处，分布在江浙、福建、江西、湖广、淮南等产茶较多的地带。这说明，元代
- A. 社会上饮茶之风的盛行 B. 与边境茶叶贸易的发展
C. 加强对茶叶生产的管理 D. 政府注重南方土地开发
28. 1872年，李鸿章指出：“俄人抗拒伊犁，我军万难远役，非开铁路，则新疆、甘肃无转运之法，即无战守之本。俄窥西陲，英未必不垂涎滇、蜀，但自开煤铁矿与火车路，则耳闻缩伏，三军必皆踊跃，内固日蹙之势也。”据此可知，李鸿章
- A. 意识到列强联合对华侵略 B. 倡导国家自主修建铁路
C. 主张兴办实业分洋人之利 D. 呼吁政府加强边疆治理
29. 民国初年，“新中国”话语在知识分子的各种政论、言论和文学作品不断出现，如1911年梁启超《新中国建设问题》、1912年康有为《拟新中国政府议章》，甚至报刊杂志和政党也以“新中国”命名。这反映出，当时
- A. 维新派主导着社会舆论方向 B. 知识分子要求参与政权建设
C. 辛亥革命促进国人思想解放 D. 建立“新中国”成为时代主题
30. 1945年8月11日，中共中央关于全党任务决定中称：“富农除封建剥削部分实行减租外，不应加以打击；地主须使之可以过活……某些已经分配者不再变动，但对地主必须设法救济，对富农必须设法拉拢，对中农受损害者必须补偿损失。”这一决定
- A. 出于民族战争的需要 B. 明确放弃减租减息政策
C. 维护了农村统一战线 D. 表明中共工作重心转移

31. 图 8 为 1982—2006 年中国就业人口的平均教育年限示意图。据此可知,这一时期我国

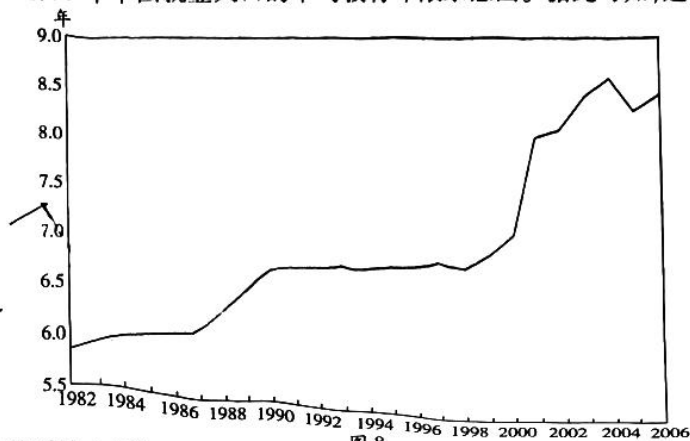


图 8

- A. 人力资本的平均水平提高
B. 职业和高等教育持续发展
C. 国民之间教育差距的缩小
D. 技术进步推动了经济增长
32. 古代雅典历史学家希罗多德认为,“把统治权授予民众就会错过最好的政体,没有什么比乌合之众更愚蠢和粗暴的,没有什么比把统治权授予民众更愚蠢。逃过君主的暴行却又落入放纵的德谟民手中,这实在难以忍受”。这说明,希罗多德
A. 表达对“民众监政”的认可
B. 主张建立开明君主制
C. 反思雅典民主政治的不足
D. 具有鲜明的人文精神
33. 1720—1780 年,法国出版的科学和艺术方面的书籍比重增加一倍,有关历史、文学和法律方面的书籍增多,改变了过去长期由宗教书籍“一统天下”的局面。这一变化
A. 得益于启蒙运动的开展
B. 推动了宗教改革的完成
C. 深受法国大革命的影响
D. 表明法国科学成就显著
34. 某一时期的孟什维克和社会革命党中的一部分人“率感乐祸地叫嚷:布尔什维克走回头路,又回到了资本主义。这主要在于,布尔什维克
A. 推行战时共产主义政策
B. 实施新经济政策
C. 开展农业集体化运动
D. 进行工业化建设

表 2

1973 年哥本哈根峰会	首次提出了政治意识上的欧洲认同
1992 年签订《欧洲联盟条约》	赋予欧盟更高的超国家性并提高了欧洲议会的权限
1997 年签订《阿姆斯特丹条约》	在建设“人民欧洲”方面作出重要贡献
2007 年签订《里斯本条约》	赋予欧洲议会和成员国议会以更大的发言权

表 2 为欧共体(欧盟)的活动。这反映出欧共体(欧盟)

- A. 长期致力于欧洲认同的建构
B. 注重欧洲政治领域建设
C. 成为了强大的政治经济实体
D. 提升国际地位和影响力
- 二、非选择题:本题包括必考题和选考题两部分。第 36~42 题为必考题,每个试题考生都必须作答。第 43~47 题为选考题,考生根据要求作答。
- (一)必考题:共 135 分。

36. 阅读图文材料,完成下列要求。(28 分)

森林食品是指以森林生态环境下生长的植物、微生物及动物为原料生产加工的各类食品。森林可以形成有利于动植物生长的环境,树木分泌的杀菌素能够杀死空气中的病菌和微生物,从而保证森林食品纯天然、无污染、健康营养的品质。我国森林食品资源丰富,但受自然条件、经济发展和社会环境等因素影响呈现出区域分异性特征。图 9 示意

2009—2018 年我国七大地区森林食品产业竞争力综合得分。

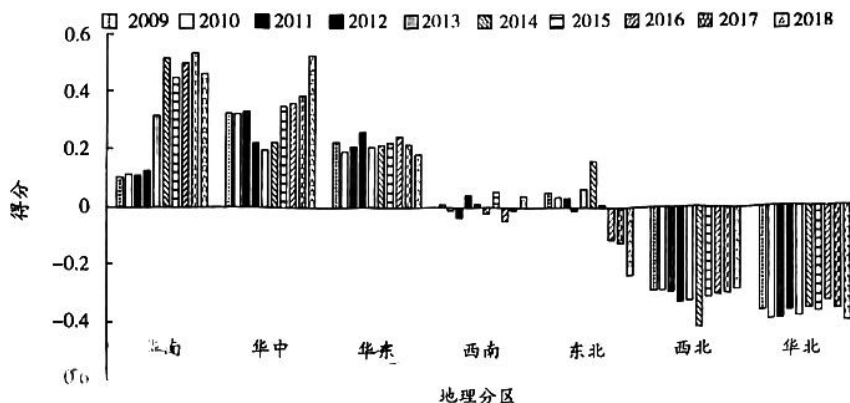


图 9

- (1) 列举我国可开发的森林食品的类型。(4 分)
- (2) 简述 2009—2018 年我国七大地区森林食品产业竞争力的变化。(6 分)
- (3) 与华南地区相比,东北地区森林食品产业竞争力较弱,请从东北地区的角度说明原因。(6 分)
- (4) 说出提高我国森林食品产业竞争力的可行措施。(6 分)

37. 阅读图文材料,完成下列要求。(24 分)

混合式抽蓄能电站是兼具抽水蓄能和径流发电功能的水电站。2022 年 12 月 29 日,雅砻江两河口混合式抽水蓄能电站(见图 10)正式开工建设。该项目位于四川省甘孜州雅江县,建设场址海拔 3 000 米,依托四川省内最大的水库——两河口水电站水库为上库,下游衔接梯级水电站牙根一级水电站水库为下库。建成后,它将成为世界最大、海拔最高的混合式抽水蓄能“充电宝”。两河口周边地区新能源富集,据初步测算,风能、光伏能源规模超过 2 000 万千瓦。

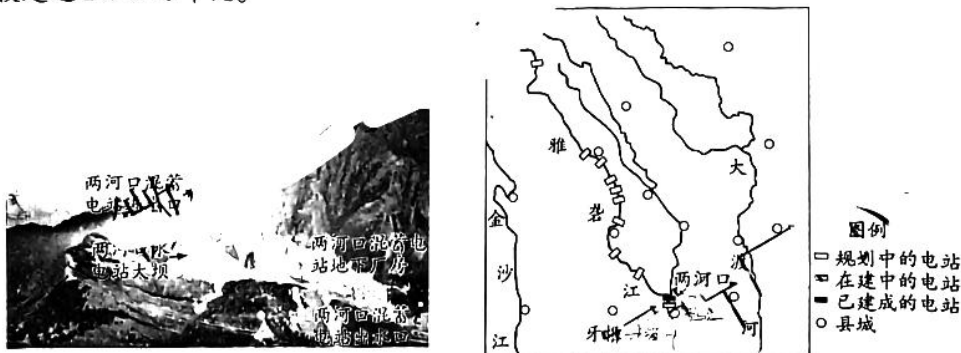


图 10

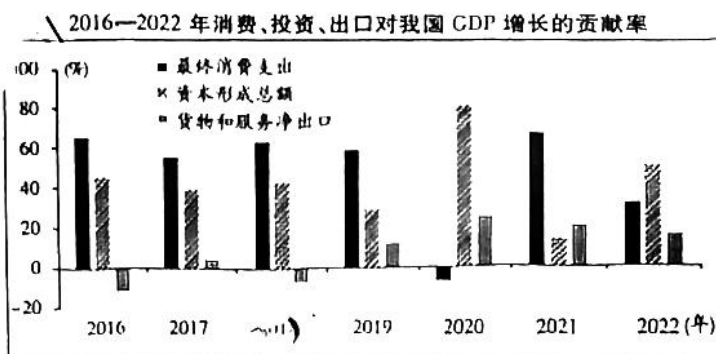
- (1) 说出在两河口水电站水库附近建设混合式抽水蓄能电站的有利条件。(6 分)
- (2) 说明两河口水电站上游的雅砻江干流上规划了若干级水电站的原因。(6 分)

(3) 推测雅鲁江两河口混合式抽水蓄能电站蓄能效益最低的季节,并说明理由。(6分)

(4) 从能源开发利用的角度,说出该项目建成后产生的积极影响。(6分)

38. 阅读材料,完成下列要求。(14分)

材料一 2022年中央经济工作会议提出,着力扩大国内需求,要把恢复和扩大消费摆在优先位置。



注:2022年,由于疫情的反复冲击,全年社会消费品零售总额同比下降0.2%,GDP增长3.0%,最终消费支出、资本形成和净出口的贡献率分别为32.8%、50.1%和17.1%。

图11

材料二 当前,我国消费面临一些制约:从供给侧看,市场主体创新能力不能完全适应高质量发展要求,群众个性化、多样化消费需求未能得到有效满足;从需求侧看,城乡区域发展不平衡,收入差距较大,加上这几年疫情影响,老百姓消费意愿不强,消费信心不足,消费意愿不强,消费信心不足,消费意愿不强,消费信心不足。

结合材料一蕴含的经济信息。(4分)

(2) 结合材料二和经济生活知识,为扩大消费提出合理化建议。(10分)

39. 阅读材料,完成下列要求。(12分)

团结奋斗是中国共产党和中国人民的显著精神标识,也是中国共产党百年领导人民赢得一个又一个伟大胜利的关键密码;从土地革命战争时期的“唤起工农千百万,同心干,到支援人民解放军统一战线的旗帜下”“四万万人齐蹈厉,同心同德一戎衣”;到“号召”“团结一切可以团结的力量,为建成现代化的社会主义强国而奋勇前进,到全党上下,广大党员,数百万党员干部奔赴脱贫攻坚主战场……穿越历史的烟云,一个真理昭示:团结奋斗是中国人民创造历史伟业的必由之路!

以中国式现代化全面推进中华民族伟大复兴,任务艰巨。只有在党的领导下,把14亿多中国人民的积极性、主动性、创造性激发出来、凝聚起来,形成全党全社会心往一处想、劲往一处使的生动局面,才能最终变成美好现实。

结合材料和政治生活知识,说明如何形成全党全社会心往一处想、劲往一处使的生动局面”。

40. 阅读材料,完成下列要求。(26分)

黄河是中华民族摇篮,中华民族在古老的黄河流域,演出了一幕幕壮丽辉煌的剧目,特别是人民治黄以来,彻底扭转了历史上“三年两决口”的悲剧,取得了岁岁安澜的伟大胜利。中华民族在同黄河水患的博弈中,孕育了厚重的黄河文化,生成了“团结、务实、开拓、拼搏、奉献”的黄河精神。

黄河是世界上含沙量最大的河流,泥沙淤积是黄河中下游水患不断的重要因素。解决泥沙淤积,是中华民族千年夙愿,也是世界级难题。新中国成立后,为解决泥沙淤积问题,水利专家们殚精竭虑孜孜探索,在20世纪80年代找到了“调水调沙”这一妙方。科学家经过大量分析研究和300多场实体模型实验,证实了这项技术的可行性。2001年年底小浪底水库建成运行。2002年小浪底水库启动首次调水调沙试验,其后,逐渐形成多水库联合调度模式。实施21年来,黄河下游主河槽平均下切已达3.1米。随着调水调沙持续实施,黄河“地上悬河”的历史正在被改写!

(1)结合材料,运用认识论的有关知识分析实践在中国人民探索和解决黄河泥沙淤积问题中的作用。(12分)

(2)没有黄河精神,黄河水患就得不到有效治理。结合材料运用中华民族精神的知识对此加以说明。(10分)

(3)改写“地上悬河”的历史是党领导人民创造的奇迹之一。某网络媒体以“这些年我们创造的奇迹”为主题开设专栏致敬党的二十大。请你列出两项符合该主题的事件,并写出两条举办该活动的目的。(4分)

41. 阅读材料,完成下列要求。(25分)

材料一 明清文献记载了大量有关商人从事社会公益事业的事迹,塑造了较为完美的商人形象。他人的劝捐和求助,以及商人自身所遇是商人获取善举信息的主要渠道。善举只是他们经商之余或归业回家的一种调节,不可能如文献记载的那样“乐此不疲”。文人、士大夫、同乡、同族都是商人们善举的对象。商人们的善举,是他们与“受助者”或“求助者”之间一种有偿地互动。

——摘编自宋立杰《有偿的互动:明清商人善举考》

材料二 英国近代早期,逐渐增多的流民和贫民成为严重的社会问题,政府着手解决济贫问题,颁布系列法令。商人参与慈善不再仅仅是遗产捐赠和葬礼施舍,还有生前捐赠和捐建各种济贫机构;不再仅仅出于宗教虔诚,为了灵魂救赎或为了树立个人体面的社会地位,而是有了更多的社会责任感。由针对个别的私人救助到针对社会秩序的社会控制,从单纯直接的钱物捐赠扩展到包括济贫、医疗和教育的全面关照。商人的慈善表现不仅使民众对他们有了深刻印象,就连他们自己都为在慈善事业上的所作所为感到“格外自豪”。

——摘编自陈娟、陈勇《略论近代早期英国商人的慈善活动》

(1)根据材料一并结合所学知识,概括明清商人善举的特点。(7分)

(2)根据材料二并结合所学知识,说明近代早期英国商人慈善活动的变化及原因。(10分)

(3)根据材料一、二并结合所学知识,说明明清商人和近代早期英国商人善举的共同意义。(8分)

42. 阅读材料,完成下列各题。(12分)

材料 有学者在研究近代中国政治制度发展道路后进行了总结(如下所示)。

表3

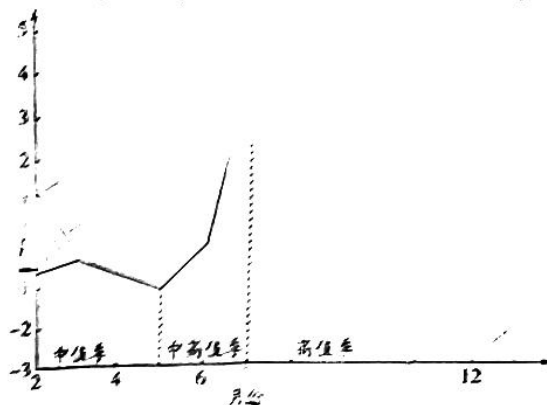
一	仿法为西方资本主义的政治制度发展道路
二	国民党统治区以孙中山的政治设计为基础,受多种因素影响形成的政治制度发展道路。
三	中国共产党以马克思主义的政权建设理论为指导,结合中国国情,探索出的具有中国特色的社会主义政治制度发展道路

根据材料,结合中国近代相关史实,展开论述。(说明:观点明确,史论结合,论证充分,表述清晰。)

(二)选考题:共25分。请考生从2道地理选考题、3道历史选考题中每科任选一题作答。如果多做,则按所做的第一题计分。

43. 【地理——选修3:旅游地理】(10分)

近年来,随着铁路、公路等基础设施的不断完善,青藏高原以旅游为主的流动人口呈明显的增加趋势。图12示意青藏高原以旅游为主的流动人口的季节变化。



说明青藏高原以旅游为主的流动人口的季节变化特点,并分析其原因。

44. 【地理——选修6:环境保护】(10分)

改革开放后,我国工业化、城镇化进程加快,经济水平整体大幅提高,但经济的快速发展也带来了新的弊端,突出体现在对资源和环境的消耗以及造成的生态环境问题。由于城乡的不平衡发展,农村地区的生态环境问题更加严重,且治理难度大、不易根治。分析农村生态环境问题治理难度大的主要原因,并提出相应的治理措施。

45. 【历史——选修1:历史上重大改革回眸】(15分)

材料 抗战时期在陕甘宁边区,伤寒、天花等传染病和常见病十分流行,边区许多军民受到感染,甚至死亡。中国共产党和边区政府把疾病预防与控制当做一项重要的政治任务。1940年3月,中共中央在延安召开了防疫工作会议,5月成立延安防疫委员会。面对边区群众对疾病防控知识的缺乏,以及边区严重的封建迷信思想和不良卫生的习惯,党和边区政府开展了多种形势的宣传教育,并采取加强医疗机构建设、建立防疫机制、增强人民群

文科综合试题 第11页(共12页)

集体等科学疫病防治举措。边区的疫病防治工作始终坚持正确的群众路线,得到了群众的支持和拥护,促使广大群众积极参加疫病防治工作。经过努力,边区的疫病防控工作取得了很好的效果,一定程度上控制了疫病的流行和蔓延,并积累了丰富的防疫经验。

——摘编自陈松友、杜君《抗战时期陕甘宁边区的疫病防治》

(1)根据材料并结合所学知识,概括抗战时期陕甘宁边区疫病防治开展的背景。(7分)

(2)根据材料并结合所学知识,说明抗战时期陕甘宁边区疫病防治的特点。(8分)

46. [历史——选编:20世纪的战争与和平](15分)

材料 1947年3月,美国国务卿杜勒斯公开指出:“在当今的形势下,共产党苏联及其盟国通过各种手段,要把它们的政治体制强加于东南亚,这会给整个自由世界带来严重的威胁。美国认为我们不应该被动地接受这种可能性,而应该采取联合行动加以防范。”杜勒斯认为,联合行动指的是包括法国、英国、美国、澳大利亚、新西兰、泰国和菲律宾等国在内的共同组成的联盟。为配合杜勒斯的倡议,总统艾森豪威尔发表声明指出,由于“多米诺骨牌式坍塌”理论以及该地区在原料、人口、地理位置和市场方面的重要性,“丢失”印度支那“可能带来的后果对自由世界来说简直是无法估量的”。经过美国的多方周旋,1954年9月8日,美、英、法、澳大利亚等14个国家在菲律宾马尼拉缔结东南亚集体防务条约,成立了东南亚集体防务条约组织,简称东南亚条约组织。

——摘编自时海蓉《东南亚条约组织的成立与苏联的对策(1954—1956)》

(1)根据材料并结合所学知识,简析美国积极策划东南亚条约组织的原因。(7分)

(2)根据材料并结合所学知识,简评东南亚条约组织。(8分)

47. [历史——选修4:中外历史人物评说](15分)

材料 胡寅(1098—1156年),宋建州崇安人,理学家胡安国养子,深得胡氏理学精髓,作为主战派代表杨时的学生,胡寅乃直道。《千字文》为南朝周兴嗣所编,后世仿效《千字文》的作品迭出,入宋之后,此体更为流行。胡寅《叙古千字文》仅以千字,简述先秦至宋的重要历史人物、历史事件,勾勒出中国历史的发展脉络。《叙古千字文》发微其边防思虑,选取了先进的中原文化感化少数民族并使之臣服的事迹;认为法家残酷深刻,道家、墨家有所偏颇,皆不能成内圣人之学,孔子为圣人,为大中至极之道,自孔子之后,子思与孟子继承圣人德业;对于佛、道二教大加批判,“庄老虚谈,佛释空谛”;认为李世民推行仁义之道,故成贞观之治,夸赞宋朝天下纯被文王之化,一派盛治至和。胡寅的《叙古千字文》是“用理学观点解释历史和通过讲述历史宣传理学的奇诡课本”,受到朱熹的赞赏推崇。

——摘编自纪昀《宋代胡寅〈叙古千字文〉研究》

(1)根据材料并结合所学知识,说明胡寅写作《叙古千字文》的背景。(7分)

(2)根据材料并结合所学知识,简析朱熹推崇《叙古千字文》的原因。(8分)

2023 届高三年级第二次模拟考试

文科综合·地理答案

1~11 小题,每小题 4 分,共 44 分。

1. 答案 C

命题透析 本题以放牧率与土壤呼吸速率的关系为情景,考查放牧对土壤呼吸速率的影响,旨在考查考生获取和解读地理信息、调动和运用地理知识的能力,综合思维的学科核心素养。

思路点拨 读图可知,当放牧率小于 3 时,冬季牧场的土壤呼吸速率较高,当放牧率大于 3 时,春季牧场的土壤呼吸速率较高;春季牧场放牧率越高,土壤呼吸速率越高,冬季牧场放牧率越高,土壤呼吸速率越低;冬季牧场的土壤呼吸速率约为 0.20~0.33,春季牧场的土壤呼吸速率约为 0~0.25,冬季牧场的平均土壤呼吸速率较高。

2. 答案 C

命题透析 本题以放牧率与土壤呼吸速率的关系为情景,考查影响土壤呼吸速率的因素,旨在考查考生获取和解读地理信息、调动和运用地理知识的能力,综合思维的学科核心素养。

思路点拨 读图可知,春季牧场放牧率与土壤呼吸速率呈正相关。牲畜踩踏使土壤紧实度提高,土壤的渗透率、透气性、微生物活性等随之降低,土壤呼吸速率减小,不符合题意;牲畜采食使土壤中的根系减少,呼吸作用减弱,土壤呼吸速率减小,这与图示土壤呼吸速率的变化特点相悖;牲畜采食会降低植被盖度和高度,提高太阳透射率,导致地表升温,促进土壤呼吸;牧民在春季牧场放牧时,草类已经萌发,且牲畜踩踏不利于种子萌发。

3. 答案 D

命题透析 本题以放牧率与土壤呼吸速率的关系为情景,考查牧场可持续发展的措施,旨在考查考生获取和解读地理信息、调动和运用地理知识的能力,综合思维的学科核心素养。

思路点拨 读图可知,冬季牧场放牧率与土壤呼吸速率呈负相关,可能是由于冬季牧场放牧量过大,破坏了土壤的理化性质;提前向春季牧场转场时,春季牧场的草类生长状况较差,不适合放牧;宰杀部分能繁母畜会影响畜群的繁殖能力,影响牧民的经济收入;在我国不断加强生态环境保护的背景下,扩大冬季牧场的范围不符合实际;提前储备人工牧草可以减轻冬季牧场的放牧压力,有利于草场生态的保护和恢复,也能够保障草料供应。

4. 答案 A

命题透析 本题以襄阳市鱼梁洲隧道为情景,考查影响交通建设的因素,旨在考查考生获取和解读地理信息、调动和运用地理知识的能力,区域认知、综合思维的学科核心素养

思路点拨 鱼梁洲是由流水沉积作用形成的江心洲。由于鱼梁洲地处透水能力极强且松软的砂卵石地层,面临止水、支护等重重挑战,这是鱼梁洲隧道采用下穿式设计需要攻克的主要难题。

5. 答案 B

命题透析 本题以襄阳市鱼梁洲隧道为情景,考查不同交通运输方式的比较,旨在考查考生获取和解读地理信息、调动和运用地理知识的能力,综合思维的学科核心素养。

思路点拨 在遇到大风、暴雪、雾、冰冻等恶劣天气时,汽车不宜上桥或行走不便,而隧道可全天候通行,受影响较小;隧道的耐久性、承受超载能力、抗自然灾害、抵抗战争破坏的能力,远高于桥梁;隧道需在地下开挖隧洞、制作沉管等,隧道建设灵活性较差,投资成本较高。

6. 答案 D

命题透析 本题以襄阳市鱼梁洲隧道为情景,考查交通运输建设对区域发展的影响,旨在考查考生获取和解读地理信息、调动和运用地理知识的能力,综合思维的学科核心素养。

思路点拨 鱼梁洲隧道下穿鱼梁洲,对鱼梁洲旅游开发的影响小;鱼梁洲隧道建成后,将加快樊城区和东津新区的联通联动,带动人口聚集和城市功能转移,促进区域经济发展;鱼梁洲隧道建成后主要改善的是襄阳市本地的交通条件,对湖北省对外交通条件的影响较小,不能提升湖北省的辐射能力;鱼梁洲隧道属公路运输,建成后不会增加居民出行的交通方式选择。

7. 答案 A

命题透析 本题以密西西比河相关材料为情景,考查陆地水体的补给关系,旨在考查考生获取和解读地理信息、调动和运用地理知识的能力,区域认知、综合思维的学科核心素养。

思路点拨 春季和初夏气温回升,干支流上游及山区的积雪融化形成径流汇入河流,且降水增多,从而导致春季和初夏径流量较大

8. 答案 B

命题透析 本题以密西西比河相关材料为情景,考查河流的水文特征,旨在考查考生获取和解读地理信息、调动和运用地理知识的能力,综合思维的学科核心素养。

思路点拨 读图可知,1976—2015年密西西比河入海水体月均悬沙浓度明显降低。流域内的人口密度增大,人类活动增强,可能会使月均悬沙浓度升高;水土保持措施的实施和众多水利工程建设,使密西西比河含沙量减少,入海水体月均悬沙浓度降低;二战后,第一产业在美国GDP中所占的比重已经很低了,因此第一产业占比不可能大幅下降。

9. 答案 B

命题透析 本题以勒布沟地区非飞行小型兽类的垂直分布为情景,考查自然环境的差异性,旨在考查考生获取和解读地理信息、调动和运用地理知识的能力,综合思维的学科核心素养。

思路点拨 勒布沟地区位于喜马拉雅山脉东段南坡,纬度低,垂直高差大,气候差异明显,适宜不同种类植物生长;植被景观多样会使生物多样性变高;人为影响小不会使植被变化明显。

10. 答案 D

命题透析 本题以勒布沟地区非飞行小型兽类的垂直分布为情景,考查自然环境的整体性,旨在考查考生获取和解读地理信息的能力,综合思维的学科核心素养。

思路点拨 读图可知,藏鼠兔分布在海拔2 900~3 200米,分布范围较窄,属于狭域分布物种;斯氏高山䓍分布在海拔3 200~5 000米,分布范围较广,属于宽域分布物种;中低海拔地区,物种数量较多;高海拔地区,物种数量较少。

11. 答案 A

命题透析 本题以勒布沟地区非飞行小型兽类的垂直分布为情景,考查自然环境的整体性,旨在考查考生获取和解读地理信息、调动和运用地理知识的能力,综合思维的学科核心素养。

思路点拨 暖季,食物来源充足,非飞行小型兽类会贮存大量食物于巢穴、洞穴中;到了冷季,植被枯萎、枝叶凋谢、环境萧条,一方面,食物匮乏,觅食难度加大,另一方面,开阔的环境使非飞行小型兽类的隐蔽条件变差、被捕食的概率增大,因此活动频率减少;冷季和暖季空气密度变化不大,对动物习性几乎无影响。

36. 命题透析 本题以森林食品为情景,考查农业区位等知识,旨在考查考生获取和解读地理信息、调动和运用地理知识、论证和探讨地理问题的能力,区域认知、综合思维的学科核心素养。

答案要点 (1)果品;油料;粮食;蔬菜;饮料;药材;肉食;调料等。(任答其中2点,每点2分,共4分。其他答

案合理可酌情给分)

(2)西南、西北、华北和华东地区的竞争力整体变化不大;华南和华中地区的竞争力整体提高;东北地区的竞争力整体下降。(每点2分,共6分。其他答案合理可酌情给分)

(3)东北地区森林植被以落叶阔叶林和针阔叶混交林为主,冬半年可生产的森林食品少;东北地区森林类型较为单一,可生产的森林食品种类较少;东北地区经济水平低,对森林食品开发利用率低。(每点2分,共6分。其他答案合理可酌情给分)

(4)注重保护森林资源,建立森林食品资源基地;完善本区域深加工产业链,促进森林食品资源的精深和综合加工;提高技术水平,促进森林食品的规范化、标准化生产;做优做强品牌,加强森林食品的生态认证与监督。(任答其中3点,每点2分,共6分。其他答案合理可酌情给分)

37. 命题透析 本题以雅砻江两河口混合式抽水蓄能电站建设为情景,考查能源资源开发利用等知识,旨在考查考生获取和解读地理信息、调动和运用地理知识、论证和探讨地理问题的能力,区域认知、综合思维的学科核心素养。

答案要点 (1)可利用现有水库,工程投资小;水库淹没损失小,移民安置少;工程量小,建设周期短等。(每点2分,共6分。其他答案合理可酌情给分)

(2)该河段河流落差大,水能资源丰富;水能开发利用率较低;我国的能源需求量巨大,能源缺口大;水电属于清洁能源,而清洁能源在我国能源消费结构中所占的比重较低。(任答其中3点,每点2分,共6分。其他答案合理可酌情给分)

(3)季节:夏季。(2分)

理由:夏季正值汛期,雅砻江径流量大;两河口水电站水库和牙根一级水电站水库的水位高,留给蓄能的库容较小,因此蓄能效益较低 (每点2分,共4分。其他答案合理可酌情给分)

(4)促进雅砻江流域风、水、光等清洁能源协同集中开发;优化电网电源结构,保障国家能源安全;可将波动较大的风电和光伏发电调整为供能稳定的优质电源等。(每点2分,共6分。其他答案合理可酌情给分)

43. 命题透析 本题以青藏高原以旅游为主的流动人口的季节变化图为情景,考查区域旅游发展等知识,旨在考查考生获取和解读地理信息、调动和运用地理知识、论证和探讨地理问题的能力,区域认知、综合思维的学科核心素养。

答案要点 特点:季节变化大,夏季旅游人数较多,其他季节较少(或春秋季节次之,冬季最少)。(2分。其他答案合理可酌情给分)

原因:青藏高原属高原气候,春秋季节和冬季气温低,不适宜旅游;夏季,由于海拔高,气候较凉爽,人体舒适度较高;夏季,我国大部分地区气温较高,游客前往青藏高原旅游可避暑;夏季,青藏高原草木萌发,雪山、草原、河流景色优美,对游客的吸引力强。(每点2分,共8分。其他答案合理可酌情给分)

44. 命题透析 本题以农村生态环境问题为情景,考查环境问题及解决措施,旨在考查考生获取和解读地理信息、调动和运用地理知识、论证和探讨地理问题的能力,区域认知、综合思维的学科核心素养。

答案要点 原因:农村环境治理资金不足,导致治理的持续性差;农村居民的环保意识较弱,环境治理阻力较大;农村环境治理后的监管不到位,导致环境问题反复出现。(任答其中2点,每点2分,共4分。其他答案合理可酌情给分)

措施:加大资金和技术投入,提高治理水平;完善农村基层治理制度,制定村规约束民众;加强宣传,提高村民的环保意识,调动村民的环保积极性;推动农村基础设施建设,为环境治理提供保障;加强后续监管,巩固治理成果。(任答其中3点,每点2分,共6分。其他答案合理可酌情给分)

2023 届高三年级第二次模拟考试

文科综合·历史答案

24~35 小题,每小题 4 分,共 48 分。

24. 答案 D

命题透析 本题以肃旨铭文的记载为背景材料,旨在考查学生获取和解读信息、调动和运用知识的能力,同时体现了对唯物史观、时空观念、史料实证、历史解释、家国情怀学科素养的考查。

思路点拨 材料显示,周王认为伾伯随意将庶人降为奴仆的行为不符合王命、违反道义,之后肃跟随周王东征后,周王对其进行补偿,这说明周王对地方贵族在管理庶人不善时的干涉和约束,D 项正确。材料不能显示当时庶人政治地位低,A 项错误;材料并未体现诸侯纷争,B 项错误;当时实行的是世卿世禄制,C 项错误。

25. 答案 B

命题透析 本题以文献有关《春秋》对汉代政治生活影响的记载为背景材料,旨在考查学生获取和解读信息、调动和运用知识的能力,同时体现了对唯物史观、历史解释、家国情怀学科素养的考查。

思路点拨 根据材料可知,唐晏记载汉代朝廷决断、人臣上疏,“必引《春秋》为断”,《汉书》也强调了《春秋》是汉代朝廷和官员决定疑难的标准,说明儒家经典《春秋》对国家机器运转的影响,B 项正确。材料并未涉及汉代对清代影响,A 项错误;仅凭材料不能看出汉代史学家的史学观,C 项错误;材料强调的是儒家经典《春秋》在国家治理中的作用,并不能体现神秘色彩,D 项错误。

26. 答案 A

命题透析 本题以唐代墓葬壁画为背景材料,旨在考查学生获取和解读信息、调动和运用知识的能力,同时体现了对唯物史观、史料实证、历史解释、家国情怀学科素养的考查。

思路点拨 材料中“胡人献马”“蕃客使节”“驯豹架鹰”“胡汉打马球”“胡人乐舞”表明,唐朝时期异域文化传入中原且为唐人接受,是当时中外文化交流的体现,A 项正确。B、C、D 三项与题意不符,均排除

27. 答案 C

命题透析 本题以元代茶叶生产与管理为背景材料,旨在考查学生获取和解读信息、调动和运用知识的能力,同时体现了对唯物史观、历史解释、家国情怀学科素养的考查。

思路点拨 材料中“榷茶提举司”为元朝廷设置的茶政管理机构,元朝政府在产茶较多的地区设置大量茶政管理机构,反映出元朝政府加强对茶叶生产管理,C 项正确。材料不能体现社会上饮茶的状况,A 项错误;B、D 两项材料不能体现,排除。

28. 答案 B

命题透析 本题以李鸿章的言论为背景材料,旨在考查学生获取和解读信息、调动和运用知识的能力,同时体现了对唯物史观、史料实证、历史解释、家国情怀学科素养的考查。

思路点拨 材料中“非开铁路”“自开煤矿与火车路”表明,李鸿章鉴于列强侵略,提出将铁路修筑到甘肃、新疆、云南等边疆省份,以巩固国防,B 项正确。李鸿章认识到的是俄国对西北侵略、英国垂涎西南地区,并非列强联合侵华,A 项错误;材料虽有“自开煤矿”,但并未涉及“分洋人之利”,C 项错误;李鸿章强调的是修筑铁路,达到强兵和抵御侵略目的,并未要求政府加强边疆治理,D 项错误。

29. 答案 D

命题透析 本题以民国初年“新中国”话语为背景材料,旨在考查学生获取和解读信息、调动和运用知识的能力,同时体现了对唯物史观、历史解释、家国情怀学科素养的考查。

思路点拨 材料显示,民国初年,知识分子通过不同途径使“新中国”一词不断显现,政党也以“新中国”为名,说明“新中国”成为知识分子和政党表达国家理想的政治话语,反映了建立“新中国”成为时代主题,D项正确。A项与史实不符,排除;B项材料不能体现,排除;材料体现的是知识分子对“新中国”的宣传,C项错误。

30. 答案 C

命题透析 本题以中共中央的决定为背景材料,旨在考查学生获取和解读信息、调动和运用知识的能力,同时体现了对唯物史观、史料实证、历史解释、家国情怀学科素养的考查。

思路点拨 材料显示,中共决定实行减租政策,对因没收而损失的地主救济、富农拉拢,补偿中农损失,有利于稳定民心,维护了农村统一战线,B项错误,C项正确;1945年8月,日本即将投降,A项与史实不符,排除;当时党的工作重心并未转移,D项错误。

31. 答案 A

命题透析 本题以1982—2006年中国就业人口的平均教育年限为背景材料,旨在考查学生获取和解读信息、调动和运用知识的能力,同时体现了对唯物史观、历史解释、家国情怀学科素养的考查。

思路点拨 材料中“就业人口”为劳动投入中的人力资本,1982—2006年我国就业人口平均教育年限呈增长趋势,说明人力资本的平均水平提高,A项正确。仅凭就业人口平均教育年限不能得出职业和高等教育发展、国民教育差距缩小、技术进步的推动作用,排除B、C、D三项。

32. 答案 C

命题透析 本题以希罗多德的言论为背景材料,旨在考查学生获取和解读信息、调动和运用知识的能力,同时体现了对唯物史观、历史解释学科素养的考查。

思路点拨 材料中“没有什么比把统治权授予民众更愚蠢”表明,希罗多德认为民众掌权是“愚蠢”和“难以忍受”的行为,说明其对民众监政的反对和对民主政治反思,A项错误,C项正确;材料不能体现希罗多德对开明君主制的认可,B项错误;材料并不能说明希罗多德的人文精神,D项错误。

33. 答案 A

命题透析 本题以法国出版业发展为背景材料,旨在考查学生获取和解读信息、调动和运用知识的能力,同时体现了对唯物史观、时空观念、历史解释学科素养的考查。

思路点拨 材料显示,18世纪法国出版的科学、艺术、历史、文学和法律等方面书籍增多,这与当时启蒙运动的开展密切相关,A项正确。B项夸大这一变化的影响,排除;1789年法国大革命开始,C项错误;仅凭科学书籍的增多难以得出法国科学成就显著,D项排除。

34. 答案 B

命题透析 本题以孟什维克和社会革命党人的论调为背景材料,旨在考查学生获取和解读信息、调动和运用知识的能力,同时体现了对唯物史观、时空观念、历史解释学科素养的考查。

思路点拨 根据材料并联系所学知识可知,孟什维克和社会革命党人的论调是针对苏俄新经济政策允许城乡资本主义经济因素在一定程度发展而言的,B项正确。A、C、D三项与题意不符,均排除。

35. 答案 A

命题透析 本题以欧共体(欧盟)的活动为背景材料,旨在考查学生获取和解读信息、调动和运用知识的能力,同时体现了对唯物史观、时空观念、历史解释学科素养的考查。

思路点拨 材料显示,1973—2007年,欧共体(欧盟)提出“政治意识上的欧洲认同”并为之努力,积极推动构建政治一体化和欧洲认同感,A项正确。B、C、D三项材料不能反映,均排除。

41. 命题透析 本题以明清和英国近代早期商人善举为背景材料,旨在考查学生获取和解读信息、调动和运用知识、描述和阐释事物的能力,同时体现了对唯物史观、时空观念、历史解释、家国情怀学科素养的考查。

答案要点 (1)特点:获取善举信息途径多样;经商之余的调节;目标对象多元;有偿性。(7分,任答3点,言之成理即可)

(2)变化:参与方式更加多样化;目标和动机更加社会化;关注的重心和救助的范围逐渐转移和扩大。(4分,任答2点,言之成理即可)

原因:政府济贫政策;社会问题严重;商人宗教态度的转变(或宗教改革推动);商人资本的发展。(6分,任答3点,言之成理即可)

(3)意义:有助于商人获得社会认可;增强了商人的社会责任意识;促进了社会公益事业发展;有利于缓解政府压力;有助于社会秩序稳定。(8分,任答4点,言之成理即可)

42. 命题透析 本题以近代中国政治制度发展道路为背景材料,旨在考查学生获取和解读信息、调动和运用知识、描述和阐释事物、论证和探讨问题的能力,同时体现了对唯物史观、时空观念、历史解释、家国情怀学科素养的考查。

答案要点 示例1:

观点:近代国人为实现富强独立尝试了不同的政治制度发展道路。(2分)

论述:在内忧外患的交迫之下,近代国人为了富强独立,进行政治制度变革。清末民初和北洋军阀时期,效法西方资本主义政治制度,先后出现君主立宪制、民主共和制等政体;南京国民政府时期,国民党以孙中山政治设计为基本框架,出现了训政体制、战时体制和行宪体制;中国共产党领导的根据地建立的政治制度中,先后出现了苏维埃制、三三制、人民代表会议制。(9分,言之成理即可)

综上所述,近代中国政治制度演进经历了学习西方与效法苏俄、本土化等阶段,走过了曲折的发展道路。(1分)

示例2:

观点:近代中国对西方政治制度的移植并不成功。(2分)

论述:近代西方文化在炮舰的保护下传入中国,国人希望通过效法西方政制以寻求富强独立。戊戌变法和清末新政是以明治维新后的日本为蓝本进行君主立宪尝试;民国初年和北洋政府时期是对西方民主共和制的机械模仿和简单移植。近代中国在移植西方政治制度过程中,未能与我国国情相结合,最终走向失败。(9分,言之成理即可)

综上所述,近代中国的政治发展证明了对西方政治制度的移植并不成功。(1分)

45. 命题透析 本题以抗战时期陕甘宁边区的疫病防治工作为背景材料,旨在考查学生获取和解读信息、调动和运用知识、描述和阐释事物、论证和探讨问题的能力,同时体现了对唯物史观、时空观念、历史解释、家国情怀学科素养的考查。

答案要点 (1)背景:疫病的流行和蔓延;边区军民生命安全受到威胁;边区群众缺乏疫病防控知识;封建迷信思想和不良卫生习惯的存在。(7分,任答3点,言之成理即可)

(2)特点:党和边区政府有效领导;预防与控制相结合;注重宣传教育;采取科学举措;坚持群众路线;成效显著。(8分,任答4点,言之成理即可)

46. 命题透析 本题以东南亚条约组织为背景材料,旨在考查学生获取和解读信息、调动和运用知识、描述和阐释事物的能力,同时体现了对唯物史观、历史解释学科素养的考查。

答案要点 (1)原因:遏制苏联和新中国的需要;东南亚具有重要战略意义;加强美国在东南亚的影响;维护资本主义世界的稳定。(7分,任答3点,言之成理即可)

(2)简评:是集体防御军事集团;成为美国冷战的工具;加强了美国对东南亚的控制;对亚洲制造新的紧张气氛。(8分,言之成理即可)

47. **命题透析** 本题以胡寅的《叙古千文》为背景材料,旨在考查学生获取和解读信息、调动和运用知识的能力,同时体现了对唯物史观、历史解释、家国情怀学科素养的考查。

答案要点 (1)背景:南北对峙,南宋偏安一隅;效仿《千字文》之风盛行;儒学复兴。(7分,言之成理即可)

(2)原因:微言大义;明确了儒学道统观念;批判佛道思想;宣扬了儒家仁义道德;宣传理学。(8分,任答4点,言之成理即可)



2023 届高三年级第二次模拟考试

文科综合·政治答案

12~23 小题,每小题 4 分,共 48 分。

12. 答案 B

命题透析 本题以 2022 年人民币汇率变化为情境,考查汇率的相关知识,考查考生获取和解读信息、调动和运用知识等能力,考查科学精神学科素养。

思路点拨 利率会改变外汇的供求关系而引起汇率变动,①正确;②不符合实际,2022 年我国物价水平保持了总体稳定;人民币对卢布贬值较大,不考虑其他因素,我国从俄国进口初级产品需要花费更多人民币,③正确;人民币对日元升值对中日贸易的影响是双向的,有利于我国扩大对日进口和投资,但不利于我国扩大对日出口和吸引日本对华投资,中日贸易和投资规模不一定会扩大,排除④。

13. 答案 D

命题透析 本题以庭院经济为情境,考查乡村振兴的有关知识,考查考生获取和解读信息的能力,考查科学精神学科素养。

思路点拨 发展庭院经济可以解决农民就业问题,增加农民收入,推动乡村特色产业发展,改变农民生活环境,形成绿色生产方式和生活方式,③④符合题意。材料没有涉及社会化服务体系、创新农村基本经营制度等问题,①②不符合题意

14. 答案 B

命题透析 本题以我国发行地方政府债券为情境,考查财政政策的有关知识,考查考生调动和运用知识的能力,考查政治认同学科素养。

思路点拨 政府债券是财政收入的来源之一,①可选;发行两类债券对促进经济发展都有积极意义,③可选。一般债券以政府税收作为还本付息的保证,而专项债券以项目收益作为还本付息的保证,②不选;发行一般债券的目的往往是弥补财政赤字,发行专项债券往往是为建设项目或特殊经济政策等筹措资金,④不选。

15. 答案 D

命题透析 本题以我国产业集群建设为情境,考查建设现代化经济体系的相关知识,考查考生获取和解读信息、调动和运用知识等能力,考查科学精神学科素养。

思路点拨 在集群内部发展能够节约时间、运输等成本,具有资源配置效率高的优势,③正确;产业集群内本地配套率高,在应对外部冲击时,发展产业集群能增加产业链供应链的韧性和稳定性,④正确;①错误,产业集群的发展不是孤立的发展,能减少但不能避免外部冲击。②不符合题意,产业集群没有涉及自然资源优势。

16. 答案 A

命题透析 本题以民众参与城市治理的具体事例为情境,考查公民参与政治生活、政府职能等知识,考查考生获取和解读信息、调动和运用知识的能力,考查公共参与学科素养。

思路点拨 通过搭建线上平台让民众参与城市治理,及时发现并处理问题,提高了城市精细化管理水平,①正确;“随手拍”平台的建设发挥了现代科技畅通民主参与渠道的作用,②正确;材料没有涉及决策和创新组织形式,排除③④。

17. 答案 C

命题透析 本题以深入推进政务服务“一网、一门、一次”改革为情境,考查政府职能转变的有关知识,考查考生获取和解读信息的能力,考查政治认同学科素养。

思路点拨 推进“一件事一次办”,整合了行政资源,提高了办事效率和服务水平,是利企便民的大好事,②③符合题意。材料没有涉及简政放权、强化行政监督等问题,①④不选。

18. 答案 A

命题透析 本题以中国倡议受到国际积极响应为情境,考查我国的外交政策、国际形势等知识,考查考生获取和解读信息、调动和运用知识等能力,考查政治认同学科素养。

思路点拨 中国提出的安全倡议和发展倡议之所以得到国际社会响应,是因为它顺应了时代潮流,符合世界大多数国家人民的心愿,也反映了中国的国际影响力和话语权日益增强,①②正确;③错误,在当代国际社会中,中国坚定地维护自己的国家利益,同时兼顾他国的合理关切;④不符合实际,在当今世界,仍有一些国家奉行霸权主义和强权政治。

19. 答案 D

命题透析 本题以央视青年技能人才报道为情境,考查文化对人的影响、培育社会主义核心价值观等知识,考查考生获取和解读信息、调动和运用知识等能力,考查政治认同学科素养。

思路点拨 央视作为国家媒体,此报道属于文化事业,排除①;渠道和载体创新只是实现目的的手段,不是目的,②不符合题意;《青春匠心》展现了当代青年技能人才报国事迹,彰显了核心价值观中爱国、敬业的内容,能够激励青年在奋斗中成才,报效国家,③④正确且符合题意。

20. 答案 C

命题透析 本题以中美文化交流的具体事例为情境,考查文化创新的有关知识,考查考生获取和解读信息、调动和运用知识等能力,考查科学精神学科素养。

思路点拨 材料没有涉及中美经济政治合作,排除①;交响乐以唐诗为基础,用西方音乐来表达中国意蕴,体现了融通古今中外文化资源在创新中的作用,②正确;通过交响乐的形式,唐诗跨越千年、漂洋过海,说明创新能挖掘优秀传统文化活力,③正确;传播能促进文化价值实现,但不能赋予其新价值,④错误。

21. 答案 B

命题透析 本题以人工智能技术应用于艺术创作的影响为情境,考查意识的能动性的有关知识,考查考生获取和解读信息、调动和运用知识的能力,考查科学精神学科素养。

思路点拨 人工智能绘画是人类智慧的成果,体现了人类活动的能动性,①正确;②错误,人工智能只是人类实践的工具,没有思维能力;艺术创作本身不属于实践的基本形式,人工智能的应用也不能扩展实践的基本形式,③错误;人工智能的应用会促进艺术创作的发展,但人工智能不能替代人类从事艺术创作,④正确。

22. 答案 D

命题透析 本题以漫画为情境,考查矛盾的基本属性等知识,考查考生获取和解读信息、调动和运用知识等能力,考查科学精神学科素养。

思路点拨 漫画显示,人们学会换个角度看问题能使人生的压力变成乐趣,体现了矛盾双方在一定条件下的转化,④正确。换个角度看问题有助于舒缓人的压力,促进身心健康,③正确。①错误,夸大了思维方式的作用。②观点太绝对。

23. 答案 A

命题透析 本题以2022年年度汉语为情境,考查社会存在与社会意识的知识,考查考生获取和解读信息、调

动和运用知识的能力,考查科学精神学科素养。

思路点拨 2022 年年度汉语是对社会实践和社会存在的反映,①②符合题意。③与题干主旨不符。产生于实践的社会意识并不一定都是正确的,④不选。

38. **命题透析** 本题以中央经济工作会议强调恢复和扩大消费为情境,考查消费的作用、影响消费的因素、高质量发展等知识,考查考生获取和解读信息、调动和运用知识、描述和阐释问题、分析和解决问题的能力,考查政治认同等学科素养。

答案要点 (1)2016—2019 年,我国消费对经济增长的贡献率均保持在 50% 以上,2021 年达到新高,消费对经济发展的基础性作用不断增强。(2 分)2020 年、2022 年受疫情冲击,消费增长乏力,经济增长更多依靠投资和出口拉动。(2 分)

(2)把实施扩大内需战略同深化供给侧结构性改革有机结合起来。(2 分)通过增加高质量产品和服务供给,不断提升国内供给质量水平,激发消费潜力,实现供需良性循环。(2 分)稳定并增加就业,多渠道增加城乡居民收入,提高消费能力,提振消费信心。(2 分)完善收入分配政策,提高社会保障水平,缩小收入差距,推动共同富裕取得实质性进展。(2 分)积极改善消费环境,创新消费场景,完善消费政策,让老百姓能消费、敢消费、愿消费。(2 分)(从其他角度回答,言之有理可酌情给分)

39. **命题透析** 本题以团结奋斗这一党领导人民不断取得胜利的密码为情境,考查坚持党的领导、党的建设、社会主义民主政治等知识,考查考生获取和解读信息、调动和运用知识、分析和解决问题的能力,考查政治认同、公共参与等学科素养。

答案要点 维护党中央权威,坚持党中央集中统一领导,充分发挥党总揽全局、协调各方的核心作用。(3 分)加强党的建设,坚持全面从严治党,推进党的自我革命,充分发挥基层党组织战斗堡垒和党员先锋模范作用,增强党的政治领导力、群众组织力、社会号召力。(3 分)坚持以人民为中心,发展全过程人民民主,赢得人民群众的衷心拥护和坚定支持,激发和凝聚人民参与建设中国式现代化的力量。(3 分)坚持完善党领导的多党合作和政治协商制度,巩固和发展最广泛的爱国统一战线,形成同心共圆中国梦的强大合力。(3 分)

40. **命题透析** 本题以中国解决黄河地上悬河取得的伟大奇迹为情境,考查认识论、中华民族精神等知识,考查考生获取和解读信息、调动和运用知识、描述和阐释问题、探究和论证问题等能力,考查科学精神等学科素养。

答案要点 (1)实践是人们能动改造客观世界的物质活动,具有直接现实性。(2 分)水利专家经过艰苦卓绝的努力和不懈探索,解决了黄河淤积的难题,将中国人民千年的夙愿逐步变成现实。(3 分)实践是认识的来源、动力,是检验认识真理性的标准和认识的目的。(3 分)水利专家在与黄河水患斗争过程中获得和深化了治理黄河泥沙淤积的认识,并通过多次模型实验验证了调水调沙技术的可行性,付诸实践后取得了黄河下游河道降低的积极成果。(4 分)

(2)中华民族精神是维系中华各族人民共同生活的精神纽带,支撑中华民族生存发展的精神支柱,推动中华民族走向繁荣、强大的精神动力,是中华民族永远的精神火炬。(3 分)黄河精神是中华民族精神的生动诠释,同时也融入了新的时代要求和文化内涵,是宝贵的精神财富。(3 分)弘扬黄河精神,能为我们治理黄河凝聚民族力量,增强战胜黄河水患的信心,引领人们在科学治水的道路上开拓创新、奋勇前进,不断取得治理黄河的伟大功绩。(4 分)

(3)示例:

事件:打赢脱贫攻坚战,全面建成小康社会;天宫空间站建成,开启太空探索新篇章。(2 分)

目的:鼓舞人民斗志,增强人民自信,提振人民精神。(任选 2 条,每条 1 分)

关于我们

自主选拔在线是致力于提供新高考生涯规划、强基计划、综合评价、三位一体、学科竞赛等政策资讯的升学服务平台。总部坐落于北京，旗下拥有网站（网址：www.zizzs.com）和微信公众平台等媒体矩阵，用户群体涵盖全国 90% 以上的重点中学师生及家长，在全国新高考、自主选拔领域首屈一指。

如需第一时间获取相关资讯及备考指南，请关注**自主选拔在线**官方微信号：**zizzsw**。



微信搜一搜

自主选拔在线

