

岳阳市 2023 届高三教学质量监测 (二)

历史

本试卷共 8 页, 19 道题, 满分 100 分, 考试用时 75 分钟。

注意事项:

1. 答卷前, 考生务必将自己的学校、班级、考号、姓名填写在答题卡上。
2. 作答选择题时, 选出每小题答案后, 用 2B 铅笔在答题卡上对应题目选项的答案信息点涂黑; 如需改动, 用橡皮擦干净后, 再选涂其它答案。答案不能答在试卷上。
3. 非选择题必须用黑色字迹的钢笔或签字笔作答, 答案必须写在答题卡各题目指定区域内相应位置上; 如需改动, 先划掉原来的答案, 然后再写上新答案; 不准使用铅笔和涂改液。不按以上要求作答无效。
4. 考生必须保证答题卡的整洁。考试结束后, 将答题卡交回。

一、选择题: 共 15 题, 每小题 3 分, 共 45 分。在每小题给出的四个选项中, 只有一项是符合题目要求的。

1. 春秋管子言: “一年之计, 莫如树谷; 十年之计, 莫如树木; 终身之计, 莫如树人。” 战国商君曰: “农战之民千人, 而有《诗》、《书》辩慧者一人焉, 于人者皆怠于农战矣。……《诗》、《书》、礼、乐、善、修、仁、廉、辩、慧, 国有十者, 上无使守战。国以十者治, 敌至必削, 不至必贫。” 上述思想
- A. 适应了封建国家的统治需要
B. 反映了社会教化的重要影响
C. 体现了变革时期的治国探索
D. 确立了重本抑末的经济政策
2. 两汉时期, 在户籍管理上, 户内有男性成员的情况下, 女性也可以成为户主; 尊长与卑幼同时存在的情况下, 尊长或卑幼均可能成为户主。三国时期出现了新的趋向, 若户内有成年男性, 则女性和未成年男子已不能成为户主。据此可知三国时期
- A. 户籍制度日趋完备
B. 国家治理效能显著提高
C. 女性社会地位低下
D. 儒学逐渐渗入基层管理

3. 大多数史学家都认为唐朝的两税法减轻了政府对农民的人身控制。以下史实能够说明上述观点的是

- A. 改变了战国以来以人丁为主的赋税制度 B. 国家一年按照夏季和秋季两次收税
C. 以庸代役保证农民有较充分的劳动时间 D. 赋役合并折银征收彻底废除人头税

4. 曲宴是古代帝王赐宴的一种，具有私宴性质，用以拉拢臣下，便于对朝政的控制，参加的人员一般是皇帝近臣、宗亲等。表中北宋曲宴人员变化能够反映出

时期	曲宴记载
太祖朝	建隆二年，“宴制史、统军、军指挥使以上及诸道进奉使于广政殿” 乾德二年，“宴大将王全斌于崇德殿”
真宗朝	咸平五年（1002年）“癸亥，赐近臣岁节宴于宰相吕端第。自是遂以为例” 三年八月八日甲寅，诏近臣观书于龙图阁，遂宴于崇和殿”

- A. 宋初政治改革的方向 B. 科举制度的日益完善
C. 帝王将相的关系亲疏 D. 社会主要矛盾的变化

5. 据统计，自顺治九年（1652年）至康熙十三年（1674年）的22年间，广西境内共恢复府、州、县各级官学51所，其中府学10所，县学41所，基本覆盖了清廷实际控制下的广西全境。上述举措的主要意图是

- A. 稳定传统宗藩体系 B. 重构教化以增强政治认同
C. 推动全国统一进程 D. 兴办学校以传播程朱理学

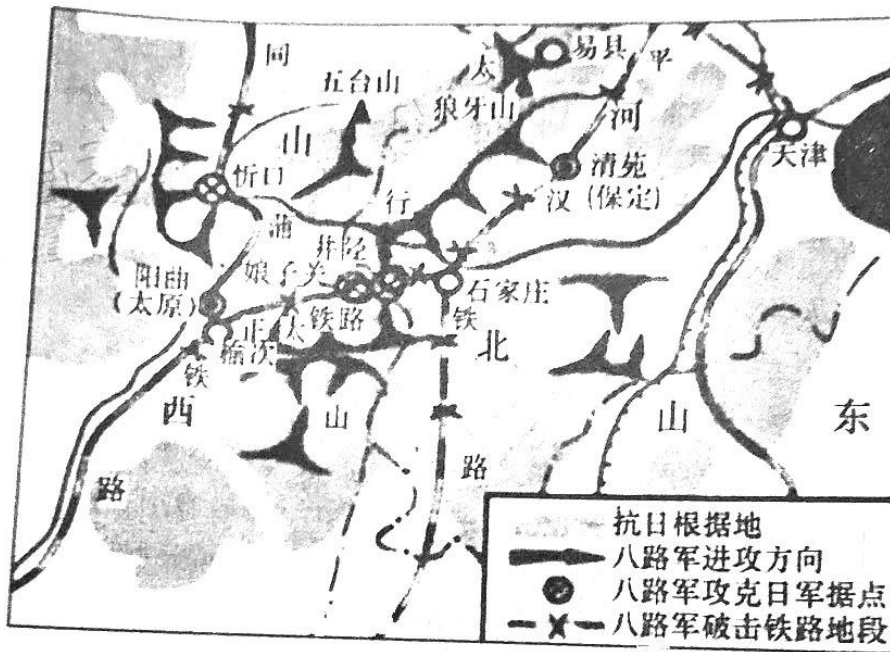
6. 1887年，刘铭传上奏道：“台湾四面皆海，防不胜防……新竹，彰化一带，海口分歧，万难遍布军队……如遇海疆有事，敌船以旱队猝登，隔绝南北声气，内外夹击，危迫将不忍言。若修铁路既成，调兵极便，何处有警，瞬息长驱”。据此可知，刘铭传

- A. 敦促清政府在台湾建省 B. 意识到台湾面临日本窥伺
C. 呼吁政府加强海军建设 D. 主张兴办铁路以巩固国防

7. 1910年10月，直隶谘议局对总督陈夔龙未经同意奏请续募公债提出质问书，质问所办公债是作为地方公益之用还是充当行政经费之用，但陈夔龙不予理睬，于是谘议局在常年会闭会之后又召开临时会，特提出“陈总督侵权违法案”，呈请资政院核办。这反映出当时

- A. 预备立宪成果斐然 B. 民主政治理念付诸实践
C. 三权分立原则确立 D. 督抚权力受到有效制约

8. 据学者统计, 1933年中国制造产品只有30%出口到国际市场, 而70%提供给国内市场。华资工厂生产的部分轻工业产品已经占有60%以上的国内份额。这一经济格局
- A. 改变了中国工业分布不均衡的布局
B. 标志着中国建立起独立的工业体系
C. 为中国应对经济危机提供一定保障
D. 主要得益于列强对华进行资本输出
9. 下图为抗日战争时期中国军队作战示意图。这一行动



- A. 成为敌后战场游击战典范
B. 得到了正面战场的有效配合
C. 打破了日军的“囚笼”政策
D. 逆转了中日双方的力量对比
10. 1949年11月, 刘少奇在世界工人理事会发言指出: “工人阶级反对帝国主义斗争的基本形式——这就是武装斗争, 是人民解放军的战斗行动”。这一发言旨在强调
- A. 中国革命的胜利具有世界属性
B. 反帝是新中国外交的首要任务
C. 人民解放战争是社会主义革命
D. “一边倒”是新中国的必然选择
11. 在中世纪的法国, 乡村共同体作为一个自治性质的单位, 以习惯法为基础, 在得到领主同意后, 通过村民会议自主管理公共事务。17世纪开始, 领主及其代表出席或主持村民会议的权利被进一步限制, 村民会议逐渐为主室监察官所掌控。据此可知, 17世纪的法国
- A. 已经形成完备的成文法体系
B. 乡村共同体丧失了自治权
C. 民族国家形成影响社会管理
D. 基层治理的水平不断提高

12.《旧欧洲：一种关于延续的研究》中，把1000—1800年的欧洲称为“旧欧洲”，并列出了相关“旧”的特征，如下表：

	“旧欧洲的特征”	
经济观	认同的是使用价值	而非交换价值(①)
社会观	认同的是差异等级	而非竞争能力(②)
文化观	认同的是群体意识	而非个人精神(③)
宗教观	认同的是蒙昧盲信	而非自然主义(④)

根据表格信息，请预测“新欧洲”特征出现的历史原因对应正确的是

- A. ①世界市场形成 B. ②文艺复兴 C. ③重商主义 D. ④近代科学产生

13. 1848年，英国通过颁行《公共卫生法》，成立卫生总署；1858年创建枢密医务部；1871年成立地方政府事务部，从而最终构建出一套以地方政府为核心，辅以中央政府监督引导的公共卫生管理制度。这

- A. 改善了英国城乡的公共卫生状况 B. 折射转型期的英国公共卫生状况恶化
C. 表明英国率先构建社会保障体系 D. 表明英国地方政府行政权力有所扩张

14. 下表是法国、德国、美国、英国四国工业生产在资本主义世界所占的比重(单位：%)。其中④是

年份 \ 国家	①	②	③	④	四国合计
1913	14	36	6	16	72
1920	14	47	5	9	75
1937	11	42	5	12	70
1948	11.2	53.4	3.9	3.6	72.1

- A. 德国 B. 英国 C. 美国 D. 法国

15. 2022年美国商务部以“供应链透明度”为由，要求台积电、三星等晶圆代工厂交出被视为商业机密的库存量、订单、销售纪录等数据。美国商务部长雷蒙多表示，如果他们不自愿分享信息，她可能会援引冷战时期的《国防生产法》，迫使他们分享信息。这表明

- A. 美国力图解决全球芯片短缺问题 B. 科技的自主创新是企业发展的根本
C. 各国经济的相互依赖性空前加强 D. 当前全球治理体系变革面临阻力

二、非选择。共55分：其中16题14分，第17题17分，第18题12分，第19题12分。

16. (14分) 阅读材料，完成下列要求。

材料一 明代的黄册以里甲为单位编造，它先标明户别，如军户、民户、匠户、灶户等等，户别一般不能更改；再登记各户人口情况；然后登记土地、房屋、牛具等财产情况。每户的人口、田粮，都以“旧管、开除、新收、实在”四项列明，号称“四柱”。“旧管”，是指原来造册时的情况；“开除”，是指在上次登记后，人口死亡、田产减少情况；“新收”，则指人口、田产增加情况；“实在”是“开除”与“新收”相抵之后，现有人口、田产的情况。

——摘编自王洪源《管理臣民的户籍制度》

材料二 1909年，民政部上奏《调查户口章程折》指出进行选举“不可不以年龄、职业、籍贯、住址等资格为准。若户籍登记之法不能实行，则议员选举之事必多窒碍”。之后，清廷又颁布了《调查户口章程》和《户籍法》。《调查户口章程》将所有户类分为“正户”与“附户”，户类之间以入住时间为区分，无高下之别。《户籍法》将户籍制度的登记内容限定于“人籍”与“户籍”，前者侧重于登记个人身份信息，后者则侧重于登记人户的变动。国民有依法呈报户籍信息的义务，否则将面临处罚；同时国民也有查阅及誊抄“入籍”信息的权利，当权益受损时，国民有“抗告”权。《户籍法》对国民的“移籍”“入籍”未作任何限制。

——摘编自叶再兴《清末以降中国的户政制度与实践（1909—1953）》

(1) 根据材料一并结合所学知识，分析明朝黄册制度实施的影响。(6分)

(2) 根据材料一、二，指出与明朝黄册制度相比，清末户籍制度的变化，结合所学知识分析造成这一变化的原因。(8分)



17. (17分) 阅读材料, 回答问题。

材料一 北宋汴京和南宋临安, 既是当时全国的政治、军事中心, 又是全国性的商业经济中心。像汴京“八荒争凑, 万国咸通, 集四海之珍奇, 皆归市易”, 当时汴京城里有不少大型定期交易场所, 而临安城中的行业组织就有414个, 这些行业或相对集中在一定区域, 或分散在各个街市。宋代以前, 太湖流域的县城大多只是小规模的政治据点, 至宋代, 它们逐渐发展成为具有一定规模的经济和社会中心, 宋代因工商业发展而出现的地区性经济中心城市更是遍及全国, 如京兆(今西安)、西京(今洛阳)、福州、广州等, 宋代城市格局由封闭转向开放经济职能增强, 城市经济空前繁荣。

——摘编自郭学信《论宋代城市发展的时代特征》

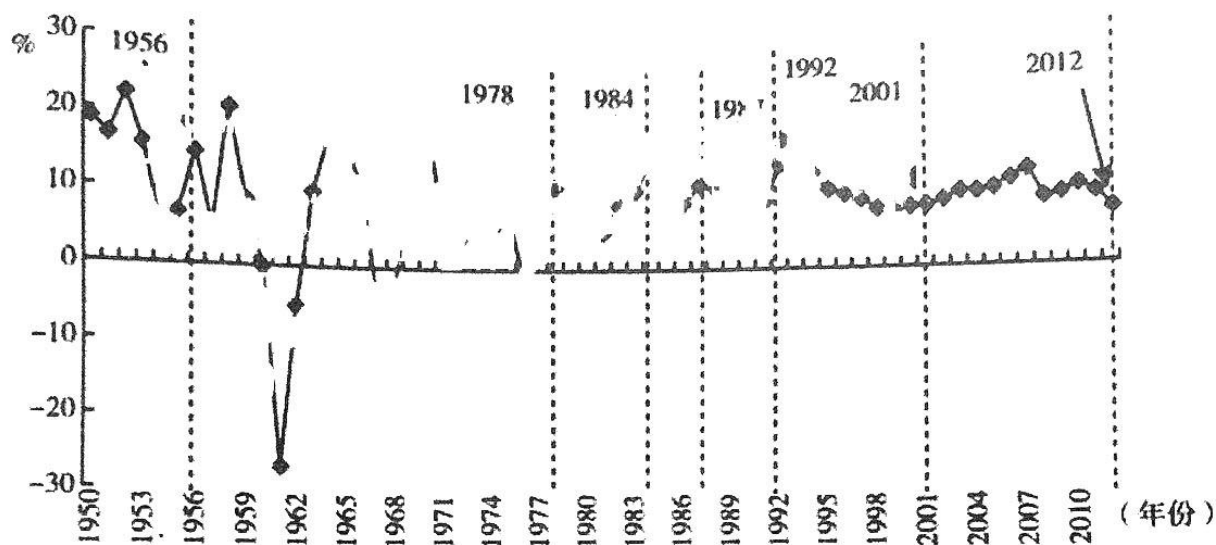
材料二 中世纪西欧城市的出现主要是经济自然发展的结果。城市最早的手工业是为满足城镇及周围乡村居民日常需要的, 如, 铁器制作、皮革珠制和皮具是其基本行业, 城市是农产品与城镇手工业产品相交换的场所, 乡村的部分农产品也通过城布运往外地市场, 农村居民所需的外地商品, 也主要从城市市场上取得。如, 瑞士莱茵菲尔登城的外来商品中, 有来自阿尔萨斯的葡萄酒, 萨尔茨堡和洛林的盐, 在城市工商业发展基础上形成的商品货币关系, 以极强的渗透力, 对农村经济形成了前所未有的侵蚀和瓦解, 引起了农奴制和庄园制的解体和崩溃。同时, 还从法律道德、社会意识、大众心态等社会生活各个层面对乡村施加着深刻影响。

——摘编自刘景华《中世纪西欧城市与城乡关系的转型》

(1) 根据材料一并结合所学知识, 概括宋代城市的特点。(6分)

(2) 比较材料一、二, 说明中世纪西欧城市与宋代城市相比的不同点, 并根据材料二析城市在推动西欧社会发展方面的积极作用。(11分)

18. (12分) 阅读材料, 完成下列要求。



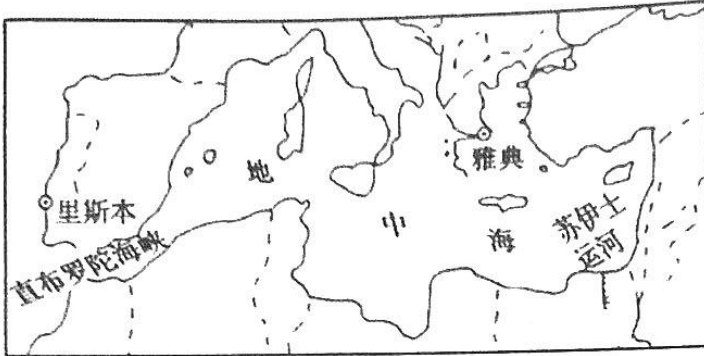
1950—2012年中国GDP增长速度波动曲线

——摘自郭旭红《新中国GDP增长速度发展演变研究》

从材料中提取三条及以上信息, 自拟论题 并结合所学知识加以论述。(要求: 列出信息论题明确, 论证充分, 表达清晰。)

19. (12分) 阅读材料, 回答问题。

材料一 地中海示意图



以“陆地之间”海而著称的地中海, 被冠以多种称呼: “伟大的海”“堕落的海”“智慧之海”“贸易之海”等, 不同的称呼反映了人们对地中海历史的不同理解。

材料二 大西洋示意图



请以地中海的称呼为例, 围绕历史上的大西洋, 自拟一个称呼, 并运用世界史具体史实予以论述。(要求: 以称呼为题, 论证充分, 史实准确, 表述清晰)

关于我们

自主选拔在线是致力于提供新高考生涯规划、强基计划、综合评价、三位一体、学科竞赛等政策资讯的升学服务平台。总部坐落于北京，旗下拥有网站（[网址: www.zizzs.com](http://www.zizzs.com)）和微信公众平台等媒体矩阵，用户群体涵盖全国90%以上的重点中学师生及家长，在全国新高考、自主选拔领域首屈一指。

如需第一时间获取相关资讯及备考指南，请关注**自主选拔在线**官方微信号：**zizzsw**。



 微信搜一搜

 自主选拔在线