

## 文科综合试卷

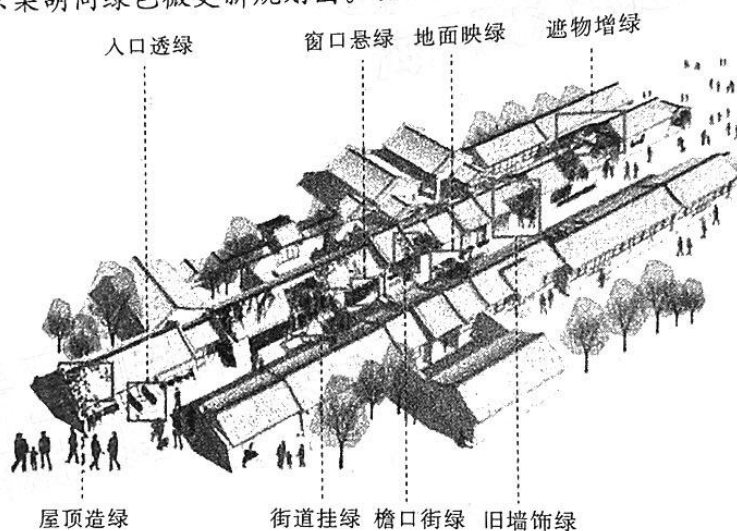
### 考生注意：

1. 本试卷分第Ⅰ卷(选择题)和第Ⅱ卷(非选择题)两部分,共300分。考试时间150分钟。
2. 请将各题答案填写在答题卡上。
3. 本试卷主要考试内容:高考全部内容。

### 第Ⅰ卷 (选择题 共140分)

本卷共35小题,每小题4分,共140分。在每小题所给的四个选项中,只有一项最符合题目要求。

传统街巷中除了保留民俗文化,还要在环境改善中繁衍绿色文化,提高公共绿色空间的环境品质,下图是北京某胡同绿色微更新规划图。据此回答第1~3小题。



1. 该胡同在符合街区整体风貌的风格下适度增加绿化,采用的主要方式为  
①分散多点 ②集中分布 ③大规模 ④小规模  
A. ①②                      B. ②③                      C. ③④                      D. ①④
2. 在繁衍文化的同时,该胡同绿色微更新系统最主要的环境效应为  
A. 美化环境                      B. 缓解城市热岛效应  
C. 防风固沙                      D. 增加胡同空气湿度
3. 该胡同里的绿色植物品种应该主要选择  
A. 高大乔木                      B. 爬藤植物、花卉  
C. 水生植物                      D. 矮小灌木、草本

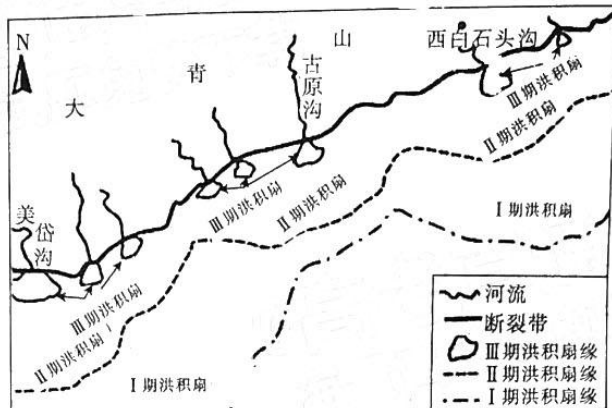
汽车试验场,就是专门为了检测新车的稳定性和耐久性等性能而建的。吐鲁番凭借得天独厚的自然条件,将“热资源”变成“热引擎”,在火焰山脚下建立了2000亩试验场,使吐鲁番市成

【高三文科综合 第1页(共14页)】

• WLIY •

14. 此次活动商户无须主动报名。支付宝依据江西省商务厅要求,通过商户在支付宝系统中上传的营业执照及选择的行业等信息,自动匹配和圈选经营手续齐全、无不良信用、无风险交易等负面记录的商户参与活动(商户限 2022 年 5 月 1 日前注册)。从商户的参与方式可推断出
- ①作为宏观调控的主体,支付宝完善配套政策以加强市场监管 ②凡不符合市场准入制度的企业,均不允许进入市场 ③活动充分发挥了政府在资源配置中的决定作用和更好发挥市场作用 ④良好的信誉和企业形象是企业的无形资产
- A. ①②                      B. ①③                      C. ②④                      D. ③④
15. 第五届中国国际进口博览会 2022 年 11 月 5 日至 10 日在国家会展中心(上海)举行,是党的二十大后我国举办的首场重大国际展会。习近平主席在开幕式上强调中国将推动各国各方共享中国大市场、制度型开放、深化国际合作三个机遇,彰显了中国同世界分享发展机遇的坚定决心。这表明我国
- ①将进博会作为构建新发展格局的窗口,推动高水平开放 ②举办进博会践行真正的多边主义,凝聚更多开放共识 ③依托进博会这一经济全球化的最重要载体为世界提供新机遇 ④推动各国各方共享中国大市场机遇,创新对外投资方式
- A. ①②                      B. ①③                      C. ②④                      D. ③④
16. 2022 年 10 月,住房和城乡建设部联合发布关于完整社区建设试点工作的通知提出,规划建设社区综合服务设施,幼儿园、托儿所、养老服务站、养老院、社区医院等各类设施,推进社区适老化、适儿化改造。这有利于
- ①回应群众期待,保障维护民主权利 ②兜牢民生底线,提升人民的幸福感 ③坚持对人民负责,提高行政管理水平 ④加强社会建设,促进社区和谐发展
- A. ①③                      B. ①④                      C. ②③                      D. ②④
17. 2022 年 8 月 31 日,十三届全国政协召开第 65 次双周协商座谈会,围绕“促进各民族广泛交往交流交融,加强中华民族共同体建设”协商议政,9 位政协委员和专家学者在会上发言,120 余位委员通过履职平台发表意见,提出建议解决政策落实的难堵点,铸牢中华民族共同体意识。由此可见
- ①政协委员协商议政,为国家发展建言献策 ②人民政协围绕爱国和团结主题积极履职尽责 ③协商民主是社会主义民主的特有形式和独特优势 ④全国政协是中国共产党的好参谋、好帮手、好同事
- A. ①②                      B. ①③                      C. ②④                      D. ③④
18. 2022 年 11 月 5 日,我国首次承办的《湿地公约》第十四届缔约方大会在武汉开幕,国家主席习近平在致辞中强调,我们要深化认识、加强合作,共同推进湿地保护全球行动。中国主张引发各方的热烈反响,凝聚珍爱湿地的全球共识。中国主张能转化为广泛共识的原因是
- ①各国有着相同的价值追求和广泛的共同利益 ②顺应了和平、发展、合作、共赢的时代潮流 ③有利于完善全球治理体系,构建地球生命共同体 ④中国具有大国领袖风范,兼顾了他国合理关切
- A. ①③                      B. ①④                      C. ②③                      D. ②④

大青山位于阴山山脉中部,山地南北两坡不对称,北坡与内蒙古高原相连,南坡以 1000 多米的落差直降到黄河河套平原,河流沟谷多,发育了众多洪积扇,且同一区域多次发育洪积扇,上层叠在下层上,扇体面积小于下层。据此回答第 9~11 小题。



9. 与北坡相比,大青山南坡发育众多洪积扇的原因可能是
- ①地处夏季风迎风坡 ②平原地区碎屑物多 ③河流沟谷广泛发育 ④海拔较高且坡度陡
- A. ①③                      B. ②③                      C. ②④                      D. ①④
10. 古原沟出口口的土层垂直剖面中, I 期洪积扇中颗粒物比 II 期、III 期
- A. 形成早,颗粒小                      B. 形成早,颗粒大  
C. 形成晚,颗粒小                      D. 形成晚,颗粒大
11. 该地洪积扇在农业生产过程中最容易出现的环境问题是
- A. 土壤酸化                      B. 土壤板结  
C. 土地盐碱化                      D. 水土流失
12. 2022 年 11 月 11 日,中国人民银行授权中国外汇交易中心公布,当日人民币对美元中间价为 7.1907,较上一交易日的 7.2422 元单日调升 515 个基点,创下 2022 年 5 月 23 日以来最大升幅。该变动的直接原因可能是
- ①当地时间 11 月 2 日,美联储宣布再次加息 75 个基点 ②美国 10 月份通胀回落引发市场对美联储放缓加息的预期 ③我国具有强大的市场基础,经济发展具有强大韧性和活力 ④近期我国国内疫情防控措施的优化调整带来消息面的利好
- A. ①②                      B. ①③                      C. ②④                      D. ③④
- 江西省商务厅 2022 年开展了“惠享生活 品质家电”活动。据此完成 13~14 题。
13. 该活动发放了 2000 万元家电电子消费券,每张面值为 300 元,共计约 6.67 万张,单笔消费实际支付满 2000 元(含)以上即可进行抵扣。关于该消费券说法正确的是
- ①有利于完善我省的初次分配机制,增强民众的消费动力 ②作为获得者未来消费时的支付凭证,增加了获得者的购买力 ③有利于发挥货币政策的杠杆效应支持实体经济发展 ④其乘数效应有利于增强消费对经济发展的基础性作用
- A. ①②                      B. ①③                      C. ②④                      D. ③④

【高三文科综合 第 3 页(共 14 页)】

· WLJY ·



19. 书籍是文明传承的重要载体,是人类进步的阶梯。卷帙浩繁的书籍中,智慧光芒穿透历史,思想价值穿越时空。古往今来,无数优秀书籍温润心灵,陶冶情操,启迪智慧,拓宽胸怀,为人类文明的传承与发展作出了不可磨灭的贡献。读好书
- ①对人的全面发展起促进作用 ②是培养健全人格的根本途径 ③能够丰富人的精神世界,塑造人生 ④能够直接转化为物质力量,促进社会发展
- A. ①②                      B. ①③                      C. ②③                      D. ③④
20. 2022年9月21日,迎接二十大重点剧目——现实主义题材剧《大考》热播。该剧生动再现了2020年疫情下的高考纪实及普通人的生活轨道变迁。剧中真实展现现实生活中的“烟火气”,激发了观众的共情,激活了观众更广泛共鸣、更深沉认同。这启示我们文艺创作应该
- ①立足当代国人情感需求,推动文化内容形式创新,构筑中国精神 ②从人民的伟大实践和现实生活中汲取营养,不断进行生活和艺术的积累 ③发展人民群众喜闻乐见的大众文化,满足人民群众日益增长的精神文化需求 ④融通优秀传统文化资源,并实现其创造性转化和创新性发展,增强文化自信
- A. ①④                      B. ①③                      C. ②④                      D. ②③
21. 2022年10月9日,长征二号丁型运载火箭在酒泉发射,将我国综合性太阳探测专用卫星“夸父一号”,送入太空“逐日”的预定轨道。该卫星搭载了3台各具神通的载荷设备,以“一磁两暴”为科学目标,将有望实现我国天基太阳探测卫星跨越式突破,开启我国综合性太阳空间观测的新时代。这表明
- ①卫星发射成功是基于对规律的创造性认识和改造 ②发挥主观能动性是认识和利用规律的前提和基础 ③实践提供日益完备的认识工具,推动人类认识的发展 ④人可以根据规律发生作用的条件和形式,改造客观世界
- A. ①②                      B. ③④                      C. ②③                      D. ①④
22. 2022年8月10日,生态环境部等九部委联合印发《关于公布气候投融资试点名单的通知》,福田区代表深圳市获批国家首批气候投融资试点。深圳在气候投融资工作方面走在前面,深圳气候投融资改革的创新举措,被国家发改委在全国推广借鉴,充分发挥了示范引领作用。这说明
- ①矛盾斗争性寓于同一性之中,并为同一性所制约 ②矛盾的普遍性与矛盾的特殊性在一定条件下相互转化 ③部分会影响整体,局部的发展能够推动整体的发展 ④普遍性寓于特殊性之中,并通过特殊性表现出来
- A. ①②                      B. ①③                      C. ②④                      D. ③④
23. 为了更好地发展新型农村集体经济,也为了全方位推动农业农村高质量发展,2022年11月,浙江省杭州西湖区以不破不立的心态腾笼换鸟、调整业态结构,形成上下游更全、规模更大、竞争力更强的产业集聚,努力推动农民稳步增收。发展新型农村集体经济的依据有
- ①生产关系一定要适合生产力发展状况 ②社会历史发展的途径是前进的、上升的 ③改革是社会主义制度的自我完善和发展 ④上层建筑一定要适合经济基础发展状况
- A. ①②                      B. ①③                      C. ②④                      D. ③④

为国内外众多汽车、材料厂家的首选之地。它的汽车试验场每年吸引 1000 多辆新研发出来的汽车送到这里进行极端环境条件下的性能试验。据此回答第 4~6 小题。

4. 吐鲁番“热资源”丰富的原因是

- ①内陆地区,副热带高压影响 ②晴朗天气多,气候干旱 ③盆地地形,热量不易散失 ④纬度低,太阳高度角大

- A. ①②                      B. ②③                      C. ③④                      D. ①④

5. 为了充分使用当地的气候资源,该汽车试验场最不可能进行的测试是

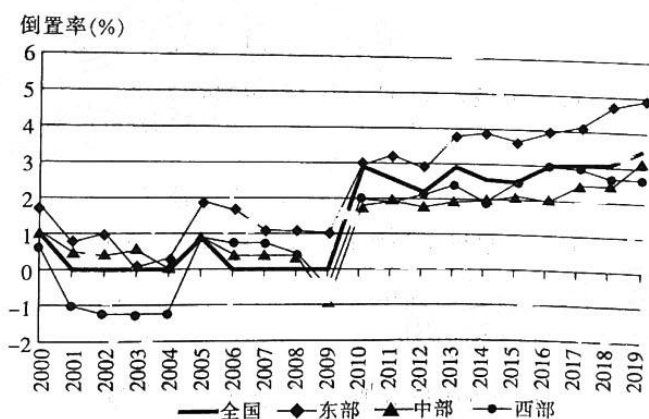
- A. 高温暴晒测试                      B. 抗大风测试  
C. 扬尘石击测试                      D. 冰面雪地测试

6. 吐鲁番汽车试验场成为国内外众多汽车试验首选之地,是因为

- ①环境差异大 ②距离市场近 ③交通通达度好 ④土地成本低

- A. ①②                      B. ②③                      C. ①④                      D. ③④

人口老龄化城乡倒置是农村人口老龄化水平高于城镇的现象,一般用人口老龄化城乡倒置率来衡量,人口老龄化城乡倒置率=(农村 65 岁及以上人口/农村总人口)%-(城镇 65 岁及以上人口/城镇总人口)%。下图为 2000—2019 年我国及各区域人口老龄化城乡倒置率的趋势图。据此回答第 7~8 小题。



7. 图中所示信息表明

- A. 2009 年之后的城乡倒置增长速度普遍较快  
B. 乡村老年人口数量多于城镇老年人口数量  
C. 全国及三大区域的人口老龄化城乡倒置程度逐年加大  
D. 东部和西部地区人口老龄化城乡倒置的程度差距最大

8. 东部地区城乡倒置率远高于中部和西部地区的主要原因可能是

- A. 中西部地区城镇化速度快于东部地区  
B. 中西部地区承接东部地区的产业转移  
C. 东部地区医疗卫生条件较好  
D. 东部地区经济发展水平较高

- A. 人口激增源自耕地面积的扩大
- B. 户籍管理失效导致唐中后期的人口持续下降
- C. 封建经济繁荣促使人口长期稳定
- D. 清初税制改革推动统计与实际人口逐步吻合

28. 1893年,中国出口商品中农副产品和矿产品占出口总额的15.6%,1910年上升到39.8%,到1930年达到49.7%。而同一时期的进口商品主要是鸦片、棉纱、棉制品、煤油、金属品等。材料反映出中国近代

- A. 经济结构的变动
- B. 国际收支状况恶化
- C. 工业分布合理化
- D. 开始卷入世界市场

29. 20世纪二三十年代,苏、杭、嘉、湖等城市的帐房虽然经营规模显著缩小,却并没有就此消灭,城内的帐房尚有十多家,经营着在形式上与过去没有多大变化的纱缎庄,保持着木机业与铁机业并存的形式。由此,可知近代中国

- A. 工业结构变化较大
- B. 近代化进程缓慢
- C. 新的生产方式产生
- D. 经营方式单一化

30. 1956年7月13日,第一辆解放牌CA10型载货汽车上线,结束了中国不能制造汽车的历史。1958年5月12日,第一汽车制造厂试制成功第一辆轿车——东风牌CA71型轿车,我国迈出了自制轿车的第一步。这一时期汽车行业的发展

- A. 实现了轻重工业均衡发展
- B. 推动了汽车的广泛应用
- C. 体现了工业化建设的成果
- D. 完成核心技术自主创新

31. 据统计,自2013年3月至2014年9月,国家主席习近平出席了上合组织杜尚别峰会并访问了30个不同社会制度的国家,足迹遍及亚、非、美、欧四大洲。这表明,我国

- A. 始终践行双边主义政策
- B. 支持亚非拉民族解放
- C. 努力构建新型区域合作
- D. 积极开展全方位外交

32. 《十二铜表法》第六表第7条规定:出卖的物品一经交付,非在买受人付清价款或提供担保以满足出卖人的要求后,其所有权并不转移。后来,大法官在司法实践中,逐渐承认了可以通过交付直接实现财产所有权的转移。这一变化

- A. 体现了罗马法的灵活性和务实性
- B. 反映了罗马法条文不断完善
- C. 导致了罗马社会经济秩序的混乱
- D. 保护了罗马公民的私有财产

33. 中世纪欧洲,女性受到教会歧视,在社会中没有地位,只能听从命运安排。但薄伽丘的《十日谈》中有这样一个故事:法国国王倾慕蒙费拉特侯爵夫人的美貌,想去引诱他,夫人非常机智地用母鸡宴招待国王,并用几句俏皮话保全了自己的名节。这反映了

- A. 天主教会的统治地位动摇
- B. 欧洲封建君主专制逐渐衰落
- C. 女性社会地位的显著提高
- D. 文学内容具有鲜明的时代性

【高三文科综合 第7页(共14页)】

34. 19世纪末,曼彻斯特商会主席埃德蒙·波特在商会发表演讲时指出:“在一些地区,织工正在放弃手工业这种低薪工作,去从事我们希望他们从事的工作,即农业工作,因为毫无疑问,在印度肥沃的土地上种植农产品将最有利于促进印度的真正利益。”这反映了
- A. 农业化有利于印度的发展  
B. 殖民扩张推动印度社会转型  
C. 印度经济在逐渐殖民地化  
D. 印度的经济结构得到了优化
35. 2022年10月12日,美国白宫发布新版《国家安全战略》报告。美国助理国务卿丹尼尔·拉塞尔在谈及新版《国家安全战略》报告时指出,报告声称要建立最广泛的国家联盟以应对全球挑战,但如果没有中国合作,这将很难做到。这反映了
- A. 中国全球治理方案得到认可  
B. “冷战”思维已不复存在  
C. 世界多极化趋势进一步加强  
D. 合作共赢成为国际共识

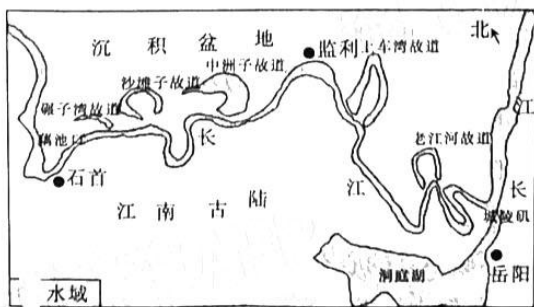
## 第Ⅱ卷 (非选择题 共160分)

本卷包括必做题和选做题两部分。第36~42题为必做题,每道试题考生都必须作答。第43~47题为选做题,考生根据要求作答。

36. 阅读图文材料,回答下列问题。(22分)

河流故道,意指河流在迁徙改道中遗留下来的废弃河道,其形成与流经地区地貌及构造有密切关系。长江中游下荆江段(湖北藕池口至湖南城陵矶)是我国最典型的江河故道分布区。河流故道既是人们赖以生存的重要自然资源,也是河流生态系统中重要的一环。长江故道(长江中游下荆江段河流故道总称)“由河而湖”后,形成了大面积的水域和滩涂,为众多湿地物种提供了良好的栖息场所。

长江故道丰富的湿地资源和生物多样性驱动了人们进行大规模、无节制的开发活动,导致大多数故道已和长江中断联系。长江故道水质恶化严重,湖床抬高,水体不断萎缩、消亡。为推进生态文明建设,政府采取了多种措施恢复长江故道湿地生态环境。下图为长江中游下荆江段故道群分布图。



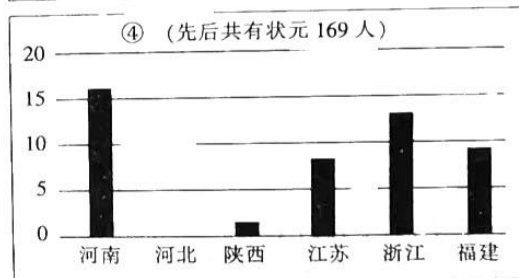
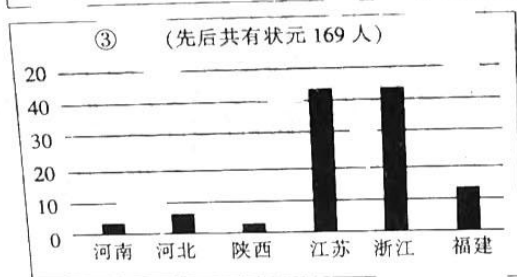
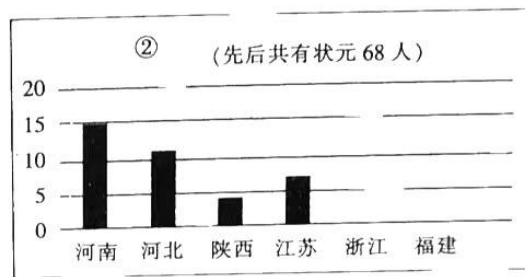

- 说出图中长江故道的空间分布特征并分析原因。(10分)
- 试分析长江故道不断萎缩、消亡的原因。(6分)
- 说明长江故道疏浚河道与长江干流联通的生态意义。(6分)

【高三文科综合 第8页(共14页)】

· WLJY ·

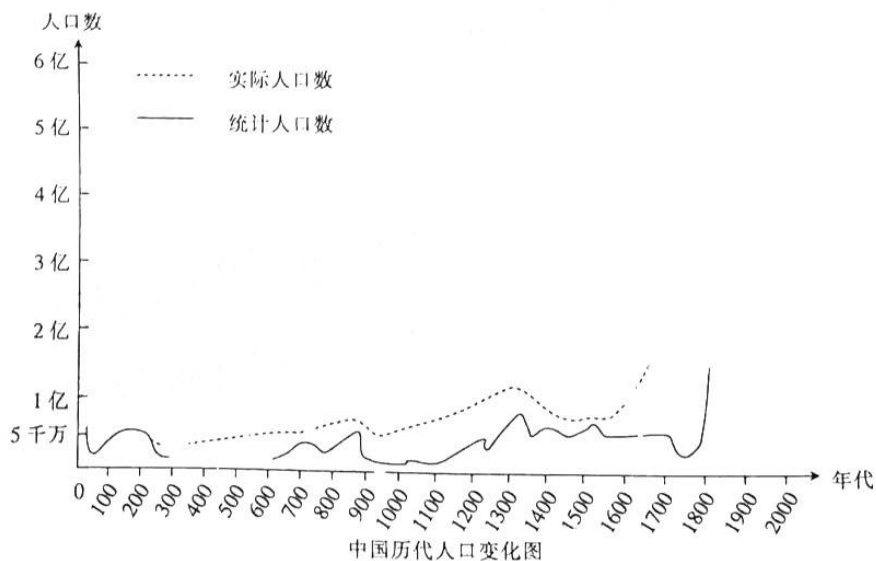
密封线内不要答题

24. 我国自五帝时就用青赤黄白黑五种“正色”漂染官服,即“以五采明施于五色,作尊卑之服”。周朝人用五种正色配制出更多如绿、红、碧、紫、黄等“间色”用于官服。这反映了西周
- A. 官僚政治的萌发  
B. 礼乐制度得到发展  
C. 手工业分工细致  
D. 官服突破传统礼法
25. 先秦儒家较为关注现实的人文世界,对于神秘主义是比较回避的,如《论语·述而》所载:“子不语怪力乱神。”而汉代的经学附上了神秘的色彩,西汉后期儒生的经学著述中出现了大量谶纬、术数等神秘主义的内容。这一变化说明西汉
- A. 儒学适应封建统治需要  
B. 中央集权日渐式微  
C. 儒学发展受佛道的冲击  
D. 儒学人文精神渐失
26. 下列四幅图是分别是唐、宋、元、明清时期部分省份的科举状元籍贯统计摘录表。按时间先后顺序排列正确的是



- A. ②④①③  
B. ②④③①  
C. ①②④③  
D. ①③②④

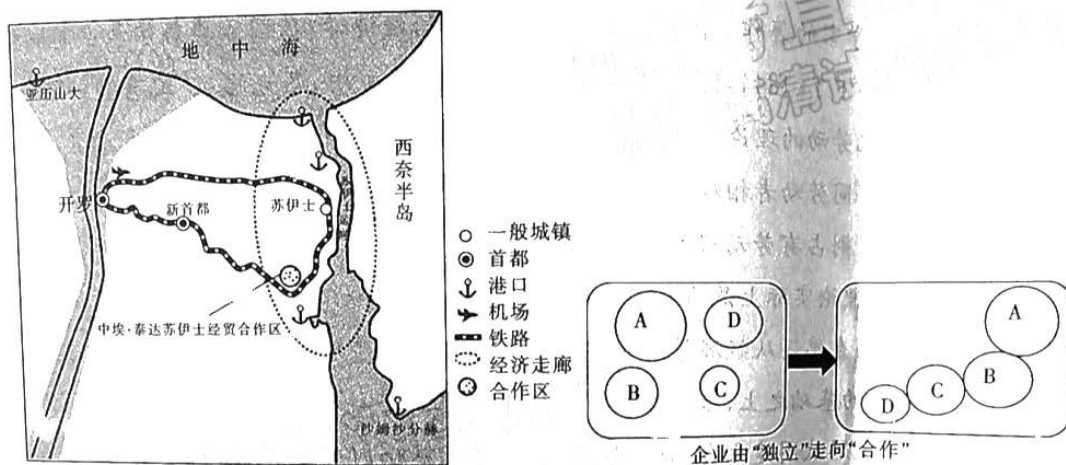
27. 下图是中国历代人口变化图。下列对图中信息解读合理的是





37. 阅读图文材料,回答下列问题。(24分)

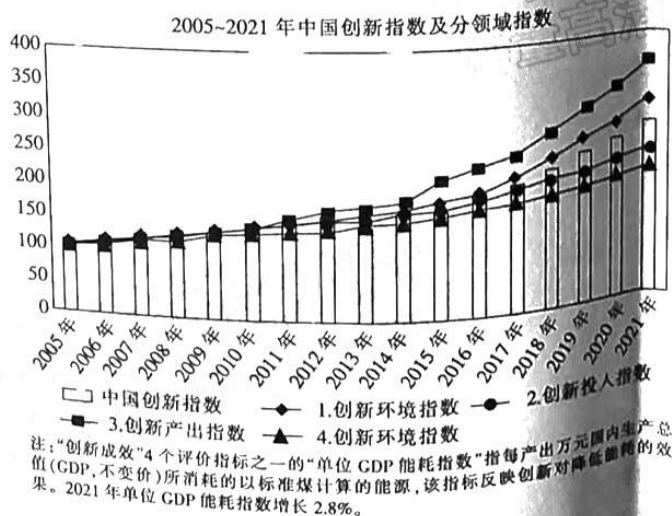
埃及是一带一路沿线的枢纽国家,也是21世纪海上丝绸之路的关键节点,具有重要的国际战略地位。2015年,埃及政府将苏伊士运河及周边地区全部划为苏伊士运河经济特区,大力推进本国工业化进程。同年,中国政府在该经济特区的荒漠中建立中埃·泰达苏伊士经贸合作区。苏伊士经贸合作区是加工制造型园区进行产业链招商的代表,产业链招商充分发挥龙头企业的带动作用,吸引上下游相关企业和各类生产要素在园区内聚集,促使区内企业由“独立”走向“合作”,成功吸引众多中国企业“抱团出海”入驻园区。下图为苏伊士经贸合作区周边区域示意图。



- (1) 分析埃及建设苏伊士运河经济特区的地理位置优势。(6分)
- (2) 从生产成本的角度,说明苏伊士经贸合作区吸引我国企业入驻的原因。(8分)
- (3) 分析苏伊士经贸合作区企业通过产业链招商由“独立”走向“合作”的意义。(6分)
- (4) 推测苏伊士运河经济特区的主要产业部门。(4分)

38. 阅读材料,完成下列要求。(14分)

材料一



## 材料二

2022年6月,国务院国有资产监督管理委员会发布了《中央企业节约能源与生态环境保护监督管理办法》。

中央企业中国南方电网有限责任公司科学有序推进新型电力系统建设,促进电源更清洁、电网更节能、用能更低碳,助力推动经济社会发展全面绿色转型。设立低碳发展研究机构,组建低碳技术攻关团队,推进绿色低碳关键技术突破;成功举办博鳌新型电力系统国际论坛;大力开展数字电网建设,以智能化大数据,精准定位提升降损效率;结合行业用电需求特点,助力企业大幅减少生产成本;积极拓展园区、工业、建筑等节能服务业务,通过自主研发的能效管理系统,全年为客户节约电量超8000万千瓦时。

(1)概括材料一反映的主要经济信息。(4分)

(2)结合材料二,运用所学经济生活知识,分析南方电网是如何以创新交出一份亮眼的“绿色答卷”的。(10分)

### 39. 阅读材料,完成下列要求。(12分)

立法法是规范国家立法制度和立法活动、维护社会主义法治统一的重要宪法性法律。

我国现行立法法是2000年九届全国人大三次会议通过的,继2015年作了部分修改后,2022年10月27日立法法修正草案首次提请十三届全国人大常委会审议。草案共31条,新增和完善多个规定,包括:全国人大及其常委会根据实际需要,通过制定、修改、废止、解释法律和编纂法典等多种形式,形成科学完备、统一权威的法律规范体系;常委会工作机构根据实际需要设立基层立法联系点,广泛征求基层群众和各方面人士对有关法律草案的意见;国务院可以根据改革发展的需要,决定就行政管理等领域的特定事项,在一定期限和规定范围内暂时调整或者暂时停止适用行政法规的部分规定;全国人大专门委员会常委会工作机构对报送备案的行政法规、地方性法规、自治条例和单行条例等进行主动审查,必要时可以进行专项审查等。草案充分体现了党的二十大报告关于民主和法治建设的新要求,在法治轨道上推进国家治理体系和治理能力现代化。

结合材料,运用政治生活知识,分析修改立法法对坚持全面依法治国的重要意义。

### 40. 阅读材料,完成下列要求。(26分)

抚州市关工委和广大“五老”坚守初心使命、牢记嘱托重托,在赣抚大地上谱写了一曲曲关爱之歌、奉献之歌,先后三次被评为“全国关心下一代工作先进集体”。

#### 材料一

抚州市各级关工委和广大“五老”以强烈的责任感、紧迫感和担当精神为祖国培育下一代,扎实开展社会主义核心价值观教育及“传承红色基因、争做时代新人”等系列主题教育活动,让红色成为立德树人的鲜亮底色。充分发挥“五老”独特优势,动员全市3652名“五老”组成284个关爱报告团,深入农村、社区、学校常态化开展宣讲活动。注重打造宣讲品牌,在全市遴选百名“‘五老’红色宣讲员”和百名“小小红色宣讲员”,组织开展竞赛和巡回宣讲,与

【高三文科综合 第10页(共14页)】

新时代同向同行,让红色基因渗进血液,形成一道亮丽的“才乡红”。

## 材料二

抚州市各级关工委始终把关爱帮扶当作一项长期任务和重要职责,以助学、助困、助孤、助残、助业等“五助”为重点,组织广大“五老”与农村留守儿童等困难青少年结成帮扶帮教对子,并广泛动员社会各界参与,资金上帮扶、情感上关怀、心理上疏导、机制上保障,为青少年健康成长撑起一片天。截至2022年11月9日,全市共结对4.2万对,受助青少年近9万人次,形成了以“五老”为主体、党员干部模范带头、爱心人士广泛参与的社会氛围。

- (1)结合材料一并运用培养担当民族复兴大任的时代新人的知识,说明抚州市关工委和广大“五老”是如何培育下一代的。(10分)
- (2)结合材料二并运用唯物史观知识,说明抚州市各级关工委是如何贯彻群众观点的。(12分)
- (3)青少年的健康成长离不开全社会的呵护和关爱,需要社会各界认真履行关爱保护职责,用拳拳爱心为青少年成长成才营造良好环境。请你为营造青少年成长成才的良好环境拟两条宣传标语,要求主题鲜明,符合宣传标语的规范。(4分)

## 11. 阅读材料,完成下列要求。(25分)

材料一 20世纪七八十年代以后,受新自由主义影响,西方发达国家第三条道路兴起……社区重新进入政府的决策视野,积极的公民权利和社会融合成为公共政策的主旋律。政府大幅削减公共开支,积极推进公共部门的私有化,政府对社区服务的投入急剧下降。政府逐渐从服务供给的垄断者身份转变为服务购买的最大雇主,形成了以社区为依托的社区照顾政策。发达国家社会力量参与社区治理的空间得以扩大,在美国发展出一些以发展经济为重点的“社区发展公司”……在英国,一些社区志愿者组织相继出现,陆续进入社区治理领域。

——摘编自吴晓琳、郝丽娜《“社区复兴运动”以来国外社区治理研究的理论考察》

材料二 改革开放以来,城市基层管理体制发生很大变化。1990年,《中华人民共和国城市居民委员会组织法》颁布,扩大了居委会职能,居委会可根据需要自行设立各种工作委员会。随着越来越多的农村人口涌入城市,以及大量的“单位人”转变为“社会人”,“社区区员会”成为城市管理新的模式。2000年,《民政部关于在全国推进城市社区建设的意见》颁布,标志着社区建设成为城市基层社会管理的新方向。除街道办事处和居民委员会之外,社区还出现了以业主委员会、物业管理公司以及社会非营利性公益组织为代表的新兴组织。通过居民会议议事协商和民主听证等形式,社区各类主体都可以平等参与社区公共事务和民主决策。

——摘编自朱汉国主编《当代中国社会史》

材料三 1998年,英国政府和志愿组织的代表共同签署了一份《政府与志愿组织及社区组织合作框架协议》……从1995年至2005年,英国已注册的慈善组织已从12万个上升

· WLJY ·

【高三文科综合 第11页(共14页)】

至 16 万个以上。此外,还有 55 万个社会企业和几十万个小型社区组织。

2001—2008 年英国公民每月至少参加一次志愿活动的情况

	2001 年	2003 年	2005 年	2007 年 8 月	2008 年 4—12 月
非正式志愿活动	34%	37%	37%	35%	35%
正式志愿活动	27%	28%	29%	27%	26%
被访者总数	9340	8920	9195	8804	6538

——摘编自韩央迪《英美社区服务的发展模式及对我国的启示》

- (1)根据材料一、二并结合所学知识,分别概括中西方基层治理发生的变化。(8分)
- (2)根据材料一、二并结合所学知识,简析中西方基层治理发生变化的原因。(12分)
- (3)根据材料三,就我国公众参与社区治理谈谈自己的看法。(5分)

42. 阅读材料,完成下列要求。(12分)

观点	出处
为政以德,譬如北辰,居其所而众星共之	《论语》
夫唯不争,故无尤	《老子》
道生一,一生二,二生三,三生万物	
祸兮福之所倚,福兮祸之所伏	
人性之善也,犹水之就下也。人无有不善,水无有不下	《孟子》
孔子成《春秋》而乱臣贼子惧	
当今之时,万乘之国行仁政,民之悦之,犹解倒悬也。故事半古之人,功必倍之,惟此时为然	
天地与我并生,而万物与我为一	《庄子》
君人者,隆礼尊贤而王,重法爱民而霸,好利多诈而危	《荀子》
故以法治国,举措而已矣	《韩非子》
若使天下兼相爱,国与国不相攻,家与家不相乱,盗贼无有,君臣父子皆能孝慈,若此,则天下治	《墨子》
天下未有无理之气,亦未有无气之理	《朱子语类》

——摘编自张帆主编《高中历史史料研读》

从材料中提取两条或两条以上信息,拟定一个观点,依据材料并结合所学对这一观点予以论证。(要求:论点明确,表述清晰,史论结合。)

请考生从 2 道地理选考题、3 道历史选考题中每科任选一题作答。如果多做,则每科按所做的第一题计分。

43. [地理——选修 3:旅游地理](10分)

丫山小镇是国家级运动休闲特色小镇,地处具有“江西南大门”之称的赣州市大余县城东 10 km 的黄龙镇,与广东省交界。当地独特的地理环境和丰厚的文化底蕴使得丫山景区

【高三文科综合 第12页(共14页)】

W. 又任任云理以的显著提最

· W1 IV

拥有丰富的生态旅游资源,并被评为国家4A级旅游景区。丫山特色小镇旅游模式合理利用了当地独特的地理环境优势,以“体育+旅游”模式为切入点,因地制宜推进多种特色产业

发展使当地顺利脱贫。  
试分析丫山建设运动休闲小镇帮助当地居民脱贫致富的具体途径,并设计出适合当地资源的体育休闲项目。

44. [地理——选修6:环境保护](10分)

“生态廊道”又称为“生物廊道”,它的作用即通过走廊的形式把若干破碎化的物种栖息地(或生境)连接起来,减少“孤岛”效应,它是保护濒危物种的一种重要手段。名为“熊猫乐途”的秦岭大熊猫生态廊道建设项目于2018年启动,该项目的实施大大改善了秦岭大熊猫栖息地面积缩小及破碎化状况。

试分析大熊猫栖息地变化的可能原因,并说出“熊猫乐途”项目建设的重要意义。

45. [历史——选修1:历史上重大改革回眸](15分)

材料 清末新政是以自下而上的推动和自上而下的改革双向互动的形式出现的。清政府原想借此实现王朝的自我挽救,但新政非但没有延长它的寿命,从某种意义上来说还加速了它的灭亡。它推行教育改革,是想造就“尊崇孔教,爱戴大清国”的人,但无论是在国内新式学堂中还是在留学生中,清政府并没有获得多少为己所用的人才,反而出现了一个不同于传统士类的知识分子群体,成为王朝的掘墓人。清政府在全国各省扩编新军,原本是要以此来弹压各种可能出现的变乱的,却又给革命党人在各省以发展革命势力的机会,新军绝大多数成了王朝的“铎兵”“叛兵”。清政府奖励实业,原想借此摆脱严重的财政危机,却导致“资产阶级利益、知识分子利益与专制制度的冲突越来越大”……所有这一切,都走向了清政府预想的反面。何以会如此?历来学者大都从其推行新政的动机来说明它的欺骗性和反动性,这并没有错,但问题没有这么简单。

——摘编自陈旭麓《近代中国社会的新陈代谢》

(1)根据材料并结合所学知识,简析清末新政的原因。(6分)

(2)根据材料并结合所学知识,评述清末新政。(9分)

46. [历史——选修3:20世纪的战争与和平](15分)

材料 20世纪30年代初,欧洲新战争威胁虽已出现,但还不是不可制止的。当时的国际形势呈现某种错综复杂的局面,纳粹德国的扩张格局尚未充分显露出来。法西斯意大利对第一次世界大战后的分赃不均甚为不满,因此对德国修改和约的要求表示支持,但它在中欧与德国之间存在着矛盾,双方尚未勾结起来。欧洲一些中小国家则要求联合起来抵抗法西斯侵略。如果英、法等国及时采取正确的政策,是不难阻止希特勒实现其侵略计划的。但英、法这些老牌帝国主义国家唯恐新的战争会葬送自己的既得利益,它们为法西斯的气势汹汹所吓倒,为后者的反共叫嚣所迷惑。这正好适应了德国排除外来干预,恢复军事主权,瓦

【高三文科综合 第13页(共14页)】

· WLJY ·

解对德包围与结成法西斯集团的外交战略,从而致使战争因素迅速增长起来。

——摘编自卢文璞《世界现代史》

(1)根据材料并结合所学知识,归纳英法推行“绥靖政策”的原因。(9分)

(2)根据材料并结合所学知识,分析英法“绥靖政策”的后果。(6分)

47. [历史——选修4:中外历史人物评说](15分)

材料 马克思在《莱茵报》工作时期就对经济问题发生了兴趣。他在批判黑格尔法哲学时进一步意识到,对市民社会的解剖应该到政治经济学中去寻找。恩格斯寄给《德法年鉴》的文稿《政治经济学批判大纲》又给了他一个直接的启示。从1844年年初,马克思开始研究英国和法国经济学家的著作。他综合了资产阶级政治经济学、德国古典哲学和空想社会主义的研究成果,写下了《1844年经济学哲学手稿》。在此文中,马克思从“现有的经济事实”出发,提出了异化劳动的理论。他指出:在资本主义社会中,劳动产品脱离了劳动者,成为一种异己的存在物,同劳动者相对立。他们生产的财富越多就越贫穷,劳动成为劳动者的一种自我折磨,资本家则占有劳动者的劳动和劳动产品,从而造成劳动者同资本家的对立的发展。异化劳动的理论实际上是马克思关于资本主义雇佣劳动的理论分析的萌芽形式。……在这部手稿中,马克思还从经济学的角度对共产主义进行了理论论证,将共产主义运动置于经济的历史运动的基础之上,这就使社会主义开始具有了科学性质。因此,《1844年经济学哲学手稿》是马克思试图建立自己的理论体系的最初尝试,但它还是一部不很成熟的马克思主义著作。

——摘编自吴于廑、齐世荣总主编《世界通史·近代史》下册

(1)根据材料并结合所学知识,概括马克思主义诞生的时代背景。(9分)

(2)根据材料并结合所学知识,说明马克思主义对人类社会发展的贡献。(6分)

世界  
大  
学  
网

解对德包围与结成法西斯集团的外交战略,从而致使战争因素迅速增长起来。

——摘编自卢文璞《世界现代史》

(1)根据材料并结合所学知识,归纳英法推行“绥靖政策”的原因。(9分)

(2)根据材料并结合所学知识,分析英法“绥靖政策”的后果。(6分)

47. [历史——选修4:中外历史人物评说](15分)

材料 马克思在《莱茵报》工作时期就对经济问题发生了兴趣。他在批判黑格尔法哲学时进一步意识到,对市民社会的解剖应该到政治经济学中去寻找。恩格斯寄给《德法年鉴》的文稿《政治经济学批判大纲》又给了他一个直接的启示。从1844年年初,马克思开始研究英国和法国经济学家的著作。他综合了资产阶级政治经济学、德国古典哲学和空想社会主义的研究成果,写下了《1844年经济学哲学手稿》。在此文中,马克思从“现有的经济事实”出发,提出了异化劳动的理论。他指出:在资本主义社会中,劳动产品脱离了劳动者,成为一种异己的存在物,同劳动者相对立。他们生产的财富越多就越贫穷,劳动成为劳动者的一种自我折磨,资本家则占有劳动者的劳动和劳动产品,从而造成劳动者同资本家的对立的发展。异化劳动的理论实际上是马克思关于资本主义雇佣劳动的理论分析的萌芽形式。……在这部手稿中,马克思还从经济学的角度对共产主义进行了理论论证,将共产主义运动置于经济的历史运动的基础之上,这就使社会主义开始具有了科学性质。因此,《1844年经济学哲学手稿》是马克思试图建立自己的理论体系的最初尝试,但它还是一部不很成熟的马克思主义著作。

——摘编自吴于廑、齐世荣总主编《世界通史·近代史》下册

(1)根据材料并结合所学知识,概括马克思主义诞生的时代背景。(9分)

(2)根据材料并结合所学知识,说明马克思主义对人类社会发展的贡献。(6分)

世界  
历史  
人物  
评说

## 关于我们

自主选拔在线是致力于提供新高考生涯规划、强基计划、综合评价、三位一体、学科竞赛等政策资讯的升学服务平台。总部坐落于北京，旗下拥有网站（[网址: www.zizzs.com](http://www.zizzs.com)）和微信公众平台等媒体矩阵，用户群体涵盖全国90%以上的重点中学师生及家长，在全国新高考、自主选拔领域首屈一指。

如需第一时间获取相关资讯及备考指南，请关注**自主选拔在线**官方微信号：**zizzsw**。



 微信搜一搜

 自主选拔在线