

安庆示范高中 2023 届高三联考

文科综合能力测试

2023. 4

考生注意:

1. 本试卷分第 I 卷和第 II 卷两部分。满分 300 分,考试时间 150 分钟。
2. 考生作答时,请将答案答在答题卡上。必须在题号所指示的答题区域作答,超出答题区域书写的答案无效,在试题卷、草稿纸上答题无效。

第 I 卷

本卷共 35 小题,每小题 4 分,共 140 分。在每小题给出的四个选项中,只有一项是最符合题目要求的。

能源是经济发展的命脉,是国民经济发展和人民美好生活的重要保障,在社会经济体系中占据着重要地位;能源安全是关系国家经济社会发展的全局性、战略性的问题,对国家安全至关重要。表 1 示意 2021 年中国石油、天然气、煤炭的消费量、进口量和对外依存度情况。据此完成 1~3 题。

表 1

	消费量	进口量	对外依存度
石油	7.07 亿吨	5.08 亿吨	71.9%
天然气	3 670.6 亿 m <sup>3</sup>	1 667.6 亿 m <sup>3</sup>	45.4%
煤炭	52.4 亿吨	3.23 亿吨	6.17%

1. 表 1 数据能够体现中国能源供需的特点包括

- ①能源生产与消费量大、增长快
  - ②能源消费结构以煤炭为主
  - ③能源供给与消费空间配置错位
  - ④石油天然气资源相对短缺
- A. ①③                      B. ①④                      C. ②③                      D. ②④

2. 目前,我国石油安全面临的主要挑战是

- ①石油供给安全形势严峻
  - ②石油消费的环境安全情况严重
  - ③石油运输安全风险较大
  - ④石油价格安全受国内市场影响大
- A. ①③                      B. ①④                      C. ②③                      D. ②④

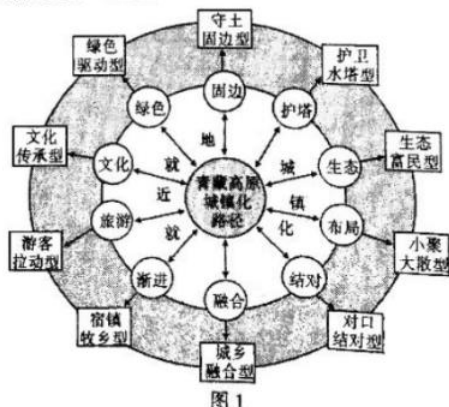
3. 针对上述石油安全挑战,可采取的应对措施是

- A. 加强石油综合利用
- B. 加大国内石油开发力度
- C. 提高煤炭消费比重
- D. 积极寻求新的进口通道

2020 年青藏高原地区城镇总人口 624.79 万人,城镇化水平 47.58%,城镇数量 493 个,其中城市数 17 个,建制镇数 476 个。在建制镇中,人口规模小于 1 万人的城镇数 416 个,占高原城镇数的比重高达 84.38%。立足青藏高原城镇化的特殊地位、特殊使命和特殊道路,青藏高原新型城镇化与内地截然不同。图 1 示意青藏高原城镇化路径。据此完成 4~6 题。

4. 青藏高原地区的城镇特点是

- ①城镇化发展的区域差异较小
  - ②城镇化水平低,处于中期阶段
  - ③城镇数量多,规模小
  - ④城镇分布西北稀疏、东南密集
- A. ①②                      B. ①④                      C. ②③                      D. ②④



5. 关于青藏高原城镇化路径的驱动力说法不正确的是
- A. 护卫水塔型——守护亚洲水塔, 避免失稳失衡  
B. 生态富民型——推动全域旅游, 旅游强力带动  
C. 文化传承型——传承优秀文化, 文化名城镇  
D. 守土固边型——集聚边境人口, 捍卫国家安全

6. 青藏高原城镇化绿色发展可采取的对策是
- A. 扩大建成区面积, 加快城镇化建设  
B. 承接产业转移, 推动人口、产业的集聚  
C. 依靠科技, 发展数字经济和智慧城市  
D. 调优行政区划, 合并撤销边境地区城镇

灵山花岗岩地貌景观位于江西省上饶市, 海拔 1000~1400 m, 在内外营力的长期作用下, 形成花岗岩塔状峰、峰丛、峰柱等地貌和崩塌堆积形成的“石海”、石桥、石洞等各种造型石景观。图 2 示意灵山花岗岩地质地貌形成及演化的过程。据此完成 7~8 题。

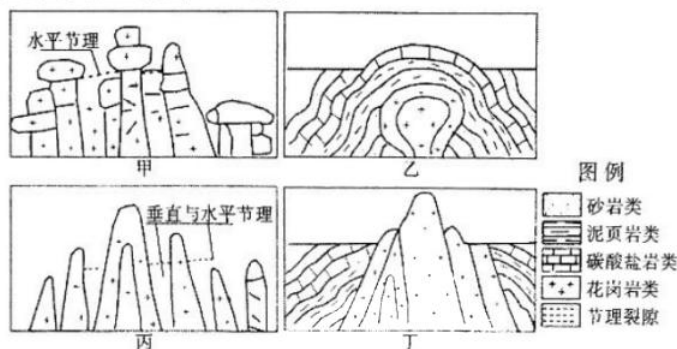


图 2

7. 图示灵山花岗岩地质地貌形成及演化的过程依次是
- A. 甲丙丁乙  
B. 丁乙甲丙  
C. 乙丁丙甲  
D. 乙丁甲丙

8. 推测不同节理发育对灵山花岗岩地貌形成的影响
- A. 垂直节理发育, 雨水沿裂隙渗透, 加速花岗岩裂解  
B. 垂直节理发育, 雨水沿裂隙渗透, 延缓花岗岩风化  
C. 水平节理发育, 冰川融水汇入, 加速花岗岩裂解  
D. 水平节理发育, 冰川融水汇入, 延缓花岗岩风化

巴尔喀什湖是中亚干旱区典型内陆湖, 湖盆大而浅。干旱区开阔的水面易造成水资源损失, 1970 年卡普恰盖水库建成蓄水后, 流域内水资源利用率反而有所提高。1970—1987 年巴尔喀什湖湖泊萎缩极为明显, 受气候变化及人类活动影响, 流域内的土地利用类型发生了较大变化。图 3 示意巴尔喀什湖流域水系图, 表 2 示意巴尔喀什湖流域土地利用转移矩阵。据此完成 9~11 题。

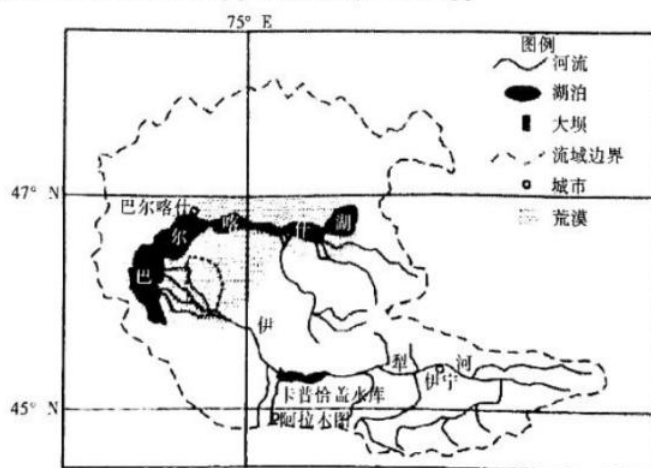


图 3

表 2

巴尔喀什湖流域土地利用转移矩阵

/10<sup>3</sup>km<sup>2</sup>

时段	土地利用类型	耕地	林地	草地	水域	城乡建设用地	未利用地	合计
1970s—2015年	耕地	124	0	72	1	8	2	208
	林地	0	17	26	0	0	1	45
	草地	77	41	2 191	20	8	162	2 500
	水域	1	0	32	217	0	10	260
	城乡建设用地	4	0	2	0	7	0	14
	未利用地	3	0	302	11	0	820	1 137
	合计	211	59	2 625	250	24	995	4 164

合计为某一时间一种土地类型的总面积（行列分别表示初、末期）。初期面积减去不变面积表示转出面积。末期面积减去不变面积表示转入面积，0不表示没有转化面积，只是转化不明显。

9. 巴尔喀什湖湖盆形态特征对湖泊萎缩的影响是

- A. 湖盆大,蓄水量大,减缓湖泊萎缩  
B. 湖盆大,蒸发表面积大,加快湖泊萎缩  
C. 湖盆浅,升温慢,蒸发弱,湖泊萎缩不明显  
D. 湖盆浅,减少相同的水量,湖泊萎缩不明显

10. 卡普恰盖水库建成后流域内水资源利用率有所提高的原因是

- ①水库调节气候,流域内降水增加,水量增加  
②水库海拔高,蒸发相对较弱,水资源损耗小  
③水库蓄积径流,减少水资源流失  
④水库蓄水,水资源统一管理,利用率提高

- A. ①②③  
B. ①②④  
C. ①③④  
D. ②③④

11. 表中时段内,关于巴尔喀什湖流域土地利用类型说法正确的是

- A. 草地和水域在流域内占比最大  
B. 城乡建设用地面积减少  
C. 耕地与草地相互转化明显  
D. 末期林地只有草地转入

12. 下图是我国社会发展重大事件的时间表和路线图,其中对应正确的是

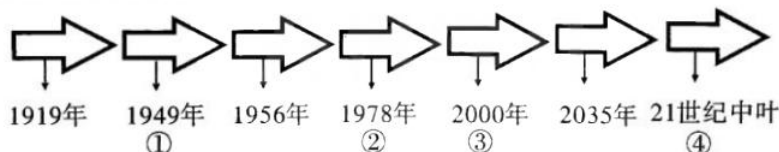


图4

- ①实现了我国历史上最深刻最伟大的社会变革  
②党和国家工作中心转移到经济建设上来  
③使人民生活全面达到小康水平  
④建成富强民主文明和谐美丽的社会主义现代化强国

- A. ①②  
B. ①③  
C. ②④  
D. ③④

13. “十四五”时期,我国继续支持培育家庭农场、农民专业合作社,为农业现代化发展提供财税支持、技术指导和风险控制,鼓励各地区采取自主经营、出租、入股等方式,盘活土地资源。上述举措表明促进农业农村经济发展应

- ①完善农村基本经营制度,创新土地流转经营模式  
②深化集体土地所有权改革,提高土地资源利用率  
③加强农业生产技术指导,巩固集体经济主导地位  
④加大“三农”投入力度,增强农业生产经营活力

- A. ①②  
B. ①④  
C. ②③  
D. ③④

14. 2022年11月25日,个人养老金制度在北京、上海等36个城市或地区先行实施(如图所示)。个人养老金的缴纳发挥作用的途径是

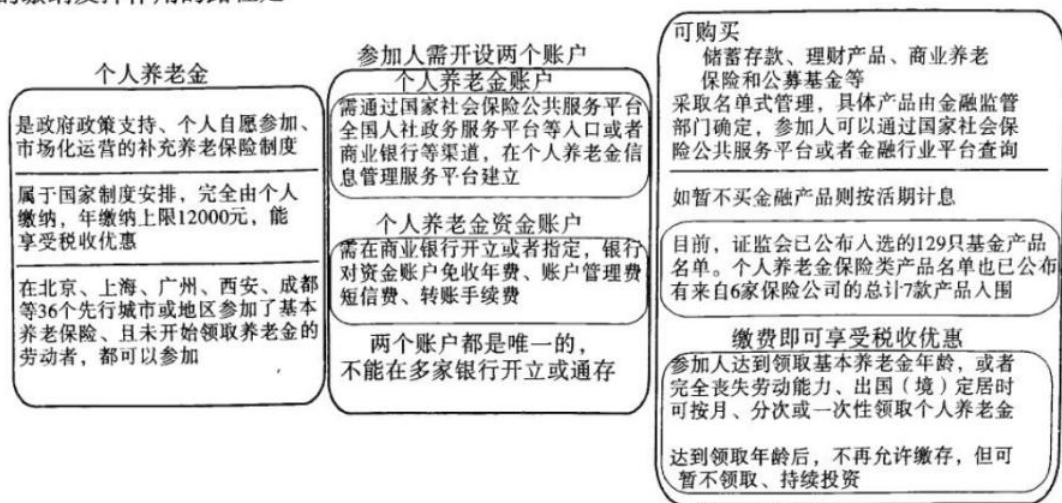


图5

- ①通过国民收入再分配 ②坚持应保尽保原则 ③采取市场化运营  
④自愿参加 ⑤有利于个人养老金保值升值 ⑥防范社会成员养老危机
- A. ①—②—⑥  
B. ①—⑤—⑥  
C. ②—③—⑤  
D. ④—③—⑤
15. 发展全过程人民民主离不开系统完备、科学规范、运行有效的制度体系。理解全过程人民民主的制度逻辑,有助于更好地为发展全过程人民民主提供整体性规范和系统性保障。下列表述正确的有
- ①社会主义协商民主是全过程人民民主的特有形式安排  
②人民民主专政的国体是全过程人民民主的根本政治保证  
③党和国家的监督体系是全过程人民民主的坚实制度保障  
④人民代表大会是实现我国全过程人民民主的重要制度载体
- A. ①②  
B. ①③  
C. ②④  
D. ③④
16. 实现全面推进依法治国的总目标,必须做到科学立法、严格执法、公正司法、全民守法。下列名言与所蕴含的法治思想匹配正确的是
- ①圣人之立法,本以公天下——科学立法  
②刑过不避大臣,赏善不遗匹夫——公正司法  
③徒善不足以为政,徒法不足以自行——严格执法  
④法立,有犯而必施;令出,唯行而不返——全民守法
- A. ①②  
B. ①③  
C. ②④  
D. ③④
17. “光通过激活人视网膜上特殊的感光细胞,引发眼、脑和脂肪组织中一系列神经信号传递,从而直接抑制机体血糖代谢能力”,中国科学技术大学薛天教授团队的这一科研成果回答了夜间过多的光照会增加肥胖和患糖尿病风险的生物学机理,这将为未来预防乃至治疗此方面疾病提供可能。上述材料表明
- ①科研活动旨在获得对客体的真理性认识 ②科研活动推动了认识的不断深化和发展  
③认识从实践中来,最终要回到实践中去 ④受主客体因素的制约,认识具有反复性
- A. ①③  
B. ①④  
C. ②③  
D. ②④

18. 烟雨蒙蒙,溪水淙淙,江南女子在碇步桥上缓缓走来,翩翩舞姿流淌在一座琴键般的碇步桥上,让人仿佛置身江南,回味悠长。在央视兔年春晚上,舞蹈节目《碇步桥》唤起了人们对青山绿水的向往、对家乡诗意水乡的回忆。节目的火爆说明
- ①尊重规律是文化创新和发展的关键  
②要大力发展文化事业和文化产业  
③独特的文化载体可以传达文化魅力  
④文艺创作要深入生活,扎根人民
- A. ①②                      B. ①③                      C. ②④                      D. ③④
19. 国家安全利益是国家的最高利益,它体现在国家的政治、经济、社会、文化、军事、外交等诸多方面。我们要坚持总体国家安全观,做到
- ①以政治安全为根本,防范遏制外部势力干预港澳事务  
②以国家安全为宗旨,统筹疫情防护和经济社会的发展  
③以经济安全为基础,不断提高抵御内外冲击的竞争力  
④以军事安全为依托,坚决开展反分裂反干涉重大斗争
- A. ①③                      B. ①④                      C. ②③                      D. ②④
20. 2022年是上海合作组织宪章签署20周年,成员国长期睦邻友好合作条约签署15周年。这些年来,本组织成员国以这两份纲领性文件为思想基石和行动指南,逐步成功探索出一条新型国际组织成长壮大之路,积累形成了一系列富有启示意义的重要成功经验。在“上海精神”的指引下,上海合作组织
- ①加大相互支持,以全球共同安全和发展利益为目标  
②拓展安全合作,推动构建有效、可持续的安全架构  
③深化务实合作,构建强劲、绿色、健康的同盟关系  
④坚持多边主义,拓展本组织同联合国等组织的交往
- A. ①③                      B. ①④                      C. ②③                      D. ②④
21. 小李大学毕业后,在一家公司任职多年。近期公司业绩持续下滑,以致拖欠工资不发,小李与用人单位因劳动报酬问题发生争执。对此,小李可以
- ①和公司协商,通过和解的方式解决纠纷  
②向企业调解委员会申请调解,化解矛盾  
③向仲裁机构提出仲裁申请,给予民事制裁  
④直接向人民法院起诉,请求法院公正审理
- A. ①②                      B. ①③                      C. ②④                      D. ③④
22. 2021年1月,甲公司向乙公司签订采购1000万只口罩的合同,每年200万只,一共五年。其中约定若乙公司停止生产口罩,甲有权解除合同。2022年乙公司遭遇疫情,无法按期供货。据此,乙公司的行为
- ①是违约行为,不可以免除合同义务  
②是违约行为,可以免除其合同义务  
③是违约行为,可以免除其违约责任  
④是违约行为,不可以免除其违约责任
- A. ①③                      B. ①④                      C. ②③                      D. ②④
23. 美国自恃超级大国,惯以“国际法维护者”自居,动辄打着国际规则旗号对其他国家横加指责、滥施制裁。而美国自身却以政治私利为先,毁约退群、反复无常,将国内法凌驾于国际法之上,不断借口民主、人权干涉别国内政,悍然发动战争侵犯他国主权,肆意破坏国际秩序,严重威胁国际安全,所做所为严重违反包括《联合国宪章》在内的国际法规则。美国的做法
- ①违背了同一律的要求,犯了“两不可”的思维错误  
②违反了排中律要求,在“是”与“非”之间骑墙居中  
③违背了思维一致性要求,实质是为了推行霸权主义  
④用自相矛盾的思维逻辑,达到干涉他国内政的目的
- A. ①②                      B. ①③                      C. ②④                      D. ③④

24. 下图是中心位于安庆潜山的薛家岗文化(距今约 5000 年—6000 年)和中心位于钱塘江流域的良渚文化(公元前 3300 年—前 2000 年)陶器对比图,据此可知

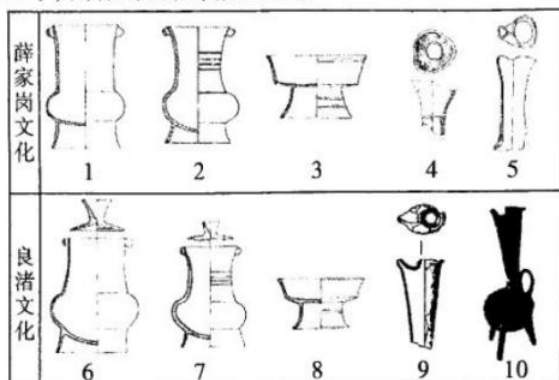


图6

- A. 薛家岗文化是良渚文化的分支  
B. 中华文明呈现多元一体的特征  
C. 两种文化之间存在着互动关系  
D. 良渚文化被动传承薛家岗文化
25. 东汉初年在朝议和讨论重要事项时,往往为尚书令、御史中丞、司隶校尉特设专席,以示重视和优隆,称为“三独坐”。“三独坐”的设立表明,汉代
- A. 广纳贤才以共襄国是  
B. 健全官员的选拔制度  
C. 实行“内外朝”制度  
D. 强化监察机构的作用
26. 宋金往来的使臣分为常使和泛使,前者有“贺生辰国信使”、“告哀使”、“贺尊号国信使”等,后者指临时有事专门派遣的使者,如“通问使”、“祈请使”。使者从见面到送别有一整套的礼仪规定。材料表明,宋金时期
- A. 形成了成熟的交往制度  
B. 中原文化对周边辐射作用增强  
C. 频繁战争促进对外交往  
D. 经济文化交流促进了政治交往
27. 目睹一些世家大族把经商定为一种基本能力,鼓励子弟从商的社会现象,汤显祖在《牡丹亭》中叹道“你听一声声卖花,把读书声差”。材料反映,
- A. 经济领域孳生全新的生产关系  
B. 市民阶层扩大促进文学世俗化  
C. 士农工商的四民结构发生逆转  
D. 商业发展冲击传统社会价值观
28. 1863 年容闳应邀到安庆,目睹“怀才之士,凡法律、数学、天文、机器等专家无不毕集。几乎举全国人才之精华汇集于此。”如徐寿、华蘅芳、容闳、龚芸棠、吴嘉廉、徐建寅、黄冕等皆荟萃于安庆。当时中国第一流科技知识人才毕集安庆是因为
- A. 安庆成为华东五省的政治中心  
B. 建设近代军事工厂的需要  
C. 争夺安庆以控制天京上游门户  
D. 安庆引领西学东渐的潮流
29. 下表为民国时期刊载西夏研究文章的主要报刊。

报刊名称	类别	刊物性质	办刊地
《史学杂志》	期刊	刊发史学研究论文	南京
《说文月刊》	期刊	抗战时期唯一的国学刊物	上海
《华文月刊》	期刊	文化类学术刊物	成都
《国闻周报》	报纸	时政类报纸	上海
《同声月刊》	期刊	诗词创作和研究的学术期刊	南京
《文藻月刊》	期刊	综合文化类期刊	南京
《行健月刊》	期刊	流亡北平的东北青年知识分子创办刊物	北京
《天津益世报》	报纸	天主教会在华出版的中文日报	天津

根据上表可知,民国时期对西夏的研究

- A. 适应了民主革命斗争的需要  
B. 折射了民国时期的文化版图  
C. 反映了西方文化殖民与侵略  
D. 呈现出“百家争鸣”的局面
30. 1949年8月21日东北人民代表会议在沈阳正式召开。会议选举出了东北人民政府委员和候补委员,东北人民政府宣告成立。会议通过了东北人民政府施政纲领,提出了进行经济、政权和文化建设的任务。这次会议的召开
- A. 结束了东北地区无政府混乱状态  
B. 标志着人民代表大会制度的开创  
C. 为新中国的政权建设积累了经验  
D. 以苏联国家政治经济制度为蓝本
31. 下图为2008年—2020年我国城乡居民人均收入增长率。

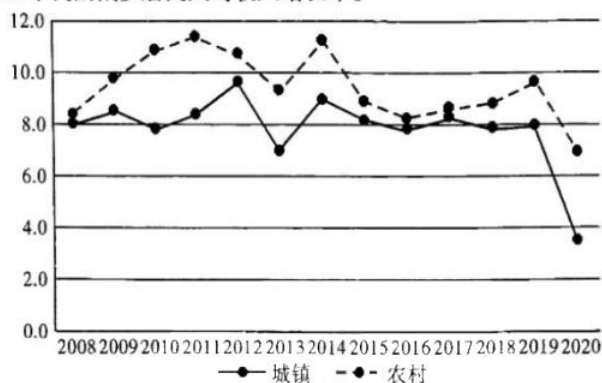


图7

根据上图可知,2008年以来

- A. 农村经济改革发挥引领作用  
B. 城乡一体化建设基本完成  
C. 农村人均收入呈现相对优势  
D. 城乡之间的收入差距缩小
32. 古巴比伦人的任何经济活动和社会活动当事人双方都要签订契约或类似具有法律效力的文件。在没有文书记录的情况下,任何形式的财产买卖和转让都是无效的。材料表明,当时西亚地区
- A. 契约的成文化和法律化  
B. 古代奴隶制文明的成熟  
C. 文字的发展走向体系化  
D. 商品经济成为支柱经济
33. 维多利亚时代,女性宁愿忍受细腰引起的肠胃不适和呼吸问题,也要穿上符合男性审美的显瘦的紧身衣。一战期间她们发现在工作时穿着紧身衣十分不便,与此同时,宣传海报中身着工装的女性形象伴随“每一个战士都是一个女工人”的宣传语大受欢迎。材料表明,一战期间,女性
- A. 改变以男性的视角约束自我的旧观念  
B. 获得了国家公民身份  
C. 经济地位和政治地位发生颠覆性变化  
D. 掀起女权运动的浪潮
34. 美国社会党领导人德布斯在总统选举失败后,不再强调暴力斗争,而且也很少使用阶级斗争的概念。他说道:社会党的任务不同于任何其他政党,社会党是要取消工资奴隶制,不仅解放工人阶级,而且要解放资产阶级,最后取消阶级统治。材料反映,美国
- A. 社会主义运动的策略性调整  
B. 资产阶级政党尔虞我诈的斗争  
C. 政治权力架构发生微妙变化  
D. 经济危机引发严重的政治危机
35. 后疫情时代下,国际权力结构变迁下的国际秩序“漂流”、机制碎片化加剧下的全球治理“肌无力”以及国际共识弱化下的“价值基石”瓦解等要素的交织共振,将催化百年未有之大变局。材料说明了
- A. 世界政治格局多极化趋势进一步加强  
B. 现存国际政治经济秩序的合理性  
C. 全球治理体系变革的必然性和必要性  
D. 亚非拉民族国家国际地位的提升

第Ⅱ卷

3

本卷共9个小题,计160分。

36. 阅读图文材料,完成下列要求。(28分)

**材料一** 近年来,锂作为全球重要的新兴关键性矿产之一,被中国、美国、日本和欧盟等世界各主要经济体列为战略性或关键矿产,各主要经济体愈加重视锂资源安全供应。从资源形态上看,全球锂资源供给来源主要包含硬岩矿、卤水矿、黏土矿等。其中硬岩锂辉石主要集中在澳大利亚、加拿大、美国等国;盐湖卤水主要集中在阿根廷、智利、美国以及中国青藏地区。全球锂资源以卤水锂为主,盐湖提锂开发潜力大。

**材料二** 在玻利维亚、阿根廷和智利构成的“锂三角”地区。数百万年前,“锂三角”地区曾是一片汪洋大海,伴随安第斯山脉的隆起,该地区与海洋分离。周边山区富锂岩石分布广,“锂三角”地区逐渐形成众多富锂盐湖、盐沼。图8示意“锂三角”地区概况。

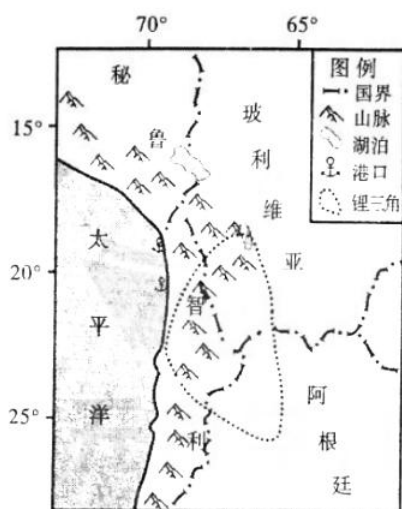


图8

- (1) 从地质作用的角度,简述“锂三角”盐湖富锂的成矿过程。(6分)
- (2) 分析“锂三角”锂矿资源开发的优势条件。(6分)
- (3) 说明“锂三角”开采锂矿资源对当地的影响。(8分)
- (4) 与盐湖卤水提锂相比,从矿石中提取锂的成本更高,分析其原因。(8分)

38.



37. 阅读图文材料,完成下列要求。(28分)

珊瑚礁作为生物多样性最高、资源最丰富的生态系统之一,为全球约6.5亿人提供资源服务。与世界其他海域的珊瑚礁一样,南海珊瑚礁一直在资源供给等方面发挥着重要作用。生态监测结果显示,广泛分布的南海珊瑚礁在近50年来处于严重退化之中,系加剧的人类活动与自然环境变化共同作用所致。自2016年起,某研究团队与某旅游企业合作,共同在海南蜈支洲岛北侧的夏季潜水观光区内开展珊瑚修复,实施多次珊瑚移植和培育苗圃修复工作。研究人员利用放置在海底的铁架或PVC管架作为珊瑚苗圃,在其上固定珊瑚让其生长,其生长速度是自然珊瑚生长速度的四倍。5年多来,研究团队在修复区移植珊瑚11种共3万多株,存活率超过65%,珊瑚覆盖率增长超过一倍。图9示意南海珊瑚礁的分布,图10示意珊瑚苗圃景观。

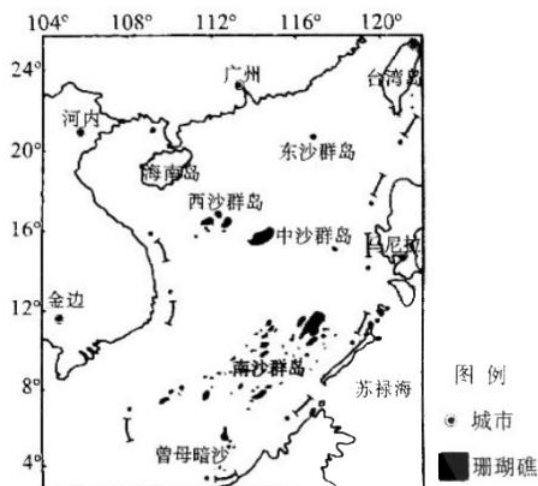


图9



图10

- (1) 据图描述我国南海珊瑚礁的分布特点。(4分)
- (2) 说明珊瑚礁所具有的自然环境服务功能。(8分)
- (3) 分析珊瑚礁退化的主要原因。(6分)
- (4) 推测珊瑚苗圃中人工培育的珊瑚苗种生长速度更快的原因。(6分)
- (5) 指出研究团队与旅游企业合作在潜水观光区开展珊瑚修复的意义。(4分)

38. 阅读材料,完成下列要求。(10分)

2022年1月1日,《区域全面经济伙伴关系协定》(RCEP)正式生效实施,全球人口最多、经贸规模最大、最具发展潜力的自贸区启航。

RCEP生效一年来,在国际局势风云变幻和全球经济持续低迷的大背景下,给成员国带来了巨大的经济效益和更高的社会福利水平。在贸易领域,已核准的13个成员国相继采取了不同程度的关税减免措施,促进了相互之间贸易规模的增长;在投资领域,协议引入了投资促进、投资保护、投资便利化与自由化等议题,全部成员承诺采用负面清单方式,增强了投资吸引力和知识产权的保护力度;在产业链供应链

领域,RCEP 不仅拓展了原来产业链供应链的区域网络,还进一步增强了产业链供应链的粘性和稳定性;在社会福利水平方面,在同等支出的情况下,RCEP 成员国可以得到更符合自己需求的消费品,极大提升了成员国民众的福利水平。

结合材料,运用《当代国际政治与经济》的知识,分析 RCEP 释放的机制红利。

39. 阅读材料,回答问题。(18 分)

数字人,是指通过计算机图形渲染、动作捕捉、深度学习、语音合成等技术打造的虚拟或仿真人物。

材料一 近年来,数字人持续涌现,其中传统文化领域的应用非常出彩。“天妤”,一个沉睡千年的飞天少女,被神秘空间元境唤醒。作为第一个来自敦煌的国风数字人,“天妤”以收集壁画碎片为线索,将中国传统文化元素进行数字化演绎,持续向世界讲述中国传统文化的故事。“天妤”的设计以传统飞天和唐代女俑为灵感,她衣袂飘飘,妆造典雅。受“天妤”影响,很多青少年给自己化起了“国风妆”,甚至还引起了海外美妆达人的竞相模仿。

材料二 数字人作为与虚拟世界交互的重要载体,潜在市场广阔。调研机构数据显示,到 2030 年我国虚拟数字人整体市场规模将达到 2700 亿元。但是,目前数字人发展还面临政策、资金、技术、人才等层面的限制。虚拟数字人能否走稳、走远,核心在技术,关键看应用。虚拟“数字人”关键技术还不完全成熟,创造更多元的应用场景和更大的发展空间还需要继续加大关键核心技术创新。千里之行,始于足下,即便是虚拟数字人,前行也要脚踏实地。

(1)结合材料一,运用文化遗产与文化创新的知识,说一说数字人在我国传统文化领域是如何出彩的。

(9 分)

(2)结合材料二,运用唯物辩证法的有关知识,说明应如何推动数字人走稳、走远。(9 分)

40. 阅读材料,完成下列要求。(24 分)

材料一 建设中国特色社会主义法治体系是一个系统工程,其基本任务包括建设完备的法律规范体系、高效的法治实施体系、严密的法治监督体系、有力的法治保障体系以及形成完善的党内法规体系。从法治本体论上说,法治体系是指一个国家的法治在整体上的运行体制和机制,不仅包括立法及其形成的法律规范体系,而且包括执法、司法、普法、守法等法律实施环节,还包括保证法律运行的保障机制、监督机制,涉及法律规范、法治实施、法治监督和法治保障等各个方面。因而,法治体系是一个描述一国法治运作规范化有序化程度,表征法治运作各个环节彼此衔接、协同高效状态的概念,也是一个规范和指引法治运作,使之充分体现和有效实现社会主义法治核心价值概念。从学理上来说,法治体系是国家制度体系的载体和法律表现形式,中国特色社会主义制度是中国特色社会主义法治体系的根本制度基础。中国特色社会主义法治体系不仅要围绕巩固中国特色社会主义制度的战略需要来建设,也是中国特色社会主义制度的重要组成部分。

(1)结合材料一,运用辩证思维的整体性的知识,说明如何建设中国特色社会主义法治体系。(10 分)

材料二 以党的二十大精神为指引,在新时代历史性成就基础上,从推进中国式现代化和人类文明发展的政治高度,深刻认识促进妇女事业的重大意义。2022年10月30日,新修订的妇女权益保障法经十三届全国人大常委会第三十七次会议表决通过,自2023年1月1日起施行。新修订的妇女权益保障法由原来的9章61条增加到现在的10章86条。此次修订,立足国情实际,有力回应了社会关心和关切。修订草案曾两次在网上公开征求意见,分别收到40余万、30余万条意见,是近年来收到意见数最多的法律草案之一。妇女的政治权利、人身和人格权益、文化教育权益、劳动和社会保障权益、财产权益、婚姻家庭权益等各方面权益将得到全面保障。

(2) 妇女权益保障法的修订是我国社会主义民主政治的生动实践。结合材料二,运用《政治与法治》的知识,谈谈你的理解。(8分)

材料三 林某和张某经人介绍相识,于2022年6月2日登记结婚。7月,林某发现自己怀孕,此时张某向林某坦白其患有艾滋病多年,并且长期吃药。林某被迫人工终止妊娠。2022年10月,林某提起诉讼,要求宣告婚姻无效。诉讼中,林某明确若婚姻无效不能成立,则请求撤销婚姻。对此,张某亦无异议。生效裁判认为,自然人依法享有缔结婚姻等合法权益,张某虽患有艾滋病,但不属于婚姻无效的情形。林某又提出撤销婚姻的请求,张某对此亦无异议,为减轻当事人诉累,人民法院一并予以处理。张某所患疾病,对婚姻生活有重大影响,属于婚前应告知林某的重大疾病,但张某未在结婚登记前告知林某,显属不当。故依照民法典第一千零五十三条的规定,法院判决撤销林某与张某的婚姻关系。判决后,双方均未上诉。

(3) 结合材料三,运用《法律与生活》的相关知识,请你谈谈法院如此判决的意义。(6分)

41. 阅读材料,完成下列要求。(25分)

材料一 随着工商业的发展,围圈起来的城市逐渐难以适应人口的增长。19世纪工业化带来经济社会的急剧丰富和扩展,城市边界迅速开放。20世纪,新的经济空间与行政边界未必重合,形成了嵌入式的城市区域,城市亦形成了一个动态的网络。除去战争等特殊情况,城市在社会安全、外来人口管理和社会基础设施建设等方面发挥作用,尤其越来越多干预救济和教育领域。

——摘编自孟亚莉《1870-1940年欧洲城市化进程析论》

材料二 各种优质公共资源主要向大城市集中的过度配置,吸引人口过度集中,造成这些城市交通拥堵、环境恶化等“城市病”已人所共知。农村资本和大量青壮年劳动力被吸引流向城市,造成农业生产劳动力和资金短缺、公共服务贫乏落后等各种“农村病”。目前中国约有2亿多处于半城市化状态的农民工,他们大都从事最底层的体力劳动,难以真正融入城市,也得不到城市居民的户籍。“半城市化”造成了农村1.5亿的留守儿童、妇女和老人。

——摘编自王桂新《城市化基本理论与中国城市化的问题及对策》

材料三 英国通过消灭小农土地占有制并积极确立带有资本主义性质的农场,用50年的时  
市化率从33.8%提高到50.2%。我国农村经营方式要积极促进农村土地使用权的流转,将农  
土地上解放出来。同时,积极推行面向农民的职业教育和技术培训,为农村剩余人口的转移做准  
该尽可能采取措施降低运输成本,促进区域之间各要素的自由、顺畅流动,通过各区域之间的投  
系,实现中西部地区的跨越式发展。

——摘编自吴老二等《欧洲城市化对我国

- (1) 根据材料一并结合所学知识,分析近代以来欧洲城市化的特征和原因。(12分)
- (2) 根据材料二并结合所学知识,概括中国城市化过程中出现的问题。(6分)
- (3) 根据材料三并结合所学知识,探究如何有效、合理地推进中国城市化进程。(7分)

42. 阅读材料,完成下列要求。(12分)

材料 在众多的文化维度理论中,六大价值取向理论最为经典。该理论最初是为了研究二  
不同民族文化的价值、民心 and 士气,战后又加强了对文化价值的研究。该理论认为,人类共同面  
题,而不同文化中的人群对这些问题的观念、价值取向和解决方法的不同正体现了这些群体的文  
通过这些文化特征可以描绘各个文化群体的文化轮廓,从而将不同的文化区分开来。这六大问  
人性的看法、人们与外部自然环境的关系、人们与其他人的关系(等级观念)、行动取向、人们的  
和人们的时间观念。

——摘编自高洁《基于文化视角的中西文化遗产管理比

选取上述材料中所述的一个或多个维度,拟定一个论题,并结合相关知识进行阐述。(要求:论  
持论有据,表述清晰。)

43. 阅读材料,完成下列要求。(15分)

材料 建立在相互信任和尊重基础上的交往,使得实力强盛的唐朝能够实现涵育式的拓展,  
和政治控制向外发展的同时,建立起不同模式的超越零和博弈的混合体制。大量出土的外来器物  
庭和波斯的钱币、玻璃器以及粟特金银器等,都表明唐朝无论官方还是民间都对外来事物具有强烈  
心。“凡蕃客至,鸿胪讯其国山川、风土,为图奏之”、“使绝域者还,上闻见及风俗之宜”。唐朝对外  
荣,体现了一种世界主义的胸怀,在唐朝生活的外国人,不仅人数众多,而且在政治和社会生活中介  
《唐律》对涉外案件的处理作出规定,“诸化外人同类自相犯者,各依本俗法;异类相犯者,以法律论”

——摘编自刘后滨《唐朝对外交往的世

- (1) 根据材料并结合所学知识,概括唐朝对外交往的特点。(9分)
- (2) 根据材料并结合所学知识,分析唐朝对外交往繁荣发展的原因。(6分)

## 关于我们

自主选拔在线是致力于提供新高考生涯规划、强基计划、综合评价、三位一体、学科竞赛等政策资讯的升学服务平台。总部坐落于北京，旗下拥有网站（[网址: www.zizzs.com](http://www.zizzs.com)）和微信公众平台等媒体矩阵，用户群体涵盖全国 90% 以上的重点中学师生及家长，在全国新高考、自主选拔领域首屈一指。

如需第一时间获取相关资讯及备考指南，请关注**自主选拔在线**官方微信信号：**zizzsw**。

