

述现象的出现源于

- A. 造船、航海技术的退步 B. 闭关锁国政策的推行
C. 当时社会主流的经济形式 D. 西方殖民势力的骚扰

5. 表 2 是以公元纪年为时间尺度，根据学者研究制作的不同历史时期我国东部地区气候变化与粮食产量变化表。下列对该表的解读正确的是

表 2

年代（公元）	气候状况	冬半年平均气温与 21 世纪初比较增（+）：减（-）	粮食亩产量（与前一时期比较）增（+）：减（-）
1—200 年	温暖期	+0.30°C	+22.9
210—560 年	寒冷期	-0.47°C	-2.3—0.4
570—770 年	温暖期	+0.23°C	+29.9
780—920 年	寒冷期	-0.5°C	-7.5
930—1310 年	温暖期	+0.18°C	+9.4
1320—1910 年	寒冷期	-0.39°C	+16.0

- A. 气候变化决定了封建王朝兴衰 B. 温暖期没有出现北方民族大规模南侵
C. 粮食产量增长均出现于温暖期 D. 世界形势变迁影响粮食产量变化趋向
6. 由于清政府长期奉行“安内重于防外”的方针，鸦片战争打响后沿海要地兵微将寡，无力抵御外侵；甚至当中国人民自发地抗击侵略者时，清政府不仅不加支持反而横加干涉和破坏。这说明当时
- A. 清政府的国家治理理念落后于时代潮流 B. 政府的腐败影响了战争的结局
C. 战略战术的落后是战争失败的主要原因 D. 普通民众成为抗击侵略的主力
7. 有学者指出，“五四新文化运动”对知识精英的思想解放起了重大作用，但只要认真考察“五四”后一般民众的知识、思想、信仰及日常生活就会有新的发现。由此可知新文化运动
- A. 对民众的思想启蒙程度不够 B. 对传统儒学的批判存在妥协

C. 对东西方文化存在绝对化倾向

D. 没有对平民大众产生影响

8. 与图 1 漫画直接相关的历史事件是

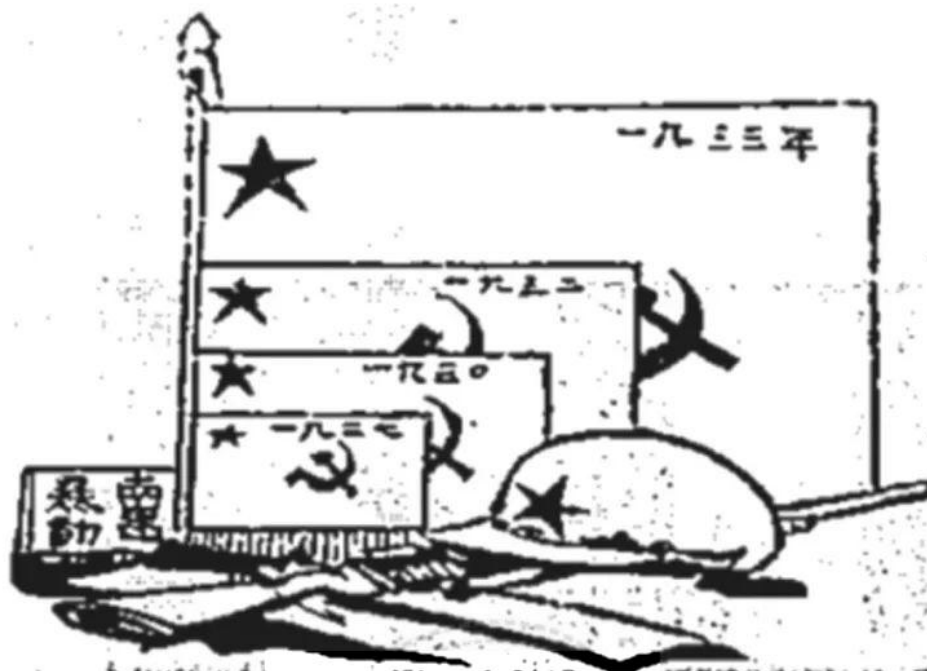


图 1

A. 大革命中北伐军胜利进军

B. 国民党军队对红军的围剿

C. 中共抗日武装力量的增长

D. 东北抗日联军的发展壮大

9. 表 3 是发生于 1927—1937 年间的部分重大事件，上述事件的出现反映了

表 3

金融	“废两改元”用银元代替银两；白银国有化，发行法币。
外交	业已过期的条约和协议将由新的条约和协议取代；尚未过期的条约和协议将根据法律程序予以废除或重新签订。
工业	工业设备进口总计达五亿元，达到历史最高水平。

A. 中国社会性质发生重大改变

B. 国民政府基本实现了独立自主

C. 政府致力于国家建设的愿望

D. 中国民主政治的条件日益成熟

10. 表 4 是朝鲜战争时期中美两国陆军师编制装备对比表。由此可以推知

表 4

	美军陆军师	志愿军入朝时的编制
步兵团	3	3
炮兵营	4—5	2
坦克营	1	0
坦克（辆）	149	0
榴弹炮（门）	72—84	0
无后座力炮（门）	120	0
高射炮（门）	64	0
70毫米以上迫击炮（门）	76	42
步兵炮、山炮（门）	—	24

- A. 战争胜负由战斗意志决定 B. 综合国力是影响战果的关键因素
C. 战争结果受到多种因素影响 D. 武器装备在现代战争中作用不大

11. 工业革命期间，整个英国社会盛行的仍然是妇女应该从属于男人的观念，在家中相夫教子、作“家庭天使”的资产阶级妇女成为各阶层妇女的楷模。而同时期，妇女在纺织业中占了总劳动力的50%。这主要表明当时英国

- A. 男尊女卑的观念逐渐淡化 B. 阶级出身极大影响妇女生活的状况
C. 妇女的社会地位得到了提升 D. 女权意识的觉醒推动妇女走出家庭

11. 1832年4月英国《贫民卫报》上登载的《一个工人的来信》中写到：“这个法案建议广大选民的人数至五倍之多……实际上，你们（工人）由于胆小和选民稀少，将丝毫不起作用”，同时期的罗伯特·欧文也发出了“让更多的人获得幸福！”的号召。这主要反映出当时英国

- A. 无产阶级处境艰难 B. 民主化进程迅速
C. 阶级矛盾得以缓和 D. 贫富差距进一步拉大

13. 表5是1870年、1913年主要资本主义国家在世界贸易中的占比。其中，丁对应的国家是

表5

年份	国家			
	甲	乙	丙	丁
1870年	22%	8%	13%①	10%
1913年	15%	11%	13%	8%

注：①为1872年数据。

- A. 英国
B. 德国
C. 美国
D. 法国

14. 1998年英国历史学家艾瑞克·霍布斯鲍姆说：“60年前，非共产主义的政治家和知识分子曾排着队去莫斯科探寻‘计划’的秘密”。艾瑞克的观点主要是基于苏联模式

- A. 确立了苏联社会主义的全面优势
B. 开辟了一条落后国家走向现代化的新道路
C. 击败了德、意法西斯势力的侵略
D. 在应对世界性挑战过程中发挥过重要作用

15. 某区域组织的成立基于这样一个信念，“只有通过超国家组织的建立，才能一劳永逸地消除战争威胁，恢复原先在国际事务中的地位，并拥有足可与美国相抗衡的人力和物力”。

该组织是

- A. 华沙条约组织
B. 经济互助委员会
C. 欧洲共同体
D. 东南亚国家联盟

二、非选择题：本题共5题，16题12分，17题12分，18题12分，19题11分，20题8分，共计55分。

16. (12分)南宋是中国海外贸易较为繁荣的时期。阅读材料，回答问题。

材料

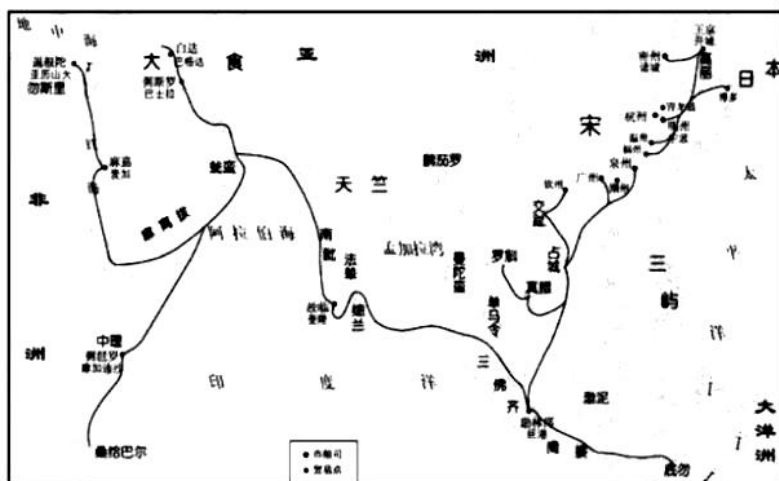


图2 南宋海上贸易路线示意图

提取材料信息结合所学知识，为“南宋海上贸易路线示意图”撰写一段文字说明。（12分）（要求：表述成文、史论结合、逻辑清晰）

17.（12分）政治仪式或活动反映了时代的基本政治内涵。阅读材料，回答问题。



图3 公元前399年，苏格拉底以“亵渎神灵，蛊惑青年”的罪名被雅典民众法庭判处死刑



图4 唐玄宗封禅泰山



图5 1954年第一届全国人民代表大会召开

观察图片结合所学知识，概括上述政治仪式或活动各自反映出的基本政治内涵。（12分）

18. (12分) 民国二十六年四月，国民党和共产党一起在黄帝陵祭祖，各出祭文。阅读材料，回答问题。

材料

甲	<p>维中华民国二十六年民族扫墓之期，中国国民党中央执行委员会追怀先民功烈，欲使来者知所绍述，以焕发我民族之精神，特派委员张继、顾祝同，驰抵陵寝，代表致祭于我开国始祖轩辕黄帝之陵前曰：“粤稽遐古，世属洪荒；天造草昧，民乏典章。维我黄帝，受命于天：开国建极，临治黎元始作制度，规距百工，诸侯仰化，咸与宾从。置历纪时，造字纪事；宫室衣裳，文物大备，丑虜蚩尤，梗化作乱；爰诛不庭，华夷永判。仰维功业，广庇万方；佑启后昆，恢廓发扬。追承绩猷，群情罔懈；保我族类，先灵攸赖。怀思春露，祀典告成；陈斯俎豆，来格来歆！尚飨！”</p>
乙	<p>维中华民国二十六年四月五日，苏维埃政府主席毛泽东，人民抗日红军总司令朱德恭遣代表林祖涵，以鲜花束帛之仪致祭于我中华民族始祖黄帝之陵。</p> <p>“赫赫始祖，吾华肇造，胄衍祀绵，岳峨河浩。聪明睿智，光披遐荒；建此伟业，雄立东方。世变沧桑，中更蹉跌；越数千年，强邻蔑德。疏台不守，三韩为墟，辽海燕冀，汉奸何多！以地事敌，敌欲岂足；人执笞绳，我为奴辱。懿为我祖，命世之英；涿鹿奋战，区宇以宁。岂其苗裔，不武如斯，泱泱大国，让其沦胥。东等不才，剑履俱备，万里崎岖，为国效命。频年苦斗，备历险夷，匈奴未灭，何以家为。各党各界，团结坚固，不论军民，不分贫富。民族阵线，救国良方，四万万众，坚决抵抗。民主共和，改革内政，亿兆一心，战则必胜。还我河山，卫我主权；此物此志，永矢勿谖，经武整军，昭告烈祖，实鉴临之，皇天后土。尚飨！”</p>

根据材料并结合所学知识，对“国共联合祭祀黄帝”做出合理的历史解释。（要求：表述成文、主旨明确、史论结合、逻辑清晰）（12分）

19. (11分) 人民生活的变迁是一部活生生的历史。阅读材料，回答问题。

材料一




图 6 1970 年的手表购买证

日期	摘要	收入	支出	结余	备注
1	工资	25.20			
2	买菜		4.00		
3	买菜		3.90		
4	买菜		5.00		50斤
5	买菜		5.22		
6	买菜		0.80		
7	买菜		0.76	3.92	
8	买菜		2.12		20.20
9	买菜		2.20		
10	买菜		0.12		

图 7 青岛马连发老人的家庭账本

材料二

表 6 中国家庭收入比较：按区域

平均收入 (元)	东部	中部	西部	东/西
		73228	25408	26567
1. 工资性收入	26405	7209	7402	3.6
2. 生产经营收入:	25380	10000	8480	2.3
——2.1 农业收入	3518	4736	8480	0.4
——2.2 工商业收入	21862	5264	2398	9.1
3. 投资性收入	5623	696	649	8.7
4. 转移性收入	15820	7504	7639	2.1
——4.1 退休、养老、住房公积金、贫困补贴	11577	4165	5119	2.3
——4.2 人情往来等	4243	3338	2519	1.7

——摘自西南财大《中国家庭收入不平等报告 (2012 年)》

- (1) 关于人民生活的变迁，指出材料一的史料价值。(4 分)
- (2) 依据材料及所学知识，构建 20 世纪 70 年代以来中国人民生活变化的历史进程。(7 分)

20. (8 分) 阅读材料，回答问题。

材料

正确认识当代资本主义的变化，首先必须学习马克思主义经济理论，以使我们具备应有的立场、观点和方法……要正确认识当代资本主义的新变化，弄清资本主义为什么能够有现在这样的生命力，还必须充分了解现代西方经济理论。因为现代资本主义的变化与西方经济理论的进步是分不开的。

——汪洋《从当代资本主义变化看现代西方经济理论》

表 7 资本主义主流经济理论的变迁

经济理论	论流行时间	反映时代要求
①_____	15—17 世纪中叶	主张国家扶植商业发展，反映资本原始积累时期商业资产阶级利益的经济理论和政策体系。
自由主义	盛行于 18—19 世纪	③_____
②_____	20 世纪 30—70 年代	④_____
新自由主义	20 世纪 70 年代以来	⑤_____

根据材料提示，参照表格中的已有内容，为表 7 中的空白处填上相应的文字。（8 分）

历史试题参考答案及评分标准

一、选择题：本题共 15 小题，每小题 3 分，共 45 分。每小题只有一个选项符合题目要求。

题号	1	2	3	4	5	6	7	8	9	10	11	12	13	14	15
答案	D	B	A	C	D	A	A	B	C	C	B	A	D	D	C

二、非选择题：本题共 4 小题，共 55 分。

16. (12 分)

水平三：能够从背景、路线、影响等多角度展开说明，表述成文，语言准确，论证充分。

(10—12 分)

层次一：概述南宋海上贸易的基本情况。（3分）

如，南宋时期的海上贸易空前繁荣，主要有两条线路：一是从明州、登州出发去往东方的朝鲜、日本；一是从泉州、广州等地出发经东南亚、印度到达波斯湾、非洲。层次二：分析南宋海上贸易繁荣的原因和背景。（6分）

如，农耕经济的发展，手工业技术的进步；政府实行较为宽松的商业政策；中国造船、航海技术的进步；北方少数民族政权的崛起，传统的陆路商路受阻；丝绸、瓷器等商品在国际市场上的畅销品等。

（答出3点即可得6分，其他言之成理亦可酌情给分）层次三：概述南宋海上贸易发展产生的影响。（3分）

如，进一步推动了南宋商品经济和沿海城市的发展；增加了政府的财政收入；推动了造船等技术的发展；促进了中外经济、文化交流，加强了中国和周边国家的友好交流，丰富了各自物质生活和精神生活等。

（答出2点即可得3分，其他言之成理亦可酌情给分）

水平二：能够多角度展开说明，语言较为准确，表述基本成文，论证较为充分。（4—9分）

水平一：仅能从某一个角度加以说明，语言不够准确，表述不够演进，论证不够充分。（1—3分）备注：表述不成文，整体扣2分。

17.（12分）

图3：苏格拉底的死刑判决由民众法庭投票产生，体现了当时雅典民主的运作方式；但苏格拉底的最终定罪和处死，折射着雅典民主运作的粗糙、随意，带有极端民主化的倾向，说明程序正义不一定带来结果正义。（4分，答案包含两个层面：肯定雅典政治的民主成分；指出雅典民主存在的弊端）

图4：唐玄宗封禅泰山，体现了中国古代统治者具有的“君权神授”“敬天保民”的思想。通过“封禅”既可以证明封建统治的有效性，起到巩固统治的作用，又可以向社会宣示皇帝推行仁政的决心和理念，起到凝聚人心、教化社会的作用，同时也有炫耀

政绩，彰显君主威仪的目的。（4分，从体现统治思想、维护统治、宣示教化等方面作答，任意两个角度即可得4分，其他言之成理，亦可酌情得分）

图5：第一届全国人民代表大会的召开，昭示着中华人民共和国的最高权力属于人民，奠定了新中国各项政治建设的基础，规范了政府与人民的服务与被服务关系。人民代表大会制度成为中国的根本政治制度。（4分，从人民代表大会制度的地位和影响两个角度作答）

18.（12分）

水平三：能够结合材料得出全面、概括的历史信息，且信息提炼明确、合理，并能从多个层次进行评述，表述准确，论证充分。（10—12分）

层次1：主旨明确、合理，涵盖材料核心信息（2分）。

如，1937年国共两党联合祭祖是在中日民族矛盾成为主要矛盾的背景下，国共两党结束对抗走向合作的重要表现。（2分）

层次2：从背景、原因、影响等多个角度对材料主旨进行阐述，表述成文，论证充分，思路清晰，逻辑严密（8分）。

如，1931年“九一八事变”以来，日本侵华步步紧逼，扶植伪满洲国，发动了一·二八事变、华北事变，中日民族矛盾逐渐成为中国社会的主要矛盾。停止内战、一致抗日成为全国人民共同的愿望。1936年底西安事变的和平解决标志着抗日民族统一战线的初步建立。（4分）

在国共两党的祭文中，两党均认同黄帝是中华民族的共同祖先，均明显表达了抵御外来侵略的决心。国共联合祭祖为两党的进一步合作，为抗日民族统一战线的彻底实现，对于唤起全体中华儿女的民族意识均起到了积极的正面作用。（4分）

层次3：能对材料反映的历史现象，进行适当、合理的总结升华。（2分）

如，历史证明，中华民族内部团结一心、精诚合作是战胜国内外一切敌人，走向民族复兴的法宝。（2分）

水平二：能够结合材料从某个角度提炼历史信息。主旨较为明确、合理，史实运用比较准确，相关解释比较合理。（4-9分）

水平一：能够结合材料提炼一定的历史信息，但信息提炼不够准确，解释不尽合理。（1-3分）备注：表述不成文，整体扣2分。

19.（11分）

（1）“购买证”和“家庭账本”是当时人民生活状况的直接体现，属于第一手史料，具有较高的史料价值。（4分）

（2）20世纪70年代至改革开放前，受计划经济体制等多种因素的影响，人民生活水平整体不高，家庭收入整体偏低；（3分）

改革开放后，随着所有制结构的变化人民的收入结构更加多样化，收入来源更加多元，虽然仍存在地区间的差别，但人民的整体生活水平和家庭收入水平均得到大幅度提升。（4分）

20.（8分）

①重商主义；（1分）

②凯恩斯主义；（1分）

③主张自由贸易，反对政府对经济的过分干预，反映了工业革命后资本主义国家利用经济、技术优势，开拓殖民地以寻求广阔原料产地和销售市场的要求。（2分）

④主张国家干预经济生活，反映了在自由放任政策破产的情况下，资本主义国家运用政权的力量来应对经济危机、适应社会发展的需要。（2分）

⑤主张适度放松国家干预，采用经济计划和市场调节相结合的“混合经济”，以应对70年代出现的经济“滞胀”现象。（2分）



关于我们

自主选拔在线（原自主招生在线）创办于2014年，历史可追溯至2008年，隶属北京太星网络科技有限公司，是专注于**中国拔尖人才培养**的升学咨询在线服务平台。主营业务涵盖：新高考、学科竞赛、强基计划、综合评价、三位一体、高中生涯规划、志愿填报等。

自主选拔在线旗下拥有网站门户、微信公众平台等全媒体矩阵生态平台。平台活跃用户达百万量级，网站年度流量超1亿量级。用户群体涵盖全国31省市，全国超95%以上的重点中学老师、家长及考生，更有许多重点高校招办老师关注，行业影响力首屈一指。

自主选拔在线平台一直秉承“专业、专注、有态度”的创办理念，不断探索“K12教育+互联网+大数据”的运营模式，尝试基于大数据理论为广大中学和家长提供中学拔尖人才培养咨询服务，为广大高校、中学和教研单位提供“衔接和桥梁纽带”作用。

平台自创办以来，为众多重点大学发现和推荐优秀生源，和全国数百所重点中学达成深度战略合作，累计举办线上线下升学公益讲座千余场，直接或间接帮助数百万考生顺利通过强基计划（自主招生）、综合评价和高考，进入理想大学，在家长、考生、中学和社会各界具有广泛的口碑影响力，2019年荣获央广网“年度口碑影响力在线教育品牌”。

未来，自主选拔在线将立足于全国新高考改革，全面整合高校、中学及教育机构等资源，依托在线教育模式，致力于打造更加全面、专业的**新高考拔尖人才培养**服务平台。

