

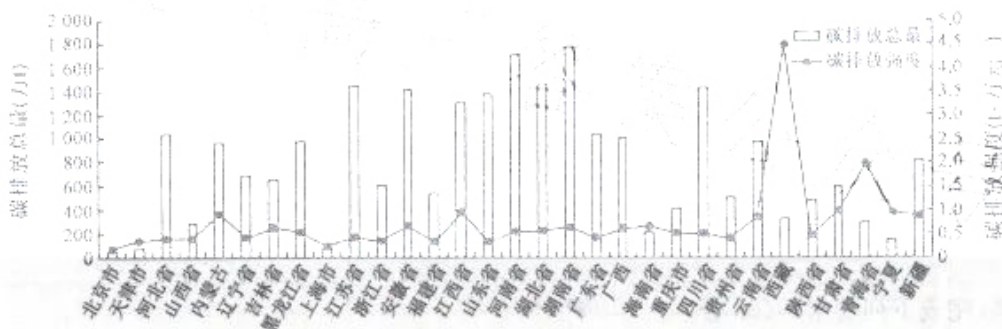
高三文综

考生注意：来源：高三答案公众号

1. 本试卷分选择题和非选择题两部分。满分 300 分，考试时间 150 分钟。
2. 答题前，考生务必用直径 0.5 毫米黑色墨水签字笔将密封线内项目填写清楚。
3. 考生作答时，请将答案答在答题卡上。选择题每小题选出答案后，用 2B 铅笔把答题卡上对应目的答案标号涂黑；非选择题请用直径 0.5 毫米黑色墨水签字笔在答题卡上各题的答题区域作答，超出答题区域书写的答案无效，在试题卷、草稿纸上作答无效。
4. 本卷命题范围：高考范围。

一、选择题：本题共 35 小题，每小题 4 分，共 140 分。在每小题给出的四个选项中，只有一项是符合题目要求的。

2022 年 6 月，我国农业农村部、国家发展改革委印发《农业农村减排固碳实施方案》，提出降低温室气体排放强度。农业是我国碳排放的重要来源之一，农业生产活动产生的碳排放占全国碳排放总量 13% 左右。下图示意 2015 年我国 31 个省（区、市）农业碳排放总量及强度的分布情况。据此完成 1~3 题。



1. 2015 年我国 31 个省(区、市)农业碳排放强度
 - A. 空间分布不均衡
 - B. 与经济的发展水平呈正相关
 - C. 东部大于中西部
 - D. 与碳排放总量大致呈负相关
2. 2015 年西藏、青海碳排放强度较大，与其关联性最大的是
 - A. 水资源较匮乏
 - B. 人口稀疏
 - C. 农业生产结构
 - D. 惠农政策
3. 践行《农业农村减排固碳实施方案》，减少农业碳排放的合理举措是
 - A. 加大农业生产物资金投入
 - B. 禁止青藏地区发展畜牧业
 - C. 实施无差异的减排措施
 - D. 推广发展水肥一体化技术

自改革开放以来，我国逐渐发展成为世界制鞋业中心。但近几年来，国际鞋业巨头逐步撤出在华产能，纷纷到越南、印度尼西亚以及柬埔寨投资建厂并扩大产能。据此完成 4~6 题。


4. 国际鞋业巨头逐步撤出在华产能的主要原因是
 - A. 劳动力短缺
 - B. 政策优势丧失
 - C. 销售额下降
 - D. 生产成本上升

【高三 2 月质量检测·文综 第 1 页(共 12 页)】



- 台经济规范健康持续发展等 21 条政策举措。国家此举旨在
- ①调动各方投资的积极性,稳定市场预期 ②全面放开市场准入,营造良好市场环境 ③提升民企市场地位,发展壮大民营企业 ④引导民间资本健康发展,助力稳岗就业
- A. ①② B. ①④ C. ②③ D. ③④
13. 数据显示,截至 2021 年底,我国患有慢性病老年人超过 1.9 亿,失能和部分失能老年人约 4 000 万,对养老护理员的需求达 600 多万,但目前全国仅有 50 多万名从事养老护理的服务人员。养老服务人才供给不足、年龄偏大、专业能力欠缺等问题突出。以下选项中属于解决上述问题的合理措施有
- ①强化财政资金保障,提高养老金补助标准 ②完善养老护理员薪酬待遇和社会保险政策 ③大力推行计划生育,控制人口的快速增长 ④加大养老服务人才培养与引进的激励力度
- A. ①③ B. ①④ C. ②③ D. ②④
14. 2022 年 11 月,国务院部署进一步延长制造业缓税补缴期限,决定对制造业中小微企业、个体工商户前期缓缴的所得税等“五税两费”期限届满后再延迟 4 个月补缴,涉及缓税 4 400 亿元。同时,对制造业新增增值税留抵税额即申即退,到账平均时间压缩至 2 个工作日。这反映了
- ①国家重视制造业作为实体经济抓手的发展 ②政府优化服务以更好为企业持续纾困解难 ③制造业发展所取得的成就得益于政策优惠 ④制造业在国民经济中的主体地位得以巩固
- A. ①② B. ①③ C. ②④ D. ③④
15. 党的二十大报告提出,着力提升产业链供应链韧性和安全水平。近年来,我国产业链供应链总体向好,但与此同时,我国产业链供应链仍面临一些安全挑战:中小企业经营局面有待改善;部分区域层面招商引资竞争;或为技术封锁加剧;向东南亚产业转移或将冲击中国市场的国际吸引力。据此,需要我们
- ①强化产业链上下游资源整合能力,实现融通发展 ②以国际循环为主体,优化区域产业链供应链布局 ③增强核心技术攻关,提升基础产业链内循环水平 ④发挥有为政府作用,设置产业链供应链外延壁垒
- A. ①② B. ①③ C. ②④ D. ③④
16. 如何更好地实现“幼有所育”,这既是无数家庭关心的事情,也是我们国家重大的民生事项。2022 年 11 月 23 日,在经过了近十天面向社会的公开征求意见之后,上海市十五届人大常委会四十六次会议经过审议,表决通过了《上海市学前教育与托育服务条例》。这体现了
- ①上海市的全体公民实现了立法平等 ②上海坚持从实际出发推进依法治教 ③上海市人大常委会享有地方立法权 ④我国不断拓宽公民参与立法的途径
- A. ①② B. ①④ C. ②③ D. ③④
17. 针对我国新冠肺炎疫情防控的严峻形势,国务院联防联控机制强调,要严格执行第九版防控方案和“九不准”要求,提高科学精准防控水平,切实保障群众正常生产生活秩序,并对防控简单化、“一刀切”和“层层加码”的典型行为进行通报。这对建设法治政府的启示是
- ①依法行政,做到法无授权不可为 ②勇于担当,做到法无禁止即可为 ③服务为民,坚持行政执法有温度 ④廉洁诚信,坚持勤政与廉政一体
- A. ①② B. ①③ C. ②④ D. ③④
18. 2022 年 11 月,中国与国际竹藤组织共同发起倡议。倡议提出,各国制定“以竹代塑”支持政策,为“以竹代塑”的全球化发展提供政策保障,并推进科技创新、鼓励科学研究,为“以竹代塑”新技术利用、新产品开发创造条件。可见,中国
- ①在维护自身生态利益同时兼顾全球绿色关切 ②在全球绿色发展中始终发挥主导和引领作用 ③在应对全球环境变化中展现负责任大国担当 ④通过科技创新积极抵制塑料制品的使用和推广
- A. ①③ B. ①④ C. ②③ D. ②④
19. 古今结合,选择性修复胡同大院和文化地标,才能更好地重现运河古风古韵。天津市相关部门确定大运河及杨柳青古镇周边按照“再活化、再组织、再开发”的发展思路,保留老宅子,按照“城市针灸术”理念进行历史人文修复,打造古朴古韵的运河风貌。天津市此举旨在

【高三 2 月质量检测·文综 第 3 页(共 12 页)】

- ①传承运河历史文脉,彰显中华文化的民族性 ②激活运河的文化基因,为古镇发展注入动力 ③拓展运河文旅市场,致力于经济效益最大化 ④丰富运河传统文化内涵,推动文化自信自强
- A. ①② B. ①③ C. ②④ D. ③④
20. 2022年9月,第十七届联合国教科文组织中外青年学生孔子文化周启动仪式在山东曲阜举行。在仪式上,中外青年学生共同表演了中国风的文艺节目。文艺展演篇章中,《幽兰操》再现孔子与弟子周游列国的情景,器乐《遏云绕梁》竹笛、古筝、琵琶、柳琴等民族乐器与吉他、小提琴合奏,呈现中西音乐交融的音乐盛宴。据此可见
- ①文化在交流互鉴中走向趋同 ②中外文化交融推动文化发展 ③吸收外来文化坚持以我为主 ④文化发展要保持开放的心态
- A. ①③ B. ①④ C. ②③ D. ②④
21. 2022年11月,中国医学专家等率先发现甲状腺癌精准表观遗传学分子标志物。该项研究应用相关技术,可直观地将与癌症相关的印迹基因异常表达状态,转化为细胞核内可见的信号。医生通过细针穿刺就能准确判断几乎所有甲状腺结节的良恶性,同时精准排除不需要手术的良性结节。这表明
- ①意识可以能动地对甲状腺癌进行治疗 ②思维能正确反映存在,世界是可知的 ③甲状腺癌治疗技术始终呈波浪式前进 ④服务实践是甲状腺新技术的价值所在
- A. ①② B. ①③ C. ②④ D. ③④
22. 漫画《顾此失彼》(改编自何青云)启示我们
- ①把握联系的多样性,学会多角度看问题
②树立全局观念,个人利益服从集体利益
③认识矛盾双方的同一性,促进相互转化
④用全面的观点看问题,懂得平衡和取舍
- A. ①③
B. ①④
C. ②③
D. ②④
- 
23. 利用自己空闲的时间,为社区里的高龄老人提供力所能及的养老服务,并通过这些服务积累“时间币”。时间币既可以兑换一些当下的服务,也可以积攒着,等日后需要时再拿出来用。这种老年人之间互帮互助的模式,被形象地称为“时间银行”。由此可知
- ①实现人生价值必须筑牢理想信念之基 ②劳动是创造人们美好生活的重要手段 ③人的社会价值与个人价值是相统一的 ④互帮互助的前提是社会满足个人需要
- A. ①② B. ①④ C. ②③ D. ③④
24. 在建政过程中,周天子作为天下之大宗,理所当然地成为天下之君,周王室也就成为西周国家中央政权。相对于周天子而言,诸侯为小宗而宗于天子,因此,诸侯国便成为臣属于周王室的第二级政权。据此可知,西周统治
- A. 凸显了周天子的绝对权威 B. 保证了贵族的政治垄断
C. 体现了政治与宗法的统一 D. 增强了华夏观念的认同
25. 汉初贾谊评价秦朝反击匈奴时说:“却匈奴七百余里,胡人不敢南下而牧马,士不敢弯弓而报怨”。桑弘羊也认为,经蒙恬反击之后,“匈奴势慄(慑),不敢南面而望十余年”。由此可知,秦朝反击匈奴
- A. 推动了中原文化向边疆扩展 B. 成为巩固大一统的关键一步
C. 彰显了中央集权制的优越性 D. 有利于保障农耕文明的发展
26. 宋代理学家吕祖谦认为:“学者气质各有利钝,工夫各有浅深,要是不可限以一律,正须随根性……示以蹊径,亦有必待其愤悱而后启之者。”据此可知,该理学家
- A. 强调道德养成须因材施教 B. 旨在说明道德醒悟的重要性
C. 推崇“格物致知”的认识论 D. 要求学者要做到“知行合一”

【高三2月质量检测·文综 第4页(共12页)】

27. 明清时期,商人在观念上不再将利作为从事商业活动的唯一目标,在经营实践中亦讲求“存心处世在中和”,坚信“太过者,满则必倾;执中者,平而且稳……惟能处世益谦,处财益宽,处能益逊,处以德”。这表明明清时期

- A. 传统义利观发生了重大改变
B. 主流思想影响商人的价值建构
C. 士人对空疏学风进行了反思
D. 商人提出进行社会改革的愿望

28. 1861年,恭亲王奕訢提出设立总理衙门,并认为其要在于“审敌防边,以弥后患。俟军务肃清,外务较简,即行裁撤,仍归军机处办理,以符旧制”。1867年,总理衙门在与各省督抚就修约问题讨论指出,“苟或时有未可,势有未能,无防暂时羁縻,而卧薪尝胆,养精蓄锐,以待异日之自强”。这反当时统治者

- A. 认识到外交近代化的必要性
B. 注重维护民族国家的尊严
C. 仍固守“天朝上国”传统观念
D. 重视处理庞杂的洋务事宜

29. 下图为1915年10月12日马星驰发表的漫画《国庆日之回顾》。该漫画反映出当时

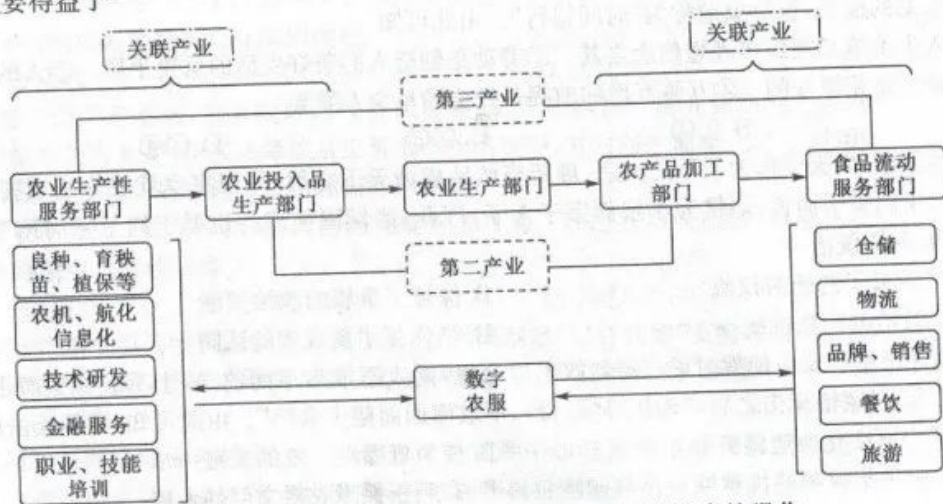


- A. 现代化国家的构建
B. 宪政体制的实践
C. 民主进程的曲折性
D. 社会共识的前演

30. 1927年12月下旬,毛泽东明确提出工农革命军的三大任务:打仗消灭敌人,打土豪筹款子以及组织武装和协助群众建立革命政权。1938年6月,毛泽东指出,要做革命工作,“第一出头讲话,第二写标语,第三出传单,第四演新剧,第五贴报上篇文章。”这说明毛泽东

- A. 积极贯彻落实群众路线
B. 强调根据地游击战文化的重要性
C. 关注农村社会全面振兴
D. 主张依靠群众来反对北洋军阀

31. 下图为有关学者对北大荒集团现代化大农业发展的研究成果。据此可知,北大荒集团现代化发展主要得益于



- A. 现代企业制度的建立
B. 国家干预经济模式的强化
C. 分配领域变革的推动
D. 经济体制改革的深入发展

32. 有学者认为:“雅典实行民主制度的前提是‘农奴解放运动’,梭伦揭开了一系列所谓的政治革
斯提尼使当时雅典的阶级关系由贵族与平民之间的对立转变为奴隶和自由民、被保护民和公

的对立；伯利克里则把雅典民主带入黄金时代。”该学者意在说明，古代雅典

- A. 形成了高度完善的社会管理体制
B. 民主政治的发展是一个渐进的过程
C. 平等和自由是民主政体基本原则
D. 民主制度是奴隶主维系统治的手段

33. 右图是 14 世纪初意大利画家乔托的作品《哀悼基督》。这一画作表明当时

- A. 人文主义思想开始萌发
B. 美术创作回归人的自然属性
C. 宗教成为艺术创作题材
D. 文艺创作与宗教的融会贯通



来源：高三答案公众号

34. 马克思说：“机器生产摧毁国外市场的手工业产品，迫使这些市场变成它的原料产地。例如东印度就被迫为大不列颠生产棉花、羊毛、大麻、黄麻、靛蓝等。但工业巨头们发现，使印度变成一个生产国对他们有很大的好处，于是供给印度水利设备和内地交通工具，还在印度布下一个铁路网”。

马克思旨在说明

- A. 西方殖民主义的双重使命
B. 自由主义成就了英国工业革命
C. 近代世界市场的孕育成长
D. 工业化与尖锐的社会矛盾同步

35. 冷战结束后，美国政府利用“天下无对手”的优势，推行赤裸裸的实力政策：大幅增加军费，宣布退出《反导条约》，否定《全面禁止核试验条约》，拒签《国际生物武器公约》，大力发展国家反导防御系统，大搞“反恐划线”。这说明美国

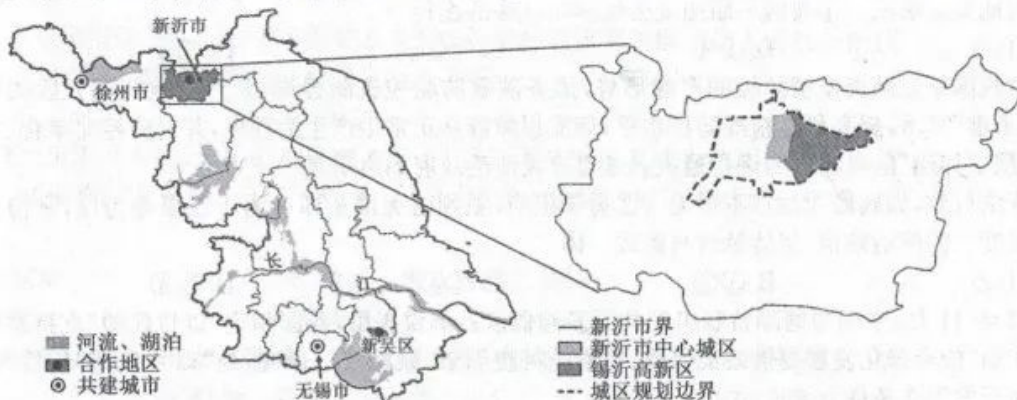
- A. 极力追求永久的单极世界
B. 试图建立国际政治新秩序
C. 称霸世界的野心由来已久
D. 国家实力及国际地位增强

二、非选择题：共 160 分。第 36~42 题为必考题，每个试题考生都必须作答。第 43~47 题为选考题，考生根据要求作答。

(一) 必考题：共 135 分。

36. 阅读图文材料，完成下列要求。(22 分)

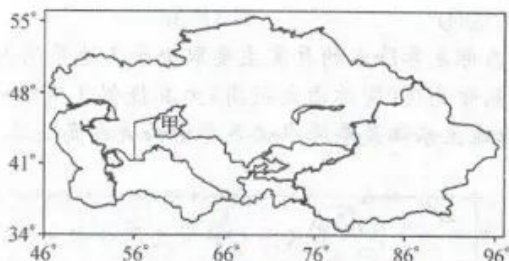
长三角是我国最早启动城际合作园建设的地区，目前该地区共建成城际合作园区 167 家。锡沂高新区是长三角城际合作园首期揭牌试点园区，是目前长三角开发规模最大、发展价投最为完整的园区。锡沂高新区位于江苏省北部徐州市新沂市沐东地区，规划面积 111.1 km²，是京沪二线工程和陇海线交汇点，由无锡市新吴区和新沂市政府合作建立。下图示意江苏省位置及锡沂高新区区位。



- (1) 说明长三角地区建设城际合作园区的必要性。(6 分)
 (2) 简析新吴区与新沂市合作建立锡沂高新区的各自原因。(8 分)
 (3) 简述建设锡沂高新区对新沂市的带动作用。(4 分)
 (4) 在早期园区制度和空间构建中，新吴区占据主导地位，推测主要原因。(4 分)

37. 阅读图文材料,完成下列要求。(24分)

中亚干旱区主要由中亚五国和我国新疆维吾尔自治区组成,面积约566万 km^2 ,地形复杂,植被种类十分丰富。中亚干旱区是全球最大的非地带性干旱区,约占温带荒漠面积的90%,水资源短缺,生态脆弱。研究表明,中亚干旱区近百年来气候变暖显著,水资源风险性增大。下图示意中亚干旱区地理位置。



- (1) 简析中亚干旱区植被种类十分丰富的原因。(6分)
- (2) 分析中亚干旱区成为全球最大的非地带性干旱区的主要原因。(6分)
- (3) 说明受气候变暖影响,中亚干旱区水资源风险性增大的原因。(6分)
- (4) 近五十年来甲湖面积呈减少趋势,推测该变化对当地自然地理环境的主要影响。(6分)

38. 阅读材料,完成下列要求。(14分)

社会保障制度是社会的“安全网”“减震器”,关乎国家民生。

据统计,2022年9月底,我国基本养老、失业、工伤保险参保人数分别为10.47亿人、2.85亿人、2.89亿人。目前,我国已建成世界上规模最大的社会保障体系,覆盖范围持续扩大、待遇水平稳步提高、管理服务水平显著提升。在充分肯定成绩的同时,我们也要看到,随着我国社会主要矛盾发生变化和城镇化、人口老龄化、就业方式多样化加快发展,我国社会保障体系仍存在不足,主要是:政府主导并负责管理的基本保障“一枝独大”,而市场主体和社会力量承担的补充保障发育不够;部分农民工、灵活就业人员、新业态就业人员等人群没有纳入社会保障,存在“漏保”“脱保”“断保”的情况;社会保障统筹层次有待提高,平衡地区收支矛盾压力较大;城乡、区域、群体之间待遇差异不尽合理;社会保障公共服务能力同人民群众的需求还存在一定差距……对这些不足,我们必须高度重视并切实加以解决。

结合材料,运用经济生活知识,说明我国应如何推动社会保障事业高质量发展。

39. 阅读材料,完成下列要求。(12分)

中国共产党以从严管党治党开局起步,以刀刃向内的政治勇气向党内顽瘴痼疾开刀,以雷霆万钧之势推进全面从严治党。从实施中央八项规定转变作风到构建行之有效的权力监督制度和执纪执法体系,从“打虎”“拍蝇”“猎狐”无禁区、全覆盖到坚决查处周永康、徐才厚、令计划、苏荣等重大腐败案件,从党的群众路线教育实践活动到在全党开展“不忘初心、牢记使命”主题教育,从全面规范党内政治生活到着力营造山清水秀政治生态……一套套自我革命的“组合拳”刹住了一些过去被认为不容易刹住的歪风邪气,消除了党和国家内部存在的严重隐患。但在新的赶考路上,党面临的执政考验、外部环境考验等将长期存在,精神懈怠危险、能力不足危险、脱离群众危险、消极腐败危险将长期存在,全面从严治党永远在路上,党的自我革命永远在路上。

结合材料,运用政治生活知识,说明党勇于自我革命、从严管党治党的意义。

40. 阅读材料,完成下列要求。(26分)

延安中学,一所学校的今昔之变

1938年8月,在国难当头、民族危亡的历史时刻,为了给抗战积蓄力量、给建国储备人才,延安中学的前身——陕甘宁边区中学在战火硝烟中诞生。校长蔡子伟在开学典礼上说,“要把边区中学办成真正国防教育的模范”。没有教室宿舍,学生动手挖窑洞;没有桌椅,用木板代替;没有课本,学校自己编印。在那段艰苦又充满光明的岁月里,学习只为救国、报国。正如《陕甘宁边区中学校歌》歌中所唱:“我们学习、学习,为了解放半殖民地半封建的祖国!为了建造自由幸福的新世界!”

作为中国共产党创办的第一所中学,80多年来,从最早的陕甘宁边区中学到今天的延安中学,学校先后15次易名,14次搬迁校址,几经辗转,但办学从未间断,红色基因一脉相承。走进今天的延安中学,小小窑洞已变为整洁明亮的现代化校舍,学生也从当年的两百多人增加到五千多人。如今,“用延安精神办学育人”的标语醒目地矗立在校园内。当年的《陕甘宁边区中学校歌》沿用为延安中学今天的校歌,仍旧回荡在宝塔山下、延河水旁。唱响红色歌曲、表演红色剧情、讲述红色故事等,成为延安中学教育学生传承红色基因的常态化形式。延安中校还鼓励学生走出课堂,开展冬学教育,为群众扫盲,开展红色文艺宣传。实行教育与革命战争相结合,与生产劳动相结合,延安中学为中等教育积累了丰富的办学经验,为建国后我国教育方针的制定、新中国中等教育的发展提供了借鉴。

【高三2月质量检测·文综 第8页(共12页)】

- (1)结合材料,运用文化生活知识,说明延安中学的今昔之变对传承红色基因的启示。(10分)
- (2)结合材料,运用矛盾的普遍性和特殊性原理,说明延安中学的办学经验对发展中高等教育的借鉴价值。(12分)
- (3)在那段艰苦又充满光明的岁月里,学习只为救国、报国。某校举办“新时代,学习是为了什么?”的主题演讲比赛,请你列出两个演讲稿要点。(4分)

41. 阅读材料,完成下列要求。(25分)

材料一

清初,清廷在沿海建立了7支水师,在江南、福建、广东设立了水师提督,在恭顺口、大沽口、吴淞口、厦门、台湾等海防要地设水师营等。1682年,民族英雄郑成功率军收复台湾。1683年统治台湾的郑经病故后,郑氏集团发生内乱,荷兰殖民者企图卷土重来,康熙帝令水师提督施琅率领舰队进军台湾,取得了澎湖决战的胜利。此后不久,郑克塽降清,台湾复归统一。此外,清朝的东北水师于1658年的摩尔干河战役和1685年的雅克萨战役中,都曾大败沙俄侵略军;广东水师于1808年在澳门击退英国殖民者军舰的进犯。

——摘编自张铁牛《中国古代海军史》

材料二

1865年,清政府创办江南机器制造总局,次年创办福州船政局,打算通过发展造船工业,创建近代海军。1867年,前江苏布政使丁日昌首先提出建立“北洋、中洋、南洋”三支轮船水师,无事出洋校巡,有事则一路为正兵,两路为奇兵,联合作战。中法战争后,清廷再次讨论海军发展事宜,决心“大治水师”,并调整其发展计划,拟先由北洋练成一军……在北洋海军优先发展成军的同时,南洋海军、广东海军和福建海军也有所发展或恢复。南洋海军虽然创设较早,但因清廷专注北洋而发展缓慢,军舰以国产为多,军官素质和军事训练较差……甲午海战重创了中国海军建设,海军衙门和北洋海军武职官衙均被裁撤。

——摘编自张一文《论中国近代海军发展与周边国际形势》

材料三

新中国诞生后,毛泽东多次强调“建设一支强大的海军”的战略任务。特别是1953年2月,毛泽东先后为接受检阅、视察的5艘海军舰艇郑重题词:“为了反对帝国主义的侵略,我们一定要建立强大的海军”。邓小平站在历史与时代的高度,明确指出:人民海军必须“具有现代战斗能力”“精干”“顶用”。江泽民在视察海军部队时指出:“我们一定要从战略的高度认识海洋,增强全民族的海洋观念。”“保卫国家海洋权益”和“维护国家经济安全”分别写进党的十四大、十五大报告中。

——摘编自刘杰等《新中国60年人民海军发展战略的演进及启示》

【高三2月质量检测·文综 第9页(共12页)】

- (1)根据材料一并结合所学知识,概括清朝前期海军建设的特点。(6分)
- (2)根据材料二并结合所学知识,分析制约近代中国海军发展的原因。(8分)
- (3)根据材料三并结合所学知识,指出我国现代海军建设的新发展。综合上述材料谈谈对我国海军建设的启示。(11分)

42. 阅读材料,完成下列要求。(12分)

材料

近代西方重商主义的经济思想和学说主要围绕“如何发财致富问题”进行探讨,在注重发展对外贸易的同时,积极主张国家对经济活动进行保护和干预。重商主义的经济思想和实践为资产阶级古典经济学的产生提供了直接的前提。17~19世纪中期,西方国家的经济在资产阶级革命的配合下,得到了突飞猛进的发展,克服重商主义缺陷的客观条件已经具备。资产阶级古典经济学主张个人可以在摆脱封建经济制度残余和重商主义那样的国家干预情况下,实行自由经营,政府应当在保证社会基本经济制度的前提下对经济采取自由放任的态度,让市场机制自动地调节经济,配置资源。但是,古典经济学的理论观点也存在着某种片面性。正是由于这个原因,在古典经济学时期之后,又产生了一个新古典经济学的时期。

——摘编自顾钰民等《西方经济学流派》

结合世界史的相关史实,围绕材料,自行拟定一个论题,并对所拟论题进行简要阐述。(要求:论题明确,史论结合;表述成文,逻辑清晰。)

(二)选考题:共 25 分。请考生从 2 道地理题、3 道历史题中每科任选一题作答。如果多做,则每科按所做的第一题计分。

43. [地理——选修 3:旅游地理](10 分)

2022 年 8 月 4 日召开的杭州市委十三届二次全会提出,要大力推进文旅西进。文旅西进是以“三江两湖一山”为基础,通过规划共绘、交通共建、市场共拓、产业共兴,整合和优化配置旅游等各类资源,构筑全市 1 小时半交通圈、旅游圈和经济圈,打响“游在杭州”品牌。杭州西部山区(指临安、桐庐、淳安、建德)是杭州实施文旅西进战略、增强旅游吸引力的重点建设区域。下图示意杭州市行政区划。



指出杭州西部山区发展旅游业的显著优势,并简述杭州市大力推进文旅西进的重要意义。

44. [地理——选修 5:环境保护](10 分)

2022 年 5 月中旬,乌克兰中部胡莱斯河大坝决堤,河水泛滥,大量红色的原矿石被湍急的洪水不断地冲刷,大量红色物质进入河流,河水被染成了“血红色”。

指出“血红色”河水对当地产生的主要危害,并提出应对措施。

45. [历史——选修 1:历史上重大改革回眸](15 分)

材料

1979 年,卫生部、财政部和国家劳动总局颁布了《关于加强医院经济管理试点工作的意见》,指出用经济方法管理医院的业务活动和财务收支,在统一领导、统一计划的原则下,给医院较大的自主权和机动权;国家对医院的经费补助准备实行“全额管理、定额补助,结余留用”的制度,将包工资的办法逐步改为按编制床位实行定额补助的办法;医院增收节支的结余,主要用于改善医疗条件,也可以拿出一部分用于集体福利和个人奖励;医院可根据本单位的历史最好水平或本地区的最好水平,本着积极可靠、实事求是的精神,采取领导和群众相结合的办法,订出各项任务指标,经上级卫生部门核定后作为考核的依据;在加强经济管理工作中,要注意严格遵守党和国家的有关方针、政策、法令和财经纪律,保证医疗质量,合理安排维修、设备费用,不加重病人经济负担;试点的面不要太宽,各省、市、自治区可以在省(市)、地、县级医院和不同类型医院中各选择一、二所医院试点。

——摘编自詹馨《历史的往复:1978~1992 年的中国公立医院改革》

【高三 2 月质量检测·文综 第 11 页(共 12 页)】

(1)根据材料并结合所学知识,概括《关于加强医院经济管理试点工作的意见》颁布的背景及实施方略。(9分)来源:高三答案公众号

(2)根据材料并结合所学知识,说明《关于加强医院经济管理试点工作的意见》颁布的意义。(6分)

46. [历史——选修3:20世纪的战争与和平](15分)

材料

1919年1月,战胜国在法国凡尔赛宫召开和会。经过长达6个月的谈判后,于1919年6月28日签订了《凡尔赛条约》,根据条约规定,德国损失了10%的领土,12.5%的人口,所有的海外殖民地,16%的煤产地及半数的钢铁工业。同时要求德国必须承认全部战争责任,承认对协约国平民犯罪。根据协约国赔偿委员会决定,德国共需赔偿约合113亿英镑且以黄金支付。当德国了解到条约内容后,愤怒和屈辱感迅速在国内蔓延。起初德国政府拒绝接受条约,德国海军甚至以自沉舰艇的方式表达对条约的不满。战后的德国经济非常羸弱,只支付了条约规定的赔偿金额中的一小部分,但即使这一小部分也给德国经济造成了极大地负担并导致了近1/3的通货膨胀。

——摘编自任梦君《凡尔赛条约——德国的绞刑架》

(1)根据材料并结合所学知识,概括德国对《凡尔赛条约》不满的原因。(8分)

(2)根据材料并结合所学知识,分析《凡尔赛条约》签订的影响。(7分)

47. [历史——选修4:中外历史人物评说](15分)

材料

屈原,楚国人,因出身贵族,又明于治乱,娴于辞令,故早年深受楚怀王的宠信,位为左徒,朝廷一切政策、文告,皆出于其手。屈原为实现统一大业,对内积极辅佐怀王变法图强,对外坚决主张联齐抗秦,使楚国一度出现了国富兵强、威震诸侯的局面。但由于在内政外交上屈原与楚国贵族集团发生了尖锐的矛盾,后来遭到群小的诬陷导致和楚怀王逐渐疏远。屈原痛心楚怀王不能分辨是非,忧愤深思创作了《离骚》……后来秦国约怀王武关相会,屈原力劝不可,而怀王的小儿子子兰等却力主怀王入秦,怀王亦不听屈原等人劝告,结果会盟之日即被秦扣留,三年后客死异国。之后楚顷襄王即位,子兰任命尹……屈原再次被流放。在屈原多年流亡的同时,楚国的形势愈益危急。到楚顷襄王二十一年,秦将白起攻破楚都郢。屈原眼看自己一度兴旺的国家已经无望……于悲愤交加之中,自沉于汨罗江。

——摘编自司马迁《屈原列传》

(1)根据材料并结合所学知识,分析屈原辅佐楚怀王变法图强的历史背景。(6分)


(2)根据材料并结合所学知识,指出屈原能够名垂青史的原因。(9分)

关于我们

自主选拔在线是致力于提供新高考生涯规划、强基计划、综合评价、三位一体、学科竞赛等政策资讯的升学服务平台。总部坐落于北京，旗下拥有网站（网址：www.zizzs.com）和微信公众平台等媒体矩阵，用户群体涵盖全国 90% 以上的重点中学师生及家长，在全国新高考、自主选拔领域首屈一指。

如需第一时间获取相关资讯及备考指南，请关注**自主选拔在线**官方微信号：**zizzsw**。



 微信搜一搜

 自主选拔在线