

高三文科综合试卷

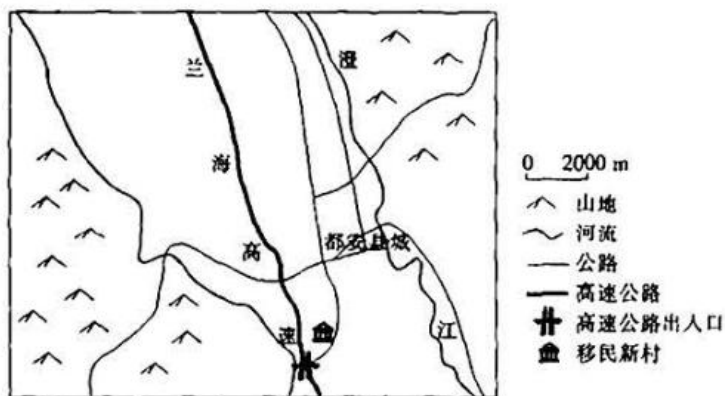
考生注意：

1. 本试卷分第Ⅰ卷(选择题)和第Ⅱ卷(非选择题)两部分,共300分。考试时间150分钟。
2. 请将各题答案填写在答题卡上。
3. 本试卷主要考试内容:高考全部内容。

第Ⅰ卷 (选择题 共140分)

本卷共35小题,每小题4分,共140分。在每小题给出的四个选项中,只有一项是符合题目要求的。

都安瑶族自治县(以下简称都安县)位于广西北部,县城石山面积占总面积89%,人均耕地面积不足0.7亩。早在2003年,都安县在全广西率先实施扶贫生态移民试点,建立了依托城镇、工业园区的安置模式。十余年来,该县采用分批次、分阶段的模式推行生态移民。近年来,随着移民规模的扩大,当地在县城、中心镇建设移民新村,现已成功脱贫。下图示意都安县城某大型移民新村的位置。据此完成1~3题。



1. 早期,都安县优先进行生态移民试点的主要对象特征为
 A. 居住条件艰苦 B. 就业技能较低 C. 原先收入较高 D. 搬迁意愿较低
2. 与一次性生态移民相比,分阶段推行生态移民的主要优势是
 A. 减轻人地矛盾 B. 取得规模效益
 C. 降低投资压力 D. 密切移民交流
3. 与都安县其他地区相比,图中移民新村的选址明显有利于
 A. 降低土地成本 B. 集中安置移民 C. 方便居民外出 D. 共享基础设施

福平铁路桥是首座公铁两用跨海大桥,国铁Ⅰ级电气化铁路,国家“十三五”规划中北京至台湾高铁通道的先期工程。福平铁路结束了平潭不通铁路的历史,与福州形成“半小时生活圈”。平潭岛附近海域全年6级以上大风天数超过300天,业界将这里视为“建桥禁区”。下图示意福平铁路线路。据此完成4~6题。

【※高三文科综合 第1页(共14页)※】

4. 平潭海峡多巨大风浪的主要原因有

①季风势力较强 ②是台风的主要通道 ③海峡的狭管效应明显 ④海面摩擦力小

- A. ②③④
B. ①③④
C. ①②④
D. ①②③



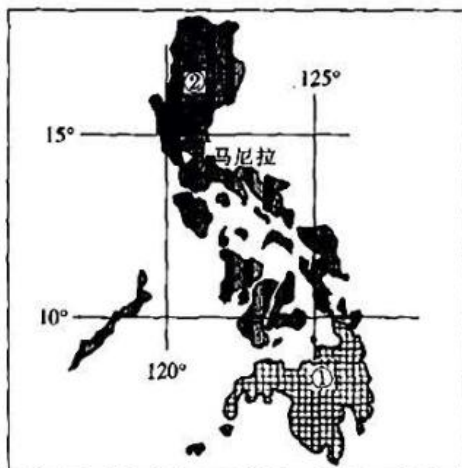
5. 福平铁路建设成功说明

- A. 自然因素的限制作用减弱
B. 经济因素起着决定性作用
C. 社会因素是选择线路的根本影响因素
D. 科学技术因素是有力保障

6. 福平铁路的建设有利于

- A. 疏散福州过密的人口与产业
B. 完善国家铁路网, 便于区域间的联系
C. 缩短平潭与外界联系的路线
D. 维持地区长治久安、繁荣稳定

菲律宾东部受暖流、台风影响, 降水丰富, 境内南北部植物类型存在较大差异。下图中①②为不同植物分布区。据此完成7~8题。



7. 菲律宾南北部自然景观差异较大, 其主要的影响因素有

- A. 气压带、地形
B. 海拔、海陆位置
C. 纬度位置、大气环流
D. 海陆分布、风带

8. 与①植物分布区相比, ②植物分布区

- A. 植被季相变化更显著
B. 植物生长更旺盛
C. 树木更加高大茂密
D. 植物种类更丰富

黄河三角洲造就了鹤之乡、鱼盐之利、农耕之益。有些农民采用“游耕”模式, 每年春耕、秋收来此拓荒, 若干年后弃耕。不同于其他大江大河、三角洲活跃的“湾区经济”发展, 黄河三角洲建有我国首个陆海统筹型国家公园, 选择了生态优先的发展策略。下图示意黄河三角洲位置。据此完成9~11题。



9. 黄河三角洲

- A. 湿地作用大
- B. 经济发达
- C. 开发程度高
- D. 无洪涝灾害

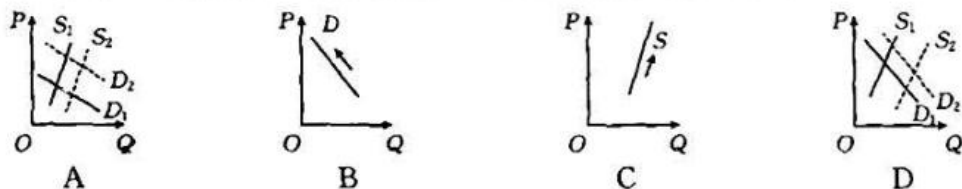
10. 黄河三角洲“游耕”模式的主要危害是

- A. 净化水质的能力减弱
- B. 导致全球气候变暖
- C. 引发土壤次生盐渍化
- D. 农产品产出降低

11. 黄河三角洲地区实施生态优先发展策略的首要目的是

- A. 庇护鸟类生存
- B. 增加土地资源
- C. 开展生态旅游
- D. 稳定河口生态环境

12. 2023年春节前夕,云南斗南花卉市场供货量增加,进货商和顾客逐步增多,花卉市场持续回暖。1月12日的统计数据显示,当周花材价格涨势喜人,单头玫瑰中,幻紫、艾莎、卡布奇诺等新品种最高价达到每枝5元至6.30元。不考虑其他因素影响,下列能够正确反映这一经济现象的图示(P代表价格,Q代表数量,S、D分别代表供给和需求)是



13. 中央经济工作会议指出,切实落实“两个毫不动摇”,即毫不动摇巩固和发展公有制经济,毫不动摇鼓励、支持、引导非公有制经济发展。下列措施符合中央经济工作会议这一精神的是

- ①取消市场准入门槛,营造良好的市场环境
 - ②完善公平竞争制度,为民营企业开辟空间
 - ③深化国资国企改革,提高国企核心竞争力
 - ④提高企业管理水平,强化民营企业的主导作用
- A. ①② B. ①④ C. ②③ D. ③④

14. 在东部地区,江苏提出积极发展第三代半导体、元宇宙等未来产业;在中西部地区,重庆提出培育人工智能、卫星互联网、绿色低碳等未来产业集群;在东北地区,黑龙江表示要高质量打造航天高端装备未来产业科技园。各地积极布局未来产业旨在

- ①促进不同区域协调发展,增强经济发展的整体性

【※高三文科综合 第3页(共14页)※】

- ②抢抓发展新赛道新机遇,为经济发展注入新动能
③构建有效的宏观调控机制,增强宏观调控前瞻性
④加快转变经济发展方式,以新产业培育新优势
- A. ①③ B. ①④ C. ②③ D. ②④
- 15.《中共中央 国务院关于做好 2023 年全面推进乡村振兴重点工作的意见》(以下简称《意见》)将防止规模性返贫作为全面推进乡村振兴的底线任务进行具体部署。《意见》明确提出,中央财政衔接推进乡村振兴补助资金用于产业发展的比重力争提高到 60%以上,重点支持补上技术、设施、营销等短板。此举发挥作用的传导路径正确的是
- ①培育乡村特色产业 ②坚决守住不发生返贫底线
③优化财政农业支出结构的方向 ④巩固脱贫攻坚成果,促进乡村振兴
⑤保障脱贫劳动力就业规模稳定
- A. ①→⑤→②→④ B. ②→③→⑤→④
C. ③→④→①→⑤ D. ③→①→⑤→④
16. 网络上出现一批人,以“网课爆破”为名,有组织“入侵”在线课堂。“人民日报评论”公众号发文强调,网络空间中的各类言行举止,谁都没有任性逾越、挑战底线的权力。可见,公民要
- ①坚持法律面前人人平等 ②明晰自身的权利与义务
③维护好自己的正当权益 ④成为法律的自觉监督者
- A. ①② B. ①③ C. ②④ D. ③④
17. 党的十九大以来,中共中央、国务院召开或委托中央统战部召开的政党协商会议共 92 次,就二十大和十九届历次全会报告、“十四五”规划和 2035 年远景目标、年度经济工作等同党外人士真诚协商、听取意见。各民主党派中央向中共中央、国务院提出意见建议 491 件。由此可见
- ①社会主义新型政党制度在国家治理中具有独特的优势
②中国共产党与各民主党派联合执政,共同推动民族复兴
③各民主党派围绕发展问题完善协商议政的内容和形式
④党的领导和人民当家作主统一于中国特色社会主义实践
- A. ①② B. ①④ C. ②③ D. ③④
18. 2023 年 1 月,拉美和加勒比国家共同体第七届峰会在阿根廷举行。习近平主席向峰会致辞时强调,中方一贯支持拉美和加勒比地区一体化进程,高度重视发展同拉共体关系,将拉共体视为巩固发展中国家团结、推动南南合作的重要伙伴。这是因为
- ①中国与拉共体国家的根本利益存在着广泛的一致性
②中国倡导全人类共同价值,推动构建人类命运共同体
③南北不平衡是解决世界和平与发展问题的主要障碍
④不断发展壮大的拉共体有利于壮大世界和平发展力量
- A. ①② B. ①③ C. ②④ D. ③④

【※高三文科综合 第 4 页(共 14 页)※】

19. 2022年夏天发生的重庆山火被迅速扑灭后,社交媒体上被“英雄气”一词疯狂刷屏。“那里本没有路,是无数志愿者的脚步踏出了一条路”“那路本没有灯,是无数志愿者的头灯,照亮了重庆儿女用身躯铸造的防火长城……”这股“英雄气”

- ①生动彰显了社会主义核心价值观 ②反映了中华民族精神的多样性
③体现了中华民族的精神风貌和特征 ④是中华民族生存与发展的精神根基
- A. ①② B. ③④ C. ②④ D. ③④

20. 2022年8月召开的中国网络文明大会强调,要始终高举思想旗帜、坚定正确政治方向,着力培铸文化之魂、拓展实践之路、完善治理之策,加强网民文明素养理念塑造和实践养成,推动网络综合治理和网络文明建设紧密结合。这需要

- ①把传承传统文化作为发展中国特色社会主义文化的着眼点
②立足当代中国,发展民族的、科学的、大众的社会主义文化
③发挥先进文化的导向和示范作用,引导人们追求真善美
④充分发挥网络空间传递、沟通、共享文化的强大功能

- A. ①③ B. ①④ C. ②③ D. ②④

21. 某专家开发了一款基于AI(人工智能)的语言润色工具,其可以在几分钟之内自动改进稿件,主要是纠正语法错误和改进措辞及用字用语,能减少作者为准备发表研究而花费的时间,从而使其有更多的时间从事科学研究。根据材料,下列解读正确的有

- ①AI可以模拟人类思维,但并不具备人类的主观能动性
②AI延伸了人类的认识器官,成为推动人类认识发展的动力
③AI作为工具可以辅助人类,有效提高人们办事情的效率
④随着科技的发展,AI越来越具有自觉选择性和能动创造性

- A. ①③ B. ①④ C. ②③ D. ②④

22. “木棉—稻田农林复合系统”(如图)是海南黎族同胞在漫长农耕历史中选择的一种立体经济种植模式。木棉根系发达,可以巩固田坎、涵养水源,还可以调节稻田土壤微生物群落;木棉花可以吸引鸟和害虫的天敌,凋落的木棉花在稻田被分解成养分。“木棉—稻田农林复合系统”



- ①成功地把自在事物的联系转化成人造事物的联系
②表明人能通过实践把观念的东西变成现实的东西
③科学地把握了事物之间的对立和统一的关系

【※高三文科综合 第5页(共14页)※】

④启示我们要善于分析和把握事物存在和发展的各种条件

- A. ①② B. ①④ C. ②③ D. ③④

23. 党的二十大报告指出,中国式现代化的本质要求是:坚持中国共产党领导,坚持中国特色社会主义,实现高质量发展,发展全过程人民民主,丰富人民精神世界,实现全体人民共同富裕,促进人与自然和谐共生,推动构建人类命运共同体,创造人类文明新形态。由此可见,中国式现代化是

- ①肯定与否定的统一,是对人类文明形态的扬弃
②共性与个性的统一,体现了中国特色的绝对性
③主观与客观的统一,做到解放思想、实事求是
④量变与质变的统一,是渐进性和飞跃性的互变

- A. ①③ B. ①④ C. ②③ D. ②④

24. 天命是周王室政治权力合法性的重要依据,是天子取下的强有力工具。春秋时期,天命不再是周天子的专属品,各路诸侯也开始将上天代理人这一角色加到自己的身上。这一变化反映了春秋时期

- A. 传统社会秩序的崩溃 B. 周王丧失共主的地位
C. 政治权力下移的趋势 D. 敬天法祖观念的强化

25. 1874年,英国探险家在新疆和田意外地收集到两枚汉代新疆地区的“汉佉二体钱”——和田马钱(见摹写图)。其钱面上马的形象源自大夏(今阿富汗一带),马图外围有一圈佉卢文(古印度文字),背面图案中间为一符号“𑖀” (解作汉文篆字“元”)。该钱币的发现,可以印证汉代

- A. 陆上丝绸之路的开通
B. 中央政府统一了货币
C. 篆体字在西域流行
D. 儒家文化圈已经形成



26. 《宋史·王淮传》记载,“初,朱熹为浙东提举,劾知台州唐仲友。淮(宰相)素善仲友,不喜熹,乃擢陈贾为监察御史,俾上疏言:‘近日道学假名济伪之弊,请诏痛革之。’”由此,庆元年间,理学被视为伪学而遭禁。这说明理学遭禁是因为

- A. 官僚昏庸腐败 B. 朝廷内部党争
C. 理学自身缺陷 D. 道家地位较高

27. 下表为《苏州织造局志》中记载的康熙二十四年(1685年)苏州织造局工匠人数表(单位:人)。据此可知,清初官营作坊

	拣绣匠	挑花匠	倒花匠	提花匠	织绸匠	画匠
织染局	8	14	15	5	6	1
总织局	6	6	10	6	—	1

【※高三文科综合 第6页(共14页)※】

- A. 引入标准化流水线
B. 追求规模效益
C. 强调对成本的控制
D. 注重分工合作
28. 太平天国政权建立后,便实行严禁鸦片输入的政策,在太平军占领的范围内,出现了“吃水烟、鸦片者,一人俱无”的情景。鸦片销路的壅滞,直接影响鸦片的进口。1862年,太平军占领宁波后不久,怡和洋行支行的头目就惊叹这里连一箱鸦片都卖不出去。这反映了太平天国运动
- A. 粉碎了列强瓜分中国的阴谋
B. 延缓了中国半殖民地化的步伐
C. 打击了列强对华的经济侵略
D. 担负起反帝反封建的革命任务
29. 科学教育思潮是“五四”时期非常流行的一种思潮。留美学者任鸿隽说:“一国国政之整肃,与人民生计之苦乐,与科学家之数成正比。”蔡元培在回复任鸿隽的信函中明确指出:“欲救吾民族之沦胥,提倡科学为关键。”这说明科学教育思潮
- A. 被赋予重要的历史使命
B. 体现了全盘西化的历史潮流
C. 源于新文化运动的兴起
D. 旨在推动民主与科学的普及
30. 下表所示为晋冀鲁豫边区对1937年和1942年的北岳区35个村各阶层人口占总人口比重的调查统计结果。表中数据表明当地

阶级	1937年	1942年
地主	3.61%	2.51%
富农	8.45%	7.88%
中农	40.57%	47.47%
贫农	35.71%	33.94%
雇农	4.82%	2.41%

- A. 阶级结构发生根本改变
B. 自耕农经济得到一定发展
C. 土地革命取得显著成效
D. 封建剥削制度被彻底废除
31. 2004年,在博鳌亚洲论坛上,中国强调将坚持和平发展道路;2005年,中国政府发表《中国的和平发展道路》白皮书,阐明中国走和平发展道路的决心;2007年10月,“始终不渝走和平发展道路”被写入中共十七大报告。这表明21世纪初的中国
- A. 以和平方式应对世界各种挑战
B. 在外交领域推行多边外交
C. 坚持独立自主的和平外交方针
D. 积极发展与周边国家关系
32. 在古希腊的司法审判中,法律从来都不是至高的唯一的裁判依据。由民众组成的陪审团可以废止某一项或全部立法,其中包括由立法委员会正式制定的法律,这一情形被称为“司法至上主义”。这说明古希腊
- A. 司法权为最高权力
B. 直接民主导致危机
C. 多数暴政严重泛滥
D. 具有人民主权特征

【※高三文科综合 第7页(共14页)※】

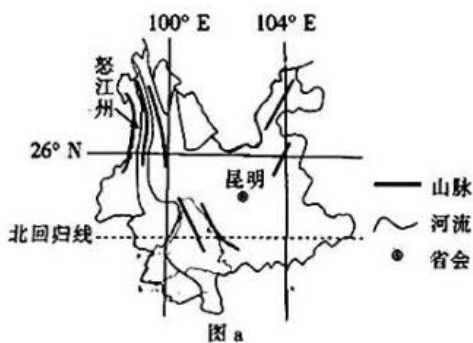
33. 14 世纪末,欧洲艺术家的兴趣与所关心的事情已经开始转向如何展现自然,不再拘泥于宗教故事。16 世纪初的达·芬奇说,任何画家都是“一切看得见的自然景物的临摹者”,一幅画越能够接近被“模仿的事物”就越完美。这种艺术风格的形成缘于
- A. 宗教改革运动的开展
B. 人文主义思想的发展
C. 现实主义画派的产生
D. 近代自然科学的兴起
34. 俄语“苏维埃”的本意为会议和代表会议。列宁在阐释十月革命胜利的原因时说:“假如革命阶级的人民没有建立起苏维埃,那么无产阶级革命在俄国就是没有希望的事情。”在此,列宁强调十月革命胜利的重要前提是
- A. 无产阶级适时进行革命
B. 苏维埃在全国的巩固
C. 人民群众的强有力支持
D. 沙皇政府失去了民心
35. 1964 年,77 个发展中国家要求发达国家给予更优惠的关税待遇。经多次磋商,1968 年 3 月,联合国第二届贸易和发展会议通过了《对发展中国家出口至发达国家的制成品及半制成品予以优惠进口或免税进口》的决议,并成立优惠问题非凡委员会。这反映出当时
- A. 经济全球化进程呈现出加快的趋势
B. 发展中国家利用优势互补实现振兴
C. 联合国积极协调各国宏观经济政策
D. 世界贸易体系走向规范化和法制化

第 II 卷 (非选择题 共 160 分)

本卷包括必考题和选考题两部分。第 36 题~第 42 题为必考题,每个试题考生都必须作答。第 43 题~第 47 题为选考题,考生根据要求作答。

36. 阅读图文材料,完成下列要求。(24 分)

苹果是多年生茎丛生草本植物,药食两用,栽种后 3 年挂果,6~7 年进入盛果期,其生长过程要求荫蔽的自然环境,对气温、降水要求较高。云南怒江州苹果种植始于 1995 年,主要种植在海拔适中的山坡,目前栽培面积已达 7.2 万公顷,鲜果年产量近 3 万吨,产值达 5 亿元。苹果采摘后需要烘干,怒江当地农户多使用柴火烘烤,部分合作社建成了电烘烤加工厂,可以进行无公害烘烤。2016 年,当地成立苹果种植合作社,联系科研单位、种植户、经销商,构筑苹果全产业链。怒江苹果种植户对农业保险依赖程度较高,且农业保险由种植户“保生产”向“保全产业链”转型升级。图 a 示意怒江州的位置和地形,图 b 示意怒江州苹果产业链。



【※高三文科综合 第 8 页(共 14 页)※】

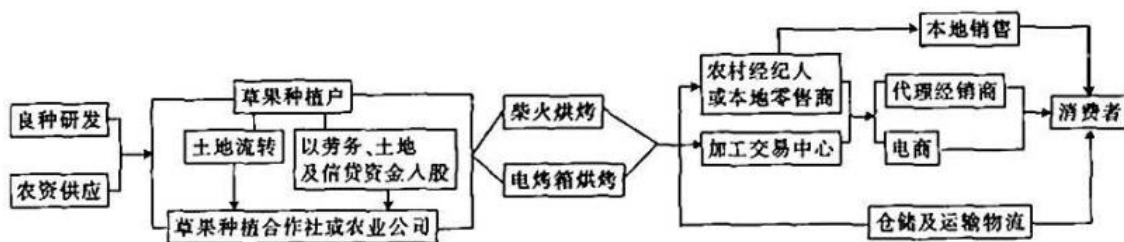
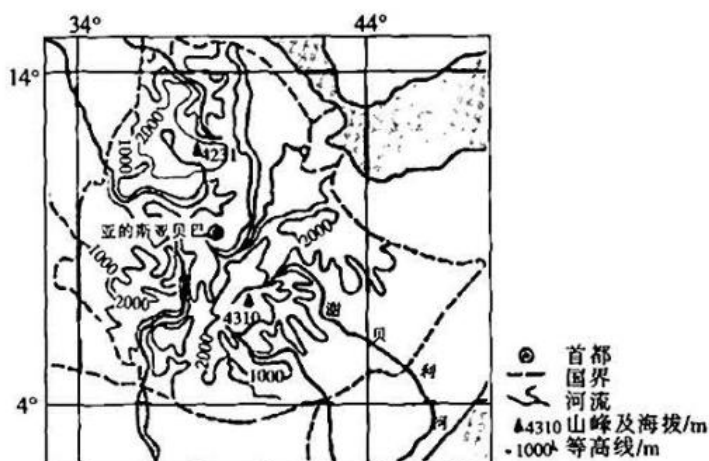


图 b

- (1)分析怒江州满足草果生长所需的荫蔽条件。(6分)
- (2)简述当地农户使用柴火烘烤草果的弊端。(6分)
- (3)说明怒江州草果产业对农业保险依赖程度较高的原因。(6分)
- (4)针对怒江州草果全产业链,试设计具体的保险项目。(6分)

37. 阅读图文材料,完成下列要求。(22分)

始新世时期,在岩浆活动的影响下,埃塞俄比亚形成中间高、四周低的穹隆状高原。中新世时期,地壳张裂加速东非大裂谷的形成,裂谷两侧边缘地带抬升,对埃塞俄比亚高原的水系形态产生重要影响,但裂谷以东和裂谷以西河流的水文特征相似。谢贝利河为埃塞俄比亚高原在裂谷东侧最长的河流,全长约 1820 km,下游有较大的河段几乎与海岸平行。下图示意埃塞俄比亚高原水系和谢贝利河水系。



- (1)简述裂谷对埃塞俄比亚高原水系的影响。(6分)
- (2)分析裂谷东西两侧河流共同的水文特征。(10分)
- (3)谢贝利河下游有较长的河段几乎与海岸平行,从外力作用的角度对此做出合理解释。(6分)

38. 阅读材料,完成下列要求。(14分)

内贸和外贸是连接生产与消费、对接国内与国际两个市场的重要环节。改革开放以来,特别是党的十八大以来,我国内外贸市场对接活跃,成长起一批既从事外贸又从事内贸的企业,内外贸一体化取得长足发展。但长期以来,内贸和外贸是在国内外两个标准体系下进行的经济活动,企业产品在技术、质量、标准上存在差异。当前我国仍然存在调控体系不够完善,内外贸融合发展不够顺畅等问题。2022年1月,国务院办公厅就促进内外贸一体化作

【※高三文科综合 第9页(共14页)※】

出部署,多地在探索内外贸一体化发展中迈出实质性步伐。比如,福建印发《关于促进内外贸一体化发展的实施意见》,提出4个方面共17条意见措施,包括加强内外规则对接、促进标准认证衔接、大力推进同线同标同质等;浙江印发《关于加快推进内外贸一体化发展的若干意见》,提出力争用3年左右时间,培育形成100家内外贸一体化改革试点产业基地、1000家内外贸一体化“领跑者”企业,新增1万亿元销售规模。2023年1月,商务部等14部门研究确定,在北京市、上海市、福建省(含厦门市)等9地开展内外贸一体化试点,试点地区包含了从内陆中西部到沿海经济发达地区的不同省区市。

推进内外贸一体化是实现更高水平开放和更高质量发展的要求。结合材料,运用经济生活知识对此加以说明。

39. 阅读材料,完成下列要求。(12分)

“正面清单”是生态环境执法领域近年来出现的一个热词。对违法者“利剑高悬”,对守法者“无事不扰”,可谓正面清单制度的重要内涵。2020年3月,生态环境部探索实施生态环境监督执法正面清单制度,对排污单位实施差异化监管,既严格监管又帮扶指导,助力企业复工复产。如M市生态环境部门动态管理正面清单,以非现场方式为主开展执法检查。执法人员主要是利用大数据平台、在线监控等方式,首先开展非现场检查,如果通过非现场检查发现了一些违法线索,再进行现场执法;如果非现场执法表明企业环境管理比较好,就不再开展现场执法。

据统计,截至2022年6月底,全国共将4.2万余家企业纳入正面清单。2022年上半年,各级生态环境部门对正面清单企业开展非现场检查25.8万余次,进行现场检查3.6万余次,指导帮扶3.1万余次。其中,第二季度现场检查次数较第一季度减少2764次,下降14.36%。

结合材料,运用政治生活知识,说明生态环境部实施生态环境监督执法正面清单制度的合理性。

40. 阅读材料,完成下列要求。(26分)

纵横十余省,长驱二万五千里,同敌人进行了600余次战役战斗,跨越近百条江河,攀越40余座高山险峰……1934年10月至1936年10月,我们党领导红军,以非凡的智慧和大大无畏的英雄气概,战胜千难万险,付出巨大牺牲,胜利完成震撼世界、彪炳史册的长征。这一惊天动地的革命壮举所铸就的伟大长征精神,是中国共产党人及其领导的人民军队革命风范的生动反映,是中华民族自强不息的民族品格的集中展示,是以爱国主义为核心的民族精神的最高体现。

2022年9月,由宁夏演艺集团歌舞剧院创作的《花儿与号手》获得舞台艺术政府最高奖——文华大奖。这是该剧院以民族音乐剧的形式讲述长征故事,展现长征路上红军战士理想信念,传递民族情感,彰显中国气韵的一次尝试。音乐剧诞生于19世纪的欧洲,作为舶来品,其“水土不服”的问题长期困扰着中国音乐剧创作者。为了解决这一问题,《花儿与号

【※高三文科综合 第10页(共14页)※】

的。(10分)

(2)结合材料,运用价值观的知识,说明歌舞剧《花儿与号手》彰显长征精神的时代价值。

(12分)

(3)我国文化和旅游部发布的《“十四五”艺术创作规划》中要求“推进新时代艺术精品创作”。

联系材料,请你从政府角度提出两点合理建议。(4分)

41. 阅读材料,完成下列要求。(25分)

材料一

19世纪,随着火车头和汽轮的发明,英国很快就把交通建设重点转移到建立铁路网和近代化海洋运输网上,英国利用自己最先进的科学技术建立起全球性的近代化交通运输体系。在19世纪70年代前,英国主要是构筑国内铁路网,之后便把构筑殖民地铁路网作为重点。19世纪二十年代,英国建造了世界历史上第一条铁路,接着掀起了修筑铁路的热潮,19世纪30年代后,又转移到建筑铁路干线上来。1825年,英国汽轮“企业号”航行到印度,从此汽轮逐步被广泛采用。到19世纪四五十年代,英国出现了建立近代化海洋运输网的热潮。1840年起,英国建立了一系列专业化的巨型航运公司,当时与主干航线联结的还有无数条支航线,组成了像蜘蛛网一样的全球海洋运输网。

——摘编自张天《论英国近代化全球交通运输网的建立及其对世界的影响》

材料二

鸦片战争后,中国沿海、沿江城市中人们的出行活动增多,通商城市的近代交通工具率先发展起来。起初是原有的轿子和独轮小车等代步工具数量大增,之后,人力车、汽车等新



交通发展新思路不断深化	与建设服务型政府的要求有差距	交通先导性作用进一步突出	交通消费方式发生重大变化
-------------	----------------	--------------	--------------

——摘编自周伟《发展现代交通运输业——中国交通发展的战略选择与转型》

- (1) 根据材料一并结合所学知识,指出 19 世纪英国近代交通发展的特点。(6 分)
- (2) 根据材料一、二并结合所学知识,简析 19 世纪中英近代交通发展的不同及两国交通发展对社会变迁的共同作用。(14 分)
- (3) 根据材料并结合所学知识,谈谈你对现代中国交通业发展的看法。(5 分)

42. 阅读材料,完成下列要求。(12 分)

材料

时期	人物或学派	治国思想
西周	周公	天命不常、敬从天命、怀保小民、明德慎罚
秦朝	秦始皇	尊君重法、尚武恃刑、以法为教、以吏为师
汉初	黄老之学	无为而治、德刑相济、罚不患薄、约法省刑
西汉中期	汉武帝	德刑兼用、尊贤任能
唐代	唐太宗	以民为本、以法为治、重贤尚能
宋代	理学	父子君臣,天下之定理;择任贤俊;君道以立志为本;以仁义为先,不以功利为急
	功利学派	本于财用,义利统一、注重事功、以利与人
明末清初	顾炎武	人君子于天下,不能以独治也;以天下之权,寄天下之人
	唐甄	学即其政,政即其学;秦以来帝王皆贼也;贤君治国

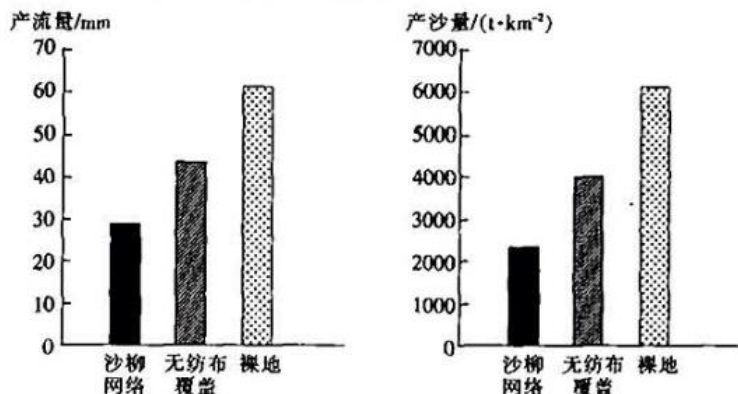


石之突兀,云雾之缠绕,风光之掩映,组成了梅岭“翠、幽、俊、奇”的特色。主峰夏季平均气温 22.6°C ,比市区低 $8\sim 10^{\circ}\text{C}$,这对我国“四大火炉”之一的南昌来说,是一座难得的“凉岛”,故有“小庐山”之雅称。1993年,梅岭被列为国家森林公园;2004年2月,梅岭与滕王阁一起被国务院批准列入第五批国家4A级风景区。梅岭是佛、道两教的圣地之一,寺庙观坛曾多达136处。

分析梅岭风景区发展旅游业的有利条件。

44. [地理——选修6:环境保护](10分)

为探究不同生态修复模式对某露天矿区排土场边坡产流产沙规律的影响,某研究团队对矿区排土场边坡三种不同生态修复模式的产流产沙量进行了一个雨季的连续观测,得出的结果如下图所示。沙柳网络模式是通过纵横交错种植沙柳,将坡面分割成众多小空间。该地无纺布覆盖模式所使用的无纺布易降解。



说明不同生态修复模式保持水土能力差异的原因。

45. [历史——选修1:历史上重大改革回眸](15分)

材料

清朝末年出现了历史上罕见的币制混乱问题,严重妨碍了人们的日常生活和社会经济的发展。1900年,两广总督李鸿章为解决制钱制度“铸本不敷银价”而产生的“钱荒”问题,仿照“香港铜仙”自行开铸铜元,此后福建也开始仿铸。1902年,清政府谕令“沿江沿海各督抚筹款仿办”,各省积极响应。1905年,清政府成立户部造币总厂,在整顿货币、统一币制的过程中,从铜元问题入手,与各省展开了利权的集中斗争。但由于各地督抚势力过于强大,清廷无法从根本上扭转多年以来形成的“里轻外重”的局面,再加上各地仿铸成风,不顾流通中的实际需要,开铸之初的“铜元热”逐渐演变成“铜元灾”,从1908年开始,清政府下令“京、外各厂”一律“暂行停铸铜元数月”。此后,清政府提出的银本位制的币制改革方案也因各省的反复纠缠和财政困难而未能实施。

——摘编自李帝《清末新政财政改革述论》

(1)根据材料并结合所学知识,概括清末币制改革的背景。(8分)

(2)根据材料并结合所学知识,分析清末币制改革失败的后果。(7分)

【※高三文科综合 第13页(共14页)※】

46. [历史——选修 3:20 世纪的战争与和平](15 分)

材料

自 19 世纪初以来,英俄两国就因殖民地问题而矛盾尖锐,进行了接近一个世纪的“大博弈”。1905 年,俄国在日俄战争中战败,同时国内也爆发革命。俄国在远东的扩张受挫,遂将主要扩张方向转向巴尔干和中东地区,但早已力不从心。此时,德国在奥斯曼和波斯积极扩张势力,这引起了俄国的警惕。与此同时,德国不断扩充海军的行为也激怒了英国,迫使英国在签订《英法协定》后继续寻找新的盟友。1906 年,波斯爆发了立宪革命,反英反俄情绪高涨。英俄两国为保住既得利益,加快了谈判步伐。1907 年,两国签订《英俄协定》,在未经当事国同意的情况下,划分了两国在中亚、波斯和中国的势力范围。《英俄协定》的签订使两国在殖民地问题上由争夺变为合作,波斯和中国受到英俄的共同宰割。英俄协定加上之前的法俄协定、英法协定,使协约国军事集团最终形成,欧洲离战争更近了一步。

——摘编自赵悠然《1907 年〈英俄协定〉与英俄两国在波斯的争夺》

(1)根据材料并结合所学知识,指出《英俄协定》签订的背景。(6 分)

(2)根据材料并结合所学知识,分析《英俄协定》签订的影响。(9 分)

47. [历史——选修 4:中外历史人物评说](15 分)

材料

1941 年 1 月 11 日,周恩来得知皖南新四军在北移途中遭受国民党军队袭击。17 日,国民政府军委会发布撤销新四军番号的通令,周恩来向国民党谈判代表张冲提出抗议,并打电话给国民政府军委会参谋长何应钦,怒斥“你们做了日寇想做而做不到的事”,还连夜为《新华日报》写了“为江南死国者致哀”和“千古奇冤,江南一叶;同室操戈,相煎何急”的题词。此外,周恩来还巧妙地拜会美、英、苏大使和特使,说明皖南事变的真相,设法通过斯诺、斯特朗等人将皖南事变的真相通过美国媒体告知世界。在各民主党派和人民团体、海外华人和社团的抗议声中,在国际压力之下,蒋介石不得不于 1941 年 3 月 6 日在国民参政会上表示:“今后将绝无剿共的军事行为发生。”随后,蒋介石两次约见周恩来,表示希望缓和两党关系。

——摘编自李传玺《周恩来与皖南事变真相对外披露》

(1)根据材料并结合所学知识,概括周恩来针对皖南事变斗争策略。(6 分)

(2)根据材料并结合所学知识,简析周恩来针对皖南事变斗争策略的意义。(9 分)

关于我们

自主选拔在线是致力于提供新高考生涯规划、强基计划、综合评价、三位一体、学科竞赛等政策资讯的升学服务平台。总部坐落于北京，旗下拥有网站（[网址: www.zizzs.com](http://www.zizzs.com)）和微信公众平台等媒体矩阵，用户群体涵盖全国 90% 以上的重点中学师生及家长，在全国新高考、自主选拔领域首屈一指。

如需第一时间获取相关资讯及备考指南，请关注**自主选拔在线**官方微信号：**zizzsw**。



 微信搜一搜

 自主选拔在线

