

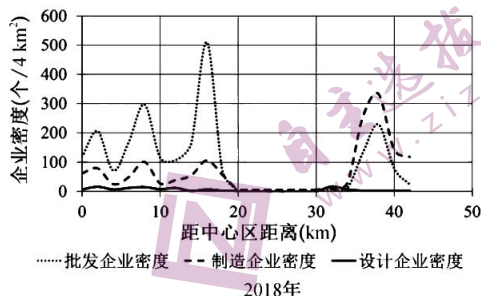
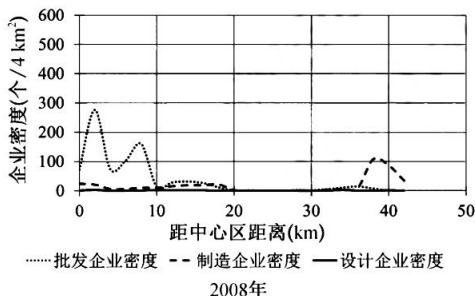
## 高三文科综合

### 考生注意：

1. 本试卷分选择题和非选择题两部分。满分 300 分，考试时间 150 分钟。
2. 答题前，考生务必用直径 0.5 毫米黑色墨水签字笔将密封线内项目填写清楚。
3. 考生作答时，请将答案答在答题卡上。选择题每小题选出答案后，用 2B 铅笔把答题卡上对应题目的答案标号涂黑；非选择题请用直径 0.5 毫米黑色墨水签字笔在答题卡上各题的答题区域内作答，**超出答题区域书写的答案无效，在试题卷、草稿纸上作答无效。**
4. 本卷命题范围：地理：必修第一册、必修第二册、选择性必修 1；政治：统编版必修 1、2、3、4；历史：人教版《中外历史纲要》上册、《中外历史纲要》下册第一至七单元。

一、选择题：本大题共 35 小题，每小题 4 分，共 140 分。在每小题给出的四个选项中，只有一项是符合题目要求的。

广州服装产业历史悠久，改革开放至 90 年代，企业集设计、生产等职能为一体，主要在城市中心边缘区高度集聚。20 世纪 90 年代后期至今，服装生产转向小批量、灵活化，不同企业专注于服装生产链条上的单一或几道工序，服装产业空间格局随之演变。下图示意 2008 年、2018 年广州服装企业密度空间分布变化。据此完成 1~3 题。更多试题与答案，关注微信公众号：三晋高中指南

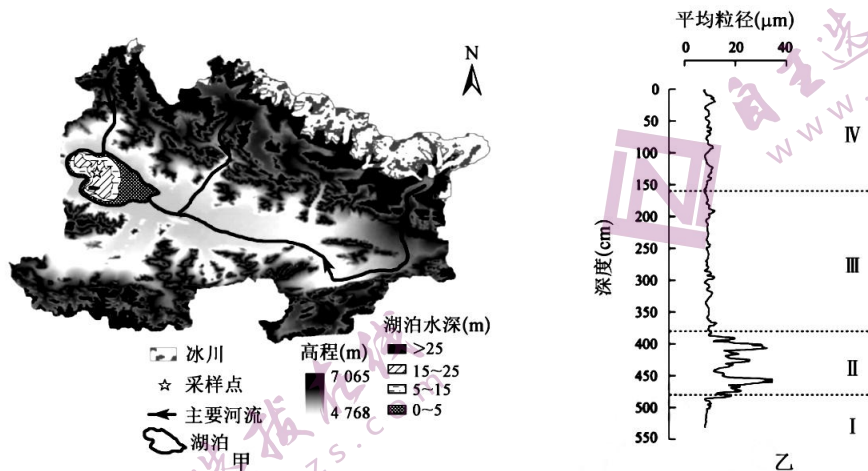


1. 图中显示，2018 年广州服装企业较 2008 年的显著变化是
  - A. 距中心区同距离处制造企业密度均增加
  - B. 设计企业密度变化最大
  - C. 距中心区同距离处制造企业密度均最小
  - D. 批发企业密度变化最小
2. 与 2008 年相比，2018 年广州服装批发企业在郊区的密度普遍增大，其主要原因是
  - ①中心区地价上涨
  - ②中心区消费市场萎缩
  - ③郊区劳动力更丰富
  - ④郊区基础设施逐渐完善
  - A. ①②
  - B. ①④
  - C. ②③
  - D. ③④
3. 2018 年广州服装制造企业与批发企业密度高峰在空间分布上大致吻合，表明
  - A. 企业间交流少
  - B. 城郊间差异加大
  - C. 产品流动加快
  - D. 城镇化水平下降

【高三 12 月质量检测·文综 第 1 页(共 12 页)】



阿克赛钦湖位于青藏高原西北部阿克赛钦流域西侧,湖面海拔约为 4 848 m,湖泊总面积约为 165.8 km<sup>2</sup>,是一个封闭型高原湖泊,如图甲所示。阿克赛钦湖沉积物有机质含量较低,图乙示意图甲中采样点沉积物平均粒径随深度的波动变化。据此完成 9~11 题。



9. 阿克赛钦湖湖区

- A. 以地下水补给为主  
B. 湖面终年风平浪静  
C. 深受海洋水汽影响  
D. 周边广布高寒荒漠

10. 阿克赛钦湖沉积物有机质含量较低,主要是因为

- A. 盐度较高,水生生物无法生存  
B. 植被丰富,涵养水源能力强  
C. 气温较低,水生生物产量较小  
D. 气候变暖,微生物活动旺盛

11. 据图乙中沉积物平均粒径判断,与 I 阶段相比,II 阶段的阿克赛钦湖

- ①面积扩张 ②面积收缩 ③湖水变深 ④湖水变浅  
A. ①③  
B. ②③  
C. ①④  
D. ②④

12. 习近平同志在二十大报告中指出,在新中国成立特别是改革开放以来长期探索和实践基础上,经过十八大以来在理论和实践上的创新突破,我们党成功推进和拓展了中国式现代化。新时代这十年,我国经济总量突破 110 万亿元大关,书写了经济快速发展和社会长期稳定两大奇迹新篇章。可见

- ①中国式现代化之路走得对、走得通、走得更好 ②中国式现代化具有中国特色仅适合中国国情 ③中国式现代化是中国人民探索中形成的智慧 ④中国式现代化道路是前进性和曲折性的统一  
A. ①③  
B. ①④  
C. ②③  
D. ②④

13. 中国梦让全体人民共同享有出彩的机会、梦想成真的机会、同祖国和时代一起成长的机会。但中国梦不是也不满足于“独善其身”,而是要在“兼济天下”中发展自己,通过发展自己更好地兼济天下、造福世界。中国持续快速发展得益于世界繁荣与发展,中国发展也为世界各国提供了共同发展的宝贵机遇和广阔空间。材料告诉我们


- ①中国梦的本质要求是坚持以人民为中心 ②造福世界人民是中国梦的首要价值目标 ③中国梦的实现需要国际视野与天下情怀 ④中国梦的内涵随着时代发展而日渐丰富  
A. ①②  
B. ①③  
C. ②④  
D. ③④

14. 2022 年 7 月 11 日,银保监会发布的《关于进一步推动金融服务制造业高质量发展的通知》明确,银行机构要扩大制造业中长期贷款、信用贷款规模,重点支持高技术制造业、战略性新兴产业,推进先进制造业集群发展。落实这一要求

- ①彰显了财政政策是稳经济的支撑力量 ②可以提高制造业企业自主创新的能力 ③旨在扩大制造业规模以形成规模效应 ④有利于筑牢我国实体经济的发展根基  
A. ①③  
B. ①④  
C. ②③  
D. ②④

【高三 12 月质量检测·文综 第 3 页(共 12 页)】



15. 2022年8月18日,国务院总理李克强主持召开国务院常务会议。会议指出,受疫情、灾情等影响,困难群众增多。各地各有关部门要强化困难群众基本生活保障,2022年上半年全国财政累计支出低保等资金1200多亿元,同比增加7%。要全面落实低保扩围、加大遇困群众救助力度、阶段性调整价格补贴联动机制,兜牢民生底线。这反映了
- ①政府通过再分配调节手段以促进社会公平 ②第三次分配有利于实现全体人民共同富裕 ③我国在发展中坚持了人民至上的价值取向 ④财政收入增势良好,为财政支出提供保障
- A. ①② B. ①③ C. ②④ D. ③④
16. 党要始终赢得人民拥护、巩固长期执政地位,必须时刻保持解决大党独有难题的清醒和坚定,必须牢记,全面从严治党永远在路上,党的自我革命永远在路上,必须持之以恒推进全面从严治党,深入推进新时代党的建设新的伟大工程,以党的自我革命引领社会革命。这对推进新时代党建的启示是
- ①完善党的自我革命的法律制度体系 ②以党的思想建设为党的根本性建设 ③将党的自身利益与人民利益相结合 ④坚持用从宽的基调来强化正风肃纪
- A. ①③ B. ①④ C. ②③ D. ②④
17. 据统计,截至2022年4月底,全国人大常委会法工委22个立法联系点先后就134部法律草案、年度立法工作计划等征求基层群众意见建议11850余条,这些意见建议都得到国家立法机关的尊重和认真研究,其中2400多条被不同程度采纳吸收,出台的每一部法律都装满了民意。可见,我国
- ①立法是保障人民当家作主的重要途径 ②在立法实践中彰显了全过程人民民主 ③全体人民是开展立法工作的重要主体 ④设立立法联系点旨在推动立法权下沉
- A. ①② B. ①④ C. ②③ D. ③④
18. 2022年7月,习近平总书记在新疆考察时指出,社区很重要,上面千条线,底下一根针,很多工作都要靠社区去完成。我们要把工作下沉到基层,一定要接地气,了解老百姓的所思所想所盼,根据大家的需求来做我们的工作。据此,需要
- ①社区树立正确的政绩观,全心全意为社区服务 ②深化行政管理体制改革,推进社区工作行政化  
③拓宽社区民意表达途径,提高民主议事参与度 ④发展社会主义协商民主,及时化解群众性矛盾
- A. ①② B. ①④ C. ②③ D. ③④
19. 联合国政府间气候变化专门委员会(IPCC)评估报告指出,全球变暖导致一些地区暴雨、洪涝、沙尘暴等极端天气频繁发生,而且强度增大。人类活动似乎已经改变了历史的计量单位,过去原本是自然界漫长的演化历程,如今似乎在一代人的时间内,就产生了肉眼可见的改变。这启示我们
- ①要科学发挥主观能动性,否则行为将适得其反 ②应知晓客观规律会随实践活动变化而发生转移  
③客观规律不可违背,必须尊重自然、顺应自然 ④世界变化已加速推进,要掌握活在当下的智慧
- A. ①② B. ①③ C. ②④ D. ③④
20. 右边漫画给我们的启示是
- ①人生总是在曲折中前进、在挫折中成长  
②人的命天注定,不要违背规律逆天改命  
③要脚踏实地,不尚空谈,重视量的积累  
④要做到一切以时间、地点和条件为转移
- A. ①③ B. ①④  
C. ②③ D. ②④
- 
- 人生如乘方舟,不但需要乘风破浪,更需要及时修正方向。
21. 近年来,明星广告代言“翻车”事件频发,严重破坏市场秩序、污染社会风气,亟待切实整治。2022年10月31日,市场监管总局、国家电影局等七部门联合发布《关于进一步规范明星广告代言活动的指导意见》(以下简称《意见》),对明星代言做出明确规范,为维护好明星代言领域清朗空间提供新的制度支撑。可见,《意见》的出台
- ①是社会意识与社会存在同步发展的体现 ②是应对明星广告代言市场现状的客观需要 ③符合社会需求,坚持了从正确的价值观出发 ④旨在发挥正确意识对社会存在的推动作用
- A. ①② B. ①③ C. ②④ D. ③④

【高三12月质量检测·文综 第4页(共12页)】

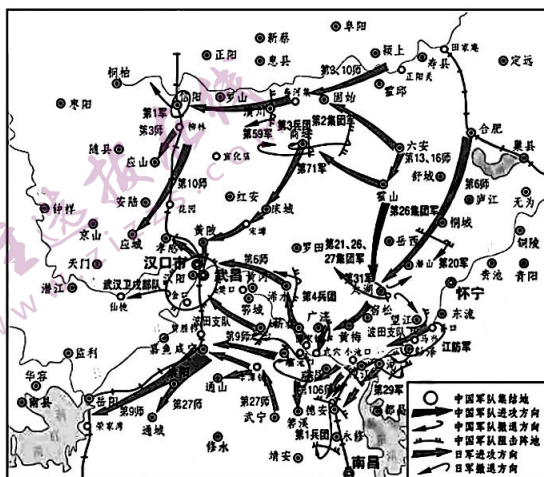


22. 十年间,我国义务教育在全面普及的基础上实现了县域基本均衡发展。党的二十大代表张桂梅向记者讲述了她的新梦想:“原来我们是让孩子们能读得到书、人人有书读,这次我看到了更高远的目标:让孩子们读好书”;“我们希望城里高质量的老师、好的大学毕业生能够走进乡村,用教育来振兴乡村。”下列对材料的摘取对应文化原理正确的是
- ①义务教育均衡发展——文化发展具有共性 ②书本——是文化载体,记录、传承了文化 ③读好书——优秀文化总是能回答时代问题 ④用教育振兴乡村——文化反作用经济社会
- A. ①② B. ①③ C. ②④ D. ③④
23. 回顾历史,现实题材电视剧创作伴随我国改革开放的进程和电视艺术发展而不断成长成熟,以鲜活的荧屏形象、生动的视听语言以及连续性长篇叙事能力,成为普通人日常生活和心灵情感的光影见证,折射着当代中国的历史性变革和社会发展。这对文化创作的启示是
- ①立足时代之基,回答时代问题 ②坚持不忘本来,吸收外来文化 ③贴近人民实际,讴歌人民生活 ④融通古今资源,实现综合创新
- A. ①③ B. ①④ C. ②③ D. ②④
24. 先秦诸子思想各有“奇谋”,如道家“谋道”,儒家“谋(圣)心”,墨家“谋利”,法家“谋势”“谋霸”,兵家“谋胜”。先秦诸子的“奇谋”旨在
- A. 推动社会政治变革 B. 达到复古的政治目标  
C. 努力完善个人品质 D. 重塑一个有序的社会
25. 北魏太武帝太平真君七年(446年)四月戊子,于“郾城毁五层佛图,于泥像中得玉玺二,其文皆曰:‘受命于天,既寿永昌’,‘魏所受汉传国玺’。”另据考古发现,北魏迁都洛阳后其主要建筑的规模、位置和名称等与魏晋一致。这反映出当时
- A. 国家治理制度得到进一步完善 B. 思想文化呈现多元化特征  
C. 统治者注重强化政权的正统性 D. 实行民族平等与团结政策
26. 朱熹曾为“明世系”“建祠堂”“祭祖先”等制定了行为规范。他专从儿童教育方面宣扬儒家伦理纲常,讲述“爱亲、敬长、隆师、亲友之道”。徽州地区宗族的“族训”“族规”和“家典”的制定,基本上都是“推本《家礼》”,“元旦谒祖、团拜及春秋二祭,悉遵朱子《家礼》”的规定。这说明理学
- A. 具有经世致用的价值取向 B. 强调建立封建纲常伦理道德  
C. 已经成为正统的官方哲学 D. 倡导传统典籍中的复古思想
27. 明太祖废除宰相后,皇帝一人实难任天下之事,渐次形成的内阁、司礼监成为皇帝的左右手,然而皇帝往往更依赖后者,所谓“内阁之票拟不得不决于司礼之批红”,宦官势力突破了内廷,向中央和地方各级官僚系统渗透。由此可知,明朝的宦官专权
- A. 使君主专制制度受到冲击 B. 是中枢机构异变的结果  
C. 导致内阁失去了决策权力 D. 促使中央权力体制平衡
28. 下表为第一次鸦片战争前后中国部分进出口商品的关税变化情况。这一情况反映出

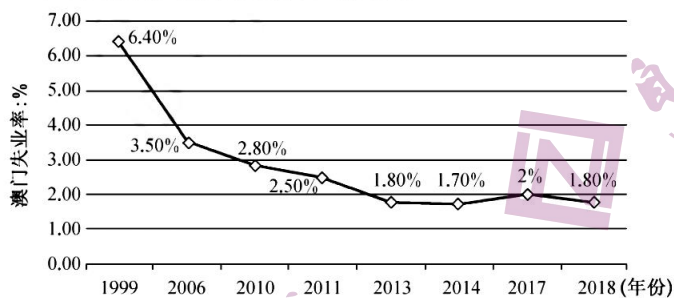
进出口	货物	旧税率	新税率	新税率较旧税率
		(%)	(%)	增(+)减(-)
进口	棉花	24.19	5.56	-18.63
	棉纱	13.38	5.56	-7.82
	二等白洋布	32.53	6.95	-25.58
	六种毛织品平均	45.93	6.95	-38.98
出口	各种茶叶平均	30.89	12.87	-18.02
	湖丝	9.43	3.97	-5.46
	丝织品	3.11	4.17	+1.06
	土布	7.37	2.74	-4.63

【高三12月质量检测·文综 第5页(共12页)】

- A. 民众生活质量得到一定提高  
B. 英国拥有条约体系中的绝对霸权  
C. 资本主义机器大工业的要求  
D. 近代中国民族工业获得初步发展
29. 有日本学者说：“明治维新中，明治政府不是萨摩藩和长州藩建立的政权，而是日本国民在一种危机意识下共同努力的结果。开设国会、地方议会，也是来自民间的要求，而不是伊藤博文等权力者自己的判断。在政论性报道中还允许出现批评政府、批评对外战争的言论。反观中国 19 世纪末的上谕变法的整套结构就是一个倒置的金字塔。”据此可知，该学者认为中国的上谕变法的缺陷在于
- A. 采取自上而下的方式  
B. 贪大求全且缺乏配套措施  
C. 缺乏充分的思想动员  
D. 没有得到广泛的社会支持
30. 为纪念近代中国某重大战役，有诗描述道：“短兵相接山林怒，烽火连天汉水噪。拖住敌人征南北，江城失守也分桃。”结合下图判断，该战役



- A. 打破了日本军队不可战胜的神话  
B. 取得了抗战以来最大胜利  
C. 揭开了解放战争战略反攻的序幕  
D. 标志着抗战进入相持阶段
31. 下面为 1999~2018 年中国澳门失业率走势图。据此可知



- A. 澳门的产业结构日益趋向合理  
B. “一国两制”是澳门发展的保障  
C. 内地加大对澳门经济支持力度  
D. 祖国统一符合全国人民的愿望
32. 伯里克利执政时期，雅典建立了城邦“公共服务体系”，让富裕的贵族承担部分公共事业的开支，分担社会义务，如参与养护“三层桨战船”、训练桨手、资助城邦宗教和文化活动等。这一做法
- A. 说明雅典注重社会福利建设  
B. 体现了理性和自由平等思想  
C. 利于平衡公民贫富悬殊问题  
D. 有效稳固了城邦民主的基础
33. 伏尔泰认为，“历史学的使命应该是认识历史自身的活动，对历史进行自身的审查，从概念出发建立认知事物发展的逻辑”。他还提出希腊罗马史学家给人留下的大抵只是“战争史”“远征记”之类的作品，而历史学真正的方向是“我们应当尊敬那些凭真理的力量统治人心的人，而不是靠暴力奴役的人”。这表明伏尔泰

【高三 12 月质量检测·文综 第 6 页(共 12 页)】

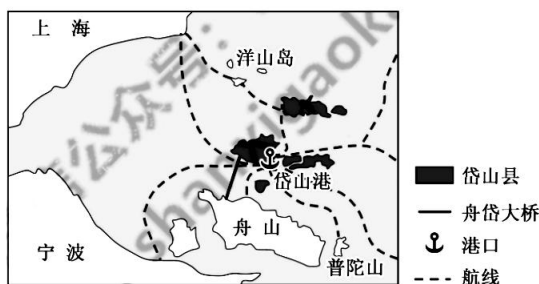


- A. 倡导理性精神  
C. 追求人民主权
- B. 宣扬思想自由  
D. 反对专制制度
34. 马克思在《1844年经济学哲学手稿》中指出：“科学，只有从自然科学出发，才是现实的科学。历史本身是自然史的，即自然界成为人这一过程的现实部分。自然科学往后将包括关于人的科学，正像人的科学包括自然科学一样，这将是一门统一的科学。”这段论述可用于说明
- A. 牛顿的时空观符合人类社会的普遍规律  
B. 伽利略是横跨多学科领域的科学大家  
C. 生物界与人类社会的运行原理基本一致  
D. 马克思主义和达尔文学说的实质相似
35. 1925年，英国提出保卫资本主义世界免遭苏联威胁论；1927年，英国向苏联递交断绝外交关系照会；1927年6月，苏联驻波兰大使被刺后，西方六国外长会议主张对苏进行“十字军讨伐”。对此，斯大林明确指示，通过出口更多的粮食换取外汇启动工业化，应对已经发生根本性变化的国际形势。这说明当时苏联
- A. 推行的新经济政策已不合时宜  
B. 面临首要任务是巩固新生政权  
C. 斯大林模式的建立具有必然性  
D. 经济发展受到国际环境的阻碍

二、非选择题：本大题包括9小题，共160分。

36. 阅读图文材料，完成下列要求。（20分）

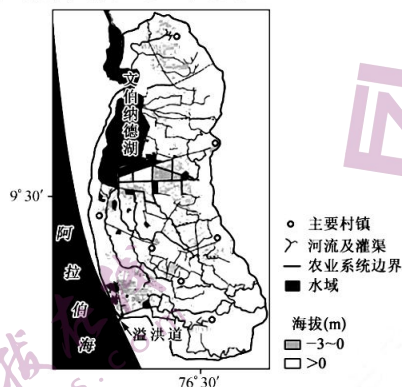
岱山县隶属舟山市，全共有大小海岛379个，其中16个岛屿有常住人口。岱山港是宁波—舟山港的重要组成部分，水深超过10m、15m、20m的可利用岸线分别为109km、79km、25km，是我国进口石油、铁矿等战略物资的重要基地，是建造国际一流港口尤其是水水中转港口和发展临港工业的理想选址。近年来，岱山县将石化产业作为县域经济发展的支柱产业，带动了经济的快速增长。2021年12月29日，舟岱大桥（舟山市境内连接定海区与岱山县的跨海通道）正式通车。下图示意岱山港位置及周边地区。



- (1) 说明岱山港建设水水中转港的区位优势。（4分）
- (2) 从生态环境角度，简析岱山县布局石化产业的有利条件。（6分）
- (3) 分析石化产业对岱山县当地经济发展带动强的原因。（6分）
- (4) 推测舟岱大桥建设面临的主要困难。（4分）

37. 阅读图文材料,完成下列要求。(18分)

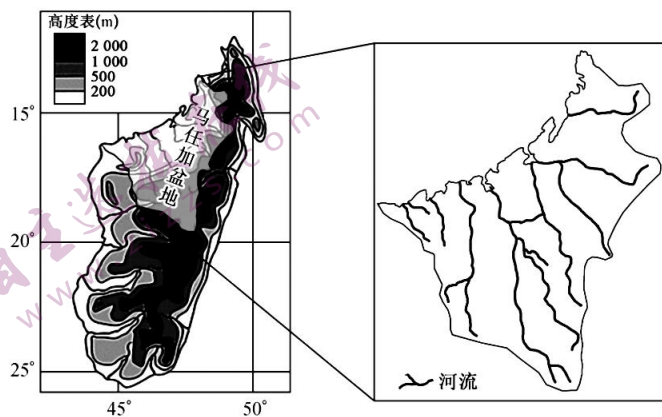
印度季风气候区的库塔纳德农耕系统由湿地、圩田和海水区等组成,是该国唯一一个低于海平面种植水稻的地区。1830年开始,当地人们修建防海大堤,将大片沼泽开垦为土地,经营各类农业生产活动。近年来,随着人口快速增长,圩田被大规模开垦,为人们提供了稳定的粮食,但同时当地出现了水资源短缺现象。下图示意库塔纳德农耕区地理位置。



- (1)说明库塔纳德农耕区种植水稻的优势自然条件。(6分)
- (2)推测库塔纳德农耕系统中圩田所起的作用。(6分)
- (3)分析库塔纳德农耕区出现水资源短缺的原因。(6分)

38. 阅读图文材料,完成下列要求。(18分)

马任加盆地西临莫桑比克海峡,东面隔中央山脉与东部热带雨林相邻,岩性以灰岩为主。马任加盆地灰岩在东部呈长条带状分布,形成了呈NE—SW向绵延近300 km的岩溶槽谷(又称岩溶谷地,其外侧为熔岩),成为马达加斯加西部水资源最丰富的区域,南部则呈面状分布为主,演化成面积达12 000 km<sup>2</sup>的岩溶台地。马任加盆地垂直方向岩溶发育深度较浅,岩溶形态呈现明显的均等溶蚀特征。下图示意马达加斯加岛地形及马任加盆地位置。



【高三12月质量检测·文综 第8页(共12页)】



- (1)指出马任加盆地南部岩溶台地的形成过程。(6分)  
(2)马任加盆地东部岩溶槽谷成为马达加斯加西部水资源最丰富的区域,对此做出合理解释。(6分)  
(3)推测马任加盆地垂直方向岩溶发育深度较浅的主要原因。(6分)

39. 阅读材料,完成下列要求。(14分)

随着60后正式进入“60+时代”,因其有钱、有闲、有体力而被誉为“新老人”。“新老人”与“传统老人”呈现出不一样的状态和心态,他们对退休生活有想法、有规划、有创意,对更高质量养老有需求、有期待、有愿景。

“新老人”消费意愿强烈,消费底气充足、消费能力强劲,从基础的吃穿住用行,到进一步提升生活品质,如娱乐、保健、旅游、社交等,“新老人”新兴的消费需求开始迸发,对供给端提出了更高要求。旅居养老、抱团养老、智慧养老、田园养老、社区养老……处于活力老人阶段的60后,对高质量养老有了更多新想法,对新型养老模式有了更多新期待。相比于休闲娱乐、颐养天年,“新老人”仍愿意发挥余热,继续投身公共服务和社会建设。他们或进入就业市场再就业,为日后入住养老机构积蓄更多资本;或积极投身老年志愿组织,为基层治理贡献力量;或受兴趣爱好驱动,扬经验和专业之长,在企业、社会组织中兼职,被聘为顾问、理事等;或将技术、资金、人脉等资源带回故里,担当社会发展的重要推手。

结合材料,运用经济与社会知识,说明激发“新老人”潜能与需求对经济社会发展带来的积极影响。

40. 阅读材料,完成下列要求。(12分)

黄河是中华民族的母亲河,保护黄河是事关中华民族伟大复兴的千秋大计。

2020年10月,中共中央、国务院印发《黄河流域生态保护和高质量发展规划纲要》要求深入开展黄河立法工作;水利部、发展改革委牵头成立起草工作小组和专班,会同有关部门起草了《中华人民共和国黄河保护法(草案送审稿)》,征求有关部门、行业协会、研究机构等方面意见,召开专家论证会、立法座谈会,进行实地调研,反复研究修改,形成了《中华人民共和国黄河保护法(草案)》;2021年12月至2022年6月,《草案》先后两次提交全国人大常委会审议,并于会后在人大网全文公布,征求社会公众意见。2022年10月30日,十三届全国人大常委会第三十七次会议表决通过《中华人民共和国黄河保护法》。

黄河保护法立足建设造福人民的幸福河总体目标,以当前面临的现实问题为导向,立足黄河流域自然生态、经济社会的特点,创设了具有较强针对性和操作性的体制、制度和机制,为在法治轨道上推进黄河流域生态保护和高质量发展提供有力保障。

结合材料,运用政治与法治知识,说明黄河保护法在立法过程中是如何践行全面依法治国的原则的。

41. 阅读材料,完成下列要求。(26分)

《梦溪笔谈》是一本干货满满的科学读物。《梦溪笔谈》(少儿彩绘版)是接力出版社2022年力推的作品,也是入选“十四五”时期国家重点出版物出版专项规划书目之一。

《梦溪笔谈》全书共30卷,涉及天文、数学、物理、化学、医学、文学、历史等诸多领域,内容极为丰富。此书有将近一半篇幅记载了中国古代特别是北宋时期科学技术方面所取得的辉煌成就和民间的重大发明和创造,是我国历史上第一部科技百科全书。

《梦溪笔谈》的作者沈括在科学研究过程中有独特的科学精神,为后世自然科学界提供了丰厚的滋养。一是注重实践,强调实验。如在天文学方面,其对太阳的视运行轨迹、北极星位置等的研究,皆源于运用相关仪器进行的观测实验。在地理学方面,通过实地勘测绘制出地图、创制出地形模型。在医学方面,他从民间收集的许多药方,都要经过临床试验,“始著其篇”。二是追求真理,开拓创新。如沈括发现当时使用的《大衍历》已落后实际天象约半天,不利于农时的掌握和安排,主张改革旧历。面对保守派的重重阻挠,没有妥协,坚持制定了新的《奉元历》。

《梦溪笔谈》对后世影响巨大,是我国古典科技史上的杰出作品,也是世界科技史中的珍贵遗产,值得你在寻宋之路上一读。

【高三12月质量检测·文综 第10页(共12页)】



- (1)结合材料,运用“文化遗产与文化创新”的知识,谈谈阅读学习《梦溪笔谈》的必要性。(10分)
- (2)结合材料,运用“探索认识的奥秘”的知识,分析沈括在科学研究过程中的成功经验。(12分)
- (3)结合材料,运用中国特色社会主义知识,以“让科普助力中华民族伟大复兴的中国梦”为主题撰写一篇短评。(4分)更多试题与答案,关注微信公众号:三晋高中指南
- 要求:①围绕主题,观点明确;②论证充分,逻辑清晰;③学科术语使用规范;④总字数在100字左右。

42. 阅读材料,完成下列要求。(15分)

材料一

秦统一六国后,在郡内设置“监”这一官职。汉初,各地方不定期派遣御史去监察。经过汉初数十年的休养生息,至武帝时则“民则人给家足,都鄙廩虚皆满,而府库余货财。京师之钱累巨万”。汉武帝“罢黜百家,独尊儒术”,又颁布“推恩令”,还三次大规模地出击匈奴,使匈奴远遁漠北。正是在这个大背景下,“武帝元封五年,初置部刺史,掌奉诏条察州”。这样,充分调动了中央与地方两个方面的积极性,实现了监察权与行政权相分离,基本摆平了中央与地方的关系。因此完全意义上的纯监察制度是汉武帝时期的刺史六条察州制,故清顾炎武称“刺史六条为百代不易之良法”。

——摘编自史云贵《汉代刺史制度述论》

材料二

东汉建立之初,为迅速消灭割据,加强地方军政协调统一,以应战时需要,光武帝往往拜心腹重将为州牧(刺史),或委任原割据势力头目为州牧,以笼其心,祚其力。因战时经济政治的需要,光武帝还扩大了州牧对地方政务的参与权,并且自光武帝时,州牧在政务上也领导了郡守。不过,刘秀令州牧统兵、领郡县乃为迅速平定各地军阀割据混战之需要,其后,“遂罢州牧,复置刺史”,然光武及继承者在剥夺州牧军权的同时,又进一步扩大了其行政权力,乃至后来又不得不在一部分乱州重新委任刺史领兵作战。这一时期,刺史、州牧虽有反复,但无论是州牧,还是刺史,其主要职能乃是地方官之治州抚民。东汉末年的州牧、刺史“内亲民政,外领兵马”,势大权重,跨州连郡,割据混战。

——摘编自史云贵《汉代刺史制度述论》

- (1)根据材料一并结合所学知识,分析汉武帝实行刺史制度的背景。(6分)
- (2)根据材料一、二,归纳汉代刺史制度的变化,并结合所学知识分析这一变化的影响。(9分)

43. 阅读材料,完成下列要求。(12分)

材料

一万两千年之前,人类在广袤的地球上的网络联系非常松散。农业发明之后,形成一些比较紧密的区域性网络。大约6000年前,演变出以城市为中心的都市网络。距今2000年的时候,出现了最大的一个网络——旧大陆网络(包括欧亚大陆和北非),这里是文明最发达的中心地区。500多年前,海路大通,大大小小的各种网络结成一体,形成整体性的世界网络。世界各个角落的人们,命运开始被编织在一起。最近160年,世界性网络的联系方式发生根本性的变革,交往迅速电子化。

——摘编自麦克尼尔《人类之网》

从材料中提炼一个观点,并结合所学世界史的相关知识进行阐述。(要求:观点明确,史论结合,论述充分,表达清晰。)

44. 阅读材料,完成下列要求。(25分)

材料一

中国有数千年茶史。据主要输入茶叶的国家推算,我国茶叶外销量在16世纪还微不足道,17世纪约在21010担以上,18世纪增至8889241担以上。17世纪前茶叶外销重点市场在亚洲,17世纪后重点市场转到欧洲,19世纪则是英国独霸茶叶外销市场。清代前,主销江南茶,以绿茶为主,茶类从团饼茶发展到散茶。清代以后,外销茶产区包括苏、浙、赣、皖、粤、闽、滇、湘、鄂九省。18世纪20年代,英国茶价几次下调,18世纪初1磅茶要17先令半,50年代仅8先令。茶的消费量大增,茶叶真正走向普通百姓。

——摘编自陶德臣《简论中国古代茶叶对外贸易的特点》

材料二

17~18世纪,中国茶叶对外贸易空前繁荣,甚至一度独霸国际茶市,中国也成功凭借茶叶贸易解锁了闭关锁国背景下向全球化主动融入的经济格局。但是,自19世纪中叶起,中国茶业由垄断国际市场快速走向全面且无法逆转的衰落;到19世纪中期至20世纪上半叶,随着印度茶的崛起,中国茶叶又经历了由垄断竞争市场到寡头垄断市场,再到贸易急剧衰退的三个阶段,期间以茶叶为主要商品所形成的市场运行机制不仅是国际市场环境变化的映射,同时也深受国内茶叶生产链条运营的影响。

——摘编自付坚强《从世界市场视角看18世纪以来的中国茶业》

- (1)根据材料一并结合所学知识,分析17~18世纪中国茶叶贸易发展的原因,并分析其特点。(13分)
- (2)根据材料二并结合所学知识,概括近代以来中国茶叶贸易下降的因素,并分析其产生的影响。(12分)



## 关于我们

自主选拔在线是致力于提供新高考生涯规划、强基计划、综合评价、三位一体、学科竞赛等政策资讯的升学服务平台。总部坐落于北京，旗下拥有网站（[网址: www.zizzs.com](http://www.zizzs.com)）和微信公众平台等媒体矩阵，用户群体涵盖全国90%以上的重点中学师生及家长，在全国新高考、自主选拔领域首屈一指。

如需第一时间获取相关资讯及备考指南，请关注**自主选拔在线**官方微信号：**zizzsw**。



微信搜一搜

自主选拔在线