

文科综合

考查时间：150分钟 满分：300分

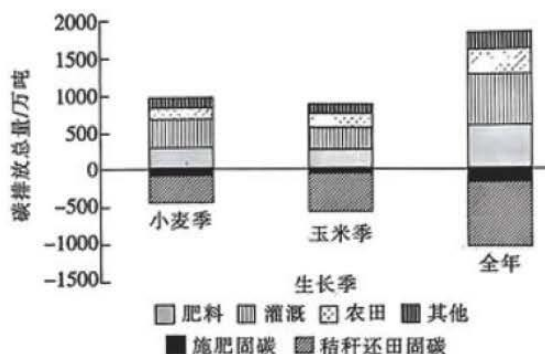
一、选择题：本题共 35 小题，每小题 4 分，共 140 分。在每题给出的四个选项中，只有一项是最符合题目要求的。

我国乌兰布和沙漠正在开展菌草种植、沙漠土壤化改造、葡萄产业等生态实践。某科研团队将自主研发的植物纤维黏合剂施加到沙子间，使沙漠表层的沙子“土壤化”。下图示意沙漠种植实验区。该团队的沙漠实地种植试验证实，“土壤化”的沙子非常适宜某些植物生长，并且具有很强的抗风蚀能力。据此完成 1~3 题。



- 有学者认为未改造的沙漠土不是土壤，主要依据是
 - 几乎不含水分
 - 矿物质含量少
 - 空气含量太小
 - 有机质含量少
- 经该团队改造的土壤具有较强的抗风蚀能力，主要原因是
 - 减少散状颗粒
 - 增加土壤水分
 - 减少土壤空气
 - 改变地表起伏
- 与普通土壤相比，种植试验区的植物根系异常发达，原因最可能是
 - 有机质含量高
 - 育种技术先进
 - 土层松散透气
 - 光照时间超长

农田生态系统在作物种植过程中既能引起碳排放，同时又能碳固定，而农田生态系统碳足迹是指碳排放量与碳固定量的差值。河北省是我国重要的小麦、玉米生产基地，在保障国家粮食安全的同时，大量农资投入也带来了温室效应和面源污染等环境问题。随着国家“碳中和”目标的提出，河北省粮食生产的碳减排面临着严峻挑战。图为河北省小麦、玉米轮作体系碳排放总量图。据此完成 4~5 题。



4. 河北省玉米季比小麦季灌溉碳排放量少的主要原因是

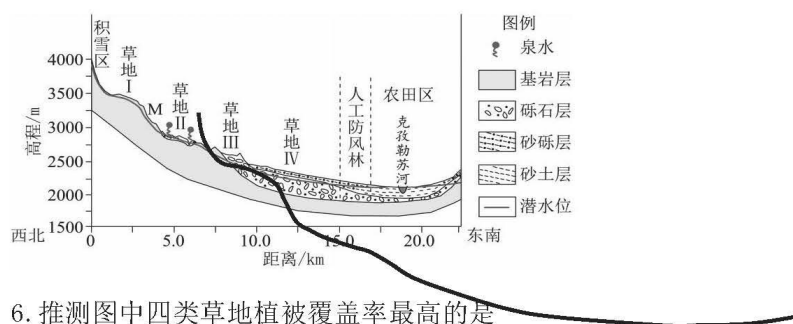
- A. 玉米播种面积减少，作物需水量减小 B. 玉米植株高大，土壤水分蒸发量小
C. 玉米生长季水热同期，灌溉频率较低 D. 玉米种植技术先进，节水效果显著

5. 为降低河北省粮食生产的碳减排压力，可采取的合理有效措施有

- ①培育耐旱作物品种，降低灌溉频率 ②培育绿肥，减少化肥使用量
③改变轮作熟制，提高农田固碳效应 ④实施农田长年休耕，降低农田利用强度

- A. ①② B. ②③ C. ①④ D. ③④

新疆乌恰——康苏地区位于西南天山群山环抱之中，气候干旱，年平均降水量 182mm，年平均蒸发量为 2600mm。下图示意新疆乌恰——康苏地区地形剖面与植被垂直分布图，图中四类草地植被覆盖率不同，据此完成 6~8 题。



6. 推测图中四类草地植被覆盖率最高的是

- A. 草地 I B. 草地 II C. 草地 III D. 草地 IV

7. 图中 M 附近出现荒漠区，其主要原因是

- A. 山地背风坡，降水量少 B. 坡度陡，地表水缺乏
C. 土层浅薄，土壤颗粒细 D. 气温高，蒸发旺盛

8. 下列四地盐渍化最严重的是

- A. 草地 III B. 草地 IV
C. 人工防风林 D. 农田区

密西西比河三角洲是由密西西比河注入墨西哥湾的泥沙沉积而成，其位置经过多次变迁。下图为密西西比河古三角洲叶瓣分布 (①-⑦按照时间顺序排列) 及目前海岸线位置示意图。据此完成 9~11 题。



9. 密西西比河发育多个三角洲叶瓣的原因是

- A. 河口地势低洼 B. 河流含沙量大 C. 河流频繁改道 D. 海域宽阔

10. 密西西比河每一个三角洲叶瓣的发育过程都经历了

- A. 河流作用为主到海洋作用为主两个过程 B. 海洋作用为主到河流作用为主两个过程
C. 始终以河流作用为主的过程 D. 始终以海洋作用为主的过程

11. 20 世纪 30 年代以后由于人为因素的影响密西西比河三角洲出现了加速萎缩的状况，下列最可能的原因是

- ①上游开垦荒地 ②上游修建水库 ③河流沿岸修建大堤 ④上游植被恢复
A. ①② B. ①③ C. ②③ D. ②④

12. 《共产党宣言》是马克思主义的纲领性文献，是共产党人的必修课。学习《共产党宣言》，就是要感悟马克思主义真理力量，坚定马克思主义信仰，提高全党运用马克思主义基本原理解决当代中国实际问题的能力和水平。由此可见

- ①《共产党宣言》奠定了科学社会主义的理论基石
②马克思主义与中国国情相结合实现了丰富和发展
③马克思主义具有穿越时空的真理力量和理论价值
④改变中国人民历史命运的马克思主义是实践的理论
A. ①② B. ①③ C. ②④ D. ③④

13. 改革开放以来，中国特色社会主义迎来了从创立、发展到完善的伟大飞跃，我国经济社会发展取得举世瞩目的成就，国家面貌发生了沧桑巨变。进入 21 世纪，我国经济总量跃居世界第二位，经济实力、科技实力、综合国力跃上了新台阶；人民生活实现了从总体小康到全面小康的历史性跨越；生态文明建设发生历史性、转折性、全局性变化；我国国际影响力显著提升，日益走近世界舞台中央。由此可见

- ①生产关系的变革推动着人类社会不断向前发展
②发展中国家要实现发展就要走中国特色社会主义道路
③科学社会主义在 21 世纪的中国焕发出强大的生机与活力

④只有坚持和发展中国特色社会主义才能实现中华民族伟大复兴

- A. ①② B. ①③ C. ②④ D. ③④

14. “荔枝之乡”柏桥村 87% 以上的土地种有荔枝，面积达 6800 亩。“抓学习”“促交流”“助销售”……柏桥龙眼荔枝专业合作社是荔农们信赖的“管家”。目前专业合作社有主要社员 59 人，带动农户 2000 多户，发展业态包括种植、加工、销售和服务。2022 年全村人均纯收入达 5.1 万元，村民在家门口就能赚到钱。由此可见

- ①发展特色产业是促进共同富裕的有效举措 ②新型农业经营主体是乡村振兴的中坚力量
③非公有制经济是发展现代农业的有效组织形式
④专业合作社是对农村基本经营制度的根本性变革

- A. ①② B. ①④ C. ②③ D. ③④

15. 新型举国体制是面向国家重大需求，通过政府力量和市场力量协同发力，凝聚和集成国家战略、科技力量、社会资源，共同攻克重大科技难题的组织模式和运行机制。下列关于新型举国体制说法正确的是

- ①突出行政手段在宏观调控中的核心作用 ②有利于凝聚国家意志，优化科技资源配置
③发挥好政府在关键核心技术攻关中的组织作用 ④通过加大政府财政赤字增加公共产品的供给

- A. ①② B. ①④ C. ②③ D. ③④

16. 党的十九大以来，以习近平同志为核心的党中央继续把脱贫攻坚摆在更加突出的位置，把精准扶贫、精准脱贫作为基本方针。坚决打赢脱贫攻坚战，使发展成果更多更公平惠及全体人民，这是我们党的庄严承诺。上述材料所体现的政治生活道理有

- ①发挥党的领导核心作用，彰显党治国理政的智慧和能力
②贯彻党的宗旨，密切党群关系，党和人民的利益是一致的
③中国共产党是一个没有特殊利益的政党，坚持立党为公、执政为民的执政理念
④党切实履行政治职能，实现人民民主权利、厚植党的群众基础

- A. ①② B. ②④ C. ①③ D. ③④

17. 2023 年 3 月 16 日，云南省宁远县纪委监委前移监督关口，整合监督合力，下沉监督力量，开展“清风护企”和“五清四促”行动，通过走访调研“清障”、问题线索“清仓”、执纪问责“清污”、提质增效“清梗”、容错纠错“清风”，护航营商环境持续优化升级“清风护企”和“五清四促”行动

- ①规范职能部门权力运行，护航经济社会发展 ②推进行政体制改革，提高市场监管效能
③强化党委引领作用，有效降低公共管理成本 ④助力构建新型政商关系，不断优化营商环境

- A. ①③ B. ①④ C. ②③ D. ②④

18. 随着网络主播、平台经济等的蓬勃发展，年轻人就业观念发生了明显的变化。相较于传统的长期就业模式，灵活就业的优势在于相对宽松的准入和退出机制，给求职者、企业提供了更多的尝试

空间和选择机会。这表明

- ①运动是事物固有的根本属性和存在方式 ②社会存在的变化决定了社会意识的变化
③生产关系的完善有效地促进生产力的发展 ④人民群众是推动社会历史发展的决定力量

A. ①② B. ①④ C. ②③ D. ③④

19. 艰难险阻全不怕，冲破万难上青天。2021年10月16日，神舟十三号载人飞船升空后成功进入预定轨道，顺利将3名航天员送入太空。从无人到有人、从短期飞行到中期驻留，神舟飞船不断实现载人航天技术的跨越，深化人们对宇宙太空的认识，推动中国航天事业不断迈上新台阶。这反映出

- ①经过实践检验的认识能够促进事物的发展 ②实践工具的改善，促进了人们认识的发展
③认识是一个包含曲折性的前进上升的过程 ④科技的发展使新认识否定、代替已有认识

A. ①② B. ①④ C. ②③ D. ③④

20. 中老铁路（连接中国云南省昆明市与老挝万象市）是“一带一路”倡议与老挝“变陆锁国为陆联国”战略的对接项目，截至2022年12月2日，开通一年来，累计运输货物1120万吨，发送旅客850万人次，跨境运输货值超130亿元人民币，为沿线地区发展按下了“加速键”，跑出“加速度”。中老铁路的成功说明我国

- ①坚持亲诚惠容和与邻为善、以邻为伴，深化同周边国家友好互信和利益融合
②秉持真实亲诚理念和正确义利观，加强同发展中国家团结合作，维护共同利益
③坚持在和平共处五项原则基础上巩固中老国家联盟，构建国际政治新秩序
④推动区域政治一体化，建设开放型世界经济，让发展成果更多惠及各国人民

A. ①② B. ①④ C. ②③ D. ③④

21. 2022年9月，第77届联合国大会主席克勒希在中国常驻联合国代表团举办的庆祝中华人民共和国成立73周年线上活动中致辞说，中国一直是联合国事业的坚强后盾，在应对气候变化、维和等领域发挥着重要作用。中方提出的全球发展倡议有助于加快落实联合国2030年可持续发展议程。由此可见

- ①维护国家利益是我国外交活动的出发点和落脚点
②中国在国际事务中的代表性和主导权进一步增强
③中国是国际合作的推动者和国际新秩序的建设者
④中国是促进世界和平发展的积极因素和坚定力量

A. ①② B. ①③ C. ②④ D. ③④

22. 孙某妻子早年去世，孙某与妻子育有一儿一女，儿子已经成婚，女儿患有残疾至今未婚，每月领有一定的残疾人补助金但不足以保障其正常生活和医疗支出。2022年，孙某突发病症住院后，在儿子见证下，由一位主治医生代立了一份遗嘱，表明名下房产全部留给儿子。孙某去世后，因

为这份遗嘱，兄妹二人争执不休，孙某的儿子将妹妹起诉至法院，要求继承孙某的房产。针对此案，下列分析正确的是

- ①为节约成本，孙某可以选择便捷经济的仲裁途径
 - ②应当按照法定继承处理，孙某女儿作为法定继承人在分配遗产时应予以照顾
 - ③秉持公平原则，孙某的女儿可以获得法律援助机构指派的律师为其提供辩护
 - ④该代书遗嘱无有效见证人，且没有为女儿保留必要的遗产份额，应视为无效
- A. ①② B. ①③ C. ②④ D. ③④

23. 下图为习近平主席二〇二三年新年贺词启示录的部分内容。

I 路虽远，行则将至；事虽难，做则必成。II 只要笃定信心、稳中求进，就一定能实现我们的既定目标。
III 唯有精神上站得住、站得稳，一个民族才能在历史洪流中屹立不倒、挺立潮头。
IV 征途漫漫，精神永恒。
V 英雄的事迹永远铭记在我们心中。

对此，下列判断正确的是

- ①IV和V都属于简单判断，其中V中的英雄和我们是非对称关系
 - ②I属于联言判断，在肯定路途遥远、事情难做的同时，又肯定了实践的重要性
 - ③II是一个充分条件假言判断，据此可得出“我们能实现既定目标，就是因为笃定信心、稳中求进”
 - ④III中的“精神上站得住、站得稳”与“一个民族屹立不倒、挺立潮头”存在“无之必不然”的条件关系
- A. ①② B. ①③ C. ②④ D. ③④

24. 周公认为“民之所欲天必从之”，并反复告诫成王和其他大贵族，“天不可信”“天命不于常”，要通过“疾敬德”“勤用明德”来保住天命。这反映了

- A. 封建贵族的诉求 B. 礼乐文化的内涵 C. 儒家思想受推崇 D. 道法自然的观念

25. 宋代曾设立“都大提举茶马司”，“招募蕃商，广收良马”，规定“凡市马于四夷，率以茶易之”。另据考古发现，在甘、青、川三省结合部出土了大量宋朝钱币，如八角城曾挖掘出数千枚宋代铜钱，临潭亦发掘到北宋铁钱窖藏，一处就4750公斤。据此可推断，宋代

- A. 民族贸易一度兴旺 B. 货币管理混乱 C. 统治区域不断拓展 D. 军事力量薄弱

26. 元朝宫室中除严整规则的建筑群外，还散布着纯蒙古式的帐幕建筑，如“帐殿”“毡殿”。帐殿中帐房和木结构琉璃瓦的殿宇交错分布；室内还装饰有：白石阶基红墙、朱地金龙柱、朱栏、各色琉璃等。元朝宫室建筑体现了

- A. 皇帝行营四季迁徙的制度 B. 城市建设发展迅速
C. 汉地传统与蒙古习俗结合 D. 人文与自然的和谐

27. “铁店里婆娘会打钉”“纺织娘叫不得女工头”“络纬常通夜，抛梭直到晚”“货郎儿，背着柜子遥街串，鼓儿摇得欢。生意虽小，件件都全”，类似的唱词明清俗曲中屡见不鲜。据此可知，当时
- A. 各地经济联系日益密切
B. 传统社会结构受到冲击
C. 商业发展影响社会风气
D. 政府调整重农抑商政策
28. 1912年1月，北京邮政总办帛黎（法国人）在清代蟠龙邮票上加盖“临时中立”字样，并在福州率先发行。这批邮票购买者不多，贴用与集藏的为数更少。南京临时政府明确提出邮票必须加盖“中华民国”字样。在各方压力下，北京邮政总局不得不通知“暂缓发售”。这反映了
- A. 西方列强支持清政府
B. 民国初期政治形势的复杂
C. 辛亥革命成果被窃取
D. 中国邮票发行权开始丧失
29. 1923年，北京大学校庆期间，有学生社团进行了一次民意测量，参加者有学生752人，还有记者、军人等255人。调查结果显示，信仰社会主义（包括无政府主义、工团主义及马克思国际共产主义）者人数最多，信仰三民主义者次之。这说明，当时
- A. 社会主义有一定的话语权
B. 国共合作推动国民革命运动
C. 社会改造的方案趋于一致
D. 思想界认清了欧美社会制度
30. 1946年中国共产党提供3000余石麦籽给太行山区农民。有群众说（方言）：“咱正寻思没有麦籽的困难，八路军就给群众散麦籽，八路军就知道老百姓心里事，不是这一下，麦田就按不上。”“你看这刚打了个反，顽固打的向老百姓要咧，这个是给老百姓咧。”中国共产党的这一做法有利于
- A. 调动农民抗战的热情
B. 促进土地革命的开展
C. 加快党的工作重心转移
D. 扭转国共力量的对比
31. 1972年10月15日，周恩来对外经济联络委员会等联名报国务院《关于向罗、南、匈、波、捷、保等国提出科技合作项目的请示报告》上批示：“为何不派人去伦敦、巴黎、波恩、渥太华、东京去研究西欧、美、加、日本的机械工业情况，反而求其次？”周恩来意在强调中国
- A. 应调整“一边倒”的方针
B. 要突破计划经济束缚
C. 科学技术交流渠道要拓宽
D. 经济建设应自力更生
32. 1282年，英国国王决定为服役的贵族支付工资，却遭到了贵族们的强烈反对。1317年，阿伦德尔伯爵与国王签订了服役合同，带领100名骑兵戍卫北方边境，报酬是3000英镑。1322年所有为国王作战的领主都领取了王室的酬劳。材料反映了英国
- A. 维护封臣的权益
B. 加速对外侵略
C. 世俗君权的加强
D. 民族国家形成
33. 1603年，荷兰东印度公司在马六甲伏击了葡萄牙船只，并将此船连同货物一起拍卖。葡萄牙将此事上诉欧洲海事法庭。格劳秀斯撰写了《论捕获法》为荷兰辩护，指出葡萄牙阻止正当的海上商业活动，进而损害了在东印度的各国商人利益。据此可知
- A. 国际法维护了各国利益
B. 马尼拉大帆船航线受到冲击

C. 旧的国际秩序受到挑战 D. 亚洲成为欧洲列强争夺焦点

34. 1818年,美国指责英国“企图在拉普拉塔河两岸攫取一个基地或建立殖民地”。1821年,美国在布宜诺斯艾利斯的大使抱怨最有价值的出口完全掌握在英国人手里。1822年,英国建议哥伦比亚不要将贸易特惠权给美国;在智利,英国利用海军力量抵制美国在南美西海岸的渗透。上述史实可直接用于研究

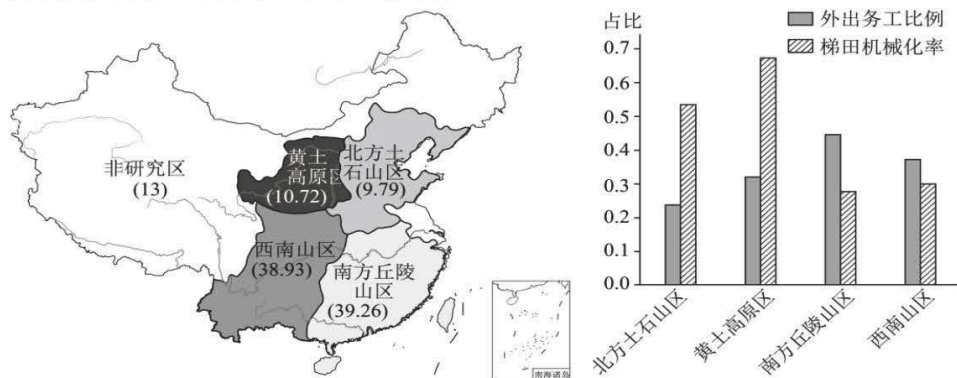
A. 柏林会议的影响 B. 欧洲均势政策 C. 考迪罗独裁体制 D. 美国“门罗宣言”

35. 从1922到1924年,经过货币改革,苏联切尔文(币)对英镑、美元的汇率基本稳定。1924年,外国记者惊讶地发现莫斯科“几乎没有追求美元的现象,美元的供给似乎比需求更大,现在美元也不得不屈服于本土的切尔文”。这反映了当时

A. 苏维埃政权赢得人民信任 B. 世界性经济危机导致美元贬值
C. 苏联工业化取得成效 D. 苏联面临的国际环境日趋紧张

二. 非选择题: 共 160 分

36. 阅读图文材料,完成下列要求。(28分)



梯田是山区、丘陵区常见的一种基本农田。我国南方梯田一般位于丘陵地区,常修筑于陡坡上;而北方梯田修筑的地点坡度相对稍缓。撂荒梯田是指连续2年以上未种植任何作物任其荒芜的梯田。图5示意我国主要梯田分区以及面积占比,图6示意两种影响梯田撂荒因素占比的区域差异。

(1) 简述坡地修筑梯田的积极意义。(8分)

(2) 相较于其他三地区,指出影响南方丘陵山区梯田撂荒两种因素的特点,并从耕作成本和收益角度说明其在引发撂荒现象上的原因。(6分)

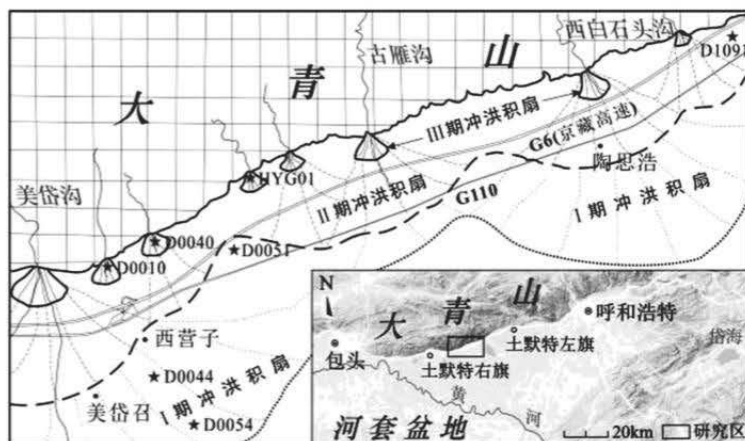
(3) 面对梯田撂荒,简述需要干预的理由。(6分)

(4) 为了保障国家粮食安全,保持生态的可持续发展,请提出有效遏制梯田撂荒的可行性建议。(8分)

37. 阅读图文材料,完成下列要求。(28分)

大青山属于阴山山脉中部,是气候变化敏感区和构造运动活跃区。区域构造活动强烈,为洪积扇的形成提供了重要的地形与构造基础。全新世时期,大青山地区气候经历了冷干—暖湿—暖干的

变化，地壳运动经历了较强—弱—较弱的强度变化。大型季节性洪水在大青山山口流出后形成三期洪积扇。Ⅰ期洪积扇形成于全新世早期，规模最大。Ⅱ期洪积扇形成于全新世中期，规模比Ⅰ期小。Ⅲ期洪积扇形成于全新世晚期，零散地分布在大青山山前，整体规模最小。下图为大青山洪积扇示意图。



- (1)根据洪积扇的成因推测大青山洪积扇形成时期降水特点。(6分)
- (2)与Ⅱ期洪积扇相比，分析Ⅰ期洪积扇规模较大的原因。(10分)
- (3)说明Ⅲ期洪积扇零散分布的原因。(6分)
- (4)Ⅲ期洪积扇规模有大有小，指出其影响因素。(6分)

38. 阅读材料，完成下列要求。

全面依法治国是国家治理的一场深刻革命。党的十八大以来，广东高举中国特色社会主义伟大旗帜，坚定不移走中国特色社会主义法治道路，用高质量法治为高质量发展护航。

近年来，广东省人大主动适应改革和经济社会发展需要，不断加强重要领域、新兴领域和民生领域的立法，提高立法质量和效率；开展了常态化的扫黑除恶专项斗争，公安机关用一记记重拳、铁拳，擦亮了“平安广东”的底色；推进普法“七进”工作，形成了良好的法治氛围。

此外，广东各法院先后适用民法典，审结了涉及“高空抛物”“自甘风险”以及融资租赁合同等纠纷案，努力让人民群众在每一个司法案件中感受到公平正义，积极打造公共法律服务网，开展了民事诉讼程序繁简分流改革试点，努力打造全国最安全稳定、最公平公正、法治环境最好的地区之一。

结合材料，运用《政治与法治》知识，分析广东省是如何落实全面依法治国基本要求的。(10分)

39. 阅读材料，回答问题。

实现现代化是中华民族近代以来孜孜不倦的追求。自1840年鸦片战争以后，中国逐步沦为半

殖民地半封建社会，中国人民和无数仁人志士不屈不挠，苦苦寻求中国现代化之路，但都没有成功。1957年，毛泽东同志提出要“将我国建设成为一个具有现代工业、现代农业和现代科学文化的社会主义国家”。1964年，周恩来同志在三届全国人大一次会议上提出“把我国建设成为一个具有现代农业、现代工业、现代国防和现代科学技术的社会主义强国”。

党的十一届三中全会作出把党和国家工作中心转移到经济建设上来、实行改革开放的历史性决策，开启了改革开放和社会主义现代化建设新时期。邓小平同志提出“中国式的现代化”概念，把实现“小康社会”作为阶段性目标，作出“三步走”战略安排。党的十八大以来，中国特色社会主义进入新时代。党的十九大对实现第二个百年奋斗目标作出分两个阶段推进的战略安排，提出到2035年基本实现社会主义现代化，到本世纪中叶把我国建成富强民主文明和谐美丽的社会主义现代化强国。党的十九届五中全会着眼于“两个一百年”奋斗目标有机衔接、接续推进，描绘了“十四五”时期和到2035年的发展图景。党的二十大对全面建成社会主义现代化强国两步走战略安排进行宏观展望，对全面建设社会主义现代化国家、全面推进中华民族伟大复兴进行了战略谋划。

从第一个五年计划到第十四个五年规划，从总体小康到全面小康，从“四个现代化”到全面建设社会主义现代化国家，我们党一以贯之推进社会主义现代化建设，成功走出中国式现代化道路。中国式现代化，是中国共产党领导的社会主义现代化，既有各国现代化的共同特征，更有基于自己国情的中国特色。

(1) 结合材料并运用“探索认识的奥秘”的知识，说明我们党是如何成功走出中国式现代化道路的。(10分)

(2) 中国式现代化，是中国共产党领导的社会主义现代化，既有各国现代化的共同特征，更有基于自己国情的中国特色。结合材料运用《逻辑与思维》关于“体会认识发展的历程”的知识，对此观点加以说明。(10分)

40. 阅读材料，完成下列要求。

2022年9月16日，习近平主席出席上海合作组织成员国元首理事会第二十二次会议，发表题为《把握时代潮流加强团结合作共创美好未来》的重要讲话。习近平主席在讲话中特别强调了能源安全、粮食安全这“两个安全”。

眼下，国际形势复杂严峻，特别是地缘政治冲突加剧，导致国际大宗商品价格上涨，给世界经济复苏发展带来了诸多不确定性。在这特殊的时间节点，习近平主席的讲话阐明了中国对维护国际能源安全、粮食安全的高度关切和务实行动，是对当下热点问题的有力回应，展现了中国积极推进

第 10 页 共 14 页

上海合作组织发展、世界经济复苏的务实举动。上海合作组织成员国领导人共同签署了《上海合作组织成员国元首理事会撒马尔罕宣言》，同时发表了关于维护国际粮食安全、能源安全、应对气候变化、维护供应链安全稳定多元化等多份声明和文件。随着相关合作和行动的落实，必将为多国人民带来实惠，维护亚欧大陆及世界的繁荣稳定。

结合材料，运用当代国际政治与经济的知识，阐释特别强调“两个安全”的重要意义。（10分）

41. 阅读材料，完成下列要求。（12分）

2023年2月3日，全国首例非法投放外来物种民事公益诉讼案件，江苏省南京市人民检察院诉徐某、刘某污染环境责任纠纷案件一审开庭宣判。

案情简介：为了给家人祈福，2020年12月，徐某和刘某连续三天在长荡湖放生了2.5万斤鲢鱼。湖面陆续出现大量死亡鲢鱼，渔政部门打捞出死亡鲢鱼2万多斤，而未打捞出岸的4792斤“革胡子鲢”具有较强的入侵能力。2022年3月29日，南京市检察院向金坛区检察院提出要求围绕生态环境损害、生物多样性损害等方面进行证据补充。9月8日，金坛区检察院提交专家评估意见，认定已死亡的2万多斤革胡子鲢由于打捞及时，水环境指标在放生前后没有明显变化；未打捞出岸的4792斤革胡子鲢将威胁长荡湖的本土鱼类生物多样性，导致长荡湖水生生物系统及生态环境服务功能受损。

判决：被告徐某承担因其非法投放外来物种革胡子鲢所造成的生态资源损失3万元、服务功能损失5000元、事务性费用1.8万元、惩罚性赔偿5000元；被告刘某对被告徐某应当支付的上述款项承担连带赔偿责任。

（1）运用《法律与生活》的知识，说明徐某和刘某承担的侵权责任适用于过错原则、过错推定原则还是无过错责任原则？为什么？（6分）

（2）结合材料，运用《法律与生活》的知识，说明法院作出上述判决的原因。（6分）

42. 阅读材料，回答问题。（25分）

材料一

从8世纪中叶起，阿拔斯王朝哈里发实施博采诸家、兼容并蓄的文化政策，大力倡导并赞助将古希腊、罗马、波斯、印度等国的学术典籍译为阿拉伯语。在哈里发的资助和倡导下，在首都巴格达创建了国家级的综合性学术机构“智慧馆”，由翻译局、科学院和图书馆组成。智慧馆以重金延聘了各地不同民族、宗教信仰的近百名著名学者和翻译家，集体从事译述、研究活动，将用重金从各地所搜集的一百多种各学科古籍进行了整理、校勘、译述。他们在对原著直译的基础上，作了大量校勘、注释、质疑、摘要、评论等，发挥了自己新的创见。至阿拔斯王朝前期结束时，古希腊典籍中重要著作都已译成了阿拉伯文，其中有柏拉图的《法律篇》《国家篇》、亚里士多德的《政治学》等，以及医学、天文学、数学方面的译作。这些著作给阿拉伯世界带来了深刻的启发和迷人的智慧，

第11页共14页

不仅大大丰富和增长了见识、学问，而且深刻地改变了人们的思维方式，将阿拉伯人由一神信仰阶段带入了层次更高的理性思辨阶段。

——摘编自潘潇寒《阿拔斯王朝百年翻译运动》

材料二

鸦片战争中，林则徐深感西方船坚炮利，提出必须“访夷情，译西书”，开近代翻译先河。第二次鸦片战争后，洋务派开始筹建京师同文馆译书处、江南制造总局翻译馆等机构从事大规模翻译活动。徐寿 1868 年在江南制造总局主持译书工作，大多是根据西文的较新版本，由传教士傅雅兰口述，徐寿用适当的汉语表达出来，前后译书 17 部约 280 万余字，所印书籍涉及经济、军事、物理、化学、医学等领域。……甲午战争之后，翻译活动迎来新的高潮。随着洋务运动的式微，翻译活动也逐步走向民间，形成了近代晚期新兴的翻译群体。著名的翻译家主要有马建忠、严复等。他们都满怀爱国热情和报国志向，有海外留学或驻外经历，对西方政治、经济、法律等有深入的了解。例如严复提出的“信、雅、达”的标准，确立了翻译作品的真实性、严谨性和可读性。他在所译作品中都有序言，介绍翻译本书的目的，同时对书中旨意进行阐述。如翻译《天演论》中介绍过达尔文的《物种原始》、马尔萨斯的《人口论》。在翻译《论法的精神》中对旧思想批判尤为突出，倡导“（立宪之国）主人非他，民权是已”的主张。严复的翻译可以说不仅不独是理论学说的介绍而且是一种“批判的武器”。

——摘编自史日丽《近代翻译活动的时代特征》


- (1) 根据材料一概括百年翻译运动的特点，并结合材料和所学知识分析其兴起的背景。(11分)
- (2) 根据材料二分析指出甲午战争前后翻译活动的变化，并结合所学知识分析近代翻译活动的影响。(11分)
- (3) 综合上述材料，谈谈你对文明交流的认识。(3分)

43. (12分) 阅读材料，回答问题。

女学传习所

材料

图 3 为清末《星期画报》第二期(1906 年 8 月)刊发的《女学传习所开学》。



附录画中文字：

顺治门外绳匠胡同，女学传习所，房屋均改成西式，于八月十三日开学。是早，门口挂龙旗一对。十点钟，考取的女学生一百三十名，陆续到学。另外有男女来宾五百多人。两江总督端大人、礼部尚书戴大人、唐侍郎、宝阁学、刘太常、孟参议等人，皆在来宾之内。……端大人首先登台，演说西洋女学的文明，属着美国第一。咱们中国皇太后，现在打算设一座高等女学。将来你们学生，在此毕业后，升入高等女学，作皇太后的学生，有多么体面呢。其次还有几位大老演说。……到午后四点钟方散。

图 3

提取材料信息，对画报描绘的女学传习所开学情形加以阐释。(12分)

44. 明朝前期的“靖难之役”是燕王朱棣与建文帝进行政治军事斗争的重大事件。阅读材料，完成相关要求。(15分)

材料一

明实录是明朝最重要的官修史籍。明朝共修有十三朝实录，诸如《明太祖实录》和《明太宗实录》等。其中建文朝无实录，《太宗实录》前九卷为《奉天靖难记》，不书建文年号，只写元、二、三、四年，卷十上至卷十五记建文四年(1402)秋七月燕王朱棣夺位后之事，时未改元永乐，革除建文年号，称洪武三十五年。

——摘编自白寿彝主编《中国通史》

材料二

明朝官方史料《奉天靖难记》《太宗实录》中都明确记载南京陷落之际，皇宫大火，建文帝朱允炆自焚而死，朱棣(太宗)将其厚葬。不过，当时也有很多建文帝逃亡的说法。康熙年间，修撰明史的史官分为两派，一派参照实录主张“崩死宫中”，另一派则主张“逊国出亡”。“自焚说”与“逊国说”两派相持不下，主持者王鸿绪最终采用“自焚说”。但是《明史》成书后，对建文帝最后行踪的记载是“宫中火起，帝不知所踪”，下文中又作补充“或云帝由地道出亡”。

——据《明史》等资料

(1) 分析有关建文帝“自焚说”与“逊国说”出现的原因。(7分)

(2) 根据材料并结合所学知识，指出应如何利用古代官修史书开展历史研究。(8分)

关于我们

自主选拔在线是致力于提供新高考生涯规划、强基计划、综合评价、三位一体、学科竞赛等政策资讯的升学服务平台。总部坐落于北京，旗下拥有网站（[网址：www.zizzs.com](http://www.zizzs.com)）和微信公众平台等媒体矩阵，用户群体涵盖全国 90% 以上的重点中学师生及家长，在全国新高考、自主选拔领域首屈一指。

如需第一时间获取相关资讯及备考指南，请关注**自主选拔在线**官方微信号：**zizzsw**。



Q 自主选拔在线

