

2021 届

文科综合

巢湖一中 合肥八中 淮南二中 六安一中 南陵中学 舒城中学 太湖中学 天长

本试卷满分 300 分，考试时间

第 I 卷

一、选择题：本题共 35 小题，每小题 4 分，共 140 分。在每小题给出的四个选项中，只有一项是符合题目要求的。

深圳市是我国农民工集聚最多的四大城市之一，有约 64.1% 的农民工从事制造业，制造业的分布成为影响农民工集聚的主要因素之一。罗芳村和清湖村是深圳市两个典型的农民工聚居区，罗芳村以四川达州籍农民工为主，主要从事室内装修和保洁工作。清湖村是一个混居型农民工聚居区，农民工主要在临近的 FSK 科技园区工作，但目前该村存在大量的空置商铺和住房。深圳市共有八个区，罗湖区和福田区是商业核心区。图 1 为深圳市农民工集聚区地域类型分布。据此完成 1~3 题。

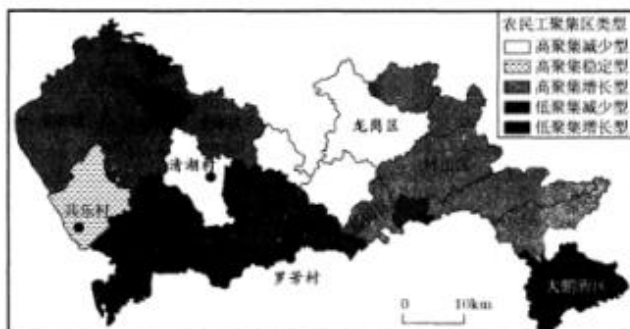


图 1

1. 推测深圳市下列各区中制造业集聚程度最高的是 ()
A. 大鹏新区 B. 南山区 C. 罗湖区 D. 龙华区
2. 导致四川达州籍农民工在罗芳村聚居的主导因素是 ()
A. 社交关系 B. 生活成本 C. 就业机会 D. 政策引导
3. 清湖村目前存在大量的空置商铺和住房的主要原因可能是 ()
A. FSK 科技园的生产效率降低 B. FSK 科技园自动化水平提高
C. 深圳市限制农民工迁入 D. 人口年龄结构老化严重

2020 年 12 月 8 日，中国和尼泊尔共同宣布珠穆朗玛峰最新高程——8848.86 米（雪面高程），此次测量依托北斗卫星导航系统进行高精度定位测量，并使用雪深雷达探测仪探测了峰顶雪深。图 2 为珠峰景观图，据此完成 4~5 题。



图 2

4. 使用雪深雷达探测仪探测峰顶雪深的主要目的是为了精确测量珠峰的真正高程即 ()
A. 珠峰峰顶积雪面高程 B. 珠峰峰顶岩石面高程
C. 珠峰峰顶冰川面高程 D. 珠峰峰顶土壤面高程
5. 在登顶珠峰的过程中部分地区冰雪覆盖少，甚至无冰雪，其原因是该地区 ()
A. 降水少，气温高 B. 气温高，坡度陡 C. 坡度陡，风速大 D. 风速大，降水少

高三开年考

能力测试

中学 屯溪一中 宣城中学 滁州中学 池州一中 阜阳一中 灵璧中学 宿城一中

150 分钟。请在答题卡上作答。

开都河全长 516 千米，注入我国最大的内陆淡水湖——博斯腾湖。开都河共 1142 个弯，流经巴音布鲁克草原的河段呈现出“九曲十八弯”的优美形态。在每年特定时间，太阳较低时，可在波光粼粼的河曲水面上倒映出九个太阳的自然奇观，因此吸引大量游客前来观赏。图 3 为开都河“九曲十八弯”位置示意图和九个太阳的自然奇观照片。据此完成 6~8 题。



图 3

- 导致该河段河道形态弯曲形成的主导因素是 ()
A. 降水 B. 地形 C. 地质 D. 植物
- 游客欣赏开都河“九个太阳”景观的最佳时间是 ()
A. 2 月 日出 B. 5 月 日出 C. 8 月 日落 D. 11 月 日落
- 开都河、孔雀河与博斯腾湖的补给关系是 ()
A. 开都河补给博斯腾湖，博斯腾湖补给孔雀河
B. 开都河和孔雀河共同补给博斯腾湖
C. 博斯腾湖补给开都河，孔雀河补给博斯腾湖
D. 博斯腾湖分别补给开都河和孔雀河

风向可用度数来表示，即把圆周分成 360°，北风是 0°（或 360°），东风是 90°，南风是 180°，西风是 270°，其余的风向都可以由此计算出来。图 4 示意我国某地某月 21 日 18 时~23 日 0 时天气系统过境相关资料统计图。据此完成 9~11 题。

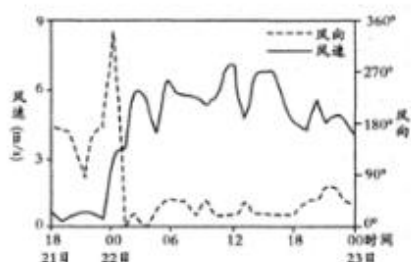


图 4

- 该地过境的天气系统为 ()
A. 冷锋 B. 暖锋 C. 气旋 D. 反气旋
- 该地 22 日 3 时至 23 日 0 时的风向主要以 ()
A. 西北风为主 B. 东北风为主 C. 东南风为主 D. 西南风为主

- 同构建开放包容、创新增长、互联互通、合作共赢的亚太命运共同体。中国提出这一主张（ ）
- ①彰显中国推进亚太经济政治一体化的真诚愿望
②表明中国意在主导亚太命运共同体的共同构建
③顺应和平、发展、合作、共赢的当今时代潮流
④符合亚太地区各国人民的根本利益及长远福祉
- A. ①② B. ①③ C. ②④ D. ③④
19. 2020年12月8日，国际灌排委员会公布2020年世界灌溉工程遗产名录，我国申报的福建省福清天宝陂、陕西省渭南龙首渠引洛古灌区、浙江省金华白沙溪三十六堰、广东省佛山桑园围四项水利工程全部成功入选。至此，我国世界灌溉工程遗产总数已达23项。我国申报世界灌溉工程遗产名录意在（ ）
- ①推动文化与经济融合，挖掘文化遗产的经济价值
②增强文化自信，展示中华文化在国际上的优越性
③维护世界文化的多样性，促进文化的交流与发展
④促进文化遗产保护和中国灌溉技术的传承与创新
- A. ①② B. ①④ C. ②③ D. ③④
20. 1934年，红军长征路过湖南汝城沙洲瑶族村，留下了“半条被子”的感人故事。这个故事充分体现了中国共产党的人民情怀和为民本质。今天，当地建起了一座专题陈列馆，充分挖掘当时汝城的相关革命活动内容，运用了大量红色文物、图片资料和雕塑绘画，以及声光影像技术手段，生动再现了那段可歌可泣的历史，使“半条被子”背后的群像更加丰满。新时代，讲好红色故事的意义在于（ ）
- ①涵养和培育社会主义核心价值观
②加强理想信念教育，筑牢理想信念之基
③为全面建设社会主义现代化国家提供智力支持
④推动中华优秀传统文化创造性转化与创新性发展
- A. ①② B. ①④ C. ②③ D. ③④
21. 2020年11月24日4时30分，我国在中国文昌航天发射场，用长征五号遥五运载火箭成功发射探月工程嫦娥五号探测器，火箭飞行约2200秒后，顺利将探测器送入预定轨道，开启我国首次地外天体采样返回之旅。嫦娥五号任务的科学目标主要是对月球样品进行研究，深化月球成因和演化历史的研究。下列对探月工程的认识正确的是（ ）
- ①研究月球样品是基于意识活动具有主动创造性
②探测器进入预定轨道表明思维和存在具有同一性
③人类探月研究的进展取决于探测器等认识工具的进步
④人们可以改变事物固有联系建立人类与月球的新联系
- A. ①② B. ①④ C. ②③ D. ③④
22. 习近平总书记强调：“防止返贫和继续攻坚同样重要”。脱贫攻坚最重要的是防松懈、防滑坡，防止返贫同样如此。为此，云南、广西两地探索出值得借鉴的好做法：巩固脱贫、防止返贫，群众自主是基础，队伍建设最关键，机制建设筑堤坝。材料启示我们，防止返贫需要（ ）
- ①总结共性做法，在共性指导下具体分析个性
②抓住矛盾的主要方面，认清问题的主流和性质
③集中力量解决主要矛盾，也不能忽视次要矛盾
④立足实际，平均看待事物发展中出现的各种矛盾
- A. ①② B. ①③ C. ②④ D. ③④
23. 自2010年第六次全国人口普查以来，我国人口发展的内在动力和外部条件发生了显著改变。开展第七次全国人口普查，了解人口增长、劳动力供给、流动人口变化情况，有助于完善人口发展战略和政策体系，促进人口长期均衡发展。由此可见，开展第七次全国人口普查的哲学依据是（ ）
- ①主观与客观要实现具体的历史的统一
②任何事物发展都是前进性和曲折性的统一
③社会意识的变化是对社会存在变化的反映
④破除原有思想观念是辩证法革命批判精神的要求
- A. ①② B. ①③ C. ②④ D. ③④

2021届高三开年考·文科综合能

24. 商王征用吴属下的人民时必须通过吴本人供给、致送；周武王征召国族的属民时，也必须通过这些国族的首领，而不能直接征用。据此可知，当时（ ）
- A. 王权尚未实现高度集中 B. 地方割据势力十分强大
C. 中央集权制度遭遇挑战 D. 血缘贵族政治逐渐确立
25. 魏晋玄学是以讲究修辞与技巧的谈说论辩方式而进行的一种学术。它所讨论的问题，从《周易》《老子》《庄子》三本经典而来，并以老庄思想解释《周易》等儒家经典，探究宇宙人生哲理，即“本末有无”的问题。这表明魏晋玄学的发展（ ）
- A. 助长了宗教迷信思想的泛滥 B. 促使汉代经学走向辉煌
C. 有利于儒道思想的融合发展 D. 完成了儒家信仰的重建
26. 两宋农书数量最多的是两浙路，其次为福建路，两浙路 23 本（占宋代农书数量的 16.31%）农书中有 12 本都是关于花卉的，福建路 19 本（占宋代农书数量的 13.48%）农书中有 14 本都是关于植茶的。这反映出宋代（ ）
- A. 农业科技发展超越了前代 B. 农业种植结构发生了质的变化
C. 闽浙地区成为经济的中心 D. 传统的自然经济结构受到冲击
27. 雍正时，随着部分大学士入值军机处，大学士出现了内外中堂之分。内中堂的主要职责是协助皇帝处理军国要务，外中堂的主要任务则是管理原先内阁日常事务。这种分工（ ）
- A. 提升了中枢机构运行效率 B. 加强了内阁大学士的权力
C. 弱化了封建君主专制集权 D. 消除了君臣间的权力斗争
28. 上海机器织布局获得清政府授予的 10 年专利经营权，美商拟在上海开办公司经营纺纱，李鸿章则令上海地方官予以查禁，后虽经美国公使交涉，但最终也未得逞。这说明（ ）
- A. 清政府注重保护知识产权 B. 洋务企业发展得到了制度保障
C. 洋务官僚成功收回了利权 D. 西方列强追求公正的市场环境
29. 甘必大为法国共和派领袖，普法战争期间积极组织抗击普鲁士的爱国活动。20 世纪初，中国留学生群体主办的报刊，如《江苏》（江苏留日学生主办）等都突出介绍了他的事迹；梁启超主笔的《新民丛刊》也刊登了《法国爱国者甘必大纪念碑》的照片。这些宣传意在（ ）
- A. 鼓吹民主共和，推行排满革命 B. 传播启蒙思想，弘扬理性主义
C. 宣扬民族主义，激发爱国精神 D. 介绍法国经验，推行政治变革
30. 图 5 为 1944 年江淮银行改为“华中银行”后发行的五十元（是根据地最早印有毛泽东肖像的纸币之一）纸币，在根据地百姓间广为使用。这一现象可以说明当时（ ）



图 5

- A. 土地革命导致了货币新变化 B. 抗日根据地经济治理取得成效
C. 苏维埃政府控制了农村经济 D. 毛泽东思想成为党的指导思想
31. 20 世纪 80 年代，中国一改过去只对外援助的做法，开始接受外来援助，来自世界银行、日本政府、西欧多边和双边的援助大量流入中国。据统计，六五计划期间，中国就得到了 30—40 亿美元的经济援助。这一变化表明当时（ ）
- A. 国内经济困难无力对外援助 B. 外交开始突破意识形态影响
C. 美国对中国的遏制政策破产 D. 务实理性外交利于国内发展
32. 城邦耸立于一切小集团之上，耸立于各种次要的团体之上，它赋予一切集团和团体以意义和价值。最高的幸福在于参与城邦本身的生活和活动，而家庭以及朋友和财产，只有作为这种最高幸福的组成部分才能充分发挥作用而使人享有乐趣。材料反映了当时的希腊（ ）
- A. 家庭财产属于城邦公有 B. 公民幸福取决于参与城邦政治
C. 城邦利益高于个体自由 D. 团体的价值来源于城邦的赋予
33. 英王乔治三世自 1760 年继位以来，就利用王室恩惠与官职授予权，不断扩大个人在政治生活中的影响力。他通过“国王之友”内阁逐步建立起个人专制统治，在 1770 年诺

- 斯任首相期间达到顶峰，由此改变了英国的政治发展走势。这反映当时英国（ ）
- A. 责任内阁制度亟待完善 B. 国王与内阁之间斗争激烈
C. 议会主权原则遭到破坏 D. 内阁总揽国家的行政权力
34. 列宁指出机器大工业是“社会主义的物质的、生产的源泉和基础”。1920年，他又强调“共产主义就是苏维埃政权加全国电气化”。列宁的这一论断（ ）
- A. 埋下了苏联国民经济结构失衡隐患 B. 揭示了生产力对社会发展的决定作用
C. 体现了直接过渡到社会主义的意图 D. 发展了马克思主义无产阶级革命理论
35. 图6为漫画《束缚》（2018年）。据此可知（ ）



图6

- A. 全球化的趋势出现明显逆转 B. 贸易保护主义成为时代潮流
C. 美国经济霸权主义不得人心 D. 世界经济发展面临巨大挑战

第II卷

二、非选择题：共160分。第36—42题为必考题，每个试题考生都必须作答，第43—47题为选考题，考生根据要求作答。

(一) 必考题：135分。

36. 阅读图文材料，完成下列要求。(24分)

理塘县隶属四川省甘孜藏族自治州，位于四川西部、青藏高原东南部、横断山脉东段，平均海拔4000多米，被称为“世界高城”。甘孜州理塘县经济基础薄弱，贫困程度较深，其中，饮水安全一直是制约理塘县当地经济发展的重要问题，也是当地脱贫攻坚任务的重要环节之一。近年来，四川省加大投资力度，大力实施安全饮水工程，切实解决了贫困户冬季饮水困难和水源地保护的问题。图7为四川省甘孜藏族自治州理塘县位置示意图。

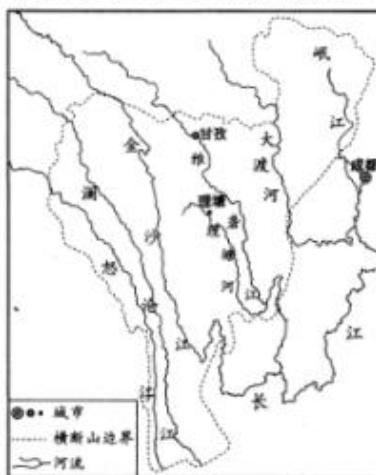


图7

- (1) 简析甘孜州理塘县贫困程度较深的自然原因。(6分)
- (2) 指出甘孜州理塘县农村饮水安全问题最严重的季节，并推测其原因。(6分)
- (3) 说明水在甘孜州理塘县农村社会经济发展中重要性。(6分)
- (4) 说明甘孜州为实现农村饮水安全应采取的具体措施。(6分)

37. 阅读图文材料，完成下列要求。(22分)

塞拉利昂是世界最贫穷的国家之一，工业基础薄弱，以矿业开采为主。2011年我国山东钢铁集团投资15亿美元获得塞拉利昂铁矿项目25%的股权，2016年该集团全资控股东北部苏拉山区的最大铁矿项目(图8阴影区所示)。随着铁矿开发和钢铁厂生产需要，我国援建了港口、铁路专线、供电等配套设施。图8示意塞拉利昂铁矿及城市分布。

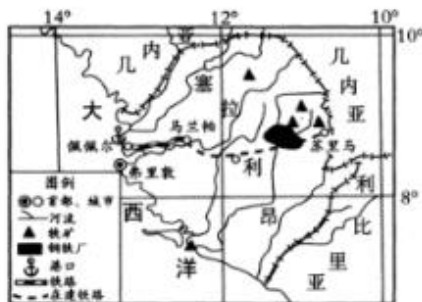


图8

- (1) 推测2016年之前塞拉利昂铁矿开采业的生产特点。(8分)
- (2) 说明苏拉山区吸引山东钢铁集团投资建钢铁厂的有利条件。(8分)
- (3) 与东北部苏拉山区相比，分析若在佩佩尔建大型钢铁厂的好处。(6分)

38. 阅读材料，完成下列要求。(14分)

材料一 图9为中国城镇及农村社会消费品零售总额及增速情况

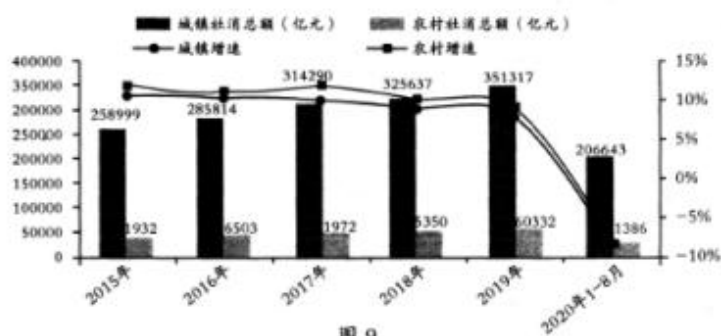


图9

材料二

2020年11月18日举行的国务院常务会议提出，今年消费遭受疫情严重冲击，恢复正常增长有不少困难。要开展新一轮汽车下乡和以旧换新，鼓励有条件的地区对农村居民购买3.5吨及以下货车、1.6升及以下排量乘用车，对居民淘汰国三及以下排放标准汽车并购买新车，给予补贴。此前的2009年我国实施了一轮汽车下乡和购置税优惠政策，曾发挥了显著成效。

- (1) 解读材料一反映的经济信息。(4分)
- (2) 结合材料，运用经济生活知识，分析实施新一轮汽车下乡和以旧换新政策的积极影响。(10分)

39. 阅读材料，完成下列要求。(12分)

中共十九届五中全会审议通过《中共中央关于制定国民经济和社会发展第十四个五年规划和二〇三五年远景目标的建议》，明确了未来5年发展蓝图和2035年远景目标。全会精神引发各民主党派中央热议。

民革中央在学习中认为，《建议》充分体现中共中央高瞻远瞩、总揽全局、深谋远虑、运筹帷幄的战略眼光和定力。民革要将深入学习贯彻全会精神作为当前和今后一个时期的重要政治任务，把思想和行动统一到各项决策部署上来，精准选题，深入调研，高质量作

好履职建言。

民建中央在学习中认为，全会擘画了未来5年发展蓝图和2035年远景目标。民建将聚焦“十四五”规划目标任务，聚焦经济社会发展关键问题，深入考察调研，提高履职实效，为推动高质量发展贡献智慧。

结合材料并运用政治生活知识，说明各民主党派中央为什么深入学习贯彻中共十九届五中全会精神。

40. 阅读材料，完成下列要求。(26分)

长期以来，在党的领导下，我国工人阶级和广大劳动群众奏响了“咱们工人有力量”的主旋律。作为千千万万奋斗在各行各业劳动群众中的杰出代表，一大批劳动模范在平凡的岗位上创造了不平凡的业绩，以实际行动展现了劳模精神、劳动精神、工匠精神，为全国各族人民树立了学习的榜样。正如习近平总书记所指出的，“在长期实践中，我们培育形成了爱岗敬业、争创一流、艰苦奋斗、勇于创新、淡泊名利、甘于奉献的劳模精神，崇尚劳动、热爱劳动、辛勤劳动、诚实劳动的劳动精神，执着专注、精益求精、一丝不苟、追求卓越的工匠精神。”

“劳动者素质对一个国家、一个民族发展至关重要。”习近平总书记深刻指出当今世界综合国力的竞争归根到底是人才的竞争、劳动者素质的竞争，强调要努力建设高素质劳动大军。立足新发展阶段，贯彻新发展理念，构建新发展格局，推动高质量发展，在危机中育先机、于变局中开新局，对劳动者素质提出了更高要求。党的十九届五中全会明确提出“加强创新型、应用型、技能型人才培养”，要求“加快提升劳动者技能素质”。

新时代是在奋斗中成就伟业、造就人才的时代。广大劳动者要大力弘扬劳模精神、劳动精神、工匠精神，努力在铸就新的历史伟业的新征程中体现价值、展现风采！

- (1) 劳模精神、劳动精神、工匠精神的培育形成离不开广大劳动群众。运用“社会历史的主体”的知识对此观点加以说明。(10分)
- (2) 运用“文化与社会”的知识，分析当前我国努力建设高素质劳动大军的原因。(10分)
- (3) 学校开展“劳动教育融入思政课堂”活动，请就该活动提三个具有可操作性的金点子。(6分)

41. 阅读材料，完成下列要求。(25分)

材料一

雍正帝否认《春秋》有“尊王攘夷”“华夷之辨”的内容，认为《春秋》大义在于扶植纲常、辨定名分，故曰“孔子成《春秋》而乱臣贼子惧”，提出四海之内共尊一君的君主专制大一统观念。接着，雍正帝又分析了历史上一统政治的形成和发展，提出“中国之一统，始于秦；塞外之一统，始于元，而极盛于我朝，自古中外一家，幅员极广，未有如我朝者也”。雍正帝的“大一统”思想是在清朝国力日益强盛的形势下，与汉族士人反清思想作斗争的过程中产生的，包含着维护清朝统治地位的动机。这种新的“大一统”理论，使清帝以天下之主自居，不容忍任何分裂割据现象，因而加强了对边疆地区的经营管理，空前地巩固了中国的统一，奠定了中国领土疆域的基础。

——摘编自刘泽华《中国古代的“大一统”论与“正统”观念》

材料二

罗马帝国边缘省份对于中央的离心力巨大，于是帝国后期出现四帝共治、东西分裂的政治割裂。帝国覆灭后，漫长的中世纪，基督教成了人们心灵的慰藉，这本是欧洲文明又一次统合的契机。然而，11世纪，基督教分为天主教与东正教两个相互拆台与对立的宗教派别。16世纪的宗教改革又让一大批民族国家逐步兴起，将世俗政权凌驾于宗教权力之上。还有来自南方的伊斯兰势力入侵伊比利亚半岛与巴尔干半岛，这种外部力量威胁为欧洲内部多元势力的崛起提供了契机。

——摘编自王凯迪《历史上的欧洲为何难以走向统一》

- (1) 根据材料一并结合所学知识，说明雍正帝提出“大一统”理论的时代背景并分析其影响。(13分)
- (2) 根据材料二并结合所学知识，概括指出同中国古代“大一统”相比罗马帝国政治的特征，并简析11—16世纪欧洲难以实现统一的原因。(12分)

42. 图片证史是研究历史的一种途径和方法, 阅读材料(图10), 完成下列要求。(12分)
材料



图 10

你可以选择其中一幅图片或两幅及其以上图片, 说明它或它们反映的重大历史事件或主题, 并对其进行阐释。(要求: 指明图片及其信息, 写出历史事件名称或主题, 阐释须有史实依据)

(二) 选考题: 共 25 分。请考生从 2 道地理选考题、3 道历史选考题中每科任选一题作答。如果多做, 则每科按所做的第一题计分。

43. 【地理——选修 3: 旅游地理】(10 分)

民俗, 即民间风俗, 指广大民众所创造、享用和传承的生活文化。近年来, 江苏省盐城市三官村通过“民俗+旅游”的发展方式, 挖掘龙舞、水乡婚庆和鱼鹰捕鱼等当地特色民俗旅游资源, 并结合众多明清不同风格的古村民居风光, 打造出独一无二的水美乡村, 吸引了众多游客前来感受乡村传统文化, 成为该村旅游的新亮点。图 11 为江苏省盐城市三官村景观图。



图 11

说明民俗旅游资源的突出价值及其对促进乡村旅游业发展的作用。

44. 【地理——选修 6: 环境保护】(10 分)

人们在日常生活中或者为日常生活提供服务的活动中产生的固体废物, 以及法律、行政法规规定视为生活垃圾的固体废物称为生活垃圾。我国生活垃圾分类处理已倡导 20 余年, 许多城市已初步形成了生活垃圾收集、运输、处理和资源化利用的产业链。图 12 为我国某城市生活垃圾处理产业链示意图。

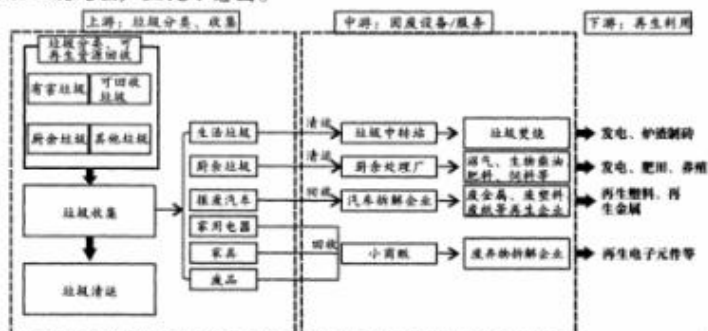


图 12

说明该城市生活垃圾分类处理产生的生态和社会效益。

45.【历史——选修1：历史上重大改革回眸】（15分）

材料

经济危机爆发后，外国商品倾销严重损害了中国民族工商业，工商业者不断呼吁政府予以扶助。1931年，国民政府财政部“遂参照各国成例”制定并颁行了近代中国第一部反倾销法——《倾销货物税法》，该法在内容上来看，可以说是比较完备的。1932年12月，附属于财政部的倾销货物税审查委员会成立。该委员会的主要职责是对输入的外货进行考察，判定倾销事实，最后经由海关对其征收进口关税外，加征倾销货物税。1934年1月，国民党中央又通过《请速施行倾销税以保护新兴工业案》以保护日益窘迫的民族工业。《倾销税法》等的颁布使中国企业对外国的倾销起诉有了法律依据，是中国政府反对外来商品倾销的战略性威慑手段，但是由于种种原因，这些努力并没有像政府预期的那样，取得最大的绩效。

——摘编自陈晋文《南京国民政府反倾销政策述评》

- (1) 根据材料并结合所学知识，指出国民政府反倾销政策出台的背景。（9分）
- (2) 根据材料并结合所学知识，简要评析国民政府的反倾销政策。（6分）

46.【历史——选修3：20世纪的战争与和平】（15分）

材料

20世纪50年代初期，美国国务卿杜勒斯提出了一项“联合行动”计划，主张将自由国家团结起来在东南亚组成一个联盟来共同抵制共产主义力量。1954年7月21日，日内瓦会议结束，并通过了《最后宣言》，实现了印度支那的停战，结束了法国在该地区进行的漫长殖民战争。但它也成为了杜勒斯筹建东南亚条约组织的转折点。9月8日，杜勒斯代表美国与英、法、澳、新、泰、菲、巴等七国正式签署了反共集体防务条约，即《东南亚集体防务条约》（也称《马尼拉条约》），成功缔结了东南亚条约组织。虽然各国能在共同利益这条纽带的驱使下，被《东南亚条约》捆绑在一起，但是这并不意味着这些国家牺牲自己的利益来满足杜勒斯的“反共联防”的雄心。更多时候，它们中的一些国家加入这个组织完全出于为了自己的领土安全或确保继续获得美国援助的考虑。

——摘编自黄文磊《地缘政治下的强势遏制：杜勒斯与东南亚条约组织（1954—1959）》

- (1) 根据材料并结合所学知识，分析杜勒斯推动建立东南亚条约组织的背景。（7分）
- (2) 根据材料并结合所学知识，概括指出东南亚条约组织的特点。（8分）

47.【历史——选修4：中外历史人物评说】（15分）

材料

闵采尔（1489—1525年）生于德国中部施托尔堡一个手工业者的家庭。1519年，他结识了宗教改革家马丁·路德。在宗教改革的初期，闵采尔曾支持路德的宗教观点。但当他在农民、工人中传道，深切了解到群众的疾苦，并理解了群众的革命要求后，就坚决地和马丁·路德分道扬镳了。他号召人民以暴力手段建立“千载天国”。恩格斯指出：“闵采尔所了解的天国不是别的，只不过是没阶级差别，没有私有财产，没有高高在上和社会成员作对的国家政权的一种社会而已”，“自闵采尔以后，在每一次的民众大骚乱中都出现这种共产主义思想的微光，直到它渐渐与现代无产阶级运动合流为止”。闵采尔联络各地的革命教派，组织“基督教同盟”，发动人们对封建制度和天主教会作坚决斗争，闵采尔的革命活动对促进德国农民战争的爆发起了很大作用。

——摘编自杭州大学历史系《世界古代中世纪史》

- (1) 根据材料并结合所学知识，分析闵采尔与马丁·路德分道扬镳的原因。（9分）
- (2) 根据材料并结合所学知识，说明闵采尔领导的革命活动的意义。（6分）

文科综合能力测试（政治）参考答案

一、选择题（本大题共 12 小题，每小题 4 分，共 48 分。在每小题给出的四个选项中，只有一项是符合题目要求的）

题号	12	13	14	15	16	17	18	19	20	21	22	23
答案	C	A	B	C	A	B	D	D	A	A	B	B

12. C “快一点的车涨价、慢一点的车降价”，表明商品是使用价值和价值的统一体，商品价格的确定理应公平合理，②④符合题意。价值的大小决定价格的高低，①错误。京沪高铁公司是企业，不是政府，因此材料未涉及政府定价，③排除。
13. A 中小企业登陆资本市场，既可以通过发行股票这种直接融资方式解决企业融资难融资贵等问题，又可以推动企业优化治理结构，①③符合题意。中小企业登陆资本市场，并没有降低企业经营风险，也不一定意味着产品市场占有率和投资收益率增加，②④不选。
14. B 创新是引领发展的第一动力，保护知识产权就是保护创新，②符合题意。全面加强知识产权保护工作要加快完善相关法律法规，③符合题意。形成以道德为支撑、法律为保障的社会信用制度，是规范市场秩序的治本之策，①错误。攻克制约产业发展的核心技术需要全面加强知识产权保护工作，④颠倒了两者关系。
15. C 从本届东博会“共建‘一带一路’，共兴数字经济”的主题，以及签约项目和规模，可以看出，本届东博会举办的目的在于加强经贸合作，加快地区经济发展，提升科技创新，深化数字经济合作，②③符合题意。①④均非举办本届东博会的目的。
16. A 三级微管理体系，有利于党员深度参与基层治理，发挥先锋作用，是基层党组织领导的基层群众自治机制的创新，①②符合题意。三级微管理体系不属于行政管理体制，③不选。人民代表大会制度作为中国特色社会主义的根本政治制度，材料没有涉及此制度，④排除。
17. B 《指导意见》的公布施行，对于准确理解和适用正当防卫的法律规定，正确处理正当防卫案件，依法维护公民的正当防卫权利，捍卫“法不能向不法让步”的法治精神，鼓励见义勇为，弘扬社会正气，具有重要意义，①④符合题意。《指导意见》的公布施行体现了对公民正当权利的尊重和保障，公民正当防卫权利早已由法律赋予，②排除。全国人大及其常委会行使国家立法权，③不选。
18. D 中国致力于推进亚太经济一体化，不是政治一体化，①观点有误。中国意在引领亚太命运共同体的共同构建，不是“主导”，②排除。中国提出共同构建开放包容、创新增长、互联互通、合作共赢的亚太命运共同体，有利于增进亚太地区各国人民的福祉，符合和平、发展、合作、共赢的当今时代潮流，③④符合题意。
19. D 我国申报世界灌溉工程遗产意在促进灌溉工程遗产保护，推动中国灌溉技术的传承与创新，维护世界文化的多样性、促进文化的交流与发展，③④符合题意。申报世界灌溉工程遗产，是因为灌溉工程遗产具有重要的历史、科技、文化和景观价值，①不选。应该坚持各民族文化一律平等的原则，不能说中华文化具有优越性，②说法有误。
20. A 讲好红色故事，传承红色基因，利用革命文化涵养和培育社会主义核心价值观，有利于加强理想信念教育，筑牢理想信念之基，有利于培养担当民族复兴大任的时代新人，①②符合题意。讲好红色故事为全面建设社会主义现代化国家提供精神动力，而不是智力支持，③错误。材料反映的是革命文化，没有涉及中华优秀传统文化，④排除。

文科综合能力测试（政治）

21. A 对月球样品进行研究,深化月球成因和演化历史的研究,是因为意识活动的创造性是人能够认识世界的重要条件,①符合题意。“顺利将探测器送入预定轨道”,说明思维和存在具有同一性,人们可以认识和把握规律,②符合题意。认识工具的进步有助于推动人类认识的发展,③错误。人们可以根据事物固有联系建立人类与月球的新联系,④错误。
22. B 材料中,“云南、广西两地探索出值得借鉴的好做法”说明①符合题意。“群众自主是基础,队伍建设最关键,机制建设筑堤坝”说明③符合题意。材料没有涉及到矛盾主次方面的辩证关系,②与题意不符。平均看待各种矛盾属于形而上学的均衡论,④错误。
23. B 开展第七次全国人口普查,能够正确反映人口情况的变化,使主观与客观实现具体的历史的统一,有助于完善人口发展战略和政策体系,①入选。自2010年第六次全国人口普查以来,我国人口状况发生了变化,要求我国人口发展战略和政策体系要与时俱进,体现了社会意识的变化是对社会存在变化的反映,③入选。事物发展前进性和曲折性的统一不构成人口普查的哲学依据,②排除。辩证法革命批判精神的要求破除落后的思想观念,④错误。

二、非选择题(本大题3小题,共52分)

38. (14分)

- (1) ①2015年—2019年我国城镇和农村社会消费品零售总额持续增长,受疫情影响,2020年1—8月城镇和农村社会消费品零售总额及其增速明显下降;(2分)②农村社会消费品零售总额较城镇小,其增速高于城镇,农村零售市场消费潜力大。(2分)
- (2) ①有利于满足农村居民汽车消费升级需求,改善居民生活条件;(3分)②有利于提高能源利用效率,减少环境污染,实现节能减排目标,推动循环经济发展;(4分)③有利于拉动国内消费需求,促进形成强大国内市场,使我国早日步入经济全面复苏快车道。(3分)

39. (12分)

- (1) 各民主党派中央深入学习贯彻中共十九届五中全会精神,是各民主党派坚持中国共产党政治领导的表现;(3分)
- (2) 是各民主党派和中国共产党紧密团结、通力合作,实现共同奋斗目标的表現;(3分)
- (3) 有利于各民主党派进一步明确参政议政的方向;(3分)
- (4) 有利于各民主党派进一步提高建言献策的质量和水平。(3分)

40. (26分)

- (1) ①人民群众是历史的主体,是历史的创造者。(2分)劳动群众是人民群众的主体部分;(2分)②人民群众是精神财富创造者。(2分)广大劳动群众的生活和实践是劳模精神、劳动精神、工匠精神的形成和发展的源泉。(2分)劳模精神、劳动精神、工匠精神作为一种宝贵的精神财富,是由劳动群众直接创造出来的。(2分)
- (2) ①文化作为一种精神力量,能够在人们认识世界、改造世界的过程中转化为物质力量,对社会发展产生深刻的影响。劳动者文化素质的高低对经济社会发展具有重要影响;(3分)②文化与经济相互交融,为构建新发展格局,推动经济高质量发展,培养各种高素质人才、提高劳动者素质越来越重要;(4分)③文化越来越成为民族凝聚力和创造力的重要源泉,越来越成为经济社会发展的重要支撑,越来越成为综合国力竞争的重要因素。只有建设一支高素质的劳动者大军,才能在国际竞争中赢得优势、赢得未来。(3分)
- (3) 示例:邀请大国工匠或劳动模范对学生开展专题宣讲;开展校内外公益劳动实践活动;挖掘思政教材中的劳动教育内容,深入开展劳动教育;组织学生到农村或工厂参观、体验劳动活动。(每点2分,三点即可。其他角度回答,言之有理,具有可操作性即可得分)

文科综合能力测试(政治)

文科综合能力测试（历史）参考答案

一、选择题（本大题共 12 小题，每小题 4 分，共计 48 分）

题号	24	25	26	27	28	29	30	31	32	33	34	35
答案	A	C	D	A	B	C	B	D	C	A	B	D

24. A 依据材料并结合所学可知，商朝和西周初期，王权并不能直接控制地方势力，以至于需要通过侯国首领，这反映出当时的王权尚未实现高度集中，故 A 项正确。当时的体制下地方拥有相当的独立性，并非割据势力，排除 B 项；中央集权体制建立于秦朝，排除 C 项；血缘贵族政治确立于夏朝，排除 D 项。
25. C 玄学起源于魏晋时期的儒者吸收道家思想，运用道家语言对儒家思想进行抽象的思考、推理、论证，探求宇宙人生，体现出儒学与道家思想的融合，故 C 项正确。A 项与史实不符；魏晋时期是汉代经学走向衰落的时代，而魏晋玄学在某种程度上是对汉代经学的背离与反抗，排除 B 项；儒家信仰重建完成的标志是心学的出现，排除 D 项。
26. D 依据材料可知，闽浙两省的花卉、茶叶种植有所发展，反映了农业商品化的发展，传统的自然经济结构受到冲击，故 D 项正确。材料不能说明农业科技超越了前代，排除 A 项；农业种植结构仍然是以粮食作物为主，并未发生质的变化，排除 B 项；C 项表述不符合史实。
27. A 依据材料并结合所学知识，所谓的内中堂入值军机处、外中堂则是沿袭明代的内阁处理日常事务，将军机大事转移到军机处在强化皇权的同时，有利于决策效率的提升，故 A 项正确。内阁大学士权力实际上是下降的，排除 B 项；C 项表述明显不符合史实；君臣之间的权力斗争并不会因为中枢权力机构调整而消除，排除 D 项。
28. B 依据材料并结合所学知识可知，这种专利经营权实际上使得洋务民用企业获得了一定的制度保障，可以在一定时期内进行垄断经营，这在客观上有利于其发展，故 B 项正确。A 项表述与材料不符，这里的专利强调的是垄断经营；晚清经济利益的丧失十分严重，并未成功挽回，排除 C 项；列强在华并非追求公正的市场环境，而是为了获取经济上的特权，排除 D 项。
29. C 依据材料并结合所学知识可知，甘必大之所以被宣传主要是因为其抵抗普鲁士的爱国行为，这些媒体宣传甘必大的事迹其目的还是在于救亡图存，故 C 项正确。这些媒体宣传甘必大的重点在于他的爱国行为，并非其民主共和思想，排除 A 项；材料没有涉及启蒙思想，排除 B 项；D 项表述与材料主旨无关。
30. B 根据材料信息可知，中国共产党领导的抗日民主政权发行了货币并获得民众认可，这实际上反映出中国共产党在抗日根据地的经济治理取得了一定成效，为抗战胜利奠定了一定的基础，故选 B 项。土地革命特指国共十年对峙时期，排除 A 项；抗战时期，苏维埃政府已经改成边区政府，排除 C 项；毛泽东思想成为党的指导思想是在党的七大上，排除 D 项。
31. D 依据材料并结合所学知识可知，改革开放后，中国除了外援外还接受国外的援助，这有利于获得经济发展的资金，故 D 项正确。A 项表述不符合史实；材料不能说明这一时期外交才开始突破意识形态的影响，排除 B 项；中国恢复联合国的合法席位标志着美国遏制中国政策的破产，排除 C 项。
32. C 依据材料并结合所学知识可知，城邦高于一切“集团”和“团体”，这体现出城邦利益至上的原则，故 C 项正确。B 项表述明显绝对化了，且与材料主旨无关，

文科综合能力测试（历史）

- 排除；材料并未提及“家庭财产”，排除A项；D项表述不符题意。
33. A 从材料信息可看出，英国内阁成为乔治三世的“私人内阁”，成为其强化权力的工具，这说明当时的责任内阁制并不完善，并未真正对议会负责，故A项正确。材料中的内阁是依附于君主的，二者并未出现激烈斗争，排除B项；材料并未涉及议会的权力，排除C项；D项是英国责任内阁制的特点，但这不符合英王乔治三世统治时期，排除D项。
34. B 依据材料并结合所学知识可知，列宁强调机器工业对社会的决定性作用，这说明列宁充分认识到生产力对社会发展的决定性作用，故B项正确。材料强调发展机器大工业但未提及是否一味以重工业为主，排除A项；材料并未涉及在生产关系上实现直接过渡的意图，排除C项；材料仅涉及生产力，并未提及无产阶级革命，排除D项。
35. D 依据材料并结合所学知识可知，世界经济受到了贸易保护主义的束缚，使得其发展面临着巨大的挑战，故D项正确。材料无法说明全球化出现了逆转，当今全球化仍然是潮流，排除A、B两项；漫画材料并未提及美国推行经济霸权主义，排除C项。

二、非选择题（本大题包括必考题和选考题两部分，其中41—42为必 题，45—47为选做题，共52分）

41. (25分)

(1) 时代背景：清朝前期盛世局面出现，国力强盛；君主专制空前强化；儒家思想，程朱理学影响深远；平定西北部叛乱，加强了对边疆地区的管理；反清思想，满汉矛盾仍然尖锐。（1点2分，3点6分，任答3点即可，共6分）

影响：“大一统”思想有利于消除汉族土人的反清思想，加强君主专制，巩固清朝统治；“大一统”思想强调中外一家，增强了中华民族的凝聚力，有利于统一多民族国家的发展，为中华民族多元一体的政治格局奠定理论基础；推动清朝加强对边疆地区的管理，现代中国的版图基本定型。（1点2分，2点4分，3点7分，其它言之有理亦可，共7分）

(2) 政治特征：罗马帝国实行行省制，地方权力较大，特别是中央政府对于边缘省份的控制力弱；后期分裂为东、西罗马帝国；缺乏统一的思想基础，国家治理重视法律。（1点2分，3点6分，共6分）

原因：基督教分裂，形成相互对立的宗教派别；近代欧洲一大批民族国家崛起；外部势力威胁因素（或外部干扰势力）促进内部多元势力崛起。（1点2分，3点6分，共6分）

42. (12分)

参考示例一

图片信息：黄埔军校

历史事件：国民革命运动，又称大革命。（2分）

阐释：1924年1月，国民党“一大”在广州召开，国共两党以新三民主义为政治基础，共产党员以个人名义加入国民党的方式，实现了国共第一次合作，建立了革命统一战线，推动了国民革命运动的开展。图片反映的是1924年5月，在苏联帮助下建立的国民党陆军军官学校（即黄埔军校），后以黄埔军校学生为骨干建立起来的北伐军，在1926—1927年北伐战争中，歼灭了吴佩孚、孙传芳主力，基本上推翻了北洋军阀统治，国民政府也迁都武汉。（8分）结局：由于国民党右派蒋介石和汪精卫分别制造了“四一二”和“七一五”反革命政变，导致第一次国共合作全面破裂，国民革命走向失败。（2分）

参考示例二

图片信息：从洋务运动到“实践是检验真理标准问题”的讨论

历史主题：中华民族的伟大复兴之路。（2分）

阐释：鸦片战争后，中国逐渐沦为半殖民地半封建社会。地主阶级的洋务派在内忧外患之下，以“自强”“求富”为旗帜，开展了洋务运动，开平矿务局就是洋务运动创办的民用企业的代表。但洋务运动只学技术不学制度，最后以破产而告终。资产阶级革命派以

文科综合能力测试（历史）

三民主义为指导，开展了辛亥革命，但是由于阶级的局限性，中华民国空有共和之名、而无共和之实。1921年，中国共产党成立，中国革命的面貌从此焕然一新；1949年新中国成立，中国人民从此站了起来，成为强国之路的起点。在中国共产党的带领下，新中国通过“一五计划”初步奠定了工业化的基础；1978年党的十一届三中全会，做出了改革开放的伟大决策，中国的社会主义现代化建设进入到一个全新的阶段。（8分）

实践是检验真理的唯一标准，中国近现代历史发展的实践证明只有中国共产党才能领导革命取得胜利，只有中国共产党才能带领全中国人民早日实现中华民族的伟大复兴。（2分）

（以上“示例”仅供阅卷参考，不作唯一标准答案，如学生用其他一幅或者多幅图片提炼历史事件或主题，阐释合理亦可赋分。）

45.（15分）

（1）背景：经济危机，列强经济侵略加剧，严重损害民族工业；民族资产阶级的呼吁；国民政府顺应民意，加强财政收入的现实需要；政府加强对经济干预的时代潮流的影响等。（1点3分，3点9分，任答3点即可，共9分）

（2）评析：国民政府的反倾销政策，在一定程度上打击了外国商品的倾销，保护了国内民族工业的发展，有利于国民经济的发展。（3分）但是，在半殖民地半封建社会的中国，反倾销政策并不能从根本上抵御外国经济侵略，最终没有取得理想的效果。（3分）

46.（15分）

（1）背景：冷战的加剧；新中国的成立、朝鲜战争停战；东南亚众多国家赢得独立或法国殖民统治在东南亚结束。（1点2分，2点4分，3点7分，共7分）

（2）特点：具有反共反社会主义色彩；美国处于主导地位；成员国参与目的存在较大差异；实际作用有限。（1点2分，4点8分，共8分）

47.（15分）

（1）原因：代表的阶级利益不同，闵采尔代表下层阶级的利益，马丁·路德代表资产阶级的利益；前者主张用暴力革命推翻现有政权，后者主张通过改革方式达到目的；前者主张消灭私有制和阶级差别，后者是在不改变私有制的前提下进行改革。（1点3分，3点9分，共9分）

（2）意义：打击了封建制度和天主教会的统治，有利于资本主义的发展；促进德国农民战争的爆发；对后来的共产主义运动具有一定的借鉴意义。（1点2分，3点6分，共6分）



文科综合能力测试（地理）参考答案

一、选择题（本大题共 11 小题，每小题 4 分，共 44 分。在每小题给出的四个选项中，只有一项是符合题目要求的）

题号	1	2	3	4	5	6	7	8	9	10	11
答案	D	A	B	B	C	B	C	A	A	B	D

- D 由材料可知，制造业的分布成为影响农民工聚集的主要因素之一；选项的四个区中，罗湖区为商业核心区，农民工集聚类型为低聚集减少型；大鹏新区为低聚集增长型；南山区为低聚集减少型，龙华区为高聚集增长型。
- A 受亲缘、血缘、乡情等社交关系的影响，农民工更倾向于向同一个目的地集聚，这样可以更快的融入居住地。
- B 随着 FSK 科技园自动化水平提高，FSK 科技园所需的劳动力数量减少，生产效率提高，在清湖村居住的农民工减少，农民工的居住需求减少，导致目前清湖村存在大量的空置商铺和住房。
- B 高原冰雪探测雷达系统主要利用天线发射和接收高频电磁波来探测地面雪深，通过雪深雷达观测获得珠峰峰顶冰雪层厚度，并将其从珠峰峰顶雪面海拔中扣除，即获得珠峰峰顶岩石面海拔，也就是真实的“珠峰高程”。珠峰峰顶因极度严寒和大风，应无土壤发育。
- C 气温、降水影响空间范围较大，登山线路沿途部分地区冰雪覆盖少，指的是小尺度地理单元的下垫面状况，因此可能是由于局部地区坡度陡，再加上海拔高、风速大，从而导致冰雪难以堆积，因此冰雪覆盖少。
- B 图中河道弯曲呈蛇曲形态，是由于河流流出山区后，地势趋于平缓，下蚀减弱、侧蚀增强，河流不断在凹岸侵蚀、凸岸堆积，形成“九曲十八弯”的形态。
- C 太阳在水面映出几个太阳时，太阳高度应较小，为日出后或日落前。由于该河段大体呈西北东南走向，而曲流段则与之基本垂直呈东北西南向，在冬季日出后或夏季日落前，太阳升起与落下的水平连线恰好穿过曲流段内呈东北西南向的河道时，则可观赏到如图所示的九个太阳奇观。8 月气温高，高山冰雪融水多，河流径流量大，河面宽阔，观景效果最好。
- A 根据材料可知，开都河注入博斯腾湖，说明开都河补给博斯腾湖；由于博斯腾湖是淡水湖，所以可推测湖水补给孔雀河。
- A 图示时间该地风向的变化情况：21 日 18 时—21 时为风力较小的东南风此后逐渐转为西南风，至 22 日 0 时前后转变为强劲的西北风，22 日 2 时以后多为东北风。由此可知，该地由风力较小的东南风转变为西北风且风力较大，可判断该地此时间段经历了冷锋过境。
- B 22 日 3 时至 23 日 0 时的风向主要为 0° 到 90° 之间，所以该时段的风向主要以东北风为主。
- D 从 22 日 0 时至 23 日 0 时，该区域风向以西北风和东北风为主，且风力达到 6m/s ，一直伴随大风和降温的过程，由此推断 23 日 0 时在四个选项中气温最低。

文科综合能力测试（地理）

二、非选择题（共4题，56分，其中43、44题为选考题。）

36.（24分）

- （1）海拔高，寒冷期长，自然环境恶劣；土壤贫瘠，土地生产力低；山高坡陡，水资源短缺；地形起伏大，对外交通不便；生态环境脆弱，自然灾害频繁等。（每点2分，任答3点得6分）
- （2）冬季（2分）原因：理塘位于高原气候区，干湿分明，冬季降水少，风力强，气候干旱；地处高原山区，高山峡谷多，冬季河流封冻，引水取水困难；以畜牧业为主，水源污染严重，水质差等。（每点2分，任答2点得4分）
- （3）饮用水是维系人民生命和健康的重要物质；灌溉水源是山地或河谷农业的必要条件；水源也是农村畜牧业发展的基础条件；水能是山区就近而廉价的能源；水在促进理塘县农村经济发展、提升农牧民的幸福指数、保证少数民族地区社会稳定方面有非常重要的作用。（每点2分，任答3点得6分）
- （4）广开源流，建设库塘拦蓄汛期河水、建水窖储存雨水、开采地下水、山泉水、跨流域调水等确保供水；安装用水管道、沉淀池等，完善农村饮水基础设施建设，净化水质；加大宣传，引导农民不直接饮用生水；引导农民远离水源地放牧（或在水源地建设防护围栏），防止牲畜粪便污染饮用水源。（每点2分，任答3点得6分）

37.（22分）

- （1）采矿业结构单一，以初级产品为主；开采技术和设备落后，生产效益低；资金短缺，企业规模小，专业化程度低；开采方式粗放，资源利用率低；对矿区生态环境破坏严重等。（每点2分，任答4点得8分）
- （2）邻近铁矿产区，原料丰富；靠近河流，水源充足；位于山区，地价便宜；经济水平低，劳动力价格低廉，工资成本低；政策支持等。（每点2分，任答4点得8分）
- （3）佩佩尔临近海洋，海运更加便利，方便钢铁产品输出；接近人口密集区，劳动力更丰富；靠近首都，基础设施较完善；靠近几内亚湾，便于就近获得石油等燃料。（每点2分，任答3点得6分）

43.（10分）

突出价值：民俗是一个地区历史上传承下来的传统生活文化，具有较高的历史文化价值；（2分）通过“民俗+旅游”的发展方式带动旅游业，具有较高的经济价值；（2分）众多明、清不同风格的古村民居，具有较高的科学研究价值。（2分）

作用：增加乡村旅游资源的多样性，满足不同游客体验需求；吸引更多游客，增加当地旅游收入；挖掘独具地方特色的民俗文化，丰富乡村旅游内涵；传承和保护乡村传统民俗文化遗产，（保持村落的生命力，）助推乡村旅游业的持续发展。（每点2分，任答2点得4分）

44.（10分）

提高资源利用率，实现资源可持续利用；有机垃圾资源化处理后产生生物柴油、沼气，减少大气污染；生产的有机肥料肥田，减少化肥使用；生产的饲料发展养殖业，不仅减少了饲料粮消耗，还增加了有机肥，都有利于农业的可持续发展；减少固体废弃物、废塑料、重金属等有害物质污染，保护生态环境；实现废弃物资源化、减量化、无害化，取得很好的生态效益；增加就业机会，带动相关产业发展；培养环保意识和社会责任意识，提高国民素质，取得很好的社会效益。（每点2分，任答5点得10分）

关于我们

自主选拔在线（原自主招生在线）创办于2014年，历史可追溯至2008年，隶属北京太星网络科技有限公司，是专注于**中国拔尖人才培养**的升学咨询在线服务平台。主营业务涵盖：新高考、学科竞赛、强基计划、综合评价、三位一体、高中生涯规划、志愿填报等。

自主选拔在线旗下拥有网站门户、微信公众平台等全媒体矩阵生态平台。平台活跃用户达百万量级，网站年度流量超1亿量级。用户群体涵盖全国31省市，全国超95%以上的重点中学老师、家长及考生，更有许多重点高校招办老师关注，行业影响力首屈一指。

自主选拔在线平台一直秉承“专业、专注、有态度”的创办公念，不断探索“K12教育+互联网+大数据”的运营模式，尝试基于大数据理论为广大中学和家长提供中学拔尖人才培养咨询服务，为广大高校、中学和教研单位提供“衔接和桥梁纽带”作用。

平台自创办以来，为众多重点大学发现和推荐优秀生源，和全国数百所重点中学达成深度战略合作，累计举办线上线下升学公益讲座千余场，直接或间接帮助数百万考生顺利通过强基计划（自主招生）、综合评价和高考，进入理想大学，在家长、考生、中学和社会各界具有广泛的口碑影响力，2019年荣获央广网“年度口碑影响力在线教育品牌”。

未来，自主选拔在线将立足于全国新高考改革，全面整合高校、中学及教育机构等资源，依托在线教育模式，致力于打造更加全面、专业的**新高考拔尖人才培养**服务平台。



 微信搜一搜

 自主选拔在线