

江苏省 2021 年新高考适应性考试

物 理

注 意 事 项

考生在答题前请认真阅读本注意事项及各题答题要求

1. 本试卷共 6 页, 满分为 100 分, 考试时间为 75 分钟。考试结束后, 请将本试卷和答题卡一并交回。
2. 答题前, 请务必将自己的姓名、准考证号用 0.5 毫米黑色墨水的签字笔填写在试卷及答题卡的规定位置。
3. 请认真核对监考员在答题卡上所粘贴的条形码上的姓名、准考证号与本人是否相符。
4. 作答选择题, 必须用 2B 铅笔将答题卡上对应选项的方框涂满、涂黑; 如需改动, 请用橡皮擦干净后, 再选涂其他答案。作答非选择题, 必须用 0.5 毫米黑色墨水的签字笔在答题卡上的指定位置作答, 在其他位置作答一律无效。
5. 如需作图, 必须用 2B 铅笔绘、写清楚, 线条、符号等须加黑、加粗。

准考证号

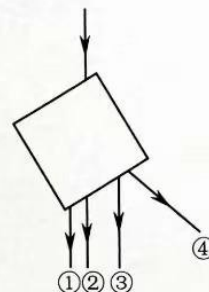
姓名

★此卷上交考点保存★

一、单项选择题: 共 11 题, 每题 4 分, 共 44 分。每题只有一个选项最符合题意。


1. 小华通过偏振太阳镜观察平静水面上反射的阳光, 转动镜片时发现光有强弱变化。下列说法能够解释这一现象的是
(A) 阳光在水面反射时发生了偏振, 镜片起起偏器的作用
(B) 阳光在水面反射时发生了偏振, 镜片起检偏器的作用
(C) 阳光在水面反射时没有发生偏振, 镜片起起偏器的作用
(D) 阳光在水面反射时没有发生偏振, 镜片起检偏器的作用
2. 如图所示, 一束激光照射在横截面为正方形的透明玻璃柱上, 光线与横截面平行, 则透过玻璃柱的光线可能是图中的

- (A) ①
- (B) ②
- (C) ③
- (D) ④



3. 如图所示,对称晾挂在光滑等腰三角形衣架上的衣服质量为 M ,衣架顶角为 120° ,重力加速度为 g ,则衣架右侧对衣服的作用力大小为

- (A) $\frac{1}{2}Mg$ (B) $\frac{\sqrt{3}}{3}Mg$
(C) $\frac{\sqrt{3}}{2}Mg$ (D) Mg

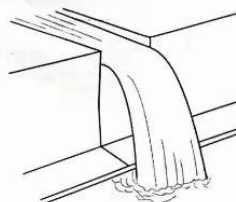


4. 2020年12月3日,嫦娥五号上升器携带月壤样品成功回到预定环月轨道,这是我国首次实现地外天体起飞.环月轨道可以近似为圆轨道,已知轨道半径为 r ,月球质量为 M ,引力常量为 G .则上升器在环月轨道运行的速度为

- (A) $\frac{GM}{r^2}$ (B) $\frac{GM}{r}$ (C) $\sqrt{\frac{GM}{r^2}}$ (D) $\sqrt{\frac{GM}{r}}$

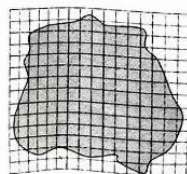
5. 某生态公园的人造瀑布景观如图所示,水流从高处水平流出槽道,恰好落入步道边的水池中.现制作一个为实际尺寸 $\frac{1}{16}$ 的模型展示效果,模型中槽道里的水流速度应为实际的

- (A) $\frac{1}{2}$ (B) $\frac{1}{4}$
(C) $\frac{1}{8}$ (D) $\frac{1}{16}$



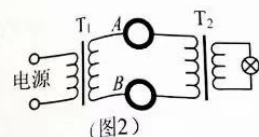
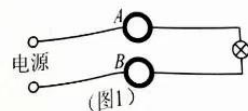
6. 在“油膜法估测分子大小”的实验中,将 1 ml 的纯油酸配制成 5000 ml 的油酸酒精溶液,用注射器测得 1 ml 溶液为 80 滴,再滴入 1 滴这样的溶液到准备好的浅盘中,描出的油膜轮廓如图所示,数出油膜共占 140 个小方格,每格边长是 0.5 cm,由此估算出油酸分子直径为

- (A) 7×10^{-8} m
(B) 1×10^{-8} m
(C) 7×10^{-10} m
(D) 1×10^{-10} m

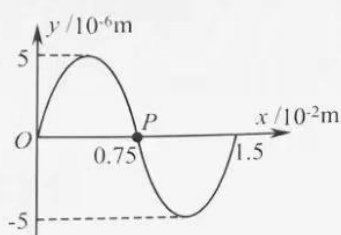


7. 小明分别按图 1 和图 2 电路探究远距离输电的输电损耗,将长导线卷成相同的两卷 A 、 B 来模拟输电线路,忽略导线的自感作用.其中 T_1 为理想升压变压器, T_2 为理想降压变压器,两次实验中使用的灯泡相同,灯泡的电压相等.两次实验中

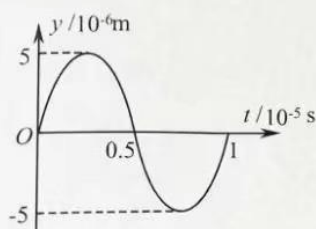
- (A) 都接直流电源
(B) A 两端的电压相等
(C) A 损耗的功率相等
(D) 图 1 中 A 的电流较大



8. 渔船上的声呐利用超声波来探测远方鱼群的方位. 某渔船发出的一列超声波在 $t=0$ 时的波动图像如题 8-1 图所示, 题 8-2 图为质点 P 的振动图像, 则



(题 8-1 图)

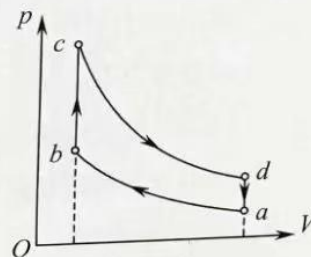


(题 8-2 图)

- (A) 该波的波速为 1.5 m/s
- (B) 该波沿 x 轴负方向传播
- (C) $0 \sim 1 \text{ s}$ 时间内, 质点 P 沿 x 轴运动了 1.5 m
- (D) $0 \sim 1 \text{ s}$ 时间内, 质点 P 运动的路程为 2 m

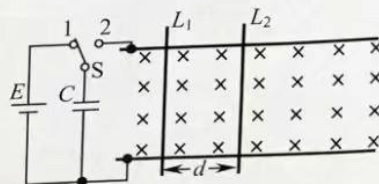
9. 某汽车的四冲程内燃机利用奥托循环进行工作. 该循环由两个绝热过程和两个等容过程组成. 如图所示为一定质量的理想气体所经历的奥托循环, 则该气体

- (A) 在状态 a 和 c 时的内能可能相等
- (B) 在 $a \rightarrow b$ 过程中, 外界对其做的功全部用于增加内能
- (C) $b \rightarrow c$ 过程中增加的内能小于 $d \rightarrow a$ 过程中减少的内能
- (D) 在一次循环过程中吸收的热量小于放出的热量



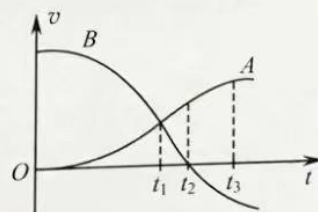
10. 如图所示, 光滑的平行长导轨水平放置, 质量相等的导体棒 L_1 和 L_2 静止在导轨上, 与导轨垂直且接触良好. 已知 L_1 的电阻大于 L_2 , 两棒间的距离为 d , 不计导轨电阻, 忽略电流产生的磁场. 将开关 S 从 1 拨到 2, 两棒运动一段时间后达到稳定状态, 则

- (A) S 拨到 2 的瞬间, L_1 中的电流大于 L_2
- (B) S 拨到 2 的瞬间, L_1 的加速度大于 L_2
- (C) 运动稳定后, 电容器 C 的电荷量为零
- (D) 运动稳定后, 两棒之间的距离大于 d



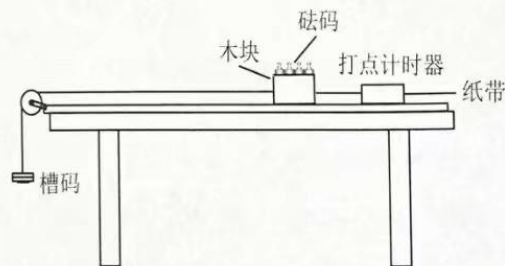
11. 带电粒子碰撞实验中, $t=0$ 时粒子 A 静止, 粒子 B 以一定的初速度向 A 运动. 两粒子的 $v-t$ 图像如图所示. 仅考虑静电力的作用, 且 A 、 B 未接触. 则

- (A) A 粒子质量小于 B 粒子
- (B) 两粒子在 t_1 时刻的电势能最大
- (C) A 在 t_2 时刻的加速度最大
- (D) B 在 $0 \sim t_3$ 时间内动能一直减小



二、非选择题:共5题,共56分.其中第13题~第16题解答时请写出必要的文字说明、方程式和重要的演算步骤,只写出最后答案的不能得分;有数值计算时,答案中必须明确写出数值和单位.

12. (15分)用如题12-1图所示的实验装置测量木块与长木板间的动摩擦因数 μ .把左端带有滑轮的长木板平放在实验桌上,载有砝码的木块右端连接穿过打点计时器的纸带,左端连接细线,细线绕过定滑轮挂有槽码,木块在槽码的牵引下运动.通过纸带测量木块的加速度,并测出木块与砝码的总质量 M ,槽码的总质量 m ,计算木块与木板之间的摩擦力 f .改变 M 和 m 进行多次实验.




(题12-1图)

(1)下列实验操作步骤,正确顺序是 ▲ .

- ①释放木块
- ②接通打点计时器电源
- ③将木板固定在水平桌面上
- ④调节滑轮高度使细线与木板平行
- ⑤将纸带穿过打点计时器的限位孔并固定在木块上

(2)实验打出的一段纸带如题12-2图所示.打点计时器的工作频率为50 Hz,图中纸带按实际尺寸画出,则木块的加速度为 ▲ m/s^2 .

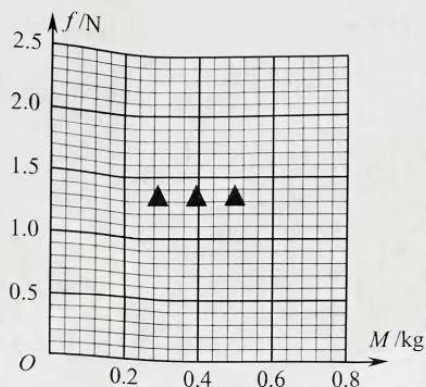


(题12-2图)

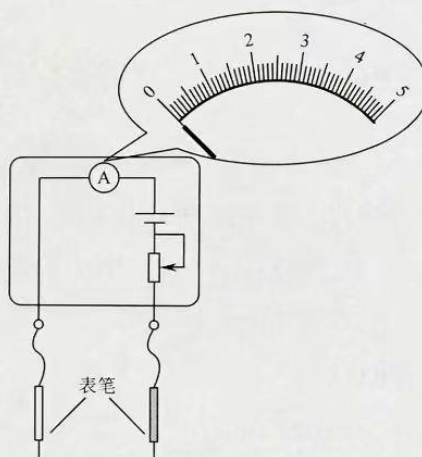
(3)甲同学测得的数据见下表.

M/kg	0.700	0.600	0.500	0.400	0.300
f/N	2.48	2.18	1.80	1.50	1.16

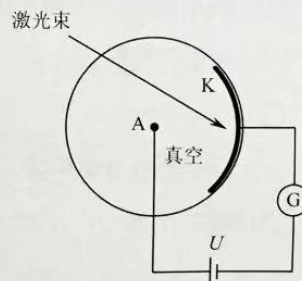
请根据表中的数据,在方格纸上作出 $f-M$ 图像.



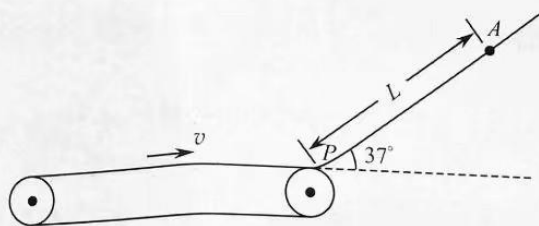
- (4) 已知重力加速度 $g=9.80\text{m/s}^2$, 可求得该木块与木板的动摩擦因数 $\mu = \underline{\quad}$.
- (5) 乙同学用(3)问表中的数据逐一计算出每次测量的 μ 值, 取其平均值作为测量结果. 他发现该值比甲同学在(4)问中得出的 μ 值大. 你认为哪位同学的结果更准确, 请简要说明理由.
13. (6分) 电流表改装成欧姆表的电路如图所示, 两表笔直接相连时, 指针指在表盘刻度“5”上. 两表笔之间接有 $600\ \Omega$ 的电阻时, 指针指在刻度“1”上. 求刻度“3”应标注的电阻值 R .



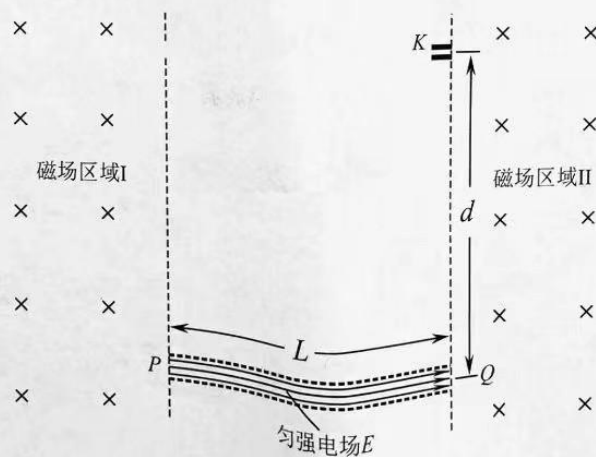
14. (8分) 我国中微子探测实验利用光电管把光信号转换为电信号. 如图所示, A 和 K 分别是光电管的阳极和阴极, 加在 A、K 之间的电压为 U . 现用发光功率为 P 的激光器发出频率为 ν 的光全部照射在 K 上, 回路中形成电流. 已知阴极 K 材料的逸出功为 W_0 , 普朗克常量为 h , 电子电荷量为 e .
- (1) 求光电子到达 A 时的最大动能 E_{km} ;
- (2) 若每入射 N 个光子会产生 1 个光电子, 所有的光电子都能到达 A, 求回路的电流强度 I .



15. (12分) 如图所示, 水平传送带足够长, 向右前进的速度 $v=4\text{ m/s}$, 与倾角为 37° 的斜面的底端 P 平滑连接, 将一质量 $m=2\text{ kg}$ 的小物块从 A 点静止释放. 已知 A 、 P 的距离 $L=8\text{ m}$, 物块与斜面、传送带间的动摩擦因数分别为 $\mu_1=0.25$ 、 $\mu_2=0.20$, 取重力加速度 $g=10\text{ m/s}^2$, $\sin 37^\circ=0.6$, $\cos 37^\circ=0.8$. 求物块
- (1) 第1次滑过 P 点时的速度大小 v_1 ;
 - (2) 第1次在传送带上往返运动的时间 t ;
 - (3) 从释放到最终停止运动, 与斜面间摩擦产生的热量 Q .



16. (15分) 跑道式回旋加速器的工作原理如图所示. 两个匀强磁场区域 I、II 的边界平行, 相距为 L , 磁感应强度大小相等、方向垂直纸面向里. P 、 Q 之间存在匀强加速电场, 电场强度为 E , 方向与磁场边界垂直. 质量为 m 、电荷量为 $+q$ 的粒子从 P 飘入电场, 多次经过电场加速和磁场偏转后, 从位于边界上的出射口 K 引出, 引出时的动能为 E_k . 已知 K 、 Q 的距离为 d .
- (1) 求粒子出射前经过加速电场的次数 N ;
 - (2) 求磁场的磁感应强度大小 B ;
 - (3) 如果在 Δt 时间内有一束该种粒子从 P 点连续飘入电场, 粒子在射出 K 之前都未相互碰撞, 求 Δt 的范围.



S 物理试卷第6页(共6页)

关于我们

自主选拔在线（原自主招生在线）创办于 2014 年，历史可追溯至 2008 年，隶属北京太星网络科技有限公司，是专注于**中国拔尖人才培养**的升学咨询在线服务平台。主营业务涵盖：新高考、学科竞赛、强基计划、综合评价、三位一体、高中生涯规划、志愿填报等。

自主选拔在线旗下拥有网站门户、微信公众平台等全媒体矩阵生态平台。平台活跃用户达百万量级，网站年度流量超 1 亿量级。用户群体涵盖全国 31 省市，全国超 95% 以上的重点中学老师、家长及考生，更有许多重点高校招办老师关注，行业影响力首屈一指。

自主选拔在线平台一直秉承 “专业、专注、有态度” 的创办公念，不断探索 “K12 教育+互联网+大数据” 的运营模式，尝试基于大数据理论为广大中学和家长提供中学拔尖人才培养咨询服务，为广大高校、中学和教研单位提供 “衔接和桥梁纽带” 作用。

平台自创办以来，为众多重点大学发现和推荐优秀生源，和全国数百所重点中学达成深度战略合作，累计举办线上线下升学公益讲座千余场，直接或间接帮助数百万考生顺利通过强基计划（自主招生）、综合评价和高考，进入理想大学，在家长、考生、中学和社会各界具有广泛的口碑影响力，2019 年荣获央广网 “年度口碑影响力在线教育品牌”。

未来，自主选拔在线将立足于全国新高考改革，全面整合高校、中学及教育机构等资源，依托在线教育模式，致力于打造更加全面、专业的**新高考拔尖人才培养**服务平台。



 微信搜一搜

 自主选拔在线