

2023年普通高等学校招生全国统一模拟考试

文科综合

本试卷共16页，45小题，满分300分。考试用时150分钟。

注意事项：

1. 答卷前，考生务必用黑色字迹的钢笔或签字笔将自己的姓名、准考证号等填写在答题卡上。

2. 作答选择题时，选出每小题答案后，用2B铅笔把答题卡上对应题目选项的答案信息点涂黑；如需改动，用橡皮擦干净后，再选涂其他答案，答案不能答在试卷上。

3. 非选择题必须用黑色字迹钢笔或签字笔作答，答案必须写在答题卡各题目指定区域内相应位置上；如需改动，先划掉原来的答案，然后再写上新的答案；不准使用铅笔和涂改液。不按以上要求作答的答案无效。

4. 考生必须保持答题卡的整洁。考试结束后，将试卷和答题卡一并交回。

一、选择题：本大题共35小题，每小题4分，共140分。在每小题列出的四个选项中，只有一项符合题目要求。

水稻是柬埔寨最重要的农产品，按季节分为雨季稻和旱季稻，雨季稻约占柬埔寨水稻种植面积的85%，旱季稻约占15%；按品种分为香稻和非香稻。柬埔寨香稻是一种种植成本较高的长粒型稻米，煮熟后会散发出淡淡的茉莉花香气，在世界大米会议上连年被授予“世界最好大米”称号。柬埔寨湄公河流域与洞里萨湖泊之间冲积生成的半沙质半黏土是唯一适合香稻种植的地方。图1示意柬埔寨香稻种植区。据此完成1~3题。



图1

1. 柬埔寨雨季稻种植面积较大，雨季种植水稻的好处是

- A. 雨水丰沛，节省灌溉成本
- B. 正值夏季，光热水充足
- C. 泥沙冲淤，土壤肥力更高
- D. 避免旱灾，减少病虫害

2. 适宜柬埔寨香稻栽培的土壤特性是

- A. 蓄水保温，有机养分多
- B. 通气透水，矿物质分多
- C. 土层深厚，便于耕种
- D. 孔隙较少，土质黏重

3.近年来,柬埔寨香稻在中国需求量增加,其主要原因是中国

- A.稻米产量不断减少 B.居民生活水平提高
C.大部分居民喜食稻米 D.与柬埔寨的关系友好

一位摄影爱好者在一天的清晨,拍摄了一组太阳升起的照片(见图2)。据此完成4~5题。




图2

4.图中太阳升起的过程,排序正确的是

- A.②①③④ B.①②④③ C.③④①② D.④②③①

5.这位摄影者拍摄的地点可能位于

- A.上海 B.华盛顿 C.布宜诺斯艾利斯 D.多伦多

兰州新区是国务院批复设立的国家级新区,位于兰州北部秦王川盆地,地处兰州、西宁、银川三个省会城市共生带的中间位置,距兰州市区38.5千米,连续三次获评“中国最具投资吸引力新区”。近年来,兰州新区努力打造国家化工产业搬迁转移承接地,加快形成具有千亿级的较强竞争力化工产业集群,加快新能源、大数据等产业发展,城市空间格局凸显。图3为兰州新区城镇空间结构图。据此完成6~8题。

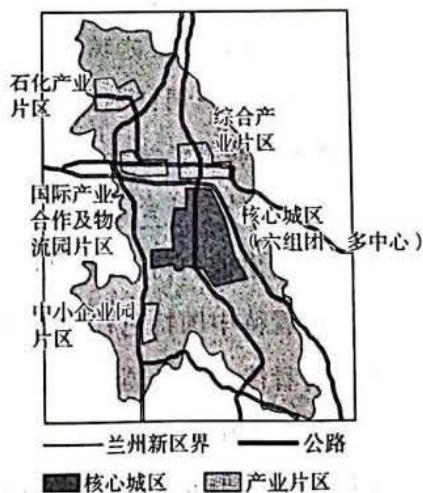


图3

- 6.兰州新区核心城区的主要特点是
A.第二产业占据优势 B.休闲观光功能显著
C.产城融合,宜居宜业 D.水系环境,湿地辽阔
- 7.兰州新区土地开发成本较低,其主要原因是
A.沙漠连绵,人烟稀少 B.气候温暖,冻土浅薄
C.河流流经,水源充足 D.地处盆地,地势平缓
- 8.兰州新区规划发展千亿级产业集群分布在
A.石化产业片区 B.综合产业片区
C.中小企业园片区 D.国际产业合作片区

非洲大陆受季风影响的地区有非洲中部、几内亚沿岸地区。非洲季风强度在不同年份会相差40%,而印度洋季风强度只有10%的变化。近40年来,非洲季风强度大为减弱,导致生态环境的改变。图4为非洲季风示意图。据此完成9~11题。

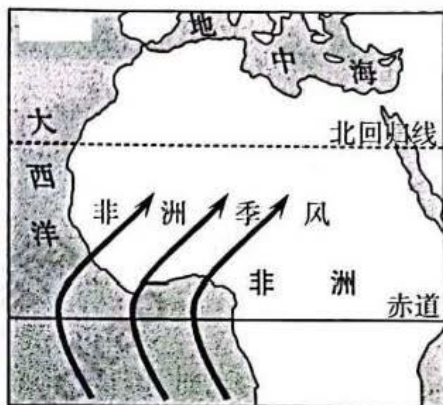


图4

- 9.非洲季风主要出现于
A.春季 B.夏季 C.秋季 D.冬季
- 10.非洲季风强度年际变化大的可能原因是
A.副热带高压带向北移动 B.几内亚湾上升流强弱多变
C.大气悬浮颗粒季节变率大 D.热力环流势力年际变化小
- 11.近40年来,非洲季风强度大为减弱,受其影响非洲西部
A.旱涝灾害频发 B.谷物种植面积增大
C.河湖水量增加 D.沙漠化面积扩大
- 12.某班同学在思想政治课进行探究活动时搜集到以下材料:

毛泽东指出:“我们信仰马列主义,把马列主义普遍真理同我们中国实际情况相结合,不是硬搬苏联的经验。”

习近平强调:“中国特色社会主义,是科学社会主义理论逻辑和中国社会发展历史逻辑的辩证统一,是根植于中国大地,反映中国人民意愿、适应中国和时代进步要求的科学社会主义。”

据此推断出他们讨论的议题可能是

- ①如何看待中国特色社会主义的科学真理性和历史必然性
②如何看待世界各国历史发展过程中表现出来的不同轨迹

③如何认识中国特色社会主义的创立是一个不断实践过程

④探讨中国为世界的发展贡献了哪些中国智慧和方案

A.①③ B.①④ C.②③ D.②④

13.改革开放已走过千山万水,但仍需跋山涉水。永葆“闯”的精神、“创”的劲头、“干”的作风,坚定不移地推进改革开放,我们一定能续写更多“春天的故事”,创造让世界刮目相看的新的更大奇迹。全科试题免费下载公众号《高中僧课堂》这表明

①改革开放只有进行时,没有完成时

②改革开放从根本上改变了我国的生产关系

③改革开放是当代中国发展进步的活力之源

④推进改革开放是我国当前工作的重中之重

A.①② B.①③ C.②④ D.③④

14.在2023年《政府工作报告》中,将之前“增强国有企业竞争力、创新力、控制力、影响力、抗风险能力”这一表述,调整概括为“提高国企核心竞争力。这就要求国有企业不能只盯着盈利能力努力,而是要在科技、效率、人才、品牌等方面全面发力”。为此,国有企业需要

①加强管理提高效率,实现质和量的快速增长

②加强科技自立自强,加强关键核心技术攻关

③完善现代公司治理,提高科研投入产出效率

④聚焦增加利润,整合资源要素,提高生产效率

A.①② B.①④ C.②③ D.③④

15.消费是经济活动的起点和落脚点,消费规模的不断扩大和消费结构的持续优化能够为经济发展提供持久动力。党的二十大报告指出要增强消费对经济发展的基础性作用,中央经济工作会议重申着力扩大国内需求,要把恢复和扩大消费摆在优先位置。下列政府促进消费举措能够实现预期目标的是

①减税退税降费→稳市场主体稳就业→增加居民财产性收入以提升消费能力

②支持企业创新→培育消费新业态新场景→满足个性化多元化的消费需求

③完善分配制度→健全社会保障体系→增加劳动报酬减轻消费的后顾之忧

④建设市场体系→提升市场环境和质量→消费者可以自由选择、放心消费

A.①③ B.①④ C.②③ D.②④

16.2023年2月,中国共产党第二十届中央委员会第二次全体会议,在广泛征求意见的基础上,审议通过了《党和国家机构改革方案》,并同意将部分内容按照法定程序提交十四届全国人大一次会议审议。2023年3月11日,全国人大审议通过该方案。下列能够正确反映这一过程的新闻标题是

①凝聚社会共识,贯彻民主集中②改革上层建筑,助推经济发展

③强调人大地位,坚持开门立法④坚持党的领导,推进依法治国

A.①② B.①④ C.②③ D.③④

17.近年来,A省深化商事制度改革,实现了“证照分离”改革全覆盖。大力推进行政审批标准化、规范化、便利化,扎实推进政务服务便民惠民,实现了村(社区)综合服务站全覆盖,155个高频事项实现“跨省通办”,4700多项便民服务实现“掌上办”“就近办”。上述改革措施旨在

①建设执法严明的政府,促进政府依法行政

②建设职能科学的政府,更好服务人民群众

③明确政府职能责任,增强政府公信力和权威

④规范政府权力运行,提升政府的行政效能

A.①③B.①④C.②③D.②④

18.书法家钟繇认为：“流美者，人也。”画家石涛曰：“画受墨，墨受笔，笔受腕，腕受心，如天之造生，地之造成，此其所以受也。”这告诉我们，字画以点墨之微取形用势，意明笔透，把万象之美通过书画者笔端表达出来。这美，是从艺术家心里流出的！对此，用哲学思维作出的正确解读是

- ①万象之美不在于艺术家目之所见，而在于艺术家“心之所观”
- ②腕受心，意明而笔透，体现了人在认识世界中发挥主观能动性
- ③字画以点墨之微取形用势，说明书画以事物的属性为价值标准
- ④生活的万象之美反映到书画者的大脑中，又通过笔端表达出来

A.①③B.①④C.②③D.②④

19.田园治愈剧《去有风的地方》，通过讲述“大城市返乡青年借助青山绿水打造出金山银山”的故事，勾勒出了一幅乡村振兴的新画卷。极具地域特色和民族风格的建筑、服饰、美食，为故事的发生创造了诗意的展现空间，成功点燃了观众的“追风热”，也助力了拍摄地云南大理的文旅经济发展，产生了“一部剧带火一座城”的现象级效应。由此可见，该剧

- ①体现时代性，将文艺创作与大环境、大议题有机结合，展现了时代精神价值
- ②追求真实性，全景式还原了当代青年通过返乡创业带动乡村振兴的真实情景
- ③奏响主旋律，在兼具社会效应与经济效应的基础之上，更好地讲述中国故事
- ④富有创新性，传承优秀传统文化，进行创造性转化和创新性发展的审美探索

A.①③B.①④C.②③D.②④

20.2023年3月，美国参议院银行委员会举行的听证会上，两党议员就谁应该为硅谷银行和签名银行的倒闭负责而争论不休，民主党人将责任归为特朗普政府取消银行业规则，而共和党人则指责是监管机构的疏漏。事实上在美国“任何事件发生以后，美国两党指责都是常态。”对此现象，正确的解读是

- ①由于根本利益的分歧，美国两党不断互相攻讦
- ②民主党和共和党的争斗是以执政为主要目标的
- ③政党执掌政权并不是以人民的根本利益为目标
- ④美国两党争斗将政党利益凌驾于公共利益之上

A.①③B.①④C.②③D.②④

21.2023年是中国—上海合作组织地方经贸合作示范区建设五周年。上合示范区覆盖青岛全域，按照1个核心区+N个联动区进行布局，聚焦中远期目标精准发力，深化投资贸易改革，推动项目落地生根，全力打造面向上合组织国家、“一带一路”沿线国家策源经贸合作规则、规制、管理、标准的国际合作区。上合示范区的发展

- ①拓展了上合组织的政治与经济空间，搭建了合作平台
- ②促进各国经济交流合作，是践行多边主义的最佳场所
- ③将增强国内国际市场循环，打通内外联通的战略走廊
- ④将带动区域经济发展走向更加开放更加包容的新格局

A.①②B.①④C.②③D.③④

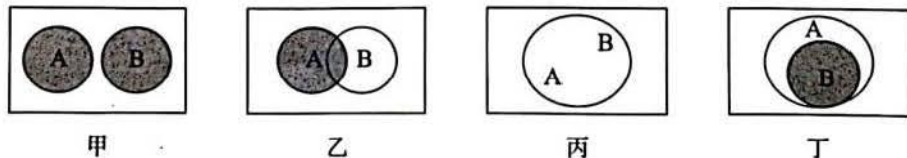
22.知名画家王某把自己的一幅绘画作品赠与好友赵某。赵某将此画在画展上展出，企业家金某花重金买下此画，后将该画的主体部分印在了自己企业产品的外包装上。王某发现后很生气，将赵某和金某一起告上法庭。下列对此案分析正确的是

- ①赵某只获得了该画的所有权，没有著作权，因而不可以将画展出
- ②赵某拥有该画的占有、使用、收益和处分的权利，因而可以买卖
- ③金某将该画印在包装上，侵犯了王某的复制权和保护作品完整权

④金某仅获得了该画的用益物权，因而不能把画印在自己产品包装上

A.①③ B.①④ C.②③ D.②④

23.逻辑学一般从概念外延之间关系的视角去研究概念间的关系，依据两个概念在所指范围上的关系不同，可以用欧拉图加以表示。假设A与B两个概念的外延关系用欧拉图表示如下，则下列选项描述与图示信息相符的是



①图甲中A是“中国共产党员”，B是“优秀领导干部”

②图乙中A是“青年学生”，B是“足球爱好者”

③图丙中A是“等边三角形”，B是“等角三角形”

④图丁中A是“中国”，B是“北京”

A.①② B.①④ C.②③ D.③④

24.西周时期诸侯或王官第一次受命为王臣，包括诸侯及王官的后嗣如继续担任诸侯或王官，周王必须进行再一次的任命。只有经过周王册命的诸侯或王官的继承人，其身份和地位才是合法的。据此可知，这一制度

A.保障了贵族阶层的政治特权 B.彰显了周天子的共主地位

C.维系了家国一体的统治格局 D.强化了君臣间的契约关系

25.汉代的制度构建不同于西周的“宗统”“君统”不分，也不同秦代灭绝“亲亲”的做法，而是政府试图在承认宗族是社会基本组织结构的基础上，突破血缘关系，将君臣、君民、官民之间的关系描述成父子关系。这表明，汉代

A.宗族势力的发展壮大 B.尊卑秩序得到强化

C.儒学理论体系政治化 D.社会道德风气改善

26. 表1 史书所载宋代矿业发展状况

徐州地区	徐州利国……冶各百余人，采矿伐炭，多饥寒亡命、强力鸷忍之民也
江西信州	铅山铜坑……故常募集十余万人，昼夜采凿
广东韶州	韶州四方之人，弃农亩、持兵器，募利而至者不下十万

这可以用来说明当时

A.雇佣劳动日益普及 B.小农经济出现衰退

C.地方治安秩序紊乱 D.社会经济活力增强

27.明代李时珍将《本草纲目》中对近两千种药物的探察视为“吾儒格物之学”，但在书中仍将木材的“坚脆美恶”归因于“各具太极”。宋应星的《天工开物》将颜料制备视为源于易经八卦中的“依坎附离”。这反映出，当时

A.科学研究深受传统文化束缚 B.儒学理论推动技术进步

C.格物致知观念促进社会转型 D.西学东渐影响国人观念

28.百日维新时期，光绪以上谕形式所发的变法诏书达数百道之多，涉及人事、文化教育、政治、经济、社会等诸多方面，但是维新派最重视的政治方面的改革方案并不多，真正获得通过并以上谕形式颁布的更少。这表明百日维新

A.并未涉及政治领域改革 B.注重变法措施的策略性

C.造成维新阵营内部的分裂 D.深受守旧派势力的掣肘

29.

表2 1915年全国钢铁产量及其分布情形

地区	产量(吨)	备注
湖北	136540	此系汉阳铁厂炼成之铁
奉天(今辽宁)	29530	本溪湖煤铁公司所炼
山西	72000	平定、晋城、高平、孟县、隰县等处土法所炼
湖南	26000	宝庆、茶陵等县土法所炼
四川	25000	涪陵、綦江等县土法所炼
云南	11000	镇雄、剑川、峨峨等县土法所炼
其余各省	10000	均系土法
总计	310070	其中土铁 144000 吨

根据表2可知,当时

- A.技术进步存在地域差异 B.产业结构渐趋合理
C.手工业占据主导性地位 D.经济布局逐渐平衡

30.1948年6月,中共中央宣传部关于重印列宁《共产主义运动中的“左派”幼稚病》第二章前言的通知中提出“人民民主专政”概念:列宁在本书中所说的,是关于无产阶级专政。今天在我们中国,则不是建立无产阶级专政,而是建立人民民主专政。这可以用来说明当时的中国共产党

- A.积极探索新政权建设方向 B.致力于维护革命统一战线
C.全面借鉴苏俄的革命经验 D.完善了工农武装割据理论

31.表3 1990—1996年间不同所有制企业的年均生产增长率(%)比较

时间	国有企业	集体企业	私营企业	外资企业
1990—1996年	0.65	4.40	3.41	1.14

据表3可知,当时

- A.对外开放增强国有企业活力 B.公有制经济发展活力初步显现
C.城市经济体制改革全面展开 D.市场化改革解放了社会生产力

32.公元前5世纪时,罗马人已经开始崇拜希腊的丰产女神德墨特尔。在罗马占领整个大希腊的时候,几乎每个罗马神都可以在希腊的神话体系中找到相对应的神,只是名称发生了变化而已。由此可知,古代罗马

- A.文化发展缺乏主体性 B.理性精神发展存在不足
C.融合吸收域内的文化 D.试图同化被征服的地区

33.1876年9月,比利时国王在“赞助伟大的科学研究工作”的名义下召开“布鲁塞尔国际地理学会议”。与会的英、法、德等国代表同意在欧洲设立“国际考察和开发中非协会”,由各国在下面设分会。布鲁塞尔会议通过了后一建议,并划定协会的活动范围。这说明当时

- A.工业文明成果向全球传播 B.西欧各国加快对非洲的争夺
C.列强之间的矛盾有所缓和 D.资本主义殖民体系最终形成

34.1920年,美国参议院否决了《凡尔赛条约》并拒绝加入国际联盟。1925年,美国作为观察员参与了两次在日内瓦举行的重要会议,分别是关于鸦片贸易和武器贸易的;

1930年,美国共参加过40次国联会议,并在国联总部有5名常任代表。这一史实可以用来说明

- A.美国抛弃了孤立主义外交政策 B.美国试图打破英、法对国联的控制
C.国联对国际事务拥有重大影响 D.一战后所构建的国际秩序有所完善

35.冷战后法国调整政策,力图保持与法语非洲的“特殊关系”;德国制订了对非政策的十项原则,表示“要同非洲加强合作”,以“迎接新时代”的到来。日本主持召开了“非洲开发会议”,确定了五项援非原则。这反映出,当今世界

- A.殖民主义势力制约非洲经济发展 B.发达国家对新兴市场的争夺激烈
C.非洲地区区域集团化趋势加强 D.发展中国家国际地位得到提升

二、非选择题:共160分。

36.阅读图文材料,完成下列要求。(28分)

新能源汽车分为纯电动汽车、增程式电动汽车、混合动力汽车、燃料电池电动汽车、氢发动机汽车等类型。随着中国新能源汽车产业链的纵深发展,我国新能源汽车四大产业集群格局凸显,形成了以上海为龙头的长三角集群、以广深为龙头的粤港澳大湾区集群、以北京为龙头的京津冀集群以及以成渝、西安为龙头的西三角集群。近年来,我国新能源汽车工业不断开拓国际市场,出口量快速增长。图5示意我国新能源汽车产业集群分布。



图5

- (1)分析我国重视新能源汽车产业发展的主要目的。(8分)
(2)简述我国新能源汽车产业集群的空间分布特点。(6分)
(3)分析我国新能源汽车四大产业集群的共同优势区位条件。(8分)
(4)阐释我国新能源汽车出口量快速增长的主要原因。(6分)

37.阅读图文材料,完成下列要求。(28分)

黑潮是北太平洋西部边界一支强大的海流,具有高温、高盐的特征。黑潮是北赤道暖流的延续,起源于台湾岛东南和吕宋岛以东海域,在 24°N 左右通过台湾岛以东进入东海,一直延伸至 35°N 、 141°E 附近海域。在整个黑潮系统中,位于 130°E 以西, 30°N 以南海域,主流经过东海外缘的黑潮,被称为东海黑潮。东海黑潮海水盐度在水平和垂直方向上具有明显的季节变化。图6示意东海黑潮分布。

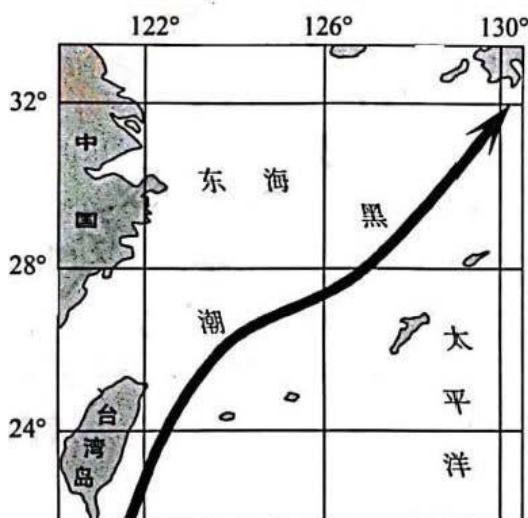


图 6

- (1)分析黑潮高温、高盐特征的形成原因。(6分)
- (2)说明东海黑潮对我国大陆和岛屿气候的影响。(8分)
- (3)推测东海黑潮表层海水盐度的季节变化规律,并说明理由。(6分)
- (4)简述东海黑潮海水盐度垂直变化特点,并说明理由。(8分)

38.阅读材料,完成下列要求。(10分)

无我——从党的二十大看中国共产党的成功密码。在党的二十大报告中,“人民”一词出现 170 多次。

为中国人民谋幸福,为中华民族谋复兴。中国共产党没有自己特殊的利益,在任何时候都把群众利益放在第一位,这是“我将无我”的崇高境界,这是“不负人民”的使命担当。

无我,是不变本色。正是在延安,党的七大首次将“具有全心全意为中国人民服务的精神”写进党章。作为中国共产党人的根本宗旨,“为人民服务”,后来镌刻在了中南海新华门内的影壁上。

无我,是为了人民的福祉。泸定桥上的冲锋,是为了“穷人的天下”;烈士的慨然就义,是为了建立“富裕将代替了贫穷,康健将代替了疾病”的理想国度……百余年来,共产党人一切“无我”的奋斗与牺牲,都是为了人民的福祉。

无我,是力量源泉。革命圣地延安,许多人到访这片热土,探寻“中国共产党为什么能”的密码。答案就如这黄土地一般朴实——曾经,《红星照耀中国》的作者埃德加·斯诺感慨:“中国共产党总能从大多数人民群众中汲取力量。”

无我,催生无限的创造力。如何跳出治乱兴衰的历史周期率?毛泽东同志曾在延安的窑洞里给出第一个答案,这就是让人民监督政府。党的十八大以来,以习近平同志为核心的党中央在全面从严治党的实践中给出了第二个答案,这就是党的自我革命。

结合材料,运用《政治与法治》的知识,分析为什么“无我”是中国共产党的成功密码。

39.阅读材料,完成下列要求。(10分)

“法者,治之端也”。法治具有固根本、稳预期、利长远的保障作用。近年来,S省聚焦黄河重大国家战略实施,坚持立法先行、省市协同,一体推动黄河流域地方立法,

以良法促发展、保障善治。在省、市两级陆续出台一系列河湖保护条例、生态保护和修复条例，省市两级结合、重点明确、多类互补的黄河流域生态保护和高质量发展地方性法规布局不断健全完备。坚持向联防联控要效能，落实行政执法“三项制度”，构建执法联勤联动机制，凝聚形成强大执法合力。坚持法治为民，着眼满足黄河流域经济社会发展和人民群众生产生活需要，不断提升公共法律服务质效，着力增强人民群众福祉。

结合材料，运用“寻觅社会的真谛”的知识，阐释S省“以良法促发展、保障善治”是顺应社会发展的必然之举。

40. 阅读材料，完成下列要求。(10分)



注：2022年，我国机电产品出口增长7%，特别是新能源汽车等产品出口快速增长。服务进出口5.98万亿元，增长12.9%。其中，旅行服务、知识密集型服务进出口分别增长8.4%和7.8%。

“一带一路”交通互联互通效应日益凸显，为中国与沿线国家和地区经贸往来注入新动能。西部陆海新通道位于中国西部腹地，北接丝绸之路经济带，南连21世纪海上丝绸之路，通道目的地拓展至113个国家和地区的335个港口，成为连接东盟和欧亚大陆的重要通道。在边陲云南，另一条国际大通道——中老铁路已开通运营10个月，中国已有20多个省份开行了中老铁路跨境货物列车，货物运输覆盖中国、老挝、泰国、缅甸、马来西亚、柬埔寨、新加坡等国家和地区。中欧班列已建立82条运行线路，通达欧洲24个国家200个城市，成为畅通中欧贸易的重要经济走廊。

结合材料，运用《当代国际政治与经济》的知识，概括图中反映的经济信息，并分析我国推动“一带一路”交通互联互通的意义。

41. 阅读材料，完成下列要求。(12分)

小钱将其购置的一辆轿车租赁给汽车出租公司，小孙向出租公司承租了该轿车。后小孙谎称自己是车主，将车卖给了小冯，完成交付但未办理产权登记。小钱找到小冯，要求还车，小冯认为，自己已经支付了车款，且已经实际使用该车，理应拥有该车所有权。双方发生争执。

法律链接

《中华人民共和国民法典》第二百二十四条规定：动产物权的设立和转让，自交付时发生效力，但是法律另有规定的除外。

第二百二十五条规定：船舶、航空器和机动车等的物权的设立、变更、转让和消灭，未经登记，不得对抗善意第三人。

(1)结合材料，运用《法律与生活》的知识，分析如何化解纷争，维护小钱和小冯的财产权。(6分)

(2)该案涉及租赁和买卖两类法律关系。运用《法律与生活》的知识，说明此类案件中的权利人应当如何保护自己的合法权益。(6分)

42.阅读材料，完成下列要求。(10分)

2023年3月，中国载人航天工程办公室发布2023年度天舟六号飞行任务、神舟十六号载人飞行任务、神舟十七号载人飞行任务三次飞行任务标识。其中，神舟十七号载人飞行任务标识，是四川美术学院视觉传达专业研一学生谭昊瑜设计的。谭昊瑜设计的标识，并没有很多设计方案，而是在定好了风格基础后，在此基础上不断优化，参考了大量飞船、火箭模型，最终采用居中均衡的构图方式，表现此次飞行任务中神舟十七号对接空间站的前向端口。同时，她将神舟飞船喷射的尾焰与数字“17”相结合，整个画面展现出向上勃发的视觉冲击力，寓意着我国载人航天事业蓬勃发展的态势。



图8

结合材料，运用《逻辑与思维》的知识，分析谭昊瑜的设计体现出的创新思维。

43.阅读材料，完成下列要求。(25分)

材料一 波斯帝国的交通网络由主要城市之间的御道和连接各地方村镇的普通道路组成。御道作为交通网络的主要干线，沿途所建驿站的位置均保持相等的距离，利用信使和专门挑选的快马传递信件，优质的道路建设和维护使得军队等大型往来人员均可通行。普通道路往往较为狭窄，沿途所建驿站的位置并不等距，很难在暴雨等极端天气过后保持畅通。无论是御道还是普通道路，波斯帝国都会定期派巡查员检查道路情况，清理路面上倒塌的树木和其他妨碍正常通行的因素。波斯人的道路系统并不对民间商人开放，所有执行公务的人员在各级道路往来通行时，都需持有国王或地方总督签发的旅行许可文件。文件中一般会标明出行人数、目的地以及人员车马在驿站中所得补给的种类和数量，有时还会特别标注该许可文件在旅途往返均可使用。

——摘编自李智《从苏美尔到波斯：古代西亚驿路体系的发展与特点》

材料二 元朝政府建立了遍及全国的驿站制度，水陆站共计1500处左右。驿站以大都为中心，沿着几条交通干线，一直通达各边疆地区。忽必烈统治时期，在蒙古帝国驿站的基础之上，在全国范围之内实行驿站制度，以元大都为中心，在全国范围内形成贯通东西、南北的较为发达的交通网络。过往的使臣或传递情报者持圣旨令牌可换乘驃马。元朝的驿站具有为元朝政治、外交、经济、贸易、商业、宗教、文化服务的多重功能。元朝的官员、王公、驃马，中外使臣均可利用驿站。元代的驿站制度，在合理的距离内，在适当的地点设立站点，通过一系列的站点将交通线路连接起来，形成全国范围内的驿站交通网络。元代除驿站、急递铺之外，还有运输货物的递运站，分为马运、水运和车运等不同交通方式。

——摘编自乌云高娃《元代驿站、客馆的建设及经济文化交流》

(1)根据材料一、二并结合所学知识，分析古代波斯帝国同元代驿路体系的异同。(16分)

(2)根据材料二并结合所学知识，简析元代驿路体系对中国历史发展的意义。(9分)

44. 阅读材料，完成下列要求。(12分)

材料 表 420 世纪 50 年代以来主要贸易战

贸易战	发起国	贸易战形式	发生背景	时间	结果
鸡肉贸易战	欧共体	欧共体对美国进口鸡肉征收高额关税并进行价格控制，美国反制，提高对西欧农产品的进口关税	美国即将步入“大通胀时代”	1963—1965年	双方和解
日美贸易战	美国	美国在纺织、钢铁、彩电、汽车、半导体、电信等行业，对日本发起反倾销调查或作出不利裁决，并通过了 301 条款、超级 301 条款，对日本进行制裁和限制	美国经济滞胀，日本飞速崛起	20 世纪 60 年代至 20 世纪 90 年代初	日本多次自愿限制出口、对美国开放市场
面食产品贸易战	美国	美国对欧洲柑橘类产品的准入制度不满，并对面食产品征收关税。为了报复，欧洲对美国的核桃和柠檬征收关税	美欧多国经济下行	1985—1986年	双方达成和解，欧洲损失不大

——摘编自赵涛《世界贸易战简史》

根据材料并结合所学知识，就材料整体或其中任意一点拟定一个论题，并予以阐述。(要求：论题明确，持论有据，表达清晰。)

45. 阅读材料，完成下列要求。(15分)

材料 清末时，传统的“国语”概念发生了现代意义的转变，开始用来指称民族国家的通用语。1904年1月在清政府正式颁行的《奏定学堂章程》“学务纲要”部分，清廷明确规定“各学堂皆学官音”，赋予汉语官话作为国家通用语言的现代“国语”地位。与此同时，章程还宣称必须传习中国历代相承的“各种文体”，认为其乃“五大洲文化之精华”，也即“保存国粹之一大端”。1904年5月，陈独秀在他创办的《安徽俗话报》上发表《国语教育》一文，就强调“教本国的话”的“国语教育”乃是“现在各国的蒙小学堂里，顶要紧的功课”，其要义在于“俗话教学”和“统一国语”，尤以后者最为重要。1911年7-8月，清廷颁行了《学部中央教育会议议决统一国语办法案》，明令以“正当雅正、合乎名学”的官话统一“国语”，“由学部设立国语传习所”，在各省会及府厅州县的学堂内设立国语专科，直接督导各地各级学校逐步改用官话讲授其他课程。

——据黄兴涛《清末“国语”的概念转换与国家通用语的最初构建》

- (1) 根据材料并结合所学知识，概括清末国语统一运动的特点。(8分)
- (2) 根据材料并结合所学知识，分析清末国语统一运动的影响。(7分)

关于我们

自主选拔在线是致力于提供新高考生涯规划、强基计划、综合评价、三位一体、学科竞赛等政策资讯的升学服务平台。总部坐落于北京，旗下拥有网站（[网址: www.zizzs.com](http://www.zizzs.com)）和微信公众平台等媒体矩阵，用户群体涵盖全国 90% 以上的重点中学师生及家长，在全国新高考、自主选拔领域首屈一指。

如需第一时间获取相关资讯及备考指南，请关注**自主选拔在线**官方微信信号：**zizzsw**。

