

# 滁州市 2023 年高三第二次教学质量监测

## 文科综合能力测试

### 注意事项:

1. 本试卷分第I卷(选择题)和第II卷(非选择题)两部分。答题前,考生务必将自己的姓名、考生号填写在答题卡上。
2. 回答第I卷时,选出每小题答案后,用铅笔把答题卡上对应题目的答案标号涂黑。如需改动,用橡皮擦干净后,再选涂其他答案标号
3. 回答第II卷时,将答案写在答题卡上,写在试卷上无效。
4. 考试结束,将本试卷和答题卡一并交回

### 第 I 卷

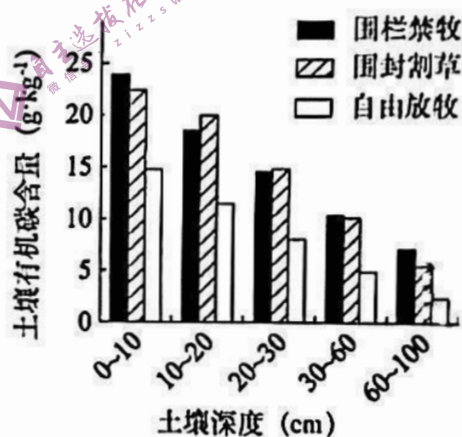
一、选择题:本题共 35 小题,每小题 4 分,共 140 分。在每小题给出的四个选项中,只有一项是符合题目要求的。

(说明:地理部分为第 1~11 题,共 44 分;思想政治部分为第 12~23 题,共 48 分;历史部分为第 24~35 题,共 48 分)

2010 年广东粤台农业合作试验区建立后,广东省翁源县兰花产业迅速崛起,被誉为“中国兰花之乡”。某公司实行“公司+基地+农户”的发展模式。据此完成 1~3 题。

1. 该县兰花产业迅速崛起主要得益于  
A. 自然条件优越      B. 政策规划引导      C. 交通运输便捷      D. 网络销售兴起
2. “公司+基地+农户”发展模式有利于提高农民种植兰花的积极性,直接原因是  
A. 带动产业发展      B. 助力乡村振兴      C. 增加经济收入      D. 完善基础设施
3. 该县兰花产业种苗一直依赖从外地购进,为减少种苗对外依赖,翁源县需要积极  
A. 丰富兰花品种      B. 推动科技研发      C. 拓宽销售市场      D. 扩大栽培规模

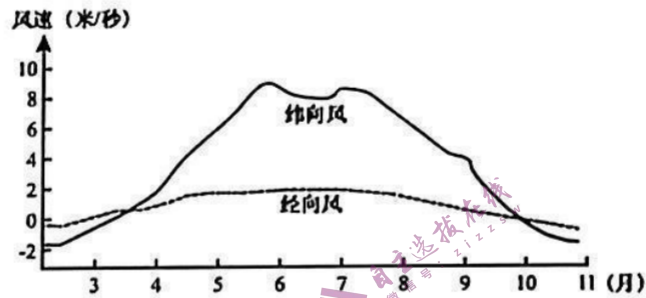
土壤有机碳含量的变化对草地生态系统功能影响巨大。某研究小组在呼伦贝尔温带草原区选取地形、植被等相对一致的 3 块样地,研究不同干扰方式对草地有机碳含量变化的影响。据此完成 4~6 题。



4. 从垂直分布看,不同干扰方式下土壤有机碳含量  
A. 围栏禁牧各深度最大      B. 随深度增加差异变大  
C. 随深度增加差异变小      D. 随深度增加逐渐降低

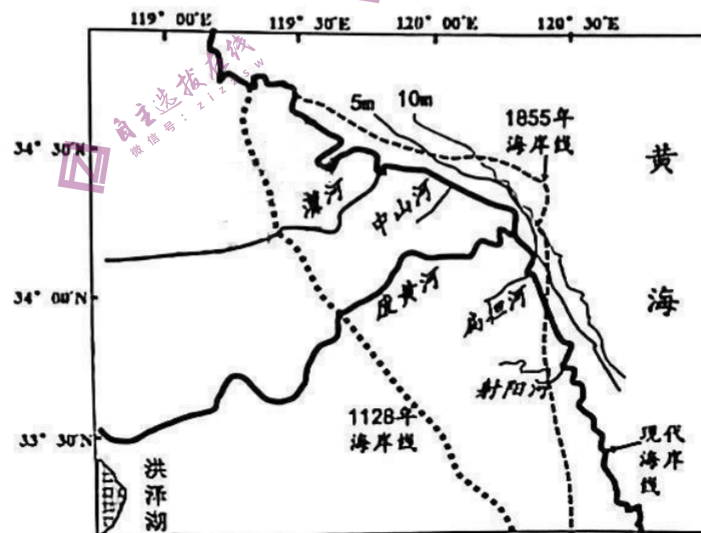
5. 不同干扰方式下, 30~100cm 土壤有机碳总量
- A. 围栏禁牧>围封割草>自由放牧      B. 围封割草>围栏禁牧>自由放牧  
C. 围封割草>自由放牧>围栏禁牧      D. 围栏禁牧>自由放牧>围封割草
6. 与围封割草相比, 自由放牧
- ①加快了土壤养分消耗      ②提高了草地保水性能  
③改善了草地健康状况      ④减少了新有机质输入
- A. ①②      B. ②③      C. ①④      D. ③④

下图示意孟加拉湾 3~11 月多年平均经、纬向风的变化。经向风速大于 0 代表南风, 小于 0 代表北风; 纬向风速大于 0 代表西风, 小于 0 代表东风。据此完成 7~8 题。



7. 5 月至 9 月孟加拉湾经、纬向风形成的主要原因是
- A. 南亚海陆的热力差异显著      B. 气压带、风带的季节移动  
C. 蒙古—西伯利亚高压减弱      D. 北太平洋副热带高压偏弱
8. 孟加拉湾风向变化给沿岸地区带来的主要影响是
- A. 飓风灾害频发      B. 气温季节变化大  
C. 水土流失严重      D. 降水季节变化大

黄河在历史时期频繁发生河道变迁, 在江苏北部沿海曾形成了黄淮三角洲(今废黄河三角洲), 是 1128~1855 年期间黄河南夺淮河入海遗留的产物。下图为废黄河三角洲历史海岸线变化及近岸海床 5 米与 10 米等深线示意。据此完成 9~11 题。



9. 图中建港航行条件最优的是
- A. 灌河口附近      B. 中山河口附近  
C. 废黄河河口附近      D. 射阳河口附近

10. 与 1128 年相比, 1855 年的废黄河三角洲
- A. 沙洲数量增加  
B. 土地面积减小  
C. 岸线长度缩短  
D. 岸线更加平直
11. 1855 年黄河北归渤海后, 废黄河入海口近岸海域的 5 米等深线
- A. 先向北部海域推进, 后反复进退  
B. 先向东部海域推进, 后反复进退  
C. 先向海洋方向推进, 后逐渐稳定  
D. 先向陆地方向推进, 后逐渐稳定
12. 马克思、恩格斯在《共产党宣言》中指出: “雇佣劳动完全是建立在工人的自相竞争之上的。资产阶级无意中造成而又无力抵抗的工业进步, 使工人通过结社而达到的革命联合代替了他们由于竞争而造成的分散状态。于是, 随着大工业的发展, 资产阶级赖以生产和占有产品的基础本身也就从它的脚下被挖掉了。” 由此可得出
- ①生产力发展决定生产关系的变革  
②雇佣劳动是资本主义一切矛盾的根源  
③资本主义灭亡是历史发展的必然趋势  
④工人运动促成了无产阶级和人民大众的联合
- A. ①②  
B. ①③  
C. ②④  
D. ③④
13. 党的十八大以来, 以习近平同志为主要代表的中国共产党人, 坚持把马克思主义基本原理同中国具体实际相结合、同中华优秀传统文化相结合, 科学回答中国之问、世界之问、人民之问、时代之问, 在伟大实践中创立了习近平新时代中国特色社会主义思想, 实现了马克思主义中国化时代化新的飞跃, 主要体现在它
- ①开辟了马克思主义理论发展的新境界  
②为发展马克思主义作出了原创性贡献  
③是中国特色社会主义进入新时代的重要标志  
④是沿着中国特色社会主义道路前进的制度保证
- A. ①②  
B. ①③  
C. ②④  
D. ③④
14. 截至 2022 年末, 全国基本养老保险参保人数达 10.5 亿, 同比增加 2430 万人, 社会保险基金累计结存超 7.4 万亿元; 全国社会保障卡持卡人数 13.68 亿人, 覆盖 96.8% 人口, 电子社保卡领用人数 7.15 亿人; 企业退休人员月人均养老金从十年前的 1686 元增长到 2987 元。这说明我国社会保障
- ①坚持应保尽保原则, 明确各方权利义务  
②维护弱势群体利益, 促进社会和谐发展  
③服务网络基本形成, 保障能力不断增强  
④基本实现全民覆盖, 保障水平持续提高
- A. ①②  
B. ①③  
C. ②④  
D. ③④
15. 新修订的《中华人民共和国反垄断法》2022 年 8 月 1 日正式施行。该法规定, 具有市场支配地位的经营者, 不得滥用市场支配地位, 排除、限制竞争; 经营者不得利用数据和算法、技术、资本优势以及平台规则等从事本法禁止的垄断行为…… 若不考虑其他因素, 下列对该法施行产生积极作用推导正确的是
- ①规范市场秩序→防止资本无序扩张→实现资源优化配置  
②建立行业规则→加强市场监管力度→促进企业均衡发展  
③放宽市场准入→遏制市场垄断行为→维护市场主体利益  
④维护公平竞争→提振企业发展信心→推动经济良性发展
- A. ①②  
B. ①④  
C. ②③  
D. ③④

16. 某社区打造党建引领的“一社三会”（居民代表议事会、社区专家参事会、党员群众共享会）社区治理机制，收集居民需求，引导居民参与社区治理，共建美好社区。这一机制
- ①创新基层自治组织形式，集聚了基层自治能量
  - ②发挥人民群众主体作用，实现了共建共治共享
  - ③坚持党群同频共振发展，丰富了群众政治权利
  - ④推动基层管理的制度化，提升了社会治理效能
- A. ①③                      B. ①④                      C. ②③                      D. ②④
17. 《中华人民共和国立法法》是规范国家立法制度和立法活动、维护社会主义法治统一的基本法律。十四届全国人大一次会议审议通过的《立法法（修正案）》，将“坚持和发展全过程人民民主”写入法律，明确立法工作坚持以人民为中心的价值追求。这一修改
- ①进一步保障了人民参与立法的基本政治权利
  - ②贯彻了科学立法、民主立法、依法立法精神
  - ③丰富了人民有序参与立法、表达意愿的形式
  - ④为立法依靠人民、服务人民、造福人民提供政治保障
- A. ①③                      B. ①④                      C. ②③                      D. ②④
18. 渐进式延迟退休年龄方案引起社会广泛关注。有人赞同渐进式延迟退休，有人认为按照工龄退休更加合理，也有人提出可以自愿退休。由延迟退休引发的不同意见说明
- ①意识活动具有自觉选择性，人们在意识指导下必然作出不同的判断
  - ②人们的思想和行动受世界观影响，世界观不同对事物认识可能不同
  - ③价值判断和选择与人们的立场有关，立场不同可能会导致结论不同
  - ④对主观和客观关系的认识不同，对二者有无同一性的争论可能发生
- A. ①③                      B. ①④                      C. ②③                      D. ②④
19. 2022 年我国因经济发展面临需求收缩、供给冲击、预期转弱三重压力，为稳定宏观经济大盘，保持经济运行在合理区间，年初政府加大了稳健的货币政策实施力度，为经济平稳运行提供了有力支撑。实施稳健货币政策体现了
- ①人类的实践活动是历史地发展着的
  - ②上层建筑的变革会促进经济基础的变革
  - ③正确的社会意识能促进人类社会进步
  - ④社会意识相对于社会存在具有一定的滞后性
- A. ①②                      B. ①③                      C. ②④                      D. ③④
20. 在我国国家治理体系中，人民代表大会制度体现国家性质、决定国家权力的来源和运行方式，是推进国家治理体系和治理能力现代化的有力支撑，推进国家治理体系和治理能力现代化，必须
- ①发挥人大在国家治理中的领导作用
  - ②支持人大代表人民统一行使国家权力
  - ③确保权力机关与其他国家机关相互监督
  - ④通过人民代表大会制度完善国家治理法律体系
- A. ①③                      B. ①④                      C. ②③                      D. ②④
21. 联合国秘书长发言人 2023 年 2 月 24 日表示，中方发布的《关于政治解决乌克兰危机的中国立场》文件是一项重要贡献，强调处理和解决国际争端，必须遵循公认的国际法，包括联合国宪章的宗旨和原则。这强调了
- ①国际社会应按照各国共同达成的规则和共识来治理
  - ②各成员国应支持联合国在国际事务中发挥核心作用
  - ③联合国倡导开展多领域合作，推动政治一体化建设
  - ④各国应顺应时代发展潮流推进国家治理模式统一化
- A. ①②                      B. ①③                      C. ②④                      D. ③④

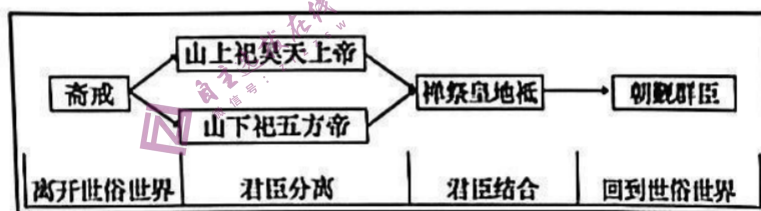
22. 王某是一位个体工商户，一生未婚，父母已去世，与养子小王相依为命。由于经营不善，王某欠下40万元债务，病逝后留下一套价值30万元房产。对于王某遗产的继承，下列说法正确的是
- ①小王可继承王某的房产，须偿还债务40万元  
 ②小王有权继承王某的房产，应偿还债务30万元  
 ③小王有权继承王某的房产，不承担偿还债务的义务  
 ④小王可以放弃继承权，不承担偿还债务40万元的义务
- A. ①③                      B. ①④                      C. ②③                      D. ②④

23. “如果下雨，运动会就延后。”根据这一判断，下列推理有效的是
- ①运动会延后，下雨了                      ②运动会没有延后，没有下雨  
 ③下雨了，运动会延后                      ④没有下雨，运动会没有延后
- A. ①②                      B. ①③                      C. ②③                      D. ③④

24. 中原地区由于玉矿匮乏，早期文明一直缺少玉器，装饰品也以陶、蚌、骨、石质居多。但近年考古发现，在陶寺文化（今山西南部）遗址中出现了具有良渚风格的琮、钺、环、梳等大件玉器。这表明，新石器时代
- A. 南北审美观念趋同                      B. 部族联系趋于紧密  
 C. 社会分工不断细化                      D. 阶级分化日益明显

25. 西汉前期“天下初定，复弛商贾之律”，但仍然规定“市井之子孙亦不得仕宦为吏”。至武帝时代，朝廷多选经验丰富的富商大贾为吏，时人记载武帝“除故盐铁家富者为吏，益多贾人矣”。这一调整旨在
- A. 改革抑商政策                      B. 整顿官僚系统  
 C. 管控社会经济                      D. 扩大征税对象

26. “封禅”是古代帝王在泰山祭祀天地的国家礼制，下图是《大唐开元礼》记载的唐玄宗封禅仪式的流程。据此可知，当时的封禅活动



- A. 彰显了皇权的神圣性                      B. 体现了教化的广泛性  
 C. 折射了礼制的普适性                      D. 强调了专制的独断性
27. 明初统治者视御史为“耳目风纪之司”，强调应选用性格耿直且富有行政经验的“老成”之人担任，还特别规定新科进士不得擢用为御史。该规定有利于
- A. 提高御史秩位                      B. 增强治理效能  
 C. 提升官员素养                      D. 保证监察独立
28. 1860~1862年，清朝地方16个乡试中停科者达12个，为庚子事变前乡试停科最多的时期。1864年，清廷下诏恢复正常科举考试并扩大捐输及乡试中举名额。此举反映出清廷
- A. 着力培养新式人才                      B. 拓宽政府税源  
 C. 意图笼络汉族地主                      D. 示好西方列强

29. 20 世纪初, 陈天华曾批评当时“出洋学生”未能用“卢骚的《民约论》”来“喊醒祖国同胞的迷梦”; 但在《狮子吼》中, 他则虚构出具有“反清复明”色彩的“民权村”世外桃源。这说明当时
- A. 民主革命缺乏基础  
B. 托古改制成为潮流  
C. 西学东渐影响日深  
D. 清末新政激化矛盾

30.

1939~1941 年间中法四次借款购材全额分配表 (单位: 千美元)

年份	借款金额	军用物资	工业器材	机器	汽车及配件	油料	运费	图书仪器
1939.2	桐油借款 25000	7733			12096	3910	1300	
1940.4	华锡借款 20000	13962		1940	621	3477		
1940.10	钨砂借款 25000	6081			4120			
1941.2	金属借款 25000	9681	14656.7		458.4			800
	合计	37457	14656.7	1940	17295.4	7387	1300	800

据上表可知, 当时

- A. 中国抗战得到普遍支持  
B. 民族工业发展失衡  
C. 美国加大对华资本输出  
D. 正面战场形势严峻
31. 1953 年 4 月, 中共中央下达指示, 要求党员干部学习《联共(布)党史简明教程》和列宁、斯大林论社会主义经济建设的一部分著作, 并选取相关文件配合研读。在中央精神指导下, 各级党政机关很快做出学习部署。这一指示的出台缘于
- A. 土地革命全面开展  
B. 改变落后面貌的迫切需要  
C. 美苏冷战持续升级  
D. 国际共产主义运动的发展
32. 埃及出土文献中记载了一对父子名字的变化: 公元前 119 年, 儿子使用希腊和埃及双名, 其父仅用埃及名字; 公元前 116 年, 父子均用双名; 公元前 115~101 年, 父子均只用希腊名字; 公元前 101 年, 儿子被描述为“一个马其顿人”。这可以用来佐证
- A. 血缘关系影响政治选择  
B. 民族冲突改写历史记忆  
C. 文化交流促进族群认同  
D. 帝国扩张塑造同质文明
33. 中世纪早期, 书籍中儿童游戏的画面多以负面形象出现。到了 15 世纪, 儿童游戏的场面越来越多地出现在西欧宗教画作中。游戏不再有罪、戾而成了纯真乃至圣洁的象征。这一变化表明
- A. 人文主义传播  
B. 宗教改革兴起  
C. 人神关系重构  
D. 世俗生活多样
34. 18 世纪中期, 英国伯克郡一位富家小姐在给姐姐的信中抱怨: “农夫的女儿去教堂, 戴着用薄纱、丝带和假花点缀的帽子, 和我们一样奢侈……如果星期天去教堂, 你都会怀疑我不是这个教区最富有的人。”这可以用来说明当时
- A. 贫富差距明显缩小  
B. 工业革命深入开展  
C. 世界市场基本形成  
D. 等级观念受到冲击
35. 1954 年, 赫鲁晓夫在给苏共中央主席团的信中说: “苏联的农业产量需要大幅度提高, 农产品的匮乏已经严重到即使农业以每年 10% 的速度增长, 也难以解决城市的粮食供应, 因为城镇人口的增长过于迅速。”据此可知当时苏联
- A. 人口迅速增长  
B. 工业化扩张速度过快  
C. 粮食依赖进口  
D. 农业集体化亟待推进

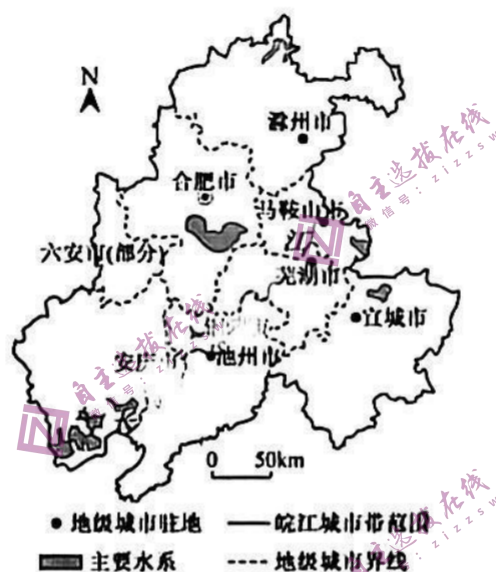
## 第II卷

二、非选择题：本题共9小题，共160分。

(说明：地理部分2题，共56分；思想政治部分4题，共52分；历史部分3题，共52分)

36. 阅读图文材料，完成下列要求。(28分)

大城市的虹吸效应指大城市利用自身的资源(教育、医疗等优势)，对于一些弱势省份和城市产生冲击，从而将弱势地区城市的人口、资源等吸纳过来，产生复杂多样的影响，具有正反面多重表现。皖江城市带指安徽长江两岸的合肥、芜湖、马鞍山、安庆、滁州、池州、铜陵、宣城8个地级市全境以及六安市的金安区和舒城县，是长江经济带重要的组成部分。下图是皖江城市带简图。



(1) 说明交通与信息网络给皖江城市带各城市交流联系带来的积极影响。(6分)

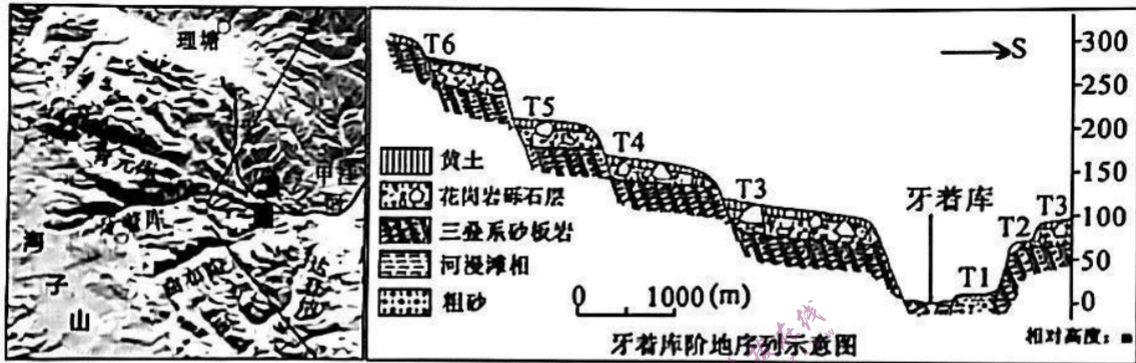
(2) 从人口资源角度，简析虹吸效应对区域中心城市合肥发展带来的有利影响。(6分)

(3) 简述合肥市的发展对皖江城市带和长三角地区的辐射带动作用。(6分)

(4) 列举合肥市应对长三角其他核心城市虹吸效应可采取的措施。(10分)

37. 阅读图文材料，完成下列要求。（28分）

河流阶地是研究区域构造活动与气候变化的良好载体。牙着库发源于青藏高原东南部横断山系中的海子山。海子山主要分布于海拔4500~4700米的古夷平面上，分布众多花岗岩漂砾和湖泊。从第四纪开始，全球气候出现了明显的冰期和间冰期交替的模式，强烈影响该地区地貌的演变。左图为海子山的局部三维影像地貌图，右图是牙着库出山口附近的河流阶地断面示意图（其中相对高度的参照面是海拔3686m的现代河床）。



(1) 从气候变化角度，说出现代海子山地区水量增多的原因。（6分）

(2) 指出阶地 T3~T6 中花岗岩砾石的源地并说明判断理由。（6分）

(3) 从物质来源与动力角度，描述自冰期到间冰期牙着库阶地中花岗岩砾石沉积物的堆积过程。（6分）

据研究，海子山地区属于喜马拉雅巨型复谷逆山带中的一部分，牙着库北岸地壳抬升幅度较大。第四纪冰期时牙着库北岸被大面积的巨厚冰盖覆盖，牙着库南岸冰层较薄。间冰期冰盖消融形成的消融区内，冰盖重力导致的岩层形变会缓慢恢复。

(4) 简述图中牙着库两侧阶地分布的差异并分析其成因（10分）



38. 阅读材料，完成下列要求。（12分）

2022年10月27日，中共中央总书记习近平带领中共中央政治局常委前往陕西延安，瞻仰延安革命纪念地，重温革命战争时期党中央在延安的峥嵘岁月。

在延安时期，杨家岭是毛泽东居住时间最长的地方，著名的“窑洞对”就是在这里进行的。“窑洞对”的要义，是回答如何跳出治乱兴衰历史周期率、避免人亡政息，确保政权长期存在的问题。在“窑洞对”中，毛泽东同志给出了第一个答案，这就是让人民监督政府。党的十八大以来，以习近平同志为核心的党中央实施全面从严治党战略，坚决反对“四风”，做到“打虎”无禁区、“拍蝇”不手软、“猎狐”不止步，纠正党内宽松软现象，将全面依法治国纳入全面从严治党的视域，在全面从严治党的实践中给出了第二个答案，这就是党的自我革命。

结合材料，运用《政治与法治》知识，说明“两个答案”对新时代加强党的建设的重要意义。

39. 阅读材料，完成下列要求。（20分）

材料一 当今世界，虽然许多国家都在努力建设现代化，但真正全面建成现代化的国家并不多。一些发展中国家不顾自身发展的国情和历史方位，全盘照搬西方模式，结果发展过程极为艰难。可以说，现代化不是非此即彼的“单选题”，不能搞简单的千篇一律、“复制粘贴”。人类历史上没有一个民族、一个国家可以通过依赖外部力量、照搬外国模式、跟在他人后面亦步亦趋实现强大和振兴。

材料二 鸦片战争后，在现代化浪潮冲击下，古典文明开始崩溃，中华民族也因此走向衰落。推动文明转型、构建现代文明形态，成为实现中华民族伟大复兴的必然选择。今天，中国共产党领导中国人民以解决中国社会的主要矛盾为突破口，吸收和借鉴了一切有益于社会生产力发展的人类文明成果，进行了对既存现代文明的批判、突破、改造与革新，推动了面向未来人类现代文明的中国形态的要素生成和发展，既包括政党、国家、社会和市场等主体要素，也包括物质文明、政治文明、精神文明、社会文明和生态文明等内容要素，成功走出了一条中国式现代化道路，开创了人类文明新形态。

(1) “一切成功发展振兴的民族，都是找到了适合自己实际的道路的民族。”结合材料一，运用矛盾的观点谈谈这句话对实现中国式现代化的启示。（10分）

(2) 结合材料二，运用辩证的否定观分析为什么中国能够成功开创人类文明新形态。（10分）

40. 阅读材料，完成下列要求。（12分）

粮食安全是人类生存的根本性问题。当前，受国际上多种不利因素影响，世界粮食安全面临严峻挑战。中国始终坚持以我为主、立足国内，确保14亿人的饭碗牢牢端在自己手中。在保证自身粮食安全同时，也为保障世界粮食安全发出“中国倡议”、贡献“中国方案”、扛起“中国担当”：首次倡议召开国际粮食减损大会，《国际粮食减损济南倡议》从10个方面向世界发出中国“粮”言；推动各国在粮食减损、检疫等方面形成合理国际规则，促进形成公平公正的国际粮食市场秩序；向友好国家提供粮食、技术和政策援助，促进粮食安全水平协同提升；为非洲国家培养培训农业专家和官员，提高这些国家政府制定粮食政策的能力……中国在世界粮食安全上充分展示了负责任大国的国际形象，为共建全球粮食安全共同体作出了大国贡献。

结合材料，运用《当代国际政治与经济》相关知识，评价我国在维护全球粮食安全方面所作的努力。

41. 阅读材料，完成下列要求。（8分）

2022年4月20日，甲建筑公司向乙钢铁公司发出传真，要求订购1000吨钢材，价格每吨5100元，5月20日前送达指定施工现场，运输费由乙公司承担。乙公司回复：同意，但每吨价格需提高100元。甲公司表示接受。由于乙公司在生产过程中设备突发故障，影响了正常生产。乙公司将这一情况及时通知了甲公司，并于5月23日将900吨钢材送达到位。由于未能按期送货，导致甲公司工期推迟，损失近10万元。

(1) 分析本案中合同订立过程的两个阶段。（4分）

(2) 说明乙公司违反了哪一项合同履行原则，并指出其应承担的法律责任及方式。（4分）

42. 阅读材料，完成下列要求。（25分）

材料一 清中后期，专业汇兑、承担存放款的票号出现，其中以山西票号最为著名。票号业务主要是通过分布在全国重要城镇的分号进行，但分号不留流动资金，资本全部储存于总号，获利亦由总号统一计算。在管理上，财东聘请大掌柜进行管理，如营业决策、分号设置、人员调配等皆归大掌柜负责，双方凭信义合作。民间商业融资和异地结算在山西票号的运营下顺畅起来，商业贸易迅猛发展。票号除承担城镇间的货币清算之外，后期还代理了清廷的部分汇兑及贷款业务。复杂的资金周转困局使票号经营难以维系，不能适应海洋贸易和现代银行的挑战。辛亥革命之后，大多数票号搁浅关闭，<sup>①</sup>走向衰败之路。

——摘编自黄鉴晖《山西票号史》

材料二 为筹集英法战争军费，1694年辉格党人主导成立了英格兰银行。三年后，英国政府再次向其借款，并颁布法令禁止其他同类型银行成立。在此之后，英格兰银行获得纸币发行的准垄断权，逐渐控制了英国的货币供给。19世纪中后期，英格兰银行已经成为“银行的银行”，承担经理国库、发行货币、平衡物价、调节利率、保管外汇等职责。虽然不是最早的发明者或实践者，但是通过吸收和创新，此时的英格兰银行已成为现代国家中央银行的范本。

——摘编自孙立新《英格兰银行史》

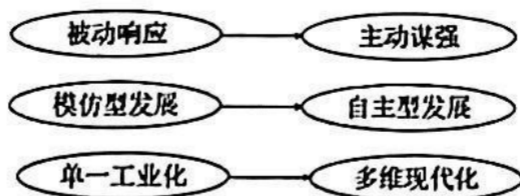
(1) 根据材料一，概括山西票号经营的特点。（8分）

(2) 根据材料并结合所学知识，分析山西票号与英格兰银行发展呈现不同特点的背景。（12分）

(3) 根据材料并结合所学知识，简析中英近代金融业兴衰的历史启示。（5分）

43. 阅读材料，完成下列要求。（12分）

材料 中国式现代化道路打破了西方国家关于现代化发展模式和人类文明形态的话语垄断，蕴含着独特的中国基因和鲜明的中国特色，为广大发展中国家走向现代化提供了中国智慧和方案。下图为学者归纳的中国现代化的3种阶段演进特征：



——据仰义方、武化：《中国式现代化道路的演进逻辑、鲜明特征与实践路径》

据此，选择其中一种阶段性演进特征，结合中国近现代史的相关史实，进行简要阐释。（要求：史论结合，史实准确，逻辑清晰）

44. 阅读材料，完成下列要求。（15分）

材料 从公元前18世纪起，北方游牧民族对亚欧农业带曾进行过三次较大规模的入侵。游牧民族对农耕世界的冲击，在历史学中常常被称为“蛮族入侵”，在某种意义上也是一种文化交流的形式。首先，游牧民族侵入农耕世界后，多多少少把游牧民族的文化和技术传给了农耕民族。其次，农耕民族在文明程度上高于游牧民族，但相较之下又过于文静柔弱、缺乏活力。为了抵御游牧民族的不断侵袭，许多农耕民族不得不对自己的政治、经济和军事体制进行改革，甚至借鉴入侵的游牧民族的某些技艺，从而使自己更加强大起来。最后，文化的力量比武器的力量大千百倍，游牧民族对文明民族的武力征服最终会被文明民族的文化所征服。

——摘编自何顺果《世界史：以文明演进为线索》

(1) 以具体史实，说明“蛮族入侵在某种意义上也是一种文化交流的形式”。（9分）

(2) 根据材料并结合所学知识，概括影响文明演进的主要因素。（6分）