

[试卷免费提供]

## 贵阳市 2023 年高三适应性考试 (二)

# 文科综合

2023 年 5 月

### 注意事项:

1. 回答前, 考生务必将自己的姓名、报名号、座位号填写在答题卡上。
2. 回答选择题时, 选出每小题答案后, 用铅笔把答题卡上对应题目的答案标号涂黑。如需改动, 用橡皮擦干净后, 再选涂其它答案标号。回答非选择题时, 将答案写在答题卡上。写在本试卷上无效。
3. 考试结束后, 将答题卡收回。

一、选择题: 本题共 35 小题, 每小题 4 分, 共 140 分。在每小题给出的四个选项中, 只有一项是符合题目要求的。

表 1 为我国 2010—2018 年东、中、西部农民工不同就业地占比变化(单位: 百分比)。据此完成 1~3 题。

表 1

年份	东部			中部			西部		
	镇内	镇外省内	省外	镇内	镇外省内	省外	镇内	镇外省内	省外
2010	53.41	37.41	9.18	26.34	22.76	50.90	21.03	34.04	44.93
2012	54.01	38.49	7.50	27.38	24.55	48.07	23.76	33.09	43.15
2014	53.10	38.31	8.59	31.54	25.44	43.02	26.52	33.85	39.63
2016	54.89	37.06	8.05	32.21	25.79	42.00	29.26	33.80	36.94
2018	54.68	37.52	7.80	32.71	26.52	40.77	30.51	35.05	34.44

1. 2010—2018 年, 我国农民工跨省就业主要从事

- ①农产品销售      ②社会性服务业      ③建筑行业      ④房屋租赁行业

- A. ①②      B. ①③      C. ②③      D. ②④

2. 2010—2018 年, 中西部地区农民工镇内就业占比变化的主要原因是

- A. 公共服务升级      B. 环境条件改善  
C. 城乡差距缩小      D. 承接产业转移

3. 2010—2018 年我国农民工跨省流动, 使

- A. 中西部地区人均消费剧增      B. 东部地区老龄化进程趋缓  
C. 中西部地区人均收入剧降      D. 东部地区劳动力供给过剩



我国J汽车企业坚持自主研发,积极实施国际化战略。截止2022年,已在哈萨克斯坦、俄罗斯、越南、墨西哥等国家建成了19家海外汽车散件组装工厂。2019年成功参与收购哈萨克斯坦最大汽车工业集团,为企业开拓亚欧市场奠定重要基础。据此完成4~6题。

4. J企业建立众多海外汽车散件组装工厂的主要目的是
- A. 方便原料供应                      B. 提升企业形象  
C. 提高产品质量                      D. 开拓国际市场
5. J企业选择哈萨克斯坦作为开拓亚欧市场的重要基地,主要考虑
- ①用地规模              ②产业基础              ③辐射作用              ④生态环境
- A. ①②              B. ①③              C. ②③              D. ②④
6. 目前, J企业国内总部主要为哈萨克斯坦汽车基地提供
- A. 燃料能源              B. 技术资金              C. 生产工人              D. 售后服务

圣萨尔瓦多岛(24.5° N, 75.9° W)干湿季明显,岛上地势低洼的石灰岩地层中分布着数量众多的香蕉洞(因洞内生长香蕉树而得名)。香蕉洞多“小开口、大洞厅”的形态特征,图1示意香蕉洞。据此完成7~8题。




图 1

7. 该地香蕉洞“小开口、大洞厅”形态的形成原因是
- A. 生物风化差异                      B. 背斜顶部坍塌  
C. 岩层差异侵蚀                      D. 地壳断裂下陷
8. 下列日期中,甲、乙两树正午影长差异最小的是
- A. 3月1日                      B. 4月1日  
C. 6月1日                      D. 7月1日



13. 2022年11月,发改委发布《关于进一步完善政策环境加大力度支持民间投资发展的意见》,提出根据“十四五”规划102项重大工程、国家重大战略等明确的重点建设任务,选择具备一定收益水平、条件相对成熟的项目吸引民间资本参与。重点建设吸引民间资本参与有利于

- ①提升民间资本运营效率,引导其全面进入各领域
- ②发挥民营经济主体地位,保持整体投资平稳增长
- ③强化民间投资政策支持,改善民间资本投资预期
- ④提振民营企业投资信心,激发民间资本投资活力

A. ①②      B. ①③      C. ②④      D. ③④

14. 央行逆回购作为我国的货币政策之一,简言之,就是央行把钱借给商业银行,商业银行则把债券质押给央行。2023年3月30日,中国人民银行以利率招标方式开展了2390亿元公开市场逆回购操作。该货币政策发挥作用的传导路径正确的是

- ①增加信贷资金供应      ②适度放宽融资条件      ③市场利率水平降低
- ④引导资金使用方向      ⑤助力企业减负纾困      ⑥促进经济平稳运行

A. ①→③→⑤→⑥      B. ②→①→④→⑥  
C. ①→④→③→⑤      D. ②→③→④→⑤

15. 某企业2014年以来滥用市场支配地位,实施“不公平高价”和“限定交易”等垄断行为,严重侵害了用户的合法权益。2022年12月26日,国家市场监督管理总局依法作出行政处罚决定,责令该企业停止违法行为,并处以其2021年中国境内销售额17.52亿元5%的罚款,共计8760万元。这一事件给我们的启示是

- ①发挥市场决定作用,提高资源配置效率
- ②加强国家宏观调控,增强市场主体责任意识
- ③完善信用体系建设,克服市场滞后性弊端
- ④健全行业监管机制,预防和制止垄断行为

A. ①②      B. ①③      C. ②④      D. ③④

16. 某社区依托基层党组织战斗堡垒作用，以需求带动服务，利用线上自治小程序，搭建社区、社会工作者、社区社会组织、社区志愿者、社区公益慈善资源基层治理行动框架，推动“五社”联动发力，创新开展多元化合作模式，解决了一系列群众急难愁盼的问题。“五社”联动机制
- ①是社区共建共治共享的生动体现
  - ②能增强居民参与民主管理的实际本领
  - ③是对基层行政管理体制的进一步完善
  - ④实现了自治、法治、德治“三治融合”
- A. ①②      B. ①③      C. ②④      D. ③④
17. 2022年是中国共产党明确提出统一战线政策100周年。长期以来，各民主党派与中国共产党同心同德、携手同行，围绕改革发展稳定中的重大课题深入调研、开展民主监督，为中共中央科学决策、有效施策提供了重要参考。这反映
- ①中国共产党与各民主党派是通力合作的友党关系
  - ②民主党派通过政治协商和民主监督的方式参与执政
  - ③中国共产党高度重视国家权力机关代表的意见建议
  - ④我国新型政党制度在凝聚共识谋大事中具有独特优势
- A. ①③      B. ①④      C. ②③      D. ②④
18. 援外医疗是中国援外工作的重要内容。自1963年中国向阿尔及利亚派出第一支援外医疗队以来，中国已累计向76个国家和地区派遣医疗队员3万人次，诊治患者2.9亿人次。60年间，中国医疗队多次逆行出征、深入一线，用仁心仁术为当地民众带去健康平安。中国援外医疗
- ①表明中国人民热爱和平、珍视生命
  - ②说明中国与各国存在着广泛的共同利益
  - ③保障了发展中国家享有平等的发展权利
  - ④为推动构建人类卫生健康共同体作出了贡献
- A. ①②      B. ①④      C. ②③      D. ③④

19. “修史立典，存史启智，以文化人，这是中华民族延续几千年的一个传统。”于2019年全面启动编纂的《复兴文库》是党中央批准实施的重大文化工程，精选了1840年鸦片战争以来同中华民族伟大复兴相关的重要文献。全书目前已经出版的三编共计37卷、195册、6190万字，字里行间回响着一个古老民族走向复兴的铿锵足音。实施这一重大工程的文化意义在于
- ①唤醒文化记忆，传承革命文化
  - ②坚定历史自信，振奋民族精神
  - ③丰富文化内涵，破解实践难题
  - ④述录先人开拓，启迪来者奋斗
- A. ①③                  B. ①④                  C. ②③                  D. ②④
20. 十年来，中国不断推动不同文明交流对话，共建世界文明百花园。在沙特阿拉伯塞林港遗址，中沙联合考古的文物工作者用匠心巧手诠释“美人之美、美美与共”；在中希文明互鉴中心，见证中国和希腊两大文明交相辉映，树立文明互鉴的典范……中国与世界共同描绘了一幅幅多元互动的人文交流图景。由此可见
- ①文化既是民族的又是世界的
  - ②文化交流利于推动世界文化的繁荣发展
  - ③文化价值取决于文化传播的广度和深度
  - ④保持文化多样性是促进文化交流的重要途径
- A. ①②                  B. ①③                  C. ②④                  D. ③④
21. 2022年11月，“浙江庆元林—菇共育系统”被认定为全球重要农业文化遗产。数百年来，当地菇农通过利用森林资源科学发展食用菌产业，创造和发展了以林—菇共育技术为核心的森林保育、菌菇栽培、农业生产有机融合的山地农林复合生产系统，形成了森林、梯田、村落和河流相互协同的结构合理的土地利用类型和生态景观。这表明
- ①在实践中创造性地利用资源，可促进山地农林融合发展
  - ②人们改变事物的属性和存在条件，能推动农业生产质的飞跃
  - ③坚持联系的观点看问题，实现森林保育和菌菇栽培和谐共生
  - ④着眼于系统中各个要素，有利于合理挖掘和利用森林资源
- A. ①②                  B. ①③                  C. ②④                  D. ③④

22. 习近平总书记在 2023 年中国共产党与世界政党高层对话会上强调，我们要秉持独立自主原则，探索现代化道路的多样性，既要遵循现代化一般规律，更要立足本国国情，具有本国特色；我们要树立守正创新意识，保持现代化进程的持续性，面对各种新问题新情况新挑战，我们要冲破思想观念束缚，破除体制机制弊端，为现代化进程注入源源不断的强大活力。这一论断的哲学依据是
- ①矛盾双方在一定条件下相互转化  
 ②任何事物都是共性与个性的统一  
 ③批判精神与创新意识是紧密相联的  
 ④困难越多越有利于新事物的成长
- A. ①③                      B. ①④                      C. ②③                      D. ③④
23. 《雷锋日记》中的警句格言比比皆是：不经风雨，长不成大树，不受百炼，难以成钢；世界上最光荣的事——劳动，世界上最体面的人——劳动者；人的生命是有限的，可是为人民服务是无限的，我要把有限的生命投入到无限的为人民服务之中去……从中我们可以感悟到
- ①要在劳动和奉献中创造人生价值  
 ②发挥主观能动性是实现人生价值的必由之路  
 ③利用社会提供的客观条件，为实现人生价值创造前提  
 ④投身为人民服务的实践，正确处理个人与社会的关系
- A. ①②                      B. ①④                      C. ②③                      D. ③④
24. 商周时期，神鸟“凤”被视为“天下太平”的祥瑞之兆，凤纹只在统治阶层专用的青铜器皿、玉饰物件上出现；春秋战国时期，“凤”的造形各异，陶器、漆器、织物、铜镜等普通器物都出现了凤纹装饰。这一变化反映了
- A. 社会权力结构变革的趋势                      B. 物质丰富讲究美学雕饰  
 C. “凤”纹成为权力的标志                      D. “凤”纹成为流行时尚
25. “光武皇帝愠数世之失权，忿强臣之窃命，矫枉过直，政不任下，虽置三公，事归台阁。自此以来，三公之职，备员而已。”材料表明东汉
- A. 实行郡国并行以加强地方治理                      B. 确立新的行政中枢以加强君权  
 C. 解决了分封制遗存的割据隐患                      D. 以文书制度提高行政管理效率

26. 唐代服装以青绿为主色调，配与朱红、朱黄等色调，其色泽明快、浓烈色彩展示了社会生活的勃勃生机与热情奔放；而宋代服饰以色泽简素之雅的淡蓝为主色调，崇尚素净温润、闲散淡远、顺万物之道的自然美。这一变化源于
- A. 服饰文化从多元开放走向平淡内敛  
B. 以服饰明礼制的文化元素渐趋消亡  
C. 主流思想的审美意趣影响服饰美学  
D. 服饰的流行色调受纺织水平的影响
27. 明朝科举考试的主要内容是八股文，清朝沿袭其制。主要特点有：从儒家经书中命题作文，写作时必须遵循程朱理学的有关解释；需要模仿古代“圣贤”口吻写作，不许自由发挥个人见解；作文的骨干部分以四段对偶排比文字写作。这表明，明清科举考试
- A. 重视应试者发表思想见解  
B. 将治才教育与选官制度紧密结合  
C. 解决了公平与择优的矛盾  
D. 以纲常伦理的原则固化选官标准
28. 汉朝以后，凡涉及买卖、租佃、借贷等财产关系的事宜，当事人之间几乎都要订立书面契约，规定各自的责权利和行为后果；唐宋以后，契约应用更加广泛。这表明契约
- A. 解决了地区间贸易的汇兑问题  
B. 规范交易行为、维护商业秩序  
C. 便于资金调度、拓宽信贷渠道  
D. 形成商业文化、统筹商业贸易
29. 1885年，清廷诏谕：“台湾为南洋门户，关系紧要，自应因时变通，以资控制。着将福建巡抚改为台湾巡抚，常川驻扎。福建巡抚即着闽浙总督监管。所有一切改设事宜，该督详细筹议，奏明办理。”据材料判断，清政府
- A. 加强治理东南开埠的地区  
B. 加强了中央政治权力结构的调整  
C. 开始探索国家发展的出路  
D. 认识到东南海疆战略地位的重要
30. 1918年2月，钱玄同在《新青年》刊文指出：“可叹近来一班作‘某生’‘某翁’文体的小说家，当其撰译外国小说之时，每每说：西人无五伦，不如中国社会之文明；自由结婚男女恋爱之说流毒无穷；中国女人重贞节，其道德为万国之冠……若遇人不淑，而能逆来顺受，始终不渝。”据材料推知，新文化运动
- A. 旨在政治革命与思想变革并举  
B. 使东西方文化论争深入人心  
C. 以解放思想推动深刻社会变革  
D. 推崇儒家纲常伦理的价值观



31. 1953年7月,《朝鲜停战协定》签订后,毛泽东与中共中央领导人研判形势:世界大战大致十年到十五年打不起来,争取十五年不打仗是有可能的。为抓住这来之不易仍充满变数的和平机遇,中共中央
- A. 大力开展“一化三改”的建设      B. 以“八字”方针指导国民经济发展  
C. 建立门类齐全的基础工业项目      D. 提出了建设“四个现代化”的目标
32. 柏拉图在《理想国》中写道:“(民主制度)看起来是一种使人乐意的无政府状态的花哨的管理形式。在这种制度下不加区别地把一种平等给予一切人,不管他们是不是平等者……那些被判了死罪的或要流放国外的,竟好像没事人一样,照旧在人民中间来来往往,也竟好像来去无踪的精灵似的没人注意他们。”据材料推断,柏拉图
- A. 宣传民主政治带来的社会公平      B. 批判直接民主带来社会混乱和无序  
C. 认为民主政治维护了法律尊严      D. 肯定社会阶层流动得益于民主政治
33. 马克思认为:“路德战胜了虔信造成的奴役制,是因为他用信念造成的奴役制代替了它。他破除了对权威的信仰,是因为他恢复了信仰的权威。他把人从外在的宗教笃诚解放出来,是因为他把宗教笃诚变成了人的内心世界。他把肉体从锁链中解放出来,是因为他给人的心灵套上锁链。”材料指出
- A. 合意与契约自由精神的重要      B. 强化天主教会对人行为约束  
C. 宗教伦理强化了教化的影响      D. 马丁·路德思想的双重作用
34. 1971年春,国际金融市场出现抛售美元、抢购黄金的高潮。美国政府提出停止美元兑换黄金,并对进口商品课以10%附加税的紧急计划。法国政府带动欧共体六国联合起来,与美国等10国在华盛顿举行会议,美国同意美元同黄金的比价贬值7.8%,并取消征课附加税。这反映
- A. 欧共体以战略自主维护国家利益      B. 欧美意识形态发生了激烈冲突  
C. 欧美通过政治谈判解决外交危机      D. 欧美国家安全战略的激烈碰撞

35. 1943年,美国画家杰克逊·波洛克创作绘画《蓝》(见图3),作品中起伏剧烈的色块仿佛是怒吼的海洋又像暴雨前的天空,似鱼似鸟的生物围绕在画面上,加剧了奇幻空间带来视觉上的奇异感觉。该作品反映了



图3 《蓝》

- A. 海洋的神秘莫测与瞬息万变  
B. 人类征服自然的强烈愿望  
C. 人类对战争迷茫的复杂情感  
D. 人与自然和谐发展的理想

二、非选择题:共160分。第36~42题为必考题,每个试题考生都必须作答。第43~47题为选考题,考生根据要求作答。

(一)必考题:共135分。

36. 阅读图文材料,完成下列要求。(22分)

香榧树属常绿乔木,树形高大,喜光怕晒、喜温怕寒、喜湿怕涝、忌强风。香榧口感独特、加工复杂,从幼树到挂果需15-25年,幼果需三年方可成熟,通常9月中下旬采摘,素有“千年香榧三代果”之称(一颗树上同时有花、幼果和熟果)。安徽黟县是我国为数不多的香榧主产地之一,近年来在乡村振兴战略的推动下,当地许多农户选择在茶园中混种香榧的经营模式。图4示意黟县地形。

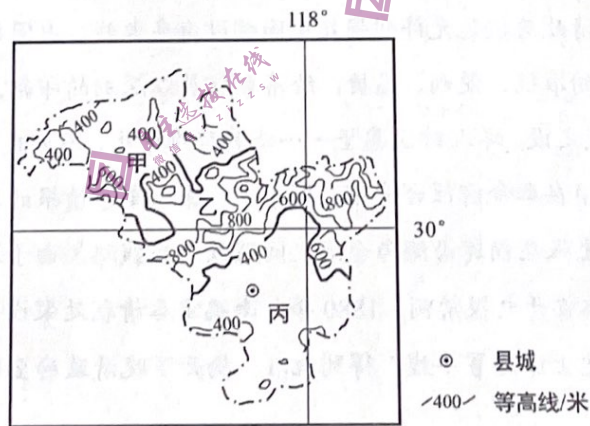


图4

- (1) 指出甲、乙、丙三地中最适宜种植香榧的地区,并从地形说明原因。(8分)  
 (2) 分析香榧价格昂贵,黟县却没有大范围种植的原因。(8分)  
 (3) 分析黟县许多农户选择在茶园中混种香榧的优势。(6分)

37. 阅读图文材料，完成下列要求。(24分)

颗粒有机碳是不溶解于水的有生命或无生命的有机颗粒物质，在碳循环中占有重要地位。某地理研究团队考察北冰洋某海域时发现：该海域超 2/3 的区域水深小于 20 米，海水中颗粒有机碳主要受径流输入、海岸侵蚀、浮游生物和沉积物再悬浮等作用影响，5~9 月颗粒有机碳浓度较大。图 5 示意该海域表层和底层的有机碳浓度分布。

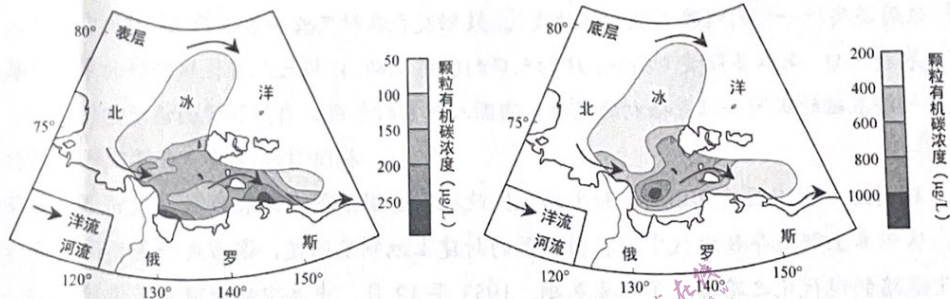


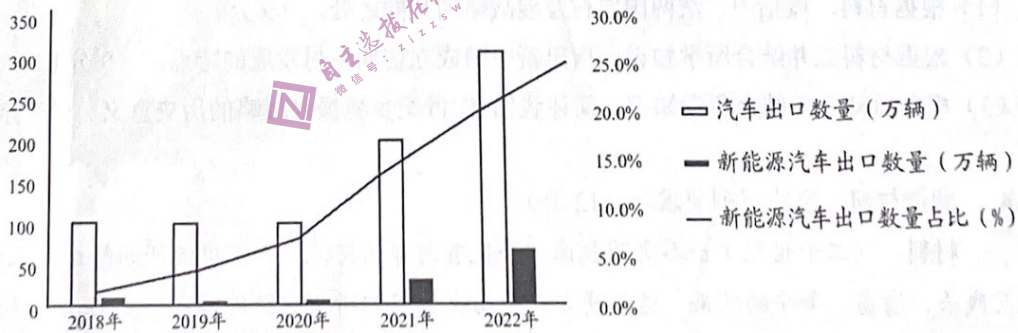
图 5

- (1) 归纳该图示海域海水中颗粒有机碳浓度的空间分布特征。(6分)
- (2) 说明该海域底层海水中颗粒有机碳浓度最大区域的形成过程。(8分)
- (3) 分析图示海域海水中颗粒有机碳浓度 5~9 月较大的原因。(6分)
- (4) 推测该海域海水中颗粒有机碳向外输出的主要途径。(4分)

38. 阅读材料，完成下列要求。(14分)

材料一

2018年—2022年中国新能源汽车出口数量情况



注：我国新能源汽车产销量连续8年保持全球第一，2022年我国新能源汽车产销量分别为705.8万辆和688.7万辆，同比分别增长96.9%和93.4%。

图 6

## 材料二

发展新能源汽车是我国从汽车大国迈向汽车强国的必由之路。

新能源汽车以其碳排放低、使用成本低、行使安静等优点而受到人们的青睐。为促进新能源产业发展，我国制定了《新能源汽车产业发展规划（2021-2035年）》，推出了融资、补贴、免税等一系列优惠政策。

近年来，我国新能源汽车产业加大研发投入，先后突破弹匣电池技术、超倍速电池技术、海绵硅负极片电池技术，以及微晶铁锂电池、夸克电驱等核心技术；重视人性化、个性化定制，在保证安全前提下充分考虑人车互动体验感，为人们提供更加智慧、便捷、绿色的出行体验；积极与工业互联网深度融合，从防止误操作的功能安全，到智能座舱提供更理想的驾乘姿态，再到声音、触觉、嗅觉等多模态的人机交互，充分实现了产品的智能化、网联化、信息化。

解读材料一包含的经济信息，并结合材料运用经济知识，分析新能源汽车产业发展对我国经济社会的积极影响。

### 39. 阅读材料，完成下列要求。（12分）

党的十八大以来，以习近平同志为核心的党中央对全面依法治国作出一系列重大决策，中国特色社会主义法律体系日趋完善，以良法促发展、保善治。

十年来，全国人大及其常委会新制定法律68件，修改法律234件。编纂完成新中国成立以来第一部以“法典”命名的重要法律——民法典；国家安全、卫生健康、公共文化等重要领域的基础性、综合性、统领性的法律相继出台；生态环境、教育科技等重要领域的法律进行了全面系统修改完善；网络数据、生物安全等新兴领域填补立法空白取得突破；完善立法体制机制，修改立法法；统筹推进国内法治和涉外法治，加强涉外领域立法……

在我国制定和修改法律的过程中，共有205件次法律草案在中国人大网上公开征求意见，参与人次超过119万，提出的意见有350多万条；先后设立了22个基层立法联系点，130多部法律草案通过基层立法联系点征求意见，每一部法律都满载了民意。

运用《政治生活》的相关知识，结合材料，说明我国新时代立法是如何实现以良法促发展、保善治的。

40. 阅读材料，完成下列要求。(26分)

调查研究群众路线作为我们党的传家宝和优良作风，充满了故事与记忆，承载着民族的荣誉和情感，其特别的精神价值与力量在岁月的星空里永久璀璨。

1927年初，毛泽东步行700多公里，实地考察了湘潭、湘乡、衡山、醴陵、长沙等5县的农民运动情况，虚心向人民群众请教，召开各种类型的调查会，获得了大量的第一手资料，写就了光辉著作《湖南农民运动考察报告》，成功开辟了“农村包围城市，武装夺取政权”的革命道路，引导中国人民实现了“站起来”的夙愿。

新时代，以习近平同志为核心的党中央高度重视调查研究工作，把改进调查研究摆在第一位。习近平总书记身体力行、亲力亲为，始终坚持察民情，谋实策。在正定，他跑遍全县25个乡镇、221个村；在厦门，他走遍农村、海岛……习近平总书记奔赴祖国大江南北，倾听人民的呼声，把脉问诊求实效，为全党重视调研、深入调研、践行群众路线树立了光辉典范。事实证明，一个政党或民族，只有不忘初心，用自己的传家宝，宝贵的政党精神或民族精神才会永不褪色，所有人才有了坚守信仰的力量，让这种精神代代相传。

没有调查就没有发言权。2023年3月，中共中央办公厅印发《关于在全党大兴调查研究的工作方案》指出，在全党大兴调查研究，作为在全党开展的主题教育的重要内容，推动全面建设社会主义现代化国家开好局起好步。

- (1) 结合材料并运用一切从实际出发的知识，说明新时代中国共产党为什么仍要大兴调查研究之风。(12分)
- (2) 群众路线是党永葆青春活力和战斗力的重要传家宝。运用文化生活的相关知识加以说明。(10分)
- (3) 结合材料，综合运用所学知识，围绕“没有调查，就没有发言权”主题撰写一篇短评。(4分)

要求：①围绕主题，观点明确；②论证充分，逻辑清晰；③学科术语使用规范；④字数在150字左右。

41. 阅读材料，完成下列要求。（25分）

材料一 二战后，法国农村改革政策的主要目标是通过农村实行结构改革，重点开发西部、西南部和中央高原欠发达地区，由政府制定计划投资，加强农村交通、通讯等基础设施建设。从20世纪60年代起，增加农业教育和职业教育的贷款和补贴，推动农村文化教育事业的发展，在保护自然资源的同时，发展旅游业和其他经济活动，繁荣农村经济。20世纪70年代起，法国政府制定法令，以低息贷款、财政补贴等形式，推行农业现代化开发计划。政府还实行一系列财政刺激和扶持政策，鼓励发展农村工业和第三产业，增加农民收入，稳定农村人口，采取多项奖励措施，鼓励人口向农村流动，以促进农业区域经济的平衡发展。由于经济基础的巩固和社会福利的完善，法国人对乡村景观、自然环境的诉求愈发强烈。

——摘编自陈晓律《世界现代化历程》

材料二 新中国建立以后，新生的人民政权在全国范围内开展轰轰烈烈的土地改革运动，从根本上解决导致近代中国农村衰落的封建土地制度问题，这为走一条不同于西方工业化道路的现代化之路奠定了重要基础。1953年12月，中共中央批准发布过渡时期的总路线，明确以生产关系的变革为导向，通过农业合作化促进农村生产力的发展，推动农村经济社会发展走向社会主义，使其成为支持工业现代化的基础。由此，以农业为基础，工业为主导，由农村支持工业化和城市化的国家现代化建设格局得以形成。

——摘编自钱宁《从摆脱贫困到乡村振兴——对当代中国农村变迁的历史考察和现实思考》

材料三 到2020年，乡村振兴的制度框架和政策体系基本形成，全面建成小康社会的目标如期实现。到2022年，乡村振兴的制度框架和政策体系初步健全，现代农业体系初步构建，农业绿色发展全面推进，乡村振兴取得阶段性成果。到2035年，乡村振兴取得决定性进展，农业农村现代化基本实现。到2050年，乡村全面振兴，农业强、农村美、农民富全面实现。

——摘编自《国家乡村振兴战略规划2018-2022年》

- (1) 根据材料，概括中、法两国农村发展战略的共同之处。（9分）
- (2) 根据材料二并结合所学知识，指出新中国成立初期乡村发展的特点。（9分）
- (3) 根据材料三并结合所学知识，简述我国21世纪乡村振兴战略的历史意义。（7分）

42. 阅读材料，完成下列要求。（12分）

材料 （二十世纪）世界文明就像一条筑有河岸的河流。河流中流淌的鲜血是人们相互残杀、偷窃、争斗的结果，这些通常就是历史学家们所记录的内容。而他们没有想到的是，在河岸上，人们建立家园，相亲相爱，养育子女，歌唱，谱写诗歌，甚至创作雕塑。

——摘编自威尔·杜兰特《世界文明史》

结合二十世纪40年代以来的相关史实，就材料所蕴含的某一观点，自拟主题，并予以阐述。（要求：主题合理，史论结合，表述清晰，逻辑严密）

(二) 选考题: 共 25 分。请考生从 2 道地理题、3 道历史题中每科任选一题作答。如果多做, 则按每科所做的第一题计分。

43. [地理——选修 3: 旅游地理] (10 分)

广东省佛山市地处珠江三角洲腹地, 是岭南文化的发源地之一, 素有武术之乡、陶艺之乡、粤剧之乡、民间艺术之乡等美誉。近年来, 佛山市政府牵头当地图书馆、企业、乡村三方合作共建, 将岭南文化的展示与图书、民宿有机结合, 启动了“图书馆+民宿”文旅融合项目——“旅图·晓读夜宿”, 致力于推进文旅资源共享和优势互补, 建立了风格各异、主题多样的民宿图书馆。

分析佛山市启动“图书馆+民宿”文旅融合项目的优势和意义。

44. [地理——选修 6: 环境保护] (10 分)

2022 年, 广州市推出第一批 24 个公园绿地草坪帐篷区域, 受到广大市民游客热捧。一时间, 许多搭建帐篷的草坪在游客离开后, 出现垃圾遍地、草坪破坏等现象。通过治理, 公共绿地管理有较大改善, 但仍存在一定问题。某地理兴趣小组计划实地调查公园草坪露营带来的环境问题, 并为进一步精准管护公园绿地建言献策。

请针对公园草坪露营带来的环境问题列出调查项目, 并说明调查目的。

45. 【历史上重大改革回眸】阅读材料, 回答下列问题。(15 分)

材料 鸦片战争后, 清朝邮驿制度日渐衰落, “往往有数百里内文书竟迟至十余日始到者”。但囿于传统思想, 清朝官民对西方近代通讯普遍排斥。19 世纪七十年代, 随着西方列强的纷至沓来, 清政府被迫允许列强在中国铺设海底电线, 中国事实上已被纳入世界电报网络当中。电报的准确、便利、迅捷, 给清朝官员以深刻的印象。福建船政大臣沈葆楨上奏, 提议“闻电线之设, 洋人持议甚坚……倘其势难中止, 不如我自为之”。1874 年, 日军侵略台湾, 沈葆楨在奉命前往台湾布置军事中, 深感军事情报的原始联系方法, 将对战事产生不利影响, 主张在福建沿海与台湾之间架设电报线路。由于军情紧急, 清政府令其“妥速筹办”, 此举首开电报禁例。1880 年, 李鸿章奏请朝廷架设“由天津循运河以至江北、越长江由镇江达上海安置旱线”得到批准, 揭开了晚清政府全国性的大规模正式创办电报的序幕。

——摘编自《传统与变革》

(1) 根据材料并结合所学知识, 概括晚清时期通讯方式变革的主要特点。(6 分)

(2) 根据材料并结合所学知识, 分析晚清时期通讯方式变革对维护国家安全的意义。(9 分)

46. 【20 世纪的战争与和平】阅读材料，回答下列问题。（15 分）

材料 日本投降后，美国对日的基本政策是通过联合国对日媾和，实现日本的非军事化和民主化，以削弱日本的潜在威胁。杜鲁门主义出台后，美国宣称，为了维护世界的稳定，必须重建欧亚的两大工场——德国和日本。1947 年，美国国务院政策设计室主任凯南认为，中国形势的恶化对美国的利益还不是致命的，一个真正友好的日本对美国的安全至关重要，主张调整各项对日政策。1948 年 10 月，美国国家安全委员会通过决定转变对日政策，推迟对日媾和，稳定社会和复兴经济；1949 年 5 月，美国决定停止实施日本向其侵略受害国经济赔偿的计划。这两个事件标志着美国对日经济复兴政策的确立和美国东亚战略的重大转变，日本从一个需要彻底改造和消费的敌国，变成亟需扶植的重要盟国。

——摘编自《美国在朝鲜战争中的军事战略决策》

- (1) 根据材料并结合所学知识，说明美国对日政策转变的原因。（6 分）
- (2) 根据材料并结合所学知识，分析美国对日政策转变的影响。（9 分）

47. 【中外历史人物评说】阅读材料，回答下列问题。（15 分）

材料 19 世纪以后，俄国的发展远远落后于其他西欧国家，饱受专制之苦的俄国知识分子对本国的贫穷和愚昧感到强烈不安。在法国大革命影响下，受到西方文化冲击的俄国知识分子在绘画、雕塑、文学等领域掀起了批判现实主义思潮。列宾遵循车尔尼雪夫斯基“美是生活”的原则，将艺术与现实生活相联系，走进底层人民的生活，通过深入观察和思考进行艺术创造。为了创作《伏尔加河上的纤夫》，列宾两次到伏尔加河实地考察，与纤夫成为朋友，走进他们的生活。在列宾的现实主义作品中，广泛、全面地描绘俄罗斯底层人民的真实生活，批判社会不公平现象，为大众发声成为其重要的特点，对俄国民族民主革命的深入发展产生了重大影响。

——摘编自《俄国批判现实主义画家的情感表达》等

- (1) 根据材料并结合所学知识，简析影响列宾艺术创作风格的主要因素。（6 分）
- (2) 根据材料并结合所学知识，指出列宾现实主义美术作品的价值体现。（9 分）