

2021—2022 学年高中毕业班阶段性测试(四)

文科综合

考生注意:

1. 答题前,考生务必将自己的姓名、考生号填写在试卷和答题卡上,并将考生号条形码粘贴在答题卡上的指定位置。
2. 回答选择题时,选出每小题答案后,用铅笔把答题卡对应题目的答案标号涂黑。如需改动,用橡皮擦干净后,再选涂其他答案标号。回答非选择题时,将答案写在答题卡上。写在本试卷上无效。
3. 考试结束后,将本试卷和答题卡一并交回。

一、选择题:本题共 35 小题,每小题 4 分,共 140 分。在每小题给出的四个选项中,只有一项是符合题目要求的。

新修订的《安徽省人口与计划生育条例》(以下简称《条例》)于 2022 年 1 月 1 日起施行。《条例》规定,一对夫妻可以生育三个子女,符合法律规定结婚的职工,在享受国家规定婚假的基础上,延长婚假十天,女方延长产假六十天,男方享受三十天护理假。在子女六周岁以下,每年给予夫妻各十天育儿假。职工在规定的产假、护理假、育儿假期间,享受其在职在岗的工资、奖金、福利待遇。据此完成 1~2 题。

1. 安徽省制定该条例的主要原因是

- |            |            |
|------------|------------|
| A. 男女性别比失衡 | B. 劳动力严重短缺 |
| C. 经济增长缓慢  | D. 人口出生率低  |

2. 为使安徽省“三孩”政策落地,下列措施效果不明显的是

- |                  |                  |
|------------------|------------------|
| A. 提高育龄妇女的受教育程度  | B. 鼓励幼儿园提供延时托管服务 |
| C. 实施灵活休假和弹性工作方式 | D. 对婴幼儿入托、入园给予补助 |

农业生产托管是农户等经营主体在不流转土地经营权的条件下,将农业生产中的耕、种、防、收等全部或部分作业环节委托给农业生产性服务组织完成或协助完成的农业经营模式。循环式托管是农业生产托管模式之一。图 1 为我国某地区循环式托管模式示意图。据此完成 3~5 题。

3. 下列农业生产活动,最适宜大范围推广图示模式的是

- A. 城郊花卉种植
- B. 平原谷物种植
- C. 丘陵茶树种植
- D. 浅海水产养殖

4. 与传统生产方式相比,循环式农业生产托管模式可能会

- A. 减小农户的农田面积
- B. 延长农户田间耕作时间
- C. 降低农户的农业生产效率
- D. 降低农户的农业收入水平

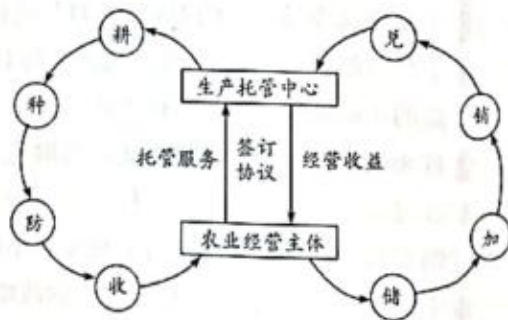


图 1

5. 循环式农业生产托管模式的推广有利于

- A. 减少自然灾害  
B. 提高城市化水平  
C. 加快土地流转  
D. 增加农业劳动力

比湿是指在一团湿空气中,水汽的质量与该团空气总质量的比值。图2示意北京市冬、夏两季城区和郊区比湿的日变化。据此完成6~8题。

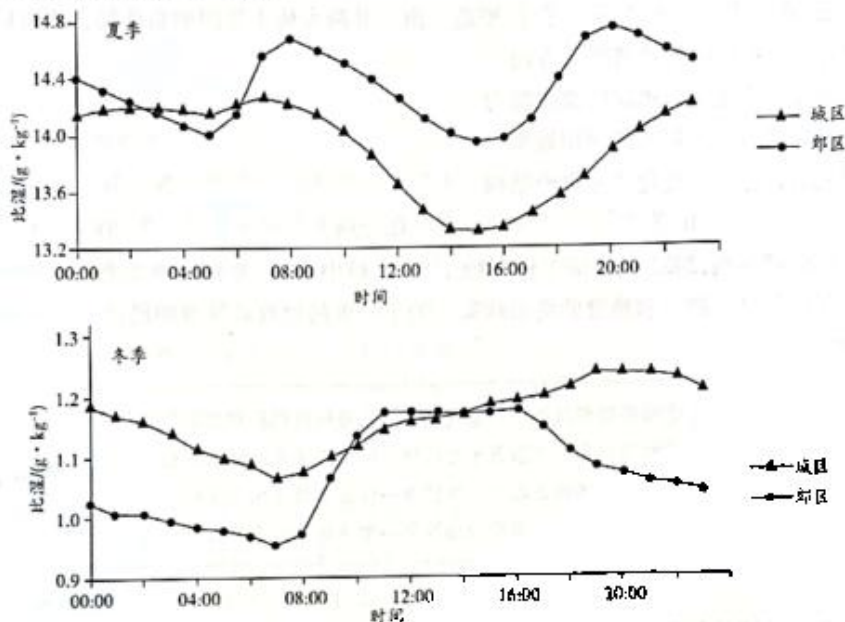


图2

6. 北京市

- A. 夏季郊区比湿始终大于城区  
B. 冬季城区比湿始终大于郊区  
C. 夏季城区比湿日变化大于郊区  
D. 冬季城区比湿日变化大于郊区

7. 造成北京市夏季城区与郊区比湿差异的主要因素是

- A. 降水  
B. 气温  
C. 地面含水率  
D. 人口密度

8. 造成北京市冬、夏两季比湿差异的主导因素是

- A. 大气环流  
B. 气温高低  
C. 植被状况  
D. 人类活动

林业生产技术效率是指在一定的林业投入要素组合下所能获得的林业多重效益产出,强调对林业资源的有效管理与利用能力。图3示意2004—2018年全国及五大林区林业生产技术效率均值的变化。据此完成9~11题。

9. ①②③④依次表示

- A. 全国总体 南方林区 东北林区 西北林区  
B. 全国总体 东北林区 南方林区 西北林区  
C. 西北林区 东北林区 南方林区 全国总体  
D. 西北林区 南方林区 东北林区 全国总体

10. ②③林区森林资源的明显不同之处是

- A. 砍伐方式  
B. 树龄长短  
C. 利用方式  
D. 森林类型

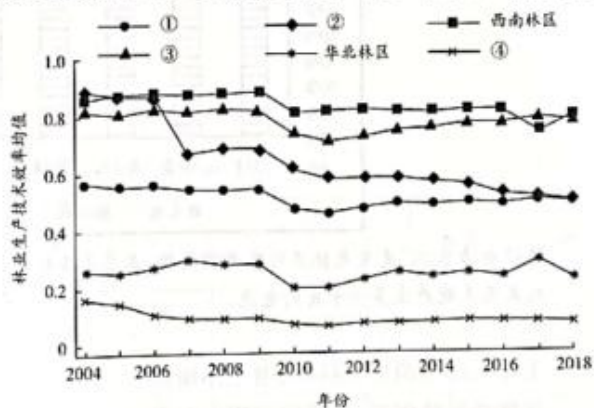
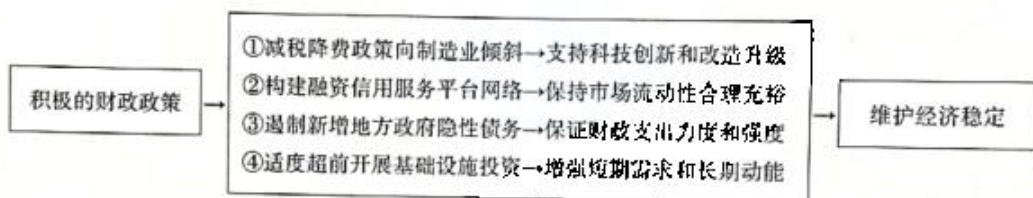
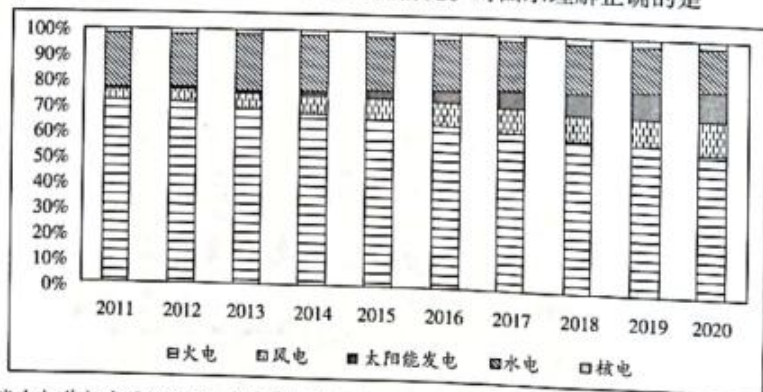


图3

11. ④林区林业生产技术效率均值最低的主要原因是  
A. 以防护林为主      B. 森林生长速度慢      C. 树种较为单一      D. 经济发展水平低
12. 稀土素有工业“黄金”之称。为推动产业发展,国家近年来积极整顿行业乱象,大力推进稀土产业供给结构优化。2021年12月,中国稀土集团有限公司成立。该公司由中铝集团、中国五矿等组建而成,是属于国务院国资委直接监管的股权多元化中央企业。新成立的“稀土巨无霸”将占到中国中重稀土矿产品总量的近70%,与北方稀土南北呼应,塑造一南一北两大稀土集团的新格局。新格局形成  
①有利于国有经济控制国民经济发展方向  
②能提高国有经济控制重要稀缺资源的能力  
③通过以优带劣提高稀土资源的利用效率  
④可形成规范的行业秩序优化产业供给结构  
A. ①②      B. ①③      C. ②④      D. ③④
13. 中央经济工作会议强调,2022年经济工作要稳字当头、稳中求进,要积极推出有利于经济稳定的政策。要继续实施积极的财政政策和稳健的货币政策。关于积极的财政政策维护经济稳定这一作用过程的描述,正确的是



- A. ①③      B. ①④      C. ②③      D. ②④
14. 市场主体是市场经济的基础细胞,其数量多少、活力高低、结构优劣以及成长快慢,是衡量经济发展水平的重要标志。截至2021年12月,我国市场主体总量已突破1.5亿户,其中约有1亿户是近10年增加的,为全国7亿多人就业提供了最直接、最有力的支撑。市场主体持续大幅增加表明  
①我国是投资创业热土,市场活力被激发      ②我国全面深化改革,营商环境持续优化  
③市场秩序良好,国内需求得到极大释放      ④内外循环畅通,国内经济发展势头强劲  
A. ①②      B. ①④      C. ②③      D. ③④
15. 图4反映的是2011—2020年我国电力装机结构变化情况。对图示理解正确的是



注:“电力装机”是发电机装机容量简称,意思是各种类型的发电机组(包括火力发电、核电、水力发电、风力发电等)加起来总共能产生多少千瓦的电能。

- ①加大煤电消费,巩固火电主体地位      ②发展清洁能源,提升绿色供给能力  
③推动科技创新,保障国家用电安全      ④践行低碳理念,促进能源结构优化  
A. ①②      B. ①③      C. ②④      D. ③④



16. 近期,国务院办公厅发布的《关于新形势下进一步加强督查激励的通知》指出,对促进乡村产业振兴、改善农村人居环境等乡村振兴重点工作成效明显的地方,对养老兜底保障、发展普惠型养老服务等工作成效明显的地方,在分配中央财政相关资金时给予一定激励支持。加强督查激励
- ①有利于巩固脱贫攻坚成果、促进共同富裕      ②能调动各地大胆探索、改革创新积极性  
③坚持了从群众中来到群众中去的工作方法      ④是推动简政放权、提高行政效率的要求
- A. ①②      B. ①④      C. ②③      D. ③④
17. 2021年12月,中共中央向党外人士通报中央经济工作会议精神。中共中央希望各民主党派通过调研协商等平台,聚焦世界科技前沿、国家科技短板、科技核心领域,围绕碳达峰碳中和、数字经济等重大问题,多深入基层调查研究,形成有分量的研究报告,为中共中央科学决策、有效施策提供参考。可见
- ①中国共产党和各民主党派紧密团结、共同奋斗      ②中国共产党对各民主党派负责、并接受其监督  
③新时期统一战线必须坚持协商民主和党的领导      ④我国政党制度能够增进共识、推动决策民主化
- A. ①②      B. ①④      C. ②③      D. ③④
18. 国家主席习近平在同美国总统拜登举行视频会晤时强调,中美利益深度交融,合则两利、斗则俱伤。地球足够大,容得下中美各自和共同发展。要坚持互利互惠,不玩零和博弈,不搞你输我赢。习主席的讲话意在强调,中美两国应该
- ①践行多边主义,倡导国际关系民主化      ②坚持相互尊重、和平共处、合作共赢  
③展现大国担当,推动世界和平与发展      ④有效管控分歧,尊重各自的发展权利
- A. ①③      B. ①④      C. ②③      D. ②④
19. 中国传统文化中的仁义、和谐、包容之道,有助于凝聚这个撕裂的社会、对立的族群,化解乖张和戾气。当前,世界各国都在寻求中国经济发展背后的文化基因,期望这一基因是可复制、可模仿、可繁殖的。材料表明
- ①文化多样性是推动世界经济繁荣的重要因素      ②中华优秀传统文化为解决现今问题提供有益借鉴  
③借鉴经济发展模式往往与文化认同紧密联系      ④中华优秀传统文化涵养着全人类的共同价值追求
- A. ①③      B. ①④      C. ②③      D. ②④
20. 在中国人民对外广播事业创建80周年之际,习近平总书记发来贺信指出,80年来,在党的领导下,对外广播事业弘扬光荣传统、不忘初心使命,宣传党的主张,全面宣介中国发展,积极讲好中国故事、传播好中国声音。发展对外广播事业
- ①旨在培育和践行社会主义核心价值观      ②有力推动文化产业和文化事业协调发展  
③是加强国际传播能力建设的客观要求      ④有利于党牢牢把握意识形态工作领导权
- A. ①②      B. ①④      C. ②③      D. ③④
21. 来自瑞典乌普萨拉大学的生物信息学家表示,他们在120万年前生活在西伯利亚东北部的猛犸象的牙齿中发现迄今最古老的DNA,并对其进行了测序,为研究已灭绝的冰河时代的北美巨兽的进化,打开了一扇崭新的窗户。据悉,此前最古老的DNA来自一匹生活于70万年前的马的化石。这表明
- ①新的正确认识能够为科研提供新思路      ②科学技术进步会削弱客体对主体的制约作用  
③越来越多的旧认识会被新认识所取代      ④人们通过科研可获得新认识并提高认识能力
- A. ①②      B. ①④      C. ②③      D. ③④
22. 近期召开的推动长江经济带发展领导小组全体会议强调,下一步,要完整、准确、全面贯彻新发展理念,牢牢把握共抓大保护、不搞大开发的战略导向,坚持问题导向的工作方法,以重点突破带动整体工作有力有序有效推进,扎实推动长江经济带高质量发展。以上论述蕴含的辩证法道理是
- ①要勇于揭露矛盾,寻找正确方法积极解决矛盾      ②树立全局观念,用关键局部的发展推动整体发展  
③积极创造有利条件,推动矛盾双方的相互转化      ④着眼于局部,以重点突破带动整体工作有序开展
- A. ①②      B. ①④      C. ②③      D. ③④

23. 图5 漫画《先救奖牌》讽刺了一些人想问题、做事情



图5

- ①不能把握事物发展的主要矛盾  
②忽视了价值观对行为选择的导向作用  
③不能把握事物发展大势和主流  
④不能立足人民群众利益作出价值选择
- A. ①②  
B. ②③  
C. ①④  
D. ③④
24. “国人”是西周至春秋时期一个特殊的社会阶层,他们是当时社会统治宗族的成员,在政治、经济、军事等方面拥有广泛影响力。西周时期“国人”势力开始形成,春秋时期社会影响力达到全盛,战国时期逐渐退出政治历史舞台。“国人”社会影响力的变化,反映了
- A. 分封制度已被完全废弃  
B. 宗法秩序逐渐走向混乱  
C. 国家治理模式的新发展  
D. 社会组织结构日趋完善

25. 表1

农耕区域	劳动者成分	年人均田亩数	农作制度	平均亩产	粮食总收入量
南方	一个普通农民	23 小亩	一年一熟	1.37 石	32 石
北方	一个普通农民	30 小亩	一年一熟	1.5 石	45 石
西北	一个屯田卒	74 小亩	一年一熟	0.4 石	29 石

表1为汉代不同农耕区的粮食生产状况。据此可知,汉代

- A. 精耕细作农业推广迅速  
B. 耕地利用率显著提高  
C. 南方耕作技术获得进展  
D. 区域经济发展不平衡
26. 宋初最高统治者开始重视《大学》和《中庸》,不仅亲自抄写,还赐予臣下学习,“仁宗天圣八年(1030年)赐进士王拱辰《大学》篇一轴。……自后,登第者必赐《儒行》和《大学》《中庸》篇”。宋统治者的做法
- A. 意在抬升理学的政治地位  
B. 助推了儒学新形态的形成  
C. 践行了“知行合一”理念  
D. 确立了传统儒学主流地位
27. 明代规定,内阁票拟必须登录底稿(称“丝纶簿”)备查,章奏经“批红”下发时也需六科(六部监察官)监督后,政府部门才能执行。这一规定旨在
- A. 维护皇权专制统治  
B. 保证票拟的正确性  
C. 限制内阁大臣职权  
D. 提高决策执行效能
28. 鸦片战争后,上海近郊各县的家庭纺织业纷纷出现了“转业”现象,如川沙、嘉定等县的手织毛巾业取代了纺织土布业,南汇县则“以织袜为盛”,“成为家庭主要手工业”。这一变化反映出
- A. 农民主动应对社会转型  
B. 近代新式工业开始产生  
C. 农村手工业生命力顽强  
D. 西方商品倾销遭到抵制
29. 1919年10月,李汉俊提出:“我们自身应该从精神上打破‘知识阶级’四个字的牢狱,化‘脑力劳动者’与‘体力劳动者’的一致团结,并且一致努力。”这一观点说明
- A. 社会平等的理念开始形成  
B. 马克思主义影响力的增强  
C. 中国共产党开始筹备建立  
D. 民主革命阵营走向了联合

30. 1942年1月,《晋察冀日报》在评论边区政府“精兵简政”时指出:“只有干部质量提高,每个人站得住岗位,而政才能简,工作才能头头是道。也只有行政机构精干,工作制度健全,干部才能更发挥才能。”这说明,边区政府实行“精兵简政”意在
- A. 减轻政府部门的工作负担  
B. 提高政府人员的服务意识  
C. 适应抗日战争形势的需要  
D. 打造更加廉洁的民主政府

31. 表 2

	农业总产量	人均粮食消费量	人均猪肉消费量	人均棉布消费量
增加量	250 亿斤	11 斤	1.6 斤	2.5 尺

- 表 2 是 1962 年与 1961 年相比国民经济部分数据的增长情况。这可用来说明
- A. 工业化带动了农业经济发展  
B. 农村经济出现“跃进”局面  
C. 国家经济建设重心转向农业  
D. 国民经济调整已经初见成效
32. 公元前 509—508 年,克利斯提尼对雅典公民制度进行了改革,公民不再分氏族而是按村庄进行登记和选举,使许多失去氏族族籍的自由民和外来居民也取得了公民权。由此可知,这次改革
- A. 壮大了雅典民主力量  
B. 使民主政治达到顶峰  
C. 开创了平民参政先例  
D. 扩大了公民的参政权
33. 1816 年,英国率先确定了英镑可以自由地兑换金条和金币的金本位制后,到 20 世纪初,约有 60% 的国际贸易都使用英镑进行计价或结算。由此可知,20 世纪初的“英镑”
- A. 促进了世界自由贸易形成  
B. 提升了英国的经济实力  
C. 推动了英国工业革命完成  
D. 拥有了国际货币的职能
34. “达尔文的进化论将人类从最高的阶梯上拉了下来,人类在本质上也是大自然的一部分,只不过由于机缘巧合,成为了大自然的‘最适者’,而不是‘最高级’者。”据此可推知,达尔文
- A. 首次提出了生物进化观点  
B. 挑战了当时的主流人类观  
C. 开启了自然科学界的革命  
D. 揭示了人类社会发 展规律
35. 图 6 是 1948 年美国刊物登载的一幅漫画《我们的世界》,漫画中:写有“北大西洋”“联盟”的两只手跨越大西洋将要握在一起。该漫画反映了



图 6

- A. 美国加紧了冷战的步伐  
B. 资本主义阵营开始联合  
C. 美国开始谋求世界霸权  
D. 马歇尔计划已全面落实
- 二、非选择题:本题包括必考题和选考题两部分。第 36~42 题为必考题,每个试题考生都必须作答。第 43~47 题为选考题,考生根据要求作答。

(一)必考题:共 135 分。

36. 阅读图文材料,完成下列要求。(22 分)

海滨或湖滨处的河谷或山谷,由于侵蚀基准面(指河流垂直下切侵蚀的界限)上升或地壳下降,或由于海面上升时被海水淹没而形成的漏斗形的狭长三角湾,是为溺谷。德涅斯特河支流众多,这些支流多发源于东喀尔巴阡山 800~1 500 米高程处,流经乌克兰和摩尔多瓦两国,最后注入黑海的德涅斯

特湾。德涅斯特河流域年降水量约 800~900 毫米,大部分集中在 4—11 月。德涅斯特河径流量的年内分配大约是:春季(3—6 月)占 50%~55%,夏季(7—8 月)占 15%~25%,秋季(9—11 月)占 15%~20%,冬季(12 月—次年 2 月)占 10%~15%。摩尔多瓦是位于巴尔干半岛东北部的内陆国家。众多内陆国做梦都想拥有一条属于自己的海岸线,摩尔多瓦无疑是欧洲最“憋屈”的内陆国。图 7 为摩尔多瓦及德涅斯特河谷位置示意图。

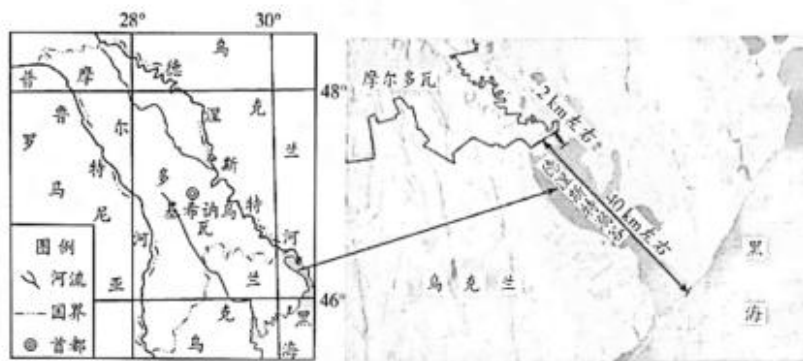


图 7

- (1) 简述德涅斯特河谷的形成过程。(4 分)
- (2) 德涅斯特河谷的海水盐度较低,但有明显的季节变化,说明其原因。(8 分)
- (3) 分析德涅斯特河春季径流量在全年中占比最高的原因。(6 分)
- (4) 说出摩尔多瓦成为欧洲最“憋屈”的内陆国的原因。(4 分)

37. 阅读图文材料,完成下列要求。(24 分)

海洋水库即是在海水中建立的淡水水库。青草沙水库位于长兴岛西北方冲积沙洲青草沙上,是我国目前最大的江心水库,也是世界上最难建设的海洋水库之一。2006 年上海市决定将青草沙建设成为上海市的水源地,以改变上海市 80% 以上自来水源取自黄浦江的格局。2011 年 6 月,青草沙水库全面投入运行。青草沙水库主要由环库大堤、取水泵闸(包括上游泵闸和下游水闸)以及输水泵站等工程组成,拥有总长 43 千米的大堤,围围了相当于 10 个杭州西湖的水面。水库正常运行时,水位一般在 3 米左右,有效蓄水量不少于 3.87 亿立方米,可保证连续 50 天不取水情况下的正常供水。青草沙水库的引排水利用长江的潮汐规律,实现了“择优蓄水”,达到了“清污分流、蓄清排污、流水不腐”的目的。图 8 为青草沙水库及取输水泵闸工程平面布置示意图。

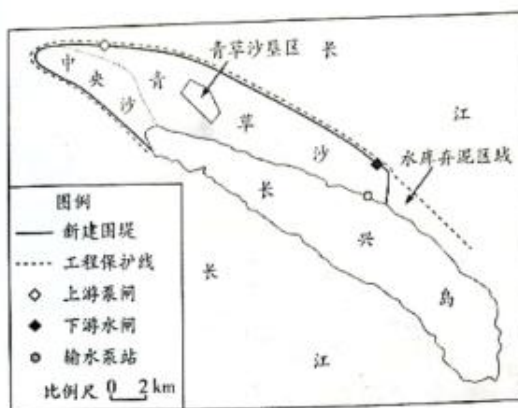


图8

(1) 简述青草沙水库可作为上海市主要水源地的有利条件。(6分)

(2) 说出与峡谷型水库相比,青草沙水库建设难度大的原因。(4分)

(3) 分别说明上游泵闸、下游水闸和输水泵站位置选择的优点。(6分)

(4) 简述青草沙水库建成后产生的影响。(8分)

38. 阅读材料,完成下列要求。(14分)

材料一

2015—2019年我国部分省市私营企业就业人数(万人)

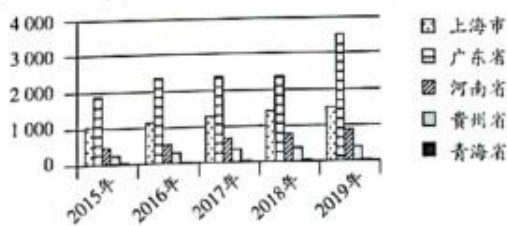


图9

材料二 2021年9月,全国工商联发布了2021中国民营企业500强系列榜单及《2021中国民营企业500强调研分析报告》。报告显示,民营企业500强纳税总额达1.36万亿元,占全国税收总额的8.84%,纳税额超过500亿元的企业共4家。民营企业500强员工总数1109.11万人,增长6.26%,占全国就业人员的1.48%,较上年增长0.09个百分点。269家500强企业通过公益扶贫、产业扶贫、就业扶贫等方式,参与精准脱贫攻坚战。

京东集团在2021中国民营企业500强榜单中位列第二,员工人数最多,达36.91万人。2021年上半年,京东物流为26万一线员工支付的月平均工资支出超过1.1万元。京东集团宣布自2021年7月1





日开始到2023年7月1日,用两年时间,将员工平均年薪由14薪逐步涨至16薪。

(1)解读材料一包含的经济信息。(4分)

(2)结合材料并运用经济生活知识,说明民营企业如何在实现共同富裕中发挥重要作用。(10分)

39. 阅读材料,完成下列要求。(12分)

对行政法规、地方性法规、司法解释开展备案审查,是宪法法律赋予全国人大及其常委会的重要监督职权,蕴含深刻的人民民主属性。

近年来,全国人大常委会多次开展专项审查,重点审查法规、司法解释是否与党中央重大方针政策、决策部署保持一致,对存在问题的坚决予以纠正。全国人大常委会建立备案审查工作情况报告制度并及时向社会公开,除接收书面建议外,还开通“在线提交”平台,实现审查建议“一键提交”。党的十八大以来,全国人大常委会共收到公民、组织提出的审查建议14379件。

全国人大常委会不断完善审查机制,对可能存在问题的法规、司法解释,既征求制定机关意见,也通过座谈会、论证会等方式听取多方意见,并向审查建议人询问有关情况。全国人大常委会持续加大审查力度,坚决纠正存在合宪性、合法性、适当性问题的法规、司法解释,努力做到“有错必纠”,切实回应人民关切,维护人民合法权益。

结合材料并运用政治生活知识,说明全国人大常委会在备案审查工作中是如何践行全过程人民民主的。

40. 阅读材料,完成下列要求。(26分)

推动社会主义文艺繁荣发展,广大文艺工作者义不容辞、重任在肩、大有作为。

广大文艺工作者要坚守人民立场,书写生生不息的人民史诗。人民是文艺之母。文学艺术的成长离不开人民的滋养,人民中有着一切文学艺术取之不尽、用之不竭的丰沛源泉。文艺要对人民创造历史的伟大进程给予最热情的赞颂,对一切为中华民族伟大复兴奋斗的拼搏者、一切为人民牺牲奉献的英雄们给予最深情的褒扬。广大文艺工作者要把人民满意不满意作为检验艺术的最高标准,创作更多满足人民文化需求和增强人民精神力量的优秀作品,让文艺的百花园永远为人民绽放。

中华文明是当代中国文艺的根基,也是文艺创新的宝藏。要挖掘中华优秀传统文化的思想观念、人文精神、道德规范,把艺术创造力和中华文化价值融合起来。故步自封、陈陈相因谈不上传承,割断血脉、凭空虚造不能算创新。今天,各种艺术门类互融互通,各种表现形式交叉融合,互联网、大数据、人工智能等催生了文艺形式创新,拓宽了文艺空间。广大文艺工作者要正确运用新技术、新手段,激发创意灵感、丰富文化内涵、表达思想情感,使文艺创作呈现更有内涵、更有潜力的新境界。中国人民历来具有深厚的天下情怀,当代中国文艺要把目光投向世界、投向人类。广大文艺工作者要有信心和抱负,承百代之流,会当今之变,用情用力讲好中国故事。

(1)结合材料并运用认识社会与价值选择的知识,说明广大文艺工作者为什么要坚守人民立场。(12分)

(2) 只有推动文艺形式创新才能开拓文艺新境界。运用文化生活知识对该观点加以评析。(10分)。

(3) 请就广大文艺工作者用情用力讲好中国故事提出两点建议。(4分)

41. 阅读材料,完成下列要求。(25分)

材料一 孙中山在设计建立中华民国的政治制度时,明确批判资本主义的政治制度,特别不接受西方“三权分立”的政治制度。孙中山认为美国宪政规定的“三权分立”制度,不完备,存在着许多弊病,运转效果也不甚好。他指出:“夫美洲之不自由,更甚于专制国。盖专制皇帝且不难爱民,虽专横无艺,犹不敢公然以压抑平民为职志。若资本家则不然,资本家者,以压抑平民为本分者也,对于人们之痛苦,全然不负责任者也。一言以蔽之,资本家者,无良心者也。”

——摘编自刘书林《试论美国“三权分立”模式的本质及局限》

材料二 美国三权分立的政治制度防止了专制而强暴的政府出现,在相互牵制中消弭了潜在政府权力。三权分立制衡从一开始就是为了追求法治的目的而确立的,这种机制维持的是三种权力之间没有任何一种权力凌驾于其他权力之上的动态平衡,使美国的人权、民主自由等法治价值得到不断的保障和实现。但三权分立使联邦政府三个分支相互敌对,讲究以野心对抗野心,却忽视了国家权力作为一个整体的有效运用,这给政府职能的有效履行造成了阻碍。

——摘编自张文博《浅析美国的三权分立体制》

(1) 根据材料一并结合所学知识,简析孙中山拒绝采用西方“三权分立”体制的原因。(8分)

(2) 根据材料二并结合所学知识,概括美国“三权分立”政治体制的特点及意义。(12分)

(3) 根据材料一、二并结合所学知识,说明影响一个国家政治体制形成的因素。(5分)

42. 阅读材料,完成下列要求。(12分)

材料

表3 唐、北宋、金(或南宋)南北方兴修水利工程次数

朝代 \ 地区	陕西	河南	山西	河北、山东等地	江苏	浙江	江西	福建	合计
唐	32	11	32	24	18	44	20	29	210
北宋	12	7	25	20	43	86	18	45	256
金(或南宋)	4	2	14	4	73	185	36	63	381

——摘自韩茂莉著《中国历史农业地理》

从材料中提出一个论题,结合所学知识,加以论述。(要求:论题明确,持论有据,表述清晰。)

(二)选考题:共25分。请考生从2道地理选考题、3道历史选考题中每科任选一题作答。如果多做,则每科按所做的第一题计分。

43. [地理——选修3:旅游地理](10分)

季节性是旅游业和旅游流的基本特征之一。2017年江苏省204个主要景区共接待游客3.2亿人次,其中,接待省外游客1.2亿人次。江苏省5A级景区共22个(5A级景区数量居全国第一位),平均接待425.8万人次;4A级景区182个,平均接待118.5万人次。图10示意江苏省客流规模的月度变化。

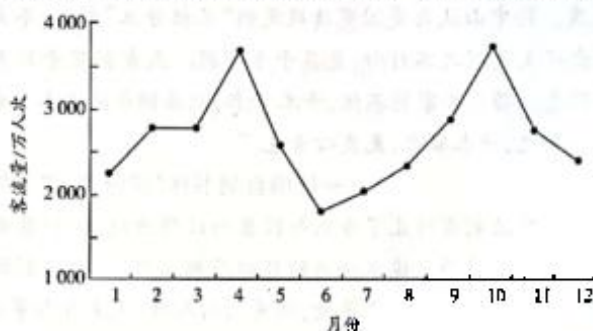


图10

简述江苏省主要景区游客接待量的特点,并分析江苏省4月和10月两次客流量峰值出现的不同原因。

44. [地理——选修6:环境保护](10分)

《海南省农村人居环境整治三年行动方案(2018—2020年)》实施三年来,海南省聚焦农村生活垃圾治理、农村生活污水治理、农村厕所革命、农业面源污染物(包括农药化肥、禽畜粪便、农膜污染、秸秆焚烧污染等)清理、村容村貌、长效机制建设等重点任务,全省农村人居环境得到明显改善,村庄环境基本干净整洁有序。

推测海南省出台该方案的地理背景,并提出农业面源污染物资源化的可行措施。

45. [历史——选修1:历史上的重大改革回眸](15分)

材料 明代中叶以后,不仅私人海外贸易势力直接冲击着明代的市舶制度,西方殖民者的东来,亦直接瓦解着市舶制度所维系的朝贡贸易体系。明代后期将打击走私贸易的防海机构——海防馆改为督饷馆,饷税制度的出台是我国关税制度上的一大进步,推动了海外贸易管理由市舶司制度向海关制度转变。康熙二十三年(1684年),清政府开放海禁,在福建设立闽海关;康熙二十四年(1685年),分别在广东、江南两省设立粤海关和江海关;康熙二十五年(1686年)又在浙江设立浙海关,从此海关制度代替了历代的市舶制度。海关口岸是重要的商品集散地和贸易中转站,它的设置,为沿海省份开辟了广阔的商品流通渠道,加快了沿海省份商品经济繁荣的步伐。

——摘编自彭巧红《明至清前期海外贸易管理机构的演变》



(1)根据材料并结合所学知识,概括清初建立海关制度的背景。(8分)

(2)根据材料并结合所学知识,简析清初建立海关制度的影响。(7分)

46. [历史——选修3:20世纪的战争与和平](15分)

材料 1941年7月26日,美国宣布冻结在美的日本资产,同一天开始部署菲律宾防务计划,但实施这一计划至少需要半年时间,至1942年3月方可完成。虽然美国具有强大的工业生产能力和战争潜力,但军事动员却相当缓慢,而且对日作战毫无准备。在亚太地区日美兵力、兵器对比,日本占很大优势,“南进”在军事上是可行的,同时经济上的诱惑力也极大,“南进”可以获取大量的石油、锡、橡胶。最后,日美整体的经济实力对比和美国对日本的经济制裁,为了巩固战争经济基础,建立起“自给自足”的经济体系,进而称霸东亚和太平洋地区,促使日本下了“对美一战”的决心。

——摘编自高辉《浅析太平洋战争爆发的原因》

(1)根据材料并结合所学知识,概括日本发动太平洋战争的原因。(9分)

(2)根据材料并结合所学知识,简析太平洋战争爆发对二战进程的影响。(6分)

47. [历史——选修4:中外历史人物评说](15分)

材料一 “公忠体国,廉正无私”,“撝躬斯政,利国便民。……入参机要,管理学部事务,宗旨纯正,懋著勋劳。”……赐谥号“文襄”。

——1909年10月6日清廷上谕

材料二 (张)之洞短身巨髯,风仪峻整。莅官所至,必有兴作。务宏大,不问费多寡。爱才好客,名流文士争趋之。任疆寄数十年,及卒,家不增一亩云。

——《清史稿·张之洞列传》

材料三 “《劝学篇》流毒海内,学部章程几乎驱天下人才尽为奴隶,科举既停,优拔之试及博学鸿词、孝廉方正、存古学堂等犹念念不忘,教育前途堪忧;相国一日不死,虽不致举已有之萌芽尽行芟除,而其足为文明进步之阻力,则固可断言者也。”

——1909年10月7日天津《大公报》

(1)分别概括材料一、二、三对张之洞的评价。(9分)

(2)根据材料一、二、三并结合所学知识,简析材料中对张之洞评价不同的主要原因。(6分)

## 关于我们

自主选拔在线是致力于提供新高考生涯规划、强基计划、综合评价、三位一体、学科竞赛等政策资讯的升学服务平台。总部坐落于北京，旗下拥有网站（[网址: www.zizzs.com](http://www.zizzs.com)）和微信公众平台等媒体矩阵，用户群体涵盖全国90%以上的重点中学师生及家长，在全国新高考、自主选拔领域首屈一指。

如需第一时间获取相关资讯及备考指南，请关注**自主选拔在线**官方微信号：**zizzsw**。

