

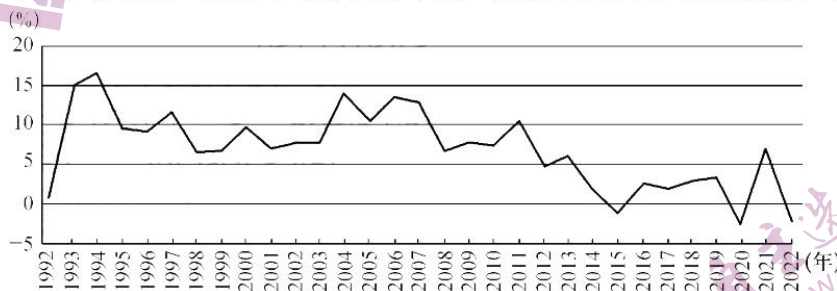
高三文科综合

考生注意：

1. 本试卷分选择题和非选择题两部分。满分 300 分，考试时间 150 分钟。
2. 答题前，考生务必用直径 0.5 毫米黑色墨水签字笔将密封线内项目填写清楚。
3. 考生作答时，请将答案答在答题卡上。选择题每小题选出答案后，用 2B 铅笔把答题卡上对应题目的答案标号涂黑；非选择题请用直径 0.5 毫米黑色墨水签字笔在答题卡上各题的答题区域内作答，**超出答题区域书写的答案无效，在试题卷、草稿纸上作答无效。**
4. 本卷命题范围：高考范围。

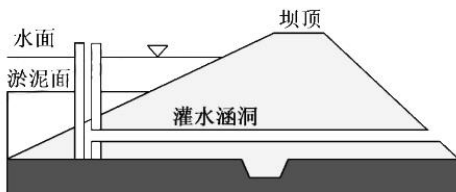
一、选择题：本题共 35 小题，每小题 4 分，共 140 分。在每小题给出的四个选项中，只有一项是符合题目要求的。

近年来，我国啤酒产业蓬勃发展，啤酒制造技术趋于成熟，目前已成为全球第一大啤酒生产国。但受制于啤酒消费需求边际放缓，我国啤酒产量见顶，啤酒产业的竞争格局也由早期“百花齐放”发展到当今的“几家独秀”。下图示意 1992~2022 年 4 月我国啤酒产量同比增长率。据此完成 1~3 题。



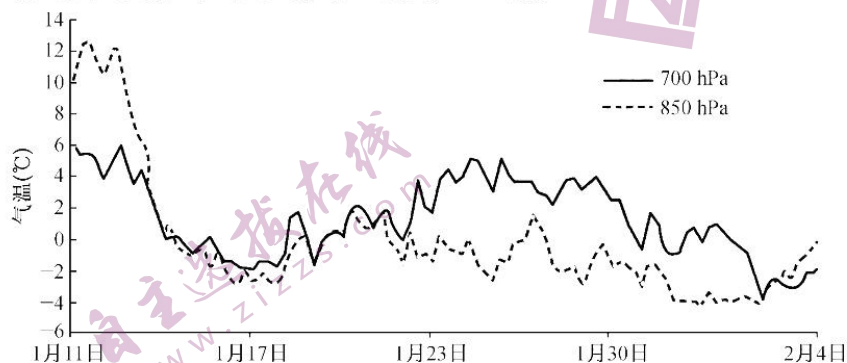
1. 我国啤酒产业竞争格局的演变可能会导致
 - A. 品牌效应降低
 - B. 众多酒厂涌现
 - C. 消费需求放缓
 - D. 啤酒品质提高
2. 1992~2022 年 4 月我国啤酒产业
 - A. 2013 年后产值持续下降
 - B. 1994 年产量达到最大值
 - C. 2013 年后产量波动下降
 - D. 2022 年同比增长率最低
3. 针对啤酒消费需求边际放缓，我国啤酒产业应
 - A. 开发衍生产业
 - B. 扩大生产规模
 - C. 企业兼并重组
 - D. 增加研发投入

淤地坝(如下图所示)是指在水土流失地区各级沟道中，以拦泥淤地为目的而修建的坝工建筑物，是黄土高原丘陵沟壑区各级沟道中主要的缓洪拦泥淤地工程。20 世纪 80 年代以来，淤地坝建设迅速发展，除整修原有小型淤地坝外，还在淤地坝上游新修了骨干坝。据此完成 4~5 题。



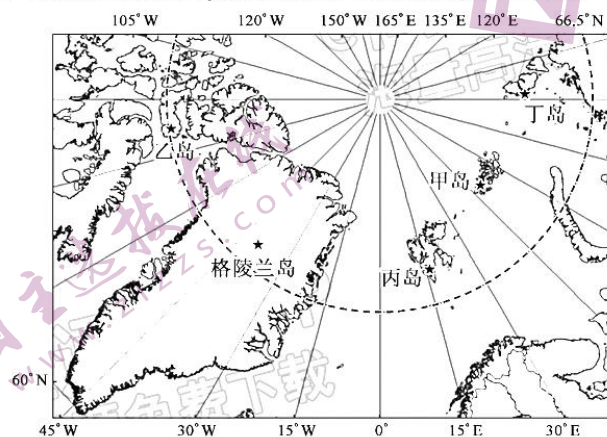
4. 骨干坝
- A. 分布数量多
 - B. 拦截泥沙少
 - C. 坝顶高度大
 - D. 库容量较小
5. 骨干坝修建在淤地坝上游,有利于
- A. 加快下游地表径流汇集
 - B. 延长淤地坝的使用年限
 - C. 减少骨干坝泥沙汇入量
 - D. 提高淤地坝的航运能力

当高空的雪花从锋面云系的上层落入暖气层中时融化为雨滴,再下落至 0°C 以下的冷气层(近地面)形成过冷却水滴状态(不冻结)时,便形成了冻雨天气,稳定的大气条件是冻雨持续性发生的主要原因。下图示意某年1月11日至2月4日($25^{\circ}\text{N}\sim 29^{\circ}\text{N}$, $100^{\circ}\text{E}\sim 108^{\circ}\text{E}$)700 hPa、850 hPa等压面平均气温演变,该区域范围内出现了连续性冻雨天气。据此完成6~8题。



6. 推测形成图示冻雨天气的水汽可能主要来自
- A. 孟加拉湾
 - B. 西伯利亚、蒙古地区
 - C. 南海
 - D. 云贵高原
7. 图示时期冻雨大约开始出现于
- A. 11日
 - B. 14日
 - C. 21日
 - D. 2日
8. 与700 hPa等压面相比,850 hPa等压面
- A. 11~13日分布高度高
 - B. 受地面辐射影响小
 - C. 总体上气温波动幅度小
 - D. 水汽含量较丰富

入海冰川冰流由于注入海洋,其流速变化直接影响入海冰流量和全球海平面升降。北极地区是地球上主要的冰冻圈,北冰洋中各岛屿沿岸广泛分布着入海冰川。格陵兰冰盖是世界第二大冰盖,冰下基岩东高西低,南高北低,其北海岸入海冰川平均流速最低,东海岸平均流速约为 $6.13\text{ m}\cdot\text{d}^{-1}$,西海岸平均流速约为 $4.14\text{ m}\cdot\text{d}^{-1}$ 。下图示意格陵兰岛地理位置。据此完成9~11题。



9. 导致格陵兰岛北海岸入海冰川平均流速最低的主要因素是
- A. 海陆位置
 - B. 降水
 - C. 地形地势
 - D. 纬度

10. 格陵兰岛东西两岸入海冰川平均流速差异的形成,主要在于
A. 西岸终年盛行西南风,且处于迎风坡
B. 东岸地势落差大,且受海洋影响较大
C. 西岸海岸线平直,且海域较开阔
D. 东岸河流发育多,且冰盖易崩塌
11. 推测图中北极地区入海冰川平均流速最大的岛屿是
A. 甲岛
B. 乙岛
C. 丙岛
D. 丁岛
12. 财政部网站发布消息,2022年1~8月,国有企业营业总收入523 519.1亿元,同比增长9.5%;国有企业利润总额30 110.8亿元,同比下降1.5%。2022年1~9月,国有企业营业总收入596 682.4亿元,同比增长9.3%;国有企业利润总额34 021.8亿元,同比下降1.1%。这一变化
①反映出我国国有企业经济运行平稳恢复 ②能够进一步巩固国有经济的主体地位 ③印证了我国坚持多种所有制经济共同发展的正确性 ④有利于筑牢中国特色社会主义的物质基础
A. ①②
B. ①④
C. ②③
D. ③④
13. 下列措施中能够推动我国经济发生下图中所示变化的是



- ①兑现各类惠企资金,确保企业效益持续提高 ②合理调整初次分配格局,加大再分配调节力度
③通过落实各项货币政策,使各项转移支付直达民生 ④多措并举激发市场活力,多方发力加速经济恢复
A. ①②
B. ①③
C. ②④
D. ③④
14. 2022年11月11日,珠海市知识产权局印发《珠海市知识产权信用管理办法》(以下简称《办法》),对失信行为与严重违法失信主体的认定标准、管理措施、信用修复、守信激励等进行了明确规范。《办法》的出台
①是通过发挥有效的政府治理的作用,弥补市场缺陷 ②夯实了知识要素在要素市场中的基础地位
③有利于畅通知识产权要素流动,降低市场交易成本 ④旨在促进我国社会公平以及分配体系的完善
A. ①②
B. ①③
C. ②④
D. ③④
15. 2022年前三季度,上海新认定跨国公司地区总部46家、外资研发中心17家,总数累计分别达877家和523家,总部经济加快集聚。无论是融入地方口味、中国风格的消费品巨头,还是不断推进国产车型落地的外资车企,不少跨国企业用实际行动践行着“在中国,为中国,与中国共创”的理念。这说明
①我国贸易便利化水平不断提升,对外开放深入发展 ②外商对中国市场发展的信心持续增加
③中国经济发展对外依存度呈增强趋势 ④跨国公司加强本土化经营,实现供需有效对接
A. ①②
B. ①③
C. ②④
D. ③④
16. 2022年11月,青海省人民政府办公厅印发通知,明确2023年底前,20项政务服务事项分阶段实现“跨省通办”。在此基础上,深化“全程网办”、优化“多地联办”等形式实现更多政务服务事项“跨省通办”。并强化省政务信息共享交换平台的数据共享枢纽功能,提高数据质量和可用性、时效性,满足户

籍管理、住房、信用等领域数据需求。青海省此举

- ①优化了政府治理方式,推动建设智能高效的政府 ②有利于建设服务型政府,提高政府公信力
③旨在规范和制约政府权力,提高行政效率 ④提高了依法执政水平,减轻了群众办事成本
A. ①② B. ①④ C. ②③ D. ③④

17. 每年的全国人民代表大会上,近 3 000 名全国人大代表共商国家发展大计、共议民生热点问题,党和国家领导人当面倾听意见建议,让人民的所思所盼融入国家发展顶层设计。各级人大建立了 22 万多个代表联系群众的站点,覆盖全国所有乡镇、街道。据此,下列认识正确的是

- ①我国人民的参与权、决策权得到充分尊重 ②人大代表联络站点为人民当家作主提供政治保证
③人大代表是发展全过程人民民主的推动力量 ④我国人民代表大会制度坚持民主集中制原则
A. ①② B. ①④ C. ②③ D. ③④

18. 2022 年是中国派出首支成建制“蓝盔部队”参加联合国维和行动 30 周年。30 年来,中国共派出维和人员 5 万余人次,赴 20 多个国家和地区参加近 30 项联合国维和行动。中国是派遣维和人员最多的安理会常任理事国和联合国第二大维和摊款国。在世界和平安宁最需要维护的地方,出现了越来越多中国维和官兵的身影。可见

- ①中国在维护世界和平上展现了大国担当 ②中国维护以联合国为核心的全球治理体系 ③当前,战争因素的增长超过了和平因素的增长 ④中国是国际秩序的维护者、全球发展的贡献者
A. ①② B. ①③ C. ②④ D. ③④

19. 2022 年 4 月以来,中央网信办会同相关部门开展为期三个月的“清朗·整治网络直播、短视频领域乱象”专项行动,集中整治“色、丑、怪、假、俗、赌”等违法违规内容,从严整治功能失范、“网红乱象”、打赏失度、违规营利、恶意营销等突出问题。此举

- ①旨在维护社会公序良俗,营造良好的文化氛围 ②督促互联网企业坚持经济效益和社会效益相统一
③通过喜闻乐见的形式推进理想信念教育 ④可以推动文化产业与文化事业的协调发展
A. ①② B. ①④ C. ②③ D. ③④

20. 2022 新春大剧《人世间》破圈热播,该剧改编自茅盾文学奖获得者梁晓声的同名小说。该剧通过创作团队的匠心制作,呈现出质朴可爱的人物形象、令人泪流满面的故事情节以及真实动人的百姓生活,书写了五十年中国百姓生活史,引发观众心底最深处的情感共鸣及深深思考。这是文学与影视的完美联姻。该剧的热播启示我们


- ①从人民群众的伟大实践中汲取文艺创作的源头活水 ②坚持文化创新,不断丰富文化产品的供给形式
③影视创作应提高精神内涵,增强作品的思想性 ④把正确的价值观作为文艺创作的出发点和归宿
A. ①② B. ①③ C. ②④ D. ③④

21. 下列选项中与漫画蕴含的哲理比较一致的是

- ①凡物各自有根本,种禾终不生豆苗 ②诗少古风惟近体,学惭实践漫虚谈
③山重水复疑无路,柳暗花明又一村 ④暗潮已到无人会,只有篙师识水痕

- A. ①③
B. ①④
C. ②③
D. ②④

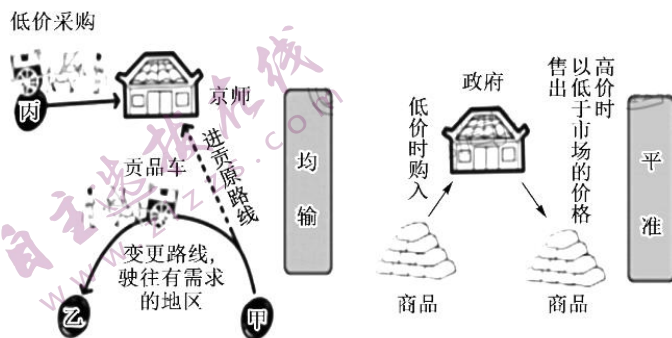
承诺再多,做不到,那也只是谎言。



22. “吾心信其可行,则移山填海之难,终有成功之日;吾心信其不可行,则反掌折枝之易,亦无收效之期也。”创新从来都是九死一生,但我们必须有“亦余心之所善兮,虽九死其犹未悔”的豪情。——《求是》杂志发表的习近平总书记的重要文章《努力成为世界主要科学中心和创新高地》。这一论断

- ①认识到事物运动、变化的实质是事物的前进和上升 ②肯定了意识对改造世界的能动作用
③看到了事物发展道路的曲折性 ④相信新事物必然代替旧事物
A. ①② B. ①④ C. ②③ D. ③④

23. 《2022 中国诗词大会》第二场主题在围绕电影《长津湖》的诗词题目点评环节,康震老师含泪朗读《谁是最可爱的人》。康老师说到当年魏巍在朝鲜战场采访坑道里志愿军战士的情景:一个志愿军战士说,我们现在一把炒面一把雪,就是为了让祖国人民坐在家,想吃啥就吃啥……这一情景告诉我们
- ①价值选择要以顽强拼搏、坚定信念为基础 ②越是恶劣条件越能激发人们对胜利的渴望 ③要把自己的价值追求与国家命运相结合 ④价值判断和价值选择要坚持人民立场
- A. ①② B. ①③ C. ②④ D. ③④
24. 商朝时期,商人在被征服的地区通过“授民授疆土”的方式扶植商王在该地区的代理人,这些分封下的诸侯其实只是封而没有分,也就是与殷商未必有血缘关系。到西周时期,即使周王室与分封下的诸侯无血缘关系,也通过联姻等形式使其与王室形成甥舅关系。这种变化表明西周时期
- A. 宗法贵族的政治影响力逐渐式微 B. 王政统治的控制力得到一定强化
C. 血缘与政治秩序建构的对立统一 D. 中央实现了统治权力的高度集中
25. 下面是根据汉武帝时期经济政策所绘制的《均输平准图》。这一政策

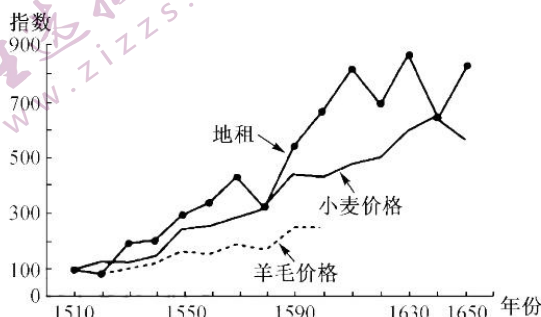


- A. 致使地方官员特权消失 B. 利用市场规律实现对经济的干预
C. 冲击了重农抑商的政策 D. 旨在削弱地方诸侯国的经济实力
26. 宋朝时期皇帝经常性举办的曲宴是君臣同乐的重要场所,具有一定的“拔擢”“笼络”之功用。据史料记载,宋太祖年间:“宴宰臣……节度使、防御使、团练使、刺史、统军、侍卫诸军将校及外国使于广政殿”,到了真宗时期,宴请之臣多为宰执、宗亲等官员。这一转变反映出宋代
- A. 社会阶层结构的变动 B. 科举制度的逐渐完善
C. 政治变革的基本方向 D. 社会主要矛盾的变化
27. 明代的思想家李贽认为“圣人”并不是道德上的楷模,“圣人知天下之人之身,即吾一人之身,我亦人也,是上自天子,下至庶人,通为一身矣。”李贽的这一思想
- A. 折射出社会转型时期的时代特征 B. 批判了君主制度的弊端
C. 意在倡导士人树立社会担当精神 D. 肯定了人私欲的正当性
28. 李鸿章在创办湖北兴国煤铁矿时指出,“若令商民自为创办,不但招集股份易生观望,尤恐别滋流弊……应官为督办”。“官为督办,庶可涓滴归公”。在创办招商局时李鸿章说:“惟因此举为收回中国利权起见,事体重大,有裨国计民生,故须官为扶持。”李鸿章意在强调
- A. 洋务派分洋利和求富的初衷 B. 传统抑商政策不能适应民族工业发展
C. 洋务企业经营机制亟待改善 D. 官督商办模式的实行具有一定必要性
29. 下表是关于 1896~1904 年中国翻译的西学书籍类型的统计情况。这一时期的变化

年份	书目	自然科学(含应用科学)		社会科学(政治、法学类为主)	
		总数	占比	总数	占比
1896 年	《西学书目表》	259 种	73.6%	93 种	26.4%
1900~1904 年	《译书经眼录》	164 种	33.4%	327 种	66.6%

- A. 表明新文化运动使民主科学深入人心 B. 体现了救亡与启蒙的时代需求
C. 致使传统儒学的正统地位遭到了冲击 D. 反映出民国时期重视文化教育

30. 到 1927 年 3 月底,全国已有 5 个省(广东、湖南、湖北、江西、浙江)成立了省农民协会,两百多个县成立了县农民协会,有组织的农民达 915 万人。他们在政治上打击土豪劣绅、不法地主;在经济上除减租减息外,还普遍开展平粜、阻禁谷米运动。据此可知
- A. 革命形势推动农民运动蓬勃发展
B. 土地革命激发农民革命热情
C. 农民阶层成为当时革命的主力军
D. 中共的工作重心转移至农村
31. 1983 年以后,农村改革就成了明星,大家都拥护农村改革。为什么?效果出来了:农民解决温饱问题了,市场繁荣了,城市老百姓的餐桌上也丰富了,国家征购解决了。这提高了农村改革信誉,提高了整个改革的信誉,提高了改革的信心。这说明
- A. 联产承包责任制解决了商品供需矛盾
B. 经济建设重在坚持自力更生原则
C. 农村经济改革充分发挥示范引领作用
D. 市场经济体制改革拉动农村经济发展
32. 对于雅典公民来说,在政厅参加终身公餐是一份荣誉,让雅典人人为之追逐。但这一荣誉只奖励给对城邦政治做出功绩的人,而不同阶段功绩的定义和授予由城邦决定,政厅公餐从而变为一种调节机制,城邦以此回馈做出功绩的人。古代雅典这一举措旨在
- A. 调节阶级内部间的纠纷
B. 强化公民的城邦意识
C. 彰显新的道德观已确立
D. 扩充民主政治参与度
33. 下图所示为 1510~1650 年英国南部小麦、羊毛价值指数和地租变化情况。这可以用来说明这一时期英国



- A. 生产方式变革刺激消费需求上涨
B. 重商主义利于促进经济发展
C. 世界市场扩展导致商品结构变化
D. 价格革命加快社会转型进程
34. 卢梭指出:“法是公意的行为”,它伴随着国家的产生而产生,“是依据人民的意愿制定的,人民的权利来自人之为本身,并不是法律所赋予。……无需再问人民何以即使自由的却又要服从法律,因为法律只不过是意志的体现而已。”据此可知,卢梭意在强调
- A. 服从公众意志即是对法律的遵循
B. 法律原则规范了公共秩序下的自由
C. 个人的自由受到理性原则的约束
D. 自律与法律发挥了相辅相成的作用
35. 1959 年,苏联讽刺杂志《鳄鱼》的封面(如右图),表现的是琳琅满目商品前的贫苦者,其中用俄文写道:“这是美国的生活方式,丰富的商品和大量贫苦者。”贫富群体的规模化和差距尖锐化是美国社会固有的经济属性,这一属性对美国社会各种矛盾起到了推波助澜的作用。这一封面画作
- A. 反映美国经济陷入“滞胀”局面
B. 缺乏基本的历史事实依据
C. 呈现出了浓厚的意识形态色彩
D. 旨在歌颂苏联的建设成就



二、非选择题:共 160 分。第 36~42 题为必考题,每个试题考生都必须作答。第 43~47 题为选考题,考生根据要求作答。

(一)必考题:共 135 分。

36. 阅读图文材料,完成下列要求。(24 分)

集装箱是指能装载包装或无包装进行运输,并便于用机械设备进行装卸搬运的一种成组工具。通过对废弃的集装箱进行改造后再利用,不仅物尽其用,还表达了创新理念。集装箱建筑的规模可以

从单个箱体到多层结构,集装箱建筑群也被称为“集装箱村”。通常把集装箱改造成酒店、花园房、农场、体育馆等。近年来,我国集装箱建筑发展较快。图1示意集装箱农场内部景观(内设LED灯带、恒温器、空调、二氧化碳气阀等),图2示意卡塔尔世界杯集装箱球场一角。



图1

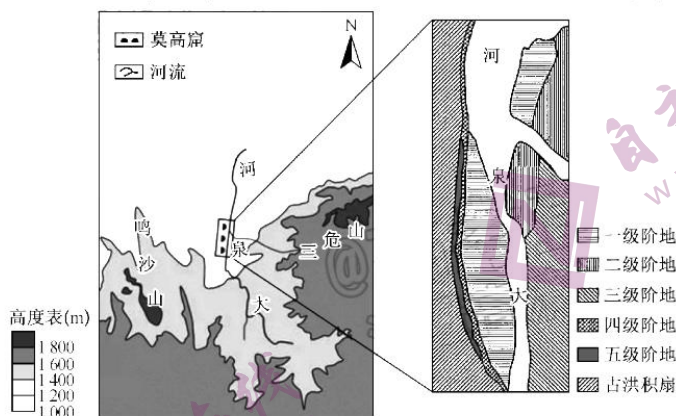


图2

- (1)说明集装箱建筑的特点。(6分)
- (2)与传统农业相比,分析集装箱农业的优缺点。(8分)
- (3)卡塔尔世界杯集装箱球场及集装箱酒店等我国均参与制造,试从我国角度分析原因。(6分)
- (4)试为我国集装箱建筑健康发展提出合理建议。(4分)

37. 阅读图文材料,完成下列要求。(22分)

敦煌莫高窟开凿于敦煌城东南25 km的鸣沙山东麓的崖壁上,前临大泉河,东向祁连山支脉三危山。南北全长1 680 m,现存历代营建的洞窟共735个,分布在高15~30多米高的断崖上,上下分布1~4层不等。大泉河一级阶地1.5~3 m,二级阶地高出河面4~6 m,三级阶地高出河面8~12 m,四级阶地高出河面18~20 m,五级阶地高出河面22~24 m。下图示意敦煌莫高窟位置及周边地区。



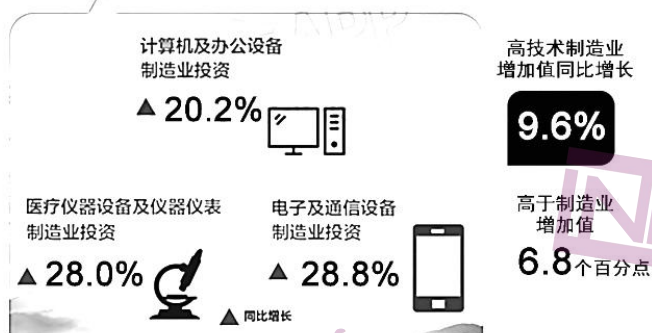
- (1)推测敦煌莫高窟选择在鸣沙山东麓崖壁上开凿的主要原因。(6分)
- (2)简述大泉河两岸阶地的形成过程。(8分)
- (3)鸣沙山多沙丘且沙丘缓坡大致朝向西北方,请分别说明理由。(8分)

38. 阅读材料,完成下列要求。(14分)

制造业是国民经济的基础产业,对一国发展具有重要意义。

材料一

2022年上半年高技术制造业投资同比增长 23.8%



材料二 目前,我国高技术制造业的发展,具有以下几个亮点:一是机器人技术与应用齐头并进,商业落地进程提速。二是人工智能技术与制造业深度融合成为重要趋势,不断引领工业企业实现产品、价值链和业务模式的创新。三是以数字化、智能化为特征的智能工厂发展趋势明显。但也要看到,尽管我国高技术制造业生产、投资、效益增速都遥遥领先于制造业平均水平,但规模体量仍然偏小,一些“卡脖子”问题仍待突破,一系列支撑政策仍待加强,对外开放仍要步伐坚定,继续深化。

(1)请简要概括材料一反映的经济信息。(4分)

(2)结合材料二,运用经济生活知识,为持续推动我国高技术制造业健康发展出谋划策。(10分)

39. 阅读材料,完成下列要求。(12分)

基层治理是国家治理的基石,社区是社会治理的基本单元,社区治理关系群众切身利益,社会和谐稳定。

M地通过党组织“下沉”,引领广大群众参与共建共治。社区党总支经过广泛调研和思考,结合社区实际,创新推出“五心家园”这一社区治理途径,即红心向党、爱心无垠、暖心流淌、安心无忧、同心共建,聚了人心,让家庭更和睦了,社区更和谐了。老党员们在危房搬迁中率先签字、带头搬迁;社区党员干部、网格长、社区民警和医生在疫情防控中率先出击,扎在街巷、钉在一线,始终在岗在位在状态……在无声的行动感染下,社区志愿者队伍很快壮大,他们对社区工作极尽所能,无私付出。社区干部改变工作作风,变坐等居民上门为主动入户走访,及时掌握居民情况,及时解决群众实际困难,居民意见越来越少。社区居委会开创民主议事六步法,实现民事民提、民事民议、民事民决,越来越多的居民自觉、积极、主动融入到社区的管理、建设中来。

结合材料,运用政治生活知识,说明M地的社区治理经验对加强基层社会治理的借鉴价值。

40. 阅读材料,完成下列要求。(26分)

诗酒相携,奏响千年中国文化动人心魄的乐章,让世界品味中国的诗酒浓香。

2022年11月10日,国际诗酒文化大会第六届中国酒城·泸州老窖文化艺术周在酒城泸州盛大开幕,中外诗人、文学家、翻译家、媒体记者等各界嘉宾齐聚,交流诗酒,共论文化。活动期间进行了“1573国际诗歌奖”颁奖典礼、诗歌创作主题研讨会、长江经济带城市文化传媒论坛、精品剧目惠民演出、酒城讲坛等一系列文化活动,再展诗酒芬芳、传文化馨香,让诗酒温暖每个人。

一直以来,泸州老窖积极响应“以讲好中国故事为着力点,创新推进文化的国际传播,加强对外文化交流和多层次文明对话”的号召,将国际诗酒文化大会打造为一场跨越国界、联结中外的文化盛事,未来国际诗酒文化大会将继续深入开展同世界各国的文化交流合作,既要大力传承弘扬中华文化,又要自信地与外来文化交流对话,为中外文化的交流和发展做出更多努力、更大贡献。

(1)国际诗酒文化大会是文明交流互鉴的使者。结合材料并运用联系的观点对此加以说明。(12分)

(2)结合材料并运用文化生活知识,说明举办国际诗酒文化大会的积极意义。(10分)

(3)请你为促进中外文化交流互鉴提供两种途径。(4分)

41. 阅读材料,完成下列要求。(25分)

材料一

明清时期,内向化演进模式的形式及其经济停滞状态出现。而究其原因则为在经济总量增加的同时,由于人口的增长超过经济发展速度,导致人均经济量值的停滞和下降。其中,江南地区农业精耕细作,亩产达到四五百斤;亩产的提高主要在于亩均劳动量投入的增加。由于地少人多,其生产规模不仅没有扩大反而缩小,小生产的模式日趋强化。手工业在技术分工等方面有所进化,但生产动力、生产机械与宋元比较没有大的改进。传统商业经营的商品非主要生活用品,更少生产资料,所谓“其货纤靡,其人善贾”,这种商品流通、市场交换仅是自然经济的调节和补充,其运作能量和运作方式不具备现代市场的内在张力。在经营商业是“未富”政策环境中,商人的正常经济活动常受到政府的“超经济强制”的干预,商业活动的最大风险不是来自市场,而是官府的“留难”。商人的政治地位低下,自然财产也得不到法律保护。明清时期,中国外贸主要有官方朝贡贸易、公行贸易和“非法”的私人贸易,这一时期的贸易与唐宋相比,其外贸的比重和对外开放程度均不及,出现了明显的倒退。

——摘编自樊卫国《论明清经济演进的内向化倾向》

材料二

鸦片战争后,中国进入近代社会,借助于传统水路和现代铁路,与沿海、沿江各通商口岸实施对接,从而逐步发展起了以沿海和国际市场的进出口贸易为导向的近代外向型经济。毋庸讳言的是,由于中原并不直接面海临江,所以,各通商口岸对它的经济辐射,往往具有一定的滞后性。因为各通商口岸的进出口业务,总是先在沿海、沿江省区展开,稍后才会逐渐延展到内陆的某些区域。从当时各口岸的海关贸易报告和贸易统计中相关资料的多少和数值的大小上,也可以感受到内陆和沿海、沿江省区之间,经济外向化进程上的这一差距。在上海被辟为通商口岸后,利用中国沿海最大对外贸易港

的区位优势,通过其他通商口岸的中转作用,将其经济辐射的范围,逐步从长江三角洲地区,向整个长江流域和北方地区扩展。而汉口开埠后,各种洋货便经汉水支流小玉唐、白河流域销往到此,而这一地区的土特产品,也经水运销往汉口和国际市场。

——摘编自吴俊范《近代中原外向型经济的发展及其影响》

(1)根据材料一并结合所学知识,指出明清时期经济内向化趋势的表现及其形成原因。(13分)

(2)根据材料二并结合所学知识,概括近代中国外向型经济发展的特点及其影响。(12分)

42. 阅读材料,完成下列要求。(12分)

材料

在近代西方社会思想中,理性概念占据核心地位,契约论、自由主义、科学精神等许多形成现代社会的基本理念,都是凭借理性的支撑而树立。理性概念自身也经历了由神的恩赐,人的本性,自然理性向启蒙理性的内涵发展与演变,并因此导致西方近现代社会进程的独特特征,以理性为核心的现代性和以现代性为核心的社会学,都受到理性世界观的主导影响。

——摘编自姚德薇《近代西方社会思想中“理性”概念的发展与演变》

根据材料并结合所学世界史的相关知识,自拟论题,并进行简要阐述。(要求:观点明确,史论结合,论述充分,表达清晰。)

(二)选考题:共 25 分。请考生从 2 道地理题、3 道历史题中每科任选一题作答。如果多做,则每科按所做的第一题计分。

43. [地理——选修 3:旅游地理](10 分)

M 国风光秀丽,自然保护区占国土面积的一半,享有印度洋明珠的美誉。该国经济以旅游业为主,对外国游客实行落地签证政策,不同消费等级的旅游酒店齐全,多条航空路线直达法国、意大利、德国、英国等欧洲国家,被称为“欧洲的后花园”。下图示意 M 国国徽。



请依据国徽,设计 M 国可开展的主要旅游项目,并指出 M 国被称为欧洲后花园的主要原因。

44. [地理——选修 6:环境保护](10 分)

2021 年 12 月 24 日,某网络平台在海南举办“拯救珊瑚行动”公益发布会。利用创新型珊瑚公益互动平台,通过短视频和直播的多元活动形式,号召用户在线上种植珊瑚,用户每在线上完成一株珊瑚种植,企业会以用户之名在海南周边海域对应种下一株珊瑚,如下图所示。珊瑚礁覆盖面积不足海底的千分之二,却不仅为近 30% 的海洋物种提供栖息环境和食物来源,还是天然的海岸屏障,可消散波浪能量。过去 30 年里,全球高达 50% 的珊瑚已经消失。



推测“拯救珊瑚行动”公益发布会选择在海南举办的主要原因,并分析该活动实施的意义。

45. [历史——选修1:历史上重大改革回眸](15分)

材料

晋文公即位后,勤于修政,励精图治,任用狐偃、赵衰、贾佗等人,整顿内政。他推行“弃债薄敛”“救乏振滞”“轻关易道,通商宽农”的政策,努力发展经济,增加政府的财政收入;又采取“明贤良”“赏功劳”“举善援能”的政策,安抚旧臣,选拔人才;同时又“作三军,谋元帅”,扩大军队,进行军政改革。在生产上,号召改进工具,施惠百姓,奖励垦殖;在贸易方面,降低税收,积极争取邻商入晋,互通有无,经济获得了繁荣的发展。晋文公更致力于精兵强民,对晋惠公朝之善者,取之;恶者,去之。晋文公认为晋惠公时代招募州兵及开垦私田有利于国家的发展,就将其保留。这些措施是晋国在文公回国后仅仅两三年就能实现质的飞跃的根本原因,也是晋文公霸业的基础和保证。

摘编自齐涛《中国通史教程》等

(1)根据材料,概括晋文公发展经济的主要措施。(9分)

(2)根据材料并结合所学知识,说明晋文公改革的历史意义。(6分)

46. [历史——选修3:20世纪的战争与和平](15分)

材料

1940年10月,英国本土已经度过最危急的时期。英国决定重开滇缅路,其对华政策转趋积极。1940年10月14日,英国大使卡尔在与蒋介石会谈时表示“英国国策今已改变”,建议中国向英国提出提供武器弹药和飞机等军事装备的要求,中国还可以要求英国对华贷款100万英镑。作为回报,中国可以考虑派遣壮丁三四十万人协助英国作战,或在日本进攻马来亚及新加坡时,以大军攻击广州地区,牵制日军南下。1941年2月,丹尼斯少将出任英国驻华武官后,中英展开了有关军事合作问题的实质性讨论,其主要内容有英国训练和指挥中国游击队及英国空军的援华问题。1941年7、8月,中英连续举行了1次关于联合军事行动的具体问题的商谈。1941年8月中旬,双方就组训15连游击部队,协防香港、缅甸等问题达成初步协议。

——摘编自王建朗 黄克武《两岸新编中国近代史》

(1)根据材料并结合所学知识,概括英国对华政策转趋积极的背景与措施。(9分)

(2)根据材料并结合所学知识,说明中英联合军事行动达成初步协议的意义。(6分)

47. [历史——选修4:中外历史人物评说](15分)

材料

穆藕初(1876~1943年),是引进西方科学管理第一人,集创办实业、复兴绝学、奖掖后进于一身,被毛泽东誉为“新兴的商人派代表”。甲午中日战争后,他目睹时艰,发愤钻研“西学”。1909年赴美留学,归国后投身于棉纺业,先后集资创设了上海德大、厚生等纱厂,上海中华劝工银行、维大纺织用品公司,又与人共同设立郑州豫丰纱厂,发起组织华商纱厂联合会及上海华商纱布交易所。1928年后,他逐渐转向政界,在国民政府相关经济管理部门任职,积极推动民生发展。穆藕初一向重视改良棉种和改进企业管理。他曾翻译西方有关企业管理的著作,将经验用于自己的企业实践中并供同行借鉴。他还曾创办植棉试验场试种美棉,并出资购买美棉种子分送各区推广种植。抗战时期,为了改善后方棉织品短缺的情况,他发明了一种生产效率较高的脚踏式木制纺织机,取名“七七纺棉机”,该式纺织机曾在国统区和西北等地大为流行。

摘编自高俊《穆藕初评传》

(1)根据材料,概括穆藕初对中国近代社会发展的贡献。(8分)

(2)根据材料并结合所学知识,归纳穆藕初的可贵品质。(7分)

关于我们

自主选拔在线是致力于提供新高考生涯规划、强基计划、综合评价、三位一体、学科竞赛等政策资讯的升学服务平台。总部坐落于北京，旗下拥有网站（[网址: www.zizzs.com](http://www.zizzs.com)）和微信公众平台等媒体矩阵，用户群体涵盖全国90%以上的重点中学师生及家长，在全国新高考、自主选拔领域首屈一指。

如需第一时间获取相关资讯及备考指南，请关注**自主选拔在线**官方微信号：**zizzsw**。



微信搜一搜

自主选拔在线