

2022—2023 学年度上期高 2023 届半期考试

文科综合试卷

考试时间：150 分钟

满分：300 分

注意事项：

1. 本试卷分第 I 卷（选择题）和第 II 卷（非选择题）两部分。答题前，考生务必将自己的姓名、考生号填写在答题卡上。
2. 回答第 I 卷时，选出每小题的答案后，用铅笔把答题卡上对应题目的答案标号涂黑，如需改动，用橡皮擦干净后，再选涂其他答案标号。写在试卷上无效。
3. 回答第 II 卷时，将答案填写在答题卡相应的题号位置处，写在试卷上无效。
4. 考试结束，只将答题卡交回。

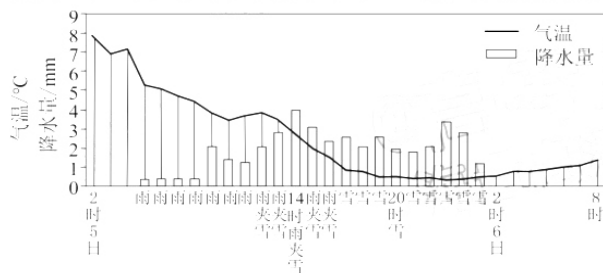
第 I 卷

本卷共 35 个选择题，每题 4 分，全为单项选择题，共 140 分。

2020 年末，我国各类养老床位数量达到 821 万张，东部沿海城市养老床位数量较多，但城市养老床位需求量大，甚至出现“一床难求”现象。有些城市积极推行老年人组团“异地养老”服务。据此完成 1~3 题。

1. 我国养老床位需求量大，反映
 - A. 社会负担重
 - B. 人口增长快
 - C. 医疗水平高
 - D. 经济发展快
2. 影响城市养老床位数量的主要因素是
 - A. 交通因素
 - B. 经济因素
 - C. 传统观念
 - D. 生态环境
3. 能成为“异地养老”的城市（或地区），通常
 - A. 医疗条件好
 - B. 经济发达
 - C. 生态环境优良
 - D. 社会保障完善

下图示意某年某月 5 日 2 时至 6 日 8 时杭州地面上 2m 处气象要素演变。据此完成 4~6 题。



4. 造成图示期间杭州天气变化的天气系统是
 - A. 气旋
 - B. 反气旋
 - C. 冷锋
 - D. 暖锋
5. 图示时间所处的季节最可能是
 - A. 春季
 - B. 夏季
 - C. 秋季
 - D. 冬季
6. 该地 6 日早晨气温有所回升，主要是因为
 - ① 雪地保温作用强
 - ② 地面辐射作用减弱
 - ③ 冷空气活动减弱
 - ④ 海洋调节作用显著
 - A. ①②
 - B. ①③
 - C. ②④
 - D. ③④

试卷第 1 页，共 12 页

足迹化石是指保留于沉积岩层面上的动物足印化石。2020年4月，在河北省张家口市宣化区的一个山坡的坚硬岩石上发现了约1.5亿年前的大型恐龙足迹化石群，恐龙足迹有4300多个，涉及大量植食类恐龙和肉食类恐龙。下图为张家口市宣化区大型恐龙足迹化石图。据此完成7~8题。



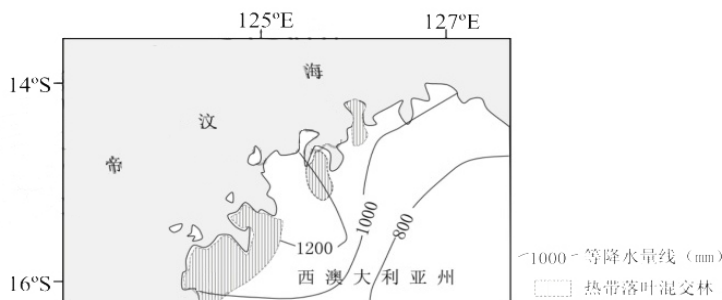
7. 恐龙足迹的存在，说明该地当时

- A. 正处于气候干旱期
- B. 有恐龙在四处觅食
- C. 海洋无脊椎动物空前繁盛
- D. 地表基岩十分坚硬

8. 张家口市宣化区恐龙足迹化石群的形成得益于该地

- A. 天然植被茂盛
- B. 河湖洪涝较少
- C. 地壳沉降运动
- D. 板块挤压强烈

澳大利亚西北部沿海狭窄地带分布有热带落叶混交林。研究表明，该地热带落叶混交林是在末次冰期时迁移扩散至此。下图示意澳大利亚西北部热带落叶混交林的分布。据此完成9~11题。



9. 该区域的热带落叶混交林种群最可能源自

- A. 马来群岛
- B. 新西兰北岛
- C. 印度半岛
- D. 马达加斯加岛

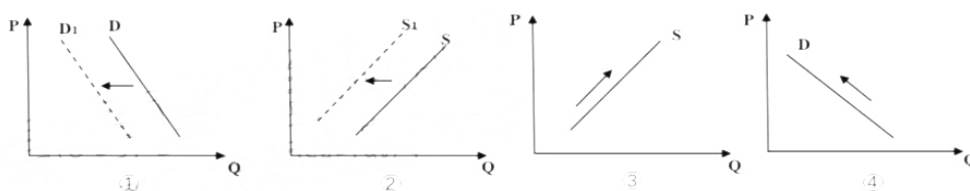
10. 该区域的热带落叶混交林开始集中落叶的时间是

- A. 12月
- B. 4~5月
- C. 7~8月
- D. 10~11月

11. 限制该区域热带落叶混交林向内陆扩展的主要因素是

- A. 热量
- B. 光照
- C. 地形
- D. 水分

12. 下图反映的是一定时期某种商品供求量(Q)与价格(P)变化的情况(图中S、S1表示变化前后的供给曲线，D、D1表示变化前后的需求曲线)。假定其他因素不变，下列判断合理的是



- ①受疫情影响，旅游业、交通运输业的需求变化如图①所示
- ②休渔期间，我国水产品供给状况如图②所示
- ③随着 5G 基地的扩建，各种无线智能设备的供给变化如图③所示
- ④2022 年 8 月全国房贷利率下调，对楼市带来的影响如图④所示

A. ①② B. ①④ C. ②③ D. ③④

13. 2022 年上半年，我国新能源汽车产销分别完成 266.1 万辆和 260 万辆，同比均增长 1.2 倍。中国汽车工业协会预测，今年新能源汽车销量将达 500 万辆，同比增长 42%，市场占有率有望超过 18%。我国新能源汽车消费快速增长的原因可能是

- ①汽柴油价格上涨，新能源汽车对燃油汽车的替代效应增强
- ②新能源汽车车辆购置税优惠政策，降低了新能源汽车价格
- ③环保观念日益深入人心，是影响居民汽车消费的重要因素
- ④作为替代品的充电桩等配套设施完善，助力新能源汽车消费

A. ①② B. ①③ C. ②③ D. ③④

14. 2022 年 3 月 23 日，国家发展改革委、国家能源局联合发布《氢能产业发展中长期规划（2021—2035 年）》，首次明确氢能是未来国家能源体系的重要组成部分，并对氢能做了 15 年长远规划，制定了三个五年维度的发展目标。央企国企带头加速布局氢能产业链，其中，中石化明确提出，要将其打造成世界领先的洁净能源化工公司，在制氢、用氢和加氢全产业链上全面布局。央企国企带头加速布局氢能产业链有利于

- ①增强国有经济在国民经济发展中的控制力
- ②推动国有经济的全面扩张，提高国有经济的比重
- ③壮大国有经济实力，巩固其在国民经济中的主体地位
- ④推进国有经济布局优化和结构调整，发挥其战略支撑作用

A. ①② B. ①④ C. ②③ D. ③④

15. 平台经济是指一种虚拟或真实的交易场所，平台本身不生产产品，但可以促成双方或多方供求之间的交易，收取恰当的费用或赚取差价而获得收益的一种商业模式。京东平台已经拥有近 19 万名正式员工，衍生出超过 2 000 多种职业岗位，全科医生、飞行服务、黑灰产对抗及研究、无人机快递、无人车快递等越来越多创新型岗位开始出现在京东招聘的名单里。据此可见，平台经济的发展

- ①标志着智力创业时代已经到来，就业结构日益多元化
- ②能满足人们多样化的消费需求，发展壮大新动能产业
- ③引领供给侧结构性改革的方向，能助推传统产业升级
- ④营造了公平、包容的就业环境，成为传统就业的补充

A. ①② B. ①③ C. ②④ D. ③④

16. 2022 年 8 月，习总书记在辽宁考察时指出：“中国式现代化是全体人民共同富裕的现代化。”在迈向共同富裕的道路上，如何进一步深化分配制度改革，构建初次分配、再分配和第三次分配协调配套的收入分配体系是一个新的挑战。以下对完善我国个人收入分配认识正确的是

- ①完善按要素分配政策，提高劳动报酬在初次分配中的比重
- ②再分配应该健全回报社会的激励机制，鼓励高收入群体关爱社会
- ③第三次分配重在基本公共服务均等化，避免强者越强，弱者越弱
- ④既要看到三次分配之间的联系，又要遵循各自不同的原则

A. ①② B. ①④ C. ②③ D. ③④

试卷第 3 页，共 12 页

17. 工业生产者出厂价格指数（PPI）与居民消费价格指数（CPI）分别反映了生产领域与消费领域的商品和服务价格变动。一般情况下，一国PPI持续上涨，会推动该国CPI上行。下列由PPI向CPI传导路径正确的是

- ①原材料价格上涨→工业消费品企业支出增多→工业消费品生产成本增加→消费品价格上涨
- ②原材料价格上涨→工业消费品企业利润增加→工业消费品生产规模扩大→消费品价格上涨
- ③农业基本生产资料价格上涨→农业生产盈利能力削弱→农产品需求增加→农产品价格上涨
- ④农业基本生产资料价格上涨→农业生产比较收益下降→农产品供给减少→农产品价格上涨

A. ①③ B. ①④ C. ②③ D. ②④

18. 2021年底的中央经济工作会议指出，实施新的减税降费政策，强化对中小微企业、个体工商户、制造业的支持力度。实施新的减税降费政策的积极意义是

- ①优化营商环境，促使企业公平竞争 ②减轻企业负担，激发市场主体活力
- ③为筑牢现代化经济体系的根基赋能 ④优化经济结构，转换经济增长动力

A. ①② B. ①③ C. ②③ D. ②④

19. “逐利是资本的本性。资本家作为资本的人格化代表，主观上有追求利润最大化的动力，客观上面临市场竞争的压力……资本的增殖欲望也带来一系列社会矛盾和问题，出现了两极分化、经济危机、生态危机等。”为抑制资本的消极作用，我们必须

- ①大力支持公有资本发展，防止私有资本做大做强
- ②完善市场法治环境，强化反垄断和反不正当竞争
- ③发挥市场引导资本配置作用，提高资本配置效率
- ④为资本设置“红绿灯”，依法加强对资本的有效监管

A. ①③ B. ①④ C. ②③ D. ②④

20. 2022年4月出台的《中共中央国务院关于加快建设全国统一大市场的意见》指出，打破地方保护和市场分割，打通制约经济循环的关键堵点，促进商品要素资源在更大范围内畅通流动。由此可见，加快建设全国统一大市场旨在

- ①构建新发展格局，推动国内市场高效畅通和规模拓展
- ②实施科学的宏观调控，避免市场调节出现失灵的情况
- ③更好发挥市场作用，实现资源充分、有效、合理配置
- ④加快清理、废除妨碍统一市场和公平竞争的各种规定

A. ①② B. ①③ C. ②④ D. ③④

21. 2022年我国全面启动了“东数西算”工程建设。该工程每年带动的投资约4000亿元，通过构建数据中心、云计算、大数据一体化的新型算力网络体系，将东部密集地区的算力需求有序引导到西部，使数据要素跨域流动，优化数据中心建设布局，促进东西部协同联动，助力我国数据中心绿色低碳水平的提升。该举措意在

- ①统筹数据算力合理布局，提高算力资源利用效率
- ②消除区域数字经济差距，构建全国统一的大市场
- ③鼓励数据市场自由竞争，形成数字经济竞争新优势
- ④发挥我国体制机制优势，促进东西部经济协调发展

A. ①③ B. ①④ C. ②③ D. ③④

22. 传统的快递分拣靠拣货员拿包裹、扫条码和二维码、再送至对应的配送区域，不仅费时费力，还容易出错。近年来，快递企业使用上“分拣神器”，利用物联网图像采集、传感、信息处理等技术，能够实时访问后台数据库获得每个包裹的地址信息，再由数据驱动包裹智能传送至相应区域，从而大幅提高分拣效率。“分拣神器”助力快递行业发展主要体现在

- A. 节省人力成本，减轻员工负担 B. 提升供应链价值，做大做强企业
C. 分拣快速准确，优化客户体验 D. 融合数字技术，转变发展的方式

23. 2022年7月，我国进出口总值3.81万亿元，增长16.6%。其中，出口2.25万亿元，增长23.9%；进口1.56万亿元，增长7.4%。我国对美出口的箱包、纺织制品、鞋帽伞等产品对出口增速贡献率由16%提升至30%左右。在新兴市场上，我国对东盟出口化工品、纺织原料及纺织制品、贱金属制品规模明显提升。据此可以得出的合理结论是

- ①中国贸易顺差扩大且利于经济可持续发展
②东盟对我国存在较强的产业链供应链依赖
③中美在高科技产品贸易领域的竞争日趋激烈
④中国改革开放为世界经济发展作出重要贡献
- A. ①② B. ①③ C. ②④ D. ③④

24. 西周晚期珉生簋上的铭文记载了珉生与公两家之间的田界纠纷，下面是为此案件的调解程序。这可以用来解释当时

(一)珉生方上诉，由司法官召伯虎出面调解
(二)珉生方接受调解，并送礼物给司法官表示感谢
(三)纠纷双方达成协议，重新划定田界，由有司确认，并写好文书封存官府
(四)珉生作为胜诉方将事件经过铸刻在青铜器上

- A. 土地出现私有化趋势 B. 王室的权威开始下降
C. 土地可以随意买卖 D. 贵族间的矛盾频发

25. 如图是秦朝的郡治分布图。据此推知，秦朝郡治分布体现的实质



- A. 完整延续了春秋战国郡治的设置 B. 折射出秦朝经济发展的地域差异
C. 体现了秦朝加强君主专制的需求 D. 消除了分封制复活的可能性

26. 原来在西汉初年占优势的道家黄老思想，虽然由于“罢黜百家，独尊儒术”而让位于神学经学，但本身仍有强大的生命力。它在民间传播，势力逐渐壮大，对东汉以后思想的发展产生重要影响。材料从侧面反映了
- A. 汉武帝“罢黜百家，独尊儒术”的政策执行得不彻底
B. 道家思想因根植于中国传统社会而具有强大的生命力
C. 儒学成为中国传统文化的主流是一个不断发展的过程
D. 儒家的中国传统文化主流地位在东汉开始发生了动摇
27. 据《朱子语类》记录，唐朝中枢机制运行时，三省长官之间要历经反复多次的草拟、封驳、审定，每一个环节必须要得到皇帝的旨意才可继续下一步，最后递交尚书省进行实行。据此推测唐朝三省制度
- A. 阻断了宰相擅权的进程
B. 有效避免了决策失误
C. 激化了中枢部门的矛盾
D. 存在一定的制度缺陷
28. 南宋孝宗时，“楮(会子)未至于轻(贬值)也，而已虑其轻，多出金银以收之楮未至于多也，而已虑其多，更不增见在(发行量)之数”。淳熙七年时，“会子与见钱等(值)”“民间尤以会子为便”。材料说明南宋
- A. 重农抑商政策强化
B. 政府对纸币发行的管理有效
C. 纸币制造技术成熟
D. 纸币发行推动南方经济发展
29. 明英宗九岁登极，凡事启太后。太后为避嫌，令内阁议行，内阁票拟由此开始。皇帝可选择修改票拟的意见，或改票，或留中等。内阁票拟的推行反映了
- A. 外戚专权受到限制
B. 君主权力开始旁落
C. 中央决策机制变动
D. 中枢行政随意性强
30. 泰莱是北洋海军旗舰“定远”号上的“司令”(传号令者)。管带刘步蟾对外人有戒心，不重用泰莱，他因此怀恨在心，于是黄海海战后，他在回忆录中说刘“怯懦”，擅改队行，攻击刘步蟾。但史学家综合姚锡光《东方兵事纪略》和海军提督丁汝昌报告等所载，并非如泰莱所说。由此可见
- A. 回忆录记载失真，不能成为史料
B. 记录者的主观性影响了历史叙述
C. 时代环境决定历史叙述的价值取向
D. 确定历史事实须综合多种历史叙述
31. 甲午战争以后，在西学冲击下《四书》地位受到动摇。梁启超及其同门在时务学堂的《四书》教学中独重《孟子》，借《孟子》的民本思想引申民权学说，以西学代替理学，走向完全破除程朱义理的道路。这反映了当时
- A. 部分士人价值观念发生异变
B. 救亡图存促使了各阶层觉醒
C. 理学与西学具有内在一致性
D. 宣扬民主共和成为时代潮流

试卷第6页，共12页

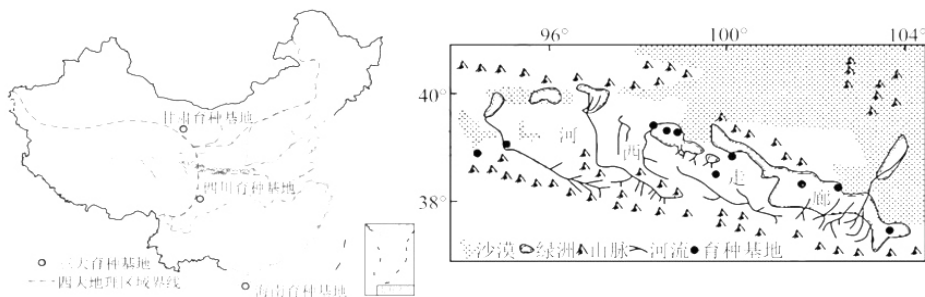
32. 1906年,孙中山在《革命方略》中指出:“今者由平民革命以建国民政府,凡为国民者皆平等以有参政权。大总统由国民公选。议会以国民举之议员构成之。制定中华民国宪法,人人共守。”孙中山将自己所从事的资产阶级民主革命称之为“国民革命”。材料表明,近代中国资产阶级
- A. 主张继承和发展中国古代的民本思想 B. 强调民权目标是资产阶级民主共和国
C. 认识到民主革命的合法性是国民民意 D. 赞同西方议会民主的分权与制衡原则
33. 1929年9月,中共中央曾在“九月来信”中指出,目前红军的基本任务“主要的有以下几项:一、发动群众,实行土地革命,建立苏维埃政权;二、实行游击战争,武装农民,并扩大本身组织;三、扩大游击区域及政治影响于全国”。关于红军的发展和战略问题,实行“分兵游击集中指导是不可移易的原则”。这表明
- A. 中央首次为革命指明了方向 B. 我党提出土地革命政策
C. 党内结束了革命策略的争论 D. 中央支持新的革命探索
34. 《共同纲领》提出:“凡有利于国计民生的私营经济事业,人民政府应鼓励其经济的积极性,并扶助其发展”;1954年宪法则规定:“中华人民共和国依靠国家机关和社会力量,通过社会主义工业和社会主义改造,保证逐步消灭剥削制度,建立社会主义社会。”对材料分析正确的是
- A. 后者是对前者全盘否定 B. 两者都体现了社会主义原则
C. 两者均由全国人大通过 D. 反映了社会性质正发生改变
35. 1961年5月,中央工作会议决定在1960年底城镇人口1.29亿的基数上,三年内减少城镇人口2000万以上。到1961年底,全国减少城镇人口1300万,其中,精简职工950万人。该政策的实施
- A. 得益于高度集中的计划经济体制 B. 缩小了农村和城镇的差别
C. 加剧了当时中国面临的经济困难 D. 有利于工业布局的合理化

第II卷(非选择题,共160分)

本卷包括必考题和选考题两部分。第36题-第42题为必考题,每个试题考生都必须作答。第43题-第46题为选考题,考生根据需求作答。

36. (22分) 阅读图文材料,回答下列问题。

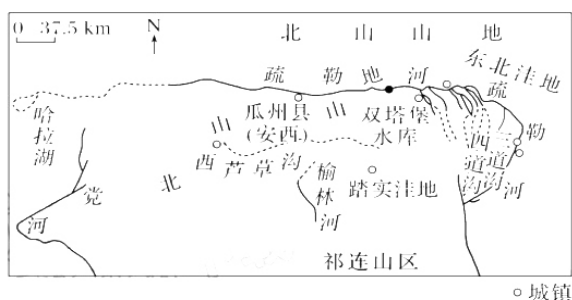
种子被称为农业的“芯片”,种质资源对于保障粮食安全意义重大,2022年新修订的《中华人民共和国种子法》正式施行。四川是农业大省、种业大省,全国52个育种基地县四川占据9个,位居全国第一位。2022年6月8日,习总书记到眉山永丰村考察了四川省规模最大的水稻新品种新技术中试基地。甘肃育种基地位于河西走廊,因独特的自然条件被誉为“天然种子生产车间”。河西走廊目前是我国最大的蔬菜、瓜类、花卉等对外制种产业基地,占全国种子出口量的75%。下图为我国三大育种基地分布图和河西走廊种子生产基地分布图。



- (1) 简述四川成为国家级育种基地的特有位优势。(8分)
- (2) 分析河西走廊被誉为“天然种子生产车间”的有利气候条件。(8分)
- (3) 为确保我国粮食安全,请从种业发展角度提出合理化建议。(6分)

37. (24分) 阅读图文材料,完成下列要求。

蒸散量是指土壤蒸发和植物蒸腾的总耗水量。疏勒河流域多年平均降水量仅为 47~63mm,地区差异明显,年蒸发量高达 3000mm,成为甘肃省干旱程度最严重的地区之一。上游祁连山区是整个流域的水源涵养区和产流区,中、下游荒漠区绿洲与荒漠并存。2000~2015 年疏勒河中下游双塔、党河等灌区灌溉面积不断扩大。下图是疏勒河周边区域自然环境示意图。



- (1) 推测疏勒河中下游地表多年平均日蒸散量的特点,并分析原因。(6分)
- (2) 指出疏勒河流域地表蒸散量最高的季节并解释原因。(8分)
- (3) 指出 2000~2015 年疏勒河中下游蒸散量的变化特点,说明这种变化带来的生态环境问题。(6分)

生态水是指与地球表层植物体紧密相关的水体,是地球水圈中的一个重要部分。地球水圈又可细分为大气水圈、地表水圈、生态水圈及地下水圈。

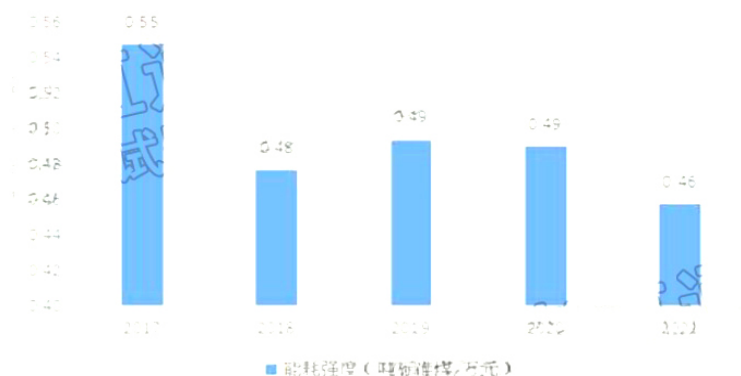
- (4) 有人建议通过水利工程向瓜州县等地区集中时间输送生态水,你是否赞同该建议并说明理由。(4分)

38. 阅读材料,回答问题

力争 2030 年前实现碳达峰、2060 年前实现碳中和,是我国向世界作出的庄严承诺,体现出负责任大国的担当。

材料一

2017-2021 年全我国能耗强度（每万元的产值所需消耗的煤产量）

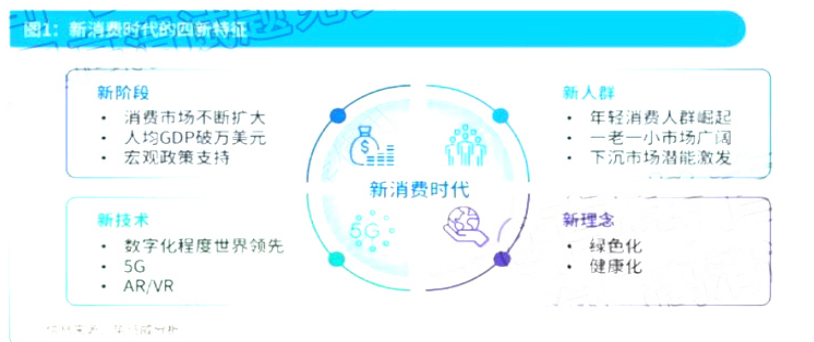


材料二 如期实现碳达峰、碳中和目标，是一场广泛而深刻的经济社会系统性变革，既是全球应对气候变化、加强全球气候治理的需要，也是重塑我国能源结构与产业结构，持续推进生态文明建设、加速绿色转型发展的需要，必然会对我国经济社会发展方式、国家治理理念产生重大而深远的影响。碳达峰碳中和的核心要义是在绿色转型中实现更大发展。从发展前景上，实现碳达峰碳中和目标将刺激能源、产业、科技、投资等领域形成超大规模市场需求，催生一系列新产业、新业态、新产品、新服务。

- (1) 简要说明材料一包含的经济信息。(4分)
- (2) 结合材料，分析实现碳中和目标对我国经济发展的影响(12分)

39. 阅读材料，回答问题

材料一 新消费时代的新特征



材料二 2022 年中国居民消费也出现了萎缩趋势，整体消费量下降，居民消费受到新冠疫情事件的冲击影响巨大；随居民收入增加边际消费倾向递减，这也会在相对数上减少一般消费支出；从中长期看，百姓有较多的“后顾之忧”，引发“预防性储蓄”倾向，也是我国居民消费倾向不高的重要原因之一。

- (1) 结合材料一，运用经济生活知识，解读新消费时代特征蕴含的经济信息。(12分)
- (2) 结合材料二和生活实际，说明在构建双循环中政府应如何助推居民消费升级。(12分)

40. 阅读材料，回答问题

民族要复兴，乡村必振兴。我们要按照党的二十大报告提出的战略部署和决策，全面推进乡村振兴，始终把农业农村工作作为优先发展的方向接续奋斗，全方位夯实粮食安全根基，丰富农产品品种，共同推动乡村产业振兴、人才振兴、文化振兴、生态振兴、组织振兴，促进农业高质高效、乡村宜居宜业、农民富裕富足，让中国式现代化的“三农”基础更牢靠。

结合材料，运用经济生活知识，就如何更好实施乡村振兴战略提出建议。（12分）

41. （25分）阅读材料，完成下列要求。

材料一

汉武帝时期，山东遭受黄河水害，连续数年歉收。武帝颁布诏书，允许饥民流徙就食于江淮间并可以定居。两汉之际，中原兵争激烈，人民纷纷“避乱扬州”。从东汉至西晋初期，匈奴、鲜卑、羯、氐、羌等族内迁，居住在今甘肃、陕西、山西以至河北、辽宁等长城以南的广大地区。唐天授二年，徙雍、同、秦等7州数十万户到洛阳，以实京都长安。自开元年间到五代宋初，全国各道、州置县计120个，其中北方20县，南方却达100县之多。南宋时，“北人过海外，是岁不还者，谓之住蕃”，有的“住蕃虽十年不归”。

——摘编自张岂之《中国历史》

材料二

清初，各种摊派、私征、预征、加征迭兴，“数省皆困”“十室九空”。康熙年间，颁布《招民填川诏》，社会经济复苏，“户口则增至十倍二十倍，是田与屋之数常处其不足”。乾隆初年“大市大镇，商旅辏集，行业专家，祖孙居处，大者千计，小者百十数。”乾隆二十九年（1764年），参赞大臣绰克托在描述乌鲁木齐的情景时说：“民人等移居以来，伐木采煤，养育鸡豚，竟成村落，与内地无异。”

——摘编自陈锋《清代的移民与社会经济》

材料三

改革开放初期，农村劳动力富余达1亿以上。苏南地区开创了“离土不离乡”、“进厂不进城”的模式；随后，“离土又离乡”、“进厂又进城”、“异地转移”、“异地流动”的模式逐步发展起来。1984年颁布了《国务院关于农民进镇落户问题的通知》。1990年，户籍制度开始了新一轮的综合改革，上海、广州等城市也自主出台了“蓝印户口”、“居住证”制度等新政策；一些省区开始考虑取消农业户口、非农业户口的划分，实行城乡户口管理一体化改革。

——摘编自王桂新《改革开放以来中国人口迁移发展的几个特征》

- （1）根据材料一并结合所学知识，说明西汉至两宋区域人口迁移的趋势及其成因。（9分）
- （2）根据材料二并结合所学知识，概括清代人口迁移的特点。（8分）
- （3）根据材料三并结合所学知识，简析改革开放以来农村人口迁移对改革发展的促进作用。（8分）

42. 阅读材料，完成下列要求。(12分)

材料

表 6 天津市的历史沿革表

金代贞祐二年(1214年)	设直沽寨
元代延祐三年(1316年)	设海津镇
明代永乐二年(1404年)	设直沽卫, 赐名“天津”, 天津始有此名
明代永乐二年、四年	先后设天津左卫、天津右卫
清代雍正三年(1725年)	改天津卫为天津州
清代雍正九年(1731年)	升天津州为天津府, 下辖六县一州
民国二年(1913年)	天津被定为直隶省省会
民国十七年(1928年)	南京国民政府设立天津特别市

根据材料, 从整体或局部提炼一个观点, 并结合所学知识进行阐述。(要求: 观点明确, 史论结合, 表达清楚。)

43.(10分)[地理—选修3: 旅游地理]

天下谁人不识“筠”。地处四川省宜宾市南部的筠连县, 拥有全国乡村生态旅游重点村、近十万亩的高坎梯田、川红故里为特色的清溪沟茶文化主题公园、中国工农红军川滇黔边区游击纵队根据地的大雪山、南丝绸之路文化博物馆、南方丝绸之路不夜城、26个少数民族民俗风情等历史文化旅游资源, 还拥有以岩溶地貌为特色的西部洞群、古楼峰丛、巡司温泉等自然旅游资源。2022年初, 一条连接川滇的高速公路——成宜昭高速筠连段(如下图)正式通车, 筠连县旅游再次成为热点。



分析高速公路开通对筠连县发挥旅游资源优势、促进经济发展的作用。

44.(10分)[地理—选修6: 环境保护]

依据林区自然环境特点和林木状况进行间伐, 是林区管理的有效途径。20世纪90年代, 甘肃省南部某林区对部分区域进行不同强度的间伐, 而后继续封山育林。2011年研究人员在该林区选择自然环境相近的4个样地进行调查。下表为部分调查结果。

试卷第11页, 共12页

样地	幼苗密度/株·hm ⁻²	乔木蓄积量/m ³ ·hm ⁻²
无间伐区	1500	3935
轻度间伐区	1900	2721
中度间伐区	2300	2066
重度间伐区	5700	1983

指出间伐强度与幼苗密度、乔木蓄积量间的关系，并分析原因。

45. (15分)【历史——选修1：历史上重大改革回眸】阅读材料，回答问题。

材料

北魏帝王的奉老之举，是对鲜卑早期的“贵少贱老”习俗的变革。孝文帝即位后养老抚恤的对象，除了高龄老者还包括“鳏寡孤独”之人。479年，“诏宫人年老及疾病者，免之”。480年，“诏会京师耆老，赐锦彩、衣服、几杖、稻米、蜜、面，复家人不徭役”。487年，诏曰“孟冬十月，民闲岁隙，……推贤而长者，教其里人，父慈、子孝、兄友、弟顺、夫和、妻柔”。493年，孝文帝出巡车驾至肆州、并州，首次对庶民年长者赐爵。为此还逐渐明确了赐予爵号的等级与年龄。考虑到年老体弱需要家人的照顾，对应出现了减免或减轻本人及子女的力役、刑罚等诏令。先秦两汉均有赐“几杖”以示殊荣之礼。496年，孝文帝诏京畿内年高老者赐予鸠杖。与汉化革新措施伴随的“奉老恤贫”之举，客观上使华夏文化礼仪得以流传至北方。

(摘编自王洁《践行与传承：北魏孝文帝之“奉老恤贫”》)

(1) 根据材料并结合所学知识，概括孝文帝“奉老恤贫”的特点。(8分)

(2) 根据材料并结合所学知识，简析孝文帝“奉老恤贫”的意义。(7分)

46.【历史—选修4：中外历史人物评说】(15分)

材料一

唐玄宗(685—762年)爱好演奏琵琶等乐器。开元年间，玄宗创制法曲(隋唐宫廷燕乐的一种)《霓裳羽衣曲》，不杂夷音，清雅婉转。天宝十三年，玄宗融合边防将领敬献的印度《婆罗门曲》，形成新《霓裳羽衣曲》，主要在宫廷内宴上表演，重大庆典时也向百姓表演。《霓裳羽衣曲》被后世誉为“唐代中原汉乐与西域龟兹乐交融发展的最高艺术成就”。

——蒋远桥《〈霓裳羽衣曲〉的创制、演变和表演》

材料二

法曲法曲歌大定，积德重熙有馀庆。永徽之人舞而咏，法曲法曲舞霓裳。

政和世理音洋洋，开元之人乐且康。法曲法曲合夷歌，夷声邪乱华声和。

以乱干和天宝末，明年胡尘犯宫阙。乃知法曲本华风，苟能审音与政通。

——唐·白居易《法曲》节选

(1) 根据材料一并结合所学知识，分析《霓裳羽衣曲》的诞生背景。(7分)

(2) 根据材料二并结合所学知识，概括说明白居易对霓裳羽衣曲的评价。(8分)

试卷第12页，共12页

2022—2023 学年度上期高 2023 届半期考试

地理参考答案

1-5 ABCCD 6-11 DBCABD

36.(1)①农业大省，种源基础好；②育种基地多，基础条件好；③育种技术先进，科技水平高；④有政策支持。（每点 2 分，答对 4 点得 8 分）微信搜《高三答案公众号》

(2)①夏季高温，热量充足；②夏季日照时间长，晴天多，光照充足；③夏季昼夜温差大，种子品质优良；④冬季气温低，病虫害少；⑤气候干燥，利于种子晾晒与储藏。（每点 2 分，答对 4 点得 8 分）

(3)①加大资金、技术投入，推进种业科技创新；②培育优良品种，提高粮食单产；③调整作物生长周期，扩大农作物的种植范围；④提高农作物品质，减少对国外农产品的依赖。（每点 2 分，答对 3 点得 6 分）

37.(1)特点：疏勒河流域中下游多年平均日蒸散量小。（2 分）

①中下游地区径流量小，土壤含水量少，可用于蒸散水量少；②中下游草地面积小，植被覆盖度差，蒸腾作用弱。（答对 2 点得 4 分）

(2)夏季。（2 分）

①气温高，冰雪融水多，土壤含水量大，可用于蒸散水量多；②农田灌溉，土壤水分充足，可用于蒸散水量多；③农作物及植被繁茂，植物蒸腾作用强；④气温较高，日照时数长，有利于地表蒸散。（每点 2 分，答对 3 点得 6 分）

(3)蒸散量不断增加。（2 分）

①中下游水资源短缺（径流量减少）；②绿洲边缘地区植被破坏（减少），生物多样性减少；③绿洲边缘地区土地退化（盐碱化加剧/荒漠化加剧）。（每点 2 分，答对 2 点得 4 分）

(4)同意：①可以改善局部气候；②增加本区域水资源；③使湖泊及天然植被得到恢复（生物多样性增加），生态环境恶化得到有效缓解。（每点 2 分，答对 2 点得 4 分）

不同意：①消耗上游有限的水资源，导致水资源供需矛盾突出；②上游缺乏生态用水补偿机制，影响上游生态环境。（答对 2 点得 4 分）

43.(答对 5 点得 10 分)

①高速公路的开通，改善了旅游投资与营商环境，

②吸引更多投资者到筠连县开发旅游资源。

③改善了旅游交通条件，便于游客进出，

④扩大旅游客源市场，吸引更多游客前来观光、休闲和度假。

⑤增加就业岗位，提高财政收入，促进旅游业及其相关产业的发展，从而有力促进经济发展。

44.关系：随间伐强度增大，幼苗密度增大，乔木蓄积量减少。（4 分）

原因：①间伐强度增强，乔木减少，裸地面积越大；②幼苗生存空间增大；③幼苗获得更多的光热资源。（答对 3 点得 6 分）

政治参考答案

12-16: ABBCB 17-21: BCDBB 22-23: DC

38. (1) 近年来, 我国的能耗强度呈下降趋势。我国践行绿色、低碳的可持续发展之路, 为实现碳中和做出中国贡献。(4分)

(2) ①实现碳中和将有利于我国优化能源结构, 实现国家能源独立, 确保国家能源安全(3分) ②消拉动新的投资, 带来技术进步, 促使传统产业提质增效。(3分) ③催生崭新的经济增长点, 提供经济增长的新动能, 创造新的就业机会。(3分) ④加速产业结构调整, 实现经济转型升级, 推动整个经济高质量发展。(3分)

39.(1) ①消费市场呈现出很多新的特征: 消费已经成为中国经济增长的重要动力。(3分) ②消费人群的代际变迁是驱动消费市场发生根本性变革的重要因素。下沉市场消费人群逐渐成为购物主力军, 形成消费新需求, 构建消费新格局。(3分) ③中国消费市场高度数字化, 通过技术重构, 助推消费发展新动能。(3分) ④在新消费时代, 绿色化和健康化已经成为消费新理念, 同时也为新冠健康产业带了发展机遇。(3分)

(2) ①发展是解决一切问题的基础和关键, 大力发展生产力, 扩大就业, 提高居民收入。②发挥财政的作用, 健全社会保障体系, 提升居民的消费信心。③完善收入分配政策, 调节收入差距, 实现社会公平, 提高社会总体消费水平。④实行科学的宏观调控, 保持物价稳定。⑤培育新的消费热点, 加快消费结构升级。⑥政府要加大市场监管力度, 为消费者创设良好的消费环境。(每点两分)

40. ①牢牢把握推进农业供给侧结构性改革的主线, 高质量发展为主题, 从整体上提高农业供给体系的质量和效益。(3分) ②坚持市场导向, 培育农产品品牌, 调整农业生产布局, 优化农业种植结构, 培育农业农村发展新动能。(3分) ③培育新型职业农民, 加大农村技术推广, 提高农业生产率, 着力增加农民收入。(2分) ④在新消费时代, 绿色化和健康化已经成为消费新理念, 把生态文明建设放在突出地位。(2分) ⑤创新农村投融资机制, 加大支农力度, 促进城乡之间要素合理流动。(2分)

历史参考答案：

24. A【详解】根据“西周晚期”“重新划定田界，由有司确认，并写好文书封存官府”可知，材料是有关土地纠纷的一则案例。结合所学知识可知，井田制具有国家土地所有制的性质，土地不能随意转让、买卖，但西周中期以后，很多贵族开垦私田，土地出现私有化趋势，“田里不鬻”的格局被打破，随之产生了许多土地纠纷，A项正确；凭此案例无法得出王室权威下降的结论，排除B项；经官方调解，纠纷双方达成协议，协议以文书形式封存官府，这说明土地转让是有制度约束的，不是随意买卖，排除C项。材料只涉及这一个贵族间的矛盾，排除D项。故选A项。
25. B【详解】通过观察图片，结合所学知识可知，秦朝时期，郡治分布在北方比较密集，南方比较稀疏，说明北方经济发展水平较南方高，B项正确；完全延续了春秋战国郡治的设置与春秋战国郡治大多分布在诸侯国边境不符，排除A项；郡县制是中央集权而非君主专制的体现，排除C项；秦代郡县制彻底消除了分封制复活可能性的说法绝对，不符合史实，排除D项。故选B项。
26. C【详解】结合所学知识可知，汉武帝时期采用董仲舒“罢黜百家，独尊儒术”的政策是比较彻底的，儒家思想也取代道家黄老思想成为西汉政权的统治思想，儒家思想也成为以后历代统治者推崇的正统思想，其中道家黄老思想在“罢黜百家，独尊儒术”之后，在民间传播并逐渐壮大从侧面说明了儒家成为中国传统主流地位是一个逐渐发展的过程，C项正确，排除A项；道家思想的强大生命力是材料从正面反映的而不是侧面反映出来的，排除B项；儒家传统文化主流地位的动摇发生在魏晋南北朝时期，排除D项。故选C项。
27. D【详解】依据材料并结合所学知识可知，三省制的运行需要反复的磋商，每一个过程都需要皇帝的决策，这容易导致国家行政运行效率低下，存在一定的缺陷，D项正确；三省六部制一定程度上限制了相权，阻断了宰相擅权的进程说法过于绝对，排除A项；唐朝三省制度并未导致中枢部门的矛盾激化，排除B项；三省六部制有利于减少决策失误，避免了决策失误说法过于绝对，排除C项。故选A项。
28. B【详解】材料讲述了南宋第二位皇帝孝宗在位期间(1162-1189)政府力保会子有序运行的干预措施及其效果，这反映出随着经济重心南移及商业的发展，纸币的有序流通已成为时代的需要，政府对纸币发行的管理卓有成效，B项正确；南宋政府此举并不是加强抑商政策，相反，有助于商业的扩大发展，排除A项；题干信息是政府在控制纸币的发行，与流通量、与纸币制造技术成熟与否无关，排除C项；题干信息未涉及南方经济发展，排除D项。故选B项。
29. C【详解】材料“太后为避嫌，令内阁议行，内阁票拟由此开始。”体现了内阁有了票拟权，说明中央决策机制发生变化，C项正确；材料没有提到外戚专权，排除A项；内阁权力的变化体现了皇权的加强，排除B项；材料没有提到中枢行政，排除D项。故选C项。
30. B【详解】秦莱是主观上对刘步蟾有意见，就在他在回忆录中，将私人的意见夹杂进回忆录中，体现了记录者的主观性影响了历史叙述，B项正确；“不能”说法太绝对，排除A项。材料没有讨论时代环境的影响，排除C项；“确定历史事实须综合……”这一表述太绝对，排除D项。故选B项。
31. A【详解】据材料，反映出梁启超等人的传统思想观念在民族危机和西学的冲击下发生了异变，A项正确；甲午战后民族危机严重，救亡图存成为时代潮流，但当时各阶层并未真正觉醒，排除B项；材料中借民本思想引申民权学说，只是宣传变法的手段和需要，是表面现象，并不代表两者具有内在一致性，排除C项；梁启超等维新派此时主张变法维新，实行君主立宪，民主共和成为时代潮流是在辛亥革命时期，排除D项。故选A项。
32. C【详解】据材料反复提到的关键词“国民”可知，孙中山在此就是强调“国民”在资产阶级民主国民中的重要性，C项正确；中国古代的平民或“民本”和近代“国民”不是一个概念，排除A项；材料中未讨论三民主义，B项与本题无关，排除；D项与材料主旨无关，排除D项，故选C项。
33. D【详解】根据材料，中共中央“九月来信”指出，红军的基本任务是实行土地革命、开展游击战争，这实际上肯定了毛泽东“工农武装割据”的思想，表明中央支持毛泽东在井冈山的新的革命探索，D项正确；“首次”的说法从材料中无法得出，排除A项；早在1927年八七会议就提出土地革命政策，排除B项；“九月来信”肯定了毛泽东“工农武装割据”的思想，但革命策略的争论并未结束，排除C项。故选D项。
34. D【详解】根据材料及所学知识可知，《共同纲领》颁布时正处于即将建立新中国，面临的主要问题是经济恢复，因此鼓励经济发展。1954年国民经济已经恢复，正在进行三大改造，因此提出逐步消灭剥削制度，这体现了我国社会性质的转变，D项正确；A项不符合史实，排除A项；《共同纲领》并未体现社会主义原则，排除B项；《共同纲领》由政协通过，排除C项。故选D项。
35. A【详解】根据材料，结合所学可知，由于大跃进等“左”倾错误，导致国民经济比例失调，出现三年经济困难，为了解决困难，国家对国民经济进行调整，缩小城镇人口，缓解粮食缺乏问题，这是计划经济体制的表现，A项正确；“差别”和“差距”，农村和城镇的差别无明显变化，人口差距有所缩小，排除B项；材料是对大跃进运动

的左倾错误的纠正，会缓解经济困难，排除 C 项；材料没有涉及工业布局，排除 D 项；故选 A 项。

41. (25 分)

- (1) 趋势：从受自然灾害、避战的迁移到正常的迁移；北方人民南迁，区域人口呈现“南增北减”；由黄河流域向长江中下游地区迁移；少数民族内迁；主流向城市；华人部分外流；政府组织与民间自发相结合。(每点 2 分，共 4 分)
- 原因：自然灾害和饥荒发生；中原地区先进经济文化吸引；北方战乱不断，南方相对安定，社会发展相对稳定；经济重心不断南移；统治阶级出于政治、经济、军事目的考虑；政府组织为了弥补国库不足，人口迁移带动商业和手工业发展，海外贸易的发展，也促进边疆经济发展。(三点 5 分、两点 3 分、一点 2 分，共 5 分。可从自然环境、政局、经济、文化、阶级等角度考虑)
- (2) 特点：赋役沉重，人地矛盾尖锐导致人口迁移；城镇经济的发展，农村向城镇的人口迁移；政府性鼓励性移民；省内迁移或省际迁移；由东向西、由内陆向边疆的开发型移民，平原向山区的渗透型移民。(每点 2 分，共 8 分)
- (3) 影响：转移了部分农村剩余劳动力；推动区域经济发展、城市化进程；人口迁移流动机制(或户籍制度)发生转变；有利于打破城乡二元体制，缩小城乡差距；促进了城乡经济体制改革、乡镇企业发展；促进城市管理体制改革；有利于中国特色社会主义市场经济体制改革。(每点 2 分，共 8 分)

42. (12 分)

示例 1

观点：经济发展推动地方政区演变(3 分)

阐述：行政区划作为上层建筑，必须适应当地的经济状况。天津位于华北平原东北，面朝渤海，地理位置优越。金朝、元朝、明朝、清朝先后定都今天的北京，天津作为漕运和海运的重要节点，经济地位日益上升，工商业迅速发展，因此从军事单位“镇”、“卫”发展为“州”、“府”。随着清末天津开口通商，外商企业、洋务企业、民族工业大量出现，天津成为北方的经济中心，政治地位也日益提高，先后成为省会和特别市。(9 分)

示例 2

观点：地理位置是影响行政区划的重要因素(3 分)

阐述：天津是北京的重要门户，北京在金、元、明、清作为政治中心是首善之区，需要加强周围的拱卫力量，因此天津长期作为“镇”、“卫”等军事单位存在。民国初期，北京仍是首都，作为近邻的天津成为直隶省会，为北京分担了部分政治任务。南京国民政府成立后，定都南京，但北平仍是北方重要的政治和文化中心，天津则被设为特别市，定位为北方的工商业中心，双城距离相近，功能互补，起到了很好的推动社会发展的作用。(9 分)

(提示：还可以从人口迁移与城市化的关系、对外贸易发展推动通商口岸发展的关系等角度作答。)

45. (15 分)

- (1) 特点：①对象多元；②覆盖地域范围不断扩大(从京畿到地方各州)；③体现继承与发展；④举措多样；⑤受中原文化影响明显。(8 分，每点 2 分，任 4 点共 8 分)
- (2) 意义：①保障了弱势群体的利益；②维护了社会稳定，增强了百姓对北魏政权的认同；③改变了鲜卑早期的“贵少贱老”习俗，改善社会风气；④促进了华夏文化礼仪的传承与传播。(7 分，每点 2 分，4 点共 7 分)

46. (15 分)

- (1) 背景：国家强盛安定；中外交流频繁；民族文化交融；丝路贸易频繁；宫廷乐舞发展；玄宗喜好音乐。(时代背景 3 点 5 分，个人因素 1 点 2 分)
- (2) 赞美开元年间的霓裳曲为盛世雅乐。(2 分) 说明：开元年间政通人和；突出乐曲教化功能。(任意 1 点 2 分)
- 批评天宝年间的霓裳曲是乱雅俗乐。(2 分) 说明：安史之乱后唐朝走向衰落；“乐与政通”思想的影响；夷夏观念的影响。(任意 1 点 2 分)

关于我们

自主选拔在线是致力于提供新高考生涯规划、强基计划、综合评价、三位一体、学科竞赛等政策资讯的升学服务平台。总部坐落于北京，旗下拥有网站（网址：www.zizzs.com）和微信公众平台等媒体矩阵，用户群体涵盖全国 90% 以上的重点中学师生及家长，在全国新高考、自主选拔领域首屈一指。

如需第一时间获取相关资讯及备考指南，请关注**自主选拔在线**官方微信号：**zizzsw**。



微信搜一搜

自主选拔在线