



拼搏一年 成就梦想
Endeavor a year Achieve the dream

2020级高三第二次模拟考试(文综)学科试卷

满分: 300分

时长: 150分钟

命题: 高三(文综)学科组

审题: 高三(文综)学科组

一、选择题: 本题共 35 小题, 每小题 4 分, 共 140 分。在每小题给出的四个选项中, 只有一项是符合题目要求的。

村落内部住房破旧闲置, 少量新增住房多位于原村落外圈的现象, 被称之为“空心村”现象。“空心村”的常住人口呈明显下降趋势, 并以老人、儿童为主。据此回答 1~3 题。

- 产生空心村现象, 可能的原因是
 - 村落内部地价较高, 村落外围土地地价较低
 - 村落内部建筑老旧, 用于发展旅游而非居住
 - 地区经济发展落后, 村落居民大多外出发展
 - 新型城镇化的发展, 村落内部因污染而废弃
- 空心村现象的存在, 对当地造成的危害有哪些?
 - ①浪费土地资源
 - ②环境卫生恶化
 - ③增加安全隐患
 - ④增加基础设施建设难度
 - ⑤潜伏矛盾纠纷
 - ①②
 - ①②③
 - ①②③④
 - ①②③④⑤
- 有关空心村整治的策略, 比较可行的是
 - 挖掘村落历史, 发展文化旅游, 促进其产业转型升级
 - 从政府管理角度, 严格村落外围宅基地建房使用审批
 - 通过回收村落内部的居住用地, 用于复垦, 增加耕地
 - 发挥村落内部市场与交通的优势, 发展批发与零售业


彼得罗巴甫洛夫斯克是俄罗斯堪察加边疆区首府、堪察加半岛上的最大城市, 2020 年人口 18 万, 接近半岛人口总数的一半。该市与外界联系一般都是通过飞机或海运, 无铁路。右下图为彼得罗巴甫洛夫斯克地理位置示意图, 据此完成 4~5 题。

- 彼得罗巴甫洛夫斯克没有铁路, 对其主要原因的叙述中正确的是
 - 国家层面整体对铁路建设不够重视
 - 该市人口少, 对铁路运输方式需求少
 - 建设铁路投入多、利用率低、维护难
 - 铁路的建设需要的原材料得不到保障
- 促使彼得罗巴甫洛夫斯克市兴起的主要产业最可能是
 - 渔业



- B. 旅游业
- C. 采矿业
- D. 航海业

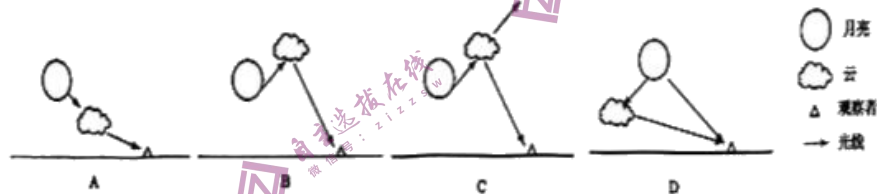
月球在中华文化中占有非常重要的地位。即是一种情感的寄托，如“月有阴晴圆缺”，又可用于某些天气现象的预测，如“月晕午时风”等。月晕是月光透过高而薄的云层时受到云中的冰晶折射所产生的现象（如下图）。读图完成6~8题。



6. “月”之圆缺是

- A. 因日、地、月三者位置关系产生的月食现象
- B. 对观察者而言，因月球亮面朝向变化而产生
- C. 因气象原因导致的月球形状和大小发生改变
- D. 因地球对月光遮挡的月变化产生的月相变化

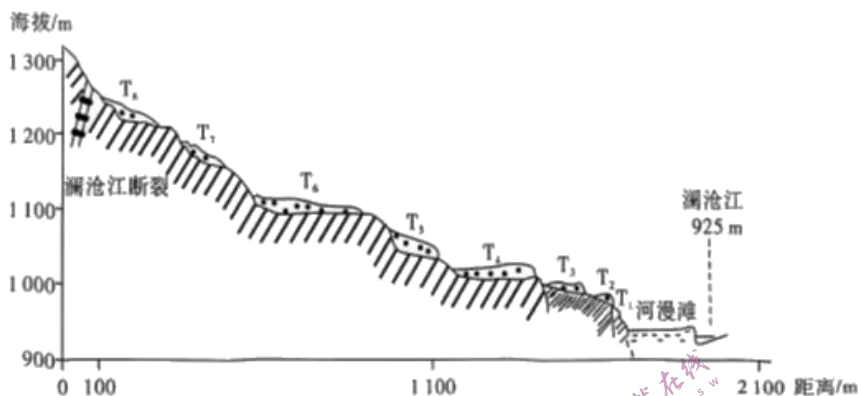
7. 关于月晕产生的示意图，下列示意图正确的是



8. 关于“月晕午时风”的理解，正确的是

- A. 本地正午时分升温快，空气垂直运动强，风力较大
- B. 导致云中冰晶增加的天气系统水平距离较远，到达本地需要一段时间
- C. 导致云中冰晶增加的天气系统垂直距离较远，到达本地需要一段时间
- D. 导致云中冰晶增加的天气系统正午时分强度最大，风力最大

澜沧江沿线山高谷深，河谷多呈“V”形，沿江阶地发育较少，但在中游某地却发育了多级河流阶地（如图）。阶地发育在澜沧江右岸，全部为基座阶地（谷地展宽并发生堆积，后期在下切深度超过冲积层而进入基岩的情况下形成的）。阶地面上的砾石成分复杂，磨圆度较高。据此完成9~11题。



9. 该河段左、右两岸阶地数量差异较大,主要是因为
- A. 流水侵蚀的差异 B. 构造运动的差异
C. 岩层坚硬程度的差异 D. 地转偏向力的影响
10. 与阶地 T_7 相比,阶地 T_6 形成的年代
- A. 地壳上升速率慢 B. 地壳上升速率快
C. 河流径流量大 D. 河流挟带泥沙多
11. 阶地面上的砾石磨圆度较高,是因为
- A. 距离河流近 B. 距离河流远
C. 搬运距离长 D. 搬运距离短
12. 党的二十大报告指出:“中国共产党为什么能,中国特色社会主义为什么好,归根到底是马克思主义行,是中国化时代化的马克思主义行。”党的百年历史就是一部不断推进马克思主义中国化时代化的历史。当前,习近平新时代中国特色社会主义思想实现了马克思主义中国化时代化新的飞跃,体现在它
- ①成为了改革开放以来党的全部理论和实践的主题
②成功地把中国特色社会主义推向了 21 世纪
③开辟了马克思主义理论发展的新境界
④为发展马克思主义作出了原创性贡献
- A. ①② B. ①③ C. ②④ D. ③④
13. 为满足高层次人才创新创业、日常消费和购房置业等全方位金融需求,2022 年福建省推出首笔 500 万元纯信用“人才贷”的金融服务创新产品。该产品具有高额度、低利率、高抵押率、流程简化等

优势。“人才贷”发挥作用的传导路径是

- ① 高额度贷款→提高人才购房能力→吸引人才安家落户→建设高层次人才高地
- ② 低利率贷款→缓解人才融资压力→增加科技研发投入→助力科技自立自强
- ③ 高抵押率→满足人才信贷需求→促进人才高端消费→推动消费市场提质扩容
- ④ 贷款流程简化→加快贷款到账速度→提高人才资金使用效率→增加人才创业收益

A. ①② B. ①③ C. ②④ D. ③④

14. 截至 2022 年 9 月底, 全国登记在册的个体工商户达 1.11 亿户, 其中大部分活跃在批发零售、住宿餐饮和居民服务等领域。2022 年 11 月 1 日, 《促进个体工商户发展条例》正式施行。《条例》进一步明确个体工商户的法律地位, 开展分型分类帮扶, 加强权益保护, 将“放管服”改革成果制度化、规范化。这一举措

- ① 是基于个体经济是推动经济社会发展的重要力量
- ② 通过放开市场准入门槛, 调动民间投资和创业的积极性
- ③ 支持实体经济发展, 解决国民经济发展的动力问题
- ④ 营造鼓励支持非公有制经济高质量发展的良好环境

A. ①② B. ②③ C. ①④ D. ③④

15. 2022 年 9 月 28 日, 河北省人大常委会表决通过了《河北省乡村振兴促进条例》。这是河北省促进乡村全面振兴的基础性法规。条例明确了促进乡村振兴应当坚持中国共产党的领导, 要求建立乡村振兴工作领导责任制和政府、市场、社会协同推进机制, 鼓励支持社会各方面参与乡村振兴活动。这表明全面推进乡村振兴必须

- ① 健全党领导农村工作的组织体系和制度体系
- ② 加大河北省人大对乡村振兴工作的立法领导
- ③ 加大河北省政府对条例实施的执法检查力度
- ④ 充分发挥人民群众在乡村振兴中的主体作用

A. ①③ B. ①④ C. ②③ D. ②④

16. 2022 年是统一战线政策提出 100 周年。中国共产党始终从全局和战略高度重视统一战线工作: 始终坚持大团结大联合, 支持民主党派全面推进思想政治、组织、履职能力、作风和制度建设, 为此各民主党派要

- ① 加强自身建设, 更好发挥专门协商机构的作用
- ② 增进政治认同, 巩固合作的共同思想政治基础
- ③ 完善监督机制, 强化对中国共产党的政治监督
- ④ 依法行使参政权, 发挥我国新型政党制度优势

A. ①② B. ①③ C. ②④ D. ③④

17. 《中华人民共和国反电信网络诈骗法》于 2022 年 12 月 1 日起施行。该法以习近平法治思想为指导,

坚持运用法治思维，打击电信网络犯罪，破解治理难题，聚焦电信、金融、互联网三大行业突出问题，回应了群众期待。该法的实施

- ①坚持了科学立法，为打击电信网络诈骗提供了法律保障
- ②落实了以人民为中心的发展思想，破解电信网络诈骗治理难题
- ③意在克服电信网络市场的盲目性弊端，利于净化电信网络环境
- ④促进了政府公正文明规范执法，保障了公民的政治权利

A. ①② B. ①③ C. ②④ D. ③④

18. 国务院同意在廊坊、沧州等 33 个城市和地区设立跨境电子商务综合试验区，其建设坚持稳字当头、稳中求进的总基调，坚持创新驱动发展，复制推广前六批综合试验区成熟经验做法，发挥跨境电子商务助力传统产业转型升级的积极作用，要抓好风险防范，坚持在发展中规范、在规范中发展，为各类市场主体公平参与市场竞争创造良好的营商环境。这蕴含的哲理是

- ①“两点论”和“重点论”相结合 ②矛盾同一性和斗争性在一定条件下相互转化
- ③矛盾的普遍性和特殊性是相互联结的 ④主要矛盾和次要矛盾是辩证统一的

A. ①② B. ①③ C. ②④ D. ③④

19. 下幅漫画给我们的哲学启示有



- ①以辩证态度对待自己处境有利于促进实践成功
- ②意识的主动创造性影响人们对人生道路的选择
- ③人生道路的选择与自己所处环境的优劣有关系
- ④正确发挥主观能动性要以注重客观条件为基础

A. ①② B. ①③ C. ②④ D. ③④

20. 2022 年 10 月 1 日，由中宣部、中国文联主办的“筑梦——我们的新时代美术摄影作品展”开幕。展品聚焦党的十八大以来党和国家事业取得的辉煌成就和人民群众的幸福生活，用情抒写中国人民奋斗之志、创造之力、发展之果。由此可见

- ①文化源于政治经济又促进政治经济发展
- ②任何精神现象都要凝结在一定物质载体中
- ③文化教化育人，帮助人们提高科学文化素质

④文化创作要讴歌和展示人民群众的伟大实践

A. ①③ B. ①④ C. ②③ D. ②④

21. 2022年12月7日中新网发文指出：法国总统马克龙前几天对美国的国事访问，被认为是欧美避免滑向“贸易战”的“最后机会”。但按照欧洲议会国际贸易委员会主席贝恩德·朗格的观点看来，想要靠谈判避免危机已然徒劳，欧洲有必要发起反击，到世贸组织“状告”美国了。材料表明

- ①竞争、合作和冲突是当前国际关系的基本内容
- ②霸权主义和强权政治成为最突出和最严重的新的安全威胁
- ③法国总统拥有外交权，有权通过外交磋商解决争端
- ④国际竞争需要各方共同遵守一定的国际规则

A. ①② B. ①④ C. ②③ D. ③④

22. 2019年1月，李某与张某举行婚礼，开始共同生活。2月，李某买了一套公寓并登记在自己名下。3月，李某与张某登记结婚。2年后，孩子出生，夫妻俩住进了张某父母赠送给他们的别墅里。如今，双方因为孩子教育问题产生争执，矛盾升级导致感情破裂，在离婚分割财产时夫妻双方发生纠纷。下列说法合理的是

- ①公寓应当属于登记在李某名下的个人财产
- ②别墅应当属于张某父母赠与张某的个人财产
- ③双方的纠纷可以通过协商、调解、诉讼解决，但不能通过仲裁解决
- ④双方可通过诉讼解决纠纷，且均有在判决书生效后提出上诉的权利

A. ①② B. ①③ C. ②④ D. ③④

23. 以下案例与结论对应正确的是

- ①《老子》中为之于未有，治之于未乱——体现逆向思维
- ②将玻璃杯与刻度相交合，产生刻度玻璃杯——体现信息交合法
- ③仿照事物之间的条件关系，推测事物发展的可能前景——这是形象化想象的特点
- ④叩诊方法诊断病情——体现功能类比

A. ①② B. ②③ C. ②④ D. ③④

24. 先秦原始儒学注重伦理的双向性，虽有“尊尊”之等级，实无“尊卑”之贵贱；汉代儒生推崇《左传》深于君父之义，以秦制律令体系的“尊卑”取代了《春秋》的“尊尊”。这反映出西汉儒学

- A. 抛弃了儒家核心思想
- B. 迎合了专制统治的需要
- C. 完善了纲常伦理体系
- D. 肯定了秦朝的政治统治

25. 北魏建立者鲜卑拓跋氏自称“轩辕之苗裔”，建立北周的鲜卑宇文氏则称“其先出自炎帝神农氏”。少数民族统治者此举意在

- A. 提高少数民族的政治地位
- B. 改变少数民族的生活习惯
- C. 强调自身政权的正统地位
- D. 实现与汉族间的平等地位

26. “禁榷”是中国古代对重要商品采取政府垄断经营制度。北宋政府禁榷的范围包括盐、茶、酒、醋、铁等，其禁榷范围之广、攫取商品利益之大是其他朝代无法比拟的。宋代这一局面形成的主要原因是
- A. 政府财政的紧张
B. 重农抑商的强化
C. 城市商贸的繁荣
D. 社会治理的完备
27. 清初学者王夫之说：“秦以私天下之心而罢侯置守，而天假其私以行其大公。”即置郡县为“行其大公”。民初学者章太炎说：“古先民平其政者，莫遂于秦。”“平其政”即“使人们在政治上平等”。“行其大公”和“平其政者”体现在
- A. 百姓不再是封君的属民
B. 政务处理的高度程序化
C. 依据才干政绩任免官吏
D. 郡县制更利于皇帝集权
28. 第二次鸦片战争以后，输入中国的外国商品只需缴纳“值百抽五”的口岸税和运销内地的“半税”，即只需纳 7.5% 的税额便可畅行无阻地销往中国各地，而本国商品从产地运销他处则“逢关纳税，遇卡抽厘”，厘金征收额一般在 10% 以上，有的甚至高达 50%。这一做法
- A. 阻碍了民族工业的发展
B. 促进了传统手工业进步
C. 导致了关税主权的沦丧
D. 造成了国内市场的狭小
29. 1927 年 6 月，毛泽东提出“山区的上山，滨湖的上船，武装保卫革命”的主张，随后他回湖南，作出了让农会会员和农民自卫军“上山”“进湖”，保存革命实力，以待时机的工作部署。这体现了毛泽东
- A. 践行“工农武装割据”理论
B. 开始武装反抗国民党反动派
C. 推动土地革命的不断发
D. 探索符合国情的革命道路
30. 下图版画《备战备荒为人民·喜爱国粮》，出自陕西出版的《户县农民画选集》，生动描绘了某一时期中国的社会现象。这幅版画描绘事件的外交背景是中国



- A. 应对西方国家的敌对封锁
B. 实行“一边倒”的外交方针
C. 调整了与苏联的外交政策
D. 推行了全方位外交的政策
31. 阿兹特克文明有高度密集的人口，产生了初级的文字和阶级分化，而且他们的生计活动富有创造力，利用浮动园地和水利设施达到了很高的生产效益和生态维护效能，但没有使用金属工具，也不会使用畜力甚至没有发达的陶器制作。据此可知阿兹特克文明

- A. 依然处于原始社会
B. 文明演进动力不足
C. 无法建立中心城市
D. 尚未进入国家阶段
32. 11 世纪末，来自欧洲的十字军闯入了原本属于希腊人和穆斯林的世界，这场宗教性军事行动前后持续近 200 年。东征过程中，拜占庭帝国保留的古典文献、阿拉伯的科学知识，中国的印刷术等传入欧洲。材料表明十字军东征
- A. 使地中海沿岸成为西欧经济中心
B. 客观上推动了文艺复兴的出现
C. 使东方文化与西方文化开始交流
D. 有利于西欧商品经济快速发展
33. 19 世纪初爆发的拉丁美洲独立运动与北美独立战争、法国大革命等共同构成所谓的“大西洋革命”，但拉丁美洲独立运动却是一场“早产”革命，独立后的拉美民族民主被称为“早产”革命的主要依据是
- A. 法国大革命削弱了宗主国的统治
B. 美国对拉美的经济侵略和武装干涉
C. 拉美地区资本主义经济发展薄弱
D. 独立前拉美民族民主意识尚未觉醒
34. 下表所示为 1820~1900 年英国棉布出口的数据（单位：%），据表可知，这一时期

年份	欧洲和美国	不发达国家（地区）	其他国家（地区）
1820	60.4	31.8	7.8
1840	29.5	66.7	3.8
1860	19.0	73.3	7.7
1880	9.8	82.0	8.2
1900	1	86.3	6.6

- A. 英国已经放弃自由贸易政策
B. 欧美工业化水平得到了提升
C. 英国海外殖民地呈扩大趋势
D. 不发达国家开始卷入世界市场
35. 美国于 1982 年 11 月 13 日宣布：取消对苏联天然气管道制裁的前提，是西欧国家立即着手研究替代苏联能源的问题。但是西欧还是加强了与苏联的经济往来，1983 年，西欧同苏联的贸易额占当年苏联同发达国家贸易总额的 82%。这反映出
- A. 美苏两极对峙走向缓和
B. 西欧对外战略独立性增强
C. 美国丧失世界霸主地位
D. 欧洲已成为美国竞争对手

二、非选择题：共 160 分。第 36、37 题为地理大题，第 38-40 题为政治大题，第 41-43 题为历史大题，每道试题考生都必须作答。

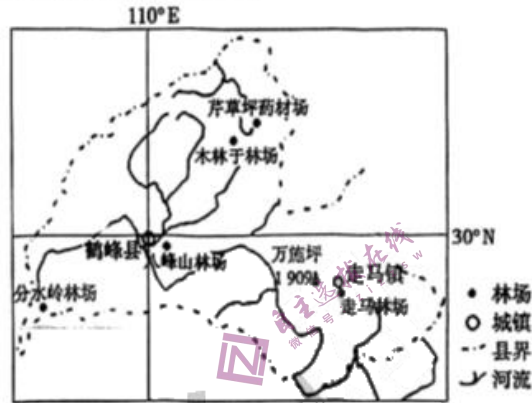
36. 阅读图文资料，完成下列要求。（28 分）

材料一：天麻是一种名贵中药材（如图）



材料二：天麻属多年生兰科草本植物，地上部分是一根直挺无绿叶的“剑”，“剑”上开花、（经人工授粉）结种；地下部分是肉质的块茎。野生天麻需与真菌类的密环菌、紫萁小菇共生。天麻种子飞落在染菌的地上树叶或腐殖质中，真菌侵入种子使之萌发，形成圆球茎后，蜜环菌为原球茎提供营养生长成块茎，取出晾晒干入药。亦可采用人工方式完成林下植入蜜环菌和天麻种子完成播种、繁殖环节。腐殖质较多而湿润的林下是天麻的良好生存环境。

材料三：湖北省西南部的鹤峰县是我国理想的天麻产地。

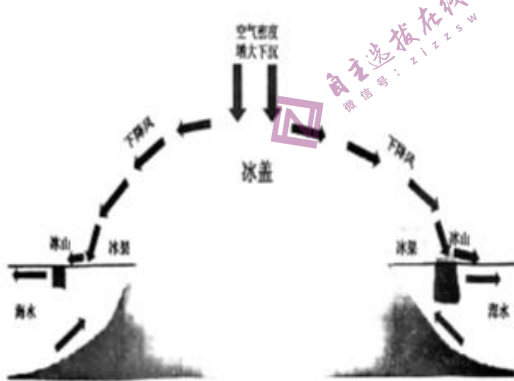


- (1) 分析湖北鹤峰县适合天麻生长的有利自然条件。(6分)
- (2) 说明野生天麻价格更昂贵的原因。(4分)
- (3) 从经济和生态角度分析天麻多在冬季采收而不选在春夏采收的原因。(10分)
- (4) 近年来药农把天麻种植地从深山里转移到了靠近聚落，试分析原因。(8分)

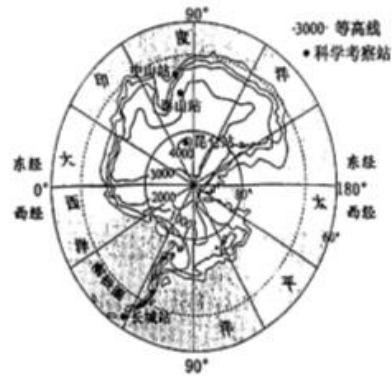
37. 阅读材料，回答问题。(28分)

材料一 下降风是指空气受重力作用形成的下坡气流。下降风在南极洲全年都会出现，运动特征如图甲所示。其风力很大，最强可达17级以上，是影响南极地理环境的关键因素。下降风发生时，随气流前行，风速会越来越来大；风速有显著的日循环特征。

材料二 图乙为南极洲等高线地形图及中国主要科考站位置。



图甲



图乙

- (1) 分析南极下降风风力强大的原因。(12分)
- (2) 南极洲夏季天气晴朗时，一天中的什么时段下降风风力会最大？说出推测理由。(8分)
- (3) 说出南极下降风对南极大陆边缘地区的自然地理环境产生的影响。(8分)

38. 阅读材料，完成下列要求。(18分)

材料一

2018年，在首届中国国际进口博览会的开幕式上，习近平主席向世界作出中国开放的大门不会关闭，只会越开越大的承诺。几年来，进博会从无到有，越办越好，成为新时代中国不断扩大开放的生动缩影，中国用行动践行承诺，交出了亮眼的成绩单，下图是第五届中国国际进口博览会的成果：

第五届进博会		
284家世界500强 和行业龙头企业参展 数量超过上届 回头率近90%	按一年计意向成交金额	比上届增长
	735.2亿美元	3.9%
截至2022年11月10日12时		
累计进场46.1万人次		

从“头回客”到“回头客”，再到“常驻客”，进博会已经成为我国对外贸易和吸引外资的“金字招牌”，跨国企业“来了又来”体现它们对中国市场的看重和对中国经济的看好。举办中国国际进口博览会，是中国着眼于推动新一轮高水平对外开放作出的重大决策，是中国主动向世界开放市场的重大举措。经过几年的发展，进博会已经成为全球新品的首发地、前沿技术的首选地、创新服务的首推地。参展商做出这样的选择，无一例外是看中进博会这个共享的公共平台以及中国市场的强大吸引力。中国的新发展推动各国各方共享三大机遇：中国大市场机遇、制度型开放机遇、深化国际合作机遇。

(1) 开放是人类文明进步的重要动力，是世界繁荣发展的必由之路。结合材料，运用《经济与社会》《当代国际政治与经济》的知识对此加以分析。(12分)

材料二

进博会不仅是全球新品种新技术新服务亮相的集中地，同时也是文化交流的大舞台。在第五届进博会上，很多地方都带来了“非遗”产品和项目，让人们感受到博大精深的历史文化，80多场公益演出和展演也让中西文化在这里各美其美、美美与共。世界透过进博会看中国，中国与世界的优秀文化也在此交流互鉴。

(2) 结合材料，运用“文化遗产与文化创新”的知识，说明中国推动文明交流互鉴的意义。(6分)

39. 阅读材料，完成下列要求。(10分)

为建立一个人民民主专政的国家，香山时期（是指新民主主义革命的最后时期，也是新中国诞生的筹备时期），中国共产党指导召开各界人民代表会议，恢复建立全国性群众团体；筹备召开中国人民政治协商会议第一届全体会议，成立中央人民政府，进行了协商建国的生动实践。

强国必先强党，党的领导是党和国家的根本所在、命脉所在。要充分发挥党总揽全局、协调各方的领导核心作用。只有坚持中国共产党的领导，协商民主才能充分发挥出权威性、系统性、稳定性和人民性，才能汇聚民意、增强团结、汇集智慧，才能充分发展真正行得通、做得到的民主形式。

在百年波澜壮阔的历史进程中，中国共产党紧紧依靠人民实现了一个又一个“不可能”，创造了一个又一个奇迹。新的征程上，我们必须紧紧依靠人民创造历史，坚持全心全意为人民服务的根本宗旨。站稳人民立场，贯彻党的群众路线，发展全过程人民民主，坚持统一战线，汇聚起全体中华儿女的磅礴力量。

结合材料并运用《政治与法治》知识，说明从香山时期至今，我国人民民主建设的实践经验带给我们的启示。(10分)

40. 阅读材料，完成下列要求。(24分)

2022年我国牢固确立了知识产权大国地位，知识产权有力支撑了经济高质量发展。

材料一

党的十八大以来，以习近平同志为核心的党中央将知识产权工作摆在更加突出的位置。通过顶层设计、法律修订、机构调整、政策制定等一系列举措，打通知识产权创造、运用、保护、管理、服务全链条，健全知识产权综合管理体制，增强系统保护能力，深化知识产权保护工作体制机制改革，不断带领我国知识产权事业取得新的成绩，有效推动和支撑了创新型国家建设。在实现高水平科技自立自强、推进依法治国、发挥知识价值和塑造良好营商环境的过程中，知识产权保护体制机制的作用也不断凸显。因此，完善知识产权保护体制机制成为我国经济发展从资源要素驱动向创新驱动转变的内在需求。

材料二

甲是颇有名气的小发明家。升入高中以后，他完成了一项发明，准备和A企业合作，把这项发明转化为产品，甲选择以商业秘密的方式来保护其发明。不久后B公司作出了和甲相同的发明，并将这项发明投入生产，产品投放市场。甲认为该发明由自己率先发明，B公司侵犯了其专利权，并在社交平台发文公开谴责B公司的侵权行为，给B公司带来了一定的影响。

材料三

知识产权保护没有最好，只有更好。党中央部署出台了一系列重大政策，实行严格的知识产权保护制度；针对群众反映强烈、侵权假冒多发的重点领域和区域，我国不断推进法律有效实施，坚决依法惩处侵犯知识产权行为；深化知识产权保护工作体制机制改革，制定修改涉知识产权相关法律，设立知识产权法院，知识产权保护效果、运用效益和国际影响力显著提升，深度参与世界知识产权组织框架下的全球知识产权治理……走出了一条中国特色知识产权发展之路。

(1) 结合材料一，运用生产方式的相关知识，说明我国加强知识产权保护的必要性。(10分)

(2) 结合材料二，运用《法律与生活》的知识，评析甲和B公司的行为。(8分)

(3) 结合材料三，运用《中国特色社会主义》的有关知识，简要概述我国为什么能走出一条中国特色知识产权发展之路？(6分)

41. 阅读材料，回答问题。(25分)

材料一

遇有灾伤，宋代政府多会施以赈钱、赈粮、蠲免等赈济措施，并增加选差医生、修合药剂。为降低疾疫对民众的危害，政府还有定期提前防疫的措施，还针对一些地区疾疫盛行却迷信巫覡、拒绝医药的陋习，宋政府专门赐方书，普及医药知识。在宋代，“熟药所”是为受疫民众修合药物并免费供给的机构，徽宗时期推广至地方设立，如苏州济民药局、建康府药局、衢州惠民局等。由地方官员临时创办的养病院、居养院、安济坊等机构，担负起收治病患、抚养鰥寡孤独的重要使命，逐渐成为地方防疫的重要组成部分，宋代以后继续沿用。

——摘编自胡玉《宋代疫病爆发情况及防疫措施》

材料二

清代卫生防疫大事记一览表

序号	时间	机构/规章	意义
1	同治十二年(1873年)	海港检疫	中国海港检疫之始
2	同治年间(1862—1874年)	疫区检疫	中国政区检疫之始
3	光绪二十八年(1902年)	天津卫生局 《天津卫生局现行章程》	中国地方施行卫生行政的序幕
4	光绪二十八年	卫生巡捕	中国最早真正意义上的卫生警察
5	光绪三十年	北洋卫生局	中国第一个区域性防疫机构
6	光绪三十年	上海万国红十字会	中国红十字会之始
7	光绪三十一年	巡警部—警保司—卫生科	全国制度性卫生行政起步
8	宣统三年(1911年)	《民政部拟定防疫章程》	中国第一部全国性防疫法规
9	宣统三年	奉天万国鼠疫研究会	中国历史上第一次真正意义上的国际会议
10	宣统三年	民政部防疫学堂	培养专门防疫人才

——李夜沫 陈丹阳《清代卫生防疫机制的引建》

- (1) 根据材料一并结合所学知识，概括宋代疫病防治的特点，并分析其意义。(12分)
- (2) 根据材料一、二并结合所学知识，指出晚清疫病防治的新变化并分析原因。(13分)

42. 阅读材料，回答问题。(12分)

罗马帝国时期的希腊裔作家普鲁塔克(约46-120年)，有一本传之久远的传记史学著作《名人合传》。在书中普鲁塔克通常用一个相同的题目，将一对有相似历史业绩的希腊、罗马名人进行联系记述，如“创基开国者”一篇，记载了雅典城的建立者忒休斯，和罗马城的建立者罗慕路斯。“法律制定者”一篇，记载了为斯巴达制定婚姻、教育、政体等规范的吕库古，和为罗马整顿宗教、历法、家庭等规范的努马。“继往开来者”一篇记载了终结希腊城邦混战并引入东方专制统治的亚历山大，和终结罗马贵族共和制并奠定罗马帝国根基的凯撒。

最后，普鲁塔克还会再加上对这两人品性或功绩的评价，他既关注他们的相似功绩，也留意他们的差别和造就差别的原因。

——摘编自 普鲁塔克《希腊罗马名人传》

根据材料并结合所学知识，仿照普鲁塔克的行文模式，各取一位6-16世纪的中、外历史名人，书写一篇合传。(要求自行拟定题目，叙述相关事迹并予以评论)

43. 阅读材料,完成下列要求。(15分)

材料一

二战后,日本粮食短缺问题严重。美国占领当局以政府信贷的方式设立占领区政府救济基金、占领区经济复兴基金等,推动日本大规模进口美国粮食。20世纪50年代后,美国大力推动剩余粮食(做面包的小麦、做饲料的玉米等)的对日倾销。美国设立了“饮食改善协会”,“赠予”日本学校面粉和牛奶,并培训面包师。日本人的食材逐渐从以米、鱼、蔬菜为主变为以小麦、肉类、乳类为主。畜牧业的发展刺激了日本的粮食进口,1973-1974年,日本对美国谷物和豆类进口的依存系数达67%。

——摘编自徐振伟《二战后美国对日本的粮食战略及其影响》

材料二

改革开放以来,我国高度关注粮食安全问题,粮食生产加快发展。国家制定的一系列法律法规和政策措施,坚持以牺牲耕地搞开发,保持农村土地承包关系的长期稳定,保护农民的生产积极性。国家按照市场需求,把粮食的生产、转化、加工、流通、消费作为一个完整的产业体系,进行系列开发和整体建设。国家农业科研的投入比重不断提高,国家农业科技创新体系加快建立,“种子工程”、“畜禽水产良种工程”等重大工程顺利实施。健全完善中央储备粮与地方储备粮之间的补充机制,统一协调省、市、县三级储备的吞吐,确保各地国储库和中央储备粮规模的稳定。2007年,中国粮食产量再次登上5000亿公斤阶段性水平。2008年,我国粮食产量突破历史最高水平。

——摘编自尹成杰《粮安天下——全球粮食危机与中国粮食安全》

(1)根据材料一并结合所学知识,概述二战后美国占领当局为解决日本人吃饭问题而采取的措施及其影响。(7分)

(2)根据材料二并结合所学知识,概括我国为保障粮食安全所采取的措施,并分析其意义。(8分)