

运城市 2022-2023 学年第一学期期末调研测试

高三文科综合试题

2023.

本试卷分第 I 卷(选择题)和第 II 卷(非选择题)两部分,共 300 分,考试时间 150 分钟。考生作答时,将答案写在答题卡上,在本试卷上答题无效,考试结束后,将答题卡交回。

注意事项:

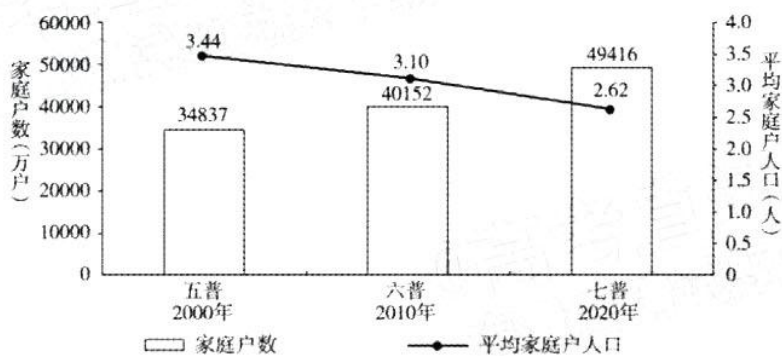
1. 答题前,考生务必先将自己的姓名、准考证号填写在答题卡上,认真核对条形码上的姓名、准考证号,并将条形码粘贴在答题卡的指定位置上。
2. 答题时使用 0.5 毫米的黑色中性(签字)笔或碳素笔书写,字体工整、笔迹清楚。
3. 请按照题号在各题的答题区域(黑色线框)内作答,超出答题区域书写的答案无效。
4. 保持卡面清洁,不折叠,不破损。

第 I 卷(选择题)

一、选择题(本卷共 35 个小题,每小题 4 分,共 140 分。在每小题给出的四个选项中,只有一项是符合题目要求的。)

根据国家统计局定义,以家庭成员关系为主,居住在一处共同生活的人口,组成一个家庭户。按照家庭中的代际人口结构,可以把家庭户分为一代户、二代户、三代及以上户等不同立户模式。下图示意我国最近三次人口普查中家庭户变化情况,三次人口普查均发现 30~34


岁年龄段比 20~24 岁年龄段的一代户比例低。据此完成下面小题。



1. 为适应我国家庭户人口规模的变化,企业最可能推出
 - A. 大户型房子
 - B. 智能化家电
 - C. 一人食火锅
 - D. 双人半价餐
2. 与 20~24 岁年龄段相比,30~34 岁年龄段一代户比例较低的原因主要是
 - A. 生育子女少
 - B. 赡养父母
 - C. 结婚人数多
 - D. 离婚人数多
3. 下列有关我国家庭户现状及影响的说法,正确的是
 - A. 家庭户的数量呈现减少的趋势
 - B. 网络娱乐市场的发展空间受限
 - C. 城市的人口落户政策逐步放宽
 - D. 家庭养老抚育的功能逐步弱化

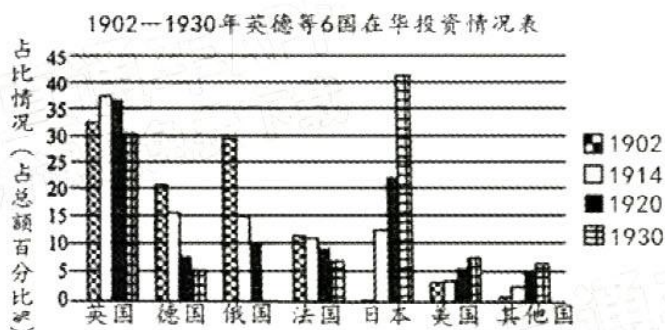
四川省丹棱县被称作“中国橘橙之乡”,当地政府践行“不与两湖抢旱,不与赣南争先”的发展思路,近年来大力引进和培育果冻橙,成功借助线上电商平台促进产业升级,推动当

- 是正确的选择，是因为
- ①在中国共产党的领导下，中国人民完成社会主义革命，建立中华人民共和国
 - ②在中国共产党的领导下，中国人民完成新民主主义革命，确立社会主义制度
 - ③在中国共产党的领导下，中国人民开始改革开放，开辟中国特色社会主义道路
 - ④在中国共产党的领导下，中国人民打赢脱贫攻坚战，踏上现代化建设新征程。
- A. ①② B. ①③ C. ②④ D. ③④
13. 中国式现代化，是中国共产党领导的社会主义现代化，既有各国现代化的共同特征，更有基于自己国情的中国特色。中国特色社会主义进入新时代，中国共产党用“共同富裕”向人民宣示中国式现代化的重要特征，由此可见
- ①中国式现代化体现了矛盾的特殊性寓于普遍性之中的道理
 - ②中国式现代化推进和拓展了发展中国家走向现代化的途径
 - ③实现共同富裕是推动我国经济社会高质量发展的必然路径
 - ④共同富裕体现了对新时代历史方位与历史使命的准确把握
- A. ①② B. ①③ C. ②④ D. ③④
14. 增加就业是宏观经济重要的目标之一。2022年年初以来，受疫情等因素影响，就业形势承压。6-10月，中国16-24岁的城镇青年调查失业率持续居高不下，在17.9%-19.9%之间。保就业对稳定经济发展具有重要作用。下列正确反映这一传导过程的是
- ①保证就业居民能够获得劳动收入
 - ②居民消费信心增强消费支出稳定
 - ③能够促进生产性资料生产的复苏
 - ④推动生活消费品生产的复工复产
 - ⑤促进生产规模扩大，增强竞争力
 - ⑥稳定和扩大需求，促进经济增长
- A. ①→②→③→④→⑥ B. ①→③→②→⑤→⑥
C. ①→②→④→⑥→⑤ D. ①→②→④→③→⑥
15. 2022年10月7日，中共中央办公厅、国务院办公厅印发的《关于加强新时代高技能人才队伍建设的意见》指出，要深入实施新时代人才强国战略，健全技能人才培养、使用、评价、激励制度。力争到2035年，技能人才规模持续壮大、素质大幅提高，高技能人才数量、结构与基本社会主义现代化的要求相适应。国家重视高技能人才队伍建设有利于
- ①优化人才队伍结构，赢得国际竞争主动
 - ②加快转变经济发展方式，提高企业利润
 - ③增强国家的核心竞争力和科技创新能力
 - ④缓解就业结构矛盾，推动经济高速发展
- A. ①② B. ③④ C. ①③ D. ②④
16. 2022年9月13日，国务院国资委印发《中央企业合规管理办法》（以下简称《办法》）。为深入贯彻习近平法治思想，落实全面依法治国战略部署，根据《中华人民共和国公司法》《中华人民共和国企业国有资产法》等有关法律法规，制定本《办法》，中央企业应当建立违规问题整改机制，通过健全规章制度、优化业务流程等，堵塞管理漏洞，提升依法合规经营管理水平。这说明
- ①法治是国家治理体系治理能力的重要依托
 - ②建设社会主义法治政府需要坚持良法之治
 - ③发展壮大国有经济，要全面推进依法治企
 - ④国有经济在国民经济发展中居于主导地位
- A. ①② B. ①③ C. ②④ D. ③④

17. 保护黄河是事关中华民族伟大复兴的千秋大计。2022年10月30日,十三届全国人大常委会第三十七次会议表决通过黄河保护法,从2023年4月1日起施行,黄河流域生态保护和高质量发展将有法可依。黄河保护法坚持问题导向,紧紧抓住水沙关系调节这个“牛鼻子”,针对黄河流域各种特殊问题,对特定区域特定问题规定特别制度措施。这表明
- ①适时立法,守护文化根脉
 - ②全面依法治国必须坚持民主立法
 - ③解决问题时,要着重把握矛盾的主要方面
 - ④具体问题具体分析是正确解决矛盾的关键
- A. ①②B. ①④C. ②③D. ③④
18. 按照建设长江上游重要生态屏障的要求,渝东北三峡库区各区县坚持绿色发展理念,立足当地实际,围绕产业生态化、生态产业化,全力推进生态优先绿色发展,走出了一条绿色发展道路。由此可见,促进绿色发展要
- ①坚持用正确的意识指导实践
 - ②既尊重规律又发挥主观能动性
 - ③发挥科学理论的决定性作用
 - ④恰当处理好系统与要素的关系
- A. ①②B. ①④C. ②③D. ③④
19. 江山就是人民,人民就是江山。中国共产党领导人民打江山、守江山,守的是人民的心。治国者常用,利民为本。为民造福是立党为公、执政为民的本质要求,这体现了
- ①中国共产党的初心和使命
 - ②党勇于自我革命,永葆生机活力
 - ③人民群众是社会历史的创造者
 - ④全心全意为人民服务的群众路线
- A. ①②B. ③④C. ①③D. ②④
20. 漫画中受访者的观点
- ①表明了脱离人民群众的“个人奋斗”是不会成功的
 - ②说明每个人的成功都离不开世界观和价值观的指导
 - ③忽视了社会提供的客观条件是实现人生价值的前提
 - ④过分强调个人素质在创造和实现人生价值中的作用
- A. ①②B. ②③C. ①④D. ③④
- 
21. 2022年世界城市日全球主场活动暨第二届城市可持续发展全球大会于10月31日在上海开幕,主题为“行动,从地方走向全球”。习近平指出,世界城市日全球主场活动秉承“城市,让生活更美好”理念,致力于推动全球城市可持续发展,对共创普惠平衡、协调包容、合作共赢、共同繁荣的发展格局具有重要意义。这其中蕴含的哲理是
- ①事物间的联系是普遍的、客观的、必然的
 - ②联系具有普遍性,要用联系的观点看问题
 - ③价值观对人们认识世界和改造世界的活动有导向作用
 - ④价值观能够指导人们作出正确的价值判断和价值选择
- A. ①③B. ②③C. ①④D. ②④
22. “自力更生、艰苦创业、团结协作、无私奉献”的红旗渠精神形成于上世纪60年代。2022年10月28日,习近平总书记在河南省安阳市考察时指出:红旗渠精神同延安精神是一脉相承的,是中华民族不可磨灭的历史记忆,永远震撼人心。“要用红旗渠精神教育人民特别是广大青少年,社会主义是拼出来、干出来、拿命换来的,不仅过去如此,新时代也是如此。”新时代,传承和弘扬红旗渠精神

- ①为新时期现代化建设提供强大的智力支持
②推动中华民族走向繁荣，是中华民族之魂
③要自信自立，以实际行动担当起历史重任
④要融入时代洪流，凝聚共克时艰的磅礴力量
A. ①②B. ②④C. ①③D. ③④
23. 2022年10月31日—11月4日，中国连续开展主场外交，中共中央总书记、国家主席习近平密集接待越南、巴基斯坦、坦桑尼亚、德国四国元首和政府首脑。此次主场外交有四大看点：一是巩固完善外交布局，主动塑造外部环境；二是精准把脉国际大势，充分阐释中国主张；三是拓展平等互利合作，引领共同发展进步；四是及时宣介中共二十大，交流互鉴培信释疑。对此解读正确的有
①中国追求自身发展，同时与各国分享中国机遇
②巩固完善外交布局，积极维护各国的共同利益
③拓展平等互利合作，彰显我国国际影响力
④充分阐释中国主张，为世界贡献中国智慧
A. ①②B. ①④C. ②③D. ③④
24. 1976年，在河南安阳市殷墟商王武丁的王后妇好墓中，出土了755件玉器和468件青铜器。其中玉器以礼器、兵器和装饰器为主，原料多为新疆和田玉；青铜器以礼器和兵器为主。从中可以得出的结论是
A. 商朝确立了礼乐制度，迷信鬼神和崇尚天命
B. 商朝的军事实力强大，确立了对西域的统治
C. 商朝手工业技艺高超，产品远销至河西走廊
D. 汉代丝绸之路开通前，中原与西域已有往来
25. 《孟子·滕文公下》记载，葛伯在商汤联合东方诸侯反复时犹疑观望，商汤找借口灭了葛国，此后众多诸侯纷纷投奔商。战国时期的《管子·轻重》、司马迁《史记·股本纪》记载，商汤行仁义，诸侯认为“汤德至矣”，于是“皆归商”。以下对这两种说法判断正确的是
A. 两种说法互相矛盾，都不可信
B. 后者有两则史料记载，更为可信
C. 商灭夏时得到诸侯拥护与支持
D. 后者体现了儒家正统地位的影响
26. 有学者指出，人民的自由可以分为两个层面：不受政府干预的自由和进入政府的自由，从后一个层面上说，中国古代的人民是享有一定的自由的。该结论的依据是，中国古代
A. 人民能够享有基本的人身自由
B. 科举制度增强了阶层的流动性
C. 经济发展使商人地位不断提高
D. 儒家思想鼓励政府民主和开放
27. 以李贽、顾炎武、王夫之、黄宗羲等学者为代表的“一批明清早期启蒙思想家，在批判和否定宋明理学家纯粹道义论幸福观的同时，还重构了幸福的内涵。他们把人的幸福还原为平等的个体诉求，倡导重欲、尚利、贵私的价值取向，不再把幸福的维度局限于封建道德的枷锁之内，这表明明清早期启蒙思想
A. 丰富并发展了传统儒家思想
B. 凸显了经世致用的治学之风
C. 动摇了宋明理学的统治地位
D. 与西方启蒙思想的核心相吻合

28. 下图是 1902—1930 年英德等 6 国在华投资情况(占总额百分比%)



这表明

- A. 战争迫使列强改变对华侵略方式
 - B. 列强对华资本输出总量日益缩减
 - C. 英国始终是对华最大资本输出国
 - D. 一战改变了列强侵华的传统格局
29. 五四运动后, 随着各种社会主义流派传入中国, 许多先进知识分子在对诸多“主义”考量后, 提出了“中国式主义”, 如 1920 年李大钊在《社会主义与社会运动》一文中就指出: “社会主义要在条件合适的国家才能得以实行。”“中国式主义”的提出
- A. 表明社会主义已成思想主流
 - B. 说明思想界的排外意识浓厚
 - C. 阻碍了新思想在中国的传播
 - D. 利于马克思主义中国化发展
30. 中国 1952 年约有 600 万工人, 到 1957 年, 工人人数已增加到约 1000 万人, 城市人口也从 7000 万人增加到约 1 亿人。这反映了当时
- A. 社会主义改造成效显著
 - B. 工业建设取得重大进展
 - C. 国民经济调整已经完成
 - D. “大跃进”运动蓬勃开展
31. 我国 1978 年到 1984 年新增加的 1798 亿元社会商品零售总额中, 约有 2/3 来自农民。1984 年, 全社会购买力中, 农民占到 52.5%。这是因为
- A. 乡镇企业改变了农村经济结构
 - B. 城乡一体化建设取得显著成效
 - C. 市场经济体制已波及农村地区
 - D. 城乡经济体制改革不均衡发展
32. 有学者指出, 对自由农来说, 如果在战乱时期成为农奴, 倒不是坏事; 当维京人和其他武装侵略者袭来之时, 顺从庄园制度就可以获得领主的保护。在这种情况下, 成为农奴甚至可以说是个更好的选择。据此可以推知
- A. 农奴比农民更加生活富足
 - B. 庄园拥有自身的武装力量
 - C. 庄园经营以自给自足为主
 - D. 欧洲国家开始出现了分裂
33. 下表为 16 世纪至 20 世纪上半期世界人口的迁移情况。导致 19 世纪中后期世界人口迁移发生变化的主要原因是

时间	主要移出地	主要移入地
1500—1850 年	欧洲、非洲	美洲
1850—1945 年	欧洲、亚洲	美洲

- A. 非洲人口的大量减少
- B. 西方殖民扩张方式发生转变
- C. 华工被列强疯狂掠夺
- D. 资本主义世界市场最终形成

34. 下表是苏俄(联)在经济建设中采取的一些措施。这些措施

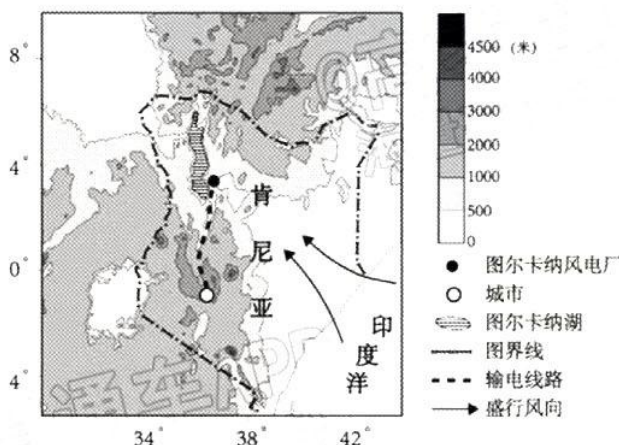
①	急剧提高国民收入中用于扩大再生产的资金比重,相应的压缩消费比重
②	通过税收、公债和一次性捐款等方法吸收居民资金
③	开展轰轰烈烈的增产节约运动
④	调整工资、奖励制度,鼓励职工提高文化和技术水平

- A. 导致了国民经济比例严重失调
 - B. 推动了工业化建设的迅速发展
 - C. 造成了农业生产发展的滞后性
 - D. 使苏联市场经济发展充满活力
35. 八国集团(简称“G8”),曾经是一个跨国经济组织,成员包括美国、加拿大、英国、法国、德国、意大利、日本及俄罗斯,2009年后,该组织在全球经济事务上的主要功能逐渐被包括中国、巴西、印度在内的二十国集团(简称“G20”)取代。这一调整的主要原因是
- A. 公正合理的国际新秩序已经建立
 - B. 各国对区域集团化的积极响应
 - C. 全球治理的诉求与国家实力消长
 - D. 南北差距和贫富分化日益严重

第II卷(非选择题)

36. 阅读图文资料,完成下列要求。(30分)

肯尼亚图尔卡纳湖东南岸荒野广布,是“世界上持续风力最大”的地区之一,分布着非洲最大的风电场。超重、超长的风电设备需分多次从1200km外的港口运送到风电场。风电通过长途输电线路输往城市,途经东非大裂谷带及野生动物园。2018年2月开始承建该输电线路的中国公司仅用7个月时间就顺利竣工,并在施工过程中培训并聘用大量当地人员,通过当地企业获取材料和服务。下图示意肯尼亚图尔卡纳风电项目分布。

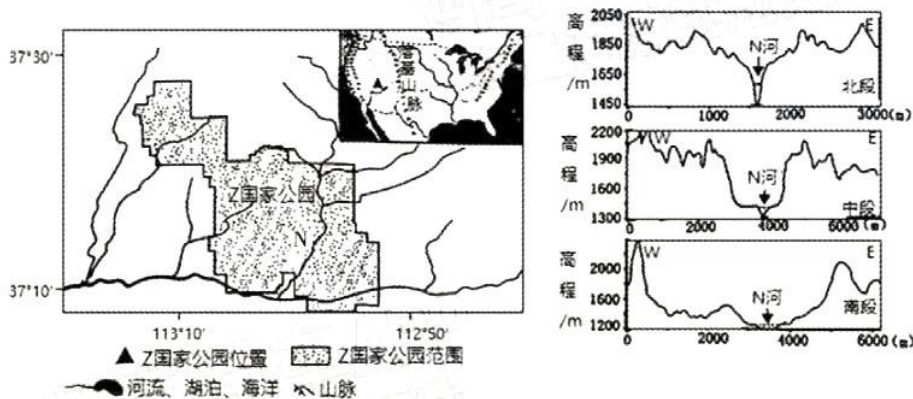


- (1) 分析图尔卡纳湖沿岸地区成为“世界上持续风力最大地区”的主要原因。(6分)
- (2) 从交通运输角度分析图尔卡纳湖风电项目建设的不利因素。(8分)

- (3) 推测中国公司在输电工程施工过程中可能遇到的主要自然障碍。(6分)
 (4) 说明中国公司承建输电工程给当地居民带来的积极影响。(6分)
 (5) 说出图尔卡纳湖风电项目建成后在肯尼亚能源供应中的作用。(4分)

37. 阅读图文资料，完成下列要求。(26分)

美国西部Z国家公园发育典型的红层(红色砂砾岩)地貌。三叠纪末期(距今2亿年前)，由于地壳运动北美西海岸火山岛弧链与古落基山脉之间形成了一个大型盆地，开始接受陆相沉积。中侏罗纪(距今1.4亿-2亿年前)期间，北美大陆漂移至副热带地区，造山运动使盆地气候发生变化，形成广袤的沙漠。白垩纪末期(距今6500万年前)北美西部高原抬升，流水沿着岩石节理(断裂)裂隙强烈下切。现今，Z国家地质公园地貌景观整体表现为高原—深切峡谷。图示意Z国家公园位置及N河流北、中、南三段横剖面。



- (1) 描述Z国家公园红层地貌高原—深切峡谷景观形成的主要地质过程。(8分)
 (2) 推测中侏罗纪期间干旱气候环境的成因。(6分)
 (3) 分别指出N河流的北、中、南峡谷主要的流水侵蚀作用类型，并说明判断依据。(6分)
 (4) 若当地的地壳和气候条件均保持稳定，而河流持续侵蚀，推测Z国家公园的高原—深切峡谷地貌景观演变趋势。(6分)

38. 阅读材料，完成下列要求。(12分)

“专精特新”中小企业，是指具备专业化、精细化、特色化、新颖化优势的中小企业。这类企业是由工信部组织开展评选具有坚持专业化发展、长期专注于细分市场、创新能力强、市场占有率高、掌握关键核心技术、质量效益优、品牌影响力好等特点的“排头兵”企业，是承载着国家创新力的主体，是扩大就业、改善民生的重要支撑。越来越多“专精特新”中小企业在专业领域成为世界的佼佼者，通过技术创新，打破发达国家对相关产品的技术垄断，为推动产业链供应链现代化，构建新发展格局提供强大支撑。当前，国际环境错综复杂，世界经济陷入低迷期，保障产业链供应链安全更加重要，攻克关键核心技术“卡脖子”问题尤为紧迫，更需要激发“专精特新”中小企业的创新活力。

结合材料并运用《经济与社会》与《当代国际政治与经济》知识，分析国家积极培育更多“专精特新”中小企业的动因。

39. 阅读材料，完成下列要求。(8 分)

党的二十大强调人民代表大会制度是实现我国全过程人民民主的重要制度载体。

在党中央集中统一领导下，全国人大及其常委会忠实履行宪法法律赋予的职责，推进全过程人民民主不断取得新成就。近年来，全国人大先后修改全国人大和地方各级人大组织法，把全过程人民民主重大理念转化为法律制度规范，为全国各级人大及其常委会行使职权、履行职责提供了法律依据。在新一轮县乡两级人大换届选举中，全国 10 亿多选民直接选举产生 260 多万名县乡两级人大代表；各级人大代表在立法、监督、决定等工作中，广泛听取人民群众和各方面意见的渠道和形式不断丰富拓展。全国人大常委会法工委建立 32 个基层立法联系点，辐射带动全国各地设立 509 个省级基层立法联系点，丰富了全过程人民民主的生动实践，有利于立法工作和人大工作更好接地气、察民情、聚民智、惠民生。

结合材料，运用《政治与法治》的相关知识，说明新时代新征程如何发挥人民代表大会制度在发展全过程人民民主中的重要制度载体作用。

40. 阅读材料，完成下列要求。(26 分)

材料一：神舟十五号于 2022 年 11 月 29 日 23 时 08 分成功发射，并顺利与空间站组合体自主快速交会对接，标志着空间站关键技术验证和建造阶段规划的 12 次发射任务全部圆满完成。

1992 年 9 月，中央决策实施载人航天工程，并确定了我国载人航天“三步走”的发展战略。第一步，发射载人飞船，建成初步配套的试验性载人飞船工程，开展空间应用实验。第二步，突破航天员出舱活动技术、空间飞行器交会对接技术，发射空间实验室，解决有一定规模的、短期有人照料的空间应用问题。第三步，建造空间站，解决有较大规模的、长期有人照料的空间应用问题。截至 2022 年，中国载人航天“三步走”发展战略基本实现，30 年前工程立项时“一张蓝图绘到底”的计划圆满收官。这是中国式现代化道路的新胜利，也是中国特色社会主义事业的新胜利，是中国继“两弹一星”后又一座新的里程碑。

材料二：为讲好载人航天故事，全景式表现航天题材的电视剧《问天》以艺术化的形式讲述我国几代航天专家冲破重重障碍、重塑航天人自信的艰难追梦历程，展现了中国航天事业从筚路蓝缕以启山林，到栉风沐雨砥砺前行真实图景。《问天》立足新时代航天事业成就，回答千年问天命题，展现飞天梦、展示强国梦，辉映中国梦，它以多重线索刻画航天事业真实进程，在硬核内容中发掘艺术张力，萃取现实生活、折射时代精神、昭示价值取向。这部有深度、有厚度、有力度全景式航天题材作品，让观众感受到伟大时代的召唤，深切体会到梦想就在前方，只要奋斗不息，勇于挺起腰杆，梦想就会成为现实，达到飞天梦、强国梦、中国梦同频共振的境界。

材料三：2022 年是中国载人航天工程立项实施 30 周年。习近平总书记指出：“探索浩瀚宇宙，发展航天事业，建设航天强国，是我们不懈追求的航天梦。”航天梦连着中国梦，从嫦娥飞天、夸父逐日的神话传说到中国航天员在太空行走，中国航天人在星辰大海追逐航天梦的步伐从未停止。中国作为人类航天的后起之秀，始终以自信开放、共享包容的态度，积极开发利用太空，开创共享太空，为人类社会作贡献。

(1) 一代又一代的航天人，铸就了中国载人航天事业的辉煌。结合材料一并运用认识论的相关知识加以说明。(10 分)

(2) 结合材料二运用《文化遗产与文化创新》的知识，分析飞天梦、强国梦、中国梦同频共振

频共振的境界的原因。(9分)

(3)结合材料三,运用“实现中华民族伟大复兴的中国梦”的知识,分析航天事业的发展是如何体现中国梦的本质。(7分)

41. 阅读材料,完成下列要求。(6分)

二十国集团领导人第十七次峰会(简称:2022G20峰会),于2022年11月15日至16日在印度尼西亚巴厘岛举行,峰会主题为“共同复苏、强劲复苏”,以全球卫生基础设施、数字化转型和可持续的能源转型为三大优先议题。

2022年11月16日,国家主席习近平出席峰会并发言。在讨论数字转型问题时,习近平指出,当前,数字经济规模扩大,全球数字化转型加速,成为影响世界经济格局的重要因素。中国主办二十国集团杭州峰会期间,首次把数字经济纳入二十国集团议程,提出创新发展方式、挖掘增长动能。近年来,二十国集团在适应数字化转型、发展数字经济方面凝聚了更多共识,推进了更多合作。希望各方激发数字合作活力,让数字经济发展成果造福各国人民。中方愿继续同二十国集团成员合作,携手构建普惠平衡、协调包容、合作共赢、共同繁荣的全球数字经济格局。

结合材料,运用中国与二十国集团的知识,说明中国在世界舞台中展示的时代担当和天下情怀。

42. 阅读材料,完成下列要求。(25分)

材料一:古代中国既不是民族国家,也没有现代意义的民族主义,传统社会没有民族、国家认同,但是,传统社会有坚定的文化认同与王朝认同。王朝认同与文化认同一表一里,维系着传统社会的人们的基本心理结构。顾炎武把这两种认同化为“国”与“天下”的差别,当王朝认同失效之后,文化认同的功能就凸显出来了。传统社会的文化认同,含有原始的民族主义因素,那就是“夷夏之辨”。非我族类者,其心必异。而文化认同对中国的民族融合起过决定性的作用。

——摘编自陈曦生《民族主义与民族国家建构》

材料二:中世纪的西欧形成了统一的基督教世界,民众毫无民族情感可言,他们的忠诚要么是对封建领主,要么是对基督教的。文艺复兴和宗教改革把人们从宗教的束缚下解放出来,现实社会的重要性提高,世俗权力特别是王权得到加强。通过马丁·路德翻译拉丁文《圣经》等方式,作为民族凝聚力重要工具的民族语言得到普及,使得宗教共同体的地位下降,民族共同体的地位上升。

——摘编自李宏图《论近代西欧民族主义和民族国家》

(1)根据材料一并结合所学知识,概括中国古代民族观的内涵,并分析其形成的时代背景。

(14分)

(2)根据材料二并结合所学知识,指出西欧近代国家观念的变化及其原因。(11分)

43. 阅读材料，完成下列要求。(12分)

材料：



——据韩保江《决定大国兴起的五种动力》整理

运用世界近现代史的史实，对上述观点进行探讨。(说明：可以选择五大动力中一个或多个动力进行论证；也可以对材料的观点进行修改、补充、否定或提出新观点，并加以论述，要求观点明确、史论结合、史实准确。)

44. 阅读材料，回答下列问题。(15分)

材料：清末新政在教育 and 军队体制改革中产生的具有相当数量的新型人才，加上改革中得到加强的民族资产阶级，形成三股新的社会力量。清政府原来设想新政改革能够同化他们，使之成为巩固王朝统治的中坚力量，但是，这三股力量却成了清政府的对立面。清政府专制政体在它拥有足够充分、集中的权威时，不仅没有很好地运用其权威力量来正确解决民族危机和内政危机，反而镇压了戊戌变法，从而使其权威的合法性大大受损，对各阶层的吸引力减弱。另外，清政府因为完全是被动的、犹豫再三才推行新政，所以推行新政后既不能吸收他们，也不能控制他们。正是在新政改革中催生的这三大社会力量成为埋葬清王朝的掘墓人。

——摘编自马克垚主编《世界文明史》

(1) 根据材料，指出清末新政时期产生的“三股新的社会力量”，并说明其没有“成为巩固王朝统治的中坚力量”的原因。(7分)

(2) 根据材料并结合所学知识，简述这三大社会力量是如何成为“埋葬清王朝的掘墓人的”。(8分)

关于我们

自主选拔在线是致力于提供新高考生涯规划、强基计划、综合评价、三位一体、学科竞赛等政策资讯的升学服务平台。总部坐落于北京，旗下拥有网站（[网址: www.zizzs.com](http://www.zizzs.com)）和微信公众平台等媒体矩阵，用户群体涵盖全国90%以上的重点中学师生及家长，在全国新高考、自主选拔领域首屈一指。

如需第一时间获取相关资讯及备考指南，请关注**自主选拔在线**官方微信号：**zizzsw**。



 微信搜一搜

 自主选拔在线