

惠州市 2024 届高三第一次调研考试试题

历史

说明：本卷共 6 页，共 20 题。满分 100 分，考试时间 75 分。

一、选择题：本大题共 16 小题，每小题 3 分，共 48 分。在每小题列出的四个选项中，只有一项是符合题目要求的。

1. 据考古发现，在山西陶寺遗址一座贵族墓随葬的骨耜上发现契刻有一个“辰”字，专家推测墓主的职官可能为农官；同时在该遗址还发现有古天文台，当时人们已将一个太阳年分为 20 个节令——包括冬至、夏至、春分、秋分 4 个重要节点。这反映了当时

- A. 社会阶层的分化
- B. 文字体系的形成
- C. 国家形态的成熟
- D. 农业经济的发展

2. 在先秦至西汉中期的历史记载中，周公是管叔之弟，但到西汉后期至东汉年间，当时的一些史书和作品中，大量出现“周公兄”“周公诛弟”的说法。这一变化反映出

- A. 文化艺术走向衰落
- B. 宗法观念逐步淡化
- C. 儒家伦理得到强化
- D. 社会秩序趋于混乱

3. 唐朝政府鼓励养牛，规定牛繁殖超过三头，奖励绢一匹，同时还制订了养牛的饲料标准，通过学校教育方式传授治疗牛病的技术，建立牛市促进牛的市场交易。这些举措有利于

- A. 提升养牛业商业化水平
- B. 加速经济重心向南转移
- C. 促进土地资源开发利用
- D. 推动农业经营方式转变

4. 宋代，在社会上出现了一批专为戏曲写唱词、作剧本的职业脚本撰写者“才人”。他们成立了行会组织“书会”，根据观众趣味，不断修改脚本提供给戏班表演从而获得合理报酬。这反映了当时

- A. 大众趣味决定戏曲创作
- B. 戏曲艺术渐趋成熟
- C. 文化创作冲破理学束缚
- D. 世俗文化得到发展

5. 清军机处设立后，皇帝的命令，凡涉及“诰诫臣工、指挥方略、查核政事、责问刑罚之不当者”等机密事项，不通过内阁明发，而由军机大臣密封，交兵部捷报处直接寄给接受命令的官员个人。此举

- A. 强化了君主对官僚机构控制
- B. 提升了政府的治理能力
- C. 实现了中枢机构的有效制衡
- D. 减少了皇帝的决策失误

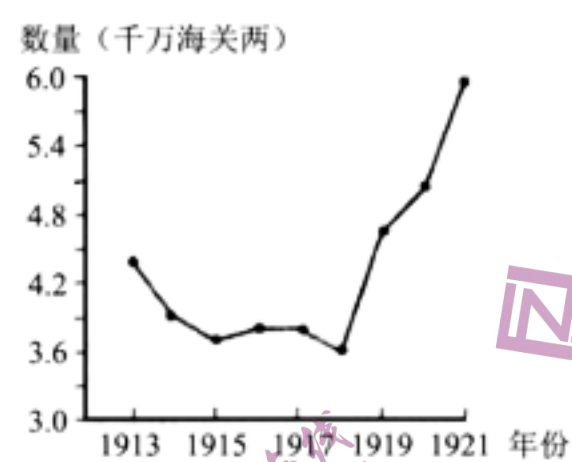
6. 1865 年，上海的第一批煤气灯在南京路上被点亮，在市民中引起了很大的反响。此后，一些商家和居民在商铺和家庭中竞相使用煤气灯。这反映了上海

- A. 社会生活逐渐改变
- B. 洋务运动稳步推进
- C. 城市规模不断扩大
- D. 崇洋媚外日益盛行

7. 20 世纪初，梁启超发表《中国史叙论》和《新史学》，猛烈批判旧史学，“二十四史非史也，二十四姓之家谱而已”，提出“历史者，叙述人类进化之现象，而求得其公理公例者也”，史学为“国民之明镜，爱国心之源泉”。文章甫一面世即获巨大影响，响应者极为广泛。梁启超的史学思想

- A. 掀起了思想解放的潮流
- B. 顺应了社会变革的时代要求
- C. 激发了民众的爱国意识
- D. 奠定了维新运动的理论基础

8. 1913—1921 年中国关税征收额



上表数据变化主要是由于

- A. 思想解放的推动
- B. 民族工业的发展
- C. 中华民国的成立
- D. 国际局势的影响

9. 1944 年，美军观察组成员在报告中感叹：“这里到处都强调民主和老百姓的鱼水关系……人民选举他们自己的地方政府，因为他们更关心保护它们，并且通过他们自己的力量更有力量去实施这种保护。”这一报告表明，抗日根据地

- A. 贯彻人民民主原则
- B. 加强与美国军事合作
- C. 成为抗战中流砥柱
- D. 赢得国际舆论的赞誉

10. 1961 年 1 月，毛泽东在中央工作会议上强调：“希望 1961 年成为调查研究年，大兴调查研究之风”，会后亲自组织了三个调查组，分赴浙江、湖南、广东农村蹲点调查。这

- A. 奠定了改革开放的理论基础
- B. 有利于三线建设的开展
- C. 确立了实事求是的思想路线
- D. 适应了经济调整的需要

11. 《汉谟拉比法典》规定：“倘法官审理讼案，作出判决，提出正式判决书，而后来又变更其判决，则应揭发其擅改判决之罪行，科之以相当于原案中之起诉金额的十二倍罚金，该法官之席位应从审判会议中撤销，不得再置身于法官之列。”这一规定

- A. 保障了自由民的利益
- B. 体现公平正义原则
- C. 杜绝了判决的随意性
- D. 具有人文主义色彩

12. 下图为 1330 年前后德意志海德堡的一册手抄本中的插图，反映了教士宣布解除婚姻，把

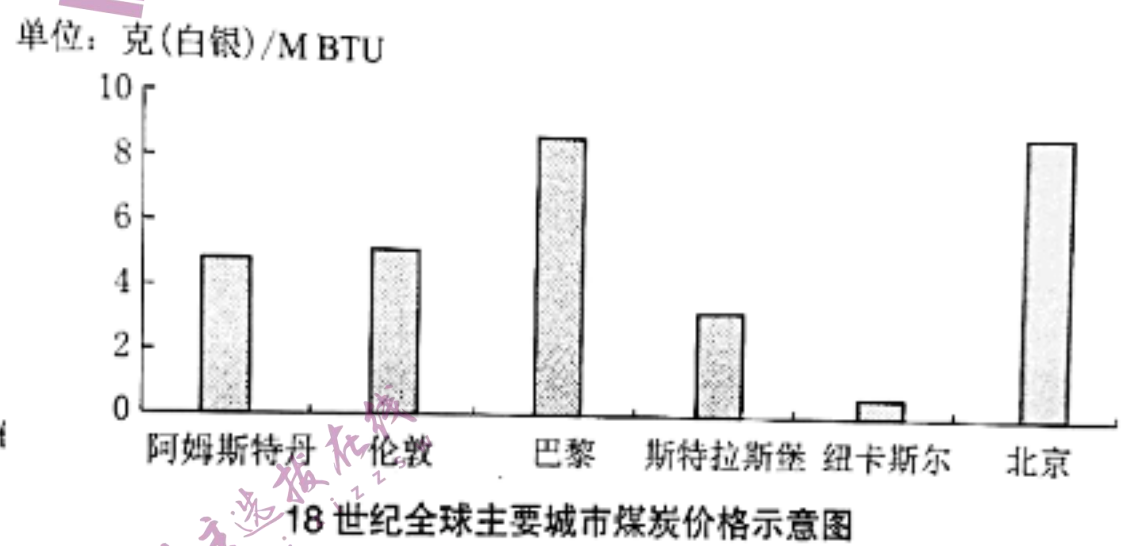
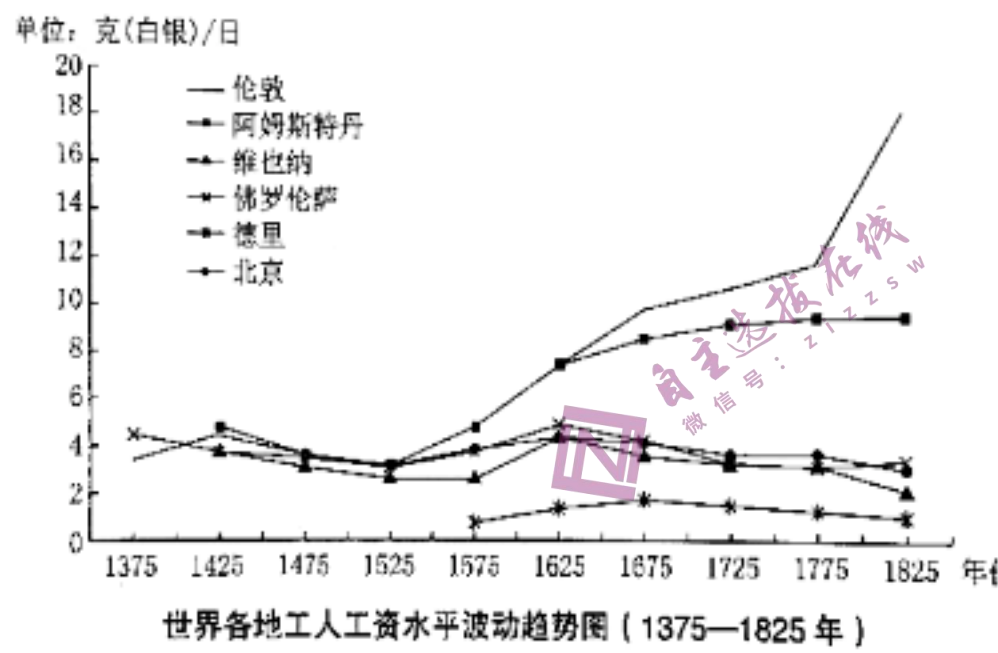
丈夫、妻子和子女分离开的场面。这反映了当时的基督教



▲ 教士主持解除婚姻的场面

- A. 控制了民众的精神生活
- B. 充当了基层治理的角色
- C. 催生了人文主义的复苏
- D. 推动了西欧文化的发展

13. 下面两幅图表是某学者统计的 18 世纪全球主要城市的工人工资水平和煤炭价格示意图。据此推测，该学者研究的主题是



注：斯特拉斯堡是法国城市，纽卡斯尔是英国城市

- A. 全球主要城市工业化发展水平
- B. 价格革命对英国的影响
- C. 英国率先开展工业革命的原因
- D. 英国的殖民扩张与掠夺

14. 1904 年，美国总统西奥多·罗斯福对门罗主义作了新的解释，提出所谓“罗斯福推论”：在西半球，美国坚持门罗主义，在遇到为非作歹或懦弱无能的罪恶昭彰的事情时，美国不得不发挥一个国际警察的力量。这表明美国企图

- A. 干涉美洲国家内政
- B. 参与瓜分世界
- C. 插手欧洲内部事务
- D. 建立全球霸权

15. 1936 年 11 月，卡德纳斯颁布“征收法”，宣布国家有权随时以任何理由征收产权，并根据该法令将国外垄断组织控制的铁路、石油行业收归国有，外国公司财产由政府 10 年内给予补偿。卡德纳斯此举旨在

- A. 仿效苏联制度
- B. 发展民族经济
- C. 应对经济危机
- D. 铲除封建残余

16. 1985 年，欧洲 17 国和欧共同体代表召开会议通过了“尤里卡”计划（欧洲尖端技术研究

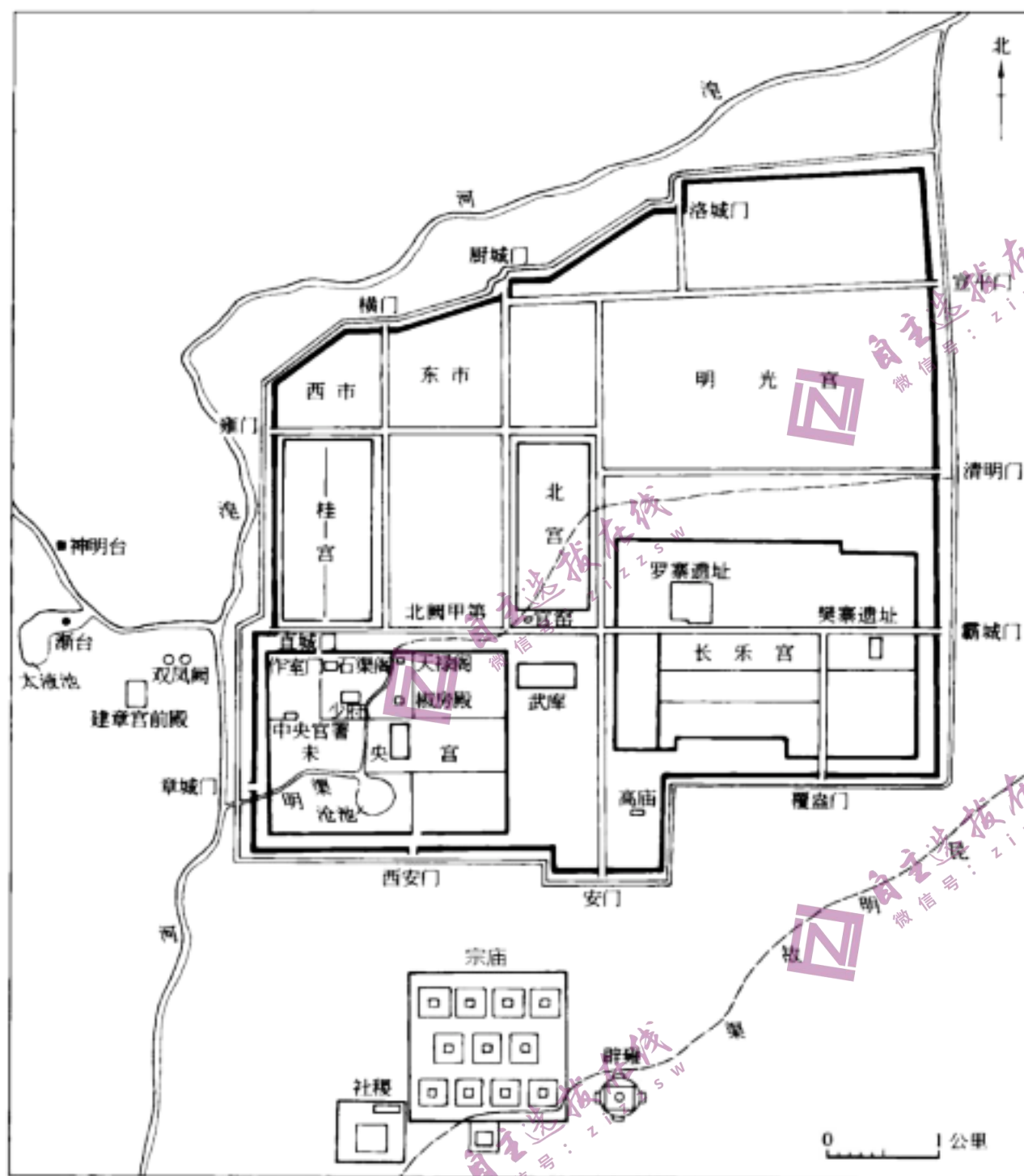
共同体），该计划面向生物医药、通讯、能源、产品自动化等竞争性技术，其中近 75% 的项目由企业承担，目标是使欧洲在尖端技术方面赶上美国和日本。这项计划

- A. 推动了欧洲的政治一体化
- B. 反映了冷战渗透到科技领域
- C. 有利于多极化趋势的发展
- D. 体现了新自由主义经济思想

二、非选择题：本题共 4 小题，共 52 分。

17. 城市具有政治、经济、军事和文化等多种功能。阅读材料，完成下列要求。（14 分）

材料一



◀ 汉长安城遗址平面图

汉高祖刘邦定都长安后，为巩固中央集权及防御匈奴侵袭，西汉建造了长安城。长安城周长 25 公里，有 12 个城门。长安城除宫殿外，还有一般的平民居住地间里，据统计，长安城最盛时有 人口 30 万。

——摘编自董鉴泓《中国城市建设史》

材料二



◀ 雅典城市平面示意图

古希腊雅典由卫城和下城两部分组成。卫城位于城内山丘的顶上，建有神庙，四周砌设土墙，只有一个上下孔道，利于防卫。下城分布着市场、行政机构和居民点。

——摘自普通高中教科书《历史选择性必修 2:经济与社会生活》

- (1) 根据材料,概括汉长安城和古希腊雅典城在城市功能上的异同。(8分)
- (2) 根据材料并结合所学知识,分析两城功能不同的原因。(4分)
- (3) 根据以上材料,谈谈你对城市功能的看法。(2分)

18. 阅读材料,完成下列要求。(14分)

材料一 中国自秦汉以来,汉字虽已逐渐统一,但地域方言纷杂。近代以来,在“智民救国”思潮下,越来越多的知识分子认识到语言统一的重要性。康有为告诫世人,印度因语言文字纷杂,“不能联合会齐一人心”,是以弱亡。1902年,京师大学堂总教习吴汝纶上书管学大臣张百熙:“今教育名家,率谓一国之民,不可使语言参差不通,此为国民团体最要之义气也。”这一“语言统一”意见引起了清政府的重视,1904年颁行的《学务纲要》要求各学堂“国文一科内附入官话一门”“各省学堂教员,均以官音讲解”,1911年通过《统一国语办法案》明令以官话为国语,在全国范围内推广。

——摘编自崔明海《近代国语运动研究》

材料二 随着改革开放的深入和人口流动的自由化,国家通用语越来越成为必不可少的沟通交流工具。2000年全国语言文字使用情况调查资料显示,全国普通话普及率仅为53.06%。2001年《中华人民共和国国家通用语言文字法》开始正式实行,以立法形式明确了国家通用语言文字促进各民族、各地区经济文化交流的目标。从这一时期开始国家把国家通用语的普及程度与国家和民族文明程度关联在一起,将普及程度视为国家和民族文明的一个重要标志,强调其增强凝聚力和维持国家统一的作用,大力开展宣传教育活动。

——摘编自杨常宝《中华民族共同体建设语境下的推广普及国家通用语历程考察》

- (1) 根据材料一并结合所学知识,概括清末语言统一运动的背景和特点。(8分)
- (2) 根据材料二并结合所学知识,谈谈你对21世纪以来国家通用语推广活动的认识。(6分)

19. 阅读材料,完成下列要求。(12分)

材料一 为打破美国对中国的战略包围和扩大中国在国际上的活动空间,1954年,中共中央对外政策的中心由“一边倒”转向推动世界和平运动,缓和国际紧张局势,毛泽东确立了建立国际和平统一战线的战略思想。周恩来根据毛泽东的战略思想,把资本主义国家分为三种不同类型,即以印度等新独立的民族主义国家和西北欧国家为代表的“和平中立派”、英法为代表的“维持现状派”和美国为代表的“主战派”。中国的方针是,团结“和平中立派”,争取“维持现状派”,孤立和反对“主战派”。

——摘编自《中华人民共和国史》

材料二 1963年9月，毛泽东在中共中央工作会议上分析国际形势时指出：“我看中间地带有两个，一个是亚、非、拉，一个是欧洲。”1964年1月，同日共中央政治局委员听涛克己谈话时说：“所以讲到中间地带两部分：一部分是指亚洲、非洲和拉丁美洲的广大经济落后的国家，一部分是指以欧洲为代表的帝国主义国家和发达的资本主义国家。这两部分都反对美国的控制。”

——摘编自郑华武《论战后毛泽东关于国际反帝统一战线的理论和战略》

(1) 根据材料一并结合所学知识，分析毛泽东国际和平统一战线思想提出的背景和影响。(6分)

(2) 根据材料二并结合所学知识，简要评析毛泽东“两个中间地带”战略。(6分)

20. 阅读材料，完成下列要求。(12分)

材料

第一世界=欧亚大陆、北非与印度洋

第二世界=哥伦布探险后发现的南北美洲大陆与大西洋

第三世界=麦哲伦航海后至18世纪之间发现的大洋洲与太平洋

传统习惯将世界史看作以“第一世界”为中心不断向周围扩大的过程。大航海时代(1500年前后)开始之后的几百年间，世界近现代史也可以看作“第二世界”与“第三世界”成长为稳定的世界，并且对“第一世界”造成冲击的时代。这三个世界在很长的一段时间里，都依靠“海上航线”相互连接，最终逐渐形成现在的人类社会。

——摘编自[日]宫崎正胜著，朱悦玮译《从航海图到世界史：海上道路改变历史》

结合材料与所学知识，围绕“三个世界”自拟论题，并就所拟论题进行阐述。(要求：论题明确，史论结合，逻辑严密，表述清晰。)