

海南中学 2023 届高三年级第七次月考

历史试题

一、单项选择题：本大题共 15 小题，每小题 3 分，共 45 分。

单项选择题 I：1~13 题，每题 3 分，共 39 分。四个选项中只有一个正确选项，选出正确选项得 3 分，选错不得分。

1. 尊是商周时期酒器造型之一。商周时期的尊常被做成动物的样子，而鸭尊是其中比较常见的器型。图 1 为 1955 年辽宁省凌源市出土的西周早期的青铜鸭尊。鸭尊的出现（ ）



图 1

- A. 体现出游牧文明影响的扩大 B. 表明祭祀典礼日益世俗化
- C. 反映生活实践的艺术性再现 D. 说明鸭类驯养活动的普及
2. 公元 780 年，唐朝推行两税法：以国家财政开支所需为总额，所谓“量出以制入”。所有民户在现居地登记，根据财产情况定户等，按户等高低交纳赋税，“户无主客，以见居为簿；人无丁中，以贫富为差”。分夏秋两季征收，“不居处而行商者，在所郡县税三十之一”。这有利于（ ）
- A. 减轻政府对农民的人身控制 B. 保证农民生产时间
- C. 促进农村商品经济的发展 D. 催生新的经济因素
3. 宋人笔下涌现出诸多“好孩子”形象。比如，赵令赫“幼而秀颖，自异于群儿中。记识敏悟，四岁受《孝经》，六岁通《论语》，七岁能为二韵诗。丧父，哀毁如成人”。这表明宋代（ ）
- A. 儒学逐渐向基层渗透 B. 律令儒家化特征明显
- C. 乡约逐渐带有强制力 D. 政府对社会控制松弛
4. 明代土地买卖契约的基本格式相似，以下是其中的一份。据此可推知明代（ ）

十西都七保汪牙保承租有山壹片，坐落七保金坑源大坞一千一百卅八号，口口亩，其山东至大丘田随小陇上至降，西方初原，南至降，北至坑。今为无钞支用，情愿将前项四至内山地并苗，尽行立契出卖与同都人李原清名下，面议价钞陆贯文。其钞当日交足，……如有家外人占拦及重复交易，四至不明并是卖人抵挡，不及买人之事。今恐无凭，立此文契备用。

洪武二十陆年十月廿二日 出卖人：汪牙保（押）

- A. 租佃风气盛行
- B. 土地流转频繁
- C. 商品经济繁荣
- D. 社会缺乏诚信

5. 晚清爱国诗人张维屏有诗论及魏源：“气壮群推魏无忌，心孤谁识贾长沙？……太息绕朝谋不用，为君一读一长嗟！”张维屏将魏源比作贾谊，慨叹其谋略不为朝廷所用。晚清士人汪士铎称赞魏源：“《海国》问俗，《圣武》谈兵。苗徭在目，滇黔是程。郁此时栋，所受难盈。”这主要是由于当时魏源（ ）

- A. 开启了西学东渐的历史进程
- B. 抨击了清政府的倒行逆施
- C. 对西方列强的挑战予以回应
- D. 尚未摆脱封建纲常的束缚

6. 1896年,清政府曾经企图利用李鸿章出使俄国并往德、法、英、美各国访问的机会,交涉增加进口洋税事宜,得到的回答却是必须先废厘金,“内地推广商途”,然后“增税之议”,“始可照办”。1902年中英签订《续议通商行船条约》,最终双方对裁厘加税作出了一系列具体规定。这表明了当时的中国（ ）

- A. 缓解洋务运动面临的经费压力
- B. 有力抵制西方国家的经济侵略
- C. 与世界市场的联系进一步加强
- D. 试图为民间经济发展创造条件

7. 下表是抗战期间新四军在抗日根据地建立银行、发行抗（边）币的情况。这些措施（ ）

银行名称	创办日期	所在根据地	发行货币
淮南银行	1942年2月	淮南抗日根据地	淮南币
淮北地方银号	1942年6月	淮北抗日根据地	淮北地方银号币
大江银行	1943年6月	皖中抗日根据地	大江银行票
浙东银行	1945年4月	浙东抗日根据地	浙东银行票
华中银行	1945年8月	华中抗日根据地	华中银行票

- A. 稳定了后方的金融体系
- B. 打击了日军“以战养战”的政策
- C. 完善了根据地的货币制度
- D. 有利于抵制法币的渗透和掠夺

8. 我国第三套人民币（1962年发行）当中的“五元炼钢工人”，是我国纸币中的精品，也是唯一一张荣获“年度世界最佳纸币”大奖的人民币纸钞。纸币上的人物原型是北京首都钢铁公司工人张建生。材料典型说明了（ ）



图3

- A. 人民参与社会主义建设热情高涨
- B. 国民经济调整的任务基本完成
- C. “双百”方针深刻影响绘画艺术
- D. 社会主义工业化基础初步奠定

9. 美国学者戴利说：“罗马的法律体系里普遍包含着当地的习惯法，即便在公元212年所有罗马帝国统治下的自由民都被赋予公民权之后，也依然如此。帝国境内的法官除了援引成文法，还享有遵循并建立判例的权力。”戴利意在强调（ ）

- A. 万民法具有普遍的适用性
- B. 市民法与习惯法密不可分
- C. 罗马法维护统治阶级利益
- D. 罗马法具有灵活实用特点

10. 据统计，1750年，西欧各国军队平均每个战士使用的大炮数比1650年翻了一番，海军军械也有所改进。有了改良火器，使得军队在镇压暴动者和擅自寻衅闹事的团体时更占上风，因而强化了国家统治权。它们也使欧洲人拥有了优势，凌驾于美洲、印度或其他各地的民族之上。这可以用来佐证当时（ ）

- A. 军队变革高度依赖商业革命
- B. 军事技术革新加速了殖民扩张步伐
- C. 武器改良激化了全球性矛盾
- D. 军械装备改进根源于新航路的开辟

11. 启蒙运动时期，科学家们组建了更稳固可靠的学术共同体，如国家科学院和各种非官方的学术学会。此外，科学家们还服务于社会，以满足大多数人的合理需求，为科学赢得了更多的社会声望和支持。科学家们的这些做法（ ）

- A. 得益于文艺复兴的转型
- B. 巩固了宗教改革的成果
- C. 有助于理性精神的弘扬
- D. 促进了自然科学的诞生

12. 苏联“白海—波罗的海”运河建于 1930—1933 年，只花了二十个月的时间，提前四个月完工。全长 227 公里，内有 37 公里人工水道，有 5 座堤坝和 19 道船闸，使列宁格勒（圣彼得堡）至阿尔汉格尔斯克的航程缩短 4000 公里。“白海—波罗的海”运河建设的历史背景是，苏联（ ）

- A. 新经济政策取得明显成效
- B. 工业化战略的实施
- C. 农业集体化已经宣告完成
- D. 新经济体制的建立

13. 布雷顿森林会议期间，美苏等国围绕基金配额、黄金配额减免、银行配额等问题展开博弈。在美国支持下，苏联正式跻身国际金融体系四强之列；苏联同时承认了美国在战后国际金融秩序中的领导地位。据此推知（ ）

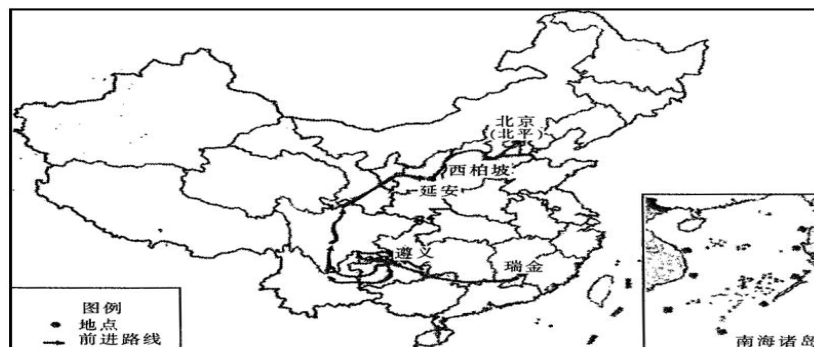
- A. 美苏企图通过布雷顿森林体系称霸各自的世界
- B. 美国全球霸权的实现得到了苏联的支持与配合
- C. 苏联在美国的支持下加入市场经济国家的行列
- D. 苏联在二战后的世界经济格局中扮演重要角色

单项选择题 II：14-15 题，每题 3 分，共 6 分。四个选项中有一个选项为 3 分，有两个选项各为 1 分，错误项为 0 分。选出最佳项，多选不得分。

14. 广州《十三行史料展》记述“几乎所有亚洲、欧洲、美洲的主要国家和地区都与广州十三行发生过直接的贸易关系。这里拥有通往世界各主要港口的环球贸易航线。……客观上造就了一个时期里著名的中西贸易中心和广州历史上令人瞩目的经济文化的辉煌时代。”鸦片战争前夕广州十三行的兴盛更能反映出（ ）

- A. 中国的商品更具有贸易优势
- B. 资本主义世界市场逐步形成
- C. 闭关锁国政策不具有绝对性
- D. 当时的中国是世界市场中心

15. 下图所示为中国共产党领导革命在各地留下的足迹。对其认识最准确的是（ ）



- A. 革命精神的传承
- B. 革命阵营的变化
- C. 革命任务的转变
- D. 革命中心的转移

二、非选择题：本大题共 55 分，第 16 题 12 分，第 17 题 14 分，第 18 题 14 分，第 19 题 15 分。

16. 阅读材料，完成下列要求。（12 分）

材料一

刻有文字的石碑，一般被称为碑刻。碑刻记事类似于器物铭文，“自三代以来，圣贤遗迹著于金石者多矣”，“后代用碑，以石代金，同乎不朽”。常见的碑刻有纪事碑、题名碑和诗文书画碑等。还有一种用于赞颂官员政绩的碑刻——德政碑，但碑文往往“既私褒美，兴长虚伪，伤财害人”，因此历代王朝经常下令严禁私立，惟特殊德勋者，经朝廷批准，方可立碑。大量碑刻记载了丰富的历史文化信息，世代相承，形成了中国古代的碑刻记忆文化。

——据白寿彝总主编《中国通史》等

材料二

近代中国出现了众多的公共纪念碑，包括历史事件纪念碑、历史人物纪念碑等，其设立方式和具体形制不同程度地受到外国文化影响。历史事件纪念碑着眼于纪念重要历史事件，维护和保存了公共记忆，如“广州辛亥三月二十九日革命纪念碑”，碑文详尽记述了黄花岗起义的筹划、准备及战斗的经过，也列举了参加起义死难烈士中可考姓名者 86 人的生平和就义情况。历史人物纪念碑多为纪念重要历史人物而立，如“中山纪念碑”“华侨五烈士碑”等，后者详细记述了谢八尧等 5 位华侨烈士的英雄事迹。这些公共纪念碑往往与特定的场景相结合，形成纪念空间，供人参观缅怀，从中获得历史认同感。

——摘编自林声主编《中国百年历史名碑》

- (1) 根据材料一，概括中国古代碑刻记忆文化的特征。（5 分）
- (2) 根据材料并结合所学知识，分析近代中国公共纪念碑涌现的原因。（4 分）
- (3) 根据材料并结合所学知识，指出通过碑刻传承历史应具备的要素。（3 分）

17. 阅读材料，完成下列要求。（14 分）

材料

1978 年 12 月，党的十一届三中全会作出把工作着重点转移到经济建设上来、实行改革开放的历史性决策。会后，邓小平多次强调，中国的现代化建设要取得成功，取决于两个条件，一个是国内条件，就是坚持现行的改革开放政策，还有一个是国际条件，就是持久的和平环境。基于此，邓小平果断、及时地对中国外交战略进行了重大调整，改变了针对苏联霸权主义威胁而采取的“一条线”战略。在国际事务中，中国依照事情本身的是非曲直来决定自己的立场和态度，不盲从、不屈服于任何外来压力，不计较历史恩怨，不搞意识形态的争

论，在平等互利基础上同所有国家发展友好合作关系。在奉行和平外交的同时，邓小平更加鲜明地强调：“独立自主，自力更生，无论过去、现在和将来，都是我们的立足点……任何外国不要指望中国为他们的附庸，不要指望中国会吞下损害我国利益的苦果。”

——摘编自桑东华《邓小平的和平思想及其时代意义》

- (1) 根据材料并结合所学知识，概括邓小平调整中国外交战略的背景。（7分）
- (2) 根据材料并结合所学知识，分析邓小平调整中国外交战略的历史意义。（7分）

18. 阅读材料，完成下列要求。（14分）

材料

<p>18 世纪，蒸汽机和机械革命</p> 	<p>18 世纪中期，英国率先开展工业革命，生产力迅速发展，英国成为世界强国，随后英国加紧拓展海外市场；1815 年英国打败法兰西第一帝国，由此掌握世界霸权。</p>
<p>19 世纪，电力和运输革命</p> 	<p>1866 年，德国人西门子发明了世界上第一台大功率发电机，标志着第二次工业革命的开始。1871 年德国实现统一后，资本主义工厂在德国全境得到普遍发展。19 世纪末，德国加入了帝国主义争夺世界霸权的斗争。</p>
<p>20 世纪，电子和信息革命</p> 	<p>20 世纪四五十年代，新科学技术革命开始了。美国在原子能技术、航天技术、电子计算机技术的应用等方面取得了突破性成就。美国通过第三次科技革命成为资本主义超级大国。</p>

根据上表，任意提取一个或数个历史信息，自拟论题，并结合所学世界近现代史知识加以论证。（要求：观点明确，史论结合，逻辑严密，论证充分）

19. 阅读材料，完成下列要求。（15分）

材料一

19世纪上半叶美国进入了工业化时代，美国南北战争后是经济的“镀金时代”，工业经济取得了巨大的进步。

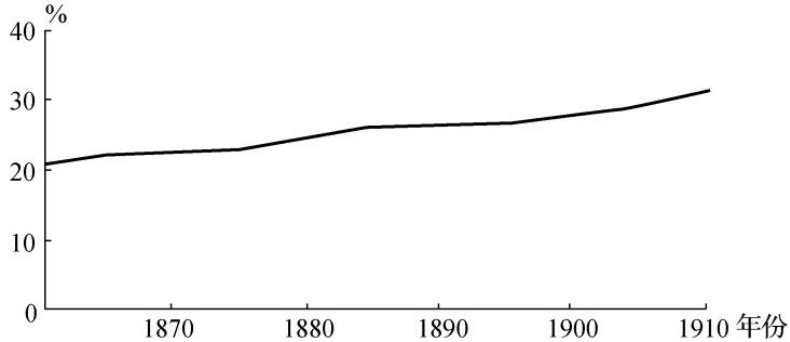


图4 1870—1910年美国制造业就业人口比重

——据【美】路易斯·D. 约翰斯顿《历史课：理解制造业的衰退》整理

材料二

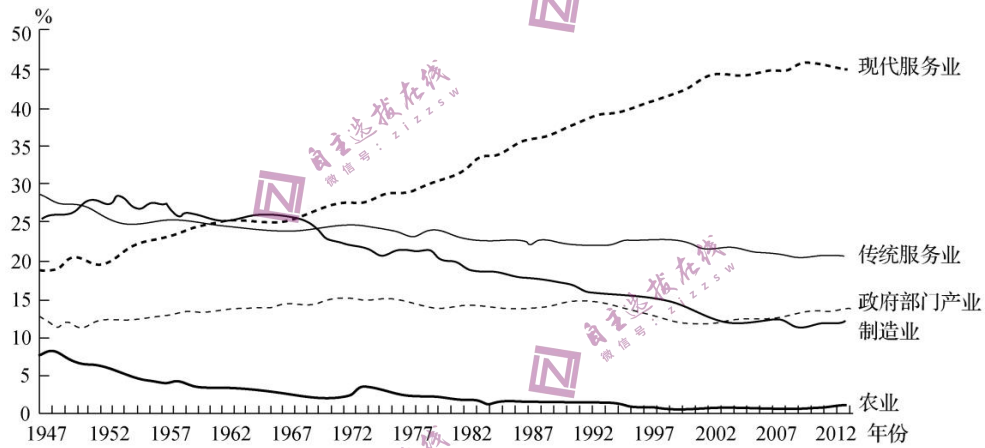


图5 1947—2012年美国各产业占GDP比重

——摘编自张宇燕、郭濂主编《中美经济结构与宏观政策比较》

- (1) 根据材料一并结合所学知识，分析图4所示现象形成的原因。（6分）
- (2) 根据材料二并结合所学知识，简述1947—2012年美国各产业占GDP比重变化的基本历程及原因。（9分）