

机密★启用前 【考试时间：2月3日 9:00—11:30】

昆明市第一中学郑重声明：严禁提前考试、发放及网络传播试卷，违反此规定者取消其联考资格，并追究经济 and 法律责任；对于首位举报者，经核实奖励2000元。举报电话：0871-65325731

昆明市第一中学 2023 届高中新课标高三第六次考前基础强化 文科综合试卷

命题人：沈洪健 肖顺云 张福松 施丽佳 谭毅 金雯莉 张旭 何钰婷 唐英铭 夏仁贵
祝光华 胡新荣 罗凯

审题人：昆一中高三年级文科综合命题组

本试卷分选择题和非选择题两部分。满分300分，考试时间150分钟。

注意事项：

- 答题前，考生务必用黑色碳素笔将自己的姓名、准考证号、考场号、座位号在答题卡上填写清楚，并请认真填涂准考证号。
- 每小题选出答案后，用2B铅笔把答题卡上对应题目的答案标号涂黑。如需改动，用橡皮擦擦干净后，再选涂其他答案标号。答在试卷上的答案无效。

一、选择题：本题共35个小题，每小题4分，共140分，在每小题给出的四个选项中，只有一项是符合题目要求的。

上海市崇明区开展的菜蚓鳢立体种养模式，将农田划分为3个子系统(垄作特色蔬菜种植、土壤蚯蚓养殖喂鳢与排水沟域黄鳢养殖)，形成高效良性循环的可持续农业发展模式。图1为菜蚓鳢立体种养循环模式图。据此完成1~3题。

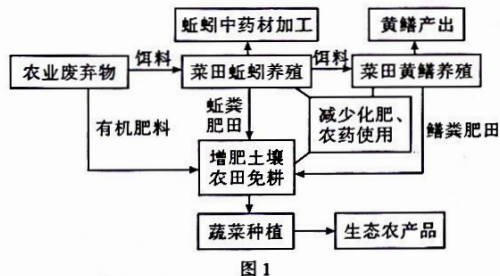


图1

- 使该种养模式能够实现生态平衡的环节是
 - 药材加工
 - 蚯蚓养殖
 - 黄鳢养殖
 - 蔬菜种植
- 蚯蚓养殖对土壤的影响是
 - 减少土壤有机质
 - 减少土壤矿物质
 - 增加土壤孔隙度
 - 增加土壤含水量
- 菜田垄沟的设计需要遵循一定的宽度和深度，是为了
 - 提高土地利用效率
 - 减少农田机械耕作
 - 减少菜田面源污染
 - 提高田间土壤肥力

鄱阳湖平原是我国重要的产粮基地，自三峡工程运行以来，鄱阳湖湖区枯季水位呈现显著的下降趋势，直接导致环湖灌区枯季缺水日益严重。环湖灌区枯季缺水是湖区水位过低所致，在枯季抬高湖

区水位即可满足灌区用水需求。图2示意环湖灌区多年平均灌溉水量年内分配。据此完成4~6题。

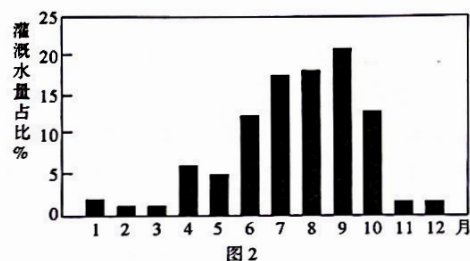


图2

- 鄱阳湖区雨季时灌溉水量仍较多的原因是
 - ①地表排水速度过快
 - ②天然降水水质较差
 - ③粮食作物种植量大
 - ④土地和作物蒸散量大
 - ①②
 - ①④
 - ②③
 - ③④
- 鄱阳湖环湖灌区枯季缺水日益严重的原因可能有
 - ①湖域面积发生变化
 - ②湖区降水持续减少
 - ③湖区上游水库蓄水
 - ④湖区人口不断增加
 - ①②
 - ①③
 - ②③
 - ②④
- 调节长江干流补给湖区的适宜时间及原因是
 - A. 3—4月，入湖径流增多
 - B. 6—7月，入湖径流增多
 - C. 9—10月，入湖径流减少
 - D. 12—1月，入湖径流减少

海角也称岬角，是指向海突出的夹角状的陆地。约西塔海角位于尼罗河入海口处，受自然环境变化和人类活动的影响，约西塔海角的海岸线变化明显。1970年，位于尼罗河干流上的阿斯旺大坝竣工，对中下游地区产生了深远的影响。图3中左图为尼罗河局部河段示意图，右图为尼罗河入海口处约西塔海角海岸线变化情况。读图完成7~9题。

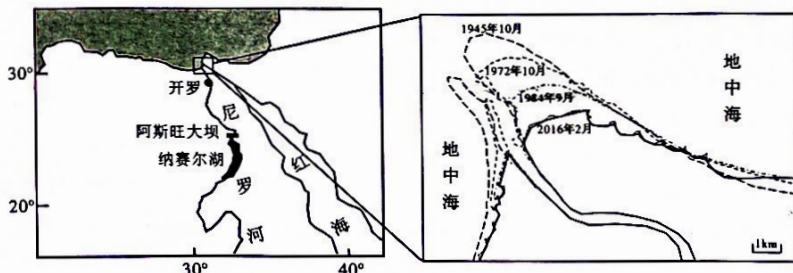


图3

- 影响约西塔海角海岸线变化的主要因素有
 - ①地壳运动
 - ②海水侵蚀
 - ③大坝建设
 - ④气候变暖
 - ①②
 - ②③
 - ①③
 - ②④

8. 图中, 约西塔海角的海岸线进退状况及变化速率是

- A. 前进, 先快后慢
B. 前进, 先慢后快
C. 后退, 先快后慢
D. 后退, 先慢后快

9. 近些年来约西塔海角海岸线几乎不变的原因是

- A. 修筑海堤
B. 植树造林
C. 填海造陆
D. 调沙补给

黄海腹地的长山群岛海域于 2017 年被纳入国家级海洋牧场示范区规划建设范围, 成为海上“蓝色粮仓”, 其渔业发展实现从“猎捕型”到“农牧型”转变。据此完成 10-11 题。

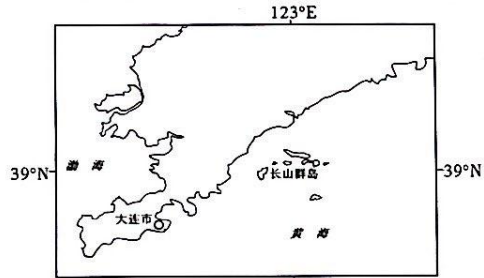


图 4

10. 分析长山群岛海域有利于优质水产深海养殖的水温和盐度条件

- A. 低温高盐
B. 低温低盐
C. 高温高盐
D. 高温低盐

11. 投放人工鱼礁是长山群岛海域维持“农牧型”发展模式的有效措施, 主要体现在

- A. 形成海底标志提供捕捞环境
B. 吸引鱼群栖息提供海钓环境
C. 培养海藻类提供产卵环境
D. 为幼鱼的生长提供庇护环境

12. 建党百年, 中国共产党由小变大、由弱变强, 始终走在时代前列、永葆青春活力, 成为中国人民和中华民族的主心骨。百年大党, 永葆青春活力的原因是

- ①执政能力不断提高, 领导核心地位得到不断巩固
②自我革命精神为党永葆青春活力提供了强大支撑
③踔厉奋发、勇毅前行是党永葆青春活力的物质力量
④以接续推进的马克思主义中国化创新理论作为行动指南

- A. ①③
B. ①④
C. ②③
D. ②④

13. 2022 年 10 月 21 日, 云南省委办公厅、省政府办公厅印发的《云南省促进民营经济高质量发展三年行动计划(2022—2024 年)》中提出, 到 2024 年民营企业达到 123 万户, 年均增长 14.9%, 实现倍增计划阶段目标。据此回答, 云南促进民营经济发展是基于

- A. 新时代, 民营经济是社会主义经济的重要组成部分
B. 当前, 民营经济能够促进受到疫情影响的经济复苏
C. 相对过去, 民营经济生存和发展的困难挑战明显增多
D. 发展才是硬道理, 是解决我国一切问题的基础和关键

14. 2022 年 9 月 30 日, 国家统计局公布了《2012—2021 年我国主要农产品产量及世界位次》

单位: 万吨

农产品	2012 年	2012 年	2018 年	2018 年	2021 年	2021 年
	产量	位次	产量	位次	产量	位次
谷物	56 659	1	61 818	1	61 004	1
肉类	8 471	1	8 750	1	8 625	1
花生	1 579	1	1 596	1	1 733	1
菜籽油	1 340	2	1 386	2	1 328	2

由此可知, 党的十八大以来, 我国的

- ①主要农产品产量保持世界第一
②农业持续增长、基础更加稳固
③主要农产品产量稳居世界前列
④主要农产品产销能力不断提高

- A. ①④
B. ②③
C. ①③
D. ②④

15. 湖南针对有些地方社会治理难度加大, 基层原有的碎片化、单一化管理模式已不能适应新的形势, 进行了优化重构党领导下的基层社会治理体系, 对各级各类组织进行统领整合, 建立相互联系, 实现基层党组织和基层社会管理的协作。此举有利于

- ①创新社区自治组织结构, 丰富社区自治的内容
②探索基层治理新路径, 提高基层社会治理效能
③保障人民当家作主, 使居民拥有更多的自治权
④巩固人民民主专政和城市基层政权的重要基础

- A. ①③
B. ①④
C. ②④
D. ②③

16. 近年来, 我国深化司法改革, 推行智慧司法, 将大数据思维运用到司法工作之中, 通过智能化原理, 将数据收集、储存、运用等环节融为一体, 利用多媒体技术、网络技术以及集中控制技术, 对司法过程与结果实行统一管理、控制和运用。目前, 我国的智慧司法得到广泛运用, 老百姓办理诉讼事务可以全流程、全时段在人民法院在线服务平台“掌上办”, 人民法院提高了处理诉讼事务效率。实施智慧司法的作用有

- ①在线服务提高了群众对司法工作的满意度
②数字科技保证司法机关实现有效法律监督
③数字科技推动司法机关转变义务和职能
④信息化拓宽了公民参与司法活动的渠道

- A. ①④
B. ①③
C. ②④
D. ②③

17. 2022 年 11 月 11 日, 国务院发布《关于进一步优化新冠肺炎疫情防控措施 科学精准做好防控工作的通知》, 公布了进一步优化防控工作的“二十条”措施, 它是根据当前内地抗疫的实践和现有的科学数据, 对以往防控措施做了一些调整, 为将来可能遇到规模化的疫情防控做准备, 更精准、更科学。从哲学角度看, 对“二十条”措施提出理解不恰当的是

- A. 意识在对人们认识世界和改造世界过程中起促进作用
B. 物质世界是在绝对运动和相对静止统一中变化发展的
C. 制定“二十条”措施坚持了发挥疫情防控主观能动性与尊重客观规律相结合
D. 意识活动具有目的性和前瞻性, “二十条”未雨绸缪为今后疫情防控做准备

18. 2022年11月18日,亚太经合组织(APEC)第二十九次领导人非正式会议在泰国曼谷举行,中美两国元首进行会晤,双方对共同关心的中美经贸问题和多边、区域经贸问题,进行坦诚、专业、建设性的交流,双方表示积极解决贸易摩擦、继续保持沟通。材料说明

- ①中美双方的对立统一推动双方经济贸易的变化发展
- ②中美双方保持沟通包含并制约双方经济贸易的摩擦
- ③中美双方的同一性与斗争性在一定条件下相互转化
- ④中美双方的斗争性促进双方经济贸易的变化与发展

A. ①② B. ②④ C. ①③ D. ③④

19. 2022年8月28日,由中央网信办、中央文明办和天津市委、市政府共办,主题为“弘扬时代新风建设网络文明”的“2022年中国网络文明大会”在天津开幕,大会展示了党的十八大以来,我国网络文明建设的发展历程和丰硕成果。建设网络文明,必须

- ①重视思想引领、文化建设、网络净化、行为规范
- ②加强法治建设、文明创建、交流互鉴、文化趋同
- ③发挥国家主导、规范市场、企业参与、追求效益
- ④重视价值引领、榜样示范、美德浸润、崇德向善

A. ①② B. ①④ C. ②③ D. ③④

20. 2022年11月19日,习近平主席向在昆明举办的“第6届中国—南亚博览会”致贺信,提出中国愿同各国一道,以中国—南亚博览会为平台,凝聚团结协作、共谋发展的共识,不断打造新的合作增长点,推动共建“一带一路”高质量发展,共同开创更加繁荣美好的未来。举办“中国—南亚博览会”表明

- ①让世界各国共享新机遇,共谋新发展
- ②中国与邻为善,以邻为伴,互惠互利,共同发展
- ③我国开展睦邻友好的外交,坚持和平共处五项基本原则
- ④中国与南亚国家的核心利益相同,是休戚与共的命运共同体

A. ①③ B. ②④ C. ②③ D. ①④

21. 2022年10月20日,外交部副部长马朝旭在党的二十大记者招待会上说,新时代十年,中国的建交国总数从172个增加到181个,同世界各国和地区组织建立伙伴关系数量从41对增加到113对,国际组织越来越成为中国外交的重要平台;中国在新兴国际组织中发挥了重要作用,积极推动新兴国际组织的发展。下列对新兴国际组织认识正确的是

- ①亚投行的目标是合作、共赢、精简、绿色、发展
- ②东盟遵循协商一致的原则,协商解决成员间的分歧和争端
- ③上海合作组织已经成为当今世界区域合作的典范
- ④在金砖国家中,中国的经济体量最大,作用相对突出

A. ①② B. ①④ C. ②③ D. ③④

22. 2022年11月1日,是《中华人民共和国个人信息保护法》颁布施行一周年。中国消费者协会发布梳理出了APP运营者侵害消费者个人信息的四大乱象,即大数据杀熟、过度索权、泄露隐私、乱发信息。对此,中消协提醒,网络授权须谨慎。上述材料告诉我们

- ①APP运营者应依法经营,严禁收集消费者信息
- ②自然人的个人信息与隐私权均受到法律保护
- ③政府依法行政,有权处理公民个人所有信息
- ④公民需要增强权利意识,维护自身的人格权

A. ①② B. ①③ C. ②④ D. ③④

23. 作为中华优秀传统文化重要组成部分的中国古典诗、句,既蕴含着美的意境,也闪烁着思维的光芒。关于下列诗、句所体现的思维特征,对应不正确的是

- ①“人有悲欢离合,月有阴晴圆缺,此事古难全”——思维的差异性
- ②“仁者见仁,智者见智”——思维的概括性
- ③“问君能有几多愁?恰似一江春水向东流”——思维的科学性
- ④“夜来风雨声,花落知多少”——思维的能动性

A. ①② B. ③④ C. ②④ D. ①③

24. 明末清初思想家王夫之在《读通鉴论》中写道:“秦以私天下之心而罢侯置守,而天假其私以行其大公。”这一判断是基于秦朝

- A. 建立起第一个统一王朝
- B. 推动制度法令统一
- C. 依据才干政绩任免官吏
- D. 实行思想文化专制

25. 东汉仲长统在《理乱篇》中写道:“豪人之室,连栋数百,膏田满野,奴婢千群,徒附万计。船车贾贩,周于四方;废居积贮,满于都城。”这反映了当时

- A. 经济得到了恢复和发展
- B. 地方豪强已成为割据势力
- C. 全国统一市场趋于形成
- D. 豪强经济具有一定开放性

26. 司马光曾说:“五代之乱,衣冠之绪零落殆尽。”苏颂也于李常墓志中写道:“唐季之乱,四方豪杰与京都士族往往避地江湖。”这一现象有助于

- A. 扩大士族的社会影响
- B. 推动考试程序的公正性
- C. 增强社会阶层流动性
- D. 促进政治决策的开放性

27. 1368年,朱元璋下诏规定:“各处荒闲田地,许令诸人开垦,永为己业。各处人民,曩因兵燹抛下田土,已被有力之家开荒成熟者,听为己业,其业主回还,仰有司于附近荒田内,验数拨付耕作。”这一规定的推行

- A. 提高了自耕农的数量
- B. 塑造了明朝的政治合法性
- C. 瓦解了大土地所有制
- D. 促进了工商业的繁荣发展

28. 晚清时期,张謇曾指出:“顾我中国政体,尚未进入立宪时代,而独银行一端,偏效法共和政体之美国。不知惟美政体共和,其中央政府有代表全国之资格。”民国元年,他也强调:“今既革新政体为共和,则民为主体,断无独于盐务仍袭专制旧习,视沟瘠之沦胥,助素封之延世。”张謇意在强调

- A. 经济体制应与政治体制相适应
- B. 应该规范民间资本运行的环境
- C. 美国的共和政体值得我们效法
- D. 只有大兴实业才可能救亡图存

29. 民国之前，军阀官僚多热衷于买地建屋，对工商业，特别是对工业涉足甚少。但从1912年到1914年，军阀官僚所参与和发起的经济团体有10余个，如杨士琦联合工商界发起组织了中华事业联合会，徐绍楨参与发起了农业促进会等，军阀官僚单独发起组织经济团体的现象也多有。这种现象反映了当时

- A. 军阀官僚致力于经济建设
B. 军阀标榜进步以求得自保
C. 革命转向建设成必然趋势
D. 民生主义得到了普遍认同

30. 1935年12月，毛泽东作了《论反对日本帝国主义的策略》的报告，断定：“革命的动力，基本上依然是工人、农民和城市小资产阶级，现在则可能增加一个民族资产阶级。”该认识是基于

- A. 国共十年内战的基本结束
B. 全民族抗战局面已形成
C. 新民主主义革命理论形成
D. 对中国国情的正确认识

31. 中华人民共和国成立后，我们党一方面在和平共处五项原则基础上同世界各国发展友好关系，另一方面又把和平共处原则运用于处理自己的内政问题。邓小平也曾指出：“和平共处原则不仅在处理国际关系问题上，而且在一个国家处理自己内政问题上，也是一个好办法。”基于此，在新时期提出了

- A. 求同存异的方针
B. “一国两制”的科学构想
C. 科教兴国的战略
D. “一带一路”的合作倡议

32. 罗马式建筑是对中世纪早期基督教的虔信和英雄史诗里那种粗犷力量的补足与平衡；而哥特式建筑是一种挺拔的、热烈的、满含抒情诗与浪漫传奇的高度敏感性风格。大约从1150年开始，后者逐渐取代前者。建筑风格的演变反映了

- A. 王权是城市治理的主导者
B. 欧洲基督教化是一个过程
C. 经院神学逐渐被社会接受
D. 理性主义成为时代的潮流

33. 英国的海外贸易

	1806年		1817年	
	贸易值	%	贸易值	%
北欧	16338	28.6	21885	27.5
南欧	5070	8.88	12629	15.87
亚洲	5692	9.96	10483	13.18
非洲	1549	2.71	854	1.07
北美洲	11894	20.83	12345	15.52
中、南美洲	16572	29.02	21367	28.86

对上述表格信息理解正确的是

- A. 英国的霸权地位受到了严重冲击
B. 英国与欧洲各地的贸易不断递增
C. 拿破仑战争推动了贸易格局变化
D. 海外贸易使世界连接成一个整体

34. 有史学家写道：“现代欧洲民众第一次意识到，在这个社会中，占统治地位的不是理性和民智的力量，而是盲目、非理性和邪恶的力量。”这段材料描述的时期最有可能是

- A. 1848—1871年
B. 1919—1939年
C. 1945—1973年
D. 1973—1990年

35. 据1964年的民调，当被问及“你是否认为美国应该在国际上关注自己的事情，让其他国家自己尽可能地管好自己”时，同意该说法的人只有20%，不同意的有69%，不同意者的比例在1964—2016年间类似民调中是最高的。该调查结果反映出当时

- A. 美国人对国家能力的自信
B. 美国在冷战中的优势地位
C. 战后世界金融秩序的稳定
D. 福利国家增强了爱国热情

二、非选择题：本题共9小题，共160分。

36. 阅读图文材料，完成下列要求。(28分)

我国西北地区的最主要沙尘源区是分布在绿洲和盐碱洼地之中的砂砾戈壁。戈壁主要分布在昆仑山、祁连山、阿尔泰山、天山和贺兰山的山前地带。第四纪以来，高大山脉上的冰碛物在流水作用下形成冲积扇或冲积平原，冲积扇、冲积平原成为沙尘暴的物源地。沙尘释放过程，是指沙尘物质脱离地表，进入空气的过程。砾石、植被和结皮覆盖的地表能够抑制沙尘的释放。但专家认为影响我国的沙尘天气不会彻底消失。图5为沙尘释放过程模型图。

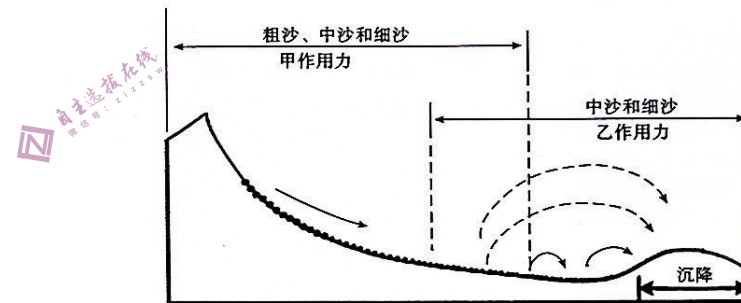


图5

(1) 指出图中甲、乙表示的外力搬运作用，并说明判断理由。(8分)

(2) 从外力作用角度，简述沙尘暴物质来源的空间迁移过程。(4分)

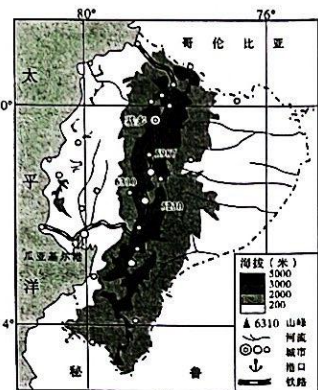
(3) 分析砾石、植被和结皮覆盖的地表抑制沙尘释放的原因。(4分)

(4) 说出我国西北地区沙尘释放量最多的季节，并分析原因。(8分)

(5) 解释影响我国的沙尘天气不会彻底消失的原因。(4分)

37. 阅读图文材料，完成下列要求。(28分)

厄瓜多尔位于南美洲西北部，其首都基多是最靠近赤道的首都，虽靠近赤道，但四季如春，气候宜人。安第斯山脉从厄瓜多尔的中部由北往南穿过，西部是太平洋沿岸，中部是安第斯山脉，东部则属于亚马逊平原。瓜亚基尔是厄瓜多尔第一大城市，也是最大的海港。港口有铁路通向首都基多，多条高速公路通向内陆其他城市，来自全国各地的香蕉、可可、咖啡等产品从这里出口。图6为厄瓜多尔地理事物示意图。



(1) 比较厄瓜多尔山脉东西两侧降水量差异，并分析原因。(6分)

(2) 读图，指出厄瓜多尔的城市分布特点并分析其原因。(8分)

(3) 为何厄瓜多尔铁路主要分布在中部山区而非沿海地区。(6分)

(4) 分析瓜亚基尔港成为厄瓜多尔最大港口的有利条件。(8分)

38. 阅读材料，回答问题。(10分)

党的二十大报告强调，人民民主是社会主义的生命，是全面建设社会主义现代化国家的应有之义；发展全过程人民民主，保障人民当家作主。

发展全过程人民民主，首要任务就是在法治轨道上有序地推进全过程人民民主。全过程人民民主不仅强调立法过程的人民民主，也强调执法、司法、守法过程的人民民主；不仅通过民主程序将人民的意志上升为国家法律，更要通过行政机关、司法机关、全体人民的参与，将国家法律所凝聚的人民意志落到实处。“全过程”的特征表现在立法、执法、司法、守法、法律监督、法治宣传等一系列法治活动中。在这些活动过程中，应当始终贯彻“人民民主”的价值理念，使其有效地发挥作用。要坚持不断创新人民参与立法、执法、司法、守法等法治。

发展全过程人民民主，首要任务就是在法治轨道上有序地推进全过程人民民主。结合材料，运用全面推进依法治国的基本要求知识，谈谈对此观点的认识。(10分)

39. 阅读材料，回答问题。(20分)

习近平总书记殷殷嘱托，要赓续党的红色血脉，弘扬党的优良传统。

材料一 2022年10月26日，习近平总书记到延安中学考察时嘱托教育工作者，“要坚持用‘延安精神’教书育人，办好人民满意的教育，弘扬革命传统，培育时代新人。”

材料二 从1935年到1948年，党中央和毛泽东在延安领导、指挥了抗日战争和解放战争，革命圣地延安孕育的延安精神，其主要内容包括：实事求是、理论联系实际的精神，全心全意为人民服务的精神和自力更生艰苦奋斗的精神；本质是解放思想、实事求是。延安精神是中国共产党创造的红色革命精神之一，是中国革命和建设的伟大的精神动力。延安时期是中国共产党科学总结正反两方面经验，成功地推进马克思主义中国化、在理论上实现第一次历史性飞跃的时期；毛泽东同志的许多重要著作，如《中国革命战争的战略问题》《实践论》《矛盾论》《论持久战》《新民主主义论》《论联合政府》等，都是在延安时期完成的。

(1) 结合材料一，运用社会意识的相对独立性原理，阐述新时代弘扬延安精神的意义。(10分)

(2) 结合材料二，运用《逻辑与思维》中“推动认识发展”的相关知识，阐述对延安精神形成过程的认识。(10分)

40. 阅读材料，回答问题。(10分)

在政策利好、人口红利、消费升级的共同驱动下，养老与大健康行业将呈爆发式增长，基于庞大市场需求导向，2023中国(广东)国际医养大健康产业博览会，定于2023年3月17—19日在广州琶洲国际采购中心隆重举办，展会以“新时期、新使命、大健康、大未来”为主题，致力构筑以智慧养老、健康管理、养老院建设、适老化、医养结合、生命健康、家用医疗保健、康复护理、营养健康、长寿产业、中医养生等老年与大健康细分行业为特色的商贸平台。“2023中国(广东)国际医养大健康产业博览会”与“2023第二十一届中国(广东)医博会”同期同地举办，共享国内外专业采购商资源，助力企业寻求大健康与养老产业内贸外销双循环的巨大商机。展出面积启用4万余平方，参展企业近600家，全方位呈现当今世界大健康与养老产业前沿产品，致力于为参展商与全球优质买家构建高效、高质、精准的全方位一站式专业商贸平台。

结合材料，运用《当代国际政治与经济》的相关知识，分析说明举办“2023中国(广东)国际医养大健康产业博览会”的积极意义。(10分)

41. 阅读材料，回答问题。(12分)

党的二十大报告强调，坚持全面依法治国，加快推进法治中国建设。

材料一 《中华人民共和国反电信网络诈骗法》于2022年12月1日正式实施，该法明确了银

行卡和电话卡开办和停用前提条件, 办理电话卡, 开立银行账户、支付账户不得超出国家有关规定限制的数量, 明确禁止非法制造、买卖、提供或者使用相关设备、软件; 对电信网络诈骗前科人员和前往重点地区、出境活动存在重大涉诈嫌疑的人员, 有关部门有权决定不准出境等内容。云南省公安机关及有关部门将依法打击治理电信网络诈骗活动, 推动建设更高水平的平安云南、法治云南。

材料二 昆明某校高三学生李某参加高考后, 在等待大学录取期间开展勤工俭学, 于2022年6月25日, 与某快餐店达成临时就业意向。该快餐店要求: 李某入职必须向快餐店缴纳押金2000元, 每周工作7天, 每天必须无偿加班1小时, 在快餐店工作必须满2个月, 月薪5000元, 提前离职则押金不退。李某因急于找到工作, 答应了快餐店的条件, 并与快餐店签订劳动合同。1个月后, 李某考取某985大学本科, 要求与快餐店解除劳动合同, 并要求退还押金。该快餐店认为, 根据合同, 不予退还押金。

(1) 结合材料一, 运用“依法有效保护财产权”等知识, 简要说明反电信网络诈骗法施行的意义。(6分)

(2) 结合材料二, 运用《法律与生活》的相关知识, 回答该快餐店与李某签订的劳动合同是否有效, 并说明理由。(6分)

42. 阅读材料, 完成下列要求。(25分)

材料一 春秋战国时期的民本思想, 一方面是汲取了传统以“德”为核心的民本思想, 另一方面也凝聚了诸多学派关于“重民”“惠民”“爱民”等思想精华。《庄子·在宥》指出, 民虽然地位卑微, 但统治者不能不依顺。法家学派中的管仲、李悝等, 则不仅仅主张法治, 而且主张提升国家的经济实力, 让民众过上富裕的生活。但这种对民众的好, 只局限于客体意义上的、恩赐性质上的、工具属性上的对民众的“重视”和“恩惠”。民众没有参与国家的领导和管理权利。之后历朝历代“民本”的内涵几乎没有实质性变化。

材料二 中国古代“民本”理念发展至近代, 出现了裂变。其内容体系中的一些带有皇权专制性质的元素, 如“三纲”“男尊女卑”“愚忠愚孝”等被作为糟粕而遭到了否定; 而其中的一些“重民”“爱民”“民惟邦本”等内容, 则受到重视, 并在与西方传入之民主思想结合的基础上, 得以重生, 其最为经典的表现就是孙中山提出来的“民族”“民权”“民生”的“三民主义”。而“民本思想”又被吸收融入进了中国共产党人所坚持的“人民主权”“群众路线”等革命目标之中。

材料三 中华人民共和国成立后, 我国宪法和法律赋予人民是国家的主人, 人民与国家治理即法治是相融的关系, 而不是中国古代“民本”理念中“君”和“民”是对立之关系。这是现阶段我国社会主义法治区别于中国古代“民本”理念法理设定的根本所在。

——以上材料均摘编自白寿彝《中国通史》等

(1) 据材料一及所学知识, 分析中国古代民本思想产生的背景。(8分)

(2) 据上述材料及所学知识, 概括中国古代、近代、现代民本思想的差异。(8分)

(3) 据材料三及所学知识, 用史实叙述新中国“人民主权”从理论走向实践的历程。(9分)

43. 阅读材料, 完成下列要求。(12分)

材料 以世界上许多现代化中的国家为背景, 在我们把中国的现代化发展水平及其若干独到的特点审视一番后发现, 构成中国现代化历史的那些要素, 与其他国家的情况比较起来是如此之不同。本书用了相当的篇幅来探讨中国的现代化历程与其他国家的不同之处, 现在, 我们想从三个方面对此作个简短的概括: 一是前现代中国知识分子和政治领袖人物在接受现代知识上的勉强态度, 二是前现代政府的逐步衰弱, 三是中国人口规模、技术水平和可耕地面积之间的相互关系。

——摘编自[美]吉尔伯特·罗兹曼主编《中国的现代化》

上述材料是学者基于国际比较视野, 对1840年至20世纪80年代初中国现代化显著特征的概括。据此, 结合所学知识, 提出中国近现代某一历史时期现代化的一项显著特征, 并进行简要阐释。(要求: 所提特征不得与材料重复, 史论结合, 史实准确, 逻辑清晰。)

44. 阅读材料, 完成下列要求。(15分)

材料 在中古时期, 法国的赋税收入大多来源于农业, 农业税额居政府税收总量之首, 至近代早期, 工商取代农业而居税收主体地位。自路易十四(1643—1715)时始, 法国政府大力推行重商主义政策, 不惜以牺牲农业为代价发展工商业, 致使农民因赋税过重而弃耕, 农业几近崩溃。所以, 从18世纪中期始, 法国兴起了一股反重商主义的重农主义思潮, 呼吁政府关注农业、以农立国, 然而, 在当时没有得到重视。1789年后, 君主立宪派、吉伦特派、雅各宾派和拿破仑都通过了废除封建特权税收、解放农业的相关法令。但是, 到19世纪晚期, 由于政府取消了对农产品的关税保护, 外国廉价商品蜂拥而入, 农民利益受到重创, 农业生产陷入萧条。两次世界大战的爆发, 凸显了农业的基础地位, 要求政府必须从国家安全战略的高度认识农业的地位和作用。战后, 法国不仅取消了农业税, 而且予以巨额补贴, 同时颁行众多惠农政策对农业进行保护, 法国进入以工业反哺农业的历史时期。据统计, 1999年以来, 法国农产品出口每年均保持在350亿美元以上, 法国已经成为欧洲第一、世界第二大农产品生产国和出口国。

——摘编自滕淑娜、顾奎斋《法国农业经济政策的历史考察》

(1) 根据材料并结合所学知识, 概括近代以来法国农业发展的阶段性变化并简析其成因。(10分)

(2) 根据材料并结合所学知识, 说明法国农业发展对世界农业发展的启示。(5分)