

# 湘豫名校联考(2021年1月)

## 文科综合能力测试

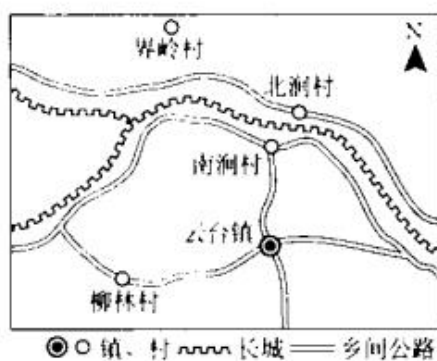
### 注意事项:

1. 本试卷分第Ⅰ卷(选择题)和第Ⅱ卷(非选择题)两部分,答卷前,考生务必将自己的姓名、准考证号填写在答题卡上。时量 150 分钟,满分 300 分。
2. 回答第Ⅰ卷时,选出每小题答案后,用铅笔把答题卡上对应题目的答案标号涂黑。如需改动,用橡皮擦干净后,再选涂其他答案标号。写在本试卷上无效。
3. 回答第Ⅱ卷时,将答案写在答题卡上。写在本试卷上无效。
4. 考试结束后,将本试卷和答题卡一并交回。

### 第Ⅰ卷

本卷共 35 小题,每小题 4 分,共计 140 分。在每小题给出的四个选项中,只有一项是符合题目要求的。

南、北涧村坐落在我北方地区的某段长城脚下,南涧村是当地有名的富裕村,而北涧村则是有名的贫困村。近年来,北涧村人口急剧减少,村落几乎成为一个无人村。2015 年在当地政府合村并居积极倡导下,2016 年底北涧村村民全部搬迁到长城南的南涧村新居,原有村民的明清民居并没有拆迁,而是保留下来。下图示意南、北涧村地理位置。读图完成 1~3 题。



1. 图中南、北涧村所在的地形可能是  
A. 山脊                      B. 山间沟谷                      C. 鞍部                      D. 山间盆地
2. 与北涧村相比,南涧村优越的自然区位是  
A. 地势平坦                      B. 水源充足                      C. 气候温暖                      D. 土壤肥沃
3. 在实施合村并居后,北涧村保留下来的明清民居可用于  
A. 印染厂房                      B. 快递中转                      C. 粮食仓储                      D. 写生基地

文科综合试题 第 1 页(共 15 页)

底特律位于美国最大的工业区—五大湖地带和以纽约—华盛顿及芝加哥—多伦多为核心的两大世界级城市群之间,经济腹地广阔,能源、原材料供应充足。1913年,福特建成了世界上第一条自动流水装配线,通过大批量生产使得汽车的生产时间和费用大大降低,并形成了一以贯之的美国特色——少品种、大规模生产方式。该城2012年被《福布斯》杂志评为美国最悲惨城市。据此完成4~6题。

4. 20世纪初期,底特律就已经集中了美国汽车厂的绝大部分,成为世界上汽车产业最集中的地区。美国汽车产业集聚在这里的主要区位条件是
- A. 原材料                      B. 技术                      C. 交通                      D. 市场
5. 20世纪20年代,底特律为美国和世界提供了大量汽车,促成这一结果有赖于
- A. 价格下降                      B. 款式新颖                      C. 交通发展                      D. 质量优良
6. 当底特律城市总人口从20世纪50年代高峰期的近200万人降到2010年的71万人时,汽车之城底特律一步步走向衰落,导致这一结果的原因是
- A. 原材料                      B. 技术                      C. 交通                      D. 市场

格库铁路是连接青海省格尔木市和新疆维吾尔自治区库尔勒市的国铁Ⅰ级客货共线铁路。与以往采用25 m短轨相比,格库铁路全部采用500 m长的无缝钢轨铺架。2020年6月30日上午,随着首趟开往青海花土沟方向的列车徐徐驶出格尔木车站,标志着青海格尔木至新疆库尔勒铁路(格库铁路)青海段正式开通运营。下图为“格库铁路示意图”。读图,完成7~9题。

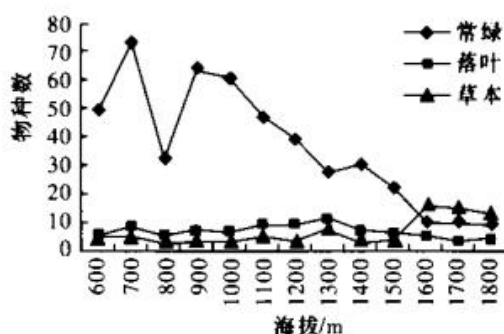


7. 与以往25 m短轨相比,铺设500 m长的钢轨主要可以
- A. 减弱地基不稳的影响                      B. 使列车运行提速快
- C. 降低旅客安全舒适性                      D. 减弱风沙的影响
8. 该铁路所经地区自然环境恶劣,但仍在甲处采取了弯曲建设,这样做主要是为了
- A. 保护生态环境                      B. 避开崎岖山地
- C. 方便居民出行                      D. 开发旅游资源

9. 格库铁路开通后,有利于

- A. 改善新疆脆弱生态环境  
B. 缓解入疆铁路运输压力  
C. 消除区域经济发展不平衡  
D. 促进中、西部交流

植物生活型类群是指在一个地区内具有相似形态结构特征的植物群,如乔木生活型、草本生活型等,是不同分类学单位间对各种环境的趋同适应现象。我国东南沿海地区某山位于亚热带,受海洋性气候和复杂地形的影响,自然条件优越,生物多样性丰富,垂直地带性明显,是我国东南沿海典型的山地森林生态系统。下图为该山主峰北坡生活型类群植物种数随海拔高度的变化。读图完成 10~11 题。



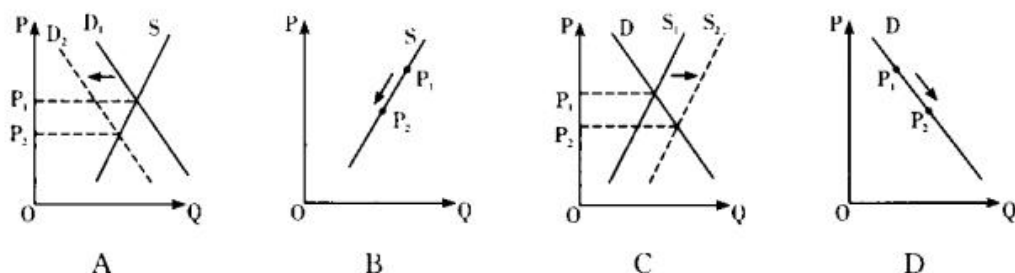
10. 该山北坡随海拔的升高落叶物种数比较平稳,这说明落叶物种

- A. 对地形坡向适应性强  
B. 对气候环境适应性强  
C. 受自然灾害干扰较小  
D. 受人类活动干扰较小

11. 该山海拔 750~850 米附近的常绿物种数较少的自然原因可能是

- A. 地形坡度较大  
B. 水热条件较差  
C. 光照严重不足  
D. 山谷风力强劲

12. 面对猪肉价格不断高涨的形势,2020 年 9 月 9 日,国家发改委、农业农村部两部门下发通知,对 2020 年年底前新建、改扩建种猪场、规模猪场等给予补助,合理把握冻猪肉储备投放节奏和力度,扩大猪肉进口,更好地保障市场供应。不考虑其他因素,下图中能够正确反映国家上述政策对猪肉价格产生影响的是



13. 某商业银行在精准扶贫工作中充分发挥行业优势,优先安排定点扶贫地区信贷规模和资金,加大对当地小微企业和个人的资金支持;派出专业人员组成“政府财务顾问”团队,帮助当地进行政府规划、招商引资、产业发展、投融资服务;推动贫困地区的农业企业、小微企业

- 在融e购平台上线,扩大销售渠道。这表明,商业银行在扶贫工作中发挥着
- ①制定货币政策、经营管理企业的作用 ②筹集和分配资金的“蓄水池”的作用  
③为政府作出正确决策提供信息的作用 ④促进社会公平、保障人民基本生活的作用
- A. ①③                      B. ①④                      C. ②③                      D. ②④
14. 受疫情影响,我国财政收入下行,支出压力上升。2020年国务院《政府工作报告》提出,今年赤字率拟按3.6%以上安排,财政赤字规模比去年增加1万亿元,同时发行1万亿元抗疫特别国债,将发行的1万亿元抗疫特别国债用于公共卫生等基础设施建设和抗疫相关支出。下列对这一安排的传导路径的分析合理的是
- ①增发国债→加大财政投资→助力公共设施建设和企业扩大生产和经济恢复  
②适度宽松的货币政策→支持企业扩大贷款→企业内部管理完善→市场决定作用增强  
③财政赤字增加→投资扩大→通货膨胀→企业经济效益增加  
④国家财政支出增加→支持扩大就业→增加居民收入→扩大内需
- A. ①③                      B. ①④                      C. ②③                      D. ②④
15. 2020年9月4日,国家主席习近平在2020年中国国际服务贸易交易会全球服务贸易峰会上说,中国愿同各国一道,加强宏观政策协调,加快数字领域国际合作,加大知识产权保护,积极促进数字经济、共享经济等蓬勃发展,共同促进全球服务贸易发展繁荣,推动世界经济尽快复苏。由此可知
- ①我国的“走出去”战略成效显著 ②良好的营商环境有利于国际服务贸易的发展  
③中国主导服务贸易的进程进一步加快 ④中国是全球服务贸易的主要贡献者
- A. ①③                      B. ①④                      C. ②③                      D. ②④
16. 某地充分利用大数据在基层社会治理中既快又准的特点,构建起全域“闭环式”疫情防控体系,实施平台化指挥、精准化预警、信息化办公、数字化服务,为战胜疫情赢得了时间,争取了主动权。这一做法
- ①完善了基层民主制度,推动自治规范化  
②保障公民基本的民主权利,提升公共服务水平  
③凸显出社会治理数据化、智能化的重要性  
④推进基层社会治理创新,提高基层防控效能
- A. ①②                      B. ①③                      C. ②④                      D. ③④
17. 2020年10月15日,十三届全国政协第41次双周协商座谈会在北京召开。会议强调,要深入领会习近平总书记关于“三农”工作的重要论述,以推进供给侧结构性改革为主线,以市场需求为导向,以增加农民收入、提高农业综合效益和竞争力为核心,协同发挥政府和市场“两只手”的作用,更好解决农产品销售难问题,让农民群众得到实惠。与会委员积极发表履职意见。双周协商座谈会

- A. 是社会主义协商民主的重要渠道和专门协商机构  
B. 便利了公民政治参与,提高了决策的科学化民主化  
C. 有利于政协积极参与政治协商,发挥对决策的建言献策功能  
D. 搭建了互动交流平台,方便政协履行参政议政的国家职能
18. 国家主席习近平 2020 年 9 月 22 日在第 75 届联合国大会一般性辩论上发表重要讲话指出,面对新冠肺炎疫情,各国要践行人民至上、生命至上理念,加强团结、同舟共济。在国际抗疫中,坚持团结合作需要各国
- ①把维护各国共同利益作为对外活动的出发点和落脚点  
②贯彻《联合国宪章》宗旨,把人民的根本利益放在首位  
③跨越不同文明的差异,面对人类共同问题的挑战  
④把人类命运共同体理念作为国际关系的根本准则,和平共处
- A. ①②                      B. ①④                      C. ②③                      D. ③④
19. 《卜算子·咏梅》中,陆游的梅是“零落成泥碾作尘,只有香如故”的寒士,体现了志节高尚,操守如故;毛泽东的梅则是“已是悬崖百丈冰,犹有花枝俏”的战士,体现了自豪乐观,蔑视困难。二者都是托梅言志,共同表达了中国传统文化人生品格的意象。这对我们的启示是
- ①梅花精神的基本特征世代相传,具体内涵因时而变  
②以“梅”喻人,以特有的包容性文化成就人生  
③托“梅”言志,与中华民族精神的核心相映衬  
④梅的意象凸显人生品格,表现了中华文化的博大精深
- A. ①②                      B. ①④                      C. ②③                      D. ③④
20. 70 年前,为了保卫和平、反抗侵略,全国各条战线和各族人民积极响应党和政府号召,开展了轰轰烈烈的抗美援朝运动,英雄的中国人民志愿军高举正义旗帜,同朝鲜人民和军队一道,舍生忘死、浴血奋战,赢得了抗美援朝战争伟大胜利,为世界和平和人类进步事业作出巨大贡献。伟大的抗美援朝精神
- ①能够在中华文化的发展过程中发挥“主心骨”作用  
②为中华民族伟大复兴提供了智力支持  
③是社会主义核心价值观的生动诠释  
④彰显了中华民族不畏强暴、维护和平的坚定决心
- A. ①②                      B. ①④                      C. ②③                      D. ③④
21. 英国爱丁堡大学发表的一项研究显示,人体皮肤受阳光照射后会产生一种化合物,这种化合物又会激活一种特殊的免疫细胞——调节性 T 细胞,这种细胞能对炎症产生抑制作用,能缓解湿疹症状。而从这项研究可以看出,日光照射带来的健康益处远远不止是补充维生素 D,这方面的空白还有待深入研究。这表明

- ①由于人们的立场、观点和方法不同,人的认识有主观差异性
- ②认识具有反复性,客观事物本质的暴露还有待我们探索
- ③认识具有无限性,每次医学的成就总能接近终极真理
- ④认识具有上升性,真理在发展中不断超越自身

A. ①②                      B. ①③                      C. ②④                      D. ③④

22. 漫画《高度明显不达标》(作者:吉俊明)启示我们办事情需要



- ①树立全局意识,从整体着眼
- ②把握事物内部结构的有序性
- ③一切以时间、地点、条件为转移
- ④主观与客观应达到具体的统一

A. ①②                      B. ①③                      C. ②④                      D. ③④

23. 2020年9月15日,中共中央办公厅印发《关于加强新时代民营经济统战工作的意见》指出,鼓励民营经济参与国家重大战略,鼓励民营企业参与混合所有制改革,支持民营企业参与电力、电信、铁路等重点行业和领域改革,提高民间资本在混合所有制企业中的比重。这是基于

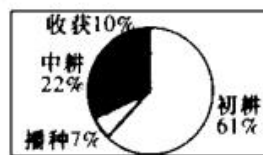
- ①改革是推动人类社会发展的根本动力    ②现阶段我国生产关系的发展状况
- ③上层建筑要适应经济基础发展状况的客观要求    ④社会主义制度自我完善和发展的需要

A. ①②                      B. ①③                      C. ②④                      D. ③④

24. 韩非子自知其法严峻,但他却不以为恶,其理由是“当君主对民众施用刑罚之时,并不是憎恨民众,而是从爱护他们的根本利益出发的”。据此,韩非子

- A. 要求对人性进行遏制                      B. 强调法治立足于民本
- C. 倡导仁政和法治兼顾                      D. 认识到法治的重要性

25. 右图为秦汉时期出土的初耕农具、播种农具、中耕农具、收获农具四种铁农具类型比例统计图。它反映出当时



- A. 铁器广泛使用
- B. 注重精耕细作
- C. 铸铁冶炼发达
- D. 政府重视农业

26. 元世祖至元二十八年(公元1291年),明令“先儒过化之地,名贤经行之所,与好事之家出钱粟贍学者,并立为书院”。这表明,元朝

- A. 继承并发展宋代教育                      B. 能够传承传统文化
- C. 加强对地方教育控制                      D. 积极出资发展教育

27. 据《明会典》记载:针对京官、在外司府州县官、教官、杂职官、入流仓官,明统治者依照官员办事能力的强弱进行考核,达到标准的官员给予晋升,达不到标准的就留职或降或罢黜。

这说明,明代

- A. 严格划分官员等级  
B. 重视优化官僚队伍  
C. 强调官员的差异化  
D. 官吏考核臻于完善

28. 下表是中国近代进步思想简表。据此可知,当时中国的进步思想家

人物	主张	作用
林则徐、魏源	提出“师夷长技以制夷”的方案	开启向西方学习的先河
曾国藩、李鸿章	力求在维护封建制度前提下引进西方技术	迈出了中国近代化历程的第一步
康有为、梁启超	把西方政治理论同中国传统儒家理想相结合	促进思想启蒙,推动维新变法运动的实践
孙中山	明确提出“振兴中华”的口号	打破了延续几千年的封建专制,创立了“中华民国”

- A. 艰辛探索民族复兴道路  
B. 全面学习西方技术成就  
C. 践行反帝反封建双重任务  
D. 侧重于政治制度上变革

29. 1923年,民国总统选举,直系军阀曹錕以5000元一张选票到处收买议员,又以40万元高价收买国会议长,共用去贿赂款1350余万元,最后贿选当上大总统。这一现象表明当时的中国

- A. 陷入军阀混战的局面  
B. 国民党政治渐趋腐败  
C. 新文化运动缺乏影响  
D. 代议制民主流于形式

30. 下图为抗日战争时期解放区面积和人口统计表。该表主要反映出

时间	面积(万平方千米)			人口(百万)		
	沦陷区	解放区	解放区占沦陷区(%)	沦陷区	解放区	解放区占沦陷区(%)
1944年	126.3	93.6	74.1	207.8	91.5	44.0
1945年	136.3	95.7	68.0	247.8	95.5	38.5

- A. 国共两党力量的此消彼长  
B. 日军在华占领区逐渐减少  
C. 日本战败投降的历史趋势  
D. 解放区在全国的比重缩小

31. 关于“中间地带(美苏中间的国家或地区)”的构想,毛泽东在1946年8月6日首次提出。新中国成立后一度不用这个概念。1955年万隆会议后,毛泽东重新提出“中间地带”的外交战略。这种变化

- A. 着眼于“一边倒”外交的需求  
B. 利于新中国外交环境的改善  
C. 促使西方孤立中国外交失败  
D. 助推“求同存异”方针的发展

32. 公元前 326 年,罗马通过了《波提利阿法案》。该法规定,所有因金钱债务而被拘押的人应当被释放,镣铐只应加诸犯罪或侵权者,债权人不得再因借钱而奴役债务人。该法律
- A. 有助于罗马帝国的强大  
B. 推动罗马告别奴隶时代  
C. 导致债务危机日益严重  
D. 有利于保障平民的自由
33. 16 世纪,世界新旧大陆的经济作物广泛种植与外贸增多,白银出现跨洲际流动,各大洲纷纷成为世界市场的组成部分。该现象出现的根源在于
- A. 新航路开辟引发了“商业革命”  
B. 以西欧为中心的世界市场形成  
C. 西欧资本主义萌芽的迅速发展  
D. 白银成为西欧社会上层的追求
34. 达尔文说,他一直为使用《圣经》创世的字眼来取悦公众舆论而感到后悔,他用这些词的意思其实只是意味着“以某种完全未知的过程而出现”。这说明
- A. 神学仍是生物学研究的障碍  
B. 进化论使神学得到完善  
C. 达尔文有着坚定的宗教信仰  
D. 达尔文属于不可知论者
35. 下图为 1973 年底在联邦德国公路上抓拍到的场景。这张著名的历史照片生动地反映出



- A. 两个德国团结奋进  
B. 石油危机之下西欧经济陷入困境  
C. 多极化趋势的出现  
D. 奔驰宝马对德国经济的拉动作用

## 第 II 卷

本卷包括必考题和选考题两部分。第 36~42 题为必考题,每个试题考生都必须作答。第 43~48 题为选考题,其中有一个地理附加题,考生根据要求作答。

### (一)必考题

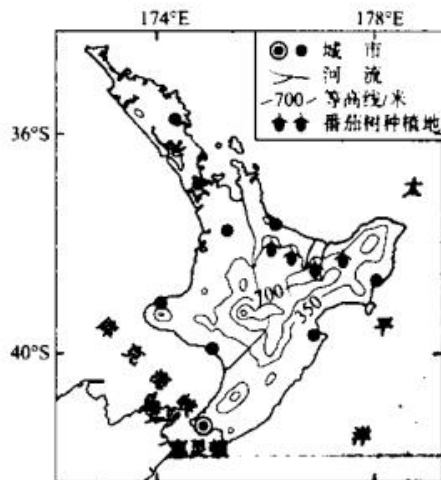
36. (22 分)阅读图文材料,完成下列要求。

番茄树,是一种多年生常绿灌木,原产于南美洲安第斯山区少数国家。喜温、喜光,在气候温暖、雨水充足的地区种植最为适宜。耐旱、怕涝、畏寒,对于土壤的要求不高。番茄树易栽种,易成活,栽种后第二年就开花结果,三年后进入盛果期,结果年限可达 12~20 年,但每棵树年产量仅 50 千克,番茄树果具有很高的营养价值,南美洲番茄树果清香甘甜。番茄树既可以种在宅前屋后,也可以栽在田间地头,是一种发展前途广阔的新兴果树。1967 年新西兰将番茄树引种到北岛地区,新西兰番茄树果多酸甜,在口感上要逊色于南美

文科综合试题 第 8 页(共 15 页)



洲番茄树果。喜爱甜食和乳制品的新西兰人将采摘下来的番茄树果大多出口到欧美和日本等国家和地区。下图为新西兰番茄树种植地分布图。



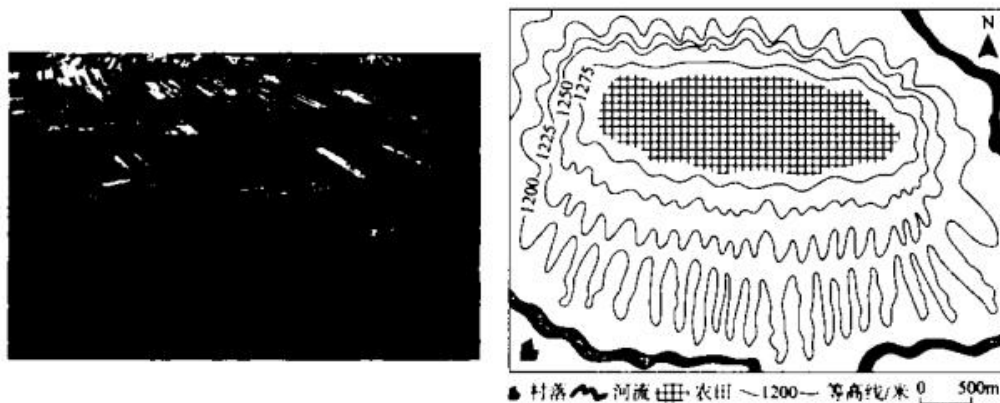
(1)分析番茄树种植发展前途广阔的主要原因。(8分)

(2)说明新西兰北岛番茄树种植地的优势自然条件。(8分)

(3)据市场调查,新西兰的各大蔬果超市很难买到番茄树果,请说明理由。(6分)

37. (24分)阅读图文材料,完成下列要求。

黄土塬又称黄土平台、黄土台地,塬是中国西北地区居民对顶面平坦宽阔、周边为沟谷切割的黄土堆积高地的俗称。从平面上看,黄土塬常呈花瓣状。黄土塬顶面平坦,坡度多为 $1\sim 3^\circ$ ,边缘可达 $5^\circ$ 左右,塬顶面冲沟较少,仅有极少短、小、窄、浅的纹沟,这是冲沟形成的早期地貌形态,而周围坡面为冲沟深切,黄土塬代表黄土的最高堆积面。黄土塬侵蚀微弱,是黄土高原地区的主要农耕地。下图为黄土高原某地区黄土塬景观图及该地某黄土塬地形图。



文科综合试题 第9页(共15页)

(1)分析黄土塬顶面上冲沟较少的主要原因。(8分)

(2)某研学小组实地调查发现,该地区黄土塬的坡面冲沟深度空间差异较大,请说明这一空间差异并从气候角度分析其成因。(8分)

(3)有人说,未来黄土塬面积会缩小,高度降低,你是否赞同,并说明理由。(8分)

38. (14分)阅读材料,完成下列要求。

2020年10月14日,习近平在深圳经济特区建立40周年庆祝大会上的讲话,总结了深圳40年来走过了国外国际化大都市上百年走完的历程,创造了地区生产总值年均增长20.7%的“深圳奇迹”的十条宝贵经验。

从2019年8月,党中央作出支持深圳建设中国特色社会主义先行示范区的重大决策,到今年10月《深圳建设中国特色社会主义先行示范区综合改革试点实施方案(2020—2025年)》(以下简称《实施方案》)发布,成为新时代推动深圳改革开放再出发的关键一招。《实施方案》在完善要素市场化配置体制机制、打造市场化法治化国际化营商环境、完善科技创新环境制度、完善高水平开放型经济体制、完善民生服务供给体制等方面作出了重要部署。特别是支持深圳实施综合授权改革试点,解决深圳建设用地瓶颈,推动深圳扩容,盘活存量工业用地,数字人民币+数据交易市场试点等40条首批授权举措,将促进深圳创造让世界刮目相看的更大奇迹!

结合材料,运用经济生活相关知识,谈谈深圳是如何打造世界奇迹的?(14分)

39. (12分)2020年3月6日,习近平总书记在决战决胜脱贫攻坚座谈会上发出了确保取得最后胜利的动员令,要求党员干部对标党中央决策部署和工作要求,坚持不懈抓好各项工作落实,确保脱贫攻坚目标任务如期全面完成。

作为全国脱贫攻坚战主战场之一,广西深入贯彻落实习近平新时代中国特色社会主义思想,按照党中央、国务院部署要求,把脱贫攻坚作为最大政治责任和第一民生工程来抓。党员干部把为民谋幸福作为理想和追求,带领贫困群众走好脱贫攻坚“最后一公里”,精准施策、精准扶贫,抓好易地扶贫搬迁后续扶持,加快发展中长线产业,加强贫困人口稳岗就业,防止返贫和新的致贫。10月10日至10月31日,广西正式对最后未脱贫的8个贫困县、660个贫困村和21万贫困人口开展脱贫摘帽认定工作。啃下这批“极贫深贫”最难啃的“硬骨头”后,标志着全区634万建档立卡贫困人口全部脱贫,将与全国同步奔向全面小康美好新生活。

文科综合试题 第10页(共15页)

结合材料并运用政治生活知识,说明广大党员干部在决战脱贫攻坚中是如何发挥作用的。

(12分)

40. (26分)新冠肺炎疫情是百年来全球发生的最严重的传染病大流行,是新中国成立以来我国遭遇的传播速度最快、感染范围最广、防控难度最大的重大突发公共卫生事件。在这场同严重疫情的殊死较量中,中国人民和中华民族以敢于斗争、敢于胜利的大无畏气概,铸就了生命至上、举国同心、舍生忘死、尊重科学、命运与共的伟大抗疫精神。中国的抗疫斗争,充分展现了中国精神、中国力量、中国担当。伟大抗疫精神,同中华民族长期形成的特质禀赋和文化基因一脉相承,是爱国主义、集体主义、社会主义精神的传承和发展,是中国精神的生动诠释,丰富了民族精神和时代精神的内涵。用3个月左右的时间取得武汉保卫战、湖北保卫战的决定性成果,进而又接连打了几场局部地区聚集性疫情歼灭战,夺取了全国抗疫斗争重大战略成果。在此基础上,我们统筹推进疫情防控和经济社会发展工作,抓紧恢复生产生活秩序,取得显著成效。我们要在全社会大力弘扬伟大抗疫精神,使之转化为全面建设社会主义现代化国家、实现中华民族伟大复兴的强大力量。

(1)伟大抗疫精神,是中国精神的生动诠释,丰富了民族精神和时代精神的内涵。运用矛盾的普遍性和特殊性辩证关系原理对此加以说明。(12分)

(2)在全社会大力弘扬伟大抗疫精神对实现中华民族伟大复兴具有重要意义,运用文化的作用的知识并结合材料加以分析。(10分)

(3)71年前,中国共产党人从西柏坡出发“进京赶考”,2020年的新冠疫情又是对中国、对世界各国政治经济文化和国民素质的一次“大考”,青年学生是将来国家命运的承担者,请你为青年学生怎样承担将来的国家命运写两条宣传励志建议(或口号)。(4分)

41. (25分)阅读材料,完成下列要求。

**材料一** 18世纪的英国政府依然推行重商主义。为保障毛纺织品出口,政府出台相关法律,禁止羊毛出口,又禁止工匠和技术工人移居国外,并长期禁止纺织机械及其他设备出口。为避免外来竞争,1700年政府颁布法令,禁止丝绸及印染棉布进口,这对于东印度公司的东方贸易造成重大打击,但却促进了国内丝织业和棉纺织业的发展。与进口商品的高关税相对应,英国政府又实施出口补贴政策,以推动对外出口。18世纪末,重商主义受到挑战,英国政府开始尝试自由贸易政策,80年代英国与宿敌法国签订了一份自由主义的商业协定,赋予两国在欧洲商业和贸易中的完全自由。

——摘编自钱乘旦、刘金源《英国通史(四)》

文科综合试题 第11页(共15页)

材料二 清朝满族当政,以少制多,更加强了中央集权,经济上坚守重本抑末政策,但康熙也提出“恤商”和“利商便民”口号,清廷长期对待工商业既不提倡,也不大禁。清朝废除明朝的匠籍制度,给官营手工业者自由,放弃明代官矿政策,允许商民开矿。政府财政税收也以白银为计算单位。商帮为政府和皇室专卖物质,并兼营典当、汇兑等业务,势力经久不衰。清朝实行闭关锁国政策,一方面是因为中国国家财税长期主要来源于田赋,海关收入比重在1753年四口通商时所占岁入税额仅四十分之一,乾隆后期进一步改为一口通商;另一方面进口商品除了铜、铅就是一些高档奢侈消费品,对外贸易没有建立在自身迫切需要之上。

——摘编自许涤新主编《中国资本主义发展史》等

(1)根据材料一、二并结合所学知识,比较18世纪中英工商业政策的异同。(11分)

(2)根据材料二并结合所学知识,评析清朝前期的工商业政策。(14分)

42. (12分)阅读材料,完成下列要求。

材料 古代中国思想文化讲义目录(部分)

第三回 家国秩序——国家、社会与儒家

引子:从“家”到“国”,从“礼”到“法”

一、家有家规,国有国法:从家庭、宗族到国家

二、国家国家:国在家之上

三、国家与秩序的需要

四、儒家的礼:礼貌、礼节与礼制

五、仪式:靠象征建立秩序、合法性

六、什么是“儒”?“吾与史、巫同途而殊归也”

七、穿衣戴帽,不仅仅是穿衣戴帽

八、从礼到法的提升:家庭秩序到国家秩序

九、名分:“必也正名”

十、“敬”与“仁”:和睦、等级与尊卑

十一、儒学的确立与瓦解

——摘自葛兆光《中国古代文化讲义》

根据材料并结合所学知识,就材料整体或其中任意一点拟定一个论题,并予以阐述。(要求:论题明确,持论有据,论证充分,表达清晰)

(二) 选考题(共 25 分。请考生从 2 道地理题和 1 道地理附加题、3 道历史题中每科任选一题作答。如果多做, 则每科按所做的第一题计分。)

43. (10 分)【地理——选修 3: 旅游地理】阅读材料, 回答问题。

西双版纳热带雨林自然保护区是国家级自然保护区, 位于云南省南部西双版纳傣族自治州境内。总面积 2854.21 平方千米, 森林覆盖率达到 95.7%, 这里的热带雨林、南亚热带常绿阔叶林、珍稀动植物种群, 以及整个森林生态都是无价之宝, 是世界上唯一保存完好、连片大面积的热带森林, 深受国内外瞩目。是当今我国高纬度、高海拔地带保存最完整的热带雨林, 具有全球绝无仅有的植物垂直分布“倒置”现象。

评价西双版纳开发森林旅游的优势及开发与利用过程中可能出现的环境问题。

44. (10 分)【地理——选修 6: 环境保护】阅读图文材料, 回答问题。

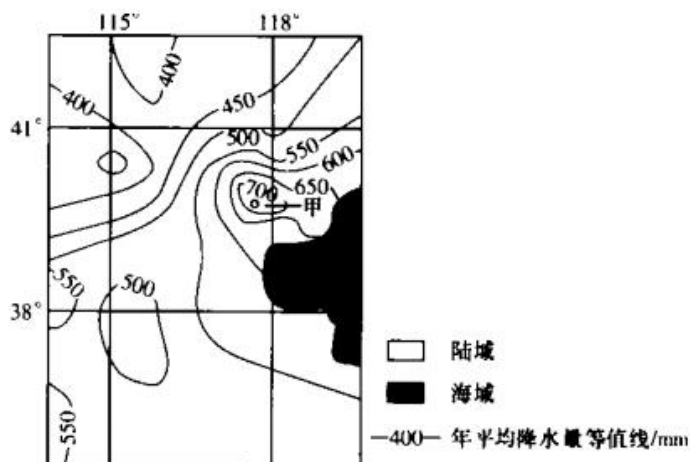
河漫滩防护林, 也称护滩林, 是指在河流两侧河漫滩地带以带状形式营造的具有防护作用的树行的统称。对河岸、堤防等具有一定的保护作用 and 生态意义。下图为河漫滩防护林位置示意图。



说明在河流河漫滩地营造河漫滩防护林的生态效应。

45. (10 分)【地理附加题】阅读图文材料, 完成下列要求。

降水是主要的气候要素之一, 降水空间分布受多种因素影响。下图为我国北方某区域年平均降水量(mm)分布图。



文科综合试题 第13页(共 15 页)

- (1)简述图示区域年平均降水量空间分布特点。(2分)
- (2)图中甲地为多雨中心。分析该地降水较多的主要原因。(2分)
- (3)推测图示区域分布的主要气候类型,并说明理由。(6分)

46. (15分)【历史——选修1:历史上重大改革回眸】阅读下列材料,回答问题。

材料 东汉建立后,光武帝为鼓励在纷乱之时保持高风亮节、特立独行的节义之士,特别予以表扬。此举固无不当,但却造成一种为享大名于天下而刻意隐逸、或以借“道德良好”来达到引人注目、立异名高的目的。于是后来选举、辟召等拔取政治人才的制度,一变而被扭曲为“道德比赛”的工具……再加上东汉末年政治腐败,宦官、外戚交互窃柄,更促使士人激愤,太学“清议”应运而生……至曹操崛起之时,士人大都均与道德告别了,其态度呈现一种两极化的发展:一是由“清议”转为“清谈”,超乎现实,在乱世中依然潇洒优哉游哉,走向清虚空灵之路;另一就是由不齿做一个空言道德、百无一用的废物,而反动为循名责实,只讲求如何强力操作实际政治,明白宣告道德破产。赤壁之战后,刘备占有了荆州和附近诸郡,孙权力量也日益壮大,三国鼎立局面基本形成。曹操要实现统一天下的理想,阻力非常大。于是他在建安十五年(210年),以迫切的心情写了求贤令,号召去发现那些埋没在下层的人才,只要有才能的就举荐出来,希望有更多的“贤人君子”和他一起“共治天下”。

——根据龚鹏程《改变中国历史的文献》整理

- (1)根据材料并结合所学知识,概括曹操“求贤”的特点,并分析这一特点出现的时代背景。(8分)
- (2)根据材料并结合所学知识,评价曹操的“求贤令”。(7分)

47. (15分)【历史:选修3——20世纪的战争与和平】阅读下列材料,回答问题。

材料 真正对二战后欧洲联合进程产生重要影响的应该是二战中的抵抗运动和盟国中出现的联合思想及运动。各国在伦敦的流亡政府都很关心战后欧洲的安排,希望战后的欧洲有别于一战后的欧洲。于是,比利时人与荷兰人之间开始进行关税同盟的谈判。比利时流亡政府的外交大臣保罗亨利·斯巴克希望比利时、荷兰和法国,以及三国的殖民帝国进行经济、政治和军事的联合。而波兰政府总理西科尔斯基和捷克斯洛伐克、挪威、比利时、荷兰、卢森堡、希腊、南斯拉夫以及自由法国的政府都进行了接触,建议在地区性联邦的基础上成立一个安定的自由的欧洲共同体。欧洲人在战争期间进行的欧洲联合的实践活动及

文科综合试题 第14页(共15页)

战后又陆续在军事、外交、经济和政治等方面尝试开展的合作,把欧洲联合运动推向了高潮,并且以建立煤钢共同体为开端,开始了欧洲一体化的漫漫征程。

摘编自姜南《第二次世界大战与欧洲联合运动的兴起》

(1)根据材料和所学知识,概括二战中欧洲各流亡政府为欧洲联合所做的努力。(9分)

(2)根据材料并结合所学知识,说明第二次世界大战对战后欧洲走向联合的推动作用。(6分)

48. (15分)【历史——选修4:中外历史人物评说】阅读下列材料,回答问题。

**材料** 顾准是中国当代经济学家。1956年,顾准在中央党校学习期间,毛泽东的《论十大关系》正在中央党校传达。鉴于苏联农业的严重停滞,顾准写下了《学习毛主席关于十大关系报告的体会》一文,对国家在农产品收购中贯彻等价交换的必要性进行了认真的探讨。实际上,这时他已经注意到在工农产品的交换乃至整个国民经济中遵循价值规律的重要性。他说,为了提高效率,社会主义可以选择的经济体制,应该由企业根据市场价格的自发涨落做出决策,即应当让市场力量在资源配置中起到决定性作用。1957年,顾准完成了长篇论文《试论社会主义制度下的商品生产和价值规律》,鲜明地阐述了上文中的观点。顾准是中国改革理论发展史中提出市场取向改革的第一人。但遗憾的是,他的学术观点在当时被批判,直到后来才为人们理解。

摘编自吴敬琏《当代中国经济改革》等

(1)根据材料概括顾准的经济主张,并结合所学知识指出其形成的时代背景。(8分)

(2)根据材料并结合所学知识,简评顾准经济主张的价值。(7分)



# 湘豫名校联考(2021年1月)

## 地理参考答案

### 一、选择题

1. B 【解析】长城是我国古代的军事防御工程,在我国北方地区的山区多沿山脊而建。读图可知,南、北涧村位于长城脚下,可推测两村均位于山麓地带的河谷沿岸。由两村村名可知,在文字含义上“涧”多是指山间流水的沟或小溪,所以,南、北涧村应位于河谷或小溪沟旁边,故选项 B 正确。
2. C 【解析】读图并结合上题可知,南涧村位于长城南脚下,北涧村位于长城北脚下,长城沿线为山脊,即南涧村位于山脊的南坡,南坡为阳坡,冬季长城及底部的山脊可阻挡来自北方冷空气的侵袭,因此,冬季温暖,光照充足,而北涧村则受冷空气影响,气温较低和寒冷,故选项 C 正确。
3. D 【解析】通常,传统村落多具有良好的自然环境与历史底蕴,越来越多的无污染的手工业企业、大学科研院所、文化影视公司等选择传统村落作为办公场所、写生基地、科研基地、观赏景点等。通过与当地政府、村民达成租用协议,将传统民居重新利用,改造为民俗手工设计坊、艺术家创作室、影视拍摄基地等,故选项 D 正确。
4. B 【解析】集聚是为了加强企业间的信息交流与技术协作、降低成本、获得规模效益。福特汽车流水线技术是导致当时汽车工业集聚的原因。
5. C 【解析】交通发展对汽车需求量大幅度增加。
6. D 【解析】少品种、大规模生产方式不利于战后丰富多样的市场需求。
7. B 【解析】与 25 m 短轨排相比,铺设 500 m 长的钢轨可以使列车运行提速快,稳定性能高;无杂音、嘈音,旅客安全舒适。
8. C 【解析】影响交通线路布局的主导因素是社会经济因素,结合示意图分析在甲处弯曲可以连接更多城镇,这样可以方便更多居民出行。
9. B 【解析】新疆生态环境脆弱,不会因为铁路建设而得到改善;增加了青海入疆的新通道,可以缓解入疆的交通运输压力;有利于减弱地区间经济发展不平衡的局面,但不会从根本上得到消除;完善西部铁路运输网络,方便青藏地区与西北地区的联系。
10. B 【解析】通常,随海拔高度的升高,温度、水分等气候条件变化较大,生物也随之发生强烈的变化。读图可知,该山北坡随海拔的升高落叶物种数变化较小,相对比较平稳,说明落叶物种对气候环境产生了适应性,即对气候环境适应性较强,故选项 B 正确。
11. A 【解析】读图可知,该山北坡在海拔 800 m 附近常绿物种数较少,这可能是该海拔地带地形坡度较陡,常绿物种难以立足生长,因此,此海拔附近常绿物种数较少,故选项 A 正确。

### 二、非选择题

36. (1) 番茄树易栽种,适应性强;(2分)开花结果较早,见效较快;(2分)营养价值高,市场前景广阔;(2分)可出口创汇,增加经济收入等。(2分)
- (2) 纬度较低,热量充足;(2分)地处阳坡地带,光照相对充足;(2分)常年受西风影响,雨水充足;(2分)位于坡地地带,排水良好等。(2分)
- (3) 栽种面积小,总产量较低;(2分)国际市场价格高,出口量较大,(国内供应量很少);(2分)居民喜爱乳肉制品,对酸性水果热情不高,(国内需求量小)等。(2分)

【解析】第(1)问,番茄树种植发展前途广阔的主要原因可从易栽种、见效较快、市场广阔、出口创汇等角度分

地理参考答案一 1



析。第(2)问,新西兰北岛番茄树种植地的优势自然条件主要从热量、光照、降水、排水等方面结合番茄树的生长习性说明。第(3)问,新西兰的各大蔬果超市很难买到番茄树果可从产量小、出口多、饮食爱好等方面说明。

37. (1)黄土塬顶面地势平坦,坡度较小,流水侵蚀作用较弱;(2分)塬顶面纹沟水流流速慢,下渗量大,纹沟水量小;(2分)塬顶面多为耕地,植被覆盖率较高,水土流失较轻;(2分)农户为耕种农作物方便,对曾经已形成的顶面细小冲沟进行多次填土平整,导致冲沟消失等。(2分)

(2)差异:南侧坡面冲沟深度大;(2分)北侧冲沟深度小。(2分)原因:南侧为夏季风的迎风坡,降水量大,坡面径流量大,侵蚀作用强;(2分)北坡为夏季风的背风坡,降水量小,坡面径流量小,侵蚀作用弱。(2分)

(3)赞同。理由是黄土高原地区土质疏松。(2分)降水集中在夏季且多暴雨,(2分)加上不合理的人类活动等原因会使黄土塬顶面和侧面水土流失加剧,冲沟增多;(2分)严重的水土流失会使黄土塬面积缩小、高度降低。(2分)

或不赞同。理由是采取一系列保持水土的措施,如生物措施(植树造林等)、农业措施(改土深耕,反坡梯田等)、工程措施(土地平整等)。(任答两点得4分)加强环境意识宣传,树立人们的水土保持观念。(2分)调整农业结构,对黄土源地区农牧业实行统一整体规划。(2分)黄土塬面积变化甚微。

**【解析】**第(1)问,黄土塬顶面冲沟较少的主要原因应从地形、水文、植被、人类活动等角度分析。第(2)问,黄土塬的坡面冲沟深度空间差异应从地形图上读出黄土塬南侧冲沟深度大于北侧,其气候成因可从南侧降水多于北侧,南侧流水侵蚀强于北侧两方面说明。第(3)问,该地区黄土塬未来的发展变化趋势应从黄土源地区的自然环境和人类活动施加的影响等方面说明理由。

43. 优势:森林覆盖率高,森林面积广,森林旅游资源丰富;森林种类及林下物种多种多样,垂直组合好,游览价值高;植物垂直分布倒置现象,景观独特性(特殊),吸引力强;属于国家级自然保护区,知名度较高;距离珠三角较近,客源充足等。(每点2分,任答3点得6分)

问题:过度开发可能导致生态破坏和生物多样性减少;(2分)发展旅游活动中存在的游客不文明行为(如吸烟、野炊等),可能导致森林火灾和环境污染等。(2分)

**【解析】**西双版纳开发森林旅游的优势可从资源数量、资源价值、客源市场、知名度等方面评价。开发与利用中可能出现的环境问题可从环境问题的表现——环境污染、生态破坏两个方面评价。

44. 树木根系发达,稳固滩地;减缓水流速度,增淤滩地;阻止河水漫堤,保护河堤和农田;增加绿地面积,调节气候;减少地面蒸发,涵养水源;防护林树种高,可以降低风速;吸收污染物,可以净化空气等;有利于维护生态平衡,维护生物多样性。(每点2分,任答5点得10分)

**【解析】**在河流两岸河漫滩地营造河漫滩防护林的生态效益应该从对气候、水、生物等环境要素的影响去分析。

45. (1)北部地区:由东向西逐渐减少;(1分)南部地区:由东向西先减少后增多。(1分)

(2)距离海洋较近,东南季风携带的水汽多;(1分)位于东南季风迎风坡,受地形抬升,多地形雨。(1分)

(3)图示东部和中南部地区为温带季风气候。(1分)图示西北部地区为温带大陆性气候。(1分)图示大部分地区位于 $37^{\circ}\text{N}\sim 42^{\circ}\text{N}$ 之间,应属于温带;(1分)图示东部和中南部地区年平均降水量在400mm以上,应为温带季风气候;(1分)图示西北部地区年平均降水量在400mm以下,应为温带大陆性气候。(2分)

**【解析】**第(1)问,将图示区域分为北部和南部两部分,分别对降水的空间分布特点进行简述。第(2)问,由图和已学区域地理知识可知,甲地位于冀东山地的迎风坡,冀东山地对夏季风的抬升带来丰富的地形雨。该题从季风和地形两方面进行分析。第(3)问,以年平均降水量400mm等值线为界,推测图示区域分布的主要气候类型。从纬度位置和降水量两方面阐释推测的依据。

地理参考答案—2

# 湘豫名校联考(2021年1月)

## 政治参考答案

### 一、选择题

12. C 【解析】根据材料可知,国家发改委、农业农村部的举措目的在于增加市场上猪肉供给。在需求不变的情况下,供给增加,会导致猪肉价格下降。C符合题意。A表示需求减少,供给不变,价格下降。B表示价格下降,供给量减少。D表示价格下降,需求量增加。A、B、D均不符合题意。
13. C 【解析】制定货币政策是央行的职能;促进社会公平、保障人民基本生活是财政的作用。①④错误。
14. B 【解析】财政赤字规模比去年增加1万亿元,同时发行1万亿元抗疫特别国债,这属于积极的财政政策,不是适度宽松的货币政策。②排除;财政赤字增加,在经济下行压力加大的情况下,不一定导致通货膨胀,也不一定导致企业经济效益增加,③排除。
15. D 【解析】①与题干无关;“中国主导服务贸易的进程进一步加快”表述错误,③排除。
16. D 【解析】某地充分利用大数据在基层社会治理中既快又准的特点,构建起全域“闭环式”疫情防控体系,实施平台化指挥、精准化预警、信息化办公、数字化服务,为战胜疫情赢得了时间,争取了主动权。这一做法凸显出社会治理数据化、智能化的重要性,有利于提高基层防控效能,提升治理体系和治理能力的现代化,③④符合题意。在基层社会治理中利用大数据并未涉及完善基层民主制度,①不符合题意。公民基本的民主权利是选举权和被选举权,提升公共服务水平的主体是政府,材料均没有体现,排除②。故本题选D。
17. C 【解析】人民政协是社会主义协商民主的重要渠道和专门协商机构,双周协商座谈会只是政协召开的一个活动,A错误。双周协商座谈会的参与主体是政协委员,而非公民,B错误。十三届全国政协第41次双周协商座谈会上,与会委员积极发表履职意见,这体现了双周协商座谈会有利于政协积极参政议政,发挥对决策的协商建议作用,C符合题意。政协不是国家机关,政协履行的参政议政职能不属于国家职能,D错误。故本题选C。
18. C 【解析】维护国家利益是对外活动的出发点和落脚点,①错误;人类命运共同体理念暂时还不是国际关系的根本准则,④排除。
19. B 【解析】以“梅”比喻人的品格,体现不出中华文化特有的包容性;也体现不出中华民族精神的核心——爱国主义,②③说法不妥。
20. D 【解析】中国特色社会主义理论体系是“主心骨”,故排除①;抗美援朝精神为中华民族伟大复兴提供了强大精神动力,而不是智力支持,故排除②。
21. C 【解析】①题干未体现;“接近终极真理”的说法否认了认识的无限性,也属于形而上学的观点,③观点错误。
22. D 【解析】漫画告诉我们,做事情要具体把握个体不达标的原因,从实际出发,具体分析,也就是一切以时间、地点、条件为转移,主观与客观应达到具体的统一,③④正确。题目与树立全局意识、把握事物内部结构的有序性没有直接关系,①②不符合题意。
23. C 【解析】党中央对民营经济作出了具体部署。这是调整生产关系的发展状况适应生产力,不是上层建筑的调整,③排除;改革不是推动人类社会发展的根本动力,①错误。

政治参考答案—1

官方微信公众号: zizzsw

9830

官方网站: [www.zizzs.com](http://www.zizzs.com)

咨询热线: 010-5601

微信客服: zizzs2018

## 二、非选择题

38. ①深圳坚持和完善公有制为主体、多种所有制经济共同发展的基本经济制度,毫不动摇地鼓励、支持和引导非公有制经济发展,坚持完善按劳分配为主体、多种分配方式并存的分配制度,兼顾效率与公平,促进人民收入增长。(4分)
- ②坚持以人民为中心的发展思想,发挥财政促进公平、改善人民生活的作用,健全公共服务体系,完善社会保障体系,打造现代化经济体系,走共同富裕发展道路。(1分)
- ③坚持完善社会主义市场经济体制,充分发挥市场的决定作用,完善要素市场化配置体制机制,培育统一开放竞争有序的市场体系,激发市场活力,推动创业创新。(3分)
- ④加强科学的宏观调控,正确处理政府与市场的关系,转变政府职能,打造市场化法治化国际化营商环境,创造了举世瞩目的“深圳奇迹”。(3分)
39. ①广大党员干部增强“四个意识”,坚决维护以习近平同志为核心的党中央核心地位,坚决维护党中央权威和集中统一领导。(3分)②不忘初心,坚定理想信念,践行宗旨意识,充分发挥党员先锋模范作用。(3分)③坚持人民群众主体地位,激发人民群众内生力量,把群众观点和群众路线贯彻到决战决胜脱贫攻坚全过程。(3分)④坚持求真务实,培养过硬作风,努力提高脱贫攻坚的精准性和实效性。(3分)
40. (1)①矛盾的普遍性和特殊性相互联结,普遍性寓于特殊性之中,特殊性包含普遍性。(4分)②以爱国主义为核心的中华民族精神是激励中国人民团结奋斗、自强不息的不竭精神动力,彰显于发展中国特色社会主义的事业之中,绽放于抗疫斗争等伟大实践中。(4分)③生命至上、举国同心、舍生忘死、尊重科学、命运与共的伟大抗疫精神,是在中国人民的抗疫斗争中形成的,是中国精神的生动诠释,是对中华民族精神的传承、丰富和发展。(4分)
- (2)①文化是一种精神力量,能够在人的实践中转化为物质力量,对社会发展产生深刻影响。先进的文化促进社会的发展,落后的文化阻碍社会的发展。(4分)②伟大抗疫精神是中国人民在同这场严重疫情的殊死较量中形成的,是对中华民族精神和时代精神的丰富和发展。(3分)③在全社会大力弘扬伟大抗疫精神,有利于激发中国人民不屈不挠、顽强拼搏的斗争精神,奋勇搏击、迎难而上、克服一切艰难险阻,在全面建设社会主义现代化国家、实现中华民族伟大复兴的新征程上创造新的更大奇迹。(3分)
- (3)答案示例:
- ①坚定理想信念,在未来的征程中经历“大考”;②弘扬爱国主义,树立社会主义核心价值观,提高思想道德修养;③提高自身素质,培养家国情怀,励志锻造时代新人,担当民族复兴大任等。(每点2分,任答两点即可,共4分,其他答案契合主题,言之有理即可)



# 湘豫名校联考(2021年1月)

## 历史参考答案

### 一、选择题

24. B 【解析】由“君主对民众施用刑罚”“从爱护他们的根本利益出发的”可知,韩非子认为实行法治是为了从根本上维护民众利益,即认为法治立足于民本,故B项正确。材料虽涉及法治,但并非遏制人性,A项错误;材料并未强调仁政的治国理念,C项错误;材料强调法治与维护民众利益之间的关系,而非强调法治重要性,D项错误。
25. B 【解析】农业生产中,初耕与中耕是重要环节,初耕农具与中耕农具是常用工具,从统计表可知,这类农具所占的比例比较大,这说明当时农业生产注重精耕细作,故B项正确。材料只涉及铁农具种类,没有涉及铁农具使用范围、冶炼产量与技术,因而无法得知广泛使用、冶炼发达,可排除A、C两项。仅凭铁农具种类,无法得知政府对农业的重视,可排除D项。
26. B 【解析】根据材料可知,元朝在“先儒过化之地,名贤经行之所”设立书院,这有利于这些地方儒学为主的传统文化的传承,故答案选B项。“先儒过化之地,名贤经行之所”不能体现宋代教育,因而不能体现元朝继承并发展宋代教育,可排除A项。材料只是体现下令设立书院,而没有涉及如何管理、出资发展书院,因而不能体现对地方教育的控制和支持,可排除C、D两项。
27. B 【解析】由材料中“达到标准的官员给予晋升,达不到标准的就留职或降或罢黜”可知,明代统治者对官僚队伍进行整顿,说明统治者重视优化官僚队伍,B项正确。A、C两项材料无法体现;材料难以说明明朝官吏考核的完善,D项错误。
28. A 【解析】鸦片战争失败后,中华民族危机不断加深,一批又一批有识之士艰辛探索民族复兴之路,提出了各种复兴方案,A项正确。B项与史实不符;林则徐、魏源、曾国藩、李鸿章主张维护封建体制,C项错误;曾国藩、李鸿章等洋务派侧重经济变革,D项错误。
29. D 【解析】由材料可知可以通过贿选议员而当选总统,总统由国会议员选举产生,但是这种代议制民主选举被金钱俘虏,可见民主并未得到真正践行,所以D项正确。曹锟贿选发生于军阀混战时期,但军阀混战材料没有体现,A项错误;国民党当时正在南方继续革命,准备国民革命打倒军阀,曹锟等不是国民党,B项错误;新文化运动未能深刻影响议员们的决断,但不能否定它的社会影响力,C项错误。
30. A 【解析】沦陷区是国民党丢失的区域,解放区是中国共产党领导下的区域,材料说明国民党控制区及人口的减少和共产党控制区及人口的增长,答案选A。材料沦陷区体现的是日军占领区的扩大,不是缩小,B项错误;投降是事实但材料无法体现,C项错误;比重缩小是针对日军控制区扩大相对而言的,在全国比重是绝对值下的扩大,D项错误。
31. B 【解析】由“中间地带”地带的内涵可知,解放战争时期为使中国获得亚非拉等国支持,毛泽东提出这个概念。新中国成立后奉行“一边倒”外交,寻求苏联的帮助;1955年后重提“中间地带”,希望同亚非拉国家或部分西方资本主义国家建交,其出发点是改善新中国的外交环境,故B项正确。“一边倒”外交与1955年后重提“中间地带”无关,A项错误;C项夸大了材料所述变化的影响;重提“中间地带”与“求同存异”方针无关,D项错误。
32. D 【解析】平民因为债务而沦为奴隶,而被拘押,现在将经济和人身问题分开,有利于维护平民的权益,保障他们的自由,答案选D。材料所给时间离罗马帝国还相距300多年,A项错误;法律针对的是平民,而不是广大奴隶,B项错误;罗马还有其他的法律规范债务问题,所以C项错误。
33. C 【解析】材料反映出新航路开辟后新旧大陆之间的物种、商业交流频繁,世界市场对黄金的需求增加。出现这种现象的根源应在于西欧商品经济和资本主义萌芽的发展,对黄金和市场的渴求,故C项正确。A项是对材料的变相重复,而非根源;B项表述不严谨,当时以西欧为中心的世界市场雏形出现;D项是原因之一而非根源。
34. A 【解析】根据材料中“使用《圣经》创世的字眼来取悦公众舆论”可知,神学创世说拥有广大受众,这对生物学的研究来说仍是障碍,A项正确。进化论突破了神学,排除B项;材料中“使用《圣经》创世的字眼”不能表明达尔文宗教信仰的坚定,排除C项;D项材料不能体现。

历史参考答案一 1

官方微信公众号: zizzsw

9830

官方网站: [www.zizzs.com](http://www.zizzs.com)

咨询热线: 010-5601

微信客服: zizzs2018

35. B 【解析】1973年,第四次中东战争爆发,欧佩克组织为打击以色列及其支持国家,实行石油禁运,油价从3元上升到13元,这次石油危机引发了西方的经济危机,终结了战后西方经济持续发展的局面,从而进入到“滞胀”阶段,抓拍的马拉汽车场景是现实的反映,所以答案选择B。冷战德国分裂,彼此对峙,而非团结奋进,A项错误;多极化体现的是两极格局之外力量的崛起,照片没有这样的格局,“出现”一词也不当,C项错误;奔驰宝马是中国的翻译,德国两公司的名词本意与之无关,所以D项错误。

## 二、非选择题

41. (1)同:(3分)

对本国工商业实行政策调整;  
限制外国商品的进口;  
一些商业势力和国家权力及政策关系密切。

异(8分):

英:①重商主义;②工业革命开始后逐渐转向自由贸易。(每点2分)

中:①抑制工商;②闭关锁国,仅留一口通商。(每点2分)

(2)积极:

- ①重本抑末符合清王朝加强中央集权、巩固统治的需要;
- ②重本抑末有利于传统农业的持续发展;
- ③给予工商业一定发展空间有利于商品经济的繁荣发展;
- ④闭关锁国政策起到了一定的民族自卫作用。(每点2分,共8分)

消极:

- ①抑制工商、闭关锁国不利于资本原始积累,阻碍了资本主义萌芽的成长,阻碍了生产力的进步;
- ②闭关锁国限制了中国与西方的经济文化交流,使中国长期与世界隔绝;
- ③抑制工商、闭关锁国是中国落后于世界发展潮流的重要原因。(每点2分,共6分)

42. 示例

论题:儒学的演变迎合了封建专制统治加强的需求。(3分)

阐述:中国古代封建统治者追求家国一体、高度集权、秩序稳定,儒学的发展演变迎合了统治者的需求。汉武帝时期,董仲舒吸收法、道、阴阳五行家的观点对传统儒学进行改造,形成了新的儒学体系,迎合了汉武帝实现大一统的需要,故而成为封建正统思想。魏晋至隋唐时期佛道兴盛,为巩固儒学地位,隋朝儒学家提出“三教合一”,主张以儒学为主,调和并吸收佛教、道教的理论。五代十国时期封建伦理遭到破坏,宋代为重塑伦理纲常,维护专制秩序,儒学家展开复兴儒学活动,融合佛道思想来解释儒家义理,将儒学发展至以“天理”为核心的理学阶段,备受统治者推崇。由此可知,儒学内容因封建专制统治的需要而不断调整,封建专制的强化推动了儒学体系的不断完善。(9分)

参考论题:儒家思想家国同构、家国情怀、儒学核心内容及其作用等。

46. (1)特点:唯才是举。(2分)

背景:三国鼎立局面基本形成,曹操希望统一天下,渴求人才;东汉以来选官制的积弊;东汉以来士风虚矫,士人空谈道德,缺乏实事求是的精神。(6分)

(2)评价:“求贤令”唯才是举,改变了两汉以来的察举制度,一定程度上可减少宗派现象的产生及地方集团的形成;有利于打击士族门阀力量,广罗人才,为后来曹魏政权的建立创造条件;唯才是举也可为后世人才选拔制度提供借鉴。(4分)

但唯才是举忽略了“人才”品德,可能造成道德败坏之人掌权,影响政权和社会发展。(3分)

47. (1)参加国际反法西斯联盟,开展抵抗运动;反思战争,关注二战后欧洲的命运;开展多种形式的联合尝试。(9分)

(2)促使欧洲人对民族国家和战争进行反思;催生欧洲联合的思想和理论。(6分)

48. (1)主张:社会主义经济应当重视市场机制的作用。(2分)

背景:苏联模式的弊端暴露;《论十大关系》的发表;“双百”方针的提出;中共八大的召开。(6分,每点2分,答对三点即可)

(2)反思了计划经济体制的弊端;符合经济发展的客观规律;为新时期的改革提供了借鉴。(两点5分,三点7分,共7分)

## 关于我们

**自主选拔在线**（原自主招生在线）创办于 2014 年，历史可追溯至 2008 年，隶属北京太星网络科技有限公司，是专注于**中国拔尖人才培养**的升学咨询在线服务平台。主营业务涵盖：新高考、学科竞赛、强基计划、综合评价、三位一体、高中生涯规划、志愿填报等。

自主选拔在线旗下拥有网站门户、微信公众平台等全媒体矩阵生态平台。平台活跃用户达百万量级，网站年度流量超 1 亿量级。用户群体涵盖全国 31 省市，全国超 95% 以上的重点中学老师、家长及考生，更有许多重点高校招办老师关注，行业影响力首屈一指。

自主选拔在线平台一直秉承 “专业、专注、有态度” 的创办公念，不断探索 “K12 教育+互联网+大数据” 的运营模式，尝试基于大数据理论为广大中学和家长提供中学拔尖人才培养咨询服务，为广大高校、中学和教研单位提供 “衔接和桥梁纽带” 作用。

平台自创办以来，为众多重点大学发现和推荐优秀生源，和全国数百所重点中学达成深度战略合作，累计举办线上线下升学公益讲座千余场，直接或间接帮助数百万考生顺利通过强基计划（自主招生）、综合评价和高考，进入理想大学，在家长、考生、中学和社会各界具有广泛的口碑影响力，2019 年荣获央广网 “年度口碑影响力在线教育品牌”。

未来，自主选拔在线将立足于全国新高考改革，全面整合高校、中学及教育机构等资源，依托在线教育模式，致力于打造更加全面、专业的**新高考拔尖人才培养**服务平台。



 微信搜一搜

 自主选拔在线