

## 齐鲁名校大联考

### 2023届山东省高三第三次学业质量联合检测

#### 历史

本试卷总分100分。考试时间90分钟。

注意事项：

1. 答卷前，考生务必将自己的姓名、准考证号填写在答题卡上。
2. 回答选择题时，选出每小题答案后，用铅笔把答题卡上对应题目的答案标号涂黑。如需改动，用橡皮擦干净后，再选涂其他答案标号。回答非选择题时，将答案写在答题卡上。写在本试卷上无效。
3. 考试结束后，将本试卷和答题卡一并交回。

一、选择题：本题共15小题，每小题3分，共45分。每小题只有一个选项符合题目要求。

1. 孔子重视礼，主张“君子博学于文，约之以礼，亦可以弗畔矣夫”；庄子认为“礼者，道之华而乱之首也”。两者对礼的认识反映了
  - A. 阶级立场的不同
  - B. 统治阶级的要求
  - C. 思想主张的趋同
  - D. 目的上的相通性
2. “养老图”画像砖极具地域性，图1、图2为汉代养老画像砖拓片。据此可知，汉代



图1 四川太平乡出土养老画像砖



图2 四川新民乡出土养老画像砖

- A. 普遍重视社会保障问题
  - B. 宣传教化成为维护统治的主要方式
  - C. 加强对蜀地的社会管理
  - D. 养老开始成为四川画像的重要题材
3. 东晋时设有检校御史，属于拥有实权的常设正官。但隋朝及唐前期，在正式官职前加“检校”二字使其成为代理官的现象十分普遍；唐中期后，“检校官”逐渐成为虚衔和加官。到宋代形成了检校太师、太尉、太傅、太保、司徒、司空至国子祭酒，水部员外郎的七阶体系。检校官制度的变化
    - A. 体现了重文轻武治国策略
    - B. 有利于提高行政效率
    - C. 折射出集权政治发展趋势
    - D. 推动官僚体制的完善
  4. 黄宗羲认为：“二帝（尧、舜）、三王（夏、商、周三代之君）知天下之不可无养也，为之授田以耕之；知天下之不可无衣也，为之授地以桑麻之；知天下之不可无教也，为之学校以兴之……此三代以上之法也，而未尝为一己而立也。”黄宗羲这一观点

- A. 反映当时人地矛盾突出  
C. 具有浓厚的封建保守性

- B. 渗透着儒家民本主义观念  
D. 有利于维护君主专制统治

5. 图3为近代中国某一历史现象的变化轨迹（图中“数目”为社会关注度）。下列描述符合这一现象的是




图3

- A. 洋务运动中先后出现创办军用和民用工业的热潮  
B. 晚清政府通过开展自救运动应对社会思潮的冲击  
C. 列强经济侵华主要方式由商品输出转为资本输出  
D. 民族工业因政府的优惠政策而得到了迅速地发展

6. 1919年的五四运动，5月份在北京表现为学生运动，6月份在上海则表现为市民运动，工人、商人都被卷入其中。“三罢”之中，罢课影响固然不小，但罢工、罢市作用更大。上海首先出现“三罢”斗争的根源是

- A. 工业文明冲击下社会结构的变迁  
B. 北洋政府统治激化了社会矛盾  
C. 外交失败增强了国人的主权意识  
D. 新文化运动起源地的宣传效应

7. 1924年，孙中山在《国民政府建国大纲》中指出：“《训政是）一完全自治之县，其国民有直接选举官员之权，有直接罢免官员之权。”1928年，蒋介石在《训政纲领》中提到：“在训政时期，由中国国民党全国代表大会代表国民大会领导国民行使政权……治权之行政、立法、司法、考试和监察五权，由国民党政府总揽执行。”这表明

- A. 国民党发展了美国三权分立的理论  
B. 蒋介石践行了孙中山的“训政”理念  
C. 当时中国尚不具备基层自治的条件  
D. “训政”沦为国民党专制独裁的工具

8. 1942年1月，《中共中央关于抗日根据地土地政策的决定》规定：“抗日的经费除赤贫者外，一切阶级的人民均须按照累进的原则向政府交纳，不得畸轻畸重，不得抗拒不交。”这一规定

- A. 有利于限制封建剥削进而减轻农民负担  
B. 为根据地度过困难时期奠定了物质基础  
C. 表明中共已放弃了没收地主土地的政策  
D. 促进了抗日民族统一战线的巩固与发展

9. 表1为部分年份中国第一、二产业的产出和就业的结构变化。据此可知，中国

表1

年份	产业增加值占GDP比重(%)		产业就业占国民经济总就业比重(%)	
	第一产业	第二产业	第一产业	第二产业
1952年	50.5	20.9	83.5	7.4
1957年	40.3	29.7	81.2	9.0
1978年	28.1	48.2	70.5	17.3
2000年	15.9	50.9	50.0	22.5
2010年	10.2	46.8	36.7	28.7
2019年	7.1	38.6	25.1	27.5

- A. 学习苏联优先发展重工业  
B. 产业结构调整走在世界前列  
C. 积极探索新型现代化道路  
D. 经济体制改革取得巨大成就

10. 表2为《汉谟拉比法典》部分内容摘要。这些规定表明古巴比伦王国

表2

条款	内容
第192条	如果宫廷侍者或宫廷侍女的孩子对他的养父、养母说：“你不是我父亲，你不是我母亲。”那么应割掉他的舌头
第195条	如果儿子打了他的父亲，应割掉他的手
第226条	如果理发师未经奴隶主人许可而剃去不属他的奴隶的奴隶标识，则应砍掉此理发师的手

- A. 注重维护社会公序良俗  
B. 保障民众利益实现阶级调和  
C. 利用同态复仇打击侵权  
D. 立法思想中蕴含着契约精神

11. 在德里苏丹国统治印度时期，田赋的征税对象为拥有土地的农民。农民进城出售农产品，换取货币，以现金缴纳赋税。苏丹沙姆斯丁·伊勒图特米什发行标准货币银坦卡，结果整个次大陆卷入货币交换关系之中。这说明德里苏丹国的赋税体制

- A. 发挥了调节物价的功能  
B. 减轻了对农民的封建剥削  
C. 促进了区域市场的发展  
D. 有利于维护社会长期稳定

12. 17世纪早期，伽利略已经发现炮弹在空中沿抛物线运行，但炮弹以一定速度射出膛后，究竟能射多远仍是谜。17世纪后期，牛顿对物体运动进行了细致研究，并最终发现了运动三大定律。据此可知，牛顿的科学研究

- A. 体现出理论发展具有连续性  
B. 促进了近代自然科学的兴起  
C. 成为决定战争胜负关键因素  
D. 改变了力学研究的传统观念

13. 在1919年的巴黎和会上，美国代表主张根据1916年海军拨款法案扩建海军实力，以达到美英海军力量均等的目的。英国代表则提出美国减少3艘战列舰，使英美比例为33:20，在驱逐舰上是13:6。美国海军

力量只能是英国的660%，英国应保持其海军力量相当于美国和法国之和。这表明当时

- A. 美英两国军备竞赛升级  
B. 英美综合实力趋于平衡  
C. 《非战公约》遭到了破坏  
D. 美英角逐海上霸主地位

14. 图4为1968年美国人创作的一幅时政漫画。图中山姆大叔双手高举枪支在“亚洲”泥沼中艰难前行，山姆大叔即将被淹没，周围一片荒凉。该作品

- A. 说明美国战略重心已经东移  
B. 表达了对美国越战政策的质疑  
C. 表明美国霸主地位受到挑战  
D. 意在反思朝鲜战争失败的教训



图4

15. 图5为1995—2013年全球及不同经济体国外直接投资流入量（单位：10亿美元）。据此可知

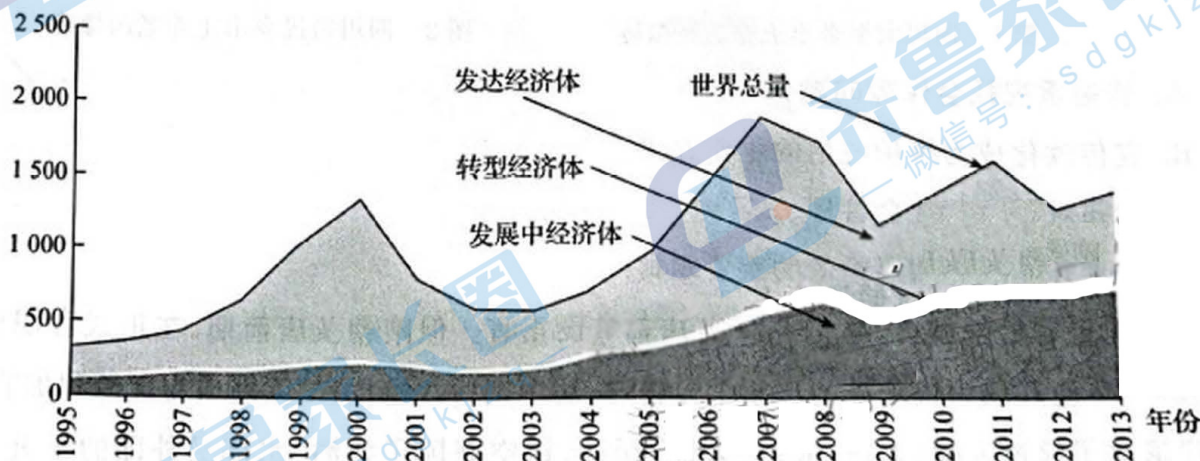


图5

- A. 世界经济发展规模大大缩小  
B. 经济全球化在曲折中不断发展  
C. 发达经济体的投资环境恶化  
D. 转型经济体国家实力显著增长

二、非选择题：本题共4题，共55分。

16. (14分) 阅读材料，回答问题。

### 都城的变迁

材料一

自西周以来，许多王朝在西安建都。为了都城的营建及其他相关土木工程建设，关中及其周边山地的原始森林遭到大量砍伐。隋朝建都时，生态破坏导致农田面积缩小，粮食单位产量和总产量下降，农业经济发展停滞甚至衰退，关中“天府之国”的优势丧失。随着都城人口的增长，关中农业发展不足的问题凸显，长安难以依靠关中达到自给自足，隋唐时期的漕运和交通开发就成为极为迫切的问题。

—摘编自霍斌《史说长安·隋唐卷》

材料二

唐朝的政治文化中心一直在长安与洛阳之间来回游移。这种政治文化中心的游移不定，

使朱温灭掉唐朝，彻底迁都洛阳并开启五代而结束。此后，洛阳开始成为国家政治文化中心。唐朝后的五代政权，有三个政权（后梁、后唐、后晋）也曾定都洛阳，两个政权（后汉、后周）定都汴京（开封），开封又一次进入历史视线，后来的北宋就定都汴京（开封），而南宋政权又把都城移至临安（杭州）。

—摘编自王宁宁等《从隋唐大运河看古代政治文化中心东移与乐舞形态格局嬗变》

材料三

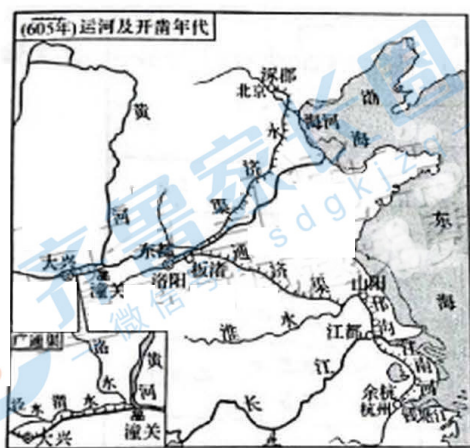


图6 隋朝大运河

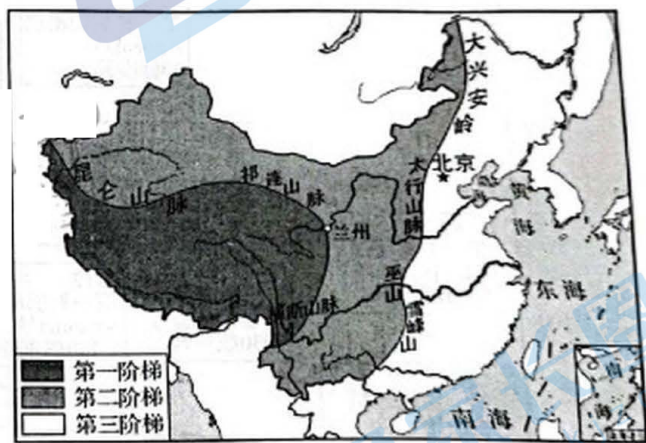


图7 我国地势三级阶梯示意图

根据材料并结合所学知识，谈谈你对隋至南宋时期都城变迁趋势的认识。（14分）

17.（12分）阅读材料，回答问题。

### 中国近代思想的变迁

材料

梁启超将中国近代思想的演变划分为三个时期：第一期，先从器物上感觉不足。时间是从鸦片战争后渐渐发动，到同治年间借了外国兵来平内乱，一直到甲午中日战争。其主要表现是自强运动。第二期，是从制度上感觉不足。时间是从甲午中日战争起到民国六、七年止。这一时期思想的变动是因为甲午中日战争的失败而引起的刺激，而有戊戌变法等寻求制度的变革……所以拿变法维新做一面大旗，在社会上开始运动，那急先锋就是康有为、梁启超一班人。第三期，便是从文化上感觉不足。这一时期是在第二期的基础上发展而来，同时也是对第二期“政治界虽变迁很大，思想界只能算同一个色彩”的推进。

梁启超认为中国近代思想表现出“剧变”的特征，在梁启超看来，中国近代思想处于急剧的变动之中，而且“确为从前四千余年所未尝梦见”。梁启超同时认为，中国近代思想的变迁还具有“新陈代谢”的特征，其表现是：第一期，如郭嵩焘、张之洞等辈，算是很新很新的怪物。到第二期时，张之洞在第二期前半，依然算是提倡风气的十个人，到了后半，居然成了老朽思想的代表了。在第二期，康有为、章炳麟、严复等辈，都是新思想界勇士，立在排头最前的一排。到第三期时，许多新青年跑上前线，这些人一趟一趟被挤落后，甚至已经全然退伍了。

—摘编自吴汉全《梁启超与中国近代史研究》

根据材料并结合所学知识，就材料整体或其中任意一点拟定一个论题，并予以阐述。（12分）（要求：

论题明确，持论有据，论述充分，表述清晰。)

18. (14分) 阅读材料，回答问题。

### 中国的现代化

#### 材料一

真正意义上的中国现代化建设始于中华人民共和国成立之后，但其源头却可以追溯到半殖民地半封建社会时期的“近代化”（早期现代化）。以资本主义方式实现工业化、民主化，是中国近代化的核心内涵。但由于旧中国半殖民地半封建的社会性质，帝国主义和封建势力的干扰，这两个目标都未能实现。

中华人民共和国成立后，中国的现代化进程开始步入社会主义现代化阶段。自此中国充分发挥制度优势，以举国之力推进现代化；坚持以经济发展为中心，以改革推进现代化；注重各方面平衡，坚持协调发展；坚持对外开放，融入国际发展潮流。在此基础上，中国式现代化走出了一条既发展自身、又造福世界的现代化之路。

#### 材料二

表3 “中国式的现代化” 演进历程

时间	表现
1954年	第一届全国人民代表大会宣告要“建设起强大的现代化的工业、现代化的农业、现代化的交通运输业和现代化的国防”
1956年	中共八大将上述四个现代化任务写入党章
1957年	毛泽东首次提出了工业、农业、科学文化、国防四个现代化的内容
1964年	周恩来宣布，我国今后的战略目标“是要在不太长的历史时期内，把我国建设成为一个具有现代农业、现代工业、现代国防和现代科学技术的社会主义强国，赶上和超过世界先进水平”。至此，“四个现代化”概念正式成型
1979年	邓小平指出：“我们定的目标是在本世纪末实现四个现代化。我们的概念与西方不同，我姑且用个新说法，叫做中国式的四个现代化。”
1982年	邓小平指出，“我们的现代化建设，必须从中国的实际出发”，必须“把马克思主义的普遍真理同我国的具体实际结合起来，走自己的道路，建设有中国特色的社会主义”。由此，中国特色社会主义和中国式现代化成为时代的命题
2020年	中国国内生产总值达到101.6万亿元人民币，是1978年的276倍，人均国内生产总值是1978年的187倍

以上材料均摘编自马敏《中国式现代化新道路的历史演进及前瞻》

(1) 根据材料一并结合所学知识，指出中华人民共和国成立前后“中国现代化”的本质区别，从中国的现代化历程中你能得出哪些认识？(8分)

(2) 采用一个新的时间尺度，对材料二中的“中国式的现代化”演进历程进行阶段划分，

19. (15分) 阅读材料, 回答问题。

材料

1860—1995年世界商船运输的变化

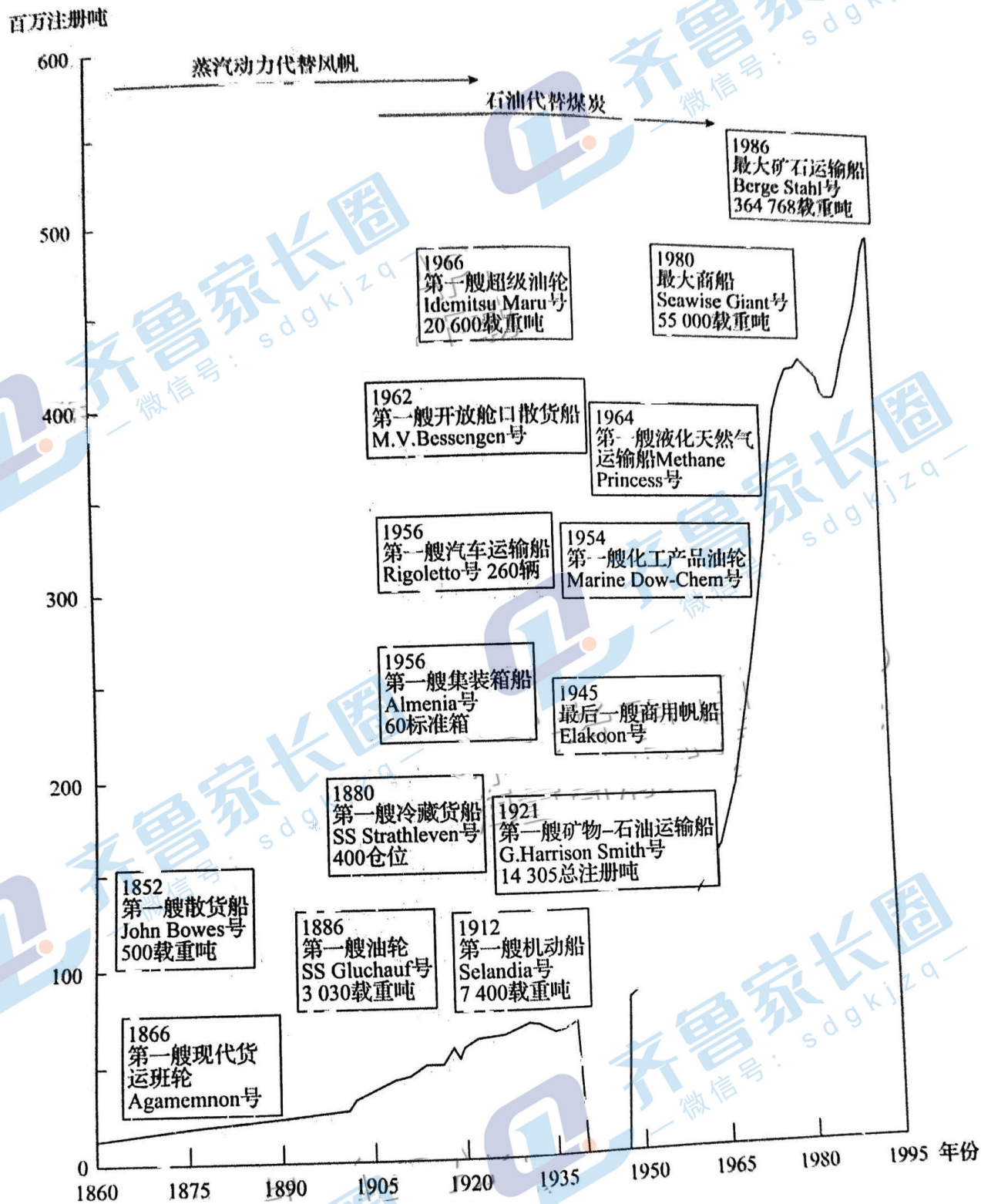


图8

——[德]库钦斯基《资本主义世界经济史研究》

- (1) 根据材料并结合所学知识, 概括世界商船发展的特点。(8分)
- (2) 根据材料并结合所学知识, 简析世界商船变化的影响。(7分)