



2020~2021 学年高三 2 月质量检测巩固卷

文科综合

考生注意:

1. 本试卷分选择题和非选择题两部分。满分 300 分,考试时间 150 分钟。
2. 答题前,考生务必用直径 0.5 毫米黑色墨水签字笔将密封线内项目填写清楚。
3. 考生作答时,请将答案答在答题卡上。选择题每小题选出答案后,用 2B 铅笔把答题卡上对应题目的答案标号涂黑;非选择题请用直径 0.5 毫米黑色墨水签字笔在答题卡上各题的答题区域内作答,超出答题区域书写的答案无效,在试题卷、草稿纸上作答无效。
4. 本试卷主要命题范围:高考范围。

一、选择题:本题共 35 小题,每小题 4 分,共 140 分。在每小题给出的四个选项中,只有一项是符合题目要求的。

改革开放以来,我国农村人口大规模地向城市流动,导致农村“人口空心化”现象严重,成为我国人口问题之一。下表示意 2010~2019 年农民工变化统计(单位:万人)。据此完成 1~2 题。

年份	2010	2011	2012	2013	2014	2015	2016	2017	2018	2019
农民工总量	24 233	25 278	26 261	26 894	27 395	27 747	28 171	28 652	28 836	29 077
外出农民工	15 335	15 863	16 336	16 610	16 821	16 844	16 934	17 185	17 266	17 425
外出农民工增长	802	528	473	274	211	63	50	231	31	159

1. 统计数据表明,十年来
 - A. 农民工的收入大幅提升
 - B. 农民工出行距离在不断扩大
 - C. 地区间经济差距在缩小
 - D. 农村“人口空心化”波动减小
2. 农村“人口空心化”对农业生产的直接影响是
 - A. 机械化提升
 - B. 生产收益降低
 - C. 商品率下降
 - D. 复种指数提高

2019 年 5 月 31 日,北京首条“自行车高速”——北京市上地—回龙观自行车专用路建成通车,该“自行车高速”设置了潮汐车道(0~12 时:回龙观→上地,12~24 时:上地→回龙观)。骑自行车走这条车道比乘坐地铁快很多,上班族不用再担心上班迟到。下图示意“自行车高速”线路。据此完成 3~5 题。

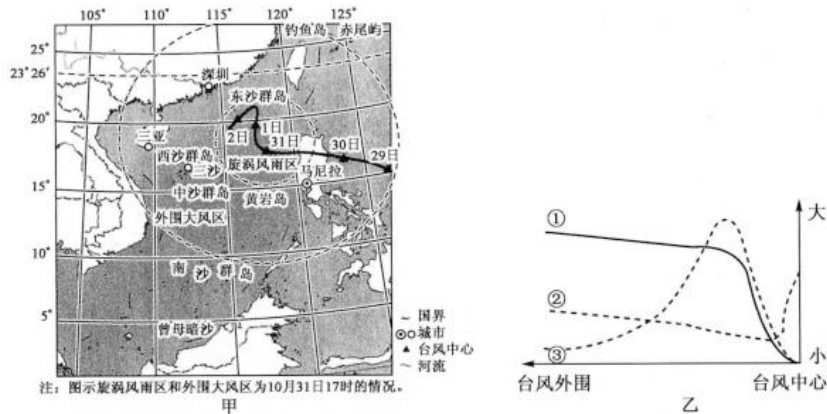


【高三 2 月质量检测巩固卷·文综 第 1 页(共 12 页)】



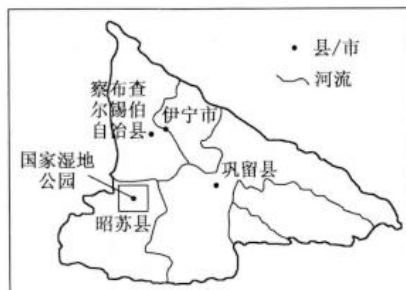
3. 北京在上地与回龙观之间建设首条“自行车高速”,是因为两地之间
A. 地势起伏大 B. 环境差异大 C. 功能差异大 D. 地价差异大
4. 北京建设“自行车高速”的首要目的是
A. 改善基础设施,带动沿线发展 B. 减轻公交压力,节约交通时间
C. 鼓励绿色出行,保护大气环境 D. 增加休闲空间,提高生活质量
5. 在“自行车高速”与京藏高速的交会路段设置了约2米高的挡板,其主要作用是
A. 降低风速 B. 减弱噪声 C. 阻挡灰尘 D. 防止炫目

“玉兔”是2018年全球强度最大的台风,于10月30日4时40分前后在菲律宾吕宋岛东北部沿海登陆,登陆时中心附近最大风力达15级。此后,“玉兔”继续向偏西方向移动,进入南海后强度快速减弱。下面甲图示意台风“玉兔”的移动路径(10月29日~11月2日,每日北京时间17时的位置),乙图示意台风“玉兔”中心附近各气象要素的空间分布。据此完成6~8题。



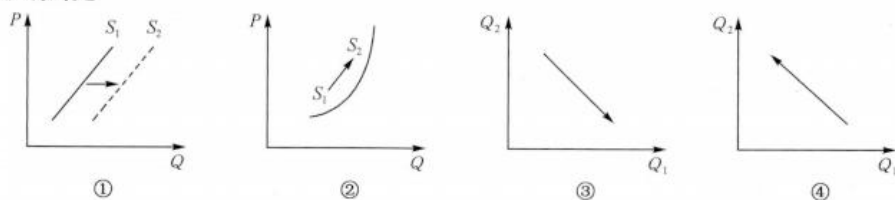
6. 台风“玉兔”进入南海后变化迅速,主要的影响因素有
①地形 ②东北季风 ③洋流 ④水温
A. ①② B. ①③ C. ②④ D. ③④
7. 乙图中①②③分别代表
A. 气压、气温、风速 B. 气压、风速、气温
C. 风速、气温、气压 D. 气温、气压、风速
8. 10月31日傍晚,某摄影爱好者在某地拍摄到了壮丽的晚霞以及向西南方向飘动的旗帜。该摄影爱好者可能位于
A. 马尼拉 B. 东沙群岛 C. 三亚 D. 深圳

伊犁河谷位于新疆维吾尔自治区西北角,三面环山,河谷内有多处国家级湿地公园,生物极为丰富。下图示意伊犁河谷内某国家湿地公园的位置,该湿地公园内有极少被水淹的雀稗湿地、季节性被水淹的拂子茅湿地及常年被水淹的芦苇湿地,三种湿地中,芦苇湿地的有机质含量最低。据此完成9~11题。





9. 与拂子茅相比,雀稗更
- A. 耐盐碱
B. 耐强湿
C. 耐低温
D. 耐高温
10. 该湿地公园内形成三种不同类型湿地的主要原因是
- A. 岩性差异
B. 气候差异
C. 地势差异
D. 规划设计
11. 三种湿地中芦苇湿地的有机质含量最低,最可能的原因是该湿地
- A. 有机质生产少
B. 有机质分解快
C. 植物吸收量大
D. 微生物分解慢
12. 2019年,黑龙江省调整大豆补贴,大豆生产者补贴每亩高于玉米生产者补贴200元以上,大豆生产者补贴每亩300元左右。不考虑其他因素,下图(P 为大豆价格, Q 为大豆数量, S_1 和 S_2 分别为调整前和调整后的供给曲线; Q_1 为调整后玉米种植面积, Q_2 为调整后大豆种植面积)正确反映上述调整带来的影响的是



- A. ①③
B. ②③
C. ①④
D. ②④
13. 2019年12月9日,国家石油天然气管网集团有限公司挂牌成立。该公司列入国资委监管的中央企业系列,国资委、中石油、中石化和中海油持股比例分别为40%、30%、20%、10%。企业规模庞大,具有在全国范围内统筹调配、输送和存储油气资源的核心能力。该公司的成立有利于
- ①提高油气资源配置效率 ②确立公有制的主体地位 ③拓宽国有资本支配范围 ④促进油气行业高质量发展
- A. ①③
B. ①④
C. ②③
D. ②④
14. 2019年一号文件《中共中央、国务院关于坚持农业农村优先发展做好“三农”工作的若干意见》提出,深入推进农村集体产权制度改革。总结推广资源变资产、资金变股金、农民变股东经验。完善农村集体产权权能,积极探索集体资产股权质押贷款办法。健全农村产权流转交易市场,推动农村各类产权流转交易公开规范运行。上述举措可以
- ①增加农民的财产性收入 ②巩固农民对土地的所有权 ③进一步激活农村生产要素 ④优化城乡居民的消费结构
- A. ①②
B. ①③
C. ②④
D. ③④
15. 2019年12月2日,国务院召开全国“证照分离”改革全覆盖试点工作培训动员部署电视电话会议。会议明确,自2019年12月1日起,上海、广东等自由贸易试验区对所有涉企经营许可事项实行清单管理,率先开展“证照分离”改革全覆盖试点,按照直接取消审批、审批改为备案、实行告知承诺、优化审批服务等四种方式分类推进“证照分离”改革。这有利于
- ①优化营商环境,激发市场活力 ②筑牢现代化经济体系的坚实基础 ③更好地推动我国经济高质量发展 ④有效地弥补市场调节的各种弊端
- A. ①②
B. ①③
C. ②④
D. ③④
16. 2019年12月10日至11日,“2019·南南人权论坛”在北京举行,论坛以“文明多样性与世界人权事业的发展”为主题。中国中宣部部长出席论坛并发表讲话指出,尊重和保障人权,是中国共产党和中国政府的一贯追求,中国坚持以发展促人权,不断增进全体人民的幸福感、获得感、安全感。这一论断是基于
- ①我国积极与他国合作坚定维护本国公民的合法权益 ②尊重和保障人权是发展社会主义民主政治



的内在要求 ③我国公民在平等地享有权利的同时,平等地履行义务 ④中国共产党始终把人民的利益摆在至高无上的地位

- A. ①③ B. ①④ C. ②③ D. ②④

17. 2019年11月14日至15日,国务院总理李克强在景德镇、南昌考察时要求各有关方面尽最大可能尽快降低旱情损失,保障好群众生产生活用水,稳定粮食生产,保障种粮农民合理收益,确保近14亿中国人端牢自己的饭碗。这需要我国各级政府

- ①树立服务意识,提高服务水平和办事效率 ②提高社会公共服务的能力,满足人们各种需求 ③坚持为人民服务,深入参与群众的生产和经营 ④坚持对人民负责,积极履行经济建设和社会建设职能

- A. ①② B. ①④ C. ②③ D. ③④

18. 由国务院新闻办公室组织的中国新疆文化交流团2019年10月6日至8日访问法国,与法国穆斯林委员会和法国学者进行交流,向法方详细介绍了中国宗教信仰自由政策。下列对我国宗教信仰自由政策的描述正确的是

- A. 我国支持、鼓励少数民族地区群众信仰宗教
B. 我国严厉禁止汉族聚居地区群众信仰宗教
C. 我国必须保证宗教要与社会主义相适应
D. 我国公民有信仰或不信仰宗教的自由

19. 习近平总书记高度重视家风,提出:“家风是社会风气的重要组成部分,家庭不只是人们身体的住处,更是人们心灵的归宿。”好家风如化雨春风,滋润着人的心灵、培养着人的美德,护着家,护着国。材料说明

- ①文化对人的影响来自特定的文化环境 ②良好家风能够促进社会文明程度的提升 ③家庭的成长和社会发展是亦步亦趋的 ④良好家风对人健康成长的影响是有形的

- A. ①② B. ②④ C. ③④ D. ①③

20. 2019年11月2日,国家主席习近平致信祝贺甲骨发现和研究120周年。他指出,殷墟甲骨文的重大发现在中华文明乃至人类文明发展史上具有划时代的意义,新形势下,要确保甲骨文等古文字研究有人做、有传承。传承甲骨文等古文字研究

- ①是基于汉字作为人类进入文明时代的标志的唯一性 ②可以集中展示民族文化,集中表达民族情感 ③有助于传承中华优秀传统文化,坚定文化自信 ④可以采用先进的科学技术,推动研究实现新突破

- A. ①② B. ①④ C. ②③ D. ③④

21. 中国特色社会主义进入新时代,对公民道德建设提出了新的更高要求。一些地方、一些领域道德失范现象依然不同程度地存在,为此,2019年10月,中共中央、国务院印发《新时代公民道德建设实施纲要》,明确了新时代公民道德建设的任务要求。《纲要》的出台表明

- ①对新时代公民道德建设的认识越来越深化 ②实践是认识发展的动力,认识产生于实践的需要 ③道德对实践的指导可以超越客观规律制约 ④认识的发展是用新认识代替已有认识的过程

- A. ①② B. ①③ C. ②④ D. ③④

22. 漫画《断线风筝》告诉我们

- ①要用全面的观点看问题
②联系具有条件性和多样性
③矛盾是普遍性与特殊性的统一
④事物发展是前进性与曲折性的统一

- A. ①②
B. ①④
C. ②③
D. ③④



挣断身上的枷锁,争取到的可不一定是自由



23. 垃圾泛滥成灾,文明悲痛欲绝。8年前,北京市人大常委会制定了《北京市生活垃圾管理条例》,这是全国第一部生活垃圾管理方面的地方性法规。2019年10月,《北京市生活垃圾管理条例》修订草案拟提请市人大常委会一审。下列对北京修改《条例》的分析正确的有
- ①进入新时代,对生活垃圾进行管理需要坚持哲学的引领 ②社会意识具有反作用,修改条例才能消除乱放垃圾的现象 ③社会存在决定社会意识,新情况的出现是修改条例的原因 ④修改条例是为了适应经济基础状况,更好地促进经济绿色发展
- A. ①② B. ①③
C. ②④ D. ③④
24. 夏、商、周时期,“君子”泛指以天子为代表的贵族阶层;后来“君子”渐趋于指统治阶级中有“德”的统治者;到春秋时期,孔子将“君子”作为品评人物德行的标尺。“君子”内涵的变化可以反映
- A. 普通民众社会地位的提高 B. 统治者注意加强自身修养
C. 奴隶主贵族政治受到冲击 D. 儒家思想在西周时已萌芽
25. 据《汉书》记载,昭帝时举贤良文学,增博士弟子员满百人,宣帝末增倍之。元帝好儒,能通一经者皆复(免除赋税)。数年,以用度不足,更为设员千人,郡国置《五经》百石卒史。成帝末,或言孔子布衣养徒三千人,今天子太学弟子少,于是增弟子员三千人。据此可知,这一时期
- A. 儒学得到官方政策扶持 B. 儒家思想开始处于独尊地位
C. 察举制度逐渐走向没落 D. 中央太学体制发生重大变化
26. 两浙路发生灾荒,当时杭州知州范仲淹,兼负责浙西一带的赈灾。他除了给饥民“发粟”,号召杭州“诸佛寺主首”雇佣许多工人,大兴土木。杭州地方官府也大举兴建“新敖仓吏舍,日役千夫”。这些举措
- A. 反映南宋商品经济的繁荣 B. 形成较为系统的赈灾制度
C. 不恤百姓而且伤耗了民力 D. 充分地运用市场机制赈灾
27. 有学者说:“张居正的前任,内阁首辅高拱,隆庆年间作为内阁首辅监理吏部事务;万历初,张居正成为首辅,六部中一些老资历的尚书相继退休后,‘九卿之中,不是居正所汲引,便是他的亲戚’”。这反映出,当时内阁
- A. 逐步成为法定行政中枢 B. 阁臣的参政权不断扩大
C. 逐渐掌握国家决策大权 D. 化解了皇权与相权矛盾
28. 洋务派开展洋务运动30多年,共兴办了60个近代企业,总计投入经费约5300万两,平均每年兴办近代企业2个,投资170余万两。而明治维新时期的日本则平均每年投资1100余万日元,约合中国银两700多万两。洋务运动这一状况出现的主要原因是
- A. 顽固派的阻挠破坏 B. 中央政府财政困难
C. 政府支持力度有限 D. 列强限制机器出口
29. 1923年,孙中山说:“盖俄国革命之能成功,全由党员之奋斗。一方面党员奋斗,一方面又有兵力帮助,故能成功。所以我请鲍君(共产国际代表)做吾党的训练员,使之训练吾党同志。”这表明
- A. 孙中山完全赞同鲍君的政治主张 B. 旧三民主义思想中掺入了新的精神
C. 中国“以俄为师”集中于军事领域 D. 孙中山思想的转变与俄国革命相关
30. 解放战争时期,官僚资本主义经济在各行各业中所占的比重如下表(单位:%)。据此可推知,解放战争时期

电力	煤	石油	钢铁	有色金属	水泥	纺锭(设备)	织布机(设备)	糖	银行资本	铁路	公路	航运	轮船(吨位)
67	33	100	90	100	45	40	60	90	59	100	100	100	45

- A. 重工业发展速度快 B. 民族资本主义经济发展环境恶劣
C. 经济建设效果显著 D. 官僚资本主义企业推动经济发展

【高三2月质量检测巩固卷·文综 第5页(共12页)】



31. 下图为 20 世纪 60 年代的中国年画《工业学大庆》。该作品反映出当时我国



工业学大庆

- A. 社会主义建设在探索中前进
 - B. 工业化建设中出现“左”的思想倾向
 - C. 对国民经济的调整成效显著
 - D. 工业化建设方针具有明显的科学性
32. 梭伦改革规定：第四等级的人占大多数，其成员不纳税，但在公民大会中他们对所有行政长官和公职人员的选举都有表决权，也有权对这些官员提出质询；他们可以采纳或否决一切公务措施。这一规定
- A. 满足了下层平民的要求
 - B. 提高了民众政治地位
 - C. 防范了官员的腐败行为
 - D. 有利于缓和社会矛盾
33. 18~19 世纪的普鲁士，海外贸易公司是独立的国家金融机构，以向政府提供短期和长期贷款以及从事工商业为主要职能。1848 年财政部直接把海外贸易公司置于其控制下，并出卖了公司的部分工厂和矿山。这说明该时期的普鲁士
- A. 重工业和交通运输业发展异常迅速
 - B. 两次工业革命正在交叉进行中
 - C. 国家资本主义是工业化的重要动力
 - D. 国营资本和私营资本竞争激烈
34. 苏俄(联)时期一项政策的推行使小规模的私人贸易和制造合法化，它偏重于农业和消费品的生产，重新建立了工业与农业之间正常的经济联系。该政策
- A. 促使当时政治形势实现了稳定
 - B. 为反法西斯战争的胜利奠定了基础
 - C. 进一步完善战时共产主义政策
 - D. 基本粉碎了国内外敌对势力的干涉
35. 下图所示为建成于 1959 年的美国纽约的古根海姆博物馆。它给了不同的人以不同的视觉效果，有人说它的外观像一只茶杯，也有人说像一条巨大的白色弹簧，还有人说像海螺。下列文艺作品中，与此建筑艺术风格类似的是



- A. 《巴黎圣母院》
- B. 《自由引导人民》
- C. 《日出·印象》
- D. 《等待戈多》

二、非选择题：共 160 分。第 36~42 题为必考题，每个试题考生都必须作答。第 43~47 题为选考题，考生根据要求作答。

(一)必考题：共 135 分。

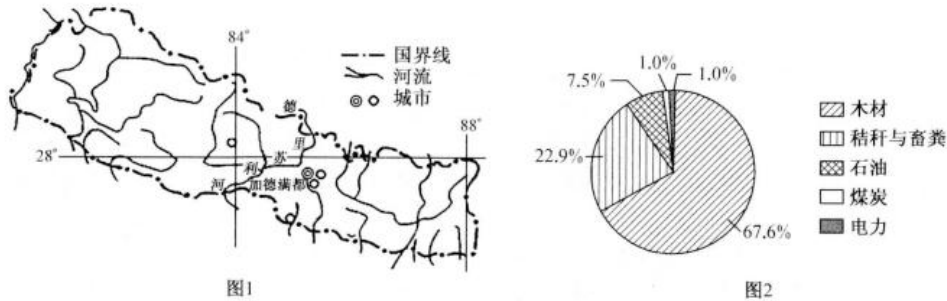
36. 阅读图文材料，完成下列要求。(22 分)

尼泊尔是南亚山区的内陆国，该国 80% 以上的人口从事农业生产，需要从印度进口电力缓解能源不足。2011 年 6 月，由我国葛洲坝集团承建的、位于德里苏利河上的上崔特里 3A 水电站开工建设

【高三 2 月质量检测巩固卷·文综 第 6 页(共 12 页)】



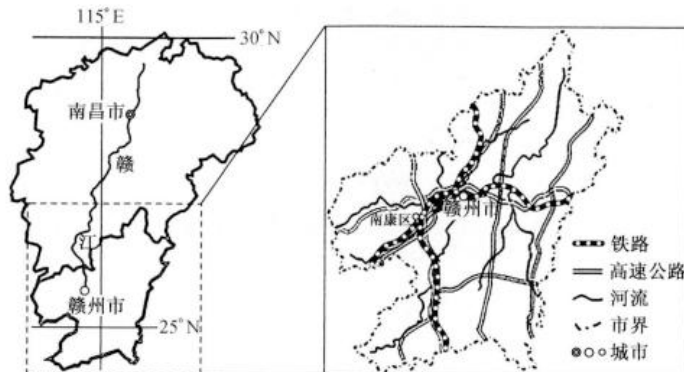
设,该项目 2015 年因强震停工近两年。2019 年 11 月 18 日,上崔树里 3A 水电站正式进入商业化发电期。下面图 1 示意尼泊尔地理位置,图 2 示意尼泊尔能源消费构成。



- (1)指出尼泊尔的地势特征,并说明理由。(4分)
- (2)描述德里苏利河的水文特征。(6分)
- (3)推测上崔树里 3A 水电站项目因强震停工近两年的原因。(6分)
- (4)简述上崔树里 3A 水电站商业化发电对尼泊尔的积极影响。(6分)

37. 阅读图文材料,完成下列要求。(24分)

江西省赣州市南康区林地面积广,森林覆盖率约 60.82%。近年来,南康区牢固树立全产业链发展理念,形成了集加工制造、销售流通、专业配套等为一体的产业集群。目前,南康家具产业依托区内的赣州港(我国内陆唯一进口木材的直通口岸)打造国际货物集散地形成的开放高地,已摆脱对本省本地原材料的依赖,从东南亚、非洲、北美等地区进口木材,创造出了“木材买全球,家具卖全球”的经营模式,产业集聚实现由“南康家具”向“世界家具集散地”的重大转变。下图示意赣州市地理位置及交通线路状况。



【高三 2 月质量检测巩固卷·文综 第 7 页(共 12 页)】

- (1)说明南康区家具产业发展的优势。(6分)
- (2)简述南康区家具产业集聚的利弊。(6分)
- (3)推测南康家具产业转型升级可能采取的措施。(6分)
- (4)分析赣州港在南康家具产业转型升级中发挥的作用。(6分)

38. 阅读材料,完成下列要求。(14分)

2019年12月10日至12日召开的2019年中央经济工作会议提出2020年六大重点任务,首次明确提出要大力发展数字经济。

统计数据显示,2018年,中国数字经济规模已达31.3万亿元,占GDP的比重高达34.8%,对中国GDP增长的贡献率超过67.9%。推动经济高质量发展,数字经济将成为着力点。当前,我国数字经济发展潜力还没充分释放出来,在一定程度上受传统监管体制机制的束缚,应着力破除限制新技术、新产品、新商业模式发展的不合理准入障碍。针对数字技术与各行业融合发展的实际情况,加大对数字经济以及相关衍生品的保护力度,加大对数字经济的财税政策、金融政策的支持力度,严厉打击各种侵犯知识产权和扰乱市场秩序的行为。数字经济领域行业组织建设滞后,围绕数字技术催生的新业态、新产业的相关行业组织寥寥无几,行业组织在数字经济治理中表现出明显的主体缺位。结合材料并运用经济生活知识,说明我国应如何挖掘数字经济发展潜力,助推经济高质量发展。

39. 阅读材料,完成下列要求。(12分)

为人民谋幸福、为民族谋复兴、为世界谋大同,是中国共产党人的庄严承诺和使命担当,也彰显了以天下为己任的大国胸襟和担当。

面对国际关系新变化,中国走出一条对话而不对抗、结伴而不结盟的国与国交往新路,中国已成为多边主义的最重要支柱和促进世界和平不可或缺的重要力量。中国坚定维护和推动经济全球化,多次向世界庄严承诺,中国开放的大门只会越开越大,成为世界发展的稳定之锚。针对诸如核安全、网络安全、信息安全、金融安全的维护,恐怖主义、气候变化、重大传染性疾病的应对,中国积极提出自己的方案和主张。中国致力于构建持久和平、普遍安全、共同繁荣、开放包容、清洁美丽的世界,这反映了人类社会共同的价值共识,符合中国人民和世界人民的根本利益。结合材料并运用政治生活知识,说明中国共产党人为世界谋大同的风范担当。



40. 阅读材料,完成下列要求。(26分)

近来,关于全国部分省区更改地名一事不断引发舆论关注。“任性”改名的背后,暴露出的是畸形的政绩观和浅薄的文化观。与此相比,在中华人民共和国成立70周年之际,杭州萧山区举办“吟诗怀古·寄情萧然”地名诗歌创作大赛,弘扬中国地名文化,加强萧山地名文化保护工作。

地名,不仅是一个不大不小的文化“符号”,同样也承载着许多人的乡愁心结。地名,尤其是在城市中存活了千百年的老地名,它们承载着一方水土的荣辱与兴衰,蕴含着千年古城的繁华与文明。一张张难以移易的“城市名片”,镌刻着深厚的历史文化、乡风民俗,独特的烟雨沧桑与人文精神,并记忆着一个地方的历史文化根脉,寄托着人们的乡愁。在2007年第九届联合国地名标准化大会上,地名被正式确定为非物质文化遗产。

保护地名文化,就是保护家国历史与民族文化遗产,既能给群众提供标准规范的地名信息,又可增进中华文化的认同与传承。地名文化的保护,“要遵循地名命名和演化规律,防止乱改地名、决不能让大量地名文化遗产无端消失”。否则,当你少小离家老大回时,莫说见到笑问客从何处来的乡邻童稚,恐怕你连家也找不到在哪里了。

(1)结合材料并运用文化生活知识,分析敬畏“老地名”的现代价值。(10分)

(2)结合材料,运用价值观的知识说明如何防止大量地名文化遗产无端消失。(10分)

(3)随意换地名,无异于一种“文化强拆”,会引起一系列后续问题。请就如何减少随意换地名现象提出三条倡议。(6分)

41. 阅读材料,完成下列要求。(25分)

材料一

据文献资料记载,夏禹曾下禁令:“春三月,山林不登斧斤,以成草木之长;夏三月,川泽不入网罟,以成鱼鳖之长。”西周时期曾颁布《崇伐令》:“填井,毋伐树木,毋动六畜,有不如令者,死无赦。”《黄老帛书·君正》指出:“人之本在地,地之本在宜。”认为“人之根本在于土地,而土地的根本在于因地制宜。”另外,周王朝对于矿产资源亦订立了管理和保护法规。《秦律·田律》中明确规定:“春二月,毋敢伐材木山林及雍堤水。不夏月,毋敢夜(野)草为灰,取生荔……”后来在《唐律》、《明律》、《清律》中也有此类的规定。“天人合一”的有机整体观是古代中国人的主要思维方式,与天人合一相联系的是顺应自然的方法论。仁慈护生是古代中国人的重要道德观念,知止知足的思想又是古代中国人的又一信条,它们影响着人们的行为方式,一定程度上预防了人们向大自然的过度索取。

——摘编自吕锡琛《中国古代的环境保护法规及思想》

材料二

1929~1933年,美国农业危机特别严重,农产品价格暴跌、收入锐减,农民生存困难。一些生态学者呼吁人类必须从维护生物共同体的整体性、多样性出发,去尊重和保护自然。罗斯福从小受到大自然的陶冶,关心而热爱大自然。早在1910年,他就在其海德公园村的私人地产上植树造林以抑制土壤侵蚀,开始了资源保护工作。1933年5月,国会颁布了《农业调整法》;1935年,美国国会通过了《土壤保护法》,确立了控制和防治土壤侵蚀、保护土地资源是一项国家政策。为了摸清美国土地资源危机的状况,罗斯福授权新成立的“大平原干旱委员会”对西部大平原生态情况进行全面深入的科学

【高三2月质量检测巩固卷·文综 第9页(共12页)】



调查。1936年,国会通过了《洪水控制法》,明确联邦政府对于洪水控制的持久责任。罗斯福政府于1935年开始大规模种植防护林带,同时推广先进的耕作技术。

——摘编自王向红《罗斯福“新政”的土地资源保护政策》

- (1)根据材料一并结合所学知识,指出中国古代环境保护法规的特点,并分析形成这些特点的原因。(10分)
- (2)根据材料二并结合所学知识,说明20世纪30年代美国环境保护的重点及重要创新。(10分)
- (3)根据材料一、二并结合所学知识,就中国和世界的环境保护谈谈你的看法。(5分)

42. 阅读材料,完成下列要求。(12分)

材料

近日,一个英国教授的演讲视频在网上走红,他在视频中表示:中国崛起不可怕,可怕的是他们存在5000年还这么强!视频中这位教授名叫马丁·雅克(英文名:Martin Jacques),伦敦经济学院LSE亚洲研究中心IDEAS的高级客座研究员,英国智库Demos的创始人之一,也是清华大学、中国人民大学、京都立命馆大学、新加坡国立大学等世界名校的访问学者或客座教授。他在视频里提出,中国与西方国家的不同有如下几点:

第一,国家观:中国是文明认同,西方国家是民族认同。

第二,家族观:中国是荣誉教育,西方国家是负罪教育。

第三,普世观:中国是待在家里,西方国家是殖民扩张。

第四,政府观:中国是家族主义,西方国家是实用主义。

在视频的最后,马丁·雅克教授作了总结:中国其实是一个文明,但是他却“伪装”成了一个国家的存在。

——摘编自2020.02.23《今日头条:〈英国教授:中国是一个文明,却“伪装”成国家〉》

根据材料,试就马丁·雅克教授的一个或几个观点提出自己的看法,并结合所学知识进行简要说明。(要求:观点明确合理,史论结合,逻辑严密,表达清晰。)



(二)选考题:共 25 分。请考生从 2 道地理题、3 道历史题中每科任选一题作答。如果多做,则每科按所做的第一题计分。

43. [地理——选修 3:旅游地理](10 分)

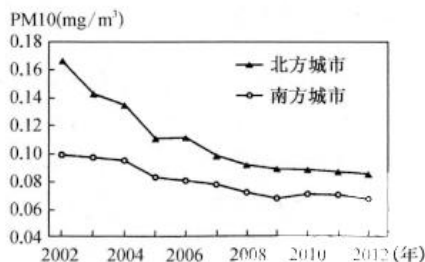
重庆市歌乐山烈士陵园(如下图)为我国重要的爱国主义教育基地之一。该陵园修筑于原“中美合作所”集中营旧址,地处重庆市西北郊的歌乐山森林公园,这里有山、水、林、泉、洞、云、雾等自然景观和“清丽、幽深、古朴、旷达”的风格,被誉为“山城绿宝石”,素有“天然大氧吧”的美誉,园内主要景点有“中美合作所”集中营史实展馆、白公馆、小萝卜头、渣滓洞等,被评为国家森林公园,国家 4A 级旅游景区。



简述我国发展“红色旅游”的意义,并为当地旅游业进一步发展提出合理化建议。

44. [地理——选修 6:环境保护](10 分)

工业化和城市化在改变人们出行以及生活质量的同时,也导致各地的环境质量受到不同程度的影响,其中 PM10 是空气质量监测的重要指标。下图示意我国南、北方城市 2002~2012 年 PM10 的年均值变化趋势。



指出南、北方城市 PM10 变化特征的异同点,并说明降低 PM10 可采取的措施。

45. [历史——选修 1:历史上重大改革回眸](15 分)

材料

变法中,商鞅规定,尽全部努力从事耕织,而且收获量大的免除当服的徭役,从事工商业及懒惰而致贫者,连同妻子、儿女没入官府为奴;将农战二者结合在一起,奖励对外作战中的军功,并重建爵秩等次,以显尊贵。他认为国家应努力使人民弱,如国民富了就不易驱使,人民应家无储积,一切余粮全部集中于国家;对于工商业,商鞅主张征收重税。商鞅坏井田,开阡陌,彻底摧毁了贵族对土地的世袭

【高三 2 月质量检测巩固卷·文综 第 11 页(共 12 页)】

垄断特权,使土地得以自由买卖。为了巩固地主封建制的生产关系,商鞅还通过赋役制度如按户、按人口征收军赋等,大力维护男耕女织的小农经济。由于商鞅追求的目的只有一个:不断征战,兼并对手,所以他不能将邻国视为贸易伙伴,秦国在商鞅死后三年(公元前336年)才开始使用铸币,与楚、齐等国在春秋末就有铸币相比,晚了好多年。

——摘编自项怀诚《中国财政通史之二·春秋战国秦汉卷》

- (1)根据材料,概括商鞅变法措施中体现的财经思想。(8分)
- (2)根据材料并结合所学知识,简析商鞅财经思想的影响。(7分)

46. [历史——选修3:20世纪的战争与和平](15分)

材料

现在战争还在进行,三国的合作是战胜法西斯的保证。特别是太平洋上美国与日本正在鏖战,美国企盼前苏联在结束对德战争后能尽快出兵日本,对日本形成南北夹击之势,加速日本法西斯的灭亡,减少美军伤亡。如果说在波兰问题上三国频频玩弄民主自由的词句,那么在远东问题上则只剩下赤裸裸的利益交换。由于雅尔塔体制,关于战后世界秩序罗斯福已成竹在胸,它需要前苏联的合作。罗斯福接受威尔逊的教训,在战争尚未结束时就提出这个问题,他担心战争一结束,美国政治又一次被孤立主义气氛笼罩。与威尔逊一样,罗斯福认为,为避免新的世界大战,必须建立一个有效的国际安全机制,在这个机制中实现大国合作而不是大国对抗,让大国共同担负起维护世界秩序的职责。

——摘编自和平《两极的轨迹》

- (1)根据材料并结合所学知识,指出“赤裸裸的利益交换”的具体含义。(4分)
- (2)根据材料并结合所学知识,说明“威尔逊的教训”并指出罗斯福所构想的雅尔塔体制的实现情况。(11分)

47. [历史——选修4:中外历史人物评说](15分)

材料

罗家伦(1897~1969),字志希,笔名毅。浙江绍兴柯桥镇江头人。1919年,在陈独秀、胡适支持下,罗家伦与傅斯年、徐彦之成立新潮社,出版《新潮》月刊。同年,当选为北京学生界代表,到上海参加全国学联成立大会,支持新文化运动。罗家伦在月刊创刊号上发表《今日之世界新潮》一文,他说:“以前法国式的革命是政治革命,以后俄国式的革命是社会革命。”后来,他又发表了《什么是文学》,不仅反对封建文学的形式文言文,而且揭露封建文学的内容“只是摆出道学先生的面孔,代圣人立言”。五四运动中,亲笔起草了唯一的印刷传单《北京学界全体宣言》,提出了“外争国权,内除国贼”的口号。他慷慨陈词,反对巴黎和会,对鼓动学生的爱国热情起了重大作用。但在1920年五四运动周年纪念时,罗家伦在《新潮》2卷4号上发表了《一年来我们学生运动底成功失败和将来应取的方针》,认为学生的罢课、请愿、游行都是无聊的举动,并表示对自己参加学生运动而荒废学业的冲动行为表示懊悔。此文发表后不久,罗家伦便着手出国留学,走一条“专门研究学问”的道路了。

——摘编自丁守和《五四风云人物文萃》

- (1)根据材料并结合所学知识,概括罗家伦对新文化运动的贡献。(6分)
- (2)根据材料并结合所学知识,评述罗家伦在五四运动问题上的态度和表现。(9分)

2020~2021 学年高三 2 月质量检测巩固卷·文科综合

参考答案、提示及评分细则

1. C 2010~2019 年,我国农民工总量和外出农民工一直在增加,农村“人口空心化”增大,但是外出农民工占农民工总量的比重呈下降趋势,本地农民工增长快于外出农民工,说明地区间经济差距在缩小,农民工出行的平均距离越来越远,表中数据无法判断农民工收入是否大幅提升。
2. B 农村“人口空心化”直接导致农村劳动力不足,出现土地弃耕现象,复耕指数下降,耕地生产收益降低。
3. C 材料中“上班族不用再担心上班迟到”,说明“自行车高速”连接的上地与回龙观,一个是上班族的工作区,一个是上班族的居住区。地势起伏大的地区不适宜修建自行车通道;“自行车高速”连接的两地相距不远,环境与地价差异不会太大。
4. B 由材料中“骑自行车走这条车道比乘坐地铁快很多,上班族不用再担心上班迟到”,可知图示路段交通拥堵,建设“自行车高速”的首要目的是为了减轻公交压力,节约交通时间。
5. A 京藏高速上车速较快,会带起较大的风,在交会路段设置挡板可以降低京藏高速上的风速,保护“自行车高速”上的设施及骑行者。
6. C 据图分析可知,台风“玉兔”向西北方向移动,纬度逐渐增高,水温降低,缺少持续的暖海面提供水分和能量,加之受来自高纬度的东北季风影响,导致台风进入南海后变化迅速。
7. A 越靠近台风中心,气压越低,风速在较靠近台风中心的旋涡区最大,台风中心(台风眼)晴朗无风,故①、③分别代表气压和风速。台风中心(台风眼)空气下沉增温,使其气温较周围高,故②代表气温。
8. D 10月31日傍晚,东沙群岛处于旋涡风雨区,看到晚霞的可能性较小。旗帜向西南方向飘动,说明此时拍摄地吹东北风,应位于北半球气旋的北侧。因此,该摄影爱好者最可能位于深圳。
9. A 伊犁河谷夏季水量大,季节性水淹的地带盐分会被淋洗带走,盐碱化程度低,而极少被水淹的地带,地下水位高,夏季蒸发旺盛,盐碱化程度高。雀稗湿地极少被水淹,拂子茅湿地季节性被水淹,说明拂子茅更耐强湿。两类湿地距离近,气温差异小。
10. C 据材料分析可知,三类湿地的差异主要表现在水淹的时间和程度不同,其主要受地形地势的影响。地势低的地区容易积水,形成长年水淹湿地;地势高的地区不易积水和被水淹,形成极少水淹湿地;地势居中的地区,汛期被水淹,枯水期出露,形成季节性水淹湿地。
11. D 芦苇湿地属于常年水淹湿地,土壤中的含氧量较低,限制了微生物的生长、繁殖,使得芦苇湿地中的枯枝落叶很难被微生物分解,养分不易归还土壤,导致土壤有机质含量低。
12. C 不考虑其他因素,黑龙江省调整大豆补贴,大豆生产者补贴每亩高于玉米生产者补贴 200 元以上,大豆生产者补贴每亩 300 元左右,不会影响大豆的价格,会提高大豆种植的积极性,扩大大豆种植面积,增加大豆供给,降低种植玉米的积极性,减少玉米种植面积,①④入选,②③不选。
13. B 该公司具有在全国范围内统筹调配、输送和存储油气资源的核心能力,有利于提高油气资源配置效率,促进油气行业高质量发展,①④符合题意;公有制的主体地位早已确立,排除②;材料没有体现国有资本支配范围拓宽,③与题意无关。
14. B 推动农村各类产权流转交易公开规范运行,可以增加农民的财产性收入,进一步激活农村生产要素,①③符合题意,④与题意无关;农民对土地没有所有权,②排除。
15. B 自由贸易试验区按照直接取消审批、审批改为备案、实行告知承诺、优化审批服务等四种方式分类推进“证照分离”改革,可以充分发挥市场的作用,优化营商环境,激发市场活力,推动我国经济高质量发展,①③符合题意;发展实体经济,筑牢现代化经济体系的坚实基础,②排除;政府科学的宏观调控有利于弥补市场弊端,“证照分离”改革有利于充分发挥市场作用,④不符合题意。
16. D 尊重和保障人权,是中国共产党和中国政府的一贯追求,这是因为,我国是人民民主专政的社会主义国家,人民是国家的主人,中国共产党始终把人民的利益摆在至高无上的地位,②④符合题意,①③不符合题意。
17. B 我国各级政府要尽最大可能尽快降低旱情损失,保障好群众的生活用水和饭碗,需要做到①④;政府不能满足人们的各种需求,②排除;政府不能参与群众的生产和经营,③排除。
18. D 我国公民有信仰或者不信仰宗教的自由,D 入选;我国不鼓励公民信仰宗教,但也不干涉公民信教自由,A、B 不选;我国引导宗教与社会主义社会相适应,C 不选。
19. A 家风是社会风气的重要组成部分,好家风如化雨春风,滋润着人的心灵、培养着人的美德,护着家,护着国,说明文化对人的影响来自特定的文化环境,也说明良好家风能够促进社会文明程度的提升,①②入选。家庭的成长和社会发展相互影响,但不是亦步亦趋的,③不选;良好家风对人健康成长的影响是无形的,④不选。
20. D 甲骨文是汉字的源头,是中华文明的标志,传承甲骨文等古文字的研究,有助于传承中华优秀传统文化,坚定文化

【高三 2 月质量检测巩固卷·文综参考答案 第 1 页(共 4 页)】



- 自信,可以采用先进的科学技术,推动研究的深入,③④入选;文字是人类进入文明时代的标志,且汉字不是唯一的文字,①不选;庆祝民族节日可以集中展示民族文化,集中表达民族情感,②不选。
21. A 中国特色社会主义进入新时代,对公民道德建设提出了新的更高要求。一些地方、一些领域道德失范现象依然不同程度地存在,推动了《纲要》的出台,表明实践是认识发展的动力,认识产生于实践的需要,我国对新时代公民道德建设的认识越来越深化,①②入选;道德对实践的指导不能超越客观规律制约,③不选;真理是具体的有条件的,④中“不断用新认识代替已有认识”表述不妥,不选。
22. A 挣断枷锁得到的不一定是自由,体现了要用全面的观点看问题,也体现了矛盾双方在一定条件下相互转化,联系具有条件性和多样性,①②符合题意,③④不符合题意。
23. D 北京市修订《条例》是社会普遍存在的垃圾成灾的社会问题引发的,是为了适应经济基础发展的现状,有助于促进经济绿色发展,③④入选;北京修改《条例》不涉及哲学的指引,①不选;修订条例能够遏制垃圾乱象,但不能消除垃圾乱象,②不选。
24. C 考查先秦政治。据材料中“君子”一词由代表“贵族阶层”转变为“品评人物德行的标尺”可知,“君子”的内涵发生了变化,由仅适用于贵族的单纯的称谓向“君子”之德转变,这在一定程度上体现了春秋时期贵族政治衰落的史实,故选 C 项。材料体现不出普通民众的社会地位的变化,排除 A 项;材料并非强调统治者的修养,排除 B 项;儒家思想形成于春秋时期,且材料也体现不出西周出现了儒家思想, D 项错误。
25. A 考查汉代儒学。太学是政府的中央教育机构,材料指出,西汉昭帝、宣帝、元帝、成帝为解决人才“用度不足”,不断增加太学弟子人员数,这有利于儒学的进一步传播与发展,故选 A 项。儒家思想开始处于独尊地位是在汉武帝时期,排除 B 项;根据材料及所学知识,得不出西汉末期察举制度逐渐走向没落的结论,排除 C 项;材料指出,西汉昭帝以来不断增加太学弟子人员数,但太学体制没有发生其他重大变化,排除 D 项。
26. D 考查宋代的经济政策。根据材料,范仲淹的举措,充分运用市场机制赈灾,即通过民间与政府扩大投资,且利用自身的影响鼓励消费来拉动经济,惠及民生,进而达到赈灾的目的,故选 D 项。范仲淹生活在北宋,故排除 A 项;范仲淹的举措是在杭州商品经济发达的基础上进行的,没有形成系统性赈灾制度,排除 B 项;范仲淹既“给饥民‘发粟’”,又积极通过扩大民间与政府投资与鼓励消费来拉动经济,从而达到赈灾的目的,排除 C 项。
27. B 考查明朝的内阁制度。根据材料信息可知,张居正的前任,高拱任首辅时兼理吏部事务,拥有吏部尚书的头衔,而吏部是六部之中最重要的部门;后来张居正任首辅时,“九卿之中,不是居正所汲引,便是他的亲戚”,这些都反映出明中期后内阁地位提升的一个表现就是直接或间接地干预行政事务,比如人事问题,他们的权力不是内阁这个机构赋予的,而是以其他方式侵夺的,故 B 项正确。明代内阁从来都不是法定的行政中枢,排除 A 项;参政并不意味着控制国家决策大权,排除 C 项;明太祖以后已经没有了宰相制度,排除 D 项。
28. C 考查近代经济。将材料“投入经费约 5300 万两,平均每年兴办近代企业 2 个,投资 170 余万两”与“明治维新时期日本则平均每年投资 1100 余万日元,约合中国银两 700 多万两”进行比较分析可知,这一结果出现的主要原因是清政府没有全力支持洋务运动,而日本则是举国之力,故选 C 项。顽固派的阻挠不是主要原因, A 项错误;洋务运动时期,虽然财政困难,但后期创办的民用工业已经不是由政府出资了, B 项错误;列强限制机器的出口的对象不会只有清政府, D 项错误。
29. D 考查孙中山思想。材料反映了孙中山认为俄国革命的成功之处在于党的正确领导和军事强大,因而主张“以俄为师”。这说明俄国革命的成功深深刺激了孙中山,即说明孙中山思想的变化与俄国革命密切相关,故 D 项正确。材料反映了孙中山准备走“以俄为师”的道路,但并未说明他完全赞同鲍君的政治主张, A 项错误;旧三民主义改造为“联俄、联共、扶助农工”的新三民主义是在 1924 年 1 月国民党一大上, B 项与题干时间不符,材料并未涉及其他领域的学习,不具有可比性, C 项错误。
30. B 考查近代中国经济。表格中官僚资本主义经济在各行业中所占的比重,大多都超过半数,部分为百分之百,由此可以确定,民族资本主义经济在这一环境下发展的空间很有限,其发展必定艰难,故选 B 项。材料信息仅为官僚资本主义经济的占比情况,无法体现重工业的发展速度的快慢,排除 A 项;经济建设的效果由材料不能得出,排除 C 项;解放战争时期,国民经济日趋破产, D 项错误。
31. A 考查现代中国的经济。材料反映了国家向全国人民发出了“工业学大庆”的号召,赞扬了工人阶级在社会主义建设中的创造性劳动,力求推动社会主义建设向前发展,反映了当时我国的社会主义建设在探索中前进,故选 A 项。材料强调学习大庆建设的精神,不能说建设中出现“左”的倾向,也不能说明优先发展重工业方针的科学性和国家对国民经济的调整成效,故 B、C、D 三项错误。
32. D 考查古代雅典政治。由材料可知,第四等级公民可以参政,可以向官员提出质询,可以发表自己的意见,这说明梭伦改革使第四等级公民的权利有了制度保障,这有利于缓和社会矛盾,故选 D 项。材料中的规定只限于第四等级,而不是所有下层平民, A 项错误; B 项中“民众”的表述错误;材料中的规定不能防范官员腐败行为, C 项错误。
33. C 考查德国的工业革命。18~19 世纪的德意志各邦政府积极兴办工厂、矿山和经营铁路,大力发展国家资本主义,在这一方面普鲁士堪称表率,题干即是这一背景的重要体现,普鲁士财政部在推动其所任邦的工业化方面直接冲在了一



- 线,故 C 项正确。A、D 两项是对材料的片面解读或误读,故排除;材料没有体现两次工业革命的交叉进行,排除 B 项。
34. A 考查苏联的新经济政策。据材料描述可知,苏俄推行的这项政策一是使私人贸易合法化;二是重视农业和消费品的生产。结合所学可知,1921 年开始实行的新经济政策恢复货币流通和商品交换,即允许私人贸易,新经济政策的实行得到了人民的支持,促进了经济的恢复和发展,缓和了社会矛盾,有利于稳定政治形势,故选 A 项。B 项与斯大林模式有关;C 项与史实不符,排除;D 项与战时共产主义政策相关,均排除。
35. D 考查近现代文学艺术。据图片中古根海姆博物馆的形状和材料中的文字描述可知,古根海姆博物馆在建筑方面体现了反传统的现代艺术特征,而选项中《等待戈多》属于反传统的现代戏剧作品,故正确答案为 D 项。《巴黎圣母院》属于 19 世纪早期的浪漫主义文学作品,排除 A 项;《自由引导人民》属于浪漫主义绘画作品,排除 B 项;《日出·印象》属于 19 世纪中期的印象派绘画作品,排除 C 项。
36. (1)地势特征:北高南低,由北向南倾斜;(2 分)理由:河流大致自北向南流。(2 分)
 (2)年径流量大;径流量季节变化大;以雨水补给为主;河流含沙量小;汛期出现在夏季;无结冰期;地势起伏大,水能资源丰富等。(6 分)
 (3)强震导致道路被毁,生产设备、物资运输难度加大;强震导致上崔树里 3A 水电站项目受损,资金缺口扩大;强震造成巨大的社会经济损失,尼泊尔将工作重心转移到灾后重建恢复等。(6 分)
 (4)弥补尼泊尔的电力需求,缓解能源短缺状况;减少电力对外依赖性,保障能源安全;优化能源消费结构,改善大气环境质量;带动相关产业发展,提高就业率;促进尼泊尔电力系统的安全稳定运行;减少森林砍伐,提高植被覆盖率,维护生态多样性等。(6 分)
37. (1)森林资源丰富,家具产业原料充足;劳动力丰富;交通便利;生产经验丰富,产品优质;企业集聚,形成规模效应;相关产业为家具产业发展提供支持与服务;国内外市场广阔等。(6 分)
 (2)利:加强企业间的信息交流和技术协作,降低中间产品的运输费用,减少能源消耗,降低生产成本,取得规模效益;共同利用基础设施,节约生产建设成本等。弊:交通运输压力增大,环境污染加重,市场竞争加剧,导致利润下降,产业园区建设挤占耕地,影响农业生产等。(6 分)
 (3)大力推进科技强企,引导企业采用先进设备、新工艺、新技术、新材料,开发新产品,提升产品科技含量;加快家具产业专业园区建设,缓解家具产业用地紧张状况;加强对进口木材的监管;抓好品牌建设,提升产品影响力,提高产品附加值等。(6 分)
 (4)便利家具产业原料输入和产品输出,降低物流成本,提高产品竞争力;提供国际货物集散平台,开拓国际市场,推动外向型经济发展;推动基础设施建设,改善营商环境,拉动家具产业集聚;港口配套的物流、金融、电子商务等现代服务业快速发展,推动家具产业转型升级等。(6 分)
38. ①正确处理好市场与政府的关系,进一步放松政府管制,减少数字经济发展中体制机制的束缚,有效发挥好市场的决定性作用。(4 分)②加强对数字经济的财政和税收政策支持,引导财政资金积极投向符合条件的数字经济发展领域,落实好相关税收减免和扶持政策,促进有潜力的新经济形态发展。(3 分)③加大对数字经济金融支持服务力度,拓宽数字经济企业融资渠道,开展知识产权质押融资服务,为数字经济企业融资提供便利。(3 分)④加强社会信用制度建设,完善信用支撑体系,加强对数字经济企业有关风险预警、违法失信行为等信息的共享。(4 分)(其他答案,符合题意,可酌情给分)
39. ①积极为维护世界和平贡献力量。奉行独立自主的和平外交政策,坚定走和平发展道路。(3 分)②积极为发展世界经济贡献力量。坚持以发展是第一要务,促进共建创新包容的开放型世界经济,以自己的发展带动和惠及世界发展。(3 分)③积极参与全球治理体系变革。推动全球治理体系朝着更加公正合理的方向发展,通过中国方案和中国主张发挥负责任大国的作用。(3 分)④引领人类命运共同体的建构。构建人类命运共同体正从理念转化为行动,成为引领人类社会发展的中国智慧。(3 分)(其他答案,符合题意,可酌情给分)
40. (1)①传统文化是民族文化发展的根基,是维系民族生存和发展的精神纽带。老地名有丰富的文化内涵,重视地名文化保护,有利于地名文化的传承,巩固当地人们生存和发展的精神根基。(3 分)②文化多样性是人类社会的基本特征,是人类文明进步的重要动力。一些老地名作为非物质文化遗产,镌刻着深厚的历史文化、乡风民俗,保护地名文化,有利于尊重文化多样性,让人们了解当地历史文化和文明的演进。(4 分)③地名文化作为优秀传统文化的重要组成部分,重视老地名文化保护,有利于增强人们的文化自觉和文化自信,反对“民族虚无主义”和“历史虚无主义”,提升文化凝聚力和向心力。(3 分)(其他答案,符合题意,可酌情给分)
 (2)①价值观对人们认识世界和改造世界的活动具有重要的导向作用,要克服错误的价值观,树立和坚持正确的价值观。防止大量地名文化遗产无端消失,需要克服畸形的政绩观和浅薄的文化观,树立和坚持正确的政绩观和正确的文化观。(3 分)②价值判断和价值选择往往因人而异,作出正确的价值判断和价值选择,要遵循客观规律,将人民群众的根本利益作为最高的价值标准。防止大量地名文化遗产无端消失,需要遵循地名命名和演化规律,给群众提供标准规范的地名信息。(4 分)③价值判断是价值选择的基础,要在价值判断的基础上进行正确价值选择。防止大量地名文化遗产无端消失,需要正确判断地名文化遗产的价值,并在此基础上作出保护地名文化遗产的价值选择。(3 分)(其他答



- 案,符合题意,可酌情给分)
- (3)①保护传承老地名,留住人们回家的路。②保护老地名,让城市恢复它的历史记忆。③老地名的背后,是传说,是故事,是历史,更是文化。④保护传承老地名,提升城市文化底蕴和气质品位。(每条2分,答出三条即可得6分)(其他答案,符合题意,可酌情给分)
41. (1)特点:立法历史悠久,源远流长;立法范围广泛,内容丰富;对违法行为实行重罚。(4分,任答两点即可)原因:中国自古以来的重农传统;封建国家各项制度的不断完善;古代中国“天人合一”“道法自然”“仁慈护生、知止知足”等思维方式和道德观念的影响;统治者儒法并重的治国理念。(6分,任答三点即可)
- (2)重点:重点保护土地资源。(2分)创新:国家全面干预土地资源保护;以立法形式来保护土地资源,使美国土地资源保护走向法制化和制度化;将土地资源保护与控制农业生产相结合;重视对土地的科学管理和使用;注重提升美国公民保护土壤的责任意识。(8分,任答四点即可)
- (3)看法:生态环境保护不仅应有国家、政府的引导,还应有从个人到群体的努力与奉献;生态环境保护不仅是中国的问题,更是人类的问题;要解决人类的生态保护问题,人类必须要加强合作。(5分,言之成理即可)
42. 示例:
- 看法:中国是一种文明,这是中国历经几千年而不倒的根源。(2分)
- 说明:中国古代文明源远流长,在长达5000年的历史中,真正实现了持续发展。在中国古代史上,无论中原主体民族王朝的更迭,还是异族人主中土取代主体民族王朝,往往是后者大体上继承前者的文化、制度、政权结构和统治术;其后,随着主体民族恢复统治权,中华文明得以推陈出新。自从汉武帝实行“罢黜百家,独尊儒术”之后,中华文化就形成了一种以儒家文化为主流的相对稳定的文化结构。千百年来,儒学在中国大地生生不绝,化化无穷,以儒学为核心的中华文明作为一个整体绵延不绝。政治上以强大的国家权力实现对分散的社会单位的强控制传统,其演进表现为专制主义中央集权制的建立和强化以及官僚政治复杂完备的过程。在统一的国度里,人们都有了很强的归属感和自豪感,这对维系中国作为大一统文明体国家赓续至今,也起了很大的作用。古代中国以黄河、长江两大河的流域为其文化、经济中心,因此中国更容易趋向大一统,中央政权也便于维持政治稳定。相对发达的农耕经济也是保证中华文明不遭受颠覆性破坏的缘由之一。中华文明将多种多样的古代民族、社会、文化因素包容到一起,各种文化因素在这个体系中都有存在的空间,又不断激荡融合,在融合变异中保持基本文化特征。中国人之所以自认为是中国人,不是因为民族身份的认同,而是因为近5000年文明成果的认同。(10分)
- (“示例”仅作为参考答案,其他言之有理亦可酌情给分)
43. 意义:促进我国旅游业更大发展的一项重要举措;弘扬民族文化、振奋民族精神;帮助革命老区人民脱贫致富;推进中西部旅游,进一步增强中国旅游业发展后劲;游客学习革命历史知识,接受革命传统教育,振奋精神、放松心情、增加阅历。(6分)建议:围绕“红色观光游”设计旅游活动,红色与政治(中小学爱国主义教育、党员培训教育)联姻;红色向质朴(乡村旅游)回归;红色与绿色(生态旅游)相映;红色与城乡建设(城市建设,旅游小城镇建设和新农村建设)结合;红色与时尚(自驾车、徒步旅行军体验游等)结盟。(4分)
44. 异同点:南、北方城市的PM10均呈下降趋势;北方城市降幅大于南方城市,北方城市PM10的年均值一直高于南方城市。(4分)措施:加强污染源监测管理,控制污染物排放;增加城市公共绿地,提高植被覆盖率;积极推广新型清洁能源;加大宣传力度,提高居民环保意识;提倡绿色出行等。(6分)
45. (1)思想:奖励耕战,重农抑商;实行国富民贫的重税政策;开阡陌封疆,巩固地主土地所有制;注重战争需要,轻视货币作用。(8分)
- (2)影响:商鞅的财经思想指导了商鞅变法中经济、军事政策的制定;有利于巩固地主阶级统治,维护小农经济;一定程度上保障了国家的财政收入,维护了统治;但是这一思想在实施过程中一定程度上加重了人民负担,不利于商品经济(工商业)的发展。(7分,其他言之有理亦可给分)
46. (1)含义:美国接受了苏联以牺牲中国主权为代价的出兵条件,体现了大国强权政治。(4分)
- (2)“威尔逊的教训”:一战后威尔逊提出建立国际联盟,企图借此称霸世界,但遭到英法的强烈反对,美国最后退出国际联盟,被孤立于这一国际组织之外。(4分)实现情况:罗斯福提出战后“建立一个有效的国际安全机制”,后来成立了联合国,这一目标基本实现;他希望战后实现“大国合作而不是大国对抗”,但美苏战后走向冷战对峙,这一设想基本落空。(7分)
47. (1)贡献:成立新潮社和出版《新潮》月刊,宣传新文化运动;参加全国学联成立大会,支持新文化运动;歌颂十月革命,有利于宣传马克思主义;反对封建文学的形式文言文,推动了文学革命。(6分,任答三点即可)
- (2)评述:罗家伦在五四运动中提出“外争国权,内除国贼”,表现出强烈的民族民主意识;鼓励学生运动,有利于激发学生的爱国热情;但在五四运动后,他又认为学生运动是无聊的举动,并为自己此前的行为懊悔,体现了其政治上的保守性和矛盾性。(9分,其他言之有理亦可给分)

关于我们

自主选拔在线是致力于提供新高考生涯规划、强基计划、综合评价、三位一体、学科竞赛等政策资讯的升学服务平台。总部坐落于北京，旗下拥有网站（<http://www.zizzs.com/>）和微信公众平台等媒体矩阵，用户群体涵盖全国90%以上的重点中学师生及家长，在全国新高考、自主选拔领域首屈一指。

如需第一时间获取相关资讯及备考指南，请关注**自主选拔在线**官方微信号：**zizzsw**。



关注后获取更多资料：

回复“答题模板”，即可获取《高中九科试卷的解题技巧和答题模版》

回复“必背知识点”，即可获取《高考考前必背知识点》