

姓名_____ 座位号_____

(在此卷上答题无效)

绝秘 ★ 启用前

2023 届安徽省“江南十校”联考

文科综合能力测试

注意事项:

- 答卷前, 考生务必将自己的姓名、班级、考场号和座位号填写在答题卡上。
- 回答选择题时, 选出每小题答案后, 用 2B 铅笔把答题卡上对应题目的答案标号涂黑。如需改动, 用橡皮擦干净后, 再选涂其他答案标号。回答非选择题时, 将答案写在答题卡上。写在本试卷上无效。
- 考试结束后, 将答题卡交回。

一、选择题: 本题共 35 小题, 每小题 4 分, 共 140 分。在每小题给出的四个选项中, 只有一项是符合题目要求的。

(说明: 地理部分为 1-11 题, 共 44 分; 思想政治部分为第 12-23 题, 共 48 分; 历史部分为第 24-35 题, 共 48 分)

人口是城市发展的基本要素, 人口统计学常以劳动年龄人口占比等相关指标来代表人口数量红利, 以教育和健康水平等人力资本相关指标来代表人口质量红利。人口红利、资本投入和科技进步对经济增长均有显著的促进作用。我国东部沿海某大城市经济发达, 科技水平高, 劳动年龄人口平均受教育年限不断延长。图 1 示意该城市 1991-2019 年人口红利对经济增长贡献率的变化, 读图 1, 完成 1~2 题。

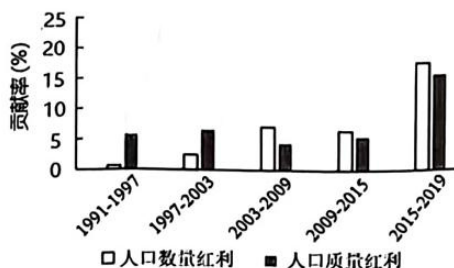


图 1

- 有关该城市人口红利的变化, 下列判断正确的是
 - 人口数量红利贡献率持续增长
 - 人口数量红利贡献率增幅更大
 - 人口质量红利和人口数量红利同步变化
 - 2003-2009 年人口质量红利有所下降
- 2003 年后该城市的人口质量红利对经济增长的促进作用未达到预期目标, 原因是
 - 落户政策不断放宽
 - 环境质量下降, 人口集聚放缓
 - 外来务工人员增长迅速
 - 人才大量涌入, 就业竞争激烈

皖南山区地处亚热带季风气候区，山清水秀。近年来当地某高山村落为改善用水条件，构建引水及蓄水工程。图2是蓄水池结构剖面示意图，据此完成3~5题。



图2

- 该蓄水池最主要的补给水源为
 - 雨水
 - 河水
 - 山泉水
 - 积雪融水
- 对该工程的应用评价合理的是
 - 能源消耗较高
 - 优先保障生产用水
 - 水中杂质排物口单一
 - 增强高山村落抗旱能力
- 推测该村落灌溉用水主要用于
 - 菜园
 - 茶园
 - 果园
 - 竹林

土壤的形成受到气候、生物等多种因素的影响。一般情况下，区域温度越高、降水越多，则土壤有机质分解越快、淋溶作用越强。图3示意我国东北局部地区的土壤分布，该地区由于长期过度开发利用，甲土壤退化严重。据此回答6~8题。



图3

- 甲土壤的特点是
 - 成分以砂粒占优势
 - 有机质分解慢，易积累
 - 土壤颜色呈淡灰色
 - 蓄水、保肥性能弱
- 黑钙土因土层上部有腐殖质层、中下部有钙积层而得名。由此推测其分布区的典型植被为
 - 落叶阔叶林
 - 针阔叶混交林
 - 温带草甸草原
 - 温带荒漠
- 耕作过程中，发现甲土壤的有机质含量下降。为扭转该状况，可以
 - 施用化肥
 - 平整土地
 - 蓄水保墒
 - 秸秆还田

位于大不列颠岛西侧的艾尔萨克雷格岛于5亿年前形成，面积约0.89平方公里，岛上布满花岗岩，甲处有一条几乎横贯全岛的冲蚀沟。读图4，完成9~11题。


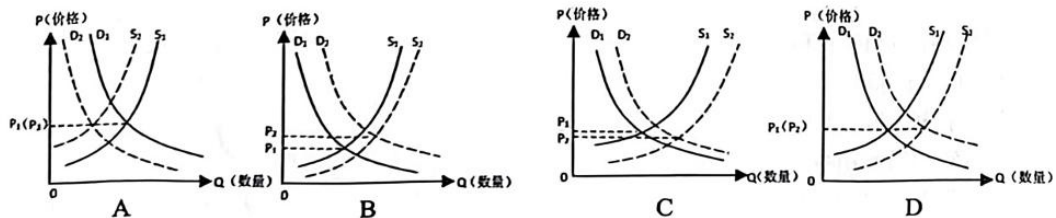


图4

9. 关于甲处冲蚀沟的形成，推测合理的是
- ①岩石裂隙发育，易被侵蚀 ②花岗岩出露较早，久经侵蚀
③火山喷发形成岩浆通道，地势低于两侧 ④变质作用明显，侵蚀速度快
- A. ①② B. ①③ C. ②④ D. ③④
10. 关于乙、丙两处堆积物的叙述正确的是
- A. 乙堆积物主要来自火山的喷发 B. 乙堆积物与黄土高原的黄土成因一致
C. 丙堆积物主要来自海浪的堆积 D. 丙堆积物的分选性与冰川堆积物相似
11. 与周边岛屿相比，该岛植被比较稀疏的原因是
- A. 暖流带来热量，蒸发旺盛 B. 所属自然带的植被种类单一
C. 丰富的地下水无法有效提供给植被 D. 岛上岩石裸露，土层浅薄
12. “一五”计划以来，中国式现代化道路经历了从“四个现代化”到“社会主义现代化”，再到“中国式现代化”不断完善的过程。习近平总书记指出：“我国要坚定不移推进中国式现代化，以中国式现代化推进中华民族伟大复兴，不断为人类作出新的更大贡献。”这说明中国式现代化道路
- ①构筑了实现中国梦的路线图 ②是新时代中国共产党全部理论和实践的主题
③为实现中国梦注入强大动能 ④为人类对更好社会制度的探索提供中国方案
- A. ①② B. ①③ C. ②④ D. ③④
13. 2023年是中国改革开放45周年。45年来我国社会主义现代化建设取得了辉煌成就，中华民族迎来了从站起来、富起来到强起来的伟大飞跃。下面关于改革开放表述正确的有
- ①是决定当代中国命运的关键抉择，是引领发展的第一动力
②是党和中国人民大踏步赶上时代的重要法宝，是强国之路
③从根本上改变了中国社会的发展方向，挽救和发展了中国
④极大改变了中国、中华民族、中国人民、中国共产党面貌
- A. ①② B. ①③ C. ②④ D. ③④
14. 经济学界有“一度效应”之说，即气温只要有1℃的变化，商品的销量就会随之发生很大改变。2022年的防晒市场上，以防晒衣为代表的“硬防晒”产品广受欢迎。1—4月，防晒衣成交增幅达157.11%，均价较上一年提高26.8%。若S、D分别表示供给和需求曲线（S₁、D₁为变化前曲线，S₂、D₂为变化后曲线）。不考虑其他因素，下图中能正确反映防晒衣供需状况变化的是



15. 党的二十大报告强调“推动经济社会发展绿色化、低碳化是实现高质量发展的关键环节。”我国要实施全面节约战略，完善支持绿色发展的财税、金融政策，发展绿色低碳产业，倡

导绿色消费，推动形成绿色低碳的生产方式和生活方式。关于财税政策促进经济高质量发展传导正确的是

- ①绿色、低碳企业减负增效 ②发挥政府对资源配置的决定性作用 ③增加对绿色、低碳企业的贷款融资支持 ④实施更大规模减税降费 ⑤激发企业创新活力 ⑥促进经济高质量发展
A. ②→③→①→⑥ B. ③→①→⑤→⑥ C. ④→①→⑤→⑥ D. ④→⑤→①→⑥

16. 2022年是内蒙古自治区成立75周年。75年来，在党中央的坚强领导和亲切关怀下，内蒙古各族人民感党恩、听党话、跟党走，全区经济社会发展和民族团结进步事业取得辉煌成就，长期保持了民族团结、社会和谐、边疆安宁的良好局面。内蒙古长期保持良好局面，是因为我国

- ①不断铸牢中华民族共同体意识，凝聚人心和汇集力量
②始终坚持民族平等、民族团结和各民族共同繁荣的方针
③坚持自治区人大、政府在中央的统一领导下行使高度的自治权
④坚持完善民族区域自治制度这一人民当家作主的最高实现形式

- A. ①② B. ①④ C. ②③ D. ③④

17. 2022年9月2日，十三届全国人大常委会第三十次会议通过《中华人民共和国反电信网络诈骗法》。在立法过程中，深入中国电信等企业及浙江等地调研，商请有关部门提供统计数据分析和案例，在草案稿出台前后多次召开座谈会听取各方意见，会同公安、工信、央行等部门就立法中的主要问题深入研究论证。这一立法过程体现了

- ①全过程人民民主是社会主义民主政治的本质属性
②全国人大常委会坚持立法协商，行使最高立法权
③社会主义立法始终坚持人民至上，坚持科学立法
④坚持民主集中制原则是我国治国理政的基本方式

- A. ①② B. ①③ C. ②④ D. ③④

18. 漫画（图5）《没有伞的时候，你只能选择向前冲》，告诉我们为人处事应遵循



图5

- A. 绝对运动和相对静止的统一
B. 个人价值与社会价值的统一
C. 绝对真理和相对真理的统一
D. 主观能动和客观实际的统一

19. 经过不懈探索，被誉为生命科学“登月计划”的人类基因组测序再次取得重大进展：国际科学团队端粒到端粒联盟（T2T）发表了第一个完整的、无间隙的人类基因组序列，揭示了高度相同的节段重复基因组区域及其在人类基因组中的变异，解决了20年前遗留下的科研难题，完成了史上最完整的人类基因组测序。这说明

- ①事物的质变由事物数量的积累引发 ②认识在发展的过程中不断超越自身
③科学发现离不开科学家的创新精神 ④社会意识随社会存在的变化而变化

- A. ①② B. ①④ C. ②③ D. ③④

20. 2022年9月上映的国庆献礼剧《大考》，是一部在近年来国产剧创作中比较独特的作品。它聚焦于一座县城的两所中学、一群师生，将疫情、洪灾等背景融于其中，以家庭和学校为单位，

讲述了大家协力奋战，共度难关的故事。该剧的成功得益于

- ①追寻艺术高度与当代现实的对立，引领风尚和服务社会
- ②书写敢于斗争、勇毅前行的平民人生，彰显人民主体性
- ③弘扬传统道德这一中华优秀传统文化的精华，彰显家国情怀
- ④深入生活，用心用情用功讲好中国故事，奏响时代强音

- A. ①② B. ①③ C. ②④ D. ③④

21. 2022年8月10日，中国政府发布《台湾问题与新时代中国统一事业》白皮书。台湾同胞福祉系于民族复兴，白皮书中增加了“愿继续以最大诚意、尽最大努力争取和平统一”，对“不承诺放弃使用武力”做了进一步解释。以围绕“台湾问题与新时代中国统一”的议题，高三（1）班同学展开讨论，其中观点合理的有

- ①台湾的前途只能也必须由包括台湾人民在内的中国人民决定
- ②我国实行单一制政权组织形式，台湾是中国的地方行政区域
- ③实现祖国完全统一符合当今时代潮流及世界各国的根本利益
- ④台湾问题是主权问题、是中国内政，不容任何外部势力干涉

- A. ①② B. ①④ C. ②③ D. ③④

22. 李某下班回家时，被夏某堆放在楼道的废弃衣柜砸伤，李某向法院诉请夏某承担侵权损害赔偿。就夏某是否具有过错的证明责任分担，下列表述正确的是

- A. 夏某承担举证责任，需证明自己无过错
- B. 李某承担举证责任，需证明夏某有过错
- C. 法院对夏某是否有过错，承担证明责任
- D. 夏某是否有过错，无人需承担证明责任

23. 认识对象的情况是多种多样的，仅仅依靠简单判断并不能全面地反映对象的情况。这就需要运用复合判断，以下表述与判断的类型对应一致的是

序号	表述	判断的类型
①	面对困难，要么被困难吓倒，要么去克服困难	不相容选言判断
②	只有笃定信心才能实现我们的既定目标	充分必要条件假言判断
③	今天的中国是梦想接连实现的、是充满生机活力的中国	联言判断
④	高三是人生中的重要阶段，我要珍惜这段美好时光	相容选言判断

- A. ①② B. ①③ C. ②④ D. ③④

24. 从河南二里头和时间稍后的四川三星堆遗址中，考古发现两地有一些共同特征的器物，都有陶盃（酒器）、龙形牙璋（礼器）、镶嵌绿松石铜牌、海贝等。但三星堆独特的青铜神像、金杖、面具和神树等，显示其特殊的祭祀行为。解读最准确的是

- A. 夏人礼仪在古蜀文明中传承
- B. 古蜀文明兼收并蓄、个性鲜明
- C. 两地的区外贸易都相当发达
- D. 两地文明之间存在着交流互鉴

25. 从先秦到秦汉,“疆”字的含义发生了重大变化,据表1可知

表1

出处	记载
《甲骨文字典·疆》	“弓”表示武器、尺具,“土”为大地,“疆”表示领地边界
《左传·成公十三年》	晋厉公遣人指责秦“倾覆我社稷,帅我殍贼,以来荡摇我边疆”
《史记·秦始皇本纪》	“圣法初兴,清理疆内,外诛暴强……外攘四夷,以安边境”
《汉书·王吉传》等	“禹迹九州”、“汉疆九州”,“六合同风,九州共贯”

- A. 分封制被郡县制所取代
B. 大一统边疆治理思想逐渐形成
C. 夷夏之别观念逐渐淡薄
D. 因俗而治治理机制的渐趋成熟
26. 唐朝旅游业发达促进了旅游思想的多元化发展,既有以济世安邦为目的的宦游,又有以化羽登仙为目的的仙游,更有以结得善缘为目的的释游,还有“身在江湖之上,心游魏阙(朝廷)之下”的隐游。这反映了
- A. 阶层流动性增强
B. 户籍管理松弛
C. 三教并行的影响
D. 魏晋遗风盛行
27. 宋代沿袭唐代的监察体制,御史台与谏院构成中央行政监察机构,合称为台谏系统。宋代以降至明清,言官多结党营私,谏官制度逐渐演化为皇帝御下之工具,始而谏院独立,继而科道合一,六科独立置署而后干脆并归督察院。这一过程
- A. 提升了监督稽查效率
B. 避免了国家决策失误
C. 扩大了司法职权范围
D. 适应了皇权强化需要
28. 我国是世界上施肥历史最悠久的国家之一。到明清时期肥料种类已达100多种,江南地区输入的商品中出现了用作肥料的豆饼,江南内部也出现了频繁的粪肥买卖活动。这表明当时
- A. 江南地区农家肥出现了商品化的趋势
B. 集约化种植对肥料需求增多
C. 江南地区在全国农业中居于领先地位
D. 长途贩运促进统一市场形成
29. 1871年6月,美国驻华公使镂斐迪率军与朝方交涉的时候,朝鲜王廷致中国礼部咨文,声明:朝鲜“凡在人臣,义无外交”,并恳请中国特降明旨,开谕美国使臣,以为破惑释虑,各安无事”。这说明
- A. 清朝对外关系开始缓慢转型
B. 朝鲜希冀用中朝宗藩关系抵御西方侵扰
C. 朝鲜的内政外交受制于中国
D. 美国试图以朝鲜为跳板进一步侵略中国
30. 1932年7月,中华苏维埃共和国国家银行在苏区发行不同面值的纸币、银币和铜币,即“苏币”。纸币上印有“全世界无产阶级联合起来”、“政权归苏维埃,土地归农民”等文字。折价收兑国民党区域银行货币,私人钱庄、商铺土杂钞一律取缔。苏币发行旨在
- A. 宣传土地革命思想
B. 巩固苏维埃红色政权
C. 推动国内货币统一
D. 打击地主商人封建剥削
31. 图6是1956年5月创作的《歌唱祖国的春天》。该画工笔重彩,描绘的是上海近郊农民农闲时聚在一起,听一位老妈妈放声歌唱。该作品
- A. 体现了传统中国画写意传神的特点
B. 反映了农业社会主义改造的完成
C. 表现了艺术家歌颂时代的热情
D. 表达了对农民劳动精神的赞美



图6

姓名_____ 座位号_____

(在此卷上答题无效)

32. 有学者认为在古代农业文明中, 两河流域的文明不像古埃及采用绝对的神权政治, 不像古印度顽固地保留着种姓制度, 也不像古中国宗法制长期流行。西亚的地理环境造就商业的流行, 商业契约普遍, 由此产生了君主制政体下的法制型政治方式。这说明
- A. 血缘等级制度是农业文明的共性
B. 地理环境决定了西亚的政治体制
C. 商业发展对西亚文明的影响突出
D. 大河文明与商业文明有较大差异
33. 西方史学家孟席斯在其著作《1434:一支庞大的中国舰队抵达意大利并燃起文艺复兴》中声称, 15 世纪意大利文艺复兴时期达·芬奇的许多机器设计图与元代王祯的《农书》等中国古籍的设计图“惊人地”相似。此说法可用以佐证
- A. 达芬奇模仿中国科技成果
B. 东方文化点燃文艺复兴之火
C. 中国传统科技领先于西方
D. 东学西传影响西方科技发展
34. 1884 年柏林会议总议定书第三十五条: 本议定书各缔约国承认, 在各缔约国所占之非洲大陆沿岸地区的领土上, 有责任确保建立一个足以保护他们既得权利的政权。并可在必要时, 根据规定的条件, 保证贸易自由和过境自由。该条款
- A. 明确规定列强对非洲的有效占领原则
B. 划分了列强占领非洲的势力范围
C. 旨在建立保护列强在非利益的傀儡政权
D. 解决了列强殖民非洲的矛盾冲突
35. 表 2 美国加拿大——欧盟关于肉牛使用生长激素的贸易争端案例

20 世纪 70 年代	欧洲理事会禁止美国、加拿大过量激素牛肉进口
20 世纪 90 年代	美、加向 WTO 起诉, 欧盟因未能证明激素牛肉有害而败诉
21 世纪初期	欧盟诉美、加持续对欧制裁, WTO 调查裁定美加败诉
2012 年	美、加解除对欧制裁, 欧盟增加不含激素牛肉进口, 争端解决

表 2 反映了

- A. 世贸组织肩负维护市场公平的使命
B. 欧盟设置人为贸易壁垒
C. 美国加拿大存在严重食品安全问题
D. 世界市场出现逆全球化

二、非选择题: 本题 9 小题, 共 160 分。

(说明: 地理部分 2 题, 共 56 分; 思想政治部分 4 题, 共 52 分; 历史部分 3 题, 共 52 分)

36. 阅读图文材料, 完成下列要求。(28 分)

Y 乳业公司是华南地区首屈一指的乳制品企业集团, 形成了独具特色的一体化全产业链。公司高度重视奶源基地建设, 在省内拥有 12 家远离城市的大型牧场, 拥有自己的规模化专业冷链运输车队。牛奶挤出后会快速制冷并在当天交售到工厂进行加工生产, 产品之一的低温奶储存运输全程冷链, 温控要求严格, 深受消费者喜爱。近几年 Y 乳业借助新兴网络社交平台, 开展多场景多维度的营销, 电商渠道低温奶的销量增长快速。图 7 示意 Y 乳业全产业链, 图 8 示意冷链物流产业链。

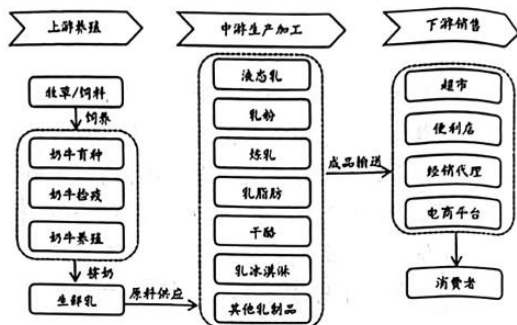


图 7

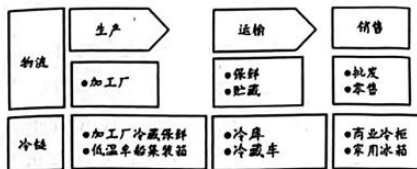


图 8

- (1) 简析该公司奶源品质高的主要区位优势。(6分)
 - (2) 说明地理信息技术在低温奶冷链配送中的具体应用。(6分)
 - (3) 分析该公司低温奶在电商渠道销量快速增长的原因。(8分)
 - (4) Y 乳业公司于 2020 年获得工业和信息化部颁发的“国家绿色工厂”荣誉，试推测该公司为实现碳减排所采取的措施。(8分)
37. 阅读图文材料，完成下列要求。(28分)

材料一

我国南海海域分布着众多珊瑚环礁，珊瑚环礁多由珊瑚虫营造而成，造礁珊瑚一般生活在水温 $22^{\circ}\text{C}\sim 28^{\circ}\text{C}$ 、光线充足、水质清洁的水域，弱碱性海水有利于珊瑚的形成。近年来，珊瑚礁的退化已成为全球关注的热点问题。图 9 为珊瑚环礁形成过程示意图。

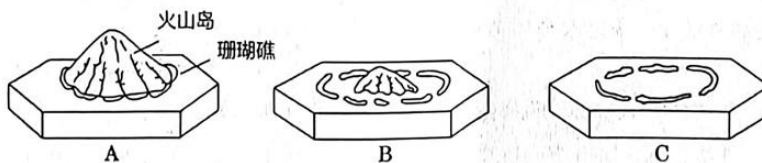


图 9

材料二

图 10 为 M 礁，风大多砂，周围海面无风三尺浪，海浪最高时达 20 多米，而泻湖里浪高仅有 1 米。礁盘内水体深 20-30 米，泻湖环境较好，礁盘以外约 1 公里处，水深达千米以上。近年来，M 礁周边海域的深海网箱养殖（水深 20 米以下）迅速发展。

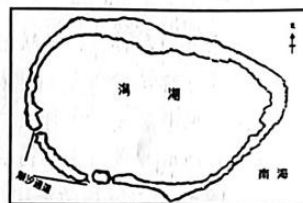


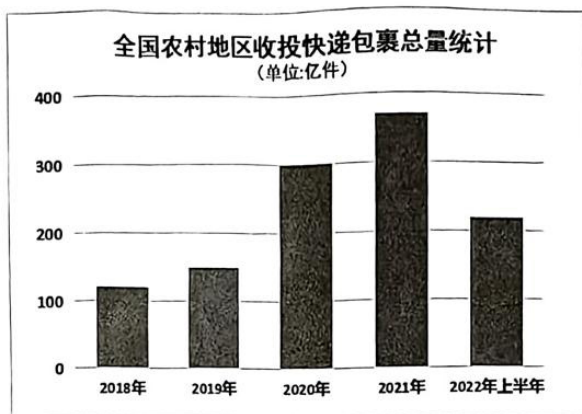
图 10

- (1) 描述图示环礁形成的地质过程。(6分)
- (2) 依据材料探究珊瑚礁生态系统退化的自然原因。(6分)
- (3) 推测 M 礁周边海域海浪强劲的原因。(6分)
- (4) 简述 M 礁西南部潮汐通道的作用。(4分)
- (5) 你是否赞同在 M 礁周边海域大力发展养殖业并说明理由。(6分)

38. 阅读材料，回答问题。(12分)

2020年4月，国家邮政局印发了《快递进村三年行动方案(2020—2022年)》，提出到2022年底符合条件的建制村基本实现“村村通快递”。2020年开始实施的“快递出海”工程将助力我国农产品扬帆出海。

材料一



注：2022年，平均每天约有1亿多件包裹进出农村

材料二

2021年，全国农村地区快递包裹带动农产品出村进城和工业品下乡进村超1.85万亿元。2022年上半年，农村地区快递包裹支撑农产品网络零售额突破2900亿元，同比增长12.4%。大樱桃、无花果、羊角蜜……诸多原本只能在实体店购买的生鲜水果，现在动动手指就能送到家。此外，一些具有特殊地理标志的农产品成为网民网购的“抢手货”。

随着一架顺丰767飞机的落地，顺丰国际仅用17个小时，将从云南深山采摘下的松茸运抵至狮城新加坡，高效守护松茸的“鲜”，让全世界食客品尝大自然的美味。顺丰国际针对不同品类、不同行业客户的跨境配送需求，提供定制个性化端到端跨境物流解决方案，助力中国企业走出国门，打开国际市场。

概括材料一蕴含的经济信息，结合材料二并运用《经济与社会》和《当代国际政治与经济》知识，说明快递行业是如何促进我国经济社会发展的。

39. 阅读材料，回答问题。(12分)

马克思认为，“理论只要说服人，就能掌握群众；而理论只要彻底，就能说服人。”中国古代典籍《弟子规》云：“势服人，心不然；理服人，方无言。”

近期，中宣部理论局编撰出版的《百年大党面对面》在广大党员干部中引起热烈反响。作为2022年通俗理论读物，《百年大党面对面》坚持问题导向，聚焦党的百年奋斗重大成就和历史经验，对13个重大理论问题作出深入浅出的阐释。从群众最熟悉、最关注的“小切口”着眼，分析阐述党的百年奋斗的大道理。讲清楚中国经验超越时空、跨越国界的伟大意义，深刻论述过去我

们为什么能够成功、未来我们怎样才能继续成功的深刻道理，深刻阐释中国共产党何以百年风华正茂、中华民族何以实现命运蝶变的成功“密码”。

结合材料，运用《中国特色社会主义》和《政治与法治》知识，探究中国共产党百年风华正茂、中华民族实现命运蝶变的成功“密码”。

40. 阅读材料，回答问题。(6分)

2022年11月21日H市中院发布一起纠纷案的判决。蓝某于2020年5月11日向国家知识产权局专利局申请了名称为“手机支架(仪表夹)”的外观设计专利，于2020年9月4日获得授权。该专利产品经生产销售后，迅速成为手机支架市场上的爆款产品，深受广大用户喜爱，在电商平台上拥有极高市场知名度。随着该产品在市场上爆款销售后，S县某百货商行便在电商平台上开设店铺，销售侵害该外观设计专利权的产品，大幅降低了蓝某某的市场占有率，损害了蓝某某的合法权益，故蓝某某诉至法院。

运用《法律与生活》知识，结合本案说明蓝某的什么权利受到了侵害并谈谈你的认识。

41. 阅读材料，完成下列要求。(22分)

材料一

“当代中国马克思主义、二十一世纪马克思主义”是对习近平新时代中国特色社会主义思想之理论地位、历史地位特别是世界地位的政治判定。这一思想的研究对象是二十一世纪最伟大的实践样本——中国样本，这一思想属于马克思主义在二十一世纪的主干形态，这一思想的世界意义在于为解决人类重大问题提供了中国方案。

(1)“习近平新时代中国特色社会主义思想是当代中国马克思主义，是二十一世纪马克思主义”，结合材料一，运用矛盾问题的精髓有关知识加以说明。(8分)

材料二

习近平新时代中国特色社会主义思想是马克思主义与中华文化融通汇合的理论结晶，是中华文化和中国精神的时代精华。大同理想是中华民族伟大复兴的中国梦的传统文化渊源；民惟邦本是以人民为中心的发展思想的传统文化渊源；和合共生是构建人类命运共同体的传统文化渊源；天人合一是一人与自然和谐共生理念的传统文化渊源……中国优秀传统文化蕴含的丰富的哲学思想、人文精神、道德理念，为习近平新时代中国特色社会主义思想提供了丰富的文化来源。

(2)结合材料二，运用文化遗产与文化的知识，说明为什么习近平新时代中国特色社会主义思想是中华文化和中国精神的时代精华。(8分)

材料三

新时代十年，党和国家事业取得历史性成就、发生历史性变革，最根本的原因在于有习近平总书记作为党中央的核心、全党的核心掌舵领航，在于有习近平新时代中国特色社会主义思想科学指引。新时代十年的伟大变革，充分证明了中国化时代化的马克思主义行。

(3)运用科学思维的特征知识，以“中国化时代化的马克思主义行”为题拟一份发言稿。(6分)要求：①围绕主题，观点鲜明；②论证充分，逻辑清晰；③学科术语使用规范；④总字数在200字左右。

42. 阅读材料,完成下列要求。(25分)

材料一

中国历史也是一部抗灾斗争史。从先秦至明清,逐渐建立了赈贷、平糶、蠲减、贫分、移民等体系完备的救灾赈济的荒政制度。范仲淹任杭州知州时,遇杭州大旱,吴中大饥,饿殍枕路。范仲淹实施了荒政三策:一是发放粮食并鼓励民众存粮,增高米价至180钱,四方商人争相进密,粮价回落至斗120钱。二是大兴土木,“饥岁工价至贱,可以兴造寺庙、粮仓、吏舍,日役千夫。”三是竞渡宴游。“纵民竞渡,太守日出宴于湖上,自春至夏,居民空巷出游。”范仲淹“发有余之财,以惠贫者。贸易饮食、工技服力之人仰食于公私者,日无虑数万人。是岁,两浙唯杭州晏然,民不流徙,荒政之施,莫此为大”。

——摘编自邓拓《中国救荒史》沈括《梦溪笔谈》

材料二

1876-1878年,华北、西北等省持续三年大面积干旱,这场被称为“丁戊奇荒”的特大灾荒和其后流行的瘟疫,造成上千万人口的死亡。清政府财政困难,主要靠民间赈济,江南士绅自发到华北赈灾,赈灾的重点对象是儿童。外国教会也积极赈灾。洋务派地方大员参与赈济的整个过程。在军务、洋务和赈务发生复杂交织的情况下,洋务派“求强”“求富”活动出现顿挫。洋务派出现了主张农工商各部门相弥相补、发展近代工商业和近代农业以减灾备荒的思潮,并主张建立官、商、民多种力量相结合的救灾备荒体系。

——谢高潮《晚清洋务派恢复社会经济的荒政主张与活动》

材料三

法国历史学家费尔南·布罗代尔提出了著名的历史研究三时段理论。布罗代尔有关历史的三时段理论,即人类历史发展分长时段、中时段和短时段,对应着历史的地理时间、社会时间和个体时间。地理环境是决定历史演进的根本要素,因为地理环境因素,变化极其缓慢;制度、法律、习惯等社会演变相对缓慢;普通人个体是历史活动的重要参与者。

——王伟《布罗代尔史学研究》

- (1) 根据材料一并结合所学知识,解释范仲淹荒政三策的创新之处。(8分)
- (2) 根据材料二并结合所学知识,分析“丁戊奇荒”对近代中国荒政的影响。(10分)
- (3) 根据以上材料并结合所学知识,简要评析布罗代尔三时段理论。(7分)

43. 阅读材料,完成下列要求。(12分)

材料

一朵洁白的棉花,串联起横跨数百年的世界近现代史。棉花产业经历了一个漫长的演变历程,其中,世界棉花种植者、制造商和消费者之间的空间关系不断变化。公元11世纪之前,世界上只有南亚、东非及美洲中部生产棉花,此时棉花产业发展非常缓慢。1500年前后,随着新航路开辟及殖民扩张的推进,一个由欧洲人主导的,将亚洲、非洲、美洲紧密联系起来的贸易体系逐渐形成了。18世纪蒸汽机的出现,带来棉纺织技术革命,到了1860年,整个欧洲,特别是英国,已经成为世界棉花网络的中心。19世纪末,随着垄断资本主义形成,“棉花资本主义”的扩张,帮助殖民主义掠夺了全球南方的资源和劳动力,但它也激发了全球南方争取民族独立和解放运动,并开启了新兴国家积极地发展民族资本主义,特别是印度、中国等国,当地的资本家更是将棉花视为民族主义振兴的象征。当棉花在亚洲再度兴起之时,欧洲的棉花产业开始走向衰落。

——摘编自斯文·贝克特《棉花帝国:一部资本主义全球史》

围绕材料，就材料整体或某一方面自拟一个论题，运用世界近现代史相关知识予以论述。（要求：论题明确，论证充分，史实准确，表述清晰。）

44. 阅读材料，完成下列要求。（15分）

文化外交是主权国家利用文化手段实现对外文化战略目标的一种外交手段。新中国成立至今，文化外交成果丰硕，形成了完整的战略布局。但在国际上中国文化外交仍然存在很大挑战。

表 3

时间	主张	成就	挑战
新中国成立时期	反对霸权、支持第三世界、和平共处、平等互利、相互吸收	与苏联、东欧等社会主义国家展开文化交流与合作	美苏冷战霸权主义
文革时期	文化外交曾一度停顿	乒乓外交	/
改革开放时期	求同求和与全面参与	北京奥运会、上海世博会 与 123 个国家签订文化合作协定， 与 160 多个国家文化往来， 与数千个世界文化组织保持联系	“文明冲突论” “历史终结论” “中国威胁论” “中国崩溃论”
新时代	尊重世界文明多样性 以我为主、兼收并蓄	“一带一路” “人类命运共同体” 北京冬奥会、《流浪地球》 中国式现代化	关闭孔子学院 限制留学生 “阴间滤镜” “双重标准”

——摘编自杨悦《新中国文化外交 70 年——传承与创新》等

- （1）根据材料并结合所学知识，分析新中国成立以来文化外交变化的原因。（8分）
- （2）根据材料并结合所学知识，概括中国应对文化外交挑战的举措。（7分）

2023 届安徽省“江南十校”联考

地理试题评分参考

一、选择题（本大题共 11 小题，每小题 4 分，共 44 分）

题号	1	2	3	4	5	6	7	8	9	10	11
答案	B	D	C	D	A	B	C	D	A	C	D

1. B 由图示可以看出，该城市人口数量红利贡献率先增后减再增，人口数量红利贡献率的增幅更大；依据材料，该城市人口质量红利呈上升趋势，而我国东部沿海发达城市随着老龄化程度加深，人口数量红利呈下降趋势。
2. D 该城市经济发达，科技水平高，人口质量红利高而贡献率却不高，原因是大量人才涌入导致人才市场就业竞争激烈，过高的人才密度超过地区资源承载力，引起人才资源配置失衡，从而使人才效能得不到有效发挥。
3. C 雨水在坡面汇集进入蓄水池会携带大量枯枝落叶及泥沙，水质较差且雨水不稳定；地势较低的河水作为水源需要水泵抽取；皖南山区气候湿润，植被覆盖率高，地下水丰富、稳定、水质好且易出露；冬季有短暂积雪，积雪融水不稳定。
4. D 结合材料，引水及蓄水工程能实现全程自流；生活用水出口最低，能使用的蓄水池水量最多，首要功能是保障生活用水；泉水中泥沙等少量沉淀物在沉淀池沉淀，少许的落叶等漂浮物可以通过自流出口和灌溉出口流出，可见排除水中杂质的排出口较多；蓄水池具有一定的容量，可以调节水资源的时空分布，增强抗旱能力。
5. A 茶树、果树和毛竹为当地地带性植被，根系发达，耐旱能力强，且茶园、果园以及竹林种植面积大，灌溉需水量大；高山村落菜园分布离居住地近，面积较小且集中，一年四季菜园种植强度大且蔬菜根系浅，耐旱能力弱，水资源供需矛盾较大。
6. B 甲土壤为黑土，东北气候冷湿，土壤有机质分解慢，积累多，有机质含量高，颜色呈暗灰至灰黑色，质地为粘壤土至轻粘，毛细管孔隙多，蓄水、保肥性能强。
7. C 黑钙土的中下部有钙积层，说明该地区降水较少，土壤的淋溶作用较弱，土壤含盐量较高，发育草甸草原；落叶阔叶林地区的地带性土壤为褐土；针阔叶混交林地区的土壤为暗棕壤；温带荒漠地区的土壤为荒漠土。
8. D 要提高甲土壤的有机质含量，秸秆还田、增施有机粪肥、粮肥轮作、栽培绿肥等是有效措施。施用化肥能提高土壤肥力，但不能提高土壤有机质含量；平整土地能减轻水土流失；蓄水能提高土壤的含水量。
9. A 结合材料，该岛主要的地质活动为岩浆侵入，花岗岩形成时发育有裂隙（节理），出露地表后，流水侵蚀的速度较其他地方快，形成冲蚀沟；或者甲处形成背斜，岩性疏松易被侵蚀，使得下层花岗岩出露地表时间长，侵蚀时间久。
10. C 乙堆积物位于陡崖下方，从形态上看，呈重力崩塌状态，故堆积物主要为陡崖崩塌所致，而

黄土高原的黄土主要为风力堆积；丙位于海滩，呈海滨沙滩状态，应是海浪堆积所致，分选性好，冰川堆积的分选性较差。

11. D 该岛位于大不列颠岛附近，属于典型的温带海洋性气候，夏季比较凉爽，蒸发相对较弱；自然带为典型的温带落叶阔叶林带；该岛面积较小，且花岗岩属于不透水层，故地表水与地下水都缺乏；该岛岩石裸露，土层不易发育，是造成植被稀疏的主要原因。

二、非选择题（共 2 题，56 分）

36.（28 分）

（1）重视科技投入，注重奶牛的育种和检疫，奶牛品质好；牧场地处亚热带季风气候区，气候湿润，优质牧草供应充足；牧场所处地区远离城市，生态环境优越。（每点 2 分，共 6 分）

（2）配备定位导航装置加强对车辆跟踪管理，提高配送效率；应用地理信息系统选择最优配送路线，缩短配送距离；综合各种地理信息技术密切与客户沟通，缩短客户取货时间。（每点 2 分，共 6 分，若仅答地理信息系统或 GIS 得 1 分，仅答 GPS 或北斗得 1 分）

（3）低温奶品质更优，符合现代消费者的健康需求；高效的销售平台扩大知名度，增强消费者对品牌的认可度和依赖性；冷链物流规模化降低了低温奶的运输成本；高效率的冷链物流延长低温奶运输距离，扩大低温奶销售市场。（每点 2 分，共 8 分）

（4）工厂按环保建筑标准建造；引进先进低能耗设备生产；采用光伏新能源发电，提高清洁能源占比；积极使用绿色环保包装材料等。（每点 2 分，共 8 分，言之有理酌情给分）

37.（28 分）

（1）热带海域海底岩浆喷发，形成火山岛；火山岛周围水体较浅，浅水环境适合珊瑚虫生长，大批造礁珊瑚和其他生物骨骼在浅海岸边沉积，形成珊瑚礁；地壳垂直运动引起火山岛地壳相对下沉（或海平面上升），环礁出露。（每点 2 分，共 6 分）

（2）全球气候变暖，海水表面温度升高，影响珊瑚虫生存，导致珊瑚礁减少；大气中二氧化碳浓度增加，海洋酸化，珊瑚礁退化；地壳升降运动，珊瑚虫缺少适宜生存的空间。（每点 2 分，共 6 分）

（3）南海海域受东北、西南季风及夏秋季台风影响，风大浪高；受外部海域海水影响，无风期易受涌浪影响形成强劲海浪；岛礁周边水深变浅，波长缩短，波高抬升，海浪强劲。（每点 2 分，共 6 分）

（4）利于潟湖内外水体交换，保证水质优良；潟湖内形成优良避风港，潮汐通道为渔船提供入湖通道；可利用潮汐涨落水位差进行发电。（每点 2 分，任答 2 点共 4 分）

（5）赞同；海域辽阔，养殖范围广阔；气候条件优越，鱼类养殖期较短；远离大陆，不易受到工业污染，水质较好，鱼类品质高；促进热带渔业发展，替代进口产品；国内外市场广阔。（每点 2 分，共 6 分，言之有理酌情给分）

不赞同；M 礁周边夏秋季多台风，风浪大；产品运输距离较远；大规模养殖容易破坏脆弱的生态环境。（每点 2 分，共 6 分，言之有理酌情给分）

“江南十校”·地理答案 第 2 页 共 2 页

2023 届安徽省“江南十校”联考 历史试题评分参考

评分说明：

非选择题部分，若考生答案与本答案不完全相同，但言之有理，可酌情给分，但不得超过该题所分配的分值。

一、选择题（本大题历史试题共 12 小题，每小题 4 分，共计 48 分）

题号	24	25	26	27	28	29	30	31	32	33	34	35
答案	B	B	C	D	A	B	B	C	C	D	C	A

24.B

两地出土的器物存在明显的共同特征，但三星堆器物也保留特殊个性，故选 B 项。材料无法反映夏礼仪在古蜀传承，故 A 项错；海贝不能证明区外贸易相当发达，故 C 项错；两大文明从时序上，不能得出互相借鉴结论，故 D 项错。

25.B

从田地界限到与邻国接壤的领土或邻国再到疆域界限，可以看出先秦到秦汉边疆治理中大一统思想逐渐形成，故选 B 项。材料无法得出分封制取代郡县制，故 A 项错；夷夏之别在秦汉仍然存在，故 C 项错；材料无法得出因俗而治，故 D 项错。

26.C

唐朝旅游出现多元化，与实行三教并行政策有关，故选 C 项。阶层流动主要是受科举制影响，从题干中无法得出，故 A 项错；唐朝大索貌阅，户籍管理严格，故 B 项错；魏晋遗风与多元化旅游不符，故 D 项错。

27.D

宋代以前相对独立的监察机构，到了宋代以后逐渐演变成加强皇权的御用工具，这与宋代以后君主专制的加强有关，故选 D 项。材料无法得出监督稽查效率得到提升，故 A 项错；监察制度的变化无法避免国家决策的正确与否，故 B 项错；监察机构并非掌握司法职权，故 C 项错。

28.A

明清时期，商品经济和经济作物的种植上都有重大的发展，出现了农产品商品化，随之农业肥料也进入商品流通领域，故选 A 项。材料无法反映集约种植和长途贩运，也无法反映在全国农业中居于领先地位，故 B、C、D 项错。

29.B

据材料可知，朝鲜寄希望于利用中朝的宗藩关系抵御西方的殖民侵扰，故选 B 项。清朝前期对外关系就开始缓慢转型，故 A 项错；宗藩关系不是通过武力形成，不干涉内政，只是藩属国接受册封等，故 C 项错；材料无法看出美国有进一步侵略中国的打算，故 D 项错。

30.B

苏币的发行有利于统一苏区金融、苏区经济建设和苏维埃政权的巩固，故选 B 项。A、D 项表述与苏币发行主旨不符，故 A、D 项错；苏币仅适用于革命根据地，故 C 项错。

31.C

该作品是 1956 年著名画家程十发在“双百”方针指引下所创作的紧扣时代主题的绘画作品，故选 C 项，排除 A 项；B 项时间不符；材料反映的是农民歌唱祖国，故 D 项错。

32.C

西亚文明也是一种典型的农耕文明，但是由于其地理位置的特殊，对其商贸往来产生重要影响，而商业的发展又为西亚文明注入了重要的变化动因，表现在西亚历史上的君主制的政体下采用了法制型的政治方式、法律体系、商业契约以及商业战争等。据此可以排除 B、D 项，选 C 项；材料无法反映西亚有血缘等级制度，故 A 项错。

33.D

孟席斯的著作证实了中国古代科技的输出对西方发展的促进作用，故选 D 项。从材料无法否定达芬奇自身创造性，所谓模仿证据不足，故 A 项错；文艺复兴的发生是西方社会内在发展的结果，仅从材料无法得出 B 项结论；明清时期中国传统科技逐渐落后于世界，故 C 项错。

34.C

根据材料可知列强意在通过扶植并控制非洲本土政权以保证其在非洲的统治和经济利益，故选 C。材料未体现“有效占领”原则，故 A 项错；B 项势力范围在材料中未体现；该条款只能协调列强在非矛盾冲突，但不可能解决矛盾，故 D 项错。

35.A

在争端的整个抗辩和裁决过程中，世贸组织肩负着维护国际贸易自由和公正的神圣使命，故选 A 项。标准范围内的激素肉牛不一定构成美国和加拿大的食品安全问题，故 C 项错；对欧盟来说，如果进口牛肉对健康有损害，那就要看问题的大小和影响的程度，采取相应措施，欧盟此举只是程度问题，是出于食品安全的考虑，故 B 项错；D 选项材料未体现。

二、非选择题（本大题历史试题共 3 小题，共 52 分）

42.（25 分）

（1）以工代赈，兴办工程以增加就业；纵民竞渡宴游，发展旅游业服务业，刺激消费，增加就业；提高谷价，利用市场机制解决了粮食运输、市场供应和平抑价格等问题；运用政府干预和市场商业力量，赈济贫民成效显著，稳定了社会秩序。（每点 2 分，共 8 分）

（2）与传统的荒政相较，丁戊奇荒促使近代中国在救济主体、救济模式、荒政理念与救济范围等方面实现了重大变革。（3 分）朝廷行为的减弱、洋务派地方官员作用增强，江南绅商地域救荒活动，外国传教士义赈，促使官商民多种力量相结合的多元化社会化的荒政思想和体系产生。（3 分）军事、经济让位民生，体现民生为大的荒政传统，维护了清政府的统治；（2 分）洋务派通过学习西方器物文明寻求富强、发展近代农工商业经济的主张和实践，促进了荒政近代化。（2 分）

（3）布罗代尔三时段理论，注重从历史的纵向按长、中、短时段阐释历史，尤其重视地理环境的作

用,重视对普通人的研究,将社会学纳入研究视域;更能够清晰叙述中国乃至人类抗灾史的进程,比较准确的阐释中国乃至人类荒政史的规律,有利于总结抗灾历史经验,顺应历史发展趋势。(4分)
但布罗代尔史学理论认为地理环境是决定历史演进的根本要素,看不到经济基础决定上层建筑,看不到生产力和生产关系的矛盾运动是人类历史发展的根本动力,忽视关键事件和杰出人物在历史发展进程中的重大作用。(3分)

(考生言之成理可酌情得分)

43. (12分)

示例

论题:棉花的发展史既是一部资本主义经济史,也是一部民族独立运动史(2分)

论述:随着新航路的开辟,西欧国家率先踏上对外殖民扩张之路,18世纪拉丁美洲已经完全处于欧洲列强的殖民统治之下;随着工业革命的开展,西方加快对外经济侵略的步伐;19世纪后期,伴随着第二次工业革命的浪潮,西方列强掀起了瓜分世界的狂潮,把亚非拉的广大地区和人口变成它们的殖民地或半殖民地,19世纪末20世纪初,世界基本被瓜分完毕,资本主义世界殖民体系最终形成。随着资本主义世界殖民体系的形成,世界上几乎所有国家和地区都被卷入资本主义世界市场之中,以欧美工业国为主导的世界市场最终形成了。

资本主义世界殖民体系形成了人类历史上由少数资本主义国家奴役和控制世界绝大部分土地和人口的极不合理的状态,打断了亚非拉的发展进程,使亚非拉国家成为欧美工业化的经济附庸,给当地人民带来深重灾难。同时也迫使亚洲各国重视发展民族工业,民族资本主义得到一定的发展,亚洲各国人民掀起了反帝反封建的民族民主运动,如伊朗的立宪革命、中国的辛亥革命、印度的民族解放运动是典型代表。亚非拉民族独立运动冲击了资本主义世界殖民体系,打击了帝国主义的侵略势力,削弱了本国封建势力,推动了民族独立和世界历史发展。(8分)

综上所述,棉花的发展史反映了欧洲各国走上殖民扩张的道路,它既是人类的曙光又是人类的灾难。因此,它既是一部资本主义经济史,也是一部民族独立运动史。(2分)

(示例只供评分参考,不作为唯一标准答案,考生拟定其他论题,阐述合理即可得分)

参考论题

- ①论题:资本主义世界殖民体系不断形成
- ②论题:近代西方的崛起是建立在对亚非拉殖民掠夺基础上
- ③论题:西方殖民扩张引发亚非拉民族独立运动
- ④论题:棉花的发展史体现东西方“中心-边缘”结构的逐渐瓦解

44. (15分)

原因:东西方意识形态和社会制度差异;国际局势的变化;国家综合实力不断增强、国家利益边界的拓展;国家方针政策的调整和文化自信的增强(8分)

举措:坚持独立自主和平外交;构建人类命运共同体理念和中国式现代化人类文明新形态,提高国家文化建设能力;加强文化外交的多维度创新,加强对外文化传播;积极搭建多边交流平台,鼓励城市、社区与民间力量参与(7分)

(考生言之成理可酌情得分)

2023 届安徽省“江南十校”联考 政治试题评分参考

一、选择题（共 12 小题，每题 4 分，共 48 分，在每小题给出的四个选项中，只有一项是符合题目要求的）

题号	12	13	14	15	16	17	18	19	20	21	22	23
答案	D	C	B	C	A	B	D	C	C	B	A	B

12.D【详解】中国式现代化道路是中国共产党遵循社会发展规律和社会主义建设规律，创造的人类文明新形态，为全面推进中华民族伟大复兴指明了前进方向和实现途径，也注入了强大动能，又为世界现代化模式多元发展贡献了中国智慧和方案。③④正确。“十四个坚持”是实现“两个一百年”奋斗目标、实现中华民族伟大复兴中国梦的“路线图”和“方法论”，①错误。改革开放以来党的全部理论和实践的主题是中国特色社会主义理论，②错误。

13.C【详解】改革开放四十多年以来取得了辉煌成就，中华民族迎来了从站起来、富起来到强起来的伟大飞跃。这说明改革开放是强国之路，党和人民大踏步赶上时代的重要法宝，改革开放极大地改变了中国的面貌，中华民族的面貌，是决定实现“两个一百年”奋斗目标、实现中华民族伟大复兴的关键一招，②④符合题意。改革开放是决定当代中国命运的关键一招，科学技术是第一生产力、创新是第一动力、人才是第一资源，①说法错误。中华人民共和国的成立从根本上改变了中国社会的发展方向，只有社会主义才能救中国，只有中国特色社会主义才能发展中国，③排除。

14.B【详解】从题干信息可知，供给量和需求量都在增加，且需求增幅大于供给增幅，故均衡价格提高，B 正确。C 中需求增幅小于供给增幅，不合题意。A 不符合题意，D 中供给量和需求量同幅增加，且均衡价格不变，与题意不符。

15.C【详解】充分发挥市场在资源配置中的决定作用，更好发挥政府的作用，②表述错误，③属于货币政策，A、B 错误。④属于财税政策，减税降费有利于绿色、低碳企业减负增效，激发企业创新活力，推动经济高质量发展。排除 D。

16.A【详解】自治地方的自治机关，即人民代表大会和人民政府行使自治权，特别行政区行使高度自治权，③错误；民族区域自治制度是基本政治制度，人民代表大会制度是我国的根本政治制度，是人民当家作主的重要途径和最高实现形式，④错误；①②正确。

17.B【详解】立法中广泛征求和听取意见建议，说明坚持立法协商，贯彻全过程人民民主，全过程人民民主是社会主义民主政治的本质属性（二十大报告），①正确。深入相关行业调查研究、研究论证，商请有关部门提供统计数据分析和案例，使法律尊重和体现客观规律，更好维护人民群众的意志和利益，③正确。全国人大常委会行使立法权，全国人大行使最高立法权，②错误。材料体现了民主集中制原则，但依法治国是我国治国理政的基本方式，④错误。

18.D【详解】漫画告诉我们在面对不利条件时，要正确发挥主观能动性，做到主观能动和客观实际的

统一，D 正确；材料未涉及物质的运动性、真理以及价值的实现和创造，故 A、B、C 不选。

19.C【详解】材料强调的人类基因组测序再次重大进展属于科学发现，体现了认识在发展的过程中不断超越自身，该发现离不开科研团队的创新精神，②③正确，C 当选；事物数量的积累或组成要素排列次序上的变化都可能引起质变，①表述不严谨；④与材料无关。

20.C【详解】文化创作要扎根人民，服务人民，彰显人民的主体性，②正确；《大考》的创作立足疫情防控和抗洪的实践，深入生活，用心用情用力讲好中国故事，奏响时代强音，④正确。文化作品的创作要追求艺术和现实的统一，①表述错误；传统道德有精华也有糟粕，是不是中华优秀传统文化要具体分析，③表述错误。

21.B【详解】台湾问题是主权问题、是我国内政，不容任何外部势力干涉；台湾的前途应该由包括台湾人民在内的 14 亿中国人民决定。①④正确。单一制是我国的国家结构形式非政权组织形式，②错误；实现祖国的完全统一符合时代潮流，但不一定符合各国根本利益，③错误。

22.A【详解】《民法典》第 1255 条规定：“堆放物倒塌、滚落或者滑落造成他人损害，堆放人不能证明自己没有过错的，应当承担侵权责任。”这是关于堆放物致人损害之侵权责任的规定。堆放人夏某承担过错推定责任。夏某主观上具有过错，是成立侵权的要件之一，所以夏某应承担无过错的证明责任。若夏某能够证明其主观上无过错，则夏某不承担侵权责任，A 正确。

23.B【详解】“只有笃定信心才能实现我们的既定目标”属于必要条件假言判断，②错误；“高三是人生中的重要阶段，我要珍惜这段美好时光”不属于选言判断，④错误；①③对应正确，B 正确。

38.参考答案：（1）经济信息：2018—2021 年，全国农村地区快递包裹收投总量逐年上升；2022 年上半年，尽管受到疫情等因素的影响，但仍展现良好的发展韧性。（3 分）

（2）参考答案：快递进村带动劳动就业，促进农民增收，优化农村产业结构，推进乡村振兴，统筹城乡发展。（3 分）快递出海顺应了经济全球化趋势，我国企业积极开拓国际市场，参与国际竞争与合作。（3 分）快递行业积极贯彻新发展理念，加快构建新发展格局，推动我国经济高质量发展。（3 分）

（其他答案，言之有理，可酌情给分）

39.参考答案：①中国共产党坚持理论创新，不断推动马克思主义中国化时代化，用科学理论引领中国特色社会主义伟大实践。

②中国共产党坚持科学执政、民主执政、依法执政，贯彻民主集中制，创新和改进领导方式，提高党把方向、谋大局、定政策、促改革能力，调动各方面积极性。

③中国共产党不忘初心，牢记使命，深入推进全面从严治党，以党的自我革命引领社会革命，不断加强党的自身建设，永葆先进性和纯洁性。

④中国共产党不断开辟符合我国国情、实现中华民族伟大复兴的正确道路，赋予科学社会主义新的内涵，为科学社会主义注入了新的活力。

（每点 3 分。若学生从党的性质宗旨、贯彻以人民为中心的发展思想、坚持人民主体地位、治理体系和治理能力现代化、中国式现代化角度回答，可酌情给分。）

40. 参考答案：本案中 S 县某百货商行侵害了蓝某专利权（外观设计专利）。（2 分）

蓝某于 2020 年 9 月 4 日获得国家知识产权局专利局授权，该外观设计专利的法律保护期从 2020 年 5 月 11 日计算，保护期为 15 年，在未经专利权人（蓝某）许可的情况下不得实施涉案专利。S 县某百货商行应承担侵权责任，停止侵害、停止销售涉案产品，并赔偿相应损失。（4 分）

41. (1) 参考答案：矛盾普遍性和特殊性的关系是关于事物矛盾问题的精髓。矛盾的普遍性和特殊性相互联结，在一定条件下相互转化。（4 分）马克思主义是普遍真理，中国实际和时代特征具有特殊性。习近平新时代中国特色社会主义思想是在发展中国特色社会主义的实践中将马克思主义普遍真理与中国实际和时代特征相结合的产物。习近平新时代中国特色社会主义思想对解决人类重大问题有普遍的指导意义。（4 分）

(2) 参考答案：①坚定文化自信，推动中华优秀传统文化创造性转化和创新性发展。运用中华优秀传统文化分析问题、解决问题，启迪思维，为治国理政、实现中华民族伟大复兴注入强大精神力量。（3 分）

②继承和发展了“民本”思想，坚持以人民为中心，把增进人民福祉、促进人的全面发展作为出发点和落脚点。（2 分）③立足时代之基、回答时代问题。找准中华优秀传统文化与解决时代问题的结合点，在解决时代问题中弘扬中华优秀传统文化。（3 分）（其他答案，言之有理，可酌情给分）

(3) (6 分) 发言提纲：①科学思维追求认识的客观性。中国化时代化的马克思主义立足新时代新的历史方位，努力把握和遵循新时代社会发展客观规律。

②科学思维的结果具有预见性。中国化时代化的马克思主义对新时代中国特色社会主义发展趋势、发展前景作出合乎逻辑的推断，是新时代中国特色社会主义思想科学指引。


③科学思维的结果具有可检验性。新时代十年，党和国家事业取得历史性成就、发生历史性变革，表明了中国化时代化的马克思主义能够以实事求是的态度接受实践严格检验，坚持真理。


关于我们

自主选拔在线是致力于提供新高考生涯规划、强基计划、综合评价、三位一体、学科竞赛等政策资讯的升学服务平台。总部坐落于北京，旗下拥有网站（网址：www.zizzs.com）和微信公众平台等媒体矩阵，用户群体涵盖全国 90% 以上的重点中学师生及家长，在全国新高考、自主选拔领域首屈一指。

如需第一时间获取相关资讯及备考指南，请关注**自主选拔在线**官方微信号：**zizzsw**。



 微信搜一搜

 自主选拔在线