

济宁市 2023 年高考模拟考试

历史试题

2023.03

注意事项:

1. 答卷前,考生务必将自己的姓名、考生号等填写在答题卡和试卷指定位置。
2. 回答选择题时,选出每小题答案后,用铅笔把答题卡上对应题目的答案标号涂黑。如需改动,用橡皮擦干净后,再选涂其他答案标号。回答非选择题时,将答案写在答题卡上。写在本试卷上无效。
3. 考试结束后,将本试卷和答题卡一并交回。

一、选择题:本题共 15 小题,每小题 3 分,共 45 分。每小题只有一项符合题目要求。

1. 表 1 为东周时期发生的部分重大事件。这些事件表明

表 1

时间	事件
公元前 453 年	韩、赵、魏三家卿大夫瓜分晋公室土地
公元前 403 年	周威烈王正式册封韩、赵、魏三家大夫为诸侯
公元前 334 年	魏惠王和齐威王在徐州会盟,互相承认对方为王
公元前 288 年	秦昭襄王约齐湣王同时称帝,秦为西帝,齐为东帝

- A. 诸侯国间的矛盾日趋尖锐
B. 新旧势力间的矛盾不可调和
C. 卿大夫成为新的统治阶级
D. 周天子已丧失天下共主地位
2. 汉代,御史大夫晁错在上汉文帝的《论贵粟疏》中提出:“方今之务,莫若使民务农而已矣。欲民务农,在于贵粟;贵粟之道,在于使民以粟为赏罚。”其所谓的“贵粟”是指
- A. 适度提高粮食价格
B. 引进优良作物品种
C. 鼓励百姓开垦荒地
D. 扩大粮食种植面积
3. 780 年,唐政府开始实行“两税法”,田赋分夏、秋两季征收,统一规定夏税不得过六月,秋税不得过十一月。929 年,后唐明宗首次改进两税法,规定辖区南部黄淮地区夏税自五月十五起征,八月初一纳足;最北部地区自六月十日起征,九月纳足。这一调整有利于
- A. 简化税收程序
B. 减轻农户负担
C. 增加政府收入
D. 发展商品经济

4. 明成祖朱棣反对建文帝“削藩”，起兵夺取政权。明代人在记述朱棣攻入应天的场景时说：“建文君欲出迎，左右悉散，惟内侍数人而已，乃叹曰：‘我何面目相见耶！’遂阖宫之焚。”这一记述
- A. 描绘了真实的历史场景
B. 反映了历史记述的客观性
C. 体现了鲜明的政治倾向
D. 否定了兵变夺权的合法性
5. 1865年，薛福成在《上曾侯相书》中说：“往在十二岁时，强寇窃发岭外，慨然欲为经世实学，以备国家一日之用，乃屏弃一切而专力于是。”这体现出薛福成志在
- A. 弘扬程朱理学
B. 致力科举入仕
C. 镇压太平天国
D. 投身洋务自强
6. 表2为1873—1930年中国农产品出口变动趋势表。它反映出

表2

年份	农产品出口总值(千元)	农产品出口在出口总额中比重(%)
1873	2866	2.6
1893	28423	15.6
1903	89496	26.8
1910	231957	39.1
1920	307047	36.4
1930	628285	45.1

- A. 农业资本主义不断发展
B. 农业生产渐趋提高
C. 列强控制中国经济命脉
D. 中国农民的处境悲惨
7. 近代上海，万国商团担负着武力防御租界的任务。1900年，万国商团总共花费3万两白银，这是其自成立以来最高的支出数字，其中有1.4万两用于各种制服和装备。其增加开支的背景是
- A. 义和团运动不断向南方扩展
B. 中国人民反帝情绪高涨
C. 南方督抚大力扶植反帝力量
D. 清政府与列强彻底决裂
8. 1941年7月12日，中共中央书记处发出的党内指示指出：“在目前条件下，不管是否帝国主义国家，或是否资产阶级，凡属反对法西斯德意日，援助苏联和中国者，都是好的，有益的，正义的，凡属援助德意日反对苏联和中国者都是坏的，有害的，非正义的”。这一指示意在
- A. 揭露国民党破坏抗战的阴谋
B. 赢得帝国主义对中国的支持
C. 适应世界抗击法西斯的需要
D. 促成中美苏大国的团结合作

历史试题 第2页(共6页)

9. 表3为1950至1951年党和政府对农村阶级成分划分方法的调整概况。其调整旨在

表3

文件	颁行时间	调整内容
《关于划分农村阶级成分的决定》	1950年8月	凡经常剥削量在相当于雇请一个长工以上,但不到雇请两个长工者,则应仔细计算其剥削收入是否超过其总收入的25%,超过者为富农,不超过者为中农或富裕中农
《关于划分农村阶级成分的补充规定(草案)》	1951年3月	凡雇请一个长工,或者有其他剥削而剥削量也相当于对一个长工的剥削量以下者,均不得认为富农,对于这种家庭不必去计算其剥削收入是否超过其总收入的25%,即使超过了也不算富农

- A. 正确实施《中华人民共和国土地改革法》 B. 配合抗美援朝运动
C. 奠定农村社会主义改造的初步基础 D. 深入开展镇压反革命运动
10. 西方学者认为,古代希腊开启了欧洲城市历史发展的重要阶段。当时希腊城市最突出的特点是以城市为中心形成了
A. 众多的城邦 B. 繁荣的市场
C. 发达的交通 D. 统一的国家
11. 在中世纪西欧的封建庄园中,庄园主普遍推行农奴制而非奴隶制。这主要是因为中世纪的西欧
A. 深受古希腊罗马历史传统的影响 B. 虔诚地信仰基督教会说教
C. 面临着巨大的劳动力竞争的压力 D. 缺乏获得大批奴隶的途径
12. 英国空想社会主义者欧文在1816年说:“在我的新纳克的工厂里,大约由2000个年轻人和成年人管理的机械动力和操作……现在完成的工作量,在60年前需要由苏格兰的全部工业人口来完成。”他意在阐明
A. 技术进步的威力 B. 社会主义运动的必要性
C. 社会平等的重要 D. 工人阶级强大的改造力
13. 1908年10月28日,某国最高领导人在接受英国《每日电讯报》记者采访时说:“你们英国人真是很棒,太棒了……到底什么事情,让你们变得如此猜疑?这可和一个伟大的民族不相称……我的人民中大部分普遍的感觉……对英国不友好。”该国是
A. 美国 B. 法国 C. 俄国 D. 德国
14. 亚非民族解放运动从15世纪末到19世纪晚期处于自发的斗争阶段,19世纪晚期后开始走向民族民主运动的道路,在20世纪初更是走向大觉醒时代。这一变化根源于
A. 民族危机的日益加深 B. 新经济因素的不断发展
C. 启蒙思想的广泛传播 D. 工人阶级登上政治舞台

15. 据 1954 年 8—9 月法国公共舆论研究院进行的民意调查,在受访的法国民众中,43%的人认为法国政府应该承认中华人民共和国,这比 1950 年 2 月的调查提高了 15 个百分点。这一结果的出现得益于
- A. 法国与美国对抗的加剧
 - B. 经济复苏提升了法国的经济实力
 - C. 西欧各国要求外交独立
 - D. 中国在国际外交领域的良好表现

二、非选择题:本题共 4 小题,共 55 分。

16. (12 分)图 1、图 2、图 3 分别是西汉三公及九卿籍贯分布示意图、唐代前期(618—755 年)进士籍贯分布示意图、北宋主要宰相籍贯分布示意图。阅读材料,回答问题。

材料

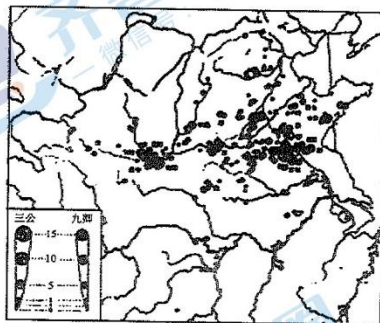


图 1

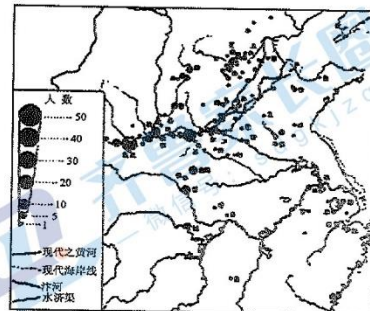


图 2

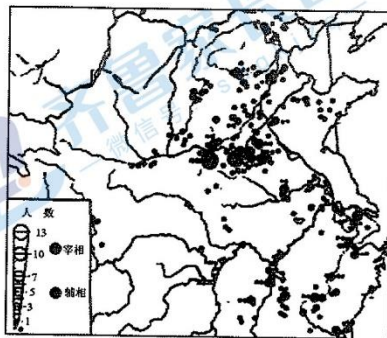


图 3

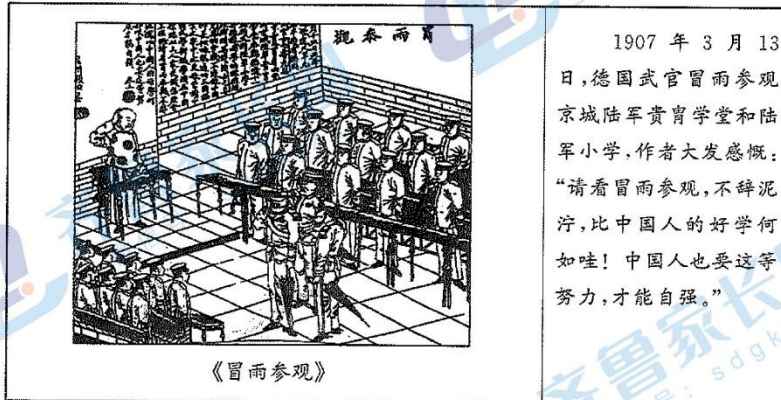
——陈正祥《中国历史文化地理》

概括指出从图 1 到图 3 反映出中国社会发生了哪些重大变迁,并结合所学知识分析说明其成因。(12 分)

17. (14分) 图像资料是具有直观性的历史记忆, 但历史记忆夹杂着个人偏见, 所有的历史场景都不可能自然呈现。阅读材料, 回答问题。

材料

观察、见证与遥想



——据光绪三十三年(1907年)三月《星期画报》第23期
提取图片信息, 请你以一位历史观察者的身份, 以“观察、见证、遥想”为题写一则历史短文。(14分)(要求: 观点正确, 史论结合, 逻辑清晰, 表述成文。)

18. (14分) 表4为1978~1984年我国种植业面积变化表。阅读材料, 回答问题。

材料

表4

年份	粮食作物		经济作物	
	播种面积 (万亩)	占总播种面积 (%)	播种面积 (万亩)	占总播种面积 (%)
1978	180881	80.3	21660	9.6
1979	178894	80.3	22152	9.9
1980	175851	80.1	23882	10.9
1981	172437	79.2	26341	12.1
1982	170194	78.4	28191	13.0
1983	171071	79.2	26641	12.3
1984	169326	78.3	28932	13.4

——《中国统计年鉴1991》

根据材料, 对1978~1984年我国种植业面积的变化作出合理的解释。(14分)

历史试题 第5页(共6页)

19. (15分)表5为1870—1992年美国人均GDP、每工时GDP与欧洲国家的相对水平变化表(美国为100)。阅读材料,回答问题。

材料

国际视角下的美国经济发展

表5

年份	人均GDP		每工时GDP	
	10个大陆国家的平均值	英国	10个大陆国家的平均值	英国
1870	76	132	65	115
1900	67	112	—	—
1913	63	95	57	86
1929	62	76	55	74
1950	56	72	45	62
1973	70	72	70	68
1992	81	73	87	82

说明:本表中的10个大陆国家是指奥地利、比利时、丹麦、芬兰、法国、德国、意大利、荷兰、挪威、瑞士。

——[英]安格斯·麦迪逊《世界经济之考察1820—1992年》

以恰当的尺度划分美国经济发展的阶段,并对每一阶段的特点及其成因作出合理的解释。(15分)

济宁市 2023 年高考模拟考试

历史试题参考答案

2023.03

一、选择题:每小题 3 分,共 45 分。

1. D 2. A 3. B 4. C 5. D 6. C 7. B 8. C 9. A 10. A
11. C 12. A 13. D 14. B 15. D

二、非选择题:本题共 4 小题,共 55 分。

16. (12 分)

变迁:从政治中心在北方,但南方政治影响力逐渐增强的角度作答(3 分);

从文化重心始在北方,但文化重心逐渐南移的角度作答(3 分)。

成因:从江南开发,江南经济发展为南方政治、文化影响力增强奠定基础的角度作答(2 分);

从北方人口不断南迁,南方人口增多为南方政治、文化影响力增强奠定基础的角度作答(2 分);

从科举制等选官制度的变化助推南方政治、文化影响力增强的角度作答(2 分)。

(若从其他角度作答,言之有理,可酌情给分。)

17. (14 分)

(一)信息提取(6 分)

信息举例:清末、1907;画报、好学、自强;冒雨、德国军人的严肃认真、中国官员的抓耳挠腮等。

(若从图中提取其他有效信息并加以阐释,言之有理,即可得分。)

层次要求:

层次 1:不能根据试题要求从材料中提取有效信息(0 分);

层次 2:提取信息不够完整,只能从材料中获取部分有效信息(1—3 分);

层次 3:全面提取材料信息,并对信息进行恰当的归纳整理(4—6 分)。

(二)表述成文层次要求(8 分)

层次 1:没有以历史观察者的视角对材料信息进行说明,没有说明材料信息能作为怎样的历史见证,没有结合材料信息剖析时代特征(0 分);

层次 2:能以历史观察者的视角对材料信息进行简单说明,能对材料信息能作为怎样的历史见证简单说明,能结合材料信息简要剖析时代特征(1—4 分);

层次 3:能以历史观察者的视角对材料信息进行恰当说明,能充分说明材料信息能作为怎样的历史见证,能结合材料信息深刻剖析时代特征(5—8 分)。

18. (14 分)

变化特点:从粮食作物播种面积稳步下降,经济作物种植面积稳步上升的角度作答(4 分)。

变化成因:

历史试题参考答案 第 1 页(共 2 页)

①从国家政策的调整使农民获得生产自主权的角度作答(2分);

②从国家政策调整解放了农村生产力,在耕地总面积不变的情况下,能够通过较少的耕地面积即可满足人民基本粮食需求,为增加经济作物种植面积创造条件的角度作答(2分)。

产生影响;

①从推动农业经济结构调整,为农村经济和乡镇企业发展创造条件的角度作答(2分);

②从改变农村面貌,改善人民生活的角度作答(2分);

③从客观上为国家政策优化调整及改革深入发展奠定基础的角度作答(2分)。

19.(15分)

评分标准举例:

阶段:1870—1950年为第一阶段(1分);1950—1992年为第二阶段(1分)。

特点:第一阶段:从美国一直保持上升势头并逐步扩大对英国与西欧大陆国家领先优势的角度作答(2分);

第二阶段:从美国发展相对放缓,对英国与西欧大陆国家的领先优势相对缩小的角度作答(2分)。

成因:第一阶段:从美国内战开辟道路、第二次工业革命的推动、两次世界大战受益、二战后在世界经济体系中处于主导地位分析美国领先的主观原因(3分);从欧洲受世界大战、30年代经济危机破坏相对强烈、战后受美国控制以及殖民体系崩溃影响欧洲发展等角度分析美国领先的客观原因(3分);

第二阶段:从“冷战”的影响、美国陷入侵越战争泥潭、经济滞胀等角度分析美国发展相对缓慢的主观原因(2分);从苏联咄咄逼人的优势、西欧国家的联合发展、第三世界的斗争等角度分析美国发展相对缓慢的客观原因(2分)。

关于我们

齐鲁家长圈系业内权威、行业领先的自主选拔在线旗下子平台，集聚高考领域权威专家，运营团队均有多年高考特招研究经验，熟知山东新高考及特招政策，专为山东学子服务！聚焦山东新高考，提供新高考资讯、新高考政策解读、志愿填报、综合评价、强基计划、专项计划、双高艺体、选科、生涯规划等政策资讯服务，致力于做您的山东高考百科全书。

第一时间获取山东高考升学资讯，关注齐鲁家长圈微信号：sdgkjzq。



微信搜一搜

齐鲁家长圈

打开“微信 / 发现 / 搜一搜”搜索