

绝密★启用前

2021 年普通高等学校招生全国统一考试(样卷一)

文科综合

本试卷共 47 题,共 300 分,考试时间 150 分钟,考试结束后,将本试卷和答题卡一并交回。

注意事项:

1. 答题前,考生先将自己的姓名、考生号、考场号和座位号填写清楚,将条形码准确粘贴在条形码区域内。
2. 选择题必须使用 2B 铅笔填涂;非选择题必须使用 0.5 毫米黑色字迹的签字笔书写,字体工整,笔迹清楚。
3. 请按照题号顺序在答题卡各题目的答题区域内作答,超出答题区域书写的答案无效;在草稿纸、试卷上答题无效。
4. 作图可先使用铅笔画出,确定后必须用黑色字迹的签字笔描黑。
5. 保持卡面清洁,不要折叠,不要弄破、弄皱。不准使用涂改液、修正带、刮纸刀。

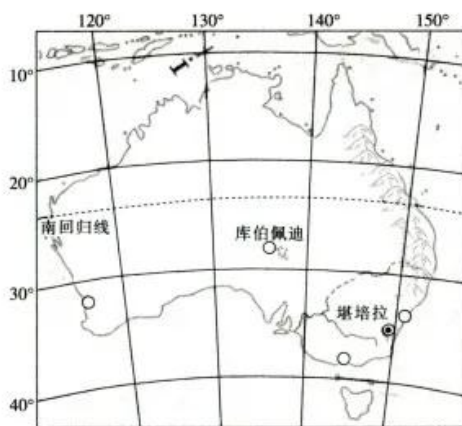
一、选择题:本题共 35 小题,每小题 4 分,共 140 分。在每小题给出的四个选项中,只有一项是符合题目要求的。

兰州市区南北群山对峙,黄河自西向东穿城而过,蜿蜒百余里。兰州新区位于兰州北部秦王川盆地,距兰州市区 38.5 km,是兰州城市拓展的重要空间。近年来兰州市人口增长缓慢。下图示意兰州市城市空间分布。据此完成 1~3 题。



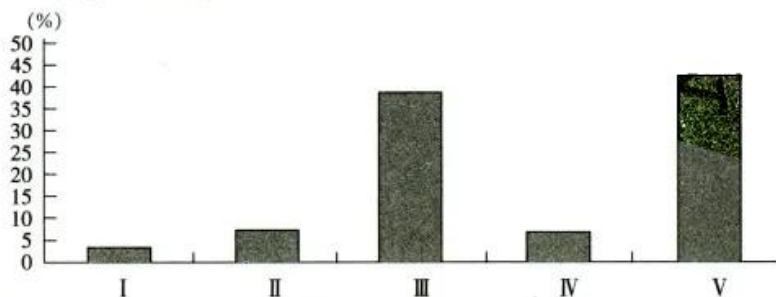
1. 影响兰州城市呈带状分布的主要因素是
A. 地形 B. 矿产开发 C. 降水 D. 水运交通
2. 近年来兰州市人口增长缓慢的主要原因有
A. 开发历史较短 B. 经济活力相对不足
C. 产业结构升级 D. 人居环境质量下降
3. 与榆中县相比,兰州新区选址秦王川盆地的优势是
A. 距主城区近 B. 水资源丰富
C. 生态环境优越 D. 人口较少

库伯佩迪是澳大利亚内陆的一个小镇,1905年开始发展,当时在这里发现了宝石,现在已经发展成了一个常住人口近4000人的小镇。该镇地面上几乎看不到任何建筑,镇上的人几乎都生活在地下,地下酒吧、商店、餐馆、教堂等设施一应俱全。下图示意库伯佩迪位置。据此完成4~5题。



4. 库伯佩迪的人几乎都生活在地下的原因是当地
- A. 炎热干燥 B. 土地资源少 C. 蚊虫多 D. 地下水位低
5. 库伯佩迪未来的产业发展方向是
- A. 发展乳畜业 B. 扩大采掘业面积和规模
C. 发展大牧场放牧业 D. 发展特色旅游业

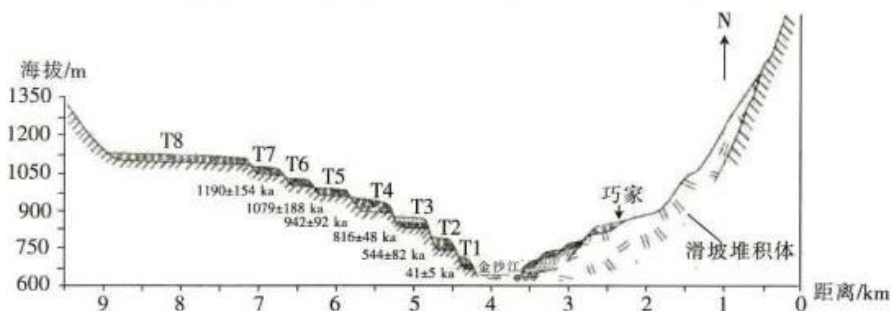
贵州省花江大峡谷是典型的喀斯特地貌,当地居民为了改善生活条件,在花江两岸种植面积约66.7 km²的顶坛花椒,将石漠变成绿洲,改变了生存环境。下图示意花江峡谷地区花椒林地杂草分布。据此完成6~8题。



- I. 灌木 II. 多年生藤本 III. 多年生草本 IV. 1~2年生草本 V. 1年生草本
6. 顶坛花椒的生长习性为
- ①喜阴 ②耐旱 ③喜钙 ④喜湿
- A. ①② B. ②③ C. ③④ D. ①④
7. 顶坛花椒林地的杂草群落
- A. 大部分杂草常年生长状况良好 B. 杂草个体间的竞争不明显
C. 大部分杂草形成较高群落密度 D. 外貌和结构季节变化明显
8. 近年来,花江大峡谷地区顶坛花椒林地提倡保留部分杂草,其原因是杂草
- A. 可调节局部气候 B. 可防止动物啃食花椒
C. 可保持水土和减少病虫害 D. 铲除后环境污染严重

下图示意金沙江云南巧家县某段河流断面,河谷内河流沉积与古堰塞湖沉积、冲洪积物等相互堆叠,交错分布,共发育和保存了8级河流阶地(指由地壳上升,河流下切形成的阶梯状地

貌)。图中时间为各阶地距今形成时间,ka 为千年单位。据此完成 9~11 题。



9. 该河谷发育经历的过程是
A. 下切—滑坡—堰塞—堆积—下切
B. 滑坡—下切—堰塞—堆积—下切
C. 下切—滑坡—堰塞—下切—堆积
D. 下切—堆积—堰塞—滑坡—下切
10. 下列时期图中,河流下切速率最小的是
A. T6~T5
B. T5~T4
C. T4~T3
D. T2~T1
11. 与河对岸同海拔区域相比,河流阶地 T1 沉积物少的原因可能是 T1 侧
A. 坡面流流速慢, T1 侧沉积少
B. 上游来沙少, T1 侧沉积少
C. 植被茂盛, 水土流失少
D. 地势狭窄陡峭, 不利于沉积物保存
12. 某餐厅在每隔一定时期就推出与节气和养生相应的特色菜(价格不菲)、特价菜(8 元一份, 每桌限一份)、品评菜(免费, 在顾客吃完后请顾客提意见)后, 过去销量一般的市价(市场价格)菜销量大增, 生意兴隆。下列说法正确揭示了该餐厅“生意经”的是
①有特色使用价值的商品可获得高额利润 ②价格远低于价值量的商品更具盈利能力
③契合市场需求的商品能够带动某些商品的销售 ④价格随行就市能有效降低经营者的风险
A. ①②
B. ①③
C. ②④
D. ③④
13. 受新冠肺炎疫情的影响, 2020 年 12 月份全球汽车芯片供给开始告急。不考虑其他因素, 这一变化产生影响的传导路径是
①汽车芯片价格上涨 ②新能源汽车价格上涨 ③芯片生产厂家加强研发 ④汽车芯片交货延迟
⑤汽车生产成本增加 ⑥汽车芯片投资者增加
A. ①→②→⑥
B. ①→⑤→③
C. ④→⑤→②
D. ④→③→⑥
14. 右图现象产生的现实原因是
①返乡创业创新为农村经济赋能
②农村特色产业的发展前景广阔
③农民的收入预期高于城市居民
④国家加大乡村振兴的支持力度
A. ①②
B. ①③
C. ②④
D. ③④



保障产业链的安全

A. ①②

B. ①④

C. ②③

D. ③④

16. 因颠倒黑白、跟风抵制新疆棉花,某服装集团遭到中国网民抵制,线上平台商品全数下架,股价大跌,一些国际品牌也因类似情况被网友曝光。虽客流量大减,但这些外国品牌在中国大陆的门店仍在正常营业。下列对此理解正确的是

①我国国民依法理性爱国 ②公民的权利与义务是统一的 ③外资企业合法权益得到保障
④维护国家安全是公民的责任

A. ①②

B. ①③

C. ②④

D. ③④

17. 半个世纪前,三千孤儿来到草原时,草原同样经济困难,少食缺饮,但善良的牧民用牛奶和羊肉把他们培养长大。如今,当年的小娃娃们已在各自的岗位上建功立业,用汗水和心血回报养育他们的土地和人民。2021年3月5日,习近平总书记参加十三届全国人大四次会议内蒙古代表团审议,提及“三千孤儿入内蒙”的历史佳话。我们从中得到的启示是

①没有各民族的平等,就没有各民族的团结和繁荣 ②中华民族大家庭中各族同胞手足相亲、守望相助 ③要将维护国家统一和保障民族区域自治有机结合 ④要大力巩固和发展平等团结互助和谐的民族关系

A. ①③

B. ①④

C. ②③

D. ②④


18. 座次排列是外交礼仪礼节甚至是国力之争的重要表现。下图两个辛丑年外交座次对比给我们的启示是

1901 辛丑年



《辛丑条约》签订现场

2021 辛丑年



中美高层战略对话

①弱国失国格,我辈当自强 ②外交凭实力,国强必称霸 ③大国大外交,小国小格局
④中华已崛起,强国亦平视

A. ①②

B. ①④

C. ②③

D. ③④

19. 鬓云欲度香腮雪,衣香袂影是盛唐。2021年春节期间,在《唐宫夜宴》古典舞中,一群“唐朝小胖妞”走出《捣练图》《簪花仕女图》的古老画卷,穿梭在妇好鸛尊、莲鹤方壶、贾湖骨笛等国宝文物之间,把大唐风华融于少女的一颦一笑中,时而雍容娴雅,时而天真烂漫,带给观众熟悉又陌生的感觉,深受好评。该古典舞的成功得益于其

①从中华优秀传统文化中汲取灵感 ②对中华经典文化进行创造性转化 ③将不同风格的优秀文化加以融合 ④使传统文化与当代文化相互协调

A. ①②

B. ①③

C. ②④

D. ③④

20. 在庆祝我们党百年华诞的重大时刻,在“两个一百年”奋斗目标历史交汇的关键节点,党中央作出了在全党集中开展党史学习教育的决定。在全党集中开展党史学习教育是

①体现时代特征、推进中华民族伟大复兴的必然要求 ②坚定理想信念、弘扬中华民族伟大精神的必然要求 ③抵制外来文化、警惕敌对势力分化图谋的必然要求 ④增强文化自信、巩固党意识形态领导力的必然要求

- A. ①② B. ①③ C. ②④ D. ③④
21. 2021 年我国中央一号文件指出,脱贫攻坚目标任务完成后,对摆脱贫困的县,从脱贫之日起设立 5 年过渡期,做到扶上马送一程。过渡期内保持现有主要帮扶政策总体稳定,并逐项分类优化调整,合理把握节奏、力度和时限,逐步实现由集中资源支持脱贫攻坚向全面推进乡村振兴平稳过渡,推动“三农”工作重心历史性转移。这是基于
- ①事物的发展往往不是一帆风顺的 ②促进发展需防范平衡和静止被破坏 ③事物不同发展阶段有着不同特点 ④把握机遇和坚持适度原则是统一的
- A. ①② B. ①③ C. ②④ D. ③④
22. 在宇宙高真空、微重力、弱磁场以及复杂辐射的作用下,生物的遗传物质会发生变异,并由此产生新的性状。这些性状可以作为新的种质资源保存下来并加以利用,解决了科学家受地面资源限制,无法收集新型多样性性状的问题。近年来,我国航天育种工作不断推进,“奔月”种子开始服务于国家种子安全。这说明
- ①人们可通过“臆造矛盾—解决矛盾”促进事物发展 ②人为事物的联系能对自在事物的联系施加影响 ③事物的变化发展归根到底是由外部条件决定的 ④外部矛盾在一定条件下会使得内部矛盾发生改变
- A. ①② B. ①③ C. ②④ D. ③④
23. 朱鹮,纯美、典雅、洁净,被称为吉祥之鸟。为保护朱鹮,洋县于 20 世纪 80 年代限制农民使用农药。“不打农药,怎么杀虫?”不少农民虽有抵触情绪,但还是改用诱虫灯灭虫。就这样,洋县农民走上了生产有机农产品的道路,打造出“朱鹮有机产品”品牌,不仅拒绝农药,更从其他方面保护朱鹮。这告诉我们
- ①上层建筑决定于经济基础 ②人的价值判断是难以琢磨的 ③事物的价值会因时而变 ④价值观能够驱动人们的行为
- A. ①② B. ①③ C. ②④ D. ③④
24. 墨子说:“圣人为衣服,适身体和肌肤而足矣,非荣耳目而观愚民也”“作为衣服带履,便于身,不以为辟怪也”。由此可知,墨子服饰观的特点是
- A. 强调身份差别,合乎礼制 B. 崇尚质朴自然,追求节俭
C. 重视经济实用,不求奢华 D. 蕴含道德伦理,不求雕饰
25. 有研究指出,汉代西域诸国使用的铁器是汉族传授的,要晚于中原地区。近年考古资料显示,新疆哈密焉不拉克墓地出土铁器 7 件,经测定是西周初期的,轮台群巴克古墓出土的铁器多是西周中期至春秋早期的。据此可知
- A. 学术成果将随着时代变化而更新 B. 考古发掘可以验证学术研究成果
C. 中原冶铁技术西传趋势得到明证 D. 丝绸之路强化中原与西域的联系
26. 宋初,有战事,皇帝独与枢密院计议,而中枢不预。至真宗朝(968~1022 年),军政先关中书。南宋宁宗开禧元年(1205 年),“宰臣兼(枢密)使为永制矣”。材料中的变化
- A. 有助于减少皇帝决策的失误 B. 使中枢权力由分散趋向集中
C. 表明朝廷注重提升军队素养 D. 客观上说明中央集权已削弱
27. 史载,明末崇祯帝增选阁臣,“以翰林不习世务,思用他官参之。召廷臣数十人,各授一疏,令拟旨。遂擢至发(张至发)礼部左侍郎兼东阁大学士”。这说明崇祯帝增选阁臣
- A. 重视政务经验 B. 采用多种途径
C. 强调廉洁自律 D. 要求分化事权

28. 右面是一幅关于晚清时政的漫画(摘自《日本东京画报》)。该漫画反映出



- A. 清廷成为列强治华工具
- B. 晚清统治面临严重危机
- C. 列强掀起瓜分中国狂潮
- D. 革命风潮引发日本关注

29. 1922年9月,上海城区至南汇县(原南汇区,今属浦东新区)之间开通公共汽车线路,数年之后,沿站旁车路两边,“店肆林立,营业骤兴……

周家渡、杨思桥、三林塘等站旁均有茶园、菜馆、医寓、杂货小肆开设”。公共汽车线路的开通

- A. 引发了市民观念的变动
- B. 打破了经商的时空限制
- C. 消弭了城乡之间的差别
- D. 拓展了城市的发展空间

30. 1937年5月,毛泽东说:“新的民主共和国所包括的成分是什么呢?它包括无产阶级、农民、城市小资产阶级、资产阶级以及一切国内同意民族和民主革命分子”,它是这些阶级的联盟。毛泽东的这一论述

- A. 有利于团结各阶层人士抵御外辱
- B. 奠定了新民主主义革命胜利的基础
- C. 意在推动边区政府的民主化进程
- D. 旨在巩固与扩大抗日民族统一战线

31. 下面为2015~2019年中国高等教育的相关数据统计图(部分)。据此可知,这一时期的中国



2015~2019年中国高等教育在学总规模和毛入学率

- A. 高等教育改革步伐明显加快
- B. 高等教育发展取得显著成就
- C. “科教兴国”战略得到全面落实
- D. 教育模式与经济水平相契合

32. 法国学者贡斯当指出,在古代雅典,统治者常用城邦的“善”替代个人的“德行”。公民享受的仅是“古代人的自由”,除能参与各种公共生活之外,“个人相对于舆论、劳动,特别是宗教的独立性未得到丝毫重视”。该学者认为,在古代雅典

- A. 服务城邦成为社会共识
- B. 个人权利服从城邦利益
- C. 集体活动重塑公民意识
- D. 公民自由受到宗教束缚

33. 下面是1841~1870年英国商品出口的相关统计表。由此可知,当时的英国

时间	英国产品平均年出口值(百万磅)	年出港船舶吨位(百万吨)
1841~1850年	57.4	60.3
1851~1860年	106.5	103.2
1861~1870年	166.0	153.9

- A. 秉持差额贸易政策
- B. 注重巩固传统市场
- C. 经济实力稳步上升
- D. 政府强化关税管控

34. 1920年4月,列宁说:“俄国无产阶级集合和团结了分散的力量,建立了一支统一而坚强的红军。红军创造了奇迹,粉碎了得到全世界资本家支援的资本家的进攻。”据此可知

- A. 俄国十月革命的影响较为深远
- B. 卫国战争得到了苏联民众支持
- C. 苏俄政权捍卫了十月革命成果
- D. 俄国无产阶级确立了领导地位

35. 右面是一幅关于21世纪初世界局势的漫画。该漫画反映出美国

- A. 霸权主义政策遭到广泛抨击
- B. 采取措施构建单极世界
- C. 强权政治扰乱世界经济秩序
- D. 极力反对世界经济组织

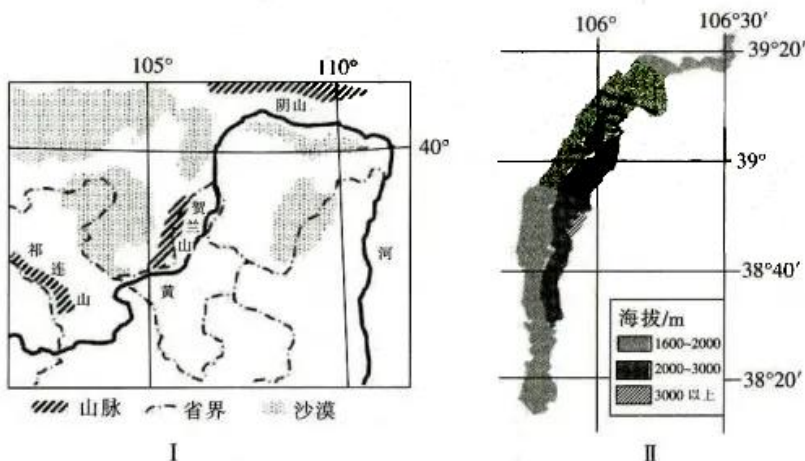


二、非选择题:共160分。第36~42题为必考题,每个试题考生都必须作答。第43~47题为选考题,考生根据要求作答。

(一)必考题:共135分。

36. 阅读图文材料,完成下列要求。(24分)

贺兰山南北长220 km,东西宽20~40 km,是我国西北地区的重要地理界线。据研究发现,贺兰山生物多样性较低,西坡的植被为草原、灌丛、草甸、针叶林,其中草原带受侵蚀严重;在阴坡,针叶林树冠遮蔽地面的程度高。图I示意贺兰山位置,图II示意贺兰山西坡海拔分布。



(1) 分别指出贺兰山西坡在1600~2000 m、2000~3000 m、3000 m以上区域的典型植被类型。(6分)

(2) 分析贺兰山生物多样性较低的原因。(8分)

(3)分析在贺兰山阴坡,针叶林树冠遮蔽地面的程度高的原因。(2分)

(4)分析贺兰山草原带受侵蚀严重的原因。(8分)

37. 阅读图文材料,完成下列要求。(22分)

伊朗地形以高原、山地为主,仅仅在北部里海南岸以及南部沿海地区分布有狭小的平原,平均海拔在1000 m以上。受自然条件影响,水稻仅分布于伊朗局部地区,但近年来伊朗在主产区外限制种植水稻。下图示意伊朗的地理位置。



(1)推测伊朗最主要的粮食作物。(2分)

(2)推测伊朗水稻种植分布区域,并分析自然原因。(8分)

(3)分析近年来伊朗在主产区外限制种植水稻的原因。(6分)

(4)请为伊朗水稻种植业提出合理化建议。(6分)

38. 阅读材料,完成下列要求。(14分)

市场有淡季和旺季,企业经营难免有用工低谷和高峰,难免有员工相对富余和短缺。新冠肺炎疫情放大了这一影响,“共享员工”(员工富余企业与缺工企业之间进行劳动力余缺调剂,将富余企业的员工在一定期间内出借至缺工企业工作,员工与原用人企业之间的劳动关系和社保关系不变)应运而生。

在当地税务和人社等部门协助下,某市 1000 余家企业开展了对接,“共享员工”2 万余人,取得了较好的效果。

但“共享员工”模式行稳致远还面临着多重考验,如新的用工模式与劳动法、合同法部分内容相悖;劳务纠纷、工伤等责任界定难;员工可能违反竞业禁止协议、侵犯商业秘密;来自其他企业的“共享员工”提供的产品和服务质量不合格;等等。

(1)联系材料,运用所学经济知识分析企业之间“共享员工”的意义。(6分)

(2)运用所学经济知识,谈谈应如何让“共享员工”模式行稳致远。(8分)

39. 阅读材料,完成下列要求。(12分)

编制一个五年规划往往历时三年,需要十个步骤。第一步,是对上一个五年规划的中期评估。也就是说,2021年两会全国人大审查的“十四五”规划纲要草案,早在2018年12月就开始起草了。此后还有前期调研、形成规划的基本思路、党中央建议起草、五中全会通过建议、起草规划纲要(草案)、公众建言献策、衔接论证、征求意见和全国人大审批与发布等9个步骤。

从1953年新中国开始实行第一个“五年计划”,到2020年“十三五”规划的完成,再到2021年“十四五”规划的开启,一个又一个五年,诠释了不同时期的历史标识,推动中华民族迎来了从站起来、富起来到强起来的伟大飞跃;一个又一个五年,不断赓续昨天、创造今天、奠定明天,创造了世所罕见的经济快速发展奇迹和社会长期稳定奇迹。

相较于不少国家因政党轮替而频繁出现短视政治,上台之后彻底推翻前任政府的政策,或者把失败甩给前任,我们持续不断地编制和落实“五年规划”,风雨兼程、砥砺奋进,“中国之治”在这一过程中越走越成熟,中华民族伟大复兴在这一过程中越走越近。

“五年规划渗透着中国之治的密码。”运用所学政治知识,联系材料对此观点加以阐释。

40. 阅读材料,完成下列要求。(26分)

三星堆遗址年代久远,考古工作时断时续。因1986年祭祀坑发掘有了突破性进展,三星堆名扬天下。数十年来,考古人员发现了丰富的新石器、商周、秦汉、魏晋、唐宋和明清时期的遗存,出土了大量的陶器、瓷器、石器、青铜器、象牙等文物。

结合出土器物形制、风格和地层关系等多种信息来进行类比和交叉断代是考古学中常用的方法。然而,学界对三星堆遗址的年代判定产生争议,对其历史渊源、主要功能也是众说纷纭。有些人认为三星堆遗址体现了古蜀文明;有些人认为青铜大立人、青铜神树、贴黄金面罩的青铜人头像风格特异,与西亚、埃及古文明相关联,将其视为“中国文明西来说”的证据;有些专家则从其他大量文物中,如青铜尊、青铜罍以及玉璋、玉琮、玉璧、玉戈等,看到三星堆文化与黄河流域、甚至长江流域的良渚文化高度的一致性,分析其与中原文明的关系,以及中原文明、古蜀文明与中华文明的关系。

2021年3月20日,四川广汉三星堆遗址重要考古发现与研究成果正式发布,恒温恒湿的考古大棚、多功能考古操作系统、文物应急保护平台、可以远程传输数据的专家会诊室等让人眼前一亮,这些技术保障使得发掘与保护同步、多学科融合、多团队合作成为现实,人们对三星堆文化年代判定、主要功能等的答案充满期待。

(1)习近平指出,要高度重视考古工作,努力建设中国特色、中国风格、中国气派的考古学。

运用所学文化生活知识,联系材料分析说明建设中国特色、中国风格、中国气派的考古学的意义。(10分)

(2)三星堆的考古过程,是不断解谜又不断迎来新的谜题的过程。运用所学认识论有关知识,分析说明这一观点的内在逻辑。(12分)

(3)运用所学知识,结合材料谈谈你对三星堆文明与中原文明的关系的认识。(4分)

41. 阅读材料,完成下列要求。(25分)

材料一 著名思想家王阳明提出了较为系统的儿童教育理念,对后世有重要影响。在他看来,传统的学塾成为儿童的牢笼,儿童则把夫子视为敌人,易形成儿童的反抗心理。他将儿童比喻成草木,提出顺应儿童性情,肯定了儿童喜爱游戏的天性,并以“习礼”为儿童教育的重要内容。王守仁说:“凡授书,不在途多,但贵精熟。”儿童读书贵精,当量力而为。以王阳明为代表的居官文人,将儿童教育作为统治者实现“下学上达”目标的便捷途径,广泛宣传治国安邦之道,使社会成员从小就自觉接受建立在理学基础上的伦理道德教化。

——摘编自殷文洁《王守仁蒙童教育思想对当代小学教育的启示》

材料二 18世纪自然科学知识和技术快速发展,但人的自然属性却在社会变迁中遭到破坏,机器大工业的迅猛发展随之而来的是人的异化,人与人、人与自然之间的原有的和谐被破坏。因此,卢梭对人的自然本性加以探讨,发现了儿童这个独立特殊的个体,秉持“儿童本位”的教育观,开创西方儿童教育研究的先河。他说:“在万物的秩序中,人类有它的地位;在人生的秩序中,童年有它的地位;应当把成人看作成人,把孩子看作孩子”,“儿童是有他特有的看法、想法和感情的”。儿童是天性善良的、自由的和感性的存在。教育者要遵从儿童作为人的本性和儿童的本性,使其顺其自然的发展,同时儿童是具有尊严和权利的独立个体,所以成人不能剥夺大自然赋予儿童的天性,从而使儿童的童年价值得到充分的保证。

——摘编自李舒静《马克思与卢梭的儿童教育思想比较研究》

(1)根据材料一并结合所学知识,概括王阳明儿童教育思想的主要内容并说明其意义。(12分)

(2)根据材料二并结合所学知识,分析卢梭儿童教育思想的特点及形成原因。(10分)

(3)根据材料一、二并结合所学知识,谈谈从王阳明和卢梭的儿童教育思想中得出的历史启示。(3分)

42. 阅读材料,完成下列要求。(12分)

材料 下面是1927~1933年关于南昌起义的认识。

	时间及认识
1	1927年8月14日,中国共产党发布为汉宁妥协告民众书,充分肯定南昌起义的贺龙、叶挺的军队正“力争革命的继续发展;力争没收大地主,歼灭一切豪绅军阀;力争耕者有其田,工人有饭吃;力争真正民权的实现;力争真正革命的国民党的建立,以推翻一切新旧军阀的残暴督军的叛徒政府”
2	1927年8月22日,中央指示南方局和广东省委,在(南昌)起义部队入粤时,“东江须立即开始广大的暴动,发表政治的口号,为叶、贺内应”
3	1927年10月15日,张太雷在香港主持召开南方局和广东省委联席会议,认为起义部队“未曾帮助农民有蓬蓬勃勃的斗争”,没有“鼓起土地革命之高潮,与农民暴动打成一片”“自然这个运动也变成了军事的投机”
4	1928年7月,中共六大召开,认为:“南昌暴动是反对国民党中央的军事行动,这一行动是对的”,暴动失败的客观原因是敌人过于强大,至于当时指导机关策略上的错误行为,乃是没有明显的政纲;对土地革命的不坚决;没有与农民运动联络起来,没有武装农民;没有摧毁旧的政权机关,而代以劳动者的政权;等等
5	1933年6月23日,中央在关于“八一反帝战争日”的决议中,指出:“今年‘八一反战日’适为红军成立纪念。应向广大的群众指出,只有中国的工农红军才是中国劳苦群众的唯一救星”,特决定自1933年起每年8月1日为中国工农红军成立纪念日

——摘编自龙心刚、陈仕平《从“军事投机”到“红军纪念日”

——中共中央关于南昌起义早期评价的历史考查》

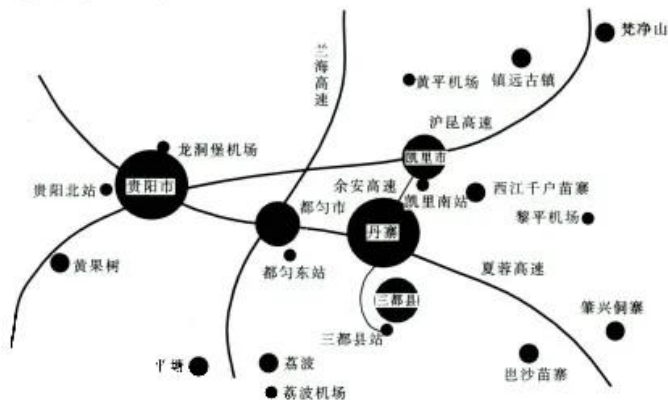
任选两则材料,提出一个论题,并结合所学知识加以论述。(要求:论题明确,史论结合,表述清晰。)



(二)选考题:共 25 分。请考生从 2 道地理题、3 道历史题中每科任选一题作答。如果多做,则每科按所做的第一题计分。

43. [地理——选修 3:旅游地理](10 分)

丹寨万达小镇地处中国贵州省黔东南州丹寨县核心位置——东湖湖畔,占地面积约 2 万平方米,依山傍水。建筑采用苗侗风格,引入丹寨特有的国家非物质文化遗产项目、民族手工艺、苗侗美食、苗医苗药等内容,并配套建设四星级万达锦华酒店、多家客栈、万达宝贝王、万达影城等,形成独具特色的综合性商业、旅游目的地。2017 年 7 月 3 日,丹寨万达小镇开业。仅半年时间,丹寨万达小镇就成为贵州省游客量排名前三的单个景区,被评为国家 4A 级景区。下图示意丹寨位置。



简述丹寨万达小镇旅游业快速发展的原因。

44. [地理——选修 6:环境保护](10 分)

鲁冰花(如图)并不是冰岛的原生花,而是舶来品,来自美国的阿拉斯加。鲁冰花易生长,可松土。鲁冰花在冰岛飞速生长,如今有不少生物学家讨论应如何有效控制鲁冰花在冰岛的繁衍。



简述鲁冰花对冰岛生态环境的影响。

45. [历史——选修 1:历史上重大改革回眸](15 分)

材料 南朝时期,统治者继承并完善东晋首创的僧官制度。中央设立佛教管理机构——僧局,直接听命于皇帝,与俗官系统互不隶属。僧正为僧局主官,由皇帝亲自任命,统一领导全国佛教僧徒。僧正的职责除了主持全国性的传经布法活动外,还要负责推举下层僧职的人选。其副职是都维那,主要工作包括维护僧团纲纪,纠察惩治各类违反僧团纲纪和佛教戒律的行为。地方上,南朝按照行政区划设置州郡僧官,每州设州僧正和州都维那各一

名,郡一级同样设有郡僧正和郡都维那。南朝僧官制度是封建统治阶层应对佛教迅猛发展所采取的政治措施,通过僧官制度把佛教纳入国家权力框架之中,加强了封建专制统治。

——摘编自雷火剑《论魏晋南北朝僧官制度及其当代启示》

- (1)根据材料,概括南朝时期僧官制度的特点。(6分)
- (2)根据材料并结合所学知识,分析南朝僧官制度的影响。(9分)

46. [历史——选修3:20世纪的战争与和平](15分)

材料 1936~1937年,在欧洲局势日益陷入危机之时,罗斯福总统提出了“世界和平会议计划”,其基本构思是:如果他能再次当选美国总统,就召集各国首脑召开一次世界和平会议,讨论和平与裁军、排除贸易壁垒以及降低关税等问题。参与会议的国家将平等地讨论问题,而不会像1919年凡尔赛会议那样由战胜国把他们的意愿强加给战败国。具体到欧洲,罗斯福政府希望在不承担政治义务的前提下,通过满足德国在经济领域和殖民地调整等方面的要求来安抚希特勒,以防止“德国为争夺市场和资源而向外出击”,“用和平手段维护和平”,解决欧洲危机。美国的部分让步与德国战略目标相去甚远,而且欧洲大国中的英国国内阁强烈怀疑美国政策的倾向,英国首相明确指出:这一计划会破坏英德关系。政治上的孤立主义政策也使该计划在美国必然遭遇挫折,难有成效。

——摘编自程文进《美德关于罗斯福“世界和平会议计划”的外交接触》

- (1)根据材料并结合所学知识,指出罗斯福“世界和平会议计划”的特点。(6分)
- (2)根据材料并结合所学知识,分析罗斯福“世界和平会议计划”破产的原因。(9分)

47. [历史——选修4:中外历史人物评说](15分)

材料 王若飞(1896—1946),无产阶级革命家。20世纪30年代初,他就看到日本“乘我内乱,以武力占领东三省”,终将“武力征服全中国”,强调坚决抗日,是挽救国民危亡的唯一出路。鉴于很多人“以为现在中国的国力,是很难战胜暴日的希望”,“对战争的前途觉得悲观无望”,他于1933年撰文指出:从军队构成与作战能力、军队指挥统一与物资供应等多个方面,日本具有军事优势,但近代战争的胜败,绝不单是系于军事实力,还系于其他比兵力更重要的政治问题,尤其是反帝的民族革命战争与无产阶级的革命战争。日本侵华已引起中国人民极大的反抗,也会引发西方国家的干涉,而且“这个民族绝不是可以被轻易征服的消灭的”,“我们应该绝对相信坚持持久的竭尽种种的抵抗是能发出非常伟大的力量”。在“坚持持久抗日的民族革命战争中的行动策略”中,他又从全民族抗战、消除军阀割据混战、发展义勇军、制定正确的民族政策等方面着手,形成国内一致抗日的局面,特别强调动员全国民众参加这个反对日本帝国主义侵略的民族革命战争。这些思想为随后中共领导人系统阐释持久战理论做了准备。

——摘编自姚正平、陈志杰《论王若飞的抗日持久战思想》

- (1)根据材料并结合所学知识,说明20世纪30年代初王若飞抗日持久战思想形成的原因。(6分)
- (2)根据材料并结合所学知识,指出20世纪30年代初王若飞抗日持久战思想的主要内容及意义。(9分)

关于我们

自主选拔在线（原自主招生在线）创办于 2014 年，历史可追溯至 2008 年，隶属北京太星网络科技有限公司，是专注于**中国拔尖人才培养**的升学咨询在线服务平台。主营业务涵盖：新高考、学科竞赛、强基计划、综合评价、三位一体、高中生涯规划、志愿填报等。

自主选拔在线旗下拥有网站门户、微信公众平台等全媒体矩阵生态平台。平台活跃用户达百万量级，网站年度流量超 1 亿量级。用户群体涵盖全国 31 省市，全国超 95% 以上的重点中学老师、家长及考生，更有许多重点高校招办老师关注，行业影响力首屈一指。

自主选拔在线平台一直秉承“专业、专注、有态度”的创办公念，不断探索“K12 教育+互联网+大数据”的运营模式，尝试基于大数据理论为广大中学和家长提供中学拔尖人才培养咨询服务，为广大高校、中学和教研单位提供“衔接和桥梁纽带”作用。

平台自创办以来，为众多重点大学发现和推荐优秀生源，和全国数百所重点中学达成深度战略合作，累计举办线上线下升学公益讲座千余场，直接或间接帮助数百万考生顺利通过强基计划（自主招生）、综合评价和高考，进入理想大学，在家长、考生、中学和社会各界具有广泛的口碑影响力，2019 年荣获央广网“年度口碑影响力在线教育品牌”。

未来，自主选拔在线将立足于全国新高考改革，全面整合高校、中学及教育机构等资源，依托在线教育模式，致力于打造更加全面、专业的**新高考拔尖人才培养**服务平台。



 微信搜一搜

 自主选拔在线