

姓名
班级
学校

河西区 2018—2019 学年度第二学期高三年级总复习质量调查(二) 文科综合试卷 (思想政治部分)

文科综合共 300 分, 考试用时 150 分钟。
思想政治试卷分为第 I 卷(选择题)和第 II 卷(非选择题)两部分; 第 I 卷 1 至 4 页, 和第 II 卷 5 至 8 页, 共 100 分。

答卷前, 考生务必将自己的姓名、准考证号填写在答题卡上, 并在规定位置粘贴考试用条形码。答卷时, 考生务必将答案涂写在答题卡上, 答在试卷上的无效。考试结束后, 将本试卷和答题卡一并交回。

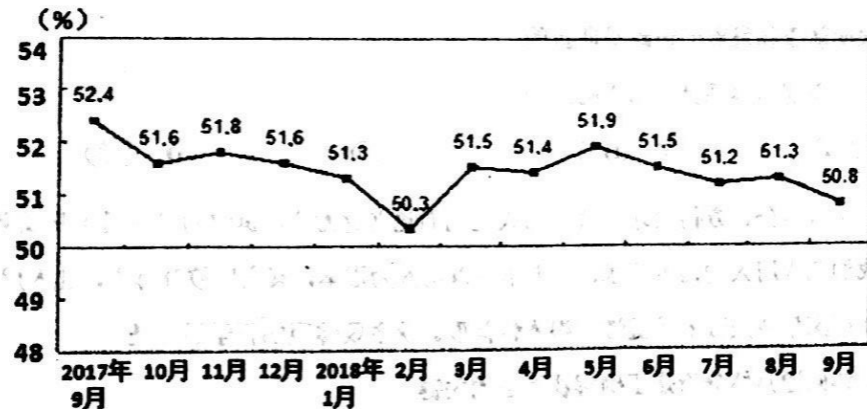
祝各位考生考试顺利!

第 I 卷

注意事项:

1. 每题选出答案后, 用铅笔将答题卡上对应题目的答案标号涂黑。如需改动, 用橡皮擦干净后, 再选涂其他答案标号。
2. 本卷共 11 题, 每题 4 分, 共 44 分。在每题列出的四个选项中, 只有一项是最符合题目要求的。

1. 下图为 2017 年 9 月—2018 年 9 月我国制造业采购经理指数 (PMI) 运行情况。为了实现制造业总体运行在扩张区间, 政府可以采取的政策措施是



注: 采购经理指数 (PMI) 是国际上通用的监测宏观经济走势的先行性指数之一。PMI 高于 50% 时, 反映经济总体扩张; 低于 50%, 则反映经济总体收缩。

- A. 降低工业生产者出厂价格 B. 提高存款准备金率, 支持实体经济
C. 降低杠杆率, 收紧信贷投放规模 D. 下调制造业等行业现行增值税税率

2. 国务院国资委召开会议指出: 对于央企混合所有制改革来说, 在混合决策时不能由一人或少数人决定, 在审计评估时不能让有利益关联的评估机构参与财务审计和资产价值评估, 在市场交易时要由市场决定交易对象, 让市场发现国资价格, 要注重公司化治理和市场化经营。这有利于

- A. 创新企业内部组织结构, 降低企业成本, 提高经济效益
B. 激发国有经济的活力, 巩固国有经济的主体地位
C. 优化管理, 防止国有资产流失, 促进企业在竞争中发展
D. 确保各种所有制经济公平参与竞争, 发挥市场决定作用

3. 2018 年 11 月 5 日, 首届中国国际进口博览会在上海举行, 来自全球的新产品、新技术、优质产品云集, 累计意向成交 578.3 亿美元, 创国内展会之最, 其中智能和高端装备展区成交额最高。这对我国产业发展的影响是

- ①丰富国内市场商品种类, 改善居民消费结构
②推动贸易和投资便利化, 维护多边自由贸易
③推动高新产业高端化, 培育战略性新兴产业
④打造我国会展产业链, 培育经济增长新动能

- A. ①② B. ①③ C. ②④ D. ③④

在社会转型时期, 传统的道德规范部分失灵而新的社会规范尚未完全确立, 导致在一些公共空间“道德滑坡”现象。近期, “霸座”现象接连成为社会热点, “霸座男”“霸座女”, 甚至还有“霸座大爷”“霸座老太太”。据此回答 4~5 题。

4. 针对右侧漫画反映的“霸座”行为, 国家应该
- A. 引导人们践行社会主义核心价值观
B. 弘扬科学精神, 提高全民科学素养
C. 宣传优秀传统文化, 改造腐朽文化
D. 加强理想信念教育, 弘扬时代精神



5. 霸座行为只要被晒上网, 就不得不承受来自舆论的谴责和压力。在不文明行为可能被随时随地“现场直播”的今天, 每个人都需要培养一点尊重规则、敬畏规则的“镜头感”。只有培养人们的规则意识和守则行为, 才能

- A. 确保社会主义民主政治制度的发展完善
- B. 使公民更多地享有权利, 更少地履行义务
- C. 推动我们的社会向有序、文明的方向挺进
- D. 更好地行使权利以维护国家的荣誉和利益

6. 回眸改革开放以来中国几十年的发展, 这不仅在于我国拥有“中国道路”, 也在于拥有“中国精神”。正是“中国精神”造就了这个国家遇难不惧的定力、化危为安的魄力。这说明

- ①中华民族精神是中华民族之魂
 - ②奋斗精神是新时代爱国主义的主题
 - ③传统文化是中华民族精神的结晶
 - ④中华民族精神可转化为物质力量
- A. ①② B. ①④ C. ②③ D. ②④

7. 2018年1月, 公安部明确指出, 公安机关要迅速形成对恶势力犯罪的压倒性姿态, 坚决把打击黑恶势力犯罪与治理基层腐败问题、加强基层政权建设有机结合起来, 充分发挥扫黑除恶专项斗争作用, 重拳出击、集中整治, 着力铲除黑恶势力的“政治基础”、“经济基础”、“社会基础”, 维护社会安定。这印证了

- A. 良好的社会环境需要国家和公民合力营造
- B. 社会主义现代化建设需要国家的专政职能
- C. 人民民主专政是我国的一项基本政治制度
- D. 法律监督机关对维护社会安定有重要作用

8. 某社区居民委员会的一名成员提出一个事关居民利益的方案, 建议在社区活动中心设立日间照料室, 以帮助老年人解决生活困难。依据《中华人民共和国城市居民委员会组织法》, 该方案应该

- A. 提请居民会议讨论决定
- B. 由居民委员会讨论决定
- C. 由居民委员会主任决定
- D. 报请有关行政部门批准

9. 2018年8月, 我国首部《电子商务法》经表决通过。由于电子商务是新生事物, 涉及面广、规模大, 而且发展日新月异, 该法律经过了3次公开征求意见和4次审议, 前后共5年的时间才最终出台。该法的出台过程蕴含的认识论道理是

- ①认识对象的不断发展决定了我们很难取得真理性认识
- ②客观事物的复杂性决定了人们的认识的反复性
- ③只有那些经过实践反复检验的真理才不会被超越
- ④实践产生的新问题推动人们的认识不断向前发展

- A. ①② B. ①③ C. ②④ D. ③④

10. 综合分析国际国内形势和我国发展条件, 从2020年到本世纪中叶, 国家建设可以分两个阶段来安排。第一个阶段, 从2020到2035年, 在全面建成小康社会的基础上, 再奋斗十五年, 基本实现社会主义现代化; 第二个阶段, 从2035到本世纪中叶, 在基本实现现代化的基础上, 再奋斗十五年, 把我国建成富强民主文明和谐美丽的社会主义现代化强国。建成社会主义现代化强国分两步走

- ①坚持了系统优化的思想和方法
- ②告诉我们量的积累必然引起质变
- ③表明新事物发展的道路是曲折的
- ④符合主观与客观具体历史的统一

- A. ①② B. ①④ C. ②③ D. ③④

11. 用人以公、方得贤才, 公正用人是我们党立党为公、执政为民在组织路线上的体现, 是我们选人用人的根本要求, “天下事以用人为根本, 其余皆枝叶耳”, 选人用人是关系党和国家事业成败的关键性、根本性问题。这主要体现的哲学道理是

- ①具体问题具体分析是正确解决矛盾的关键
- ②党坚持把人民群众的利益作为最高价值标准
- ③认识某一矛盾时, 着重把握矛盾的主要方面
- ④认识复杂事物的发展过程时, 着重把握主要矛盾

- A. ①③ B. ①④ C. ②③ D. ②④

姓名
班级
学校

河西区 2018—2019 学年度第二学期高三年级总复习质量调查(二)

文科综合试卷 (思想政治部分)

第 II 卷

注意事项:

- 1. 用黑色墨水的钢笔或签字笔将答案填写在答题卡上。
- 2. 本卷共 2 题, 共 56 分。
- 12. (38 分) 某校高三同学开展了以“改革开放推动中国特色社会主义事业伟大飞跃”为主题的探究活动。请你参与以下问题的探究。

2017 年我国 GDP 为 82.7 万亿元人民币, 是 1978 年的 224 倍, 占世界经济比重的 15% 左右, 稳居世界第二大经济体地位。中国已成为世界第一大工业国、第一大货物贸易国、第一大外汇储备国……。这一切都得益于我国社会主义市场经济体制的建立和完善。

改革开放以前, 无论是马克思主义者还是西方学者, 都把计划经济作为社会主义的基本特征, 把市场经济作为资本主义的基本特征。在对待改革的问题上, 邓小平指出: “计划多一点还是市场多一点, 不是社会主义与资本主义的本质区别, 资本主义也有计划, 社会主义也有市场, 计划和市场都是经济手段。”

(1) 结合《经济学常识》的知识, 谈谈社会主义市场经济理论创立的意义。(8 分)

改革开放是前无古人的崭新事业, 必须坚持正确的方法论, 在不断实践探索中推进。习近平新时代中国特色社会主义思想蕴含着丰富的改革方法论智慧。

改革方法论	具体措施
强化战略思维	党中央以战略思维、战略眼光审视我国经济社会发展新阶段、新形势, “四个全面”战略布局、新发展理念等无不体现了以习近平同志为核心的党中央审大势、观大局、抓大事的宏大战略思维。
树立问题导向	问题是时代的声音, 党中央坚持直面问题, 不回避、不遮掩, 出实招、破瓶颈, 逐步推动解决改革发展稳定中的突出问题。

高三文综试卷(政治部分)第 5 页 共 8 页(二)

(2) 结合改革方法论和其对应具体措施, 运用唯物辩证法知识分析其科学性。(8 分)



习近平指出, “形象地讲, 长期以来, 我们党带领人民就是要不断解决‘挨打’、‘挨饿’、‘挨骂’这三大问题。经过几代人不懈奋斗, 前两个问题基本得到解决, 但‘挨骂’问题还没有得到根本解决”。“挨骂”就是在话语权上存在问题。当前, 中国发展和治理的势头都不错, 但在世界上往往有理说不出, 或者说了传不开。要实现中华民族伟大复兴, 争取国际话语权是我们必须解决好的一个重大问题。

(3) 结合材料, 请找出我们必须争取国际话语权的《文化生活》依据。(10 分)

高三文综试卷(政治部分)第 6 页 共 8 页(二)

一个经济体的 R&D (研究与开发) 经费投入情况是测度经济体研发活动规模、评价经济体科技实力和创新能力的重要指标。




图1 2016年部分国家 R&D 经费强度

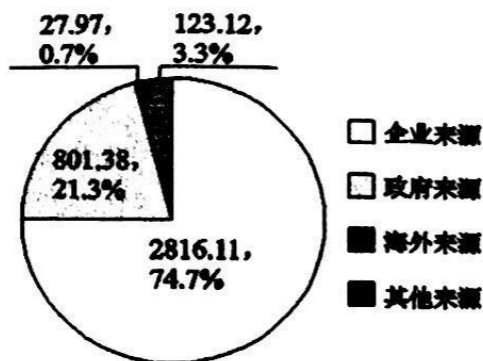


图2 2015年中国 R&D 经费来源情况

注: 2013-2016年间我国 R&D 经费年均增长 11.1%, 而同期美国、欧盟和日本分别为 2.7%、2.3%和 0.6%。2017年, 我国共投入研究与试验发展 (R&D) 经费比上年增长 12.3%。

(4) 结合材料, 从经济角度说明有效提升我国科技实力和创新能力政策取向。(12分)

13. (18分) 路权是交通参与者根据交通法规的规定, 在一定空间和时间内进行道路活动的权利。生活中, 行人、电动车、自行车、汽车等共同使用公共交通资源, 互相之间常常发生路权矛盾。

“汽车社会”被认为是时代发展的必然趋势。“汽车优先”成为许多城市的选择, 不少城市压缩甚至取消非机动车道。而今, 汽车规模裂变式增长, 公共交通捉襟见肘, 路权矛盾日趋凸显: 破解公共资源的有限性与公众出行需求增长之间的矛盾, 事关社会和谐。

如何解决路权纷争? 除了加强公共交通和轨道建设, 很多城市提出“慢行优先”的策略, 通过建立非机动车、步行等慢行交通网络, 鼓励人们更多地骑行、步行。

结合上述材料, 探究下列问题:

(1) 你赞同“汽车优先”还是“慢行优先”? 请运用正确价值判断的标准进行分析说明。(6分)

(2) 结合材料, 运用《政治生活》的知识, 分析我国该如何破解路权纷争。

河西区2018—2019学年度第二学期高三年级总复习质量调查(二)

文科综合试卷(历史部分)

本试题分第I卷(选择题)和第II卷(非选择题)两部分。满分100分。

第I卷(选择题 共44分)

注意事项:

1. 每题选出答案后,用铅笔将答题卡上对应题目的答案标号涂黑。本卷的答案涂在答题卡上的相应位置。

2. 本卷共11小题,每题4分,共计44分。在每题列出的4个选项中,只有一项是最符合题目要求的。

1. “兴灭国,继绝世,举逸民,天下之民归心焉”出自《论语·尧曰》。西周分封的诸侯国中体现了这一思想的是

- A. 鲁 B. 齐 C. 燕 D. 宋

2. 北宋司马光撰写的《居家杂仪》中有“凡为子为妇者,毋得蓄私财。俸禄及田宅所入,尽归之父母舅姑。当用则请而用之,不敢私假,不敢私与。”对材料主旨解读正确的是

- A. 缓解家庭内部矛盾 B. 强化纲常伦理观念
C. 剥夺子女经济权益 D. 限制父母分配权利

3. 明代“吴门画派”的领袖沈周主张:“画法以意匠经营为主,然必气韵生动为妙。意匠易及,而气韵别有三昧,非言可传!”以下作品符合其主张的是



- A. 《洛神赋图》 B. 《步辇图》 C. 《清明上河图》 D. 《墨兰图》

4. 右图为刊登在《巴黎人》杂志上的一张名为“向北京进军”的法军海报,印证了法国侵略近代中国的历史。法国的此次侵略

- A. 导致中国领土主权开始遭到破坏
B. 逼迫清政府允许其在华投资设厂
C. 将战火从山东扩大到了华北地区
D. 获得了武装控制京津地区的特权



5. 据汉冶萍公司档案记载:1908年,汉阳铁厂与另外两家企业合并为商办的“汉冶萍煤铁厂矿股份有限公司”(简称汉冶萍公司)。右图为该公司发行的股票。这些记载和图片

- A. 表明中国企业主要依靠政府投资
B. 反映了汉冶萍公司的筹资情况
C. 表明洋务企业由军用转变为民用
D. 说明洋务企业就此开始走向市场



6. 下表反映了建国初期国民经济的发展状况,从中可以得知

项目 \ 行业	农业	轻工业	重工业
1953—1957年平均增长速度(%)	4.5	12.8	25.4
1953年农轻重比重(%)	52.8	29.6	17.6
1957年农轻重比重(%)	43.5	29.2	27.3

- A. 计划经济体制逐步形成 B. 社会主义制度基本确立
C. 优先发展重工业的方针 D. 国民经济调整任务完成

7. 德国史学家蒙森在其著作《罗马史》中对罗马法起源进行了清晰的讨论:对罗马人来说,法律首先不是如同我们所理解的那样,并非国王对于所有民社成员发布命令,而首先是构成国家的各权力代表以说明和反驳的方式所缔结的契约。由此可知罗马法有利于

- A. 维护法律权威 B. 保障人民的权益 C. 保护私有财产 D. 限制权力的滥用

8. 1563年,英国议会制定法律,规定任何人都不得在没有书面许可的情况下离开其住地,否则将被逮捕和遣送。1795年,英国颁布《贫民迁移法》,允许居民在规定的教区内迁移。1846年,英国修改《贫民迁移法》,禁止对在某一教区居住5年以上者遣返原籍。促使英国不断调整国内移民法律的原因是

- A. 无产阶级的斗争 B. 启蒙运动的深入 C. 工业革命的发展 D. 选举制度的改革

9. 霍布斯认为:“当他们每个人通过与其他人的协议迫使自己不能违抗他已经服从的那个人或会议的意志时……这种使所有人的意志都服从某一个人或会议的意志的情况就会出现,这就叫‘联盟’。会议的这种意志被看成是构成这种会议的成员的多数意志。”与其主张最相似的思想家是

- A. 苏格拉底 B. 伏尔泰 C. 孟德斯鸠 D. 卢梭

姓名
班级
学校

10. 下图是《19世纪后期的某国海外贸易示意图》，对该图解读正确的是



- A. 资本主义世界体系最终建立
- B. 该国完成了工业革命
- C. 该国成为世界工厂
- D. 垄断资本确立了对世界的统治

11. 1930年苏联粮食产量为835.4亿千克，1931年降至694.8亿千克；1930年苏联粮食出口483亿千克，1931年增至518亿千克。这表明苏联

- A. “斯大林模式”实施初期成效显著
- B. 人民为国家工业化建设作出贡献
- C. 农业投入不足造成粮食增产下降
- D. 新经济政策的弊端日益显露

河西区2018—2019学年度第二学期高三年级总复习质量调查(二)

文科综合试卷(历史部分)

第II卷(非选择题 共56分)

注意事项:

1. 用黑色墨水的钢笔或签字笔将答案写在答题卡上。
 2. 本卷共3道题, 12题18分, 13题21分, 14题17分, 共计56分。
12. 中国古代是以农为本的国家, 然而自宋代开始, 农业中出现了“今之农与古之农异”的现象。阅读下列材料:

材料一

朝代	粮食亩产水平(市斤)	人均粮食占有量(市斤)	全国耕地面积(亿市亩)	粮食作物播种面积所占比重
春秋战国	91(全国)	614.8	2.3	94%
秦汉	117(全国)	1048.35	5.72	94%
魏晋南北朝	122(北方) 215(南方)	1167.7	3.85	90%
隋唐	124(北方) 328(南方)	1450.92	6.42	90%

——卜凤贤《传统农业时代的灾荒风险和粮食安全》

(1) 据材料一并结合所学知识, 概括春秋至隋唐农业发展的趋势。(6分)

姓名 班级 学校

材料二 今之农与古之农异，秋成之时，百道（拖欠的债务）丛身，解饷之余，储积无几，往往负贩佣工以谋朝夕之赢者，比比皆是也。

——（宋）王楙《青斋集》

(2) 与材料一相比，材料二中出现了何种新的社会现象。根据材料二并结合所学知识分析“负贩佣工”可以谋“朝夕之赢”的有利条件是什么。（5分）

材料三 一般说来，兼业的农户能比纯农业户向市场提供更丰富多样的商品，也能比纯农业户更多地从市场上购买商品……但任何事物都具有两面性，农民兼业从一开始就是与维持他们最基本的生存条件联系在一起的，个体小农在一个极低的水平上实现收支平衡，不仅减少了对纺织品、农具等一般手工业品的市场需求，而且生产出大量同类手工业品，对专业化生产构成了顽强的抵制。

——李晓《宋代工商业经济与政府干预研究》

(3) 根据材料三中指出“两面性”含义是什么。综合以上材料，谈一谈应如何看待宋代的这一新的社会现象。（7分）

13. 时代变革要求建设与之相适应的思想文化，同时思想文化创新是时代变革的先导。阅读材料，回答问题。

材料一 后代的人们，由其现实的利益和要求出发，各取所需，或夸扬其（孔子）保守的方面，或强调其合理的因素，来重新解说、建造和评价他们，以服务于当时阶级的、时代的需要。于是，有董仲舒的孔子，有朱熹的孔子……

——选自李泽厚《中国古代思想史论》

(1) 根据材料一并结合所学知识指出，朱熹是怎样“建造”新思想以适应时代发展需要的。（6分）

材料二 只有这些作家所处的时代和国家的极其特殊的原因，才能解释作家们的事业，以及这项事业的成就。伏尔泰精神久已问世，但伏尔泰本人只有在18世纪的法国才能真正居支配地位。

——托克维尔《旧制度与大革命》

(2) 据材料二和所学知识，分析“伏尔泰本人只有在18世纪的法国才能真正居支配地位”的原因。（4分）

材料三 如果说古代中国由科举制度孕育的士大夫群体有着较多的一致性的话，那么到了近代国内忧外患，则使得这一群体差异性日渐突出。

—— 阎小波《中国近代政治发展史》

(3) 结合所学知识试举一例分析“到了近代国内忧外患，则使得这一群体差异性日渐突出”的表现。概述晚清时期中国士大夫群体差异性日渐突出的社会影响。（8分）

材料四 要充分体现国家的软实力及精神力量的强大，则需要一流哲学家的智慧和一流思想家的引领。

—— 中国科学院院士 杨玉良

(4) 综合上述所有材料，说明思想家是如何顺应和引领时代潮流的。（3分）

14. 交通的发展与人类社会的进步有着重要联系。阅读下列材料:

材料一 英国近代物流业发端于19世纪20年代。1825年有使用价值的铁路在英国开始出现。经过二十多年建设,到1848年,在英国通车的铁路达到5000英里。1842年,《英普条约》规定,两国船只在彼此港口中所征的捐税应完全平等。19世纪50年代,英国废除了《航海条例》,修改了《商船条例》和《轮船条例》等,对远洋船舶的航行安全、货物装载、船主及船员责任等作了具体规定。在19世纪下半叶,汽船代替了帆船,航行于内河与远洋。英国近代物流业产生了。

——摘编自克拉潘《现代英国经济史》

(1) 据材料一并结合所学知识,概括英国近代物流业发展迅速的原因。从世界经济地位的角度指出物流业的发展对近代英国的影响。(6分)

英国近代物流业发展迅速的原因: 1. 工业革命推动, 蒸汽机发明, 铁路和汽船出现, 提高了运输效率。 2. 国际贸易扩大, 需要更高效的物流系统。 3. 英国地理位置优越, 是重要的贸易中心。 4. 政府政策支持, 如《英普条约》和航海条例的修改。 5. 英国拥有强大的海军, 保障了海上贸易的安全。 6. 英国是第一个完成工业革命的西方国家, 具有技术优势。

材料二 如果没有铁路,英国是不可能像现在这样统治印度的。铁路传播了腺鼠疫。……铁路还导致了饥荒频频发生。由于交通工具的便利,人们把出售的谷物送往价格最昂贵的市场。他们变得目光短浅,因此饥荒的压力增加了。

——摘编自甘地《印度自治》

(2) 材料二作者认为修建铁路对印度社会产生了哪些影响。据此指出作者的立场。(5分)

修建铁路对印度社会的影响: 1. 传播了腺鼠疫, 对印度人民健康造成威胁。 2. 导致了饥荒频频发生, 加剧了印度人民的苦难。 3. 使印度人民变得目光短浅, 只追求眼前的利益, 忽视了长远的利益。 4. 铁路的修建和运营, 使印度人民更加依赖英国, 加深了英国的殖民统治。 5. 铁路的修建和运营, 使印度人民更加了解英国, 激发了印度人民的民族意识, 为印度独立运动奠定了基础。

材料三 2013年9月和10月由中国国家主席习近平分别提出建设“新丝绸之路经济带”和“21世纪海上丝绸之路”的合作倡议。“一带一路”沿线各国资源禀赋各异,经济互补性较强,彼此合作潜力和空间很大。以政策沟通、设施联通、贸易畅通、资金融通、民心相通为主要内容……写下了《丝绸之路:一部全新的世界史》一书的英国历史学家彼得·弗兰科潘说:“丝绸之路曾经塑造了过去的世界,甚至塑造了当今的世界,也将塑造未来的世界。”

——摘编自《人民日报》

材料四 ……抓住交通基础设施的关键通道、关键节点和重点工程,推进建立统一的全程运输协调机制,促进国际通关、换装、多式联运有机衔接,逐步形成兼容规范的运输规则,实现国际运输便利化……

——摘编自《人民日报》“一带一路”沿线各国合作重点

(3) 根据材料三、四并结合所学知识,分析中国实施“一带一路”战略的时代背景。根据上述所有材料并结合所学知识谈一谈对“也将塑造未来世界”的理解(6分)

中国实施“一带一路”战略的时代背景: 1. 经济全球化深入发展, 各国经济联系日益紧密。 2. 中国综合国力不断增强, 国际地位日益提高。 3. 中国需要扩大对外开放, 加强与沿线国家的合作。 4. 中国需要推动“双轮驱动”, 实现经济转型升级。 5. 中国需要构建人类命运共同体, 促进世界和平与发展。

对“也将塑造未来世界”的理解: 1. “一带一路”战略将促进沿线国家的经济发展和繁荣。 2. “一带一路”战略将加强沿线国家的文化交流和民心相通。 3. “一带一路”战略将推动全球贸易和投资的自由化和便利化。 4. “一带一路”战略将促进全球基础设施的互联互通。 5. “一带一路”战略将推动全球治理体系的变革和完善。 6. “一带一路”战略将推动构建人类命运共同体, 实现世界和平与发展。

姓名 班级 学校 密封

河西区2018—2019学年度第二学期高三年级总复习质量调查(二)

文科综合试卷(地理部分)

文科综合共300分,考试用时150分钟。

地理试卷分为第I卷(选择题)和第II卷(非选择题)两部分,第I卷1至4页,第II卷5至8页,共100分。

答卷前,考生务必将自己的姓名、准考证号填写在答题卡上,并在规定位置粘贴考试用条形码。答卷时,考生务必将答案涂写在答题卡上,答在试卷上的无效。考试结束后,将本试卷和答题卡一并交回。

祝各位考生考试顺利!

第I卷

注意事项:

- 1. 每题选出答案后,用铅笔将答题卡上对应题目的答案标号涂黑。如需改动,用橡皮擦干净后,再选涂其他答案标号。
2. 本卷共11题,每题4分,共44分。在每题给出的四个选项中,只有一项是最符合题目要求的。

凡是大气中因悬浮的水汽凝结、能见度低于1千米时,气象学称这种天气现象为雾。2018年11月27日,卫星观测到我国江淮和长江流域被浓雾覆盖,形成了从太空中可见的白色浓雾区,然而这些浓雾区表面却发展出了大小不一的孔洞,仿佛像是被人用手戳出了一个洞(如图1)。据此完成1~2题。



图1

- 1. 下列因素中与此次浓雾形成无关的是
A. 冷空气势力弱 B. 空气湿度大
C. 气旋活跃频繁 D. 大气层结稳定
2. 这些“雾洞”对应的地表最有可能是
A. 城市 B. 农田 C. 湖泊 D. 焚烧秸秆点

老秃顶子为辽宁省最高峰,属于长白山系龙岗支脉向西南延伸部分。图2示意老秃顶子北坡植物群落、乔木层、灌木层和草本层物种丰富度的垂直梯度变化。读图回答3~4题。

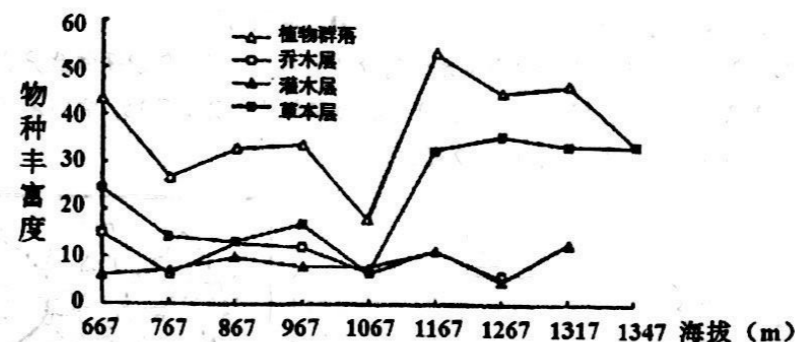


图2

- 3. 老秃顶子山顶部的自然带是
A. 山地针阔混交林带 B. 高山草甸带
C. 山地苔原带 D. 高山冰雪带
4. 该山北坡草本植物种类在1167米以上明显多于较低海拔地区的原因是
A. 阴坡蒸发弱,空气湿度更大
B. 水土流失少,土壤更肥沃
C. 冰雪融水补给多,水源更充足
D. 上层植被遮蔽少,光照更充足

微农场就是以家庭成员为主要劳动力、经营灵活、规模适度的农场,其生产管理主要是对营养液加液时间和次数进行调节。图3为微农场系统示意图。据此完成5~6题。




图3

- 5. 形成微农场的主导因素为
A. 劳动力 B. 市场 C. 科技 D. 政策

6. 随着时代的发展, 微农场将成为城市居民生活的重要组成元素。其生态效益主要表现为

- A. 减少灰霾污染
- B. 缓和热岛效应
- C. 削弱紫外线辐射
- D. 增强雨岛效应

手机越来越成为人们生活中离不开的随身必需品, 中国是智能手机生产大国, 智能手机的产业链很长。图4左图是我国某国产手机的零部件主要来源地, 右图是我国某H手机企业生产部门迁移图。据此完成7~9题。

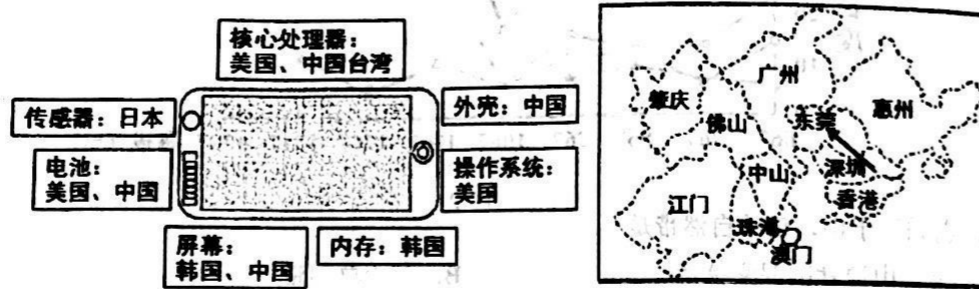


图4

7. 中国近年来一直是世界最大的手机生产组装基地, 其主要区位因素是
- A. 中国手机产业基础好, 设施完善
 - B. 与东南亚相比, 中国劳动力便宜
 - C. 中国能研发生产全部手机零部件
 - D. 中国手机需求量大, 可就近销售
8. 一般而言, 当价格不变时, 集成电路可容纳的电子元件每隔 18-24 个月就会增加一倍, 性能提升一倍, 因此, 电子产品的价格是呈下降趋势的。但是最近几年, 国产手机价格却越来越贵。其原因最可能是
- A. 受国际形势影响, 核心技术自由买卖
 - B. 面向世界大市场, 航空运输成本上升
 - C. 争夺下游厂商, 增加零部件进货成本
 - D. 国产手机品牌升级, 科研经费在增加
9. H 企业将生产部门从一线城市深圳迁往临近的东莞, 而总部和设计等部门还保留在深圳, 下列说法最合理的是
- A. 深圳近香港, 保留设计部门可吸引香港人才
 - B. 生产搬离, 可降低深圳房价, 提高研发水平
 - C. 东莞相对而言地价较低, 劳动力生活成本低
 - D. 东莞位于广州与深圳之间, 离两个市场较近

当太阳、卫星、地面天线(俗称锅盖)三点共线时(如图5), 地面天线会接收大量太阳电磁辐射, 卫星信号因受到强烈干扰导致电视画面不清晰甚至黑屏, 这种现象就是日凌。我国地球静止轨道卫星中星6B定点于(0°, 116° E)上空, 为央视、上海卫视等电视台提供信号传输服务。据此完成10~11题。

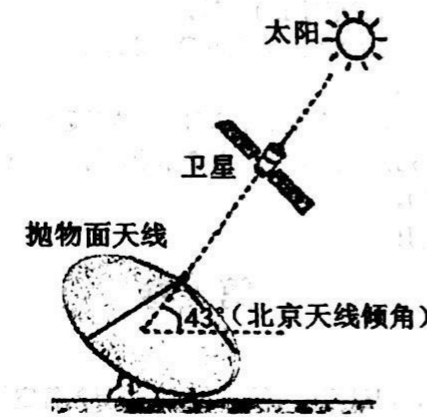


图5

10. 北京市居民如果想接收中星6B的电视信号, 在安装卫星地面天线(锅盖)时, 应将其朝向
- A. 东方
 - B. 西方
 - C. 南方
 - D. 北方
11. 日凌现象每年发生两次, 北京发生第一次日凌现象的时间在
- A. 春分日前
 - B. 春分日后
 - C. 夏至日前
 - D. 秋分日后

姓名
班级
学校

河西区2018—2019学年度第二学期高三年级总复习质量调查(二)

文科综合试卷(地理部分)

第II卷

注意事项:

- 1. 用黑色墨水的钢笔或签字笔将答案填写在答题卡上。
- 2. 本卷共3题,共56分。

12. (21分) 阅读图文材料,完成下列要求。

塞内加尔地处非洲西部,地形以平原为主,70%的人口从事农业,渔业是塞内加尔主要创汇产业之一。塞内加尔河是一条国际性河流,巴克尔以下的河谷地带是人口较为稠密的地区。图6为塞内加尔河水系示意图。



图6

(1) 推测塞内加尔河流经巴克尔后径流量的变化特征,并分析原因。(8分)

(2) 分析塞内加尔渔业资源丰富的原因。(6分)

(3) 塞内加尔欲进一步扩大渔业生产,增加出口量,你是否赞同?请说明理由。(7分)

13. (22分) 阅读图文材料,回答下列问题。

有学者这样描述:“古尔班通古特沙漠冬季有较多积雪。开春后,短命植物迅速生长。4~6月,沙漠里草绿花鲜、繁花似锦……”这种特殊的草本短命植物,早春萌发,在夏季来临前的2个月左右时间里,迅速完成整个生长发育过程,大约在7月份以后,整个植株或地上部分逐渐干枯死亡。图7是古尔班通古特沙漠位置及某气象站10月至次年9月各月降水量示意图。

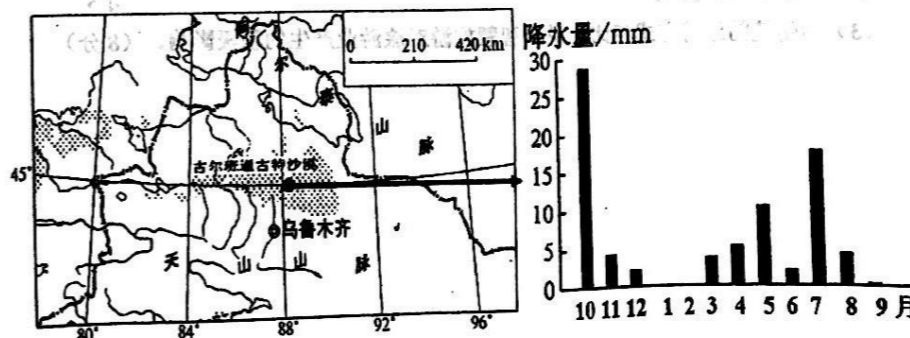


图7

(1) 分析古尔班通古特沙漠“4~6月沙漠里草绿花鲜、繁花似锦”的原因。(6分)

几位旅行者拟在5月份去古尔班通古特沙漠进行科学考察。

(2) 请你结合当地自然环境的特殊性,为他们准备四项物品,并说明理由。(8分)

智慧旅游,也被称为智能旅游,就是利用云计算、物联网等新技术,通过互联网或移动互联网,借助便携的终端上网设备,主动感知旅游资源、旅游经济、旅游活动、旅游者等方面的信息,及时发布,让人们能及时了解这些信息,及时安排和调整工作与旅游计划,从而达到对各类信息的智能感知、方便利用的效果。(见图8)



图8

(3) 与传统的旅游方式相比,说明智慧旅游对旅游业产生的积极影响。(8分)

14. (13分) 阅读图文资料,完成下列各题。

2017年6月23日吉利汽车集团与马来西亚DRB-HICOM集团签署最终协议,收购该集团旗下宝腾汽车49.9%的股份。宝腾汽车是马来西亚“国宝级”品牌,由总理马哈蒂尔于1983年建立,是目前东南亚地区成熟的整车制造商之一,宝腾汽车有莎阿南和丹戎马林工厂2个主要生产基地,经销网络覆盖马来西亚以及东南亚、英国、中东及澳大利亚。在建立初期,宝腾汽车发展迅速,全盛时曾占有马来西亚汽车市场超过八成份额。2002年随着马来西亚加入东盟自由贸易区,宝腾汽车开始衰落。为了让公司走出困境,早在2006年宝腾汽车就开始在全球寻找合作伙伴,最终于2017年选择与中国吉利汽车集团合作。

图9示意马来西亚的地理位置。

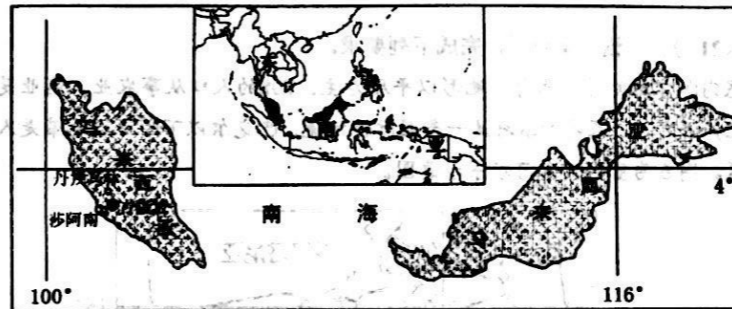


图9

(1) 简析宝腾汽车在建立初期迅速发展的区位优势。(3分)

(2) 分析2002年后宝腾汽车衰落的主要原因。(4分)

(3) 说明吉利汽车布局马来西亚的主要战略目标。(6分)

河西区 2018—2019 学年度第二学期高三年级总复习质量调查(二)

思想政治部分参考答案

第 I 卷

题号	1	2	3	4	5	6	7	8	9	10	11
答案	D	C	D	A	C	B	B	A	C	B	D

第 II 卷

12. (1) ①消除了把计划经济和市场经济看做社会基本制度范畴的思想束缚, ②丰富和发展了马克思主义政治经济学说, ③为我国经济体制改革目标模式的选择奠定了基础, ④促进了我国现代化建设事业的蓬勃发展。(每小点 2 分, 共 8 分)

(2) 强化战略思维: 整体居于主导地位, 统率着部分, 应树立全局观念, 立足整体, 实现整体的最优目标。强化战略思维, 审大势、观大局符合当前我国经济社会发展的新要求。

(4 分) 树立问题导向: 矛盾具有普遍性, 应承认矛盾, 分析矛盾, 解决矛盾。矛盾在生活中表现为各种问题, 树立问题导向, 做到不回避、不遮掩, 出实招, 才能找到解决问题的有效办法; 主要矛盾在事物发展过程中处于支配地位, 对事物发展起决定作用, 把握主要矛盾, 破瓶颈, 解决改革发展稳定中的突出问题, 才能推动改革发展。(4 分)

(3) ①经济政治决定文化, 文化反作用于经济政治。中国经济政治地位提高, 话语权应随之提升; 也有利于促进我国经济政治发展, 推动民族复兴。(4 分) ②提升话语权是推动中华文化走出去, 促进文化交流传播的需要, 也是弘扬源远流长、博大精深的中华文化, 增强文化自信的要求。(4 分) ③文化是民族凝聚力和创造力的源泉, 是经济社会发展的重要支撑, 提升话语权是提高国际地位和综合国力的要求。(2 分) (提升中国国际话语权, 符合牢牢把握意识形态主阵地的要求。)

(4) ①坚持创新发展理念, 把创新作为引领发展的第一动力和建设现代化经济体系战略支撑。②充分发挥市场在资源配置中的决定性作用, 激励市场主体提高创新能力。③国家财政发挥促进资源配置的作用, 增加科技研发投入, 为高新技术企业减税。④完善收入分配机制, 尊重创新, 提高科研人员的积极性。⑤加强创新能力的开放合作, 最大限度用好全球创新资源, 提高我国科技实力。(其他合理答案可酌情给分) (每小点 3 分, 答出其中 4 点给 12 分)

13. (1) 答案示例一: “汽车优先”, 有利于促进经济发展, 满足人们更高水平的消费需求, 符合社会发展的客观规律, 符合人民群众的根本利益。
答案示例二: “慢行优先”, 有利于节约资源, 保护环境, 满足人们对美好生活的需求, 符合社会发展的客观规律, 符合人民群众的根本利益。(从不同角度回答出符合正确的观的要求, 即可给 6 分)

(2) ①国家要完善国家治理体系, 提高国家治理能力。针对路权纷争完善国家道路管理及公民出行交通网络的制度化运行系统, 提高治理主体的素质和制度执行能力。(3 分)
②人大作为国家权力机关行使立法权, 贯彻依法治国的方略, 完善路权方面相关的法律法

高三文综答案(政治部分)第 1 页共 2 页(二)

规(3 分) ③政府坚持依法行政, 提高交通管理水平, 严格、公正、文明执法, 严肃查处交通违法行为, 保障人民群众的合法权利和自由; 政府坚持对人民负责是政府工作的原则, 合理制定机动车产业发展规划, 加强公共交通设施建设, 开展文明出行的宣传教育, 缓解路权矛盾。(3 分) ④公民依法行使“路权”, 尊重他人的合法权益, 必要时放弃某些“路权”的行使; 积极向有关部门提出交通文明建设的意见和建议, 监督有关部门的执法行为。(3 分)

高三文综答案(政治部分)第 2 页共 2 页(二)

河西区2018—2019学年度第二学期高三年级总复习质量调查(二)

文科综合 历史部分 试题参考答案及评分标准

第I卷(选择题 共44分)

本卷共11小题,每题4分,共计44分。

题号	1	2	3	4	5	6	7	8	9	10	11
答案	D	B	D	D	B	C	D	C	D	C	B

第II卷(非选择题 共56分)

本卷共3道题,12题18分,13题21分,14题17分,共56分。

12. (1) 发展趋势: 粮食亩产提高; 人均粮食占有量增加; 耕地面积增加; 南方经济发展; 粮食作物种植面积比重下降。6分(答出任意三点即可)

(2) 现象: 农民兼业(农民利用农闲经营农业之外的产业)。2分

条件: 宋代商品经济的高度繁荣; 商业环境相对宽松; 农民经营观念的转变。3分

(3) 含义: 一方面, 可以促进工商业发展(增加商品流通); 扩大消费。另一方面, 造成国内部分产品市场狭小; 不利于专业化生产。4分

看待: 是一种新的经济现象; 是社会进步的表现; 依旧属于小农经济的范畴; 不能促进社会变革与转型。3分(答出任意三点即可)

13. (1) 朱熹: 吸收佛、道思想; 认为天理即三纲五常; 主张存天理, 灭人欲。6分

(2) 原因: 资本主义的发展, 资产阶级力量的壮大; 法国君主专制制度阻碍资本主义的发展; 文艺复兴以来人文主义思潮的影响; 近代科学的发展。4分

(3) 表现: 抵抗派提出“师夷长技以制夷”; 主张学习西方军事科技。(洋务派提出“中体西用”; 主张学习西方先进科技, 并付诸实践。资产阶级维新派主张学习君主立宪; 倡导维新变法。)4分

影响: 西学东渐, 促进西方思想的传播; 推动近代工业的发展; 促进了中国近代化; 有利于推动中国民主化进程; 4分(或资产阶级维新变法促进了思想解放)

(4) 根据社会发展的需要不断完善思想内涵; 准确把握时代脉搏, 具有超前意识; 对传统思想继承发展的同时借鉴外来思想成果。3分

14. (1) 原因: 资本主义迅速发展; 世界市场逐渐形成; 交通运输工具创新; 政府立法。4分 影响: 英国成为世界工厂; 也是世界贸易中心。2分

(2) 影响: 加强英国对印度的殖民统治; 将印度卷入资本主义世界体系; 传播了疾病, 导致了饥荒。3分 立场: 材料二作者是站在民族解放的立场; 强调铁路带来的消极影响。2分

(3) 背景: 建立并逐步完善社会主义市场经济体制; 世界经济全球化趋势加强。4分 理解: 中国“一带一路”战略不重复大国政治较量、殖民扩张的老路; 面对当今世界的新挑战, 强调各国的平等参与、包容普惠; 主张携手应对世界经济面临的挑战; 共同朝着人类命运共同体方向迈进。2分(答出任意两点即可)

河西区2018—2019学年度第二学期高三年级总复习质量调查(二)

文科综合 地理部分 试题参考答案及评分标准

第 I 卷 (选择题 共 44 分)

题号	1	2	3	4	5	6	7	8	9	10	11
答案	C	A	B	D	C	B	A	D	C	C	A

第 II 卷 (非选择题 共 56 分)

12. (21 分)

(1) 变化: 不断减少。(2 分)

原因: 支流汇入少, 降水少, 河水补给少; 气候炎热, 河水蒸发旺盛; 流经沙漠地区, 河水下渗多; (任答 2 点得 4 分) 人口密度大, 生产生活用水量大。(2 分)

(2) 沿海水域广阔, 为鱼类活动提供了广阔的空间; 沿岸有上升流, 带来大量饵料; 塞内加尔河径流带来丰富的营养物质。(3 点 6 分)

(3) 赞同。塞内加尔沿海渔业资源丰富; 国际市场需求量大; 海上对外交通便利; 发展渔业出口可以增加就业, 增加外汇收入, 带动经济发展。

不赞同。塞内加尔经济不发达, 海洋捕捞技术落后; 捕捞不当会造成渔业资源衰减和沿海生态环境恶化; 过度依赖渔业生产会导致其他农业类型发展缓慢。

(观点 1 分, 理由答出 3 点 6 分, 共 7 分)

13. (22 分)

(1) 春季气温回升; 积雪和冻土融化(受西风和北冰洋水汽的影响, 雨水增加), 沙丘土壤水分增多; 4~6 月水热配合较好, 并维持 2 个月左右时间, 短命植物迅速萌发、开花、生长。(3 点 6 分)

(2) GPS 导航: 沙漠地域广大, 野外考察判断方向; 足够的水和食物; 旅途远, 水和体能消耗大; 防辐射(防晒)、防风用品(如墨镜、防风帽、口罩等); 温带大陆性气候, 太阳辐射强(大风沙尘天气多); 防寒衣物; 当地昼夜温差大。防风保暖帐篷; 住宿地方少; 垃圾袋; 及时处理生活垃圾。(任答 4 点 8 分)

高三文综(地理部分)试题参考答案 第 1 页 共 2 页(二)

(3) 及时获取游客信息, 可最大程度地满足旅游者个性需求; 对游客评价和反馈进行科学分析, 提高服务效率和质量; 结合旅游信息数据形成旅游预测预警机制, 提高应急管理能力, 保障旅游安全; 有利于旅游品牌推广, 扩大市场。(4 点 8 分, 合理即可)

14. (13 分)

(1) 由国家总理建立, 政策大力扶持; 基地紧邻首都吉隆坡, 生产协作条件好; 毗邻马六甲海峡, 海运便利。(3 点 3 分)

(2) 设计研发技术落后(汽车更新换代周期长); 加入东盟自由贸易区后, 受到外来汽车的冲击较大(汽车进口关税大幅度下降)。(2 点 4 分)

(3) 利用马来西亚廉价的土地和劳动力, 降低生产成本, 提高市场竞争力; 利用东盟自由贸易区内零关税的优势, 抢占广阔的东南亚市场; 利用宝腾庞大的经销网络, 进一步完善全球化布局(拓展世界市场)。(3 点 6 分)

(答案仅供参考, 合理可酌情赋分)

自主招生在线创立于 2014 年, 是专注于自主招生、学科竞赛、全国高考的升学服务平台, 旗下拥有网站和微信两大媒体矩阵, 关注用户超百万, 用户群体涵盖全国 90% 以上的重点中学老师、家长和考生, 引起众多重点高校的关注。

如需第一时间获取相关资讯及备考指南, 请关注自主招生在线官方微信号: zizzsw。



微信扫一扫, 快速关注

高三文综(地理部分)试题参考答案 第 2 页 共 2 页(二)