

2022~2023 学年高三押题信息卷

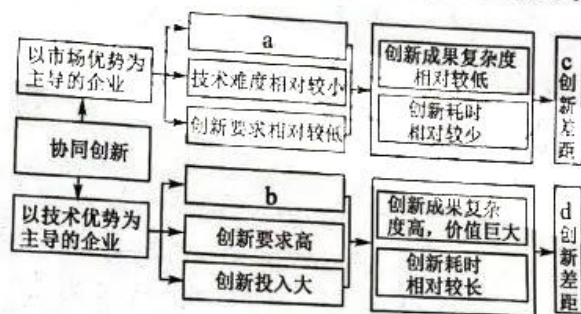
文科综合(二)

注意事项:

1. 本卷满分 300 分,考试时间 150 分钟。答题前,先将自己的姓名、准考证号填写在试题卷和答题卡上,并将准考证号条形码粘贴在答题卡上的指定位置。
2. 选择题的作答:每小题选出答案后,用 2B 铅笔把答题卡上对应题目的答案标号涂黑。写在试题卷、草稿纸和答题卡上的非答题区域均无效。
3. 非选择题的作答:用签字笔直接答在答题卡上对应的答题区域内。写在试题卷、草稿纸和答题卡上的非答题区域均无效。
4. 选考题的作答:先把所选题目的题号在答题卡上指定的位置用 2B 铅笔涂黑。答案写在答题卡上对应的答题区域内,写在试题卷、草稿纸和答题卡上的非答题区域均无效。
5. 考试结束后,请将本试题卷和答题卡一并上交。

一、选择题:本题共 35 小题,每小题 4 分,共 140 分。在每小题给出的四个选项中,只有一项是符合题目要求的。

协同创新是企业间协作的过程中,充分配置各种资源,帮助企业提高自身创新速度和创新质量,获取更多的创新成果,从而缩小创新差距。下图示意协同创新与创新差距的关系。据此完成 1~3 题。



1. 图中 a、b、c、d 分别对应的是
 - A. 技术难度大、产品同质性较大、缩小、拉大
 - B. 技术难度大、产品同质性较大、拉大、缩小
 - C. 产品同质性较大、技术难度大、拉大、缩小
 - D. 产品同质性较大、技术难度大、缩小、拉大
2. 协同创新对企业创新差距的作用存在
 - A. 区域多样性
 - B. 无序性
 - C. 区域差异性
 - D. 地带性
3. 某企业需要协同创新进行技术攻关以缩小企业创新差距且效果明显,则该企业位于我国
 - A. 中部地区
 - B. 东北地区
 - C. 西部地区
 - D. 东部地区

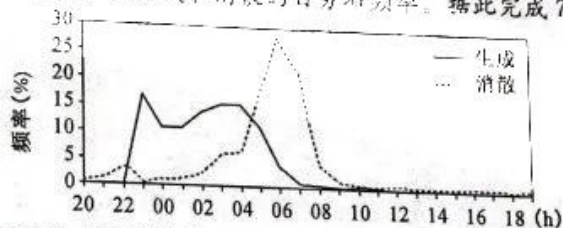
两洋铁路指横跨南美洲大陆,连接太平洋沿岸及大西洋沿岸的铁路建设项目,最早于 2011 年提出。目前,巴西、秘鲁邀请我国参与两洋铁路可行性调查研究及后期铁路建设。若两洋铁路建成,我国从巴

西、秘鲁等国进口的铁矿石、铜矿石、大豆等货物及巴西从我国采购的商品,都可以直接经由此铁路运送,将节省大量运输费用。下图示意规划中的两洋铁路大致走向。据此完成4~6题。



4. 两洋铁路至今未开工建设,其主要原因是巴西、秘鲁两国
- A. 领海面积广,海运较发达
B. 地质条件较复杂,投资成本较高
C. 铁路线路长,人口分布少
D. 经济实力差距大,科技力量薄弱
5. 巴西、秘鲁两国邀请我国参与两洋铁路可行性调查研究及后期铁路建设,主要是因为我国
- A. 铁路交通发达,安全性能高
B. 铁路网密度大,覆盖范围广
C. 铁路技术领先,平均造价低
D. 对外开放度高,合作条件好
6. 推测两洋铁路建成后给铁路沿线地区带来的深远影响是
- ①削弱巴拿马运河的航运地位 ②城乡之间人口流动频繁 ③促进工农业结构的调整和优化 ④缩小内陆与沿海地区的经济差距
- A. ①②
B. ①③
C. ②③
D. ③④

雾指在接近地球表面的大气中悬浮的由小水滴或冰晶组成的水汽凝结物,是一种常见的天气现象。下图示意2002~2022年河北省夏季雾生成和消散的日分布频率。据此完成7~8题。



7. 2002~2022年河北省夏季雾生成和消散的日分布频率的特点是
- A. 日出前后3小时消散速度快
B. 生成和消散的日变化较小
C. 日落后2小时雾生成速度快
D. 生成于夜间且消散于4时
8. 推测最利于河北省夏季雾形成的天气状况是
- A. 海天云蒸
B. 雨后天晴
C. 狂风骤雨
D. 彤云密布

青海省是全球气候变化最为敏感和脆弱的区域之一,对我国陆地生态系统的碳循环及环境气候变化影响深刻。土壤有机碳含量受多种因素的影响,导致其具有很强的空间差异性。下表示意青海省多年不同植被类型下土壤表层(0~30 cm)有机碳密度估算值统计。据此完成9~11题。

项目 植被类型	最小值 ($\text{kgC} \cdot \text{m}^{-2}$)	最大值 ($\text{kgC} \cdot \text{m}^{-2}$)	平均值 ($\text{kgC} \cdot \text{m}^{-2}$)	面积 (万 km^2)	面积比例 (%)
森林	0.82	19.10	9.24	0.30	0.42
灌丛	0.75	19.76	8.40	2.10	3.07
草地	0.63	24.85	6.75	38.80	55.77
农田	0.93	20.86	6.63	0.90	1.24
湿地	0.73	16.86	5.21	1.70	2.51
其他	0.62	23.99	2.40	25.80	36.99

9. 对青海省土壤有机碳含量贡献最大的植被类型是
A. 农田 B. 森林 C. 灌丛 D. 草地
10. 青海省多年不同植被类型下土壤表层(0~30 cm)有机碳含量的空间差异性大致表现为
A. 自东南向西北递减 B. 自南向北递减 C. 自西北向东南递减 D. 自东向西递减
11. 青海省土壤有机碳储量的估算存在不确定性,主要是土壤样品数据的差异,导致其差异的最密切因素是
A. 大气湿度 B. 土壤深度 C. 土壤密度 D. 大气成分
12. 2023年2月21日,中国人民银行在香港成功发行250亿元人民币央行票据,中标利率分别为2.40%和2.75%。包括美、欧、亚洲等多个国家和地区的银行、央行、基金、保险公司等机构投资者以及国际金融组织踊跃参与认购,投标总量超过700亿元,约为发行量的2.8倍。对此理解正确的是
①认购方认购结算后的人民币资金量会增加 ②人民币资产对外投资者有较强吸引力 ③央行不断创新香港市场人民币投资产品 ④通过发行央行票据可以调节人民币流动性
A. ①② B. ①③ C. ②④ D. ③④
13. 2023年3月3日,国务院国资委召开会议,对国有企业对标开展世界一流企业价值创造行动进行动员部署。近年来,国资国企坚持以建设世界一流企业为引领,持续深化国有企业改革,切实加大科技创新工作力度,扎实推进高质量发展,多层次、多领域组织开展对标世界一流企业专项行动。开展此项行动
①有利于国有经济布局优化和结构调整 ②旨在推动国资国企以更强的实力“走出去” ③是为了做强做优做大国有资本和国有企业 ④有利于营造人人想价值、人人创价值的企业氛围
A. ①③ B. ①④ C. ②③ D. ③④
14. 2023年3月8日,全国建筑行业职业技能竞赛决赛收官。本届竞赛设置焊工、装饰装修工、建筑信息模型技术员3个竞赛项目,按照培训学习、理论考试、实操考试综合考评打分。决赛冠军将按程序申报“全国五一劳动奖章”,一等奖选手将被授予“全国技术能手”。举办该竞赛的意义在于
①拓展就业岗位,促使劳动者转变就业择业观念 ②激励建筑从业人员走技能成才、技能报国之路
③弘扬工匠精神,展现产业工人苦练技术的风貌 ④推动群众平等就业,保障群众从事体面的职业
A. ①③ B. ①④ C. ②③ D. ②④
15. 2023年3月5日,习近平总书记在参加他所在的十四届全国人大一次会议江苏代表团审议时强调,我常说两个必保,一个是粮食饭碗中国必须端牢,再一个制造业必须筑牢。一个14亿多人口的大国,必须靠自己解决这两个问题。下列围绕“这两个问题”的传导路径正确的是
①完善农机购置补贴政策→加快先进农机推广→提高粮食产量质量→保证粮食自给
②合理确定粮食最低收购价→保障农民种粮收益→激发农民种粮积极性→维护粮食安全
③强化重大技术装备攻关→保障装备供给→增加制造业门类→推动制造业迈向高端
④构建制造业创新体系→激发制造业创新活力→提升制造业竞争力→筑牢制造业根基
A. ①② B. ①③ C. ②④ D. ③④
16. 2023年3月8日,国家市场监督管理总局与北京市市场监管局签署《市场监管综合执法协同联动框架协议》,建立执法协同联动机制,并配套建立“联合专案组制度、联商会审制度、重大案件双向沟通制度和跨区域执法支持制度”;同时还建立政策指导调研机制和建立宣传培训合作机制。这有利于
①通过推动监督制度创新健全完善行政监督体系 ②以改革创新精神打造职能科学、廉洁高效政府
③加强总局与地方局的联动,统一市场监管执法 ④通过深化合作、资源共享等提升监管执法能力
A. ①② B. ①④ C. ②③ D. ③④
17. 十三届全国政协创新开展“进政协”活动。从2018年至2023年3月,已经有来自非洲、亚洲、拉丁美洲、欧洲100多个国家的400余名外方代表走进全国政协,他们当中有驻华使节、外国媒体、在华留学生等群体,对了解人民政协、倾听中国声音有强烈的渴望。可见,开展“进政协”活动

【高三押题信息卷·文综(二) 第3页(共12页)】

- ①促进同各国人民、政治组织、媒体等友好往来 ②彰显全过程民主,全面宣介中国基本政治制度
③展示中国协商民主的魅力,生动讲述中国故事 ④创新政治协商渠道,为中国外交增添政协力量

18. 沙特和伊朗于2016年断交。此后,两国进行的谈判陷入僵局。2023年3月10日,中国、沙特、伊朗在北京发表联合声明宣布,沙特和伊朗达成一份协议,包括同意恢复双方外交关系,在至多两个月内重开双方使馆和代表机构,安排互派大使,并探讨加强双边关系。沙伊双方赞赏并感谢中国承办和支持此次会谈并推动其取得成功。可见

- ①中国致力于构建新的中东地缘政治格局 ②中国是中东安全稳定、团结自强的促进者 ③中国为构建人类命运共同体贡献智慧和力量 ④中国为通过对话协商化解国家间矛盾树立典范
- A. ①② B. ①③ C. ②④ D. ③④

19. 2023年3月8日,第13届中国(广州)国际演艺交易会闭幕。本届演交会共有来自世界各地的500多家演艺集团、演出联盟、舞台演艺以及演艺科技等文化团体参与。数百台剧目参加交易,成交额近5亿元。演交会力推“中国原创”作品,原创音乐剧《三星堆》、杂技剧《天鹅》、中文原创音乐剧《雄狮少年》等剧目首次发布。这告诉我们,演交会的举办

- ①推动演艺创新,拓展盘活国内演出市场 ②展示创作思路,引领国内演艺发展方向 ③发展演出新业态,推动各民族文化交流 ④加强演艺交流,构建国际文旅演艺共同体
- A. ①② B. ①④ C. ②③ D. ③④

20. 2023年是毛泽东等老一辈革命家为雷锋同志题词60周年。60年来,雷锋名字家喻户晓,雷锋精神赓续传承,激励着一代又一代人忠诚于党、奉献祖国、服务人民。新征程上,要深刻把握雷锋精神的时代内涵,让学雷锋活动融入日常、化作经常,让雷锋精神在新时代绽放更加璀璨的光芒。可见,推动新时代学雷锋活动

- ①有利于弘扬中华民族精神,践行社会主义核心价值观 ②重在不断拓展活动内容、创新活动形式、丰富活动载体 ③能激励人们为全面推进中华民族伟大复兴贡献智慧和力量 ④能为我们全面建设社会主义现代化国家提供强大智力支持
- A. ①③ B. ①④ C. ②③ D. ②④

21. 我国根据新冠疫情情况,自2023年1月8日开始实施新冠病毒感染“乙类乙管”政策。截至2023年3月7日,我国出入境流量大幅回升。全国移民管理机构下一步将结合实际继续完善预案方案、细化工作措施,做足做实应对出入境流量持续增长准备工作,确保出入境秩序平稳有序、口岸边境安全稳定。

- 材料说明
- ①尊重客观规律是意识发生作用的前提条件 ②客观实际始终是我们想问题办事情的根本出发点
③真理性认识是主观与客观的具体的历史的统一 ④提高认识主体的认知水平有利于人们获得正确认识
- A. ①② B. ①④ C. ②③ D. ③④

22. 漫画《引火烧身》表明 来源:高三答案公众号

①联系的根本内容是矛盾
②事物的联系是多种多样的
③推动发展要善于利用固有联系
④内部联系和外部联系相互转化

A. ①② B. ①④ C. ②③ D. ③④



23. 2023年3月4日,“感动中国2022年度人物”揭晓,钱七虎院士当选。六十多年里,他参与了许多重大国防工程,他牵头制定了我国首部城市人防防护等级标准,创建了我国防护工程人才培养体系,解决了核武器和常规武器工程防护一系列关键技术难题。截至2022年,他资助了584位困难学生,捐助

- 慈善事业累计超过1800万元。材料表明,钱七虎
- ①通过提高专业素质不断拓展价值创造的空间 ②在报效祖国的实践中作出了自己的价值选择
③充分利用社会提供的客观条件实现自身价值 ④始终把维护人民利益作为自己的最高价值追求
- A. ①③ B. ①④ C. ②③ D. ②④

24. 下面是《左传》中记载的部分春秋时期邦国姓氏情况。这些记载反映出这一时期

晋、鲁、卫、曹、滕,姬姓
邾、小邾,曹姓
宋,子姓
向、州、齐、许、中,姜姓

- A. 家族伦理与政治伦理出现分离
B. 氏族立邦的凝聚力遭到瓦解
C. 分封制突破了血缘宗法的限制
D. 血缘关系与地缘关系相结合
25. 《史记·货殖列传》中记载:“富无经业,则货无常主,能者辐凑,不肖者瓦解。……(农林)不窳而井,不行异邑,坐而待收”。因此“以未致富,用本守之”。而地主在“千亩漆”“带郭千亩亩钟之田”之后,为实现“岁万息二千”,便“以本聚物,以末致富”。这反映出当时
- A. 农业经营模式转变源于商业发展
B. 民间资本在农业与商业间双向流动
C. 社会价值取向变迁冲击本末思想
D. 传统产业结构制约着经济发展活力
26. 宋以前的儒家认为恻隐之心、羞恶之心、辞让之心、是非之心等情感是仁义礼智等德行法则的根本,即“道始于情”,道德情感为道德法则奠基。而朱熹则倒置两者间的关系,认为“道始于理”“仁者爱之理,理是根”。据此可知,朱熹对儒学的改造
- A. 意在以道德理性规范社会秩序
B. 强调了道德的养成须因材施教
C. 凸显了社会伦理道德的实践性
D. 使个人德行与社会伦理相结合
27. 下表是明朝正统至正德年间(1436~1521年)湖州府岁派京库折银(金花)米变化情况。这可用来说明

时 间	折银米(石)	占府田赋比例%
正统元年至弘治十年前	132 527	28.8
弘治十年前至弘治十八年	140 627	30.6
正德元年至正德四年	172 527	37.5
正德四年至正德九年	150 498	32.7
正德九年至正德十六年	145 898	31.7
正德十六年六月起	172 527	37.5

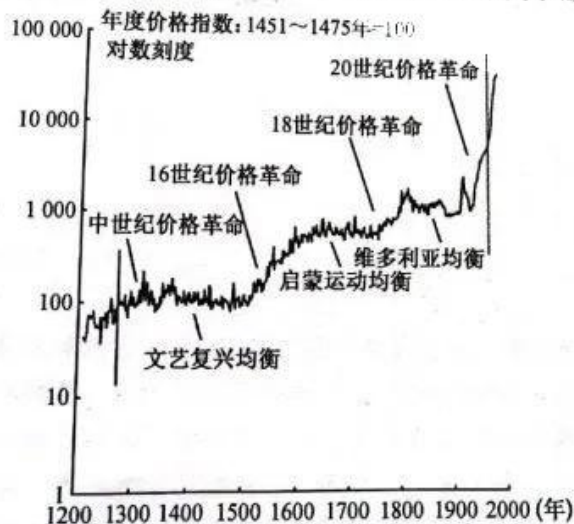
- A. 政府逐步减轻对农民的经济剥削
B. 货币地租的推行利于巩固自然经济
C. 农产品商品化是经济发展的结果
D. 赋役货币化客观上推动白银货币化
28. 洪仁环在《资政新篇》中提出:“愚自今而后,可断则断,不宜断者付小弟掌率六部等议定再献,不致自负其咎,皆所以重尊严之圣体也。”同时主张学习美国“暗柜”制,进行选举或投意见书,立“新闻篇”评时政得失,如此才能使天国“上下情通,中无壅塞弄弊”。洪仁环的这一主张
- A. 呈现出民主与专制的双重色彩
B. 反映出太平天国运动贯彻落实中体西用思想
C. 旨在推动封建政权走向近代化
D. 说明《资政新篇》是中国资本主义发展的产物
29. 孙中山指出“发展之权”为“中国存亡之关键”,因此引进外资应采用“纯粹商业性质之办法”,应使外国专家“为我筹划,为我组织,为我经营”,更要担起“为我训练”的职责,如此才能实现“人才陆续成就”和“并驾欧美”之愿望。孙中山意在强调
- A. 利用本国人才优势助推经济振兴
B. 国家经济主权独立是开放的前提
C. 引进技术是经济发展的必由之路
D. 政治独立与经济独立应协同推进

【高三押题信息卷·文综(二) 第5页(共12页)】

30. 右图是汪子美发表于1946年11月的漫画《洋财神与土财神》。该漫画实质上反映出当时
- A. 中美贸易开始呈现失衡的局面
 - B. 国民经济难以实现良性运行
 - C. 不平等条约是经济畸形的根源
 - D. 外国资本推动官僚资本扩张



31. 新中国成立初期，中国农村开展了大规模的扫盲运动。20世纪50年代，江苏农村广泛流传着推广扫盲新风的顺口溜：“生产大跃进，文化要跟上，愿吃眼前苦，不做一世盲”。此外，一些煤矿的“坑口学习小组”和农村的“地头学习小组”也纷纷建立。这反映出当时
- A. “双百方针”得到了有效贯彻
 - B. 完整的国民教育体系已经确立
 - C. 文化教育与生产建设相结合
 - D. 经济体制改革推动着文化发展
32. 有学者认为，公元前7世纪的希腊早期僭主是“寡头和平民两政体的极端形式的复合”，为巩固以军事等未经合法程序而取得的政权，其致力于镇压贵族、没收贵族财产，取消债务，释放农奴，设立平民代表法庭取代贵族法庭，使贵族“日益变成城邦的仆人，法律的机器”。该学者意在表明
- A. 民主政治与专制政治相互依托
 - B. 专制制度符合当时的时代要求
 - C. 早期僭主政治为民主奠定基础
 - D. 民主政体建立的条件尚未成熟
33. 马丁·路德指出宗教当局应该管理“属灵”的事，这才是符合理性的；同时他援引《圣经》：上有权柄的，人人当顺服他，因为权柄无一不是出于神的，凡掌权的都是神所命的。所以抗拒掌权的，就是抗拒神的命，抗拒的必自取刑罚。据此可知，马丁·路德主张
- A. 约束民众行为和树立道德规范
 - B. 运用世俗权力拓展教会影响力
 - C. 通过宗教改革实现信仰的自由
 - D. 借助上帝权威以强化世俗政权
34. 美国历史学家大卫·哈克特·费舍尔在其著作《价格革命》中总结了人类历史上出现的四次价格“巨浪”（如下图），大通胀与长期均衡交替出现。他认为货币供给的扩张称不上“巨浪”的原动力，“人口增长→物价上涨→通胀预期→货币扩张→通胀螺旋”才是其中的因果关系链条。据此可知，费舍尔认为



- A. 价格革命是经济发展的产物
 - B. 通货膨胀有推动经济发展的积极性
 - C. 人口增长是社会发展的结果
 - D. 货币供应不是引发价格革命的因素
35. 国民生产总值中农业比重较大的西班牙、葡萄牙，在1977年正式提出加入欧共体的申请，欲以此冲破欧共体共同农业政策对其成员国的保护而促进国内经济的发展；1993年，法、德两国不顾欧共体成员国的利益，而在协调农产品贸易立场以及货币金融政策方面任由分歧扩大。这可以用来说明

- A. 两极格局瓦解影响欧洲联合
C. 欧洲一体化推动全球化进程

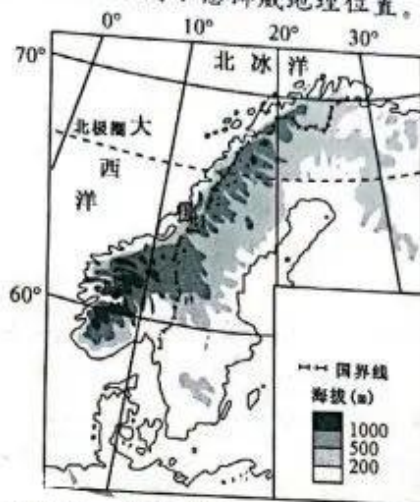
- B. 区域集团利益受制于国家利益
D. 贸易自由与贸易壁垒交替发生

二、非选择题:共 160 分。第 36~42 题为必考题,每个试题考生都必须作答。第 43~47 题为选考题,考生根据要求作答。

(一)必考题:共 135 分。

36. 阅读图文材料,完成下列要求。(22 分)

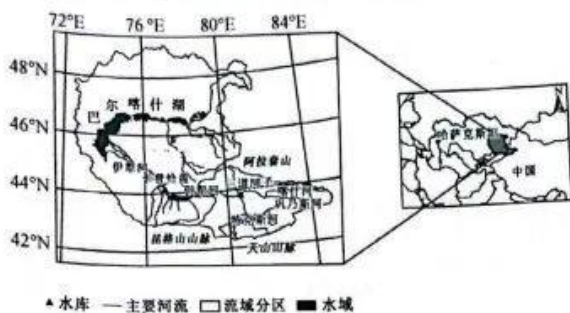
统计数据显示,2022 年挪威每卖出 5 辆新车就有 4 辆是电动汽车,而特斯拉(美国电动汽车品牌)在挪威整个汽车市场中的份额为 12.2%,连续 2 年成为挪威汽车销售第一大品牌,领先于大众(德国)汽车公司。挪威政府为争取在 2025 年前第一个停止汽油和柴油汽车销售,一直对以电池为动力的纯电动车免除对内燃式发动机汽车所征收的税种。许多品牌汽车企业出海的第一站均选择挪威,如特斯拉、大众及我国的比亚迪等。下图示意挪威地理位置。



- (1)分析世界许多品牌汽车企业出海第一站选择挪威的缘由。(6 分)
- (2)说明特斯拉连续 2 年成为挪威汽车销售第一大品牌的优势条件。(4 分)
- (3)简述挪威政府为争取在 2025 年前成为第一个停止汽油和柴油汽车销售国的主要目的。(6 分)
- (4)借鉴特斯拉电动汽车的成功经验,请你为我国电动汽车产业的发展献计献策。(6 分)

37. 阅读图文材料,完成下列要求。(24分)

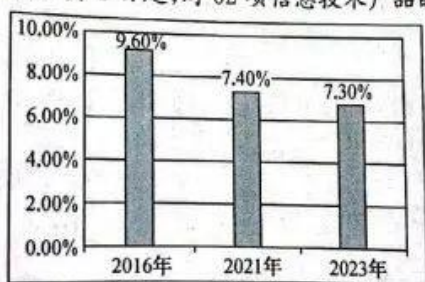
伊犁河(主源特克斯河,发源于天山汗腾格里峰北侧)流经峡谷、沙漠地区,注入哈萨克斯坦的巴尔喀什湖,流域全年流量较均匀。中国境内伊犁河流域南北两侧有3条自西向东逐渐收缩的山脉,形成状似向西开口的半封闭的三角形地形。三道河子水库和卡普恰盖水库将伊犁河—巴尔喀什湖(简称伊巴流域)分为上、中、下游,卡普恰盖水库用于发电和灌溉,是阿拉木图地区及南部各城市居民地的休养地。伊犁河干流下游有面积约8 000 km²的三角洲洼地,曾有约2 000个湖泊,形成了三角洲茂盛的生物系统,1970年以后该三角洲出现严重退化。下图示意伊巴流域地理位置。



- ▲水库 — 主要河流 □流域分区 ■水域
- (1)伊犁河全年流量较均匀,对此做出合理解释。(6分)
 - (2)说明我国境内伊犁河流域三角形半封闭地形对本流域自然环境的有利影响。(8分)
 - (3)推测1970年以后伊犁河干流下游三角洲出现退化的原因。(6分)
 - (4)调查发现,伊巴流域中游生态系统水资源供给服务总量下降趋势最明显,请说明理由。(4分)

38. 阅读材料,完成下列要求。(14分)

材料一 迈入2023年,我国关税迎来调整:1月1日起,对1 020项商品实施低于最惠国税率的进口暂定税率;1月2日起,对原产于印度尼西亚的部分商品实施《区域全面经济伙伴关系协定》(RCEP)协定税率;7月1日起,对62项信息技术产品的最惠国税率实施第八步降税……



材料二 2023年,我国积极的财政政策要加力提效。进一步完善税费优惠政策,突出对中小微企业、个体工商户以及特困行业的支持,让企业多减一些负担。优化政策组合工具,在打基础、利长远、补短板、调结构上加大投资,落实国家重大战略任务财力保障。党政机关继续过紧日子,更好节用裕民。积极支持科技攻关、乡村振兴、教育、绿色发展等重点领域。持续增加中央对地方转移支付,提高地方财力保障水平。推进基本公共服务保障标准体系建设。拧紧财经纪律的“紧箍咒”,坚决制止违法违规举债行为,牢牢守住不发生系统性风险底线。

【高三押题信息卷·文综(二) 第8页(共12页)】

- (1)解读材料一的经济信息。(4分)
(2)结合材料并运用经济生活知识,分析我国积极的财政政策加力提效的重要意义。(10分)

39. 阅读材料,完成下列要求。(12分)

中共二十大对深化党和国家机构改革作出重要部署。党的二十届二中全会审议通过了在深入论证、广泛征求意见基础上形成的《党和国家机构改革方案》,同意将其中涉及国务院机构改革的内容提交十四届全国人大一次会议审议。

中共中央2023年2月28日举行民主协商会,就党和国家机构改革方案向各民主党派中央、全国工商联和无党派人士代表通报情况,听取意见。民主党派、工商联和无党派人士一致认为,方案是在广泛征求意见、充分酝酿协商基础上形成的,体现了二十大精神,关系新时代新征程党和国家事业发展,表示坚决拥护,并就深化党和国家机构改革提出了意见和建议。

2023年3月7日,十四届全国人大一次会议举行第二次全体会议,听取关于国务院机构改革方案的说明。2023年3月10日,十四届全国人大一次会议表决通过了关于国务院机构改革方案的决定,批准了这个方案。

结合材料并运用政治生活知识,说明党是如何推动国务院机构改革的。

40. 阅读材料,完成下列要求。(26分)

2023年2月26日,北京市通州区政府印发《北京城市副中心文化旅游区发展建设三年行动计划(2023—2025年)》。《行动计划》总体思路强调,围绕“文化旅游新地标、文创科技新高地、国际交流新窗口”目标定位,提出至2025年短期发展目标,并展望谋划了2035年发展愿景。从空间规划上,打造“一核引领,一带聚力,多区承溢”的产业功能布局(“一核引领”即环球度假区带动文化旅游区发展;“一带聚力”即打造北部产业带;“多区承溢”指产业发展备用空间承接更大的全球溢出效应);从产业功能定位上,构建“1+4”文旅商融合发展产业体系(“1”指聚焦主题旅游核心产业,“4”指重点发展培育IP设计、数字创意、潮流体育、演艺娱乐四大细分产业),着力打造国际旅游新消费目的地。

《行动计划》重点任务指出,推动文旅和科技融合,打造一批“元宇宙+文旅”场景,引导沉浸式驻场演出场景、元宇宙文旅体验产品;鼓励文旅和教育融合,开发研学旅游路线;加快文旅和体育融合,培育时尚多样体育消费新场景;鼓励文旅与农业融合,构建精品乡村生态旅游示范带。依托副中心图书馆、剧院、大运河博物馆建设,丰富高品质文化产品供给;依托通州古城和路县古城保护,推出古城主题文化探访线路。

- (1)结合材料并运用矛盾特殊性的相关知识,说明《行动计划》总体思路是如何设计的。(12分)
(2)结合材料并运用文化生活知识,说明《行动计划》重点任务的作用路径。(10分)
(3)保障《行动计划》实施,需要加强队伍建设。请就如何加强队伍建设提出两条建议。(4分)

41. 阅读材料,完成下列要求。(25分)

材料一

两宋时期,十万人口以上的商业都会已经发展到四十多座,城中沿街店铺林立,城与市有机结合,但随之而来的是类型更宽泛、频率更高的违法犯罪事件,这为城市治安管理提出了更高的要求。于是,以禁军为主体、经过严格操练、覆盖全国的“巡检官”网络应运而生,官员人数随人口疏密适时调整,都巡检使负责全路治安状况的管理,州巡检使负责本州或几个治安任务不重的州的警治工作,县巡检使负责本县或数县的治安工作。各级巡检均接受上级巡检(巡检使)的领导,其行使职权的过程与结果等都要接受上级巡检的监督,又受同级行政长官的节制。此外政府还制定了大量的法律、法规,巡检的任用、待遇、考绩、奖惩、服制、教育、勤务方式等逐渐纳入法律化、制度化的轨道。

——摘编自孙茜《浅议宋代巡检制度及其启示》

材料二

19世纪末,在帝国主义的逼迫、授意和督饬下,清廷深感旧有的保安制度已不足以维护社会秩序,因此决定学习西洋的治安新法,创办警政。清末新政时期,清政府将巡警部改组,扩大为民政部,但对各项专业警察职权的行使并未进行详细规范。北洋政府根据省、道、县三级行政建制,建立了相应的警察机构,规定了各级地方警察机关之间的关系,并提出“以警察为保甲之重心,作保安团队之骨干,藉警察制度促进保甲”的基本方针,明确用“武力或其他有效方法”作为解决治安问题的主要手段。南京国民政府成立后,在中央设内政部,其下所设警政司,作为全国警察行政的最高管理机构。政府大量引进警察管理的制度和经验,先后设置了专职的司法警察,新式的刑事警察、外事警察,以及税务、盐务、渔业、森林、交通、航空、公路等行业警察,先后颁布了《各级公安局编制大纲》等多部警政法规。

——摘编自杨玉环《试评中国近代警察制度》

- (1)根据材料一并结合所学知识,概括宋代实行治安巡检制度的原因及其特点。(12分)
- (2)根据材料二并结合所学知识,说明近代警察制度的发展趋势,并进行简要评价。(10分)
- (3)综合上述材料,谈谈古代、近代治安警务制度对当今的启示。(3分)

42. 阅读材料,完成下列要求。(12分)

材料

人的实践活动不仅构成历史,而且也在生成和延展历史。历史的理性并不是纯粹的理性,必须经常根据变化着的历史环境来反思和修正现存的思想范畴和理论假定,最终推动历史与现实的不断交汇、融合和创新,促进人的自由全面的发展。文艺复兴和工业革命的兴起,在更高的起点上恢复了以人为中心的古典历史观。18世纪,“历史哲学”这个专门名词被伏尔泰创造出来,它指人们对历史的理解达到一种哲学或理性的认识。19世纪,马克思在西方理性主义传统的背景下把历史置于人实践的视野下进行研究。马克思断言:“要真正地理解人类的历史,就必须揭示人是怎样维持自身的存在和发展的。”在此基础上,历史唯物主义应运而生,并成为认识和把握历史规律,指导社会变革的理论基础。

——摘编自李飞《西方历史观念的变迁及其历史唯物主义的意义》

【高三押题信息卷·文综(二) 第10页(共12页)】

根据材料并结合所学知识,围绕“近代西方历史观念”这一主题,自拟论题并加以论述。(要求:论题明确,史实正确;史论结合,言之有理。)

(二)选考题:共25分。请考生从2道地理题、3道历史题中每科任选一题作答。如果多做,则每科按所做的第一题计分。

43. [地理——选修3:旅游地理](10分)

2022年8月20日北大荒集团闫家岗农场有限公司农业现代化示范区的稻田画正式对外开放,该片稻田应用了5G核心网加上物联网、大数据、人工智能等技术,实现农业生产“感联智控”,游客在观光的同时了解农业科技,农业观光旅游玩出新花样。

指出北大荒集团农业观光旅游的新花样,并简述发展农业观光旅游的重要意义。

44. [地理——选修6:环境保护](10分)

柠条是我国西北、华北等地区重要树种之一,耐旱、耐寒、耐盐碱、耐高温,是干旱草原、荒漠草原地带的旱生灌丛,在黄土丘陵地区、山坡、沟岔也能生长;在肥力极差,沙层含水率2%~3%的流动沙地和固定、半固定沙地上均能正常生长。柠条可做优良饲用、编织材料、薪柴及入药等,近年来我国许多地区的柠条林退化严重。下图示意柠条景观。



指出柠条的生态价值,并推测近年来我国许多地区的柠条林退化严重的原因。

45. [历史——选修1:历史上重大改革回眸](15分)

材料

安史之乱后,君主不信朝臣,加剧了宦官干政的野心,鲸吞民财、破坏市场秩序,甚至执掌兵符、无所顾忌。唐顺宗即位后任命王叔文为翰林学士,对朝廷腐败等弊政进行革新。一是以“盐铁之利,积于私室,而国用日耗”为由将财政大权从藩镇收归中央;二是禁宫罢市和五坊小儿,罢盐铁使,贬黜贪吏等,并免苛征、恤百姓。王叔文全面打击宦官,这与顺宗希望只打击站在自己对立面的宦官相左。翰林学士虽然表面上有很大的权力,但也不过是一个文人机构。当顺宗对他不信任时,被打击的宦官以及藩镇反对之声愈发强烈,改革集团内部也出现了分裂,甚至投靠了敌对势力,因而王叔文迅速离开了政治中心,改革也最终失败。

——摘编自郭艺娇《浅谈永贞革新失败的原因——以王叔文与唐顺宗关系变化为视角》

(1)根据材料并结合所学知识,概括王叔文政治改革的背景。(6分)

(2)根据材料并结合所学知识,简析王叔文政治改革失败的原因并谈谈你从其失败中获得的认识。(9分)

【高三押题信息卷·文综(二) 第11页(共12页)】

16. [历史——选修3:20世纪的战争与和平](15分)
材料

20世纪以后,美国的经济实力大为增长,于是在一战爆发后,英国极力争取美国对协约国集团的支持,以此提升己方的战略力量,由此英国对美国采取了强大的宣传攻势。一战爆发初期,英国便控制了欧洲连接美国的大西洋海底电缆,连荷兰、瑞典等中立国与美洲大陆间的通讯联系都会受到英国的审查,并对美国实行“海上封锁”。由于“美国出版界和人民对所谓的宣传工作充满怀疑”,因此英国宣传者散发到美国各地的材料常常以学术资料或商业信息的面目出现,此外还通过资助美国报界使其成为英国的喉舌。宣传者所展现的言论让信奉“人生而平等”的美国人相信德国人崇尚专制,蔑视自由,是美国社会所崇尚的自由精神的敌人。英国宣传者们突出美英两国广泛的共同利益,并利用德国对比利时的侵略和“卢西塔尼亚号”击沉等事件不失时机地渲染德军杀戮平民的暴行,为美国加入协约国奠定了重要基础。

——摘编自刘英奇 王黎《以自由为名——一战期间英国对美宣传策略》

(1)根据材料并结合所学知识,分析一战期间英国对美国宣传的背景并指出宣传策略的特点。(9分)

(2)根据材料并结合所学知识,评价一战期间英国对美国的宣传策略。(6分)

17. [历史——选修4:中外历史人物评说](15分)
材料

朱兆莘,广东省花县人,青年时赴美留学,1912年以参议院华侨议员的身份启程回国,后一直活跃于中国的外交活动中。20世纪20年代,他在国联大会上发表演说,陈述协定关税和领事裁判权对中国不良影响,用词得当,赢得了部分国家的支持和同情。民国五年作为华侨议员的朱兆莘提出振兴华侨教育,提高了华侨的爱国热情并为民国培养了中西兼通的人才,此外还提议增设商领事等保护华侨的机关。在1923~1926年期间,中国代表团多次申请国联行政院席位失败,但这都没有阻挠朱兆莘的决心,凭借其不懈努力和成熟的外交手段,中国终于在1926年当选行政院非常任国。1928年济南惨案发生后,面对国联不积极解决济案的态度,朱兆莘明确提出“对外主刚不主柔”;九一八事变后,朱兆莘向外交委员会提交对日宣战意见书,指出寄托于国联调停“已告绝望”并力推对日宣战。

——摘编自王文俊《朱兆莘外交主张及其实践研究》

(1)根据材料并结合所学知识,概括朱兆莘的主要外交贡献。(6分)

(2)根据材料并结合所学知识,说明推动朱兆莘作出外交贡献的因素并简评其外交活动。(9分)



关于我们

自主选拔在线是致力于提供新高考生涯规划、强基计划、综合评价、三位一体、学科竞赛等政策资讯的升学服务平台。总部坐落于北京,旗下拥有网站(网址:www.zizzs.com)和微信公众平台等媒体矩阵,用户群体涵盖全国90%以上的重点中学师生及家长,在全国新高考、自主选拔领域首屈一指。

如需第一时间获取相关资讯及备考指南，请关注**自主选拔在线**官方微信号：**zizzsw**。



 微信搜一搜

 自主选拔在线

线
Z S W

 自主选拔在线
微信号：zizzsw

 自主选拔在线
微信号：zizzsw

 自主选拔在线
微信号：zizzsw

 自主选拔在线
微信号：zizzsw