

## 泉州市 2020 届高三毕业班适应性线上测试卷 文科综合试题

(完卷时间: 150 分钟; 总分 300 分)

**注意事项:**

1. 本试题卷分第 I 卷(选择题)和第 II 卷(非选择题)两部分。答卷前, 考生务必将自己的姓名、准考证号填写在答题卡上。
2. 回答第 I 卷时, 选出每小题答案后, 用 2B 铅笔把答题卡上相对应题目的标号涂黑。如需改动, 用橡皮擦干净后, 再选涂其它答案标号。写在试题卷、草稿纸和答题卡上的非答题区域均无效。
3. 回答第 II 卷时, 使用 0.5 毫米的黑色中性(签字)笔或碳素笔书写, 将答案写在答题卡的相应位置上。写在试题卷、草稿纸和答题卡上的非答题区域均无效。
4. 保持答题卡卡面清洁, 不折叠, 不破损。

### 第 I 卷(选择题共 140 分)

本卷共 35 小题。每小题 4 分, 共 140 分。在每个小题给出的四个选项中, 只有一项是最符合题目要求的。

海水稻是耐盐碱水稻的形象化称呼。阿联酋粮食增产困难, 一直依靠进口。2017 年 11 月该国邀请我国海水稻团队赴迪拜郊区沙漠开展海水稻种植试验, 获得成功。预计 2020 年以后“海水稻”种植面积将覆盖阿联酋近 10% 的国土面积, 以提高当地粮食自给能力。图 1 示意阿联酋地理位置。据此完成 1~3 题。

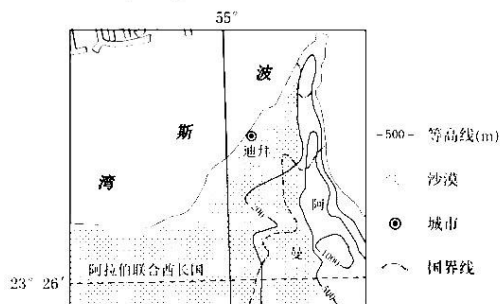


图 1

1. 海水稻团队在阿联酋开展海水稻种植试验最需要克服的困难是
 

A. 沙土保水保肥能力差	B. 地表径流少水资源不足
C. 劳动力短缺且成本高	D. 荒漠化严重耕地面积少
2. 与我国青岛相比, 阿联酋开展海水稻种植试验最明显的优势是
 

A. 交通便利, 距离市场较近	B. 热量充足, 昼夜温差大
C. 地形平坦, 土地资源充足	D. 经济发达, 科研经费多

3. 阿联酋大规模种植海水稻对周边环境的有利影响是

- ①提高荒漠地区土地利用率                      ②缓解水资源紧张局面  
③扩大绿洲面积减少蒸发量                      ④增加土壤有机质含量  
A. ①②                      B. ②③                      C. ①④                      D. ②④

荷兰全年降水均匀，年平均降水量和蒸发量分别约为 760mm 和 550mm，其中 4 至 9 月蒸发较旺盛。荷兰 1/4 土地海拔不到 1 米，需要筑堤拦海和排涝，雨水依靠重力或动力排放入海。图 2 示意公元 1000 年以来荷兰西部区域陆地下沉与海平面上升情况(图示海拔高度以 1900 年海平面为基准)。据此完成 4~6 题。

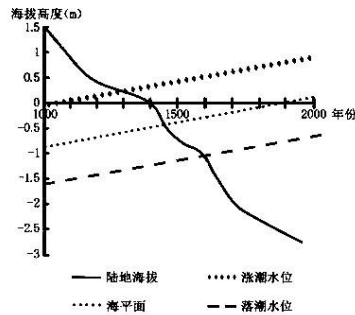


图 2

4. 推测荷兰需要筑堤拦海但又能依靠重力排水入海的时间大约是  
A. 1000 年-1200 年                      B. 1200 年-1300 年  
C. 1300 年-1600 年                      D. 1600 年-2000 年
5. 以下月份处于荷兰排涝淡季的是  
A. 1 月                      B. 7 月                      C. 10 月                      D. 12 月
6. 目前荷兰将部分围垦低地退垦，其主要目的是  
A. 增加海域面积                      B. 减少风暴潮侵害  
C. 保护沿海生态                      D. 发展沿海旅游业

表 1 示意印度海得拉巴市和中国深圳市建成区(指城市中基础设施和地面建筑已经建成的地区，一般指城市建筑集中连片的市区。)面积和城市人口数量情况，据此完成 7~8 题。

表 1

城市 指标	海得拉巴市			深圳市
	1990 年	2000 年	2014 年	2014 年
城市人口(百万)	3.8	5.1	7.4	11.3
建成区面积(km <sup>2</sup> )	120	267	449	1997

7. 与 1990-2000 年相比，2000 年后海得拉巴市  
A. 城市人口数量逐步下降                      B. 城市人口年均增长速度较快  
C. 城市人口数量增长迅速                      D. 城市人口年均增长速度稳定

8. 对比深圳市人口密度, 海得拉巴市未来发展需要
- A. 改善城市人居环境                      B. 放宽人口迁入限制
- C. 控制城市用地面积                      D. 鼓励建设低层住宅

飞檐是指屋檐的檐部向上翘起, 是一种考虑室内光照和建筑美观的中国传统建筑特色, 是我国古代劳动人民智慧的结晶。图 3 为飞檐景观, 图 4 示意飞檐光照原理。据此完成 9~11 题。




图 3

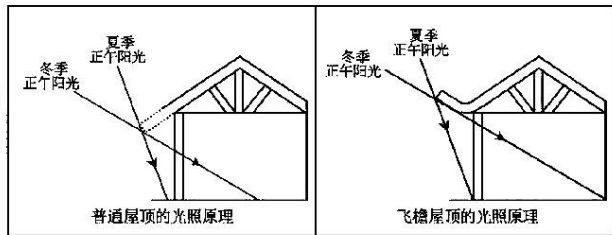


图 4

9. 从室内光照的角度考虑, “飞檐”设计的主要目的是
- A. 扩大夏季遮阳的面积                      B. 扩大冬季采光的面积
- C. 缩小夏季遮阳的面积                      D. 缩小冬季采光的面积
10. 某建筑设计师在浙江采用了“飞檐”的设计。若屋顶高度不变, 与北京相比, 应做的调整是
- ①飞檐长度不变, 加大飞檐翘起角度      ②飞檐翘起角度不变, 缩短飞檐
- ③飞檐长度不变, 缩小飞檐翘起角度      ④飞檐翘起角度不变, 加长飞檐
- A. ①②                      B. ②③                      C. ①④                      D. ②④
11. 东北地区的飞檐长度都较短, 能够更好的
- A. 排泄雨水                      B. 遮阳纳凉                      C. 美观协调                      D. 减少积雪

12. 均衡价格是指一种商品的市场需求曲线 (D) 与供给曲线 (S) 相交时的价格。其中当需求曲线 (D) 发生移动时, 会形成新的均衡价格 P1 或 P2。假定在其他条件不变的情况下, 下列关于某种商品均衡价格 P0 的变动情况描述成立的有

- ①汽车价格下跌, 导致汽油的均衡价格由 P0 向 P1 移动
- ②随着 5G 手机的推广, 导致 4G 手机的均衡价格由 P0 向 P2 移动
- ③受非洲猪瘟疫情影响, 导致猪肉的均衡价格由 P0 向 P1 移动
- ④实行绿色生态农产品生产补贴制度, 导致绿色生态农产品的均衡价格由 P0 向 P2 移动

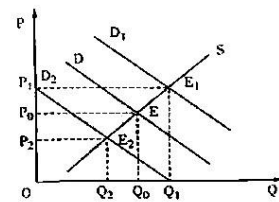


图 5

- A. ①②                      B. ①③                      C. ②④                      D. ③④

13. 近年来, 以盒马生鲜为代表的生鲜超市积极探索“新零售”商业模式。该模式以互联网为依托, 通过运用大数据、人工智能等先进技术手段, 对商品的生产、流通与销售过程进行升级改造, 进而重塑业态结构与生态圈, 并对线上服务、线下体验以及现代物流进行高度融合。该模式体现的企业经营理念是

- ①调整经营战略, 依靠科技创新, 提升竞争力

- ②面向市场，提升用户体验，满足个性化需求
- ③通过线上线下融合，增加商品和服务价值量
- ④扩大市场规模，加速商品流通，提高利润率

A. ①②                      B. ①③                      C. ②④                      D. ③④

14. 2020年2月5日，中共中央国务院印发了《中共中央国务院关于抓好“三农”领域重点工作确保如期实现全面小康的意见》的2020年中央一号文件。文件指出，今年“三农”工作重点要加快补上农村基础设施和公共服务短板，保障重要农产品有效供给和促进农民持续增收。上述做法旨在

- ①确保农村同步全面建成小康社会，实现共同富裕
- ②变革和完善农村生产关系，促进生产力与生产关系相适应
- ③解放和发展农村生产力，巩固集体经济在国民经济中的主导地位
- ④确保脱贫攻坚战圆满收官，提升农民群众获得感、幸福感、安全感

A. ①②                      B. ①④                      C. ②③                      D. ③④

15. 表2是2018年、2019年我国对外贸易部分经济指标的同比增长率（表中数据来源于国家统计局）。

年份	货物进出口 总额增长	一般贸易进出口占货物 进出口总额比重增长	服务贸易进出 口总额增长	实际使用外商直 接投资金额增长
2018年	9.7%	1.4%	11.5%	3%
2019年	3.4%	1.2%	2.8%	5.8%

据此可以推出，2019年我国

- ①贸易结构继续优化，开放型经济水平不断提高
- ②坚持引进来与走出去并重，实现对外贸易平衡发展
- ③持续推进投资贸易自由化便利化，投资营商环境不断优化
- ④受全球贸易保护主义、单边主义抬头影响，外贸进出口总额下降

A. ①②                      B. ①③                      C. ②④                      D. ③④

16. 住房和城乡建设部会同有关部门印发《关于在全国地级及以上城市全面开展生活垃圾分类工作的通知》，部署全国地级及以上城市全面开展生活垃圾分类的各项工作。这说明我国政府

- ①履行加强社会建设职能                      ②是权力机关的执行机关
- ③坚持对人民负责的原则                      ④积极推进生态文明建设

A. ①②                      B. ①③                      C. ②④                      D. ③④

17. 社会主义协商民主是中国共产党和中国人民的伟大创造，是中国社会主义民主政治的特有形式和独特优势。协商民主的渠道主要有政党协商、人大协商、政府协商、政协协商、人民团体协商、基层协商、社会组织协商等。以下选项体现协商民主的是

- ①中共中央召开党外人士座谈会，征求对经济工作的意见建议
- ②福建召开居民用水价格听证会，向社会多方面广泛征求意见
- ③福建省十三届人大常委会十二次会议表决通过政府工作报告
- ④全国人大常委会通过关于全面禁止非法野生动物交易的决定



- A. ①②                      B. ①③                      C. ②④                      D. ③④
18. 2020年2月25日,中国第7批赴马里维和部队的413名官兵被联合国授予“和平荣誉勋章”,以表彰他们为联合国维和事业做出的贡献。从1990年首次参与联合国维和行动至今30年来,中国是联合国安理会常任理事国中派遣维和人员最多的国家。这说明
- ①世界和平面临诸多难题和挑战                      ②中国全力支持联合国一切工作  
③和平与发展是当今时代的主题                      ④中国积极履行大国责任和担当
- A. ①②                      B. ①③                      C. ②④                      D. ③④
19. 户外广告是城市整体形象不可或缺的一部分,也是推进城市文明建设的重要载体。一块块崭新的户外公益广告出现在城市的大街小巷,让市民随时随地都可以感受到浓厚的文明氛围。这说明
- ①文化对人的影响来自特定的文化环境                      ②树立文化自信以增强民族文化创造力  
③文化对人的影响具有潜移默化的特点                      ④文化是民族的血脉和人民的精神家园
- A. ①②                      B. ①③                      C. ②④                      D. ③④
20. 2019年当选的年度国内字为“稳”。“稳”字由禾和急组成,从禾,隐省声。《说文》:蹂谷聚也。一曰安也。汉语词典解说:“禾”与粮食有关,有了粮食,心就安定了。也有言像禾一样柔而能屈能伸,又言像禾植物生长一样不骄不躁,亦言有禾故和。由此可见
- ①中华文化是世界文化百花园的重要组成部分  
②汉字文化内涵丰富,体现了中华民族的创造力  
③汉字传承中华文明,是中华文明的重要标志  
④中华文化兼收并蓄,促进了世界文化的繁荣
- A. ①③                      B. ①④                      C. ②③                      D. ②④
21. 2019年11月20日,首届世界5G大会在北京开幕,5G再次成为市场关注的焦点。智慧城市,智生活;智慧交通,享出行;智能制造,创未来;智慧医疗,更健康;高清视频,看世界……5G技术在科技创新的趋势下发展迅速,它不仅为人们生活带来改变,更深刻地推动行业变革。这一事例说明
- ①创新意识是认识和利用事物之间联系的前提  
②转化为现实生产力是科技创新价值的重要体现  
③科技创新是用新获得的认识取代已有的认识的过程  
④联系是多样的,科技创新要善于建立事物之间的新联系
- A. ①②                      B. ①③                      C. ②④                      D. ③④
22. 2019年11月10日,国家主席习近平在对希腊进行国事访问之际发表了《让古老文明的智慧照鉴未来》的署名文章。文中提到了两国有相似、相知、相亲的古老文明。正如希腊文学巨匠卡赞扎基斯有一句名言,“苏格拉底和孔子是人类的两张面具,面具之下是同一张人类理性的面孔”。古希腊“智者学派”萌发的人本主义思想同中国儒家坚持的“以民为本”理念有异曲同工之妙。第欧根尼同中国道家代表人物庄子倡导类似的生活方式和生活理念。这段话表明
- ①矛盾的主要方面规定了事物的性质  
②任何事物都是共性与个性、一般与个别的统一  
③矛盾的同一性和斗争性既相互联结又相互分离  
④只有把握矛盾的普遍性和特殊性的联结,才能认识事物的本质
- A. ①②                      B. ②④                      C. ①③                      D. ③④

23. 图6漫画《特色小镇》(作者:王启峰)讽刺了某些人

- ①知行脱节,忽视实践是主观见之于客观的活动
- ②偷梁换柱,没找到正确解决矛盾的关键
- ③管中窥豹,否认关键部分的功能甚至对整体功能起决定作用
- ④急功近利,没做到主观与客观的具体的历史的统一

- A. ①③
- B. ①④
- C. ②③
- D. ②④



图6

24. 战国时期,士人“择木而栖”现象非常普遍,卫国人商鞅先后在魏国、秦国任要职;齐国人邹衍成为燕昭王之师;吴起一生中曾在鲁、魏、楚等国为官,每当遭到诬陷,便另投明主。这种现象

- A. 强化了“家国一体”的观念
- B. 推动了百家争鸣的深入开展
- C. 促进了诸侯国之间和平交往
- D. 反映君主专制体制弊端严重

25. 西汉实行盐铁官营政策,只注重产量,质量差,价格高,生产的农具多而不适用;同时还存在不准挑选、购买不便、强买强卖等问题。这反映了西汉

- A. 私营手工业成为市场主体
- B. 政府支配市场的弊端
- C. 官营手工业技术相对落后
- D. 家庭手工业发展缓慢

26. 有学者认为,玄武门事变是两个不同社会阶层的斗争,即以李建成为首的关陇军事贵族集团和以李世民为首的下层士兵及各地农民武装的斗争。据此推知,玄武门之变

- A. 削弱世家大族势力
- B. 延续隋朝末年农民起义
- C. 促使皇权不断加强
- D. 导致下层民众控制政权

27. 明清时期,我国戏曲总类丰富多彩,除“国粹”京剧外,还有流行于江浙的越剧、安徽的黄梅戏、河南的豫剧等,这表明当时

- A. 统治思想兼容并蓄
- B. 农耕经济高度发展
- C. 市民阶层生活需要
- D. 君主专制走向衰落

姓名	田产及收入	商业资本及收入	近代企业投资
尤先甲	祖传田产6、7千亩,年收租约5万元。	同仁和绸缎庄资本2万元,年销售额约6万元。	投资苏经苏纶丝、纱两厂,新老股各占20股以上,最低资本额白银2600两
张履谦	祖传田产4、5千亩,年收租约3万元。	保裕典资本2万元,年营业额9万元,年收利息约1.5万元。	与尤先甲有相同的股份和资本额,但在任该两厂经理期间垫款甚多。
杭祖良	购置田产约数百亩。	杭禄富记纱缎庄,资本约2万元	苏省铁路股东,苏经、苏纶厂少量股本。

28. 表3 近代早期苏州上层绅商的产业及收入分布情况

据此可知,表3的现象

- A. 直接导致民族工业长期萧条
- B. 折射中国民族工业的特殊性

- C. 导致资本主义萌芽发展受阻                      D. 取决于中央集权的政治制度
29. 1912年2月12日,清政府颁布《清帝逊位诏书》,“……即由袁世凯以全权组织临时共和政府,与民军协商统一办法,总期人民安堵,海宇义安,仍合满、汉、蒙、回、藏五族完全领土,为一大中华民国……”。据此可知,清帝退位
- A. 宣告了清末新政的结束                      B. 推动了中华民国的成立
- C. 有利于维护国家的统一                      D. 导致了革命果实被窃取
30. 1925年,国民党在广州、武汉等地培训大量农民运动干部,并利用各种刊物发表了一系列以农村、农民为题材的文章。这些情形出现的历史背景是
- A. 国民革命运动的开展                      B. 农村革命根据地的广泛建立
- C. 土地改革的全面推行                      D. 国共两党停止内战走向合作
31. 至1952年,我党共接管官僚企业数量:2400多家银行,2858家工矿企业,还有交通运输招商局系统所属企业和十多家垄断性的内外贸易企业,并将它们逐步改造为国有。这反映了我国
- A. 民主革命和社会主义革命并举                      B. 社会主义改造全面推开
- C. 社会主义工业化建设初见成效                      D. 计划经济体制已经确立
32. 公元前5世纪中期,雅典确立了不法申诉制度,公民可以就现行立法是否违反民主制度问题向陪审法庭申诉,严惩提出法案的人。当时没有律师,陪审员判案的根据是原告和被告申辩,在开庭前也不做调查核实。据此可知,当时雅典
- A. 民主政治出现危机                      B. 司法审判缺乏民主程序
- C. 法律条文形同虚设                      D. 公民崇尚知识与演说
33. 19世纪初,英国议席分配沿用中世纪定式,分为农村选区和城镇选区两类。老萨勒姆选区已成为农田,每逢选举,“选民”们就走到田里去选举议员。有几个选区已沉入海底,选民们要坐船到海上去进行“选举”。这表明当时的英国
- A. 中世纪政制被沿袭                      B. 农业经济占主导地位
- C. 宪政制度尚未完善                      D. 城市化进程开始启动
34. 1952年12月,英国伦敦连续5天出现厚重的雾霾,出现哮喘、咳嗽等呼吸道症状的市民明显增多,伦敦市10万人生病,死亡4000人,这一英国历史上最严重的空气污染事件,直接推动了1956年英国《空气清洁法案》出台。这体现了当时英国
- A. 新科技发明引发城市污染严重                      B. 环境法制建设亟待加强
- C. 工业革命严重危害了民众健康                      D. 公共事件促进立法进程
35. 1948年到1974年全球衰退开始的25年间,西欧经济经历了前所未有的不间断增长。欧洲人后来把这段时期称为“白银的50年代”和“黄金的60年代”。“黄金的60年代”的出现主要得益于
- A. 美国马歇尔计划的援助                      B. 欧洲经济一体化进程的推动
- C. 国家减少对经济的干预                      D. 欧洲具有较完善的民主政治

## 第II卷（非选择题，共160分）

二、非选择题:共160分。第36-42为必考题，每个试题考生都必须作答。第43-47题为选做题，考生根据要求作答。

(一)必考题:共135分。

36. 阅读图文材料，完成下列要求。(24分)

山葡萄喜湿怕涝，具有抗寒、丰产、高酸、高糖等特点。产于通化集安市鸭绿江河谷地区的山葡萄，是酿制冰葡萄酒的优质原料。每年9月中下旬果实成熟，待部分果实落粒（养分差、受病虫害的果实掉落）后，延期到12月份上旬采收，此时，葡萄粒外表结冰，内部仍留高浓缩的葡萄汁。通化葡萄酒酿造工艺历史悠久，以当地山葡萄为原料，经压榨取汁发酵，利用地下酒窖贮藏（贮藏温度12℃、湿度70%左右最佳），口感独特。通化葡萄酒曾一度以甜型酒著称，近年，通过引进和改良酿酒技术，生产了不同类型和档次的葡萄酒。图7、图8和图9分别示意鸭绿江河谷地理位置、集安市气候资料和山葡萄自然冰冻景观。

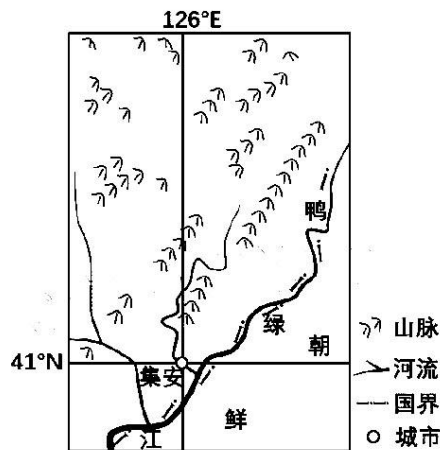


图7

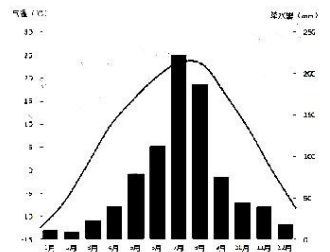


图8




图9

- (1) 分析该河谷坡地有利于山葡萄生长的地形和气候条件。(8分)
- (2) 说明葡萄延期采摘对冰葡萄酒品质提升的原因。(4分)
- (3) 简述通化葡萄酒利用地下酒窖进行贮藏的自然原因。(4分)



(4) 说明产品多元化对通化市葡萄酒产业的有利影响。(8分)

37. 阅读图文材料，完成下列要求。(22分)

奥里诺科河中下游流经奥里诺科平原，下游河面展宽，平均坡降小，平均河槽深度为 10-25 米，水位年内变幅 12 米。汛期出现奥里诺科河水倒灌阿普雷河的现象，下游河段一年中有两次沙峰(含沙量的峰值)，第一次沙峰出现在汛期的干支流涨水季节，第二次沙峰出现在汛后的干流退水期间。奥里诺科河是当地重要交通线，雨季期间“汽艇船”(安装有引擎的普通木质船)为主要交通工具。奥里诺科河大型轮船通航里程约 362 千米，而枯水期航道不易通行，驻该地的中国 M 公司采用吃水较深的大型挖泥耙吸船，每年定期对奥里诺科河下游分区段进行为期 1 个月的航道疏浚施工。图 10 示意奥里诺科河流域及其甲、乙水文站的位置，图 11 示意甲、乙水文站全年水位差(正值表示甲水文站水位高于乙水文站水位)。

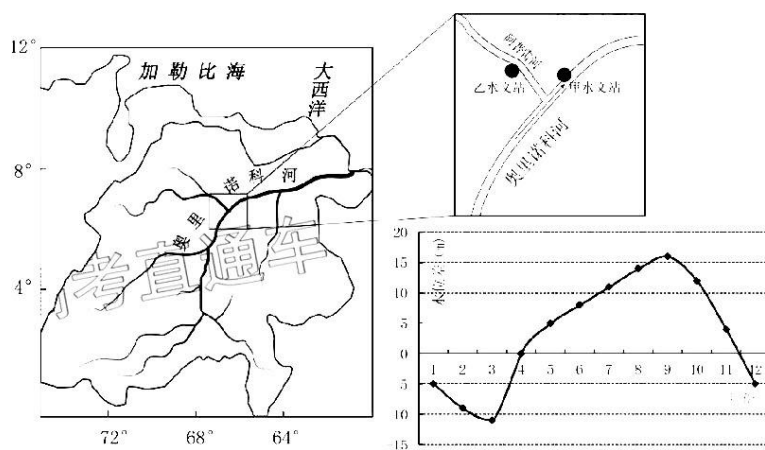


图 10

图 11

(1) 奥里诺科河汛期出现河水倒灌阿普雷河的现象，试作出合理解释(6分)。

(2) 描述奥里诺科河中下游河段第二次沙峰的形成过程(4分)。

(3) 分析“汽艇船”成为当地主要交通工具的原因(6分)。

(4) 为保证奥里诺科河下游全年通航,中国M公司每年定期进行疏浚航道施工,试推测最佳施工月份并说明理由(6分)。

38. (14分) 阅读材料,完成下列要求。

2020年中央经济工作会议指出,继续实施积极的财政政策,就是要大力提质增效,更加注重结构调整,要巩固和拓展减税降费成效,大力优化财政支出结构。

2019年在国内外风险挑战明显上升背景下,我国保持了经济社会持续健康发展。全年累计新增减税降费超过2万亿元,其中制造业及相关环节在增值税减税规模中占比近70%,小微企业普惠性减税约2500亿元,制造业和中小企业减税降费效果明显,企业营商环境大幅改善;全国海关不断提升税收质效,全年减税达3635亿元,进出口货物通关时间缩短,进出口环节经营服务性收费明显降低,据世界银行营商环境报告,我国跨境贸易便利化全球排名提升了9位;全年全国财政支出同比增长8.1%,各级财政部门大力压减一般性支出,优化支出结构,重点增加了对脱贫攻坚、“三农”、结构调整、科技创新、生态环保等领域的投入。

结合材料并运用经济生活知识,分析我国的财政政策是如何通过影响社会总供给促进我国经济持续健康发展的。(14分)

39. (12分) 阅读材料,完成下列要求。

疫情当前,党中央和各级党委高度重视,习近平总书记亲自部署、亲自指挥,要求始终坚持把人民群众生命安全和身体健康放在第一位。各级党组织和广大党员干部必须牢记人民利益高于一切,不忘初心、牢记使命,全力做好疫情防范和应对工作,为人民群众的生命健康安全保驾护航,要以实际行动践行初心使命,坚持以人民为中心,坚决打赢疫情防控的人民战争、总体战、阻击战。

以习近平同志为核心的党中央把有效应对疫情作为头等大事,时刻关注形势变化,及时作出正确决策部署,确保疫情防控有力有序推进。各级党委和政府坚决服从党中央统一指挥、统一协调、统一调度,各地区各部门坚决服从中央应对疫情工作领导小组及国务院联防联控机制的指挥,明确责任,加强落实。各行各业紧急行动,积极参与联防联控、群防群治;医务工作者、社区工作者响应号召、勇敢“逆行”;党员干部冲在一线、勇挑重担;全国人民众志成城、团结奋战……在危机面前,以人民为中心的发展思想得到了充分践行,汇聚起团结一心抗击疫情的强大力量。

结合材料并运用政治生活知识,说明中国共产党在疫情防控中为什么要坚持以人民为中心。(12分)

40. (26分) 阅读材料,完成下列要求。

在过去的70多年里,以“敦煌保护神”常书鸿、“敦煌艺术导师”段文杰、“敦煌女儿”樊锦诗为优秀代表的一代又一代莫高窟守护人,始终以保护好这座人类文化瑰宝作为使命担当;他们一辈子扎根大漠,在恶劣的自然环境里勾勒文物保护利用事业的蓝图;他们胸有丘壑、各有专长;他们不计个人得失,

舍小家顾大家，精心保护和修复敦煌石窟珍贵文物，潜心研究和弘扬敦煌文化艺术，努力探索推进文化旅游合理利用，取得了令世人瞩目的巨大成就。他们的感人事迹，充分彰显了为国为民奉献的家国情怀、为事业无怨无悔坚守的敬业品格、为文化传承发展拼搏奋斗的执着追求，以实际行动诠释了“坚守大漠、甘于奉献、勇于担当、开拓进取”的莫高精神，并感召着数辈莫高窟人不忘初心、砥砺前行。

2020年1月20日，中宣部授予敦煌研究院文物保护利用群体“时代楷模”称号。作为新时代的公民要以时代楷模为标杆，不断提高思想道德水平，做中华民族伟大复兴的奋斗者。

(1) 宣传和学习“莫高窟守护人”等时代楷模有利于通过提高公民思想道德为中华民族伟大复兴凝心聚力。结合材料，运用文化生活有关知识加以说明。(12分)

(2) 结合材料，运用价值判断和价值选择的知识，分析莫高精神为什么能感召代代莫高窟人坚守初心使命。(10分)

(3) 班级开展“学习时代楷模，成就出彩人生”主题班会，请你列出两条发言提纲。(4分)

41. (25分) 阅读材料，完成下列要求。

材料一 早在西周时期，我国就有隔离病人的防疫措施。《睡虎地秦墓竹简》记载有防治传染病的法律条文。两宋时期，人们已经开始探索出瘟疫流行的原因，注意到自然环境和疫病之间的关系，重视城市卫生建设，建立规范的医疗救助体系，充分发动民间力量防疫。到了明代，种痘预防天花，已受到广泛的注意。据俞茂鲲《痘科金镜赋集解》记载：“种痘法起于明朝隆庆年间(1567-1572)宁国府太平县”，并“由此蔓延天下”。清代医学著作《种痘新书》记载：“种痘者八九千人，其莫救者二三十耳。”后来，人痘接种法传到欧亚各国。1769年，英国医生琴纳在中国人痘接种法的启发下，发明了牛痘免疫法。法国哲学家伏尔泰曾在《哲学通讯》中专门称赞过中国人的“种痘”，称：“这是被认为全世界最聪明、最讲礼貌的一个民族的伟大先例和榜样。”

——摘编自《中国疫病史鉴》等

材料二 从1347至1353年，席卷整个欧洲的“黑死病”，夺走了2500万欧洲人的性命，占当时欧洲总人口的1/3。意大利佛罗伦萨80%的人得黑死病死掉，在亲历者薄伽丘所写的《十日谈》中，佛罗伦萨突然就成了人间地狱。大瘟疫引起了大饥荒，盗贼四起；当时又掀起了一波又一波迫害犹太人的浪潮，理由是犹太人到处流动传播瘟疫并四处投毒。有许多学者把黑死病看作欧洲社会转型和发展的一个契机。经历了黑死病后，原来看起来非常艰难的社会转型因为黑死病而突然变得顺畅了。因而它不仅推进了科学技术的发展，也促使天主教会的专制地位被打破，为文艺复兴、宗教改革乃至启蒙运动产生重要影响，从而改变了欧洲文明发展的方向。

——摘编自《欧洲文艺复兴》等

- (1) 根据材料一并结合所学知识, 概括中国古代防治传染病措施的主要特点, 并分析其意义。(15分)
- (2) 根据材料二并结合所学知识, 说明“黑死病”对欧洲社会发展的影响。(10分)

阶段	阶段特征	重大举措	取得成效	存在问题
1978—1985年	酝酿起步	设立利用外资管理机构、构筑外资法律的基本框架、鼓励华侨回国投资	引进外资的局面初步打开、推动科技进步、增加出口创汇和劳动就业	基础设施落后、涉外法律不健全、经济管理体系僵化、产业结构不合理
1986—1992年	初步发展	改善利用外资环境、规定外商投资的重点领域、加强对利用外资工作的管理和引导	引进外资的速度加快、外商投资企业经济效益提高	引进外资质量不高、产业结构不合理、地区分布不均衡
1992—1996年	快速发展	进行国民待遇的初步探索、注重外资的质量、拓展吸收外资途径、进一步完善外资法律体系	利用外资质量明显提高、外商投资结构改善、开拓了国际市场	重引进、轻管理, 效益低、技术含量不高
1997—2005年	稳步发展	调整中逐步与国际接轨, 实现战略转变、实行国民待遇、实行“走出去”战略、加大中西部引资力度	外商投资的数量和质量明显提高、投资产业结构明显改善	民族品牌受打压、民族工业受打击、影响国家产业安全

42. (12分) 阅读材料, 完成下列要求。

材料 表4是改革开放以来中国利用外资情况表

——摘编自尹永纯著《改革开放以来中国利用外资的历史考察》

从材料中提取信息, 拟定一个论题, 并结合所学知识予以阐述。(要求: 明确写出所拟论题, 阐述须有史实依据。)

**(二) 选做题: 共 25 分, 请考生从 2 道地理题, 3 道历史题中每科任选一道题作答。如果多做则每科按所做的第一题计分。**

43. [地理——选修3: 旅游地理] (10分)

工业旅游是将生产场所、生产过程、企业文化作为旅游资源, 通过参观、体验、操作等方式满足游客需求, 同时促进企业的发展。某知名汽车企业在沈阳(首批中国优秀旅游城市)铁西汽车制造厂开展工业旅游, 以现代化的生产技术工艺, 环保时尚的建筑设计理念 and 人文贴心的服务, 成为汽车行业首个国家AAAA级旅游景区, 吸引了众多国内外游客。

分析沈阳铁西汽车制造厂开展工业旅游的资源优势, 并说明工业旅游对该制造厂发展的促进作用。



44. [地理——选修6：环境保护]（10分）

那考河是南宁市的一条城市内河，20世纪90年代，随着上游养殖业和工业的兴起，水质每况愈下，最严重的时候有四十多个排污口同时向河内排污，被称为臭水沟。作为南宁市内河生态治理的重点项目，2015年当地启动了“那考河流域综合治理项目”：河道污染控制、新建污水处理厂；恢复自然河道；在河流两岸修建湿地公园；提升河道行洪能力。

说明“那考河流域综合治理项目”对改善当地环境的作用。

45.（15分）【历史——选修1：历史上重大改革回眸】

**材料**

1069年，宋神宗任用王安石为参知政事，主持变法。十一月颁布农田水利法，要求各县将本县荒废土地的数量、原因，以及今后如何立法、招募垦辟；境内河流有无浅塞须要疏浚，陂塘堰埭有无废坏须要兴修等种种事关水利兴修的情况一一指出，并提出如何进行修建，合用多少工料；资金不足，可以依照青苗法条例向常平仓借贷，如常平仓官钱不足，还可向富户借贷，依例出息，官为立簿，代为催还等；在确定工程是否修建前，主管官吏要和各路提刑或转运官吏协商，对百姓提出修建工程的意见进行调查，工程量大的上报朝廷。各州县在施工之前，要求绘制成图，说明具体实施方案并上报。1070年八月，北宋政府实行了差官察访制，派遣官员察访各地的农田水利事宜。到1076年末，全国总共兴修水利一万多处。

——摘编自陈振《宋史》等

（1）根据材料并结合所学知识，概括北宋农田水利法的主要内容。（8分）

（2）根据材料并结合所学知识，简析北宋农田水利法取得成效的原因。（7分）

46.（15分）【历史——选修3：20世纪的战争与和平】

**材料**

1947年，杜鲁门主义发表后，苏联组织了共产党和工人党情报局进行对抗，美国认为必须组建一个军事政治集团才能压制共产主义的“攻势”。而西欧国家特别是英、法而言，也有组织军事政治集团的愿望。它们刚刚挣脱法西斯灾难，既怕德国东山再起，又担心美苏在欧洲心脏地区的严重对抗会危及它们的安全。所以对共产主义成为它们的“共识”，但是它们都各有各的打算。比如英国便以苏联威胁增大为由，利用西欧各国的不安全感，加快了西欧联合的步伐。1948年1月，英国外相贝文发表演说，正式提出西欧联盟的建议。法、比、荷、卢4国表示响应。3月5日，英、法、比、荷、卢5国代表在布鲁塞尔举行缔约谈判；17日，5国外长签署《布鲁塞尔条约》。该条约组织的最高领导机构是外长协商委员会。此外还设

立西欧联盟防务委员会、西方联盟参谋部和西方联盟司令官委员会。

在布鲁塞尔条约的形成过程中，美国政府不仅积极鼓励，而且还表示将着手向西欧提供军事保护和军事援助。布鲁塞尔条约组织的建立是北大西洋军事联盟形成的前奏。

——摘编自吴于廑、齐世荣《世界史》

(1) 根据材料并结合所学知识，概括美、英、法三国组织军事政治集团的各自打算。(6分)

(2) 根据材料并结合所学知识，评析《布鲁塞尔条约》。(9分)

47. (15分)【历史——选修4：中外历史人物评说】

材料

范成大，南宋绍兴年间进士。宋孝宗即位后，发动对金战争，由于时机不对，将相不和，北伐失利。此时金也无力南侵。隆兴二年(公元1164年)宋金达成和议，两国由“君臣”关系改为“叔侄”关系，“岁币”减少五万两，割商州、秦地给金国。面对仍不平等的条约，宋孝宗希望收回开封等地，能够祭拜祖先，并下令招募使者，前去金国谈判。无人应招，只有范成大概然应允。到金国，面对金人威胁，范成大不卑不亢，据理力争，改变了宋朝一向软弱、怯懦的形象，给了金国一次下马威，号称“小尧舜”的金国皇帝完颜雍最终放走了范成大。隆兴和议使宋金百姓得到了四十年的宝贵和平，范成大保住了南宋王朝的尊严，令世人刮目相看。

——摘编自《续资治通鉴》

(1) 根据材料并结合所学知识，分析范成大能顺利出使金国的原因。(6分)

(2) 根据材料并结合所学知识，评述隆兴和议的影响。(9分)

自主招生在线创始于 2014 年，致力于提供自主招生、综合评价、三位一体、学科竞赛、新高考生涯规划等政策资讯的服务平台。总部坐落于北京，旗下拥有网站（www.zizzs.com）和微信公众平台等媒体矩阵，用户群体涵盖全国 90% 以上的重点中学师生及家长，在全国自主招生、综合评价领域首屈一指。

如需第一时间获取相关资讯及备考指南，请关注**自主选拔在线**官方微信号：**zizzsw**。



识别二维码，快速关注

福利：

- 1、关注后回复“答题模板”，即可获得高中 9 科答题模板资料
- 2、回复“清北华五”，即可获得清北华东五校特殊选拔考试模式及真题