

湘豫名校联考

2023年5月高三第三次模拟考试

文科综合能力测试

注意事项:

1. 本试卷共 18 页,时间 150 分钟,满分 300 分。答卷前,考生务必将自己的姓名、准考证号填写在答题卡上。
2. 回答选择题时,选出每小题答案后,用铅笔把答题卡上对应题目的答案标号涂黑。如需改动,用橡皮擦干净后,再选涂其他答案标号。回答非选择题时,将答案写在答题卡上。写在本试卷上无效。
3. 考试结束后,将本试题卷和答题卡一并交回。

一、选择题:本题共 35 小题,每小题 4 分,共 140 分。在每小题给出的四个选项中,只有一项是符合题目要求的。

哈尔滨市位于黑龙江省南部,是东北北部的交通、政治、经济、文化、金融中心,国家重要的制造业基地。下辖 9 个市辖区和 7 个县,代管尚志市和五常市(代管市是指撤县立市后,由所在省直辖,由所在地级市代管的市级行政单位)。

2017—2022 年哈尔滨市常住人口出现持续负增长。2021 年末全市户籍人口中,60 岁以上人口

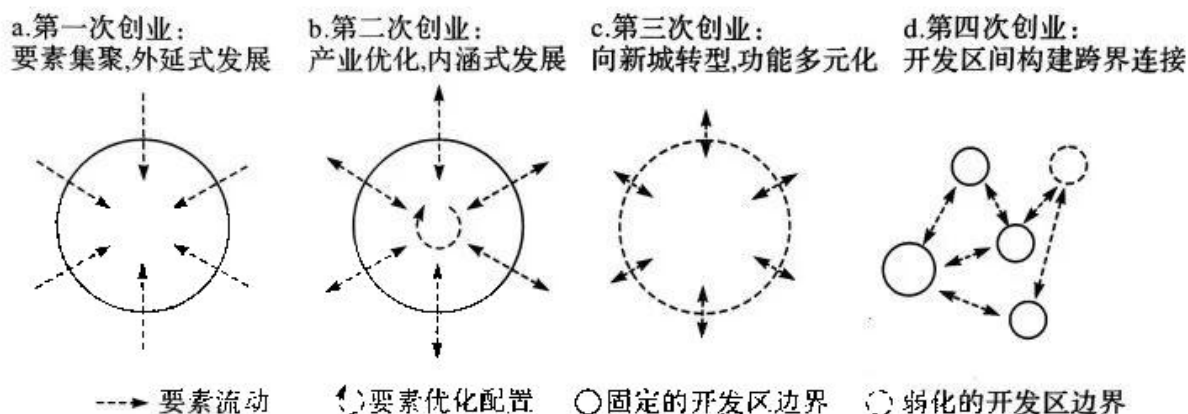


234.5 万,占 24.9%;0—17 岁人口 121.7 万,占 12.9%。上面为哈尔滨市政区图。据此完成 1~2 题。

文科综合试题 第 1 页(共 18 页)

1. 推测目前哈尔滨市人口流失最严重的县(市、区)为
A. 道里区 B. 松北区 C. 尚志市 D. 巴彦县
2. 近年来哈尔滨市人口老龄化程度
A. 先提高后降低 B. 逐步加深
C. 先降低后提升 D. 逐渐减轻

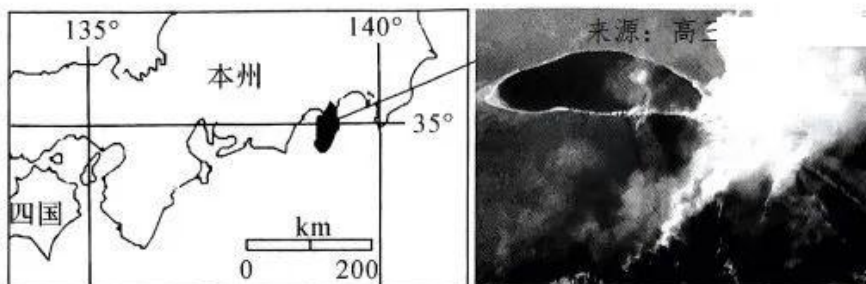
1979年、2001年和2009年前后,我国开发区先后经历了三次产业转型,目前将进入开发区的“第四次创业”。下面为开发区的“四次创业”历程简图。据此完成3~5题。



3. 我国开发区第一次创业的有利条件是
A. 土地价格低廉 B. 管理制度完善
C. 基础设施完善 D. 产业链完备
4. 开发区转变为新的市辖区,且对应的开发区管委会在行政上逐渐承担更多的社会管理和 Service 功能的创业阶段为
A. 第一次创业阶段 B. 第二次创业阶段
C. 第三次创业阶段 D. 第四次创业阶段
5. 我国开发区第四次创业待解决的发展问题为
A. 与城市地区相互割裂 B. 土地资源紧张
C. 粗放的外延式发展 D. 生产要素缺乏

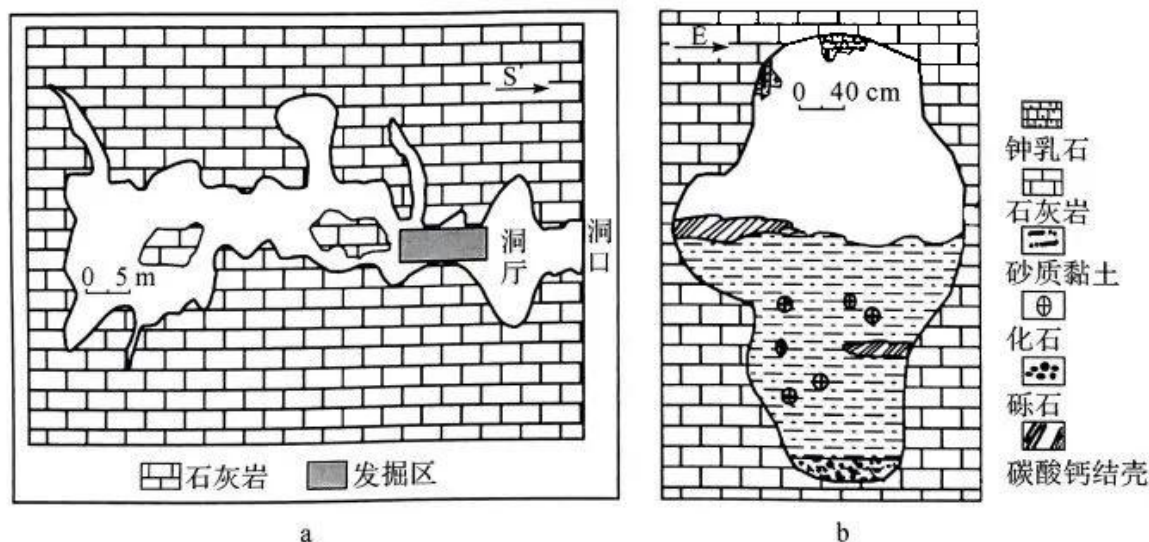
日本静冈县大室山种植了用于包装和养殖的某一多年生草本植物,该种植区内多杂草和灌木,每年定期举行烧山活动,该烧山活动已经延续700多年,是一项保护自然的传统活动,现逐渐演变为一项旅游活动。下图示意大室山所在位置及烧山景观。据此完成6~8题。

文科综合试题 第2页(共18页)



6. 大室山举行烧山活动的时间最可能为
A. 2月 B. 6月 C. 8月 D. 10月
7. 大室山规划种植的植物
A. 茎秆较脆弱 B. 叶上多硬刺
C. 根系不枯死 D. 耐腐蚀性弱
8. 大室山最初举行烧山活动的主要目的是
A. 减缓气候变暖 B. 增加旅游项目
C. 净化作物生长环境 D. 提高生物多样性

感仙洞(106°59'56"E, 23°36'20"N)位于广西壮族自治区田东县西南部的布兵盆地,洞内北部无沉积物,南部保存有厚度约0~4m的堆积物。下面为某研究团队在实地考察后所绘制的感仙洞洞穴水平剖面图(a)和发掘区堆积物纵切面示意图(b)。据此完成9~11题。



9. 该研究团队对发掘区堆积物不同深度进行测年的主要目的是
A. 研究区域地质构造变迁 B. 研究区域气候变迁
C. 研究农业发展对地质的影响 D. 研究区域生态变迁

年名义增长 5.0%，扣除价格因素，实际增长 2.9%，与全国 GDP 增速基本持平。下列对上述数据的解读正确的是

- ①居民收入增长的根本原因是我国经济持续健康发展“做大了蛋糕”
 - ②扣除价格因素的实际增长状况说明我国经济面临较大的通胀压力
 - ③居民收入增速与 GDP 增速持平体现了以人民为中心的发展思想
 - ④居民收入占国民收入的比重越高越有利于提高国民经济发展质量
- A. ①② B. ①③ C. ②④ D. ③④

15. 如今，我国越来越多的牧民运用大数据进行科学饲养。通过云平台，牧民们可以随时调控棚圈内的温度和湿度，精准查看每头牛的疫苗接种信息，同时还可进行数据预测分析，科学研判畜牧业生产形势。这一做法

- ①提升了为畜牧业生产服务指导的能力
- ②极大提高了畜牧业劳动生产率
- ③科技赋能，提高畜牧业质量和效益
- ④目的在于提高畜牧产品的质量

- A. ①③ B. ①④ C. ②③ D. ②④

16. 多年来，在村民自治过程中，某村探索并推行了民情恳谈会、事务协调会、工作听证会、成效评议会等村民自治形式，引导村民关心、支持本村的发展，有序参与本村的建设和管理，村民自治的活力持续不衰。该村的做法

- ①提升了群众性自治组织的凝聚力和战斗力
- ②丰富了基层行政管理体制的内容和形式
- ③能够增强广大村民参与自治的主人翁意识
- ④创新了基层群众自治组织，拓展了村民自治职能

- A. ①② B. ①③ C. ②④ D. ③④

17. 2022 年 11 月 30 日，为进一步规范移动智能终端应用软件预置行为，工业和信息化部、国家互联网信息办公室发布通告指出，生产企业应确保移动智能终端中除基本功能软件外的预置应用软件均可卸载，并提供安全便捷的卸载方式供用户选择。上述规定

- ①表明我国有些国家机关在网络安全中的职责是可以合并行使的
- ②意味着有些国家机关在网络安全工作中具有了更大权力
- ③强调了相关国家机关在网络安全环境创设中的重要作用

- ④明确了软件开发企业的权利和责任,有利于营造清朗的网络空间
- A. ①② B. ①③ C. ②④ D. ③④
18. 2022年12月16日,云南红河哈尼族彝族自治州境内的弥(勒)蒙(自)高铁正式开通运营。该铁路沿线有哈尼族、彝族、苗族、瑶族等10多个少数民族居住,山区面积占红河州面积的85%,少数民族人口占58%,随着铁路的开通运营,沿线各族人民的出行更加方便,少数民族地区将进一步加快发展,乡村振兴将全面推进,经济社会将繁荣稳定。该铁路的开通
- ①是贯彻和落实民族区域自治制度的生动实践
②赋予了少数民族地区更多的经济发展自治权
③能进一步满足少数民族群众对美好生活的需要
④为实现民族平等,加强民族团结提供了新契机
- A. ①② B. ①③ C. ②④ D. ③④
19. 近年来,某机关积极加强机关文化墙建设。在一幅幅精美生动的画面中,工作制度、社会主义核心价值观、发展理念、党建要求、修身箴言钉在了墙上,印在了心里,成为机关干部学习、生活、工作上的良师益友,不断激励和引导干部修身静气、廉洁自律、勤奋进取。该机关重视文化墙建设,是因为
- ①文化墙作为一道靓丽的文化风景线,能够将美化环境与浸润心灵有机结合
②有利于在潜移默化的教育环境中激发广大干部的工作热情和向上动力
③文化墙作为文化创新的重要源泉,能够在社会实践中创造出更多更好的新文化
④机关文化墙的建设水平直接影响着人们的科学文化修养和思想道德修养
- A. ①② B. ①③ C. ②④ D. ③④
20. 2022年10月27日,习近平总书记在瞻仰延安革命纪念馆时发表的重要讲话指出,培育形成的以坚定正确的政治方向、解放思想实事求是的思想路线、全心全意为人民服务的根本宗旨、自力更生艰苦奋斗的创业精神为主要内容的延安精神,是党的宝贵精神财富。延安精神是
- ①判断一种文化进步与否的重要尺度
②中华民族精神的具体而生动的体现

- ③鼓舞人们奋发向上的强大精神动力
- ④涵养社会主义核心价值观的肥沃土壤

A. ①② B. ①④ C. ②③ D. ③④

21. 漫画《拍巴掌》旨在讽刺那些

- ①片面强调客观原因,无所作为的作风
- ②只看到一点不看两点的形而上学错误
- ③不实事求是,走过场的形式主义做法
- ④不求真务实,阿谀逢迎的老好人思想



A. ①② B. ①④
C. ②③ D. ③④

22. 20世纪60年代,英勇无畏的林州人民怀着重构山河的信念,削平了1250座山头,在山体上凿通隧道211个,跨越从低到高的落差,逆山而上,修建成了红旗渠这条人工天河。红旗渠的开凿彰显了人民群众的伟大力量,“自力更生、艰苦创业、团结协作、无私奉献”的红旗渠精神,一直激励着河南乃至全国人民。这一事实说明

- ①人为事物的联系更能够彰显出强大的力量和优势
- ②发挥人的主观能动性有利于人类克服困难,利用自然
- ③实践具有直接现实性,能将人脑观念的存在变为现实存在
- ④人的潜能是巨大的,它能够战胜自然规律为人类造福

A. ①② B. ①④ C. ②③ D. ③④

23. 2022年11月中旬以来,随着中央决策对疫情防控策略进行重大调整,国务院联防联控机制组合组相继发布“新二十条”“新十条”和对新冠实行“乙类乙管”通知,我国疫情防控随之转入一个新阶段,由以往对疫情扩散的严防死守,转向以个人防护和重点救治危重患者为主的逐步放开。这一变化体现的历史唯物主义道理是

- ①上层建筑的变化源于社会生活的变迁
- ②一切以时间、地点和条件的变化为转移
- ③事物的价值因人而异、因时而变
- ④价值选择的标准应与时俱进、推陈出新

A. ①② B. ①④ C. ②③ D. ③④

文科综合试题 第7页(共18页)

24. 据下图可知,战国时期商业城市的兴起



- A. 缘于各诸侯国君对商业的重视 B. 反映出经济水平东高西低的状况
C. 多受城市政治地位变化的影响 D. 推动当时各国货币形制趋向统一
25. 王羲之奠定了草书艺术的基础,自晋代以来,凡作草书,无不受其影响。但是,王羲之的草书却受到唐代书论家张怀瓘的批评,被认为“有女郎才,无丈夫气,不足贵也”。这表明
- A. 历代对王羲之书法评价过高
B. 时代风貌影响书法艺术评价
C. 唐代书法成就超越魏晋时期
D. 古代书法在传承中不断发展
26. 白寿彝指出:“北宋皇权的过分强化和对大臣的防范,特别是对武臣的防范,也成为政治腐化和对外来军事威胁表现软弱的一个原因。”下列可以佐证这一观点的是
- A. 设枢密院理全国军政 B. 调精锐禁军驻守中央
C. 将地方财政收归中央 D. 派文官担任地方长官
27. 明清时期出现了许多日用类书,其中有些属于专门性的商业用书。这些商业用书有的是商人们自己动手,根据商业的实际需要来编纂,有的则延请文人学士为之编纂,其内容不仅有经商必备知识,还包括商业道德、经商行为准则、行为规范等方面内容。商业用书的出现反映出
- A. 经商风气在社会上盛行 B. 传统抑商思想根本改变
C. 商业经营理论开始萌发 D. 士商融通成为历史趋势

文科综合试题 第 8 页(共 18 页)


28. 从 19 世纪 70 年代起, 洋务派筹办北洋、南洋海军。80 年代, 李鸿章在天津设立武备学堂, 在旅顺修建船坞, 在威海卫开辟军港, 又从外国购买军舰和大炮, 建立和扩大了北洋海军。洋务派的这些举措

- A. 改变了中国海军落后面貌 B. 反映出发展理念受时代的影响
C. 表明海防思想体系的形成 D. 刺激了民族工业的产生与发展

29. 同盟会最早会员之一的吴玉章回忆道: “虽然这时候我对中国革命还不可能立即得出一个系统的完整的新见解, 但是通过十月革命和五四运动的教育, 必须依靠下层人民, 必须走俄国人的道路, 这种思想在我头脑中日益炽烈、日益明确了。”这表明当时

- A. 救亡图存思潮的碰撞升华 B. 资产阶级希望以俄国为师
C. 工农武装割据思想已成型 D. 五四运动激发救国的热潮

30. 下面为 1937 年美国《纽约时报》刊发的关于抗日战争的漫画。该漫画

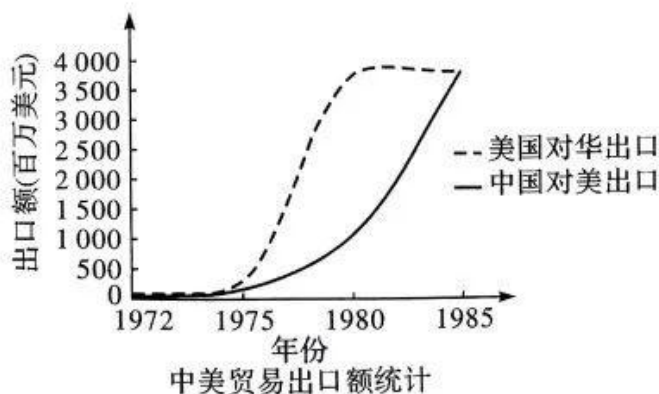


中日战争的结局

- A. 讽刺了中国国力衰弱的现状 B. 暗示对中国抗战前景的悲观
C. 揭示出中日战争的总体走向 D. 号召美苏大国建立统一战线

31. 右面为 1972—1985 年中美贸易统计图。下列对图中反映的变化趋势分析正确的是

- A. 两国建交后贸易开始增长
B. 体现两国关系的顺利发展
C. 得益于大国关系发展变化
D. 中国改革开放是主要因素



32. 雅典公民大会通常在卫城西面的普尼克斯山半圆形的山坡上举行,集会地被设计成半圆形的砖石建筑,其形状确保每一个参加者都能够看到演讲者,并能相互看到对方。直到现代,大多数西方国家的议会大厅和国会大厦设计,依然保留延续了这种格局。这表明雅典建筑
- A. 确保公民享有完善的民主 B. 审美功能与政治功能融合
C. 体现出直接民主政治理念 D. 深刻影响近代西方的民主
33. 文艺复兴时期,学者伊拉斯谟希望通过培养“真正的基督徒”来促进社会的革新;学者卡斯底格罗和艾利奥特明确主张要培养贤明的君主、朝臣,以便使他们能更好地管理国家;学者蒙田也主张将青年培养成实干型国王最忠诚的臣民、最热情和勇敢的绅士。这反映出该时期
- A. 教育领域诞生了人文主义思想 B. 教育重视适应和服务社会需要
C. 不同思想家教育思想彼此冲突 D. 资产阶级渴望摆脱宗教的束缚
34. 据记载,工业革命时期,曼彻斯特的议会街,每 380 人才有一个厕所,在居民区,每 30 幢住满人的房子才有一个厕所。由于厕所不够,不少英国市民不得不随地大小便。这一现象的出现主要是由于
- A. 社会各个阶层缺乏卫生意识 B. 市政部门对厕所建设不重视
C. 城市居民收入出现两极分化 D. 经济发展与城市管理不同步
35. 苏联一直坚持统一后的德国不应成为北约成员国,但西方坚持统一后的德国必须加入北约。1990 年 7 月中旬,德国总理科尔访问莫斯科,苏联最终同意德国可自由决定归属于哪个联盟,这就意味着同意它成为北约成员。这表明
- A. 两极格局宣告结束 B. 德国实现完全自主
C. 冷战力量对比失衡 D. 北约推行大国强权

二、非选择题:共 160 分。第 36~42 题为必考题,每个试题考生都必须作答。
第 43~47 题为选考题,考生根据要求作答。

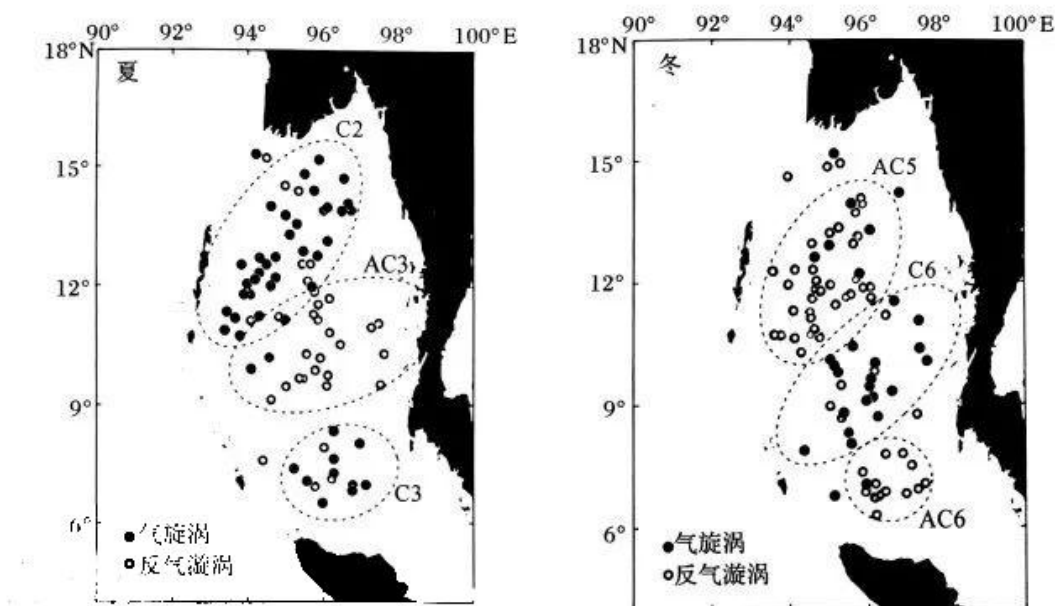
(一)必考题:共 135 分。

36. 阅读图文材料,完成下列要求。(24 分)

缅甸海位于印度洋东北部,东南侧为马六甲海峡,西侧被 500 多个南北纵列、崎岖不平的岛弧链所包围。岛弧链上人口稀少,多火山丘陵,建筑主要用于军事防务,西侧伴有海沟。中尺度旋涡又称天气“……”

文科综合试题 第 10 页(共 18 页)

海洋中直径有 100—300 千米、寿命为 2—10 个月的旋涡。下面两图分别示意缅甸海中尺度旋涡夏、冬两季空间分布,其中 C2、C3、C6 为气旋涡聚集发生区,AC3、AC5、AC6 为反气旋涡聚集发生区。



- (1) 推测缅甸海西侧所属板块交界类型,并说明推测依据。(6分)
- (2) 对比分析缅甸海中尺度涡旋夏季与冬季空间集聚分布的异同点。(6分)
- (3) 说出夏季缅甸海北部主要的单一中尺度旋涡中心表层水温与周围海水温度的差异,并说明原因。(6分)
- (4) 分析缅甸海西侧岛弧链上人口稀少的主要原因。(6分)

37. 阅读图文材料,完成下列要求。(22分)

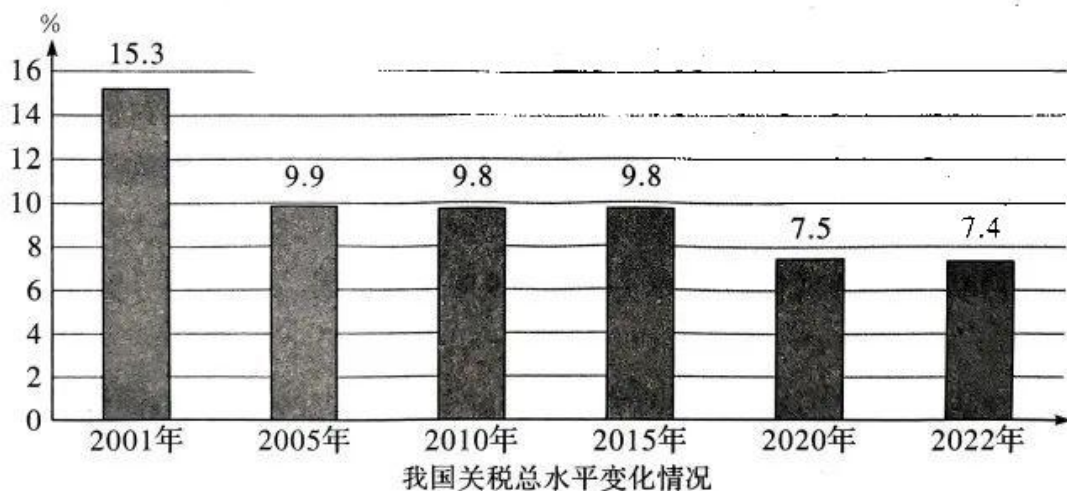
江西南部的赣州古城,地势南高北低,三面环水,其古城墙始建于汉代,高大雄伟,距今已有二千多年历史。宋代以前,赣州城墙系用黄土夯土构筑;北宋中期后为缓解章、贡两江之水“岁岁坏城”等窘况,开始使用青砖构筑城墙。赣州古城是中国最早的海绵城市,宋朝修建的堪比古代罗马技术的排水系统,虽历经千年,依旧没有洪涝灾害在此城市发生。下面为赣州古城遥感图和古城墙局部图。

文科综合试题 第11页(共18页)



- (1)说出赣州古城依河而建对当时居民生产、生活的有利影响。(6分)
- (2)说明宋代将赣州古城墙由黄土夯土改用青砖的原因。(6分)
- (3)现代科技证明斜坡城墙更有利于古代战争的军事防御。推测汉代采用近垂直面设计赣州城墙的原因。(6分)
- (4)分析宋朝以来赣州古城内没有出现洪涝灾害的主要原因。(4分)

38. 阅读材料,完成下列要求。(14分)



根据我国政府与有关国家政府的换文规定,自2023年3月1日起,对原产于埃塞俄比亚联邦民主共和国、布隆迪共和国、尼日尔共和国等3个最不发达国家的98%税目的进口产品实施零关税。

其中,98%税目产品包括《中华人民共和国进出口税则(2023)》(税委会公告2022年第12号)特惠税率栏中标示为“受惠国LD”的8420个税目、“受惠国1LD1”的193个税目、“受惠国2LD2”的191个税目,共计8804个税目。

解读图中包含的经济信息。(4分)我国持续降低关税,对3个不发达国家的98%税目的进口产品实施零关税,请分析此举的经济考量。(10分)

39. 阅读材料,完成下列要求。(12分)

2022年是我国现行宪法公布施行40周年。40年来,现行宪法有力推动社会主义法治建设,有力促进党和国家事业发展。

我们党领导人民制定的宪法,集中了人民智慧,体现了全体人民共同意志,实现了党的主张和人民意志高度统一,因而得到最广大人民拥护和遵行,具有显著优势、坚实基础和强大生命力。

1982年宪法公布施行后,在党中央领导下,全国人大先后5次对现行宪法进行修正,将党和人民在实践中取得的重大理论创新、实践创新、制度创新成果转化为宪法规定,使宪法更好地体现人民意志,更加及时地反映实践发展和时代发展的新形势新要求。

不断完善以宪法为核心的中国特色社会主义法律体系,宪法实施更加有效。完善宪法监督制度,加强合宪性审查、备案审查制度和能力建设,宪法监督水平稳步提高。

宪法是国家一切法律法规的总依据、总源头,只有坚持宪法的国家根本法地位,坚决维护和贯彻宪法规定、原则、精神,才能保证国家统一、法制统一、政令统一。

结合材料并运用政治生活的知识,阐述制定、修改和实施宪法的成功实践所彰显的我国社会主义民主政治的优势。(12分)

40. 阅读材料,完成下列要求。(26分)

2022年9月16日,中韩双方在韩国仁川国际机场举行第九批在韩中国人民志愿军烈士遗骸交接仪式。88名中国人民志愿军烈士的遗骸及相关遗物,由中国人民解放军空军运输机运-20接运回国。

英雄是民族最闪亮的坐标。一个有希望的民族不能没有英雄,一个有前途的国家不能没有先锋。英雄是民族的脊梁,他们的事迹和精神都是激

文科综合试题 第13页(共18页)

励我们前行的强大力量。

长期以来,习近平总书记多次就学习英雄模范作出部署、提出要求,号召全党全国各族人民要像英雄模范那样坚守、像英雄模范那样奋斗,共同谱写新时代人民共和国的壮丽凯歌!推动全社会敬仰英雄、学习英雄。

- (1)结合材料并运用意识能动作用原理,分析推动全社会敬仰英雄、学习英雄的原因。(10分)
- (2)培育和践行社会主义核心价值观需要敬仰英雄,学习英雄。结合材料运用文化生活知识进行说明。(10分)
- (3)推动全社会敬仰英雄、学习英雄,要从我做起,从现在做起。假如你所在学校要举行升旗仪式,请你写一份以“敬仰英雄,学习英雄”为主题的国旗下演讲提纲,不超过150字。(6分)

41. 阅读材料,完成下列要求。(25分)

材料一 1936年,中央直属企业的产值占全部工业产值的90%。从一个小别针到巨型发电机的生产都要受国家计划委员会控制,受政府有关部、局的领导。1957年2月,赫鲁晓夫要求把工业和建筑业的日常领导工作从中央转到地方。最高苏维埃于5月决定撤销25个中央部和113个加盟共和国的部,只留下航空、无线电、造船、化学、中型机械等几个中央部。赫鲁晓夫认为,放松中央控制会推动生产发展。中央统一管理被削弱后,各地滋生了严重的本位主义,彼此矛盾重重,互相扯皮。赫鲁晓夫逐渐又把权力收回中央。他先是合并地区国民经济委员会,最后又成立最高国民经济委员会。后来又出现了各类工业部门的全国性委员会。结果,到1963年时,管理工业的机构不仅没有像原来设想的那样有所精简,反而扩大了二三倍。工业和建筑业管理组织的改革没有取得积极成果。

——摘编自《赫鲁晓夫工业方面的改革》

材料二 国有企业改革一步一个脚印,不断向前推进。从改革开放之初到20世纪80年代末,我国先后对国有企业实行扩权让利、承包经营责任制、股份制等方面的改革。这些改革措施,对国有企业经济效益的改善和推进中国经济发展起到了积极的作用,使国有企业的活力有所增强,对宏

文科综合试题 第14页(共18页)

观经济环境和市场变化的适应能力逐步提高。进入 20 世纪 90 年代,我国的国有企业改革在 80 年代的基础上朝着转换机制、政企分开、制度创新、战略调整的方向迈进。在对国有企业经营者实行激励的同时,国家还加强了对国有企业的监管。一方面,国家对一些重点企业实行了稽察特派员制度,加强了国有企业监事会工作。另一方面,为保证激励和约束的依据的真实性,大部分地区对一些国有企业实行了会计委派制。

——摘编自国家统计局《国有企业稳步改革》

- (1) 根据材料一并结合所学知识,分析说明苏联工业改革的背景和失败原因。(10 分)
- (2) 根据材料二并结合所学知识,说明我国国有企业改革的特点,并分析其意义。(10 分)
- (3) 根据材料并结合所学知识,分析影响企业改革成效的因素。(5 分)

42. 阅读材料,完成下列要求。(12 分)

材料 就历史经验论,任何一制度,绝不能有利无弊。任何一制度,亦绝不能历久而不变。历史上一切以往制度俱如是,当前的现实制度,也何尝不如是?……其实中国历史上以往一切制度传统,只要已经沿袭到一百两百年的,也何尝不与当时人事相配合?又何尝不是专出于一二人之私心,全可用“专制黑暗”四字来抹杀?

——摘编自钱穆《中国历代政治得失》

根据材料,以“中国古代××制度之我见”拟定论题,并运用中国古代史相关知识进行阐释。(要求:论题明确,运用史实准确,史论结合,表述清晰。)

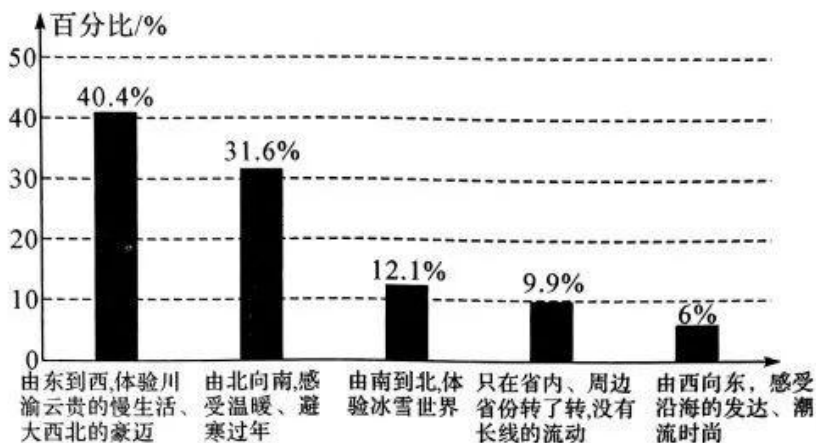
(二) 选考题:共 25 分。请考生从 2 道地理题、3 道历史题中每科任选一题作答。如果多做,则每科按所做的第一题计分。

43. [地理——选修 3:旅游地理](10 分)

周边、跨省、出境,露营、温泉、房车……旅游全面恢复

文科综合试题 第 15 页(共 18 页)

出游意愿如何、最喜欢哪种玩法、最想和谁一起走遍好山好水？2023年开年，每日经济新闻和数字化产品与某企业联合推出的首期旅游消费调研数据报告显示：超过80%的受访者期待着在新年奔向诗和远方。下图为春节假期游客选择的出行方向统计。



说明2023年开年我国由东向西旅行所占百分比高的主要原因,并推测西部景区被游客吐槽的主要问题。

44. [地理——选修6:环境保护](10分)

2023年2月22日生态环境部发布数据显示:2022年,国家地表水优良水质断面比例为87.9%,同比上升3.0个百分点;监测的210个重点湖(库)中,水质优良(I—Ⅲ类)湖库个数占比73.8%,同比上升0.9个百分点。相对河流生态环境质量的改善,我国湖泊环境质量改善的幅度相对较小。

说明我国湖泊生态环境质量改善较河流慢的主要原因。

45. [历史——选修1:历史上重大改革回眸](15分)

材料 1912年1月9日,南京临时政府教育部正式成立。同年7月10日至8月10日,全国临时教育会议召开,期间提出的议案近百件,许多涉及重大的教育政策与措施,如教育宗旨、采用注音字母统一汉语读音、废除学校祀孔等。作为教育总长的蔡元培在《开会词》中比较了君主时代的教育和民国教育的本质不同,指出:“君主时代之教育方针,不从受教育者本体上着想,用一个人主义或用一部分人主义,利用一种方法,驱使受教育者迁

文科综合试题 第16页(共18页)

就他之主义”，其目的是“使受教育者皆富于服从心、保守心，易受政府驾驭”。而“民国教育方针，应从受教育者本体上着想，有如何能力，方能尽如何责任；受如何教育，始能具如何能力”，整体上是“立于国民之地位，而体验其在世界在社会有何等责任，应受何种教育”。这次会议讨论通过了民国教育方针，于9月2日由教育部公布施行，其内容为：“注重道德教育，以实利教育、军国民教育辅之，更以美感教育完成其道德。”

——摘编自孙培青主编《中国教育史》

- (1)根据材料并结合所学知识，说明1912年蔡元培积极推行新的“民国教育方针”的背景。(6分)
- (2)根据材料并结合所学知识，简评1912年蔡元培积极推行的新的“民国教育方针”。(9分)

46. [历史——选修3:20世纪的战争与和平](15分)

材料 越南抗法斗争结束后，内战随之爆发。这时，美国已经走到了前台，中国逐渐提高了对北越的援助水平，越南成为社会主义阵营与资本主义阵营武装对抗与意识形态斗争的战场。20世纪60年代中期，苏联也加入援助河内的行列中来。此举既含有对美斗争的成分，也不乏包围中国的考虑。战争进入边打边谈阶段后，部分地由于中苏矛盾的存在，中国一度反对和谈。一旦中美缓和进程启动，北京则开始逐步推动和平停战……虽说没有中国和苏联的援助，越南劳动党绝对无法长期抵抗美国的攻势，但从胡志明到黎笋，大多数时候越南人都是自身事务的主宰者。换言之，是战是和主要是由越南劳动党领导人决定。也正是因为这一点，60年代末、70年代初东西方关系明显缓和之时，中国尤其是苏联的和谈意志和谈判条件在很长一段时间内无法得到贯彻。而直至北越攻占了西贡，越南战争才真正结束。

——摘编自沈志华《冷战国际史二十四讲》


- (1)根据材料并结合所学知识，概括越南战争的特点。(6分)
- (2)根据材料并结合所学知识，分析越南战争结束的原因。(9分)

47. [历史——选修 4: 中外历史人物评说](15 分)

材料 陈炽(1855—1900年),江西瑞金人。陈炽12岁中秀才,19岁取为拔贡生,翌年入京朝考,录为一等第四名,授七品京官,签分户部山东清吏司见习。1882年中举,仍在户部任职。自1884年起,曾游历沿海地区及香港、澳门,考察时务,涉猎群籍,尤重西书。1886年参加军机章京考试,录取为八名之首魁,次年升户部额外主事,1889年转为户部主事,1891年升为户部员外郎。多次向上司翁同龢呈送说帖,发表政见,受到器重。陈炽“感念时变,乃探综古今中外全局,发愤著《庸书》内外百篇”,内篇所论多属传统政务,外篇所论则属变法维新。此书于1893年至1894年间撰成,初刊于1896年,但未刊行前即由翁同龢进呈光绪皇帝御览。1896年,陈炽重译英人斯密德的《富国策》(较早译名),交《时务报》连载,并在此基础上撰写了经济专著《续富国策》。

——摘编自张海鹏总主编《中国近代通史》

- (1) 根据材料并结合所学知识,概括陈炽个人生平经历的主要特征。(6分)
- (2) 根据材料并结合所学知识,简析陈炽坚持撰写政务著作的原因。(9分)



湘豫名校联考 2023年5月高三第三次模拟考试 政治参考答案

题号	12	13	14	15	16	17	18	19	20	21	22	23
答案	C	C	B	A	B	D	B	A	C	D	C	A

一、选择题

12. C 【解析】本题考查商品价值量的知识点。根据材料和所学知识可知,价格暴涨后的球衣和球鞋,虽然已无法用其消耗的劳动量来衡量其价值量,其价格严重偏离其自身价值,但仍然能够完成商品交换,①③符合题意。使用价值是价值的载体,商品是使用价值和价值的统一体,②错误。④夸大了这些球衣和球鞋的作用,排除。故选C。
13. C 【解析】本题考查国家宏观调控的知识点。根据材料和所学知识可知,发行国债属于财政政策,A排除。材料没有体现居民投资多样化和财政开源节流,B、D与题意无关。发行国债有利于增加财政收入,缓解财政紧张局面,进而增加财政支出,促进经济社会事业发展,C符合题意。
14. B 【解析】本题考查个人收入分配的知识点。根据材料和所学知识可知,经济发展是个人收入提高的根本保障,人均收入增长是贯彻以人民为中心的发展思想的体现,①③正确。扣除价格因素的居民收入实际增长状态无法说明我国面临较大的通胀压力,②错误。居民收入在国民收入中的占比合理有利于经济健康运行,④错误。故选B。
15. A 【解析】本题考查经济又好又快发展的知识点。村社中牧民利用大数据进行科学饲养,提升了为畜牧业生产服务指导的能力,提高了畜牧业质量和效益,①②正确。③④与题意无关。故选A。
16. B 【解析】本题考查基层民主的知识点。根据材料和所学知识可知,多种村民自治形式的探索和推行,能够提升群众性自治组织的凝聚力和战斗力,增强广大村民参与自治的主人翁意识,①②正确。村民自治组织非基层行政机关,③排除。该村做法并没有创新基层自治组织,也没有拓展村民自治职能,④排除。故选B。
17. D 【解析】本题考查人民民主专政的知识点。材料中的规定有利于发挥相关国家机关在网络安全中的作用,营造清朗的网络空间,③④正确。“合并行使”表述错误,①排除。“更大权力”表述错误,②排除。故选D。
18. B 【解析】本题考查我国的民族制度的知识点。根据材料和所学知识可知,在少数民族地区修建高铁有利于贯彻我国的民族政策,也有利于满足少数民族群众对美好生活的需要,①③正确。“赋予……更多的……自治权”表述错误,②排除。材料内容与民族平等和民族团结没有直接关系,④排除。故选B。
19. A 【解析】本题考查文化对人的影响的知识点。根据材料和所学知识可知,加强机关文化墙建设,有利于形成良好的文化教育环境,使机关干部在潜移默化中接受向上的教育,①②正确。文化创新的源泉是社会实践,③错误。④夸大了机关文化墙的作用,排除。故选A。
20. C 【解析】本题考查中华民族精神的知识点。根据材料和所学知识可知,延安精神是对中华民族精神的集中体现和继承发扬,是鼓舞人们奋发向上的强大精神动力,②③正确。判断一种文化进步与否的重要尺度是生产力,①错误。实践是涵养社会主义核心价值观的肥沃土壤,④表述错误。故选C。
21. D 【解析】本题考查唯物论的知识点。漫画旨在讽刺不实事求是,走过场的形式主义和老好人思想,③④符合题意。①②与漫画主旨不符。故选D。
22. C 【解析】本题考查认识论的知识点。根据材料和所学知识可知,人工天河的开凿成功说明通过发挥人的主观能动性,立足实践,人类能够将人脑观念的存在变为现实的存在,②③正确。人可以认识规律,但无法战胜规律,④错误。故选C。

23. A 【解析】本题考查唯物史论的知识点。根据材料和所学知识可知,防疫政策的重大调整属于上层建筑的变化,是社会存在决定社会意识的体现,①②正确。价值观因人而异,③错误。价值选择的标准不能推陈出新,④排除。故选 A。

二、非选择题

38. 【参考答案】经济信息:加入世界贸易组织以来,我国关税总水平呈下降趋势,关税总水平从 2001 年的 15.3% 下降至 2022 年的 7.4%,说明我国推进贸易自由化便利化,扩大对外开放。(4 分)经济考量:提高我国开放型经济发展水平,积极融入世界经济,奉行互利共赢的开放战略。(2 分)支持和帮助最不发达国家加快其经济发展,推动建设开放型世界经济。(2 分)有利于推动经济全球化朝着开放、包容、普惠、平衡、共赢方向发展。(2 分)是构建人类命运共同体的体现。(2 分)让更多国家搭上我国发展快车,同发展中国家共享中国的发展机遇和成果,加快构建国内国际双循环相互促进的新发展格局。(2 分)
39. 【参考答案】①我国是人民民主专政的社会主义国家,党领导人民制定、修改和实施宪法,体现了党的领导、人民当家作主、依法治国有机统一。(2 分)②在党中央的领导下制定、修改和实施宪法,体现了中国共产党领导是中国特色社会主义制度的最大优势。(2 分)宪法制定、修改反映民意,广聚民智,体现了党代表最广大人民根本利益,坚持以人民为中心,在发展全过程人民民主中保障人民权益,增进人民福祉。(3 分)③宪法修正由全国人大审议通过,使党的主张通过法定程序上升为国家意志,体现了人民代表大会制度的优势。(3 分)④宪法是我国的根本大法,宪法的贯彻实施,有利于全面推进依法治国,建设社会主义法治国家,推进国家治理体系和治理能力现代化。(2 分)
40. 【参考答案】(1)①工人能够能动地认识世界。意识活动具有目的性、自觉选择性和主动创造性。人能够能动地改造世界。意识对人体生理活动具有调节和控制作用。(4 分)②推动全社会敬仰英雄、学习英雄,有利于人们不忘历史,开创新未来。(2 分)③正确的意识促进客观事物的发展,要求我们树立正确意识。推动全社会敬仰英雄、学习英雄有利于人们树立正确的历史观和价值观,推动社会的进步和发展。(2 分)④推动全社会敬仰英雄、学习英雄,有利于激发人们爱国热情,提高人们投身国家建设的积极性。(2 分)
- (2)①社会主义核心价值观凝结着全体人民共同的价值追求。爱国、敬业、诚信、友善是公民个人层面的价值准则。(4 分)②推动全社会敬仰英雄、学习英雄,是社会主义核心价值观的内在要求,为培育和践行社会主义核心价值观提供重要载体和精神滋养。(2 分)③推动全社会敬仰英雄、学习英雄,有利于涵养中华民族精神,培养担当民族复兴大任的时代新人。(2 分)④有利于内化于心,外化于行,坚定共产主义理想信念,实现中华民族伟大复兴的中国梦。(2 分)

(3)略

赋分标准

等级	标题	提纲内容	赋分
一等	契合主题,观点鲜明	条理清晰,层次鲜明	6 分
二等	比较契合主题,观点基本符合主题	条理比较清晰,层次比较鲜明	4 分
三等	观点与主题有一定关联度	道理阐述立场正确	2 分

湘豫名校联考 2023年5月高三第三次模拟考试 历史参考答案

题号	24	25	26	27	28	29	30	31	32	33	34	35
答案	C	B	D	A	B	A	C	C	B	B	D	C

一、选择题

24. C **【解析】**本题考查春秋战国时期经济。分析地图可知,战国时期的商业城市多为诸侯国的都城,这说明城市的政治地位影响城市经济发展,C项符合题意。秦国商鞅变法实行重农抑商政策,A项错误;由图片可知,商业城市主要分布在黄河流域,并未有经济发展水平东高西低的状况,B项错误;战国时期货币并不统一,D项错误。
25. B **【解析】**本题考查古代书法艺术。由材料可知,王羲之的草书艺术影响深远,但却遭到唐代书法评论家批评,说其“无丈夫气”,即其不够雄浑大气。东晋偏安一隅,追求文人风韵,而唐朝时期国家统一强大,时代气象豪迈,书法追求法度、规矩,故B项符合题意。A项与材料中“受到唐代……的批评”矛盾;材料并非比较晋唐书法水平的高低,而是评价艺术风格,C项与材料不符;D项与材料主旨不符。
26. D **【解析】**本题考查北宋专制主义中央集权的加强。根据材料中“特别是对武臣的防范”可知,为防止武将形成地方割据势力,北宋派文臣担任地方高级长官,体现出对武官的防范,故D项符合题意。宋朝设置枢密院是为了分割宰相的权力,排除A项;“强干弱枝”是防止地方割据,不仅针对武官,排除B项;地方财政转运都是建立在D项基础上的,排除C项。
27. A **【解析】**本题考查明清时期社会经济风气的演变。由材料可知,明清时期出现大量商业用书,这表明当时社会对此有巨大需求,反映出明清时期社会上经商风气盛行,A项符合题意。重农抑商思想仍是明清时期主流经济思想,B项错误;商业经营理论与商业行为共生,C项“开始”的说法错误;材料中文人学士只是受托为商人编纂书籍,并非两者融通,D项对材料理解错误。
28. B **【解析】**本题考查洋务运动。根据材料并结合所学知识可知,19世纪世界军事变革迅速发展,面对列强的坚船利炮和国内风起云涌的农民起义,洋务派筹划海防、兴建海军,以期维护清王朝的统治,B项符合题意。筹划海防一定程度上有利于海军近代化,但并未改变其落后面貌,A项错误;仅从这些措施不能说明海防思想体系形成,C项错误;刺激民族工业产生发展的是洋务派兴办的民用企业,D项错误。
29. A **【解析】**本题考查马克思主义的传播。由材料可知,五四运动后,作为资产阶级革命派的代表人物,吴玉章认为中国革命“必须依靠下层人民,必须走俄国人的道路”,这体现出当时马克思主义在中国广泛传播,并在多种思潮碰撞中逐渐成为主流,故A项符合题意。吴玉章一个人不能代表整个资产阶级,排除B项;材料没有体现工农武装割据思想,排除C项;材料反映的是中国革命思想潮流的变化,D项与材料主旨不符。
30. C **【解析】**本题考查抗日战争。分析漫画可知,抗战初期,日本上蹿下跳对中国进行侵略,中国被打倒,但最终的结局却是中国坐起来之后,日本被压瘪了,它预示了抗日战争中国必胜和日本必败的总体趋势,C项符合题意。A、B两项都是对漫画的错误解读,排除;D项与漫画主旨不符。
31. C **【解析】**本题考查中美关系。分析表格可知,1972年后,中美贸易额不断增长,这与中苏关系恶化、美苏冷战影响有深刻关系,这些因素促使中美两国改善关系,走向关系正常化,故C项符合题意。中美建交是在1979年,故A项错误;1972年后,两国关系发展并非一帆风顺,直到1979年才正式建交,B项错误;中国改革开放是在1978年以后,D项与表格时间不符。
32. B **【解析】**本题考查古代雅典建筑与民主政治。由材料可知,举办公民大会时,石建
筑,以确保演讲的开放性和实效性,这体现出建筑审美功能与政治功能相结合。不完

历史参考答案 第1页(共3页)

善,A项错误;材料不能得出直接民主的政治理念,C项错误;材料说的是雅典建筑影响了西方近代政治建筑,D项与材料主旨不符。

33. B 【解析】本题考查文艺复兴。由材料可知,伊拉斯谟主张通过培养人才促进社会革新,卡斯底格罗和艾利奥特主张培养能够管理国家的人才,蒙田主张培养忠于国王的臣民和具有新时代特质的人才,三者共同点都重视社会需要,B项符合题意。人文主义思想诞生于古希腊时期,A项说法错误;材料中的思想并不冲突,只是角度不同,排除C项;D项“摆脱”的说法与伊拉斯谟观点相悖。来源:高三答案公众号
34. D 【解析】本题考查工业革命对城市化的影响。由材料可知,工业革命时期,英国城市厕所严重缺乏,卫生状况差,这反映出当时经济得到快速发展而城市管理却跟不上,故D项符合题意。材料并未体现社会各阶层缺乏卫生意识,A项排除;B项不是主要原因;材料说的是城市环境问题,与收入无关,C项错误。
35. C 【解析】本题考查冷战格局。由材料可知,德国实现统一后,经过多次努力,苏联最终同意其加入北约,这加强了西方力量,使苏联居于劣势,故C项符合题意。此时苏联仍然存在,冷战也就并未结束,A项错误;由材料可知,统一后德国仍受大国干预,B项错误;北约不是一个主权国家,D项错误。

二、非选择题:包括必考题和选考题。

(一)必考题

41. 【解析】本题考查中苏两国工业改革。(1)“背景”要从斯大林体制弊端、苏联最高领导人换代、美苏争霸的压力等角度分析。“失败原因”根据材料可知,赫鲁晓夫的改革准备不够充分、未能突破原有体制、削弱中央领导等等导致矛盾丛生,政策反复不定、赫鲁晓夫本人的因素。(2)中国国有企业改革的“特点”,可从借鉴农村改革经验,逐步推进,先试点再推广,激励与监督相结合等角度概括。意义则要从国企本身、整个工业和经济体制改革全局以及增强国力等角度分析。(3)根据材料并结合所学知识可知,影响企业改革成效的因素包括从实际出发,借鉴国际改革经验,中国共产党的伟大正确领导,还有人民群众的支持以及创新精神等,依次概括得分要点。

【参考答案】(1)背景:高度集中的计划体制;苏联轻重工业发展比例严重失衡;苏联领导人换代为改革提供了条件;美苏争霸的外部压力。(6分,任答3点)

原因:缺乏宏观规划;只是对原有体制的修补,未能突破旧体制;改革措施反复不定;赫鲁晓夫个人因素。(4分,任答2点)

(2)特点:借鉴农村改革经验,实行承包制;先试点再推广,逐步推进(或循序渐进);利益激励与国家监管相结合;扩大企业自主权,以增强企业活力为中心;发挥市场作用与国家宏观调控相结合;与时俱进调整改革措施。(6分,任答3答)

意义:提高了企业活力和经济效益;为非公有制企业改革提供借鉴;推动中国工业发展;有利于综合国力增强和人民生活水平提高。(4分,任答2点)

(3)是否能立足国情,实事求是;是否有科学理论的指导;是否有坚强正确的领导;是否有人民群众的广泛支持;是否有健全完善的改革措施。(5分,任答3点)

42. 【解析】本题以“中国古代××制度之我见”为主题,考查提取信息和调动迁移知识论证说明问题的能力。材料中可提炼的信息“任何一制度,绝不能有利无弊”“任何一制度,亦绝不能历久而不变”“何尝不与当时人事相配合”等,然后选取古代史上的制度进行阐释。

【参考答案】示例一 论题:中国古代科举制度之我见。(2分)

阐释:科举制度是我国古代政治制度的重要内容,是古代选官制度的重大创新,在不同历史时期发挥不同作用。隋唐时期,开创并完善通过考试办法选官的科举制度,以后历代沿袭这一制度。科举制度扩大了封建王朝的统治基础,提高了官员文化素质,一定程度上确保了官员选拔的公正公平,是唐朝繁荣的重要制度原因。但到明清时期,科举制度渐趋僵化,考试内容只在四书五经范围内命题,不允许有个人见解,导致所选拔人才创新能力减弱,成为封建王朝的奴仆。也导致中国古代自然科学落后。

(8分)

综上所述可以看出,科举制度建立之初,对封建王朝发展起到重大积极作用,被西方国家所借鉴;但随着历史发展,其弊端逐渐显露,不能适应时代发展需要。(2分)

示例二 论题:北宋地方制度得失之我见。(2分)

阐释:北宋吸取唐末五代教训,为防止地方割据,采取加强中央集权、削弱地方权力的措施。派文官代替武将做知州,并派通判加以牵制;派转运使将地方财政转运至中央;又集中军权于中央,派精锐禁军守卫京师,形成“强干弱枝”。这些措施有效地加强了中央集权,巩固了北宋政权,消除了地方割据。但同时,也造成北宋地方贫弱、冗官冗费冗兵现象、与少数民族政权交战失败居多等。(8分)

综上所述可以看出,北宋的地方制度,虽取得了加强中央集权和实现政治安定的效果,但同时也出现了积贫积弱、不足以抵御外敌的弊端。(2分)

- 45.【解析】本题考查民国时期蔡元培推行的“国民教育方针”,旨在考查调动和迁移知识解决问题的能力。(1)“背景”要从民国教育部的成立、蔡元培本身、当时的社会现实、西方教育理念等角度作答。(2)“简评”结合其内容具体分析即可。

【参考答案】(1)中华民国南京临时政府教育部正式成立;革命党人蔡元培出任首任民国教育总长;社会仍存在着旧的封建教育思想;西方教育理念广泛传播。(6分,任答3点)

(2)有利于受教育者身心和谐发展(或健全人格的形成);有利于近代中国民主政治的发展;有利于国家主权的维护;有利于民族经济的发展;有利于教育近代化(或对以后中国教育产生深刻影响)。(7分,任答3点)但在当时北洋军阀统治之下,难以有效实行。(2分)

- 46.【解析】本题考查越南战争。(1)根据越南战争发生、发展过程中参与的力量分析,可以得出其具有越南人民反抗殖民统治、越南南北方争夺领导权、东西方力量在越南的对抗与争夺等性质。(2)要从越南人民争取独立的斗争、中美关系缓和的影响、中苏对越南的援助、北越政府的自主选择等方面分析。

【参考答案】(1)越南人民反抗侵略的民族解放战争;越南南北方争夺国家统一主导权的内战;两大阵营在越南的意识形态竞争和军事博弈。(6分)

(2)越南人民坚持争取民族独立的斗争;中美关系缓和的影响;中苏对越南劳动党的援助;北越政权坚持独立解决本国事务;美苏冷战形势的变化;美国国内反战情绪。(9分,任答3点)

- 47.【解析】本题考查中国近代思想家陈炽。第(1)问抓住“陈炽12岁中秀才,19岁取为拔贡生,翌年入京朝考,录为一等第四名,授七品京官,签分户部山东清吏司见习。1882年中举,仍在户部任职。自1884年起,曾游历沿海地区及香港、澳门,考察时务,涉猎群籍,尤重西书”等概括作答。第(2)问抓住“感念时变,乃探综古今中外全局,发愤著《庸书》内外百篇”“此书于1893年至1894年间撰成,初刊于1896年,但未刊行前即由翁同龢进呈光绪皇帝御览。1896年,陈炽重译英人斯密德的《富国策》(较早译名),交《时务报》连载,并在此基础上撰写了经济专著《续富国策》”等分析作答。

【参考答案】(1)深受传统文化熏陶,入仕后官位不显;留心经世之学,受西方文明影响较深;了解西方政情,洞悉旧体制弊端。(6分)

(2)民族危机的不断加深;西学东渐的范围扩大;洋务新政与变法维新的逐步推行;陈炽的个人品质和爱国主义精神。(9分,任答3点)

湘豫名校联考 2023年5月高三第三次模拟考试 地理参考答案

题号	1	2	3	4	5	6	7	8	9	10	11
答案	D	B	A	C	B	A	C	C	B	A	D

一、选择题

1. D **【解析】**根据材料可知,道里区、松北区均为哈尔滨的主城区,受城市虹吸效应影响,城区周边的县(市)农村人口会涌入主城区,造成主城区人口数量增加。巴彦县距离哈尔滨较近,当地人口一般涌入哈尔滨市或流出到省外;尚志市虽距离哈尔滨市比较近,但属于哈尔滨的代管市,经济发展水平较高,人口流失没有巴彦县严重。故选D。
2. B **【解析】**根据材料及所学知识分析可知,哈尔滨人口外流情况比较严重,当地气候因素、近些年的经济增长及就业等问题导致大批年轻人外流,从而导致哈尔滨市人口的老龄化程度逐步加深。故选B。
3. A **【解析】**中国开发区第一次创业产生于20世纪70年代末期,处于改革开放初期,该阶段重点关注的是招商引资、基础设施建设、制度架构建立等,旨在集聚要素、奠定未来发展的基础。该时期各地政府试图通过土地开发、吸引投资等方式刺激本地经济增长,故该时期的开发区建设作为获取土地开发收益、吸引投资、改善城市建成环境的工具得到地方政府的青睐,因此该时期土地价格较低。故选A。
4. C **【解析】**根据图示可知,开发区的第三次创业阶段逐渐向新城转型,功能多元化。该阶段,我国开发区产业发展较成熟,逐渐开始承担更多的城市服务功能,甚至转变为新的市辖区。在行政上,开发区管委会逐渐承担更多的社会管理和公共服务功能,如增设社保、教育等部门。故选C。
5. B **【解析】**根据材料可知,我国开发区第一次创业发生于20世纪70年代末期,处于改革开放初期,该阶段待解决的发展问题为生产要素缺乏;第二次创业待解决的发展问题为粗放的外延式发展;第三次创业待解决的发展问题为开发区功能单一,开发区与城市地区相互割裂;第四次创业待解决的发展问题为土地资源紧张,发展空间受限等。故选B。
6. A **【解析】**据图可知,大室山位于本州岛东南部,夏季受东南季风影响,降水丰沛;冬季受西北风影响,降水少。夏秋季节地表植物水分含量大,冬季地表植物干燥;因而夏秋季烧山会造成地表物质难以得到充分利用,且植物不易点燃,故该地举行烧山活动最可能选择冬季(冬季末期)。故选A。
7. C **【解析】**根据材料可知,该植物主要用于包装和养殖,故需该种植物茎秆柔韧性强、耐腐蚀,叶上少刺。由于该植物属于多年生草本植物,故其根系不枯死。故选C。
8. C **【解析】**根据材料可知,大室山地被规划种植用于包装和养殖的多年生草本植物,但该种植区内多杂草和灌木,烧山可将地表的草木全部烧掉,春天时多年生草本植物会重新生长,且更加茂盛,病虫害更少,品质更高,故最初举行烧山活动的主要目的是净化作物生长环境。旅游活动是后期才具有的功能,不属于最初举行烧山活动的目的。故选C。
9. B **【解析】**根据材料并结合所学知识可知,洞内堆积物在形成过程中经历了与当时气候密切相关的风化改造,堆积物中的黏土矿物、元素化学特征能很好地反映沉积时期的气候状态,故对洞内堆积物不同深度进行测年可以研究区域的气候变迁。故选B。
10. A **【解析】**根据材料可知,感仙洞洞内北部无沉积物,南部保存有厚度约0~1m的堆积物,由此可知,洞穴的整体倾斜方向为自北向南。故选A。

11. D 【解析】根据图示可知,洞内底部堆积物为砾石,其成因与本地的渗透和侵蚀无关,是正常的地下河流沉积;洞穴内的堆积物越在下层,形成年代越古老。故选D。

二、非选择题:包括必考题和选考题。

(一)必考题

36. 【参考答案】(1)类型:消亡边界。(2分)依据:板块构造学说认为,岛弧链位于大陆板块与大洋板块消亡边界的大陆板块一侧;(2分)缅甸海西侧岛弧的西侧伴有海沟,海沟位于大陆板块与大洋板块消亡边界的大洋板块一侧。(2分)
- (2)相同点:缅甸海中尺度旋涡夏、冬两季空间集聚分布均呈现“北一中一南”交替分布的特点。(2分)差异:夏季涡旋从北向南呈“气旋涡—反气旋涡—气旋涡”的交替分布;(2分)冬季涡旋从北向南呈“反气旋涡—气旋涡—反气旋涡”的交替分布。(2分)
- (3)差异:旋涡中心表层的水温比周围海水水温低。(2分)原因:夏季缅甸海北部主要的单一中尺度旋涡为气旋涡(在北半球为逆时针旋转);(2分)其中心海水自下而上运动,将下层冷海水带到上层较暖的水中,导致旋涡中心表层的水温比周围海水水温低。(2分)
- (4)地处热带季风气候区,气候湿热;远离大陆,陆地面积小,不易大规模开发;地势崎岖不平,且岛屿面积狭小,地表径流难以保存,淡水资源缺乏;距马六甲海峡较近,扼控亚太与非洲、太平洋及印度洋之间国际航空及海运的战略要冲,战略位置重要,军事防务需要减少居民开发。(每点2分,任答其中三点即可,共6分)
37. 【参考答案】(1)取水方便;利于军事防御,保障城市安全;利于水运交通。(每点2分,共6分)
- (2)赣州古城墙为汉代修建,黄土夯土风化严重,军事防御能力下降;赣州地处亚热带地区,降水多,古城墙依河而建,黄土夯土受降水和河流冲刷影响,抗洪涝能力弱;宋代生产力水平和科技水平提升,青砖制造成本下降,为城墙由黄土夯土改用青砖提供了物质条件。(每点2分,共6分)
- (3)近垂直面设计的城墙易守难攻,且可减少野兽侵害,增加战乱时期城内居民的安全性(2分);近垂直面设计的城墙能有效降低建设工程量,节约建设成本(2分);赣州城墙依河而建,建城空间有限,近垂直面设计城墙比斜坡城墙更节约用地。(2分)
- (4)赣州古城地势南高北低,三面环水,利用地势修建排水系统,可将城市内的雨水排入河流;(2分)高大雄伟的城墙当堤坝,可阻挡河流洪水威胁。(2分)
43. 【参考答案】原因:我国东西部区域差异明显,西部地区的旅游资源丰富,旅游空间很大,对东部游客吸引力强;东部地区经济发达,人口数量多,客源市场广阔;西部景区在营销策略上借助新媒体进行了广泛长期的宣传;疫情期间,中东部广大游客的精神状态相对压抑,旅游意愿强烈;近年来自驾游、房车、露营的火热促使旅游自主化。(每点2分,任答其中三点即可,共6分)
- 问题:景点与景点之间距离远;交通、通讯、住宿等基础设施不完善;服务水平有待提高。(每点2分,任答其中两点即可,共4分)
44. 【参考答案】相对河流而言,湖泊水更新慢,水循环周期长;湖泊承担多重生态任务,改善水质难度大;受气候和人类活动的影响,湖泊自净能力弱;污染物大量冲入湖泊,湖泊污染数量增加快;湖泊流动性差,水体富营养化严重,湖泊生态失衡。(10分)

关于我们

自主选拔在线是致力于提供新高考生涯规划、强基计划、综合评价、三位一体、学科竞赛等政策资讯的升学服务平台。总部坐落于北京，旗下拥有网站（[网址: www.zizzs.com](http://www.zizzs.com)）和微信公众平台等媒体矩阵，用户群体涵盖全国90%以上的重点中学师生及家长，在全国新高考、自主选拔领域首屈一指。

如需第一时间获取相关资讯及备考指南，请关注**自主选拔在线**官方微信号：**zizzsw**。



微信搜一搜

自主选拔在线

