

# 2023 届高三考试 文科综合试题

## 考生注意：

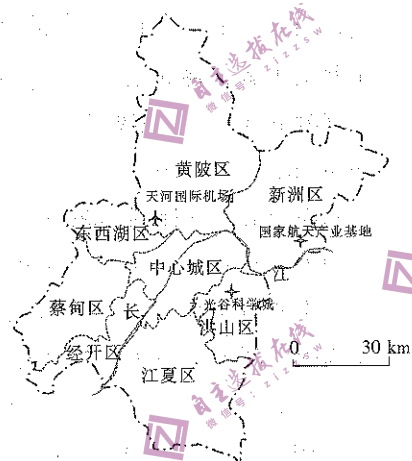
1. 本试卷分第 I 卷(选择题)和第 II 卷(非选择题)两部分,共 300 分。考试时间 150 分钟。
2. 请将各题答案填写在答题卡上。
3. 本试卷主要考试内容:高考全部内容。

## 第 I 卷 (选择题 共 140 分)

本卷共 35 小题,每小题 4 分,共 140 分。在每小题给出的四个选项中,只有一项是符合题目要求的。

2016 年起,武汉锚定商业航天产业,重点布局商业航天产业集群,在新洲区规划建设了武汉国家航天产业基地。2022 年,火箭产业园一期、卫星产业园一期开园。下图示意武汉国家航天产业基地的位置。据此完成 1~2 题。

1. 武汉发展商业航天产业集群,首先最应该
  - A. 增加政府资金补贴
  - B. 完善道路基础设施
  - C. 做好产业发展规划
  - D. 引进国外技术人才
2. 武汉国家航天产业基地建设能显著促进新洲区发展
  - A. 航空物流业
  - B. 先进材料业
  - C. 传统制造业
  - D. 科教旅游业



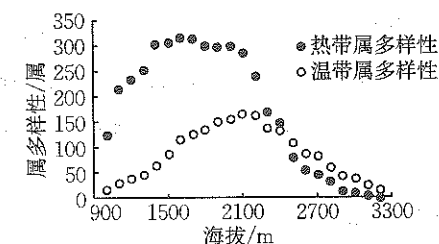
我国城镇居民的人均住房建筑面积已经达到全面小康社会的居住标准,但仍存在结构性失衡的问题。下表示意 2020 年上海、安徽、云南、西藏四个省级行政区城区和镇区人均住房建筑面积。据此完成 3~5 题。

省级行政区	人均住房建筑面积/m <sup>2</sup>	
	城区	镇区
甲	37.70	42.27
乙	41.08	43.85
丙	30.58	35.76
丁	51.33	44.83

3. 代表上海市人均住房建筑面积的是
  - A. 甲
  - B. 乙
  - C. 丙
  - D. 丁


4. 甲、乙、丙各自城区和镇区人均住房建筑面积的差异主要取决于两者的
  - A. 环境差异
  - B. 地价差异
  - C. 产业差异
  - D. 基础设施差异
5. 为进一步改善我国城镇居民住房条件,建议
  - ①加大城区豪宅建设比重
  - ②完善城区租赁住房保障体系
  - ③限制镇区人均建筑面积
  - ④改善镇区住房配套设施
  - A. ①③
  - B. ①④
  - C. ②③
  - D. ②④

下图示意我国某山热带、温带属的植物多样性随海拔梯度的变化。该山位于连绵的山脉中,受人类活动影响较小。据此完成 6~8 题。



6. 限制该山山麓植被多样性的主要因素可能是
  - A. 热量
  - B. 坡向
  - C. 坡度
  - D. 水分
7. 海拔 2100 m 附近,热带属多样性随海拔上升而急剧降低,主要是因为该高度范围处
  - ①土壤养分分解快
  - ②种间竞争激烈
  - ③生长期缩短
  - ④光照条件不足
  - A. ①②
  - B. ①④
  - C. ②③
  - D. ③④
8. 该山最可能位于
  - A. 云南
  - B. 海南
  - C. 四川
  - D. 青海

雾凇是空气中的水汽直接凝华,或过冷的雾滴直接冻结在物体上形成的乳白色冰晶物。2023 年 2 月 15 日,山西省北部的左权县出现大规模雾凇,平原地区雾凇规模大于山区。据此完成 9~11 题。



9. 本次雾凇最可能出现在
  - A. 冷锋过境前
  - B. 冷锋过境后
  - C. 气旋稳定控制时
  - D. 暖锋过境时
10. 与邻近的高山地区相比,左权县平原地区本次雾凇规模更大,主要是因为平原地区
  - A. 气温较低
  - B. 温差更小
  - C. 风速较小
  - D. 水汽更足

11. 本次雾凇过后
- A. 空气湿度减小  
B. 大气逆辐射减弱  
C. 地面积雪增加  
D. 空气污染减轻
12. 《“十四五”现代物流发展规划》提出,加强产销冷链集配中心建设,加强产地预冷、仓储保鲜等产地冷链物流设施建设,提高产地农产品产后集散和商品化处理效率,完善销地城市冷链物流系统。上述举措意在
- ①增加农产品市场供给以稳定市场  
②缓解农产品集中上市带来的滞销问题  
③规范农产品物流市场的运行秩序  
④补齐农村物流发展短板,促进农民增收
- A. ①②  
B. ①③  
C. ②④  
D. ③④
13. 2022年,广大民营企业积极参与“万企兴万村”行动及公益慈善事业。截至2023年2月14日,A股民营上市公司数量为3233家,占上市公司总数的比例超60%。从行业来看,机械设备、医药生物和电子行业公司占比较多。下列对材料解读正确的是
- ①民营经济已经成为我国国民经济的主体  
②民营经济是社会主义经济的重要组成部分  
③民营经济担当着促进共同富裕的社会责任  
④促进高质量发展应充分释放民营经济活力
- A. ①②  
B. ①③  
C. ②④  
D. ③④
14. 2022年11月,财政部、海关总署等部门发布第三批适用增值税优惠政策的抗癌药品和罕见病药品清单,包括51个抗癌药品制剂和原料药、20个罕见病药品制剂和原料药。对清单中的药品,国内环节可选择按3%简易办法计征增值税,进口环节减按3%征收增值税。这表明
- ①紧缩性财政政策有助于减轻企业负担  
②人民性是我国社会主义财政的本质属性  
③筹集财政收入是我国税收的主要职能  
④我国发挥税收调节制药产业发展的作用
- A. ①③  
B. ①④  
C. ②③  
D. ②④
15. 优化商场工程建设审批手续,加大电子证照推广应用力度,推动实现企业“想进进得来”,推动实现“有事管住,无事不扰”……北京市发展改革委、北京市商务局联合印发《清理隐性壁垒优化消费营商环境实施方案》,聚焦餐饮、连锁超市和便利店新消费品牌孵化八个业态,提出51项改革任务打通痛点堵点。推行上述改革的正确传导路径是
- ①助力扩大内需  
②改善居民消费环境  
③实施科学宏观调控  
④提振居民消费意愿  
⑤降低产品准入门槛  
⑥增强居民消费能力
- A. ②→④→⑥→①  
B. ③→②→④→①  
C. ③→②→④→⑥  
D. ③→⑤→④→②

16. 2023年2月28日,中共中央就党和国家机构改革方案、中共中央拟向十四届全国人大一次会议推荐的国家机构领导人员人选建议名单和拟向全国政协十四届一次会议推荐的全国政协领导人员人选建议名单,向各民主党派中央、全国工商联和无党派人士代表通报情况,听取意见。由此可见
- ①友好协商是多党合作的首要前提  
②中国共产党与各民主党派通力合作  
③人民政协积极履行民主监督的职能  
④协商民主是实现党的领导的重要方式
- A. ①②  
B. ①③  
C. ②④  
D. ③④
17. 2022年10月,国务院办公厅印发的《全国一体化政务大数据体系建设指南》指出,加强政务数据供需对接,优化审批流程,精简审批材料,及时响应数据共享需求,非因法定事由不得拒绝其他单位因依法履职提出的数据共享需求。可见,建设全国一体化政务大数据体系有利于
- ①加强数据汇聚融合,提高政府服务效能  
②促进数据平台建设,主动接受社会监督  
③推动数据互联互通,切实转变政府职能  
④营造良好数字生态,统配行政执法职能
- A. ①③  
B. ①④  
C. ②③  
D. ②④
18. 2022年11月1日和3日,联合国大会裁军与国际安全委员会(联大一委)先后表决通过“防止外空军备竞赛的进一步切实措施”“不首先在外空放置武器”“从国际安全角度看信息和电信领域的发展”三项决议,其中均写入了中国提出的人类命运共同体理念。这是人类命运共同体理念连续六年被写入联大一委决议。这说明
- ①人类命运共同体理念凝聚广泛共识,顺应时代潮流  
②和平与发展将会成为相当长时期内国际斗争的焦点  
③人类命运休戚与共,各国要努力消除彼此利益分歧  
④我国是维护世界和平与稳定的积极因素和坚定力量
- A. ①②  
B. ①④  
C. ②③  
D. ③④
19. 《诗画中国》《一饌千年》等文化类节目规避了一味追求“完整再现”传统文化和艺术、却易显得“陈旧冗长”的刻板做法,将传统艺术和文化的精华进行“点状”萃取,通过故事化叙事、视听化奇观、情感化激发,实现了符合当代人认知习惯、行为方式、审美要求、价值标准的“转换”。这表明
- ①不同文化的交流与借鉴能推动民族文化的繁荣  
②坚持古为今用才能有效发挥传统文化的当代价值  
③创新是优秀传统文化富有生机和活力的重要保证  
④优秀传统文化只有满足人民需要才有强大的生命力
- A. ①②  
B. ①③  
C. ②④  
D. ③④
20. 周末去各大博物馆打卡,或者到图书馆、书店感受书香;下班后参与社区组织的文艺活动,享受艺术文化带来的幸福感……蓬勃发展的公共文化事业,正在不断丰富人民群众的精神生活,持续提升城市文明程度和市民文化素养。由此可见
- ①培育和践行社会主义核心价值观旨在内化于心

- ②优秀文化为人的健康成长提供不可缺少的精神食粮
- ③不同的文化环境会影响人们认识事物的深度和广度
- ④文化氛围在潜移默化中对人的思想和行为产生影响

A. ①②                      B. ①③                      C. ②④                      D. ③④

21. “一定要算大账、算长远账、算整体账、算综合账。”说到生态，习近平总书记多次强调一个词——国之大者。坚持国之大者要

- ①用综合的思维方式认识事物，实现整体的最优目标
- ②把握联系多样性，处理好眼前联系和长远联系的关系
- ③立足整体，通过系统优化搭建新的自在事物的联系
- ④转变封闭观念，实现系统中各个要素功能的最大化

A. ①②                      B. ①③                      C. ②④                      D. ③④

22. 漫画《“放大与缩小”》给人们的哲学启示是



- A. 要着重抓住事物的主要矛盾
- B. 要坚持两点论与重点论相统一
- C. 要对具体问题具体分析
- D. 敢于承认矛盾才能有效解决矛盾

23. 党的二十大报告提出，我们在幼有所育、学有所教、劳有所得、病有所医、老有所养、住有所居、弱有所扶上持续用力，建成世界上规模最大的教育体系、社会保障体系、医疗卫生体系，人民群众获得感、幸福感、安全感更加充实、更有保障、更可持续，共同富裕取得新成效。这体现了党

- ①切实坚持群众观点和群众路线
- ②跨越历史条件维护人民的利益
- ③充分发挥人民群众的创造作用
- ④自觉站在最广大人民的立场上

A. ①②                      B. ①④                      C. ②③                      D. ③④

24. 孟子说，尧禅让于舜是因为“尧荐舜于天而天受之，暴之于民而民受之”，商汤“无敌于天下”是因为“民之望之，若大旱之望雨也”。这反映出孟子

- A. 强调天人感应的政治理念
- B. 认为民意是君主权力的来源
- C. 深受远古神话传说的影响
- D. 确立了政治评价的唯一标准

25. 汉代土地所有权变更的登记程序是国家法制的强制措施。张家山汉简《二年律令·户律》规定：“贾卖田宅，乡部、田啬夫、吏留弗为定籍，盈一日，罚金各二两。”汉朝这一规定意在

- A. 促进经济的恢复
- B. 抑制土地兼并现象
- C. 禁止农民的迁徙
- D. 保证政府财政收入

26. 宋徽宗在位时颁布的《诸路监司互察法》规定，诸司若有违法不公行为，要互相举报，不仅诸司之间要互相举报，诸司属官与长官之间也要互相举报。这一举措

- A. 完善了宋代监察制度
- B. 维护了皇权独尊地位
- C. 强化了对地方的管控
- D. 杜绝了官员政治腐败

27. 下表所示为 1775~1824 年英国东印度公司输华毛织品价值数据(单位:两)。据此可知,这一时期的中国

时间	1775~1779 年	1780~1784 年	1785~1794 年	1795~1799 年	1817~1819 年	1820~1824 年
价值	27 767	378 696	1 586 662	1 556 419	1 951 267	2 042 102

- A. 保持了与世界市场的联系
- B. 沦为英国商品的倾销市场
- C. 传统经济已失去了竞争力
- D. 政府有条件地开放“海禁”

28. 鸦片战争以后，浙西地价降低，“眼看着土地要被一些有钱的人收买了去”；安徽“富户不为商贾，有余资则占田招客户耕种”；陕西米脂杨家沟马家虽开设了很多放高利贷的“铺子”，但赚钱后却收买广阔田地，发展为当时的大地主。这一现象

- A. 表明传统经济日益衰退
- B. 反映了社会观念的变化
- C. 加剧了乡村社会封建性
- D. 体现了金融业的发展

29. 近代国学大师刘师培编纂《中国民约精义》，内援黄宗羲《明夷待访录》，外证卢梭之《民约论》；孙中山给自己的同志和日本友人赠送条幅，写得最多的就是黄宗羲的《原君》与《原臣》。黄宗羲思想受到近代进步人士推崇的主要原因是其

- A. 是近代民主思想的先驱
- B. 民本思想契合近代民权主张
- C. 力图推翻封建君主制度
- D. 借鉴和吸收了西方政治学说

30. 下表为 1941 年晋西北敌后抗日根据地所辖兴县、朔县、河曲、保德等 9 个单位村选代表及主任阶级属性构成统计表。这一构成反映了当时

代表成分	中农	贫农	雇农	工人与商人	地主	富农	其他
比例	41%	21%	4.6%	2.5%	10.5%	3.6%	16.8%

- A. 抗日民主政权的巩固
- B. 国共合作基础扩大
- C. 统一战线政策的调整
- D. 苏维埃政府的特性

31. 据统计,1978 年至 1993 年,中央财政支出由 1122.09 亿元增加至 4642.20 亿元,15 年间增加了 3.1 倍,年均增加 9.93%;而财政收入占 GDP 的比重则由 1978 年的 31.1%,相继减少到 1980 年的 25.5%,1985 年的 22.2%,1993 年的 22%。据此可知,这一时期

- A. 经济体制问题急需解决
- B. 中央财政收入呈减少趋势
- C. 市场经济体制逐步建立
- D. 政府优化经济发展的环境


32. 公元 1 世纪前后,古罗马设立的外事裁判官,根据诚信标准处理罗马市民与外来人及外来人相互间的权利与义务关系。他们在其职责范围内通过发布告示的形式,创造新的诉讼形式或将旧的诉讼形式扩展以适用于新的案例。外事裁判官的这些做法

- A. 扩大了共和国的统治基础
- B. 提升了国家的治理能力
- C. 限制了贵族对权力的垄断
- D. 体现了罗马法简洁实用

33. 据统计,1792年,西班牙向美洲殖民地输出的商品总值为2147万比索,其中在西班牙本国生产的商品值为1115万比索,而其他国家生产的商品值则为1032万比索。对这一现象解读合理的是,当时的西班牙

- A. 商品输出日益减少  
B. 殖民体系日益瓦解  
C. 生产关系变革缓慢  
D. 资金来源比较匮乏

34. 20世纪,意大利画家马格里特所画的《监听室》《生日》《角斗士之墓》这三幅造型、主题同一的画中,作为“自然界要素”的苹果、巨石和玫瑰均以巨大形态占满了幽闭的房间,所构成的映像似与标题无关,令人揣测。与这些作品风格类似的画作是



35. 1994年,第13次北约首脑会议批准了“和平伙伴关系”计划。根据这一计划,所有中东欧国家都可在自愿的基础上与北约建立和平伙伴关系。此后,一些未加入北约的东欧国家先后同北约签署了和平伙伴关系协定。这说明

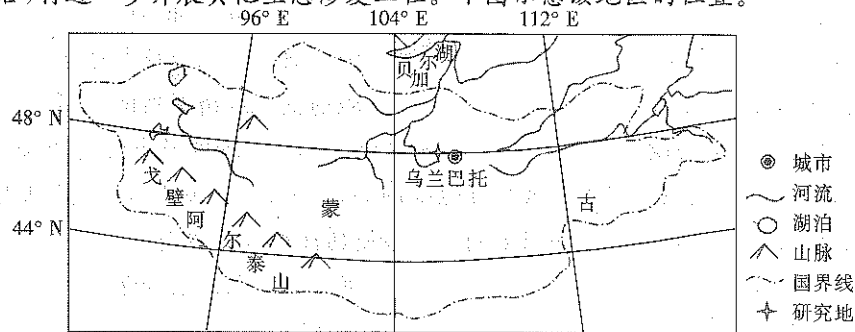
- A. 两极对峙的局面日趋激化  
B. 国际关系中的冷战思维依然存在  
C. 北约试图主导欧洲的发展  
D. 冷战后欧洲的社会局势更加动荡

## 第II卷 (非选择题 共160分)

本卷包括必考题和选考题两部分。第36题~第42题为必考题,每个试题考生都必须作答。第43题~第47题为选考题,考生根据要求作答。

36. 阅读图文材料,完成下列要求。(22分)

蒙古高原某地位于乌兰巴托以西60 km,海拔1263 m,年平均气温和平均年降水量分别为0.5℃和240 mm,曾经为水草丰美的天然草原。为满足乌兰巴托的粮食需求,该地于1978年被开辟成农田,连续种植小麦和大麦,每季收获后进行翻耕,种植过程中时常施用化肥。1989年农田因土壤退化,产量大幅降低,逐渐被弃耕。农田弃耕后,该地区天然植被恢复缓慢。2016年,某团队在该地通过施肥的方式修复土壤,施肥后原本的草类并未恢复,但杂草覆盖率大幅提高。该团队认为提高杂草覆盖率也具备较高的生态意义,待表层土壤性状稳定后,将进一步开展其他生态修复工程。下图示意该地区的位置。



(1)简述该地区小麦和大麦的种植导致农田土壤退化的原因。(8分)

(2)农田弃耕后,该地区天然植被恢复缓慢,试说明原因。(4分)

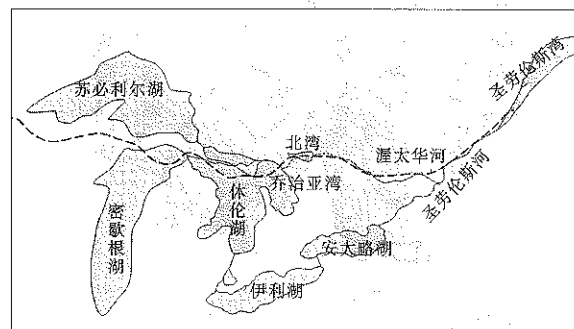
(3)分析该地区土壤施肥后杂草覆盖率提高的生态意义。(6分)

(4)当表层土壤性状稳定后,当地将进一步开展生态修复工程,试在以下两个措施中任选一种,分析其作用。(4分)

措施①:种植本地草种 措施②:外围营造灌丛

37. 阅读图文材料,完成下列要求。(24分)

大陆冰盖的变化对区域地貌与水系具有重要影响,通常冰盖消融会导致地壳承压降低,从而出现反弹倾向。距今15500年,北美大陆的劳伦冰盖开始自南向北消融,休伦湖逐渐形成、扩张。距今约11000年,休伦湖开始通过乔治亚湾、北湾向渥太华河泄水。距今10000年~7500年,休伦湖水位下降,乔治亚湾与休伦湖隔离,湖水转而向南外泄,流向伊利湖。距今约5000年,休伦湖水位再次达到高峰,但仍未能通过北湾泄入渥太华河。目前,休伦湖面积较为稳定。下图示意休伦湖及周边水系。



----- 距今12000年劳伦冰盖南界

(1)分析劳伦冰盖融化导致休伦湖先扩张后萎缩的原因。(8分)

(2)说明与休伦湖隔离后乔治亚湾水文特征的变化。(6分)

(3)距今约5000年,休伦湖水位再次达到高峰,但仍未能通过北湾泄入渥太华河,对此做出合理解释。(6分)

(4)简述现阶段休伦湖面积较为稳定的原因。(4分)

38. 阅读材料,完成下列要求。(14分)

当前,我国拥有41个工业大类、207个工业中类、666个工业小类,是全世界唯一拥有联合国产业分类中全部工业门类的国家;500种主要工业产品中,我国有四成以上产品产量位居世界第一;布局建设了18家国家制造业创新中心,培育了45个国家先进制造业集群。

每当国际市场上一些产品出现供给短缺时,中国制造总能及时“补位”。卡塔尔世界杯上,从既省电又能减少碳排放的空调到新能源客车,从运动员公寓到球场通信设施及联合指挥控制中心的网络设备,中国“智造”如同满天繁星。在浙江慈溪,生产一台取暖器可以“就地取材”,小到一枚开关,大到一个暖气片,都能在本地找到货源。2022年底发生的欧洲能源危机使中国制造的取暖设备迅速成为抢手货……

结合材料,运用经济生活知识,分析中国制造在国际市场上总能及时“补位”的原因。

## 39. 阅读材料,完成下列要求。(12分)

近年来,A市坚持以党建“绣花针”串起基层治理“千条线”。深化网格和党组织“双筛查、双优化”,推动网格党组织应建尽建。以城乡社区为基本单元,配强党建与网格治理工作力量,推动党员干部“心至”基层。由社区党组织成员或党员骨干担任综合网格党支部书记并兼任网格长,结合“无职党员设岗定责”和“在职党员进社区”,为每个综合网格配备党员兼职网格员,形成“网格长+专职网格员、党员兼职网格员、微网格联络员+网格志愿者”的“1+3+N”网格力量体系。建立问题“发现、研办、解决、反馈”闭环工作机制,广泛听取群众意见,找准群众所思所忧所盼,办好群众身边的小事实事。

结合材料,运用政治生活知识,说明A市是如何提升城市基层治理能力的。

## 40. 阅读材料,完成下列要求。(26分)

党的二十大报告深刻总结了中国式现代化在长期革命和建设探索中走出的成功道路、形成的鲜明特色、积累的宝贵经验,明确提出“以中国式现代化全面推进中华民族伟大复兴”的使命任务。

中国式现代化是对5000多年中华文明传承和发展的结果,既有各国现代化的共同特征,更有基于中国国情的鲜明特色。其中,亲仁善邻、协和万邦是中华文明一贯的处世之道,惠民利民、安民富民是中华文明鲜明的价值导向,革故鼎新、与时俱进是中华文明永恒的精神气质,道法自然、天人合一是中国文明内在的生存理念。中国人民崇尚“和而不同”“兼容并蓄”,中国式现代化是在开放包容中形成的,是能够有效解决人类社会发 展问题的宝贵成果,超越了西方固有的单一线性、渐次发展的现代化模式,展现了不同于西方现代化模式的新图景,描绘出和衷共济、天下大同的人类文明新图景,是一种全新的人类文明形态。中国式现代化蕴含的独特世界观、价值观、历史观、文明观、民主观、生态观等及其伟大实践,是对世界现代化理论和实践的重大创新,为广大发展中国家独立自主迈向现代化树立了典范,为其提供了全新选择。

(1)有人认为,中国式现代化为广大发展中国家提供了可借鉴可复制的中国方案。结合材料并运用真理的特点的相关知识对此观点加以评析。(12分)

(2)结合材料,运用文化生活知识,说明中国式现代化的成功之处对建设社会主义文化强国的启示。(10分)

(3)某校拟开展“以青春之力,奋进中国式现代化”主题活动,请列出活动形式及目的。(4分)

## 41. 阅读材料,完成下列要求。(25分)

材料一

王阳明在巡抚南赣、汀漳和治理广西思田时,进行了一系列基层治理实践。针对南赣等地严重的自然灾害,他上疏请求减免税粮和缩减军费开支。1520年,在平定地方叛乱和盗贼后,他制定了《南赣乡约》,“以协和尔民,自今凡尔同约之民,皆宜孝尔父母,敬尔兄长”,“息讼罢争,讲信修睦,务为良善之民,共成仁厚之俗”。王阳明亲自创建、督修一些书院以作为讲学之所,并令各县建立社学,选任“学术明正,行止端方者”为师,用儒家孝悌忠信思想,开闡民智。同时,他督促基层官员亲自处理军需的粮草与赋役,廉洁奉公,“敢有抗违生事惊

扰地方者,就便拿解赴官,治以军法”。王阳明礼法刑政兼施,建立起了一套基层社会治理体系,这为当今基层社会治理提供了历史借鉴和启示。

——摘编自任健《王阳明基层社会治理思想之特质及其启示》

材料二

中世纪晚期以来,英国人民在乡里中就知其义务与责任,所以地方自治观念就是在这个时代养成的。因此,英国被誉为“地方自治之家”。“地方自治为民权主义之根源,后受产业革命与民族革命之刺激,其范围愈趋发展”,“唯地方自治之发展,与民权主义之发展,其经过相同,并非一帆风顺,毫无波折”。19世纪30年代《济贫法》的修订、《都市团体法》的颁布和实施,使地方自治组织的范围更加扩大。由原来选出的贵族及大地主名誉职自治员向由法定的、选举的和有给职自治职员转变,各级议员的社会基础更加广泛。英国近代地方自治制度得以普遍确立并臻于完善。

——摘编自陈红《近代中国对英国地方自治的认识》

(1)根据材料一并结合所学知识,概括王阳明的基层治理实践及其意义。(9分)

(2)根据材料二并结合所学知识,归纳近代英国地方自治的基本特点并分析其形成的原因。(12分)

(3)根据材料一、二并结合所学知识,谈谈你对基层治理的看法。(4分)

## 42. 阅读材料,完成下列要求。(12分)

材料

依据毛泽东在党的七届二中全会上的报告和《共同纲领》的规定可知,新中国成立初期的一个重要任务,就是恢复、发展包括工业在内的国民经济。当时实现这个任务具有基本的有利条件(如建立了人民民主专政和社会主义国有经济等),但也存在诸多严重困难(如进行抗美援朝战争,工业和基础产业落后及城乡市场甚为萧条等)。然而,在短短的三年时间内,党和国家以城乡的生产事业的恢复和发展为“中心任务”,治理社会经济环境,加强廉政建设,完成了恢复包括工业在内的国民经济任务,并在此期间积累了许多对当前经济建设依然有现实意义的经验。

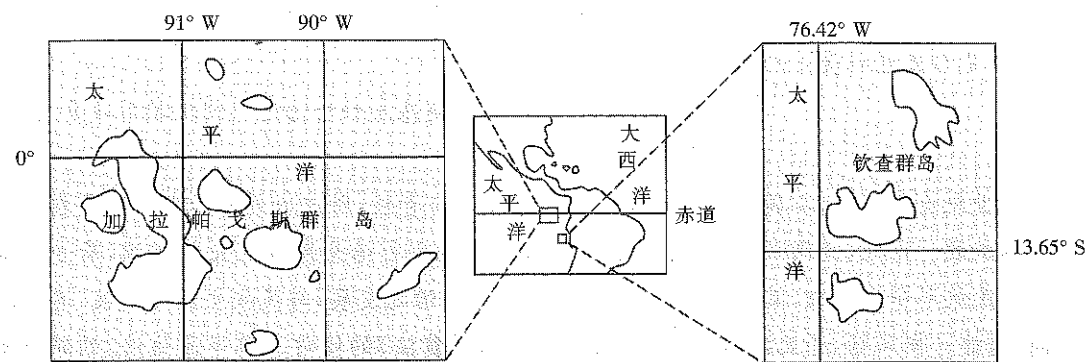
——摘编自汪海波《国民经济恢复时期恢复、发展工业的基本经验》

根据材料并结合所学知识,围绕“国民经济恢复时期的基本经验(认识)”自拟一个具体论题,并予以阐述。(要求:论题明确,史论结合,逻辑清晰,表述完整。)

请考生从2道地理选考题、3道历史选考题中每科任选一题作答。如果多做,则每科按所做的第一题计分。

## 43. [地理——选修3:旅游地理](10分)

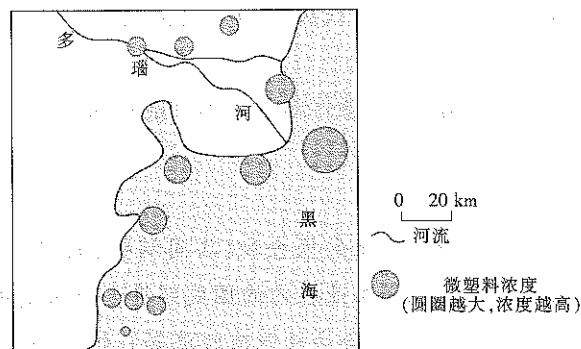
加拉帕戈斯群岛地处赤道附近,具备极高的生物多样性,是达尔文提出著名的进化论的地方。1976年该地入选世界自然遗产名录,当地多大型度假村,来自欧美发达地区的游客众多。钦查群岛被称为“穷人的加拉帕戈斯”,亦有较为丰富的野生动物,主要吸引秘鲁本国游客。下图示意加拉帕戈斯群岛和钦查群岛的位置。



与加拉帕戈斯群岛相比,分析前往钦查群岛旅游的优势,并简述钦查群岛主要吸引秘鲁本国游客的原因。

44. [地理——选修6:环境保护](10分)

微塑料是粒径小于5 mm的塑料碎片和颗粒,其对环境的破坏性不容小觑。下图示意多瑙河入海口附近及河口外的海域微塑料浓度分布。



描述图示采样点微塑料浓度的空间分布特征,并说明成因。

45. [历史——选修1:历史上重大改革回眸](15分)

材料

1900年前,东北地区的教育发展水平较全国其他省份略低。自清政府实行新政后,东北的教育改革也随之展开。1906年,奉天与吉林相继设立提学使司统管两省教育行政,谋振兴学校之策。奉天省城率先设两等小学堂,“为各地之模范”;随即又陆续开设师范简易科、传习所,缩短毕业期限,满足急缺之师资;在新式学堂内部,创设与普及民族教育,以培养精通民族语言的人才,加强各民族之间的联系与认同。此外,改革还包括教育机构、行政管理、学制、经费筹集等,其中教育经费的筹措以及师资人才的扩充,保证了基础教育在当地的建立与运行。至1911年,奉天有9所中学,各类学校总数已有2700多所,学生总数有106000多人。吉林有高等小学9所;初等小学106所;女学堂3所。黑龙江仅普通学校数量就达278所,学生数为17000人。

——摘编自张晓明《论清末“新政”中的东北教育改革》

(1)根据材料,概括清末东北教育改革的特点。(6分)

(2)根据材料并结合所学知识,说明清末东北教育的意义。(9分)

46. [历史——选修3:20世纪的战争与和平](15分)

材料

在雅尔塔会议上,美、英、苏三国以自己的实力为后盾,以追求本国的利益为主要目的,展开了激烈的明争暗斗。德国是欧洲的心脏地区,战后谁想掌握欧洲,谁就必须控制德国,因此,如何处置德国,成为雅尔塔会议上争论的重点。经反复协商,斯大林才同意对波兰现行的临时政府进行改组,在苏联红军未撤出波兰的情况下,这种改组的结果势必有利于产生一个与苏联友好的新政府。中国在远东有着重要的战略地位,是美、苏力量平衡杆上的重要政治筹码,实际上是谁主宰了中国,谁就占有了远东。雅尔塔会议后形成的所谓雅尔塔体系,即由美、苏两大国安排战后世界,为战后的国际政治格局奠定了基调,也为战后美、苏两个超级大国争夺世界霸权开了先河。

——摘编自黄世相《浅谈雅尔塔会议对战后初期国际政治格局形成的影响》

(1)根据材料并结合所学知识,归纳雅尔塔会议讨论的主要内容。(6分)

(2)根据材料并结合所学知识,简述雅尔塔会议的影响。(9分)

47. [历史——选修4:中外历史人物评说](15分)

材料

裴文中(1904—1982),著名史前考古学家,中国旧石器考古学的奠基人。1921年,裴文中进入北大学习后,大量阅读反映新思想的书籍;1926年,参加了北大共产党组织的地下小组活动。1930年,裴文中发现了第一个中国猿人完整的头盖骨。留法期间,他完成了题为《史前人类使用的硬岩石的破碎和成型中自然现象的作用》的博士论文,获得巴黎大学理学哲学博士学位。新中国成立初期,裴文中担任文化部首任博物馆处处长,他以行政领导和学者的双重身份,领导了当时全国的考古工作。在裴文中担任班主任的考古人员训练班中,共培训了336人,他们中大多数人成为我国考古事业发展的业务骨干。1989年,为纪念第一个中国猿人头盖骨发现60周年,各学术单位集资建造裴文中铜像,并将其陈放于北京自然博物馆内。

——摘编自张森水《裴文中传略与浅析》

(1)根据材料,概括裴文中在考古领域的贡献。(6分)

(2)根据材料并结合所学知识,简析裴文中取得贡献的原因。(9分)