

## 2022-2023学年度第二学期高三年级质量监测（一）

### 思想政治学科试卷

#### 第I卷

1、“代替那存在着阶级和阶级对立的资产阶级旧社会的，将是这样一个联合体，在那里，每个人的自由发展是一切人的自由发展的条件……”在《共产党宣言》的翻译过程中，陈望道品味到了不可言喻的信仰之甜。这份信仰之甜在于《共产党宣言》

- A. 使人类摆脱蒙昧迈进文明时代的门槛
- B. 阐述了未来共产主义社会的理想目标
- C. 从根本上改变了中国社会的发展方向
- D. 对共产党执政规律的认识达到新高度

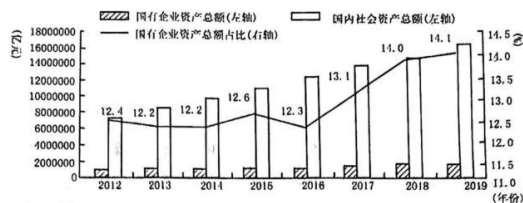
2. 中国式现代化，打破了“现代化=西方化”的迷思，展现了现代化的另一幅图景，开辟了一条属于中国但又具有世界意义的现代化道路，创造了全新的人类文明形态。由此可见，中国式现代化

- ①拓展了广大发展中国家走向现代化的途径
- ②遵循了生产力一定要适应生产关系的规律
- ③体现了人类社会历史进程的统一性和多样性
- ④是实现两个百年奋斗目标的路线图和方法论

- A. ①③                      B. ①④                      C. ②④                      D. ③④

3. 下图为2012-2019年国有企业资产总额占国内社会资产总额的比例变化情况。

根据图中信息，可以看出



资料来源：《中国国有经济报告（2021）》，社会科学文献出版社，2021年版

- ①国有经济在国民经济中居主体地位，控制力逐渐增强
- ②公有资产总额在国内社会资产总额中的优势不断扩大
- ③国有企业资产总额稳步提高，国有经济发挥主导作用
- ④国有企业资产总额在国内社会总资产中占比波动上升

- A. ①②                      B. ①④                      C. ②③                      D. ③④

4. 天津某区开发涵盖社区保安、卫生保洁等在内的多个公益性岗位，按照不低于本地小时最低工资标准发放岗位补贴，对“零就业家庭”、“4050”等各类就业困难人员实现动态管理、兜底安置。设置公益性岗位旨在

- A. 积极运用货币政策，落实好保就业目标
- B. 创新社会优抚方式，满足群众保障诉求
- C. 采取以工代赈方式，增加群众收入来源
- D. 发挥初次分配调节作用，兜住民生底线

5. 下面两张照片记录了中国历史上两次深刻的社会变革。虽然发生的国际背景不同、具体国情不同、党的政策不同，但二者之间却有许多相似性和相关性，表现在



- ①两次变革推动我国取得了全面建成小康社会的胜利
  - ②两次变革都推动了社会主义制度的确立和自我完善
  - ③社会主义改造胜利为完成农村改革奠定了坚实基础
  - ④两次变革都是在党领导下进行的社会主义实践探索
- A. ①②                      B. ①③                      C. ②④                      D. ③④
6. 全国人大常委会审议通过新修订的《中华人民共和国妇女权益保障法》于2023年1月1日起实施。新时代，新法呈现新亮点：将男女平等确定为国家的基本国策；新增消除就业性别歧视的一般规定等。这表明
- ①全国人大常委会行使了审议权
  - ②我国公民在法律面前一律平等
  - ③修订法律是维护公平正义的最后防线
  - ④依法治国同改革开放不断深化相适应
- A. ①②                      B. ①④                      C. ②④                      D. ③④
7. 天津某社区以党员为骨干，吸取社区业委会、物业公司、居民代表等共同参与议事协商活动，建立起“居民的事居民办”的社区治理新模式，有效破解了社区停车难、环境脏乱差等一系列问题。该社区的做法
- A. 是人民群众直接行使民主权利的生动实践
  - B. 发挥党员的先锋模范作用，积极参政议政
  - C. 创新自治组织形式，增强人民群众幸福感
  - D. 扩大居民参与民主管理的权利，提升效率
8. 针对主观恶意不大、社会影响不大的轻微违法行为，某区公安分局贯彻包容审慎、教育与处罚相结合的执法理念，制定出台“首违不罚”实施办法。推行首违不罚旨在
- A. 合理设定权力与责任，规范权力运行
  - B. 改进执法方式，实现执法效果最大化
  - C. 赋予执法人员自由裁量权，实现善政
  - D. 坚持人民司法为人民，维护人民权益
9. 五年前，津南区八里湾到处是散乱的小厂房、散发异味的河沟。经过五年整改，现如今稻浪起伏、绿

树成荫，为京津冀区域的生态筑起一道坚固屏障。绿色生态屏障的建成折射出人们

- A. 秉承绿色生态理念，发挥意识的决定作用
- B. 在尊重客观规律基础上努力改造生态环境
- C. 保护生态环境的活动受到客观条件的制约
- D. 把握事物发展规律，预见生态变化的趋势

10. 右侧漫画给我们的人生启迪是

- A. 应该用科学的理论武装头脑、指导实践
- B. 要善于抓住机遇，才能赢得主动与优势
- C. 对未来充满信心，勇于面对挫折和考验
- D. 幸福人生需要锤炼品格，打牢道德根基




11. 在2022年世界技能大赛中，中国选手马宏达苦练技艺、精益求精，用实际行动彰显了为国争光的热血担当，获得抹灰与隔墙系统项目金牌。这启示青年要

- ①坚持开拓创新，在实践中认识和发现真理
- ②自觉站在人民的立场上，坚持价值观的指引
- ③弘扬劳动精神，在与社会的统一中实现价值
- ④充分发挥主观能动性，在顽强拼搏中增长才干

- A. ①③
- B. ①④
- C. ②③
- D. ③④

12. 唐代国宝镶金兽首玛瑙杯是一个圆雕动物形象，底部没有支撑面和底足，不符合我们传统器皿摆放特点。其造型与西方“来通”相似，学者推测应是中国工匠吸收外来技艺制作的。唐代一些文物充满西方元素，由此可推断出



- ①中华文化具有包容性
  - ②文化交流促进文化交融
  - ③中华文化具有凝聚力
  - ④文化在交流互鉴中趋同
- A. ①②
  - B. ①③
  - C. ②④
  - D. ③④


13. 2023年初，作为中非友谊和团结协作的标志性建筑-中国援非盟非洲疾病预防控制中心正式竣工，这一项目是中非命运与共、携手同行的生动写照，也为构建中非卫生健康共同体留下新的时代印记。这表明中国与非洲



- A. 把维护共同利益作为对外活动的出发点
- B. 是反对霸权主义和强权政治的重要力量
- C. 顺应时代主题，遵循共商共建共享原则
- D. 已成为构建国际政治经济新秩序主力军

14. 南宋马远的《寒江独钓图》(右图)中一人一舟，画中无水，却让人感觉江水浩渺、寒气逼人，展现了作者萧条淡泊、闲和严静的心境。这幅画的创作

- A. 使形象思维的情感性融入作品
- B. 体现动态性与静态性对立统一
- C. 经历了从思维具体到思维抽象
- D. 注重创新性，运用了发散思维



《寒江独钓图》南宋·马远

15. 王某(10岁)在H市白沙区某超市挑选糖果，因没有找到收银台，走到超市门口想询问超市员工。超市员工却以为其偷窃，将其捆绑并挂上“小偷”牌子当街示众。本案中
- A. 王某已取得糖果所有权，故不构成偷窃行为
  - B. 王某作为完全民事行为能力人负有举证责任
  - C. 超市侵犯王某名誉权，应承担相应侵权责任
  - D. 王某可在5年内向市中级人民法院提起诉讼

## 第II卷

注意事项：

- 1. 用黑色墨水的钢笔或签字笔将答案写在答题卡上。
- 2. 本卷共3题，共55分。
- 16. (10分) 阅读材料，回答问题。

跳出历史周期率问题，是关系党千秋伟业的一个重大问题。如何跳出历史周期率，我们党始终在思索、一直在探索。

78年前，毛泽东同志在延安的窑洞里给出了第一个答案，就是“让人民来监督政府”。经过百年奋斗特别是党的十八大以来新的实践，党又给出了第二个答案，就是自我革命。党中央把全面从严治党纳入“四个全面”战略布局，刀刃向内、刮骨疗毒，猛药祛疴、重典治乱，使党在革命性锻造中变得更加坚强有力。


结合材料，运用“中国共产党的领导”的知识，说明中国共产党是如何在民主监督和自我革命的合力中跳出历史周期律的。

- 17. (21分) 阅读材料，回答问题。

历史长河波澜壮阔，一代又一代人接续奋斗创造了今天的中国。

材料一2012到2022这十年，各行各业青年都在亲历着国家的高质量发展。过往十年，青年们有哪些感触？

过往十年的发展变化，哪些让你感触最深？



(1) 新时代，不平凡的十年，列举一件使你印象深刻的事件。运用《中国特色社会主义》的知识，谈一谈改革开放以来，特别是新时代，这些伟大成就取得的根本原因。(6分)

材料二 今天的中国，是充满生机活力的中国。

镜头一：党中央高效统筹疫情防控和经济社会发展。国家统计局对疫情发生以来各国的防控政策、宏观经济政策和经济损失率之间关系的测算结果显示：严格防控下中国经济总损失率仅为2.3%。

镜头二：从放宽市场准入到建设全国统一大市场，从加强知识产权保护到精准帮扶中小微企业；从扩大内需战略规划到培育壮大战略性新兴产业……一系列举措优化了营商环境，增强了市场活力。

镜头三：从2012年到2021年，科技进步对经济增长的贡献率不断提升，中国正成为新技术、新产品、新模式的聚居地，更好地满足了人民日益增长的美好生活需要，也为经济长期发展注入了强大内生动力。

(2) 结合材料，从“经济体制”和“发展理念”的角度，探讨中国经济充满韧性和活力的密码。(9分)

材料三 五届进博会累计意向成交额近3500亿美元，中国成为140多个国家和地区的主要贸易伙伴和全球第一货物贸易大国；推进援非“万村通”项目，助力非洲民众联通世界；“一带一路”倡议、区域全面经济伙伴关系协定的实施，中国改革开放持续推进……“中国经济活力给世界带来暖意”已成为广泛共识和普遍期待。

(3) 结合材料，运用“经济全球化与中国”的知识，谈谈为什么中国经济活力能给世界带来暖意？(6分)

18. (24分) 阅读材料，回答问题。

黄河宁，天下平。继长江保护法实施后，我国第二部流域法律-黄河保护法将于2023年4月1日起施行。这部法律有哪些特点和亮点？将为黄河流域生态保护和高质量发展提供哪些保障？某班同学对此开展课题研究，搜集到如下资料。

材料一 黄河保护法紧紧抓住水沙关系调节这个“牛鼻子”，针对黄河流域各种特殊问题，对特定区域、特定问题规定特别制度措施；坚持全流域一盘棋，统筹谋划上下游、干支流、左右岸，共同抓好大保

护，协同推进大治理；加强黄河流域历史文化名城名镇名村、文物、历史建筑等水文化遗产以及农耕文化遗产、地名文化遗产等的保护，建设黄河文化旅游带。

(1) 结合材料，运用《哲学与文化》的知识，阐述黄河保护法中所蕴含的智慧。(12分)

材料二 良法善治守护黄河安澜。济南市某合作社与某农场公司签订土地承包经营合同，将黄河河道管理范围内的土地发包给农场公司，期限30年。农场公司修建生态农业大棚及配套用房，出租后向合作社缴纳相关费用作为合作利益所得。合同签订后，农场公司在该土地上建设了混浆混水砖墙及钢架结构式大棚、砖混结构管理房。随后，济南黄河河务局以对河道行决造成影响为由，向农场公司作出行政处罚。农场公司将合作社告上法庭，请求确认土地承包经营合同无效。

**法条链接：**《中华人民共和国防洪法》第二十二条第二款规定，禁止在河道、湖泊管理范围内建设妨害行洪的建筑物、构筑物，倾倒垃圾、渣土，从事影响河势稳定、危害河岸堤防安全和其他妨碍河道行洪的活动。

(2) 法院是否会支持农场公司主张？请运用“三段论”的知识写出判决的推理过程。(8分)

**三段论的推理过程**

**大前提：**

**小前提：**

**结论：**

(3) 运用“纠纷的多元解决方式”的知识，谈谈农场公司还可以通过哪些途径解决这一纠纷。(4分)

## 关于我们

自主选拔在线是致力于提供新高考生涯规划、强基计划、综合评价、三位一体、学科竞赛等政策资讯的升学服务平台。总部坐落于北京，旗下拥有网站（[网址：www.zizzs.com](http://www.zizzs.com)）和微信公众平台等媒体矩阵，用户群体涵盖全国90%以上的重点中学师生及家长，在全国新高考、自主选拔领域首屈一指。

如需第一时间获取相关资讯及备考指南，请关注**自主选拔在线**官方微信号：[zizzsw](https://www.zizzs.com)。





微信搜一搜

自主选拔在线

