



1号卷·A10联盟2020 文科综合能力

巢湖一中 合肥八中 淮南二中 六安一中 南陵中学 舒城中学 太湖中学 天长中学 屯溪一中 宣
本试卷满分300分，考试时间150

第I卷

一、选择题：本题共35小题，每小题4分，共140分。在每小题给出的四个选项中，只有一项是符合题目要求的。

工业经济的高速增长具有高投资、高能耗、高排放的特征，随着低碳高质量发展模式的提出，节能减排已成为中国转变经济发展方式的内在要求。珠三角地区自承接发达国家产业转移以来，工业化迅速发展的同时也成为“污染避难所”。图1中左图示意广东省地理区位，右图示意广东省四大分区工业碳排放总量。据此完成1~3题。

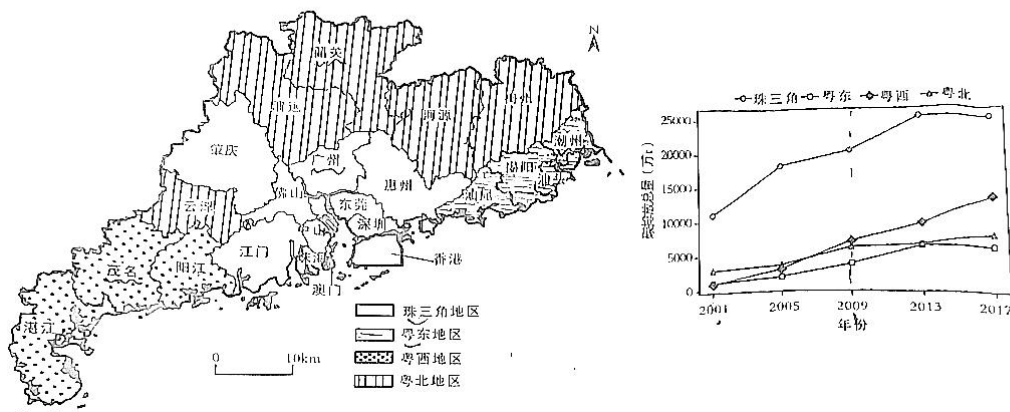


图1

- 与2001~2009年相比，2009~2017年广东省工业碳排放空间上()
A. 向珠三角集聚 B. 向南北集聚 C. 向东西集聚 D. 向港澳地区集聚
- 2013~2017年工业碳排放总量较大且整体呈现减少趋势的城市是()
A. 潮州 B. 茂名 C. 韶关 D. 广州
- 下列属于低碳高质量发展的举措是()
①调整能源消费结构 ②产业转移 ③营造生态林 ④产业升级
A. ①④ B. ②③ C. ①③ D. ②④

斯里兰卡是印度洋上的岛国，岛内水资源时空分布不均，降水量少的地方为1000mm以下，多的地方达4500mm以上。该国只有少部分为湿润区，大部分为干旱或半干旱区，水资源严重短缺。图2为斯里兰卡水系示意图，该图中甲乙丙丁四条线中的一条为斯里兰卡干旱区与湿润区分界线，图3为2017年该国干旱区第二大水库面积的季节变化图。据此完成4~6题。

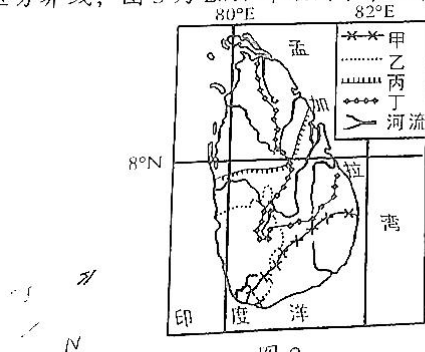


图2

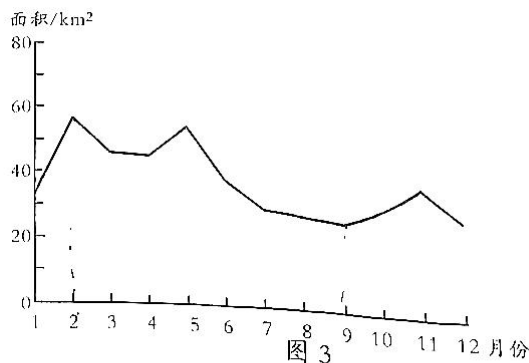


图3

2022届高三开年考

能力测试

中 宣城中学 滁州中学 池州一中 阜阳一中 灵璧中学 宿城一中 合肥六中 太和中学 合肥七中
2150分钟。请在答题卡上作答。

4. 图2中甲乙丙丁四条线为斯里兰卡干旱区与湿润区分界线的是()
A. 甲 B. 乙 C. 丙 D. 丁
5. 2017年某月斯里兰卡全国出现了大面积暴雨,并引发洪涝灾害,该月份是()
A. 2月 B. 5月 C. 9月 D. 11月
6. 该国水资源长期严重短缺的自然原因主要是()
A. 地质渗漏严重 B. 年降水量较少 C. 干旱季节较长 D. 河湖数量较少

平均气温距平是指一系列平均气温(日平均气温、月平均气温等)与总平均气温的差值。新奥尔松(78° 55' N, 11° 55' E)位于北冰洋斯瓦尔巴德群岛,受北大西洋暖流的影响,即使在冬季日平均气温也可达到0℃以上,是世界最北端的人类永久居住地。图4示意新奥尔松地区春、夏、秋、冬四季日平均气温距平变化。据此完成7~9题。

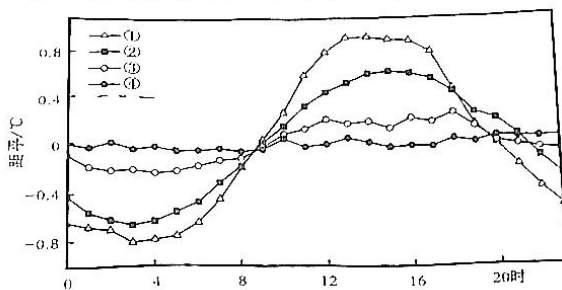


图4

7. 新奥尔松地区地表植被最可能是()
A. 苔原 B. 冰原 C. 针叶林 D. 阔叶林
8. 图中曲线①、②、③、④代表冬季的是()
A. ① B. ② C. ③ D. ④
9. 导致该地区不同季节气温日变化差异较大的主要因素是()
A. 地形 B. 植被 C. 光照 D. 洋流

“崩空”藏语意为“木头架起来的房子”,是一种木结构建筑,由圆木交错重叠而成,结构整体性好。川西甘孜道孚向来有“四季无暑,一霜成冬”之说,常受青藏高原地区风沙侵蚀,道孚民居——“崩空”成为藏区一绝。图5为道孚周边区域示意图和“崩空”民居景观图。据此完成10~11题。

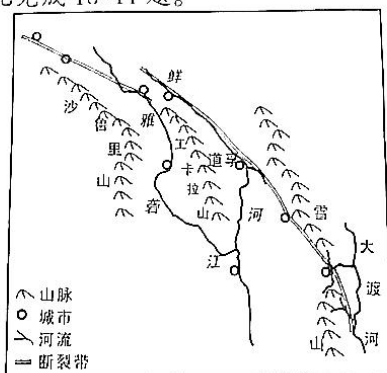


图5

10. 道孚民居选择一般依山傍水，坐西朝东，主要目的有()
 ①防风采光 ②躲避洪水 ③取水便捷 ④便于河运
 A. ①② B. ③④ C. ②③ D. ③④
11. 道孚民居多为“崩空”，该建筑结构最大的优点是()
 A. 防范地震 B. 节省材料 C. 冬暖夏凉 D. 建造容易
12. 2021年9月以来，国内煤炭价格上涨屡创历史新高。随着国家煤炭价格调控相关措施逐步落实，10月份以来，统调电厂供煤增幅持续大于耗煤增幅，存煤加快回升，11月底存单超过1.4亿吨。郑商所动力煤期货11月15日收于809.6元/吨，较10月19日高点1982元下跌59%。不考虑其他因素，图6中能够反映这一现象的曲线图是()
 (供给曲线、D为需求曲线)

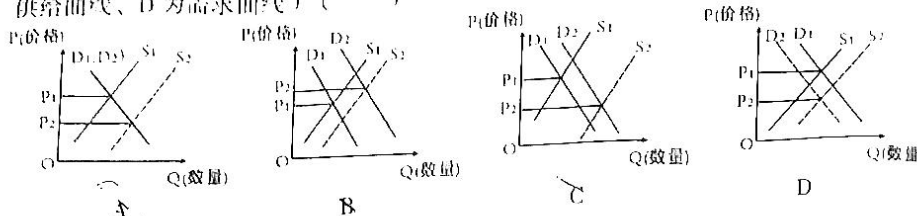
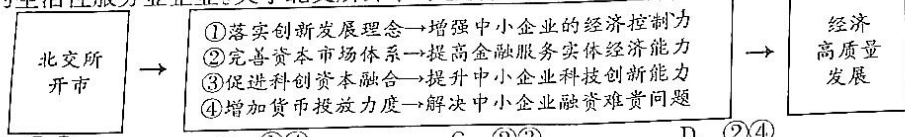


图6

13. 在2021年10月以来的能源保供攻坚战中，中央企业齐心协力、全力以赴保安全、保供应、保民生，带头打赢打好今冬明春能源保供攻坚战，更好地发挥国有企业在能源电力保供中的“国家队”“主力军”作用，以实际行动体现了国资央企的责任担当，为维护社会稳定和经济平稳运行作出更大贡献。这说明国资央企()
 ①是国家安全和社会稳定的重要力量 ②在重要行业和关键领域发挥中坚作用
 ③在更高水平对外开放中起领军作用 ④是中国特色社会主义制度的重要支柱
 A. ①② B. ①④ C. ②③ D. ③④
14. 2021年11月15日，北京证券交易所开市首日合计成交95.73亿元。上市公司中既包括以制造业为主的“专精特新”中小企业，也包括战略性新兴产业中创新能力突出的中小企业、向专业化和价值链高度延伸的生产性服务业企业、向高品质和多样化升级的生活性服务业企业。关于北交所开市对经济高质量发展的影响，传导正确的是()



- A. ①③ B. ①④ C. ②③ D. ②④
15. 《世界经济展望》是由国际货币基金组织(IMF)发布的，对全球层面、主要国家组(按地区 and 经济发展阶段等划分)和许多单个国家的经济发展的分析和预测，重点是经济政策问题以及对经济发展和前景的分析。表1为2021年不同时间发布的报告内容(节选):

表1

发布月份	2021年全球经济增长率(预测)	发达经济体 GDP 增长率(预测)	新兴市场和发展中经济体 GDP 增长率(预测)	中国 GDP 增长率(预测)
2021.7	6%	5.6%	6.3%	8.1%
2021.10	5.9%	5.2%	6.4%	8%

- 相较于7月份的预测，10月份的预测调整是考虑到全球经济正深陷“供应链断裂”泥淖、疫情加剧等因素。这说明()
 ①经济全球化提高了各主要经济体的抗风险能力
 ②发展不平衡是世界经济发展的一种长期客观存在
 ③世界经济增长仍面临较大的不稳定性 and 不确定性
 ④中国经济的高增长率在全球经济复苏中起重要作用
 A. ①② B. ①④ C. ②③ D. ③④
16. 2021年11月国家统计局公众服务智能平台正式上线，实现集7×24小时智能机器人互动服务、问答知识库搜索、传统咨询方式于一体的一站式服务模式，将过去电话、邮件服务转化为自助式智能服务，使公众获取统计信息更便捷、更高效，有力地促进统计服务水平迈上新台阶。智能平台正式上线有利于()
 ①坚持依法行政，提高服务质量 ②精简办事流程，减轻政府责任

- ③提高行政效能, 解决群众需求
A. ①② B. ①④ C. ②③ D. ③④
17. 2021年11月, 党的十九届六中全会审议通过的《中共中央关于党的百年奋斗重大成就和历史经验的决议》, 回顾百年之间, 重在聚焦“过去我们为什么能够成功”。展望未来之答, 更加明确“未来我们怎样才能继续成功”。总结党的百年奋斗重大成就和历史经验()
①有利于开启全面建设社会主义现代化国家新征程
②是完善党内法律法规及提升党的执政能力的要求
③是确立中国共产党的领导和执政地位的必然要求
④体现了我们党善于运用历史规律的高度政治自觉
A. ①② B. ①④ C. ②③ D. ③④
18. 2021年11月22日上午, 国家主席习近平在北京以视频方式出席并主持中国-东盟建交30周年纪念峰会, 发表题为《命运与共 共建家园》的重要讲话, 中国东盟正式宣布建立中国东盟全面战略伙伴关系。这告诉我们()
①中国与东盟战略同盟关系的机制不断健全完善
②东盟是当今世界具有重要影响力的区域性国际组织
③构建中国-东盟命运共同体有利于维护双方的共同利益
④双方致力于推动建设共同发展、合作共赢的新型国际关系
A. ①② B. ①③ C. ②④ D. ③④
19. 中国歌剧舞剧院携手北京市演出有限责任公司等启动“为人民起舞”艺术周, 从2021年7月到2022年4月, 舞剧《李白》《昭君出塞》《孔子》将在北京、上海等20个城市巡演。三台剧目采用交响乐团现场演奏的方式, 把中华优秀传统文化和现代表达高度融合, 增强了自身的创造力和感染力, 使之贴近现代生活, 深受各地观众喜爱。这表明()
①活动开展意在从历史题材中探寻时代精神之源
②人民群众满意与否是衡量作品价值的根本尺度
③文化创新离不开对优秀传统文化的创造性继承
④重塑历史人物形象是舞剧创作的根本价值追求
A. ①② B. ①④ C. ②③ D. ③④
20. 信用文化源远流长。无论是居庙堂之高, 还是处江湖之远, 诚信之道, 无远弗届。《论语·颜渊》直言: “自古皆有死, 民无信不立。”《论语·为政》则曰: “人而无信, 不知其可也。”孟子将信用列为“五伦”之一, 进一步确立了信用的伦理地位。关于信用文化表述, 正确的是()
①传统信用文化是中华民族发展中更基本、更深沉、更持久的力量
②弘扬传统信用文化是彰显中国特色社会主义文化自信的必然要求
③社会主义核心价值观中的诚信观念与传统信用文化是一脉相承的
④中华传统的信用文化能为社会主义思想道德建设提供丰富的滋养
A. ①② B. ①④ C. ②③ D. ③④
1. 习近平主席以大江大河为喻说明历史大势必将浩荡前行: “长江、尼罗河、亚马逊河、多瑙河昼夜不息、奔腾向前, 尽管会出现一些回头浪, 尽管会遇到很多险滩暗礁, 但大江大河奔腾向前的势头是谁也阻挡不了的。”这说明()
①规律的存在和发生作用是不以人的意志为转移的
②规律具有普遍性, 要尊重社会发展规律, 按客观规律办事
③对事物的正确认识要经过从认识到实践的多次反复才能完成
④事物的发展方向是前进的、上升的, 道路是曲折的、迂回的
A. ①② B. ①④ C. ②③ D. ③④
- 观察图7漫画《发现新世界的人, 刚开始都是走错了路》, 下列表述符合漫画哲学寓意的是()
①矛盾双方在一定条件下可以相互转化
②促进矛盾双方由对立属性转向同一属性
③事物的发展最终通过一定程度的量变来实现
④善于分析和把握事物存在和发展的各种条件
A. ①② B. ①④ C. ②③ D. ③④
- 图7
发现新世界的人
刚开始都是走错了路
- 近期上映的纪录片《榜样6》感动了亿万观众, 《榜样6》重点聚焦“七一勋章”获得者和全国“两优一先”表彰对象典型事迹。“卫国戍边英雄团长”祁发宝、“牧民英雄”廷·巴特尔、边境线上的“活界碑”魏德友、“最美巾帼”孙金娣……他们一个个餐风饮露、栉风沐雨, 与孤独长守、与星月为伴, 为国家和人民幸福保驾护航,

- 护值新时代的巍巍巨轮。他们的事迹给青年学生的启示是()
- ①积极投身实践,坚持奉献社会
②坚定理想信念,实现个性价值
24. 西周有严格的姓氏制度,姓在于“明血缘”,“别婚姻”,实行“同姓不婚”制度;氏在西周有“标示身份”“别贵贱”之功能。秦统一后,姓氏不再作为氏族身份的标志,在自己的姓氏,且姓与氏之间区别逐步消失,合而为一。这一变化表明()
25. 《资治通鉴》一书中载有:“楚有江汉川泽山林之饶,江南地广,或火耕水耨。民食鱼稻,以渔猎为业,果旅赢蛤,其物常足,故皆窳始生,而亡积聚,衣食还自给,不忧冻饿……吴东有海盐章山之铜,一江五湖之利,亦江东之一都会也。豫章出黄金,然革革物之所有,取之不足以更费。”据此可知,秦汉时期()
26. 表2是对唐代“玄武门之变”的相关记述。据此理解正确的是()

表2

史料	出处
太宗乃谓玄龄曰:“昔周公诛管、蔡而周室安,季友鸩叔牙而鲁国宁。朕之所为,义同此类,盖所以安社稷,利万民耳。”	《贞观政要》 (唐·吴兢)
太宗之谋建成、元吉也,尝引(刘)师立密筹其事,或自宵达曙	《旧唐书》 (后晋·刘昫等)
初,齐王元吉劝太子建成除秦王世民,曰:“当为兄手刃之!”世民从上天元吉第,元吉伏护军宇文弼于室内,欲刺世民。建成性颇仁厚,避止之	《资治通鉴》 (北宋·司马光)

27. 图8为明代徐渭的《花卉鱼蟹图》,该画右侧题诗道:“老人画蟹(蟹)复题诗,正是秋深稻熟时。饱却黄云(稻谷)归欠去,付将甲冑欲何为。”该画()
28. 晚清时期,西方的进步史观蔓延到中国,成为人们把握历史的一般准则,论者多将西方描述成进步的模板以关照“停滞”的中国,如鲁迅就批评中国古代的学人走上了与“进步”相反的道路。这反映出()
29. 20世纪20年代末30年代初,广州起义备受推崇,秋收起义地位远低于广州起义。党中央高度评价广州起义“是工农兵士群众第一次革命暴动的胜利”,广州苏维埃是“中国第一个真正民众的革命政府”。这表明当时中国共产党()
30. 表3为抗日根据地北海币使用地区与法币区物价变动统计。据该表可知()



图8

表3

年度/物价	北海币使用地区物价		法币区物价	
	指数	增长率(%)	指数	增长率(%)
1937年	1	-	1	-
1938年	1.40	40.00	1.35	35.00
1939年	2.77	97.86	2.75	103.7
1940年	6.93	150.18	9.03	228.36
1941年	20.00	188.60	23.27	157.70
1943年	60.00	-28.57(较1942年)	476.56	239.33
1944年	70.00	16.67	610.68	129.76

31. 新中国成立后，根据地治理取得了良好的成效。下列“电影画面”的中社社员对于1962年，政府刚推试于新中国的“22大明星”，并对“百花奖”代。电影画面进行)表示。这一变化说明()
32. 柏拉图在《理想国》中描绘了一个“理想世界”中的城邦即“善的城邦”。在柏拉图看来，善的城邦的重要性在于用它与现实中的城邦对照，以发现现实的城邦有多坏。材料表明，柏拉图认为()
33. 天主教认为儿童身上有与生俱来的原罪，施以劳动是很好的抑制方法；到了19世纪中期，德意志等国家都意识到必须解决工人阶级子女的教育问题，工人阶级子女的童年生活重心由劳动转向了教育。这一变化的主要原因是()
34. 当人们运用马克思的理论观察时发现：“苏联社会几乎根本无法用正统的马克思术语进行解释”，也就是说，在马克思主义理论坐标上苏联不是一个社会主义国家。对此理解正确的是()
35. 二战后，英国希望欧洲大陆国家之间实现联合，英国并不陷入其中，对此罗斯福予以坚决反对，认为应建立普遍性的世界组织。20世纪50年代，当英国人阻扰欧洲原子能和共同市场计划以超国家主权的形式进行联合时，美国则施压英国，为西欧达成《罗马条约》扫除了最大的障碍。这表明()

第II卷

二、非选择题：共160分。第36—42题为必考题，每个试题考生都必须作答，第43—47题为选考题，考生根据要求作答。

(一)必考题：135分。

36. 阅读图文材料，完成下列要求。(22分)

城镇人口核密度是指以某城镇点为中心100km范围内的城镇人口密度，核密度分析能有效反映城镇体系空间密集区范围的分布特征。核密度在200~500人/km²的区域为城镇密集区，核密度>500人/km²的区域为城镇集聚核心区。巴基斯坦地处南亚地区，2017年城镇化率为36.38%，92.5%的城镇人口数量低于20万，其中，人口100万以上的城市人口占城镇人口比重为54.23%。随着中巴经济走廊各项基础设施的建设，巴基斯坦城镇化发展将会不断加快。图9示意2017年巴基斯坦城镇人口空间核密度分布。

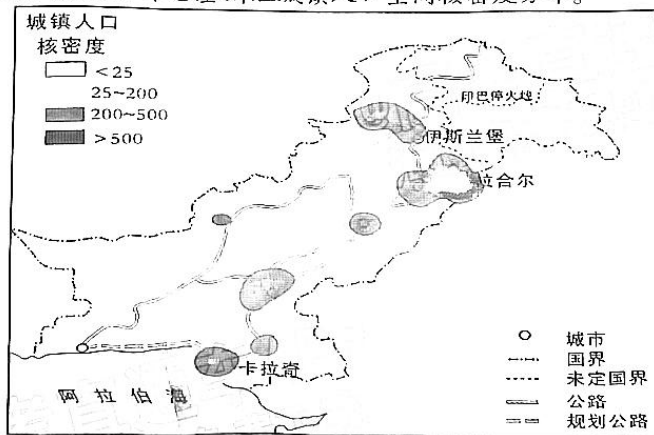


图9

- (1) 概括巴基斯坦全国城镇体系特征。(6分)
- (2) 简析卡拉奇成为滨海城镇集聚核心区的原因。(6分)
- (3) 推测卡拉奇的优势产业类型和部门。(6分)
- (4) 说明中巴经济走廊的建设对巴基斯坦城镇体系的影响。(4分)

37. 阅读图文材料,完成下列要求。(24分)

罗布泊位于新疆塔里木盆地东部,北靠天山、南邻阿尔金山,气候干旱,仅春夏有少量降雨,春秋季节多大风,植被稀少,仅在河流下游平原罗布泊湖滨地带分布有少量植被。罗布泊曾经是我国第二大咸水湖,现已干涸数十年。罗布泊内雅丹地貌主要分布在孔雀河三角洲、白龙堆等地,由较为坚硬的粉砂岩构成,但该地雅丹地貌表层存在显著岩层软化现象,形态更为低矮。图10分别示意罗布泊地区主要气象要素月均变化特征(左图)和该地区雅丹形态特征(右图)。

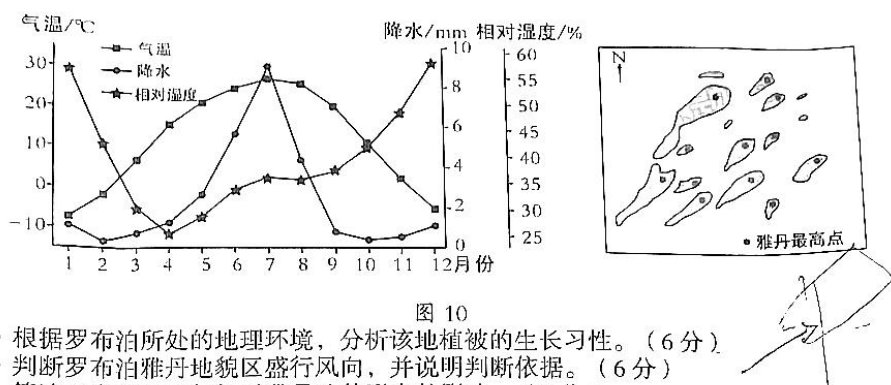


图10

- (1) 根据罗布泊所处的地理环境,分析该地植被的生长习性。(6分)
- (2) 判断罗布泊雅丹地貌区盛行风向,并说明判断依据。(6分)
- (3) 简述罗布泊地区气候对雅丹地貌形态的影响。(6分)
- (4) 为恢复罗布泊湖水,有人提出跨流域调水工程——藏水北调入泊工程。请从下列两个方面选择其一作答,分析这一调水工程的作用。(6分)
 方面①:改善罗布泊及周边地区气候。 方面②:对罗布泊及周边地区生物的有利影响。

38. 阅读材料,完成下列要求。(14分)

资本是推动生产力发展的重要力量。中国经济在经过多年持续增长后,已经积聚起巨大的资本能量。然而近年来,在一些领域,资本无序扩张造成的负面效应开始显现:强迫经营者“二选一”“掐尖式并购”等行为挤压中小企业生存空间;大数据杀熟、隐私数据被泄露等侵害消费者权益。面对市场乱象以及一些行业高度集中的发展态势,有关部门出台了系列监管举措。

2021年7月10日,市场监管总局称,决定依法禁止T讯控股有限公司申报的虎牙公司与斗鱼国际控股有限公司合并。此外,监管部门顶格处罚了45起平台企业未依法申报案件并向社会公布。2021年10月8日,市场监管总局依法对M团在中国境内网络餐饮外卖平台服务市场实施“二选一”垄断行为作出行政处罚,罚款共计34.42亿元。

针对国家出台的监管举措,有少数声音将之曲解为“打压了民营经济”。结合材料,运用经济生活知识对上述说法加以辨析。

39. 阅读材料,完成下列要求。(12分)

2014年10月,党的十八届四中全会作出《中共中央关于全面推进依法治国若干重大问题的决定》,明确提出建立基层立法联系点制度,作为民意“直通车”的基层立法联系点,一头连着最高国家权力机关,一头连着基层群众。截至2021年7月,全国人大常委会立法联系点实现了从无到有,数量上从最初的4个增加到22个,涉及21个省(区、市),覆盖全国2/3省份,辐射带动31个省级人大常委会的立法联系点发展到427个,设区的市(自治州)的立法联系点发展到4350个。除常见的以市、区人大常委会作为基层立法联系点的情形外,街道办事处、科技城、大学等也陆续成为新的联系载体,生动践行发展着新时代全过程人民民主。

结合材料,运用政治生活的知识,分析推进基层立法联系点制度的原因。

40. 阅读材料,完成下列要求。(26分)

2021年11月,北大荒又迎来了丰收季,实现播种面积和粮食产量的历史性突破。“艰苦奋斗、勇于开拓、顾全大局、无私奉献”的北大荒精神,正鼓舞着北大荒人描绘一幅农业现代化和乡村振兴的美丽画卷。

走进北大荒开发建设纪念馆,一幅北大荒的原貌图片呈现在眼前。这片气候严寒、交通不便、人烟稀少的荒原,多次移民开垦均以失败告终。1947年,按照党中央的指示,一批开拓先锋爬冰卧雪、披荆斩棘,创建起第一批国营农场,点燃了创建国营农场的星星之火。建国后,一批转业官兵、支边青年等从全国各地投入到北大荒的开发建设中来,如今的“北大荒”早已成为“北大仓”。

走好改革路,实现高质量发展,关键要充分释放企业活力,向改革要红利。2015年11月,党中央、国务院发布了《关于进一步推进农垦改革发展的意见》,对农垦改革发展作出全面部署。随后北大荒农垦集团总公司正式挂牌成立,标志着黑龙江垦区从政企合一的管理体制建制制转入集团化企业化经营管理体制。如今北大荒现代企业制度持续完善,混改与股权多元化稳步推进,低效无效企业得到有力处置,随着国有资产布局逐渐优化、结构调整日见成效。改革后的北大荒在巩固提升粮食产能的前提下,将全面继承和发扬北大荒精神,更加注重粮食品质,坚定不移走“质量兴农、绿色兴农、品牌强农”的道路,努力把北大荒打造成中国农业领域的“航母”和新型国际粮商,推动集团实现高质量发展而奋斗。

- (1) 运用文化作用的知识,分析北大荒精神在北大荒巨变中的影响。(12分)
- (2) 运用生产力与生产关系的知识,分析改革是如何赋能北大荒发展的。(10分)
- (3) 传承北大荒精神,做新时代青年。请就青少年如何弘扬北大荒精神谈谈你的认识。(4分)

41. 阅读材料,完成下列要求。(25分)

材料一

春秋战国时期,“天下”概念已经成为诸子百家思考的背景或议论的对象,诸子发展出各不相同的历史叙述和政治论说。也是经此一段,在唐虞之世发其端,商周时代塑其形的天下观念逐渐趋于成熟和定型。首先“天下”一开始就是作为一个超越了特定的部族与地域的概念被提出的,所谓“天下集合万邦、天子亲诸侯,抚万民”就是明显的历史呈现;其次,“天下”是普遍的,万民有着共同的天性,安排其生活的文明价值与秩序,同样放之四海而皆准。在此普遍价值的关照下,种族差异的重要性只是相对的,中国与夷狄以文化分,两者关系是相对的、可变的。据此观念,天下一统,不但统一于“王”,更统一于文明、文化和道德。

——摘编自梁治平《“天下”的观念:从古代到现代》

材料二

19世纪后半期,士大夫开始相信中国并非“天下”,也不是唯一的文明之邦;环宇列国,各有所长,其物质文明如声光电化等,尤足效法。洋务运动作为经世致用运动,虽然修正了传统的“天下观”,但中国文明优越的信念仍隐含其间。甲午一战,残存于东亚的“天下”之需彻底瓦解,知识阶层对于渊源久远、屡验不爽的常经、常道产生怀疑,一向是政治合法性基础的“天下”观念成为问题的根源。1900年之后,“天下”一词的使用频率急剧减少,“国家”一词的使用则大增,“国家”取代“天下”成为新的政治论说的核心。

——摘编自梁治平《“天下”的观念:从古代到现代》

材料三

十一届三中全会后，中国共产党对时代主题的判断由“战争与革命”转变为“和平与发展”，自身的定位和战略目标也做出了重要调整，不再过分强调自己的阶级属性，放弃了“以阶级斗争为纲”的政策，转而集中精力进行国内经济建设，以争取良好的国际环境为对外交往的中心任务，中国共产党对世界秩序的态度更加主动，积极融入了以联合国为核心的世界政治秩序和以布雷顿森林体系为核心的经济体系，与世界各国开展平等互利的合作。

——摘编自吴志成、李仕轩《中国共产党世界观的百年探索与思考》

- (1) 根据材料一并结合所学知识，概括春秋战国时期“天下”观念的基本内涵，分析其渐趋成熟的原因。(10分)
- (2) 根据材料二并结合所学知识，指出晚清“天下”观念的变迁背景。(9分)
- (3) 根据材料三并结合所学知识，简析新时期中国共产党世界观转变的意义。(6分)

42. 阅读材料，完成下列要求。(12分)

材料

表4 现代化的波次、时空与机制

波次	时间	主要地区	影响现代化的新机制
第一波	1492—1699年	西欧	探索阶段
第一波半	1700—1789年	西欧、中欧	效仿
第二波	1789—1848年	欧洲、拉美	制度的空间扩散
第二波半	1848—1945年	多民族帝国、日本、前英国殖民地	诱导和强制
第三波	1945—1991年	拉美、东亚	意识形态和两极对抗
第三波半	1991年至今	全球范围	全球化、地区化、信息化

——摘编自叶成城《超越“大分流”的现代化比较研究：时空视角下的历史、方法与理论》
根据材料并结合所学世界近现代史知识，从材料中提取信息拟定论题并加以阐释。(要求：观点明确，史实正确，阐释清晰)

(二) 选考题：共25分。请考生从2道地理选考题、3道历史选考题中每科任选一题作答。

如果多做，则每科按所做的第一题计分。

43. 【地理——选修3：旅游地理】(10分)

2017年中国公民出境旅游人数达到1.31亿人次，出境旅游消费规模达到2577亿美元，出境人次和消费规模均居全球首位。但出境旅游安全事故的发生规模在不断加大、事故类型结构及其时空分布也趋于复杂化。旅游安全是旅游活动顺利开展的前提，频发的出境安全事故不仅威胁到中国游客的生命财产安全，也阻碍了出境旅游业的平稳运行。图11为2010—2017年中国出境旅游安全事故区域数量累计百分比。

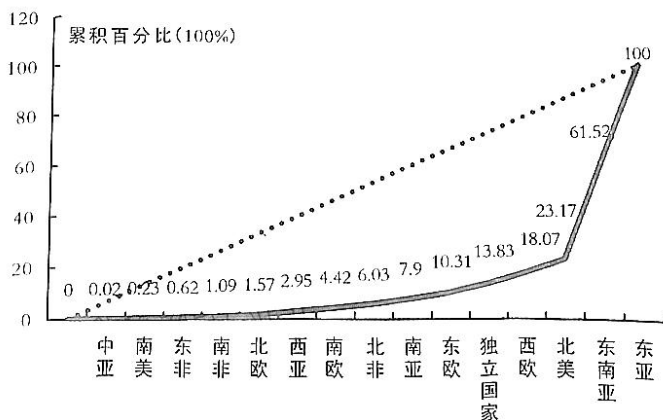


图11

指出中国出境旅游安全事故的总体区域分布特征及其影响因素。

44.【地理——选修6：环境保护】（10分）

近几年，国内天然砂开采量受限，开采矿山生产机制砂逐渐成为替代品满足建设用砂需求。机制砂流程多样，基本生产流程一般可分为以下几个阶段：原料→粗碎→中碎→细碎→细碎→细碎→机制砂。目前的工艺主要有湿法工艺（采用洗砂和污水压滤模块）和干法工艺（采用风选筛、振动筛、除尘模块），这两种方法都是用于去除机制砂中石粉和泥粉，使得机制砂质量指标满足国家标准。说明机制砂生产过程中带来的主要环境问题并提出解决措施。

45.【历史——选修1：历史上重大改革回眸】（15分）

材料

1949年10月2日，党外知名人士32人（其中也有部分共产党员）被任命为第一批政务院（1954年改称国务院）参事。1949年11月政务院参事室正式成立，随后各省区市政府参事室相继成立。1950年，《政务院参事室暂行工作简则》颁行，明确提出参事室有参与草拟政策、政令和法案，参与调查研究政策、政令的推行情况等职能。1984年，党中央发布文件，要求进一步恢复省级政府的参事室。1988年，国家明确参事室是一个服务于经济建设的工作机构，并规定了参事室的两性——咨询性、统战性。1989年，党中央再次明确要“在政府参事室中适当安排民主党派成员和无党派人士，发挥他们的咨询作用”，将政府参事工作纳入到我国社会主义基本政治制度的范畴。一批有代表性、有影响、有参政议政能力的非中共社会人士和专家学者陆续被聘为参事，给参事工作注入了新的活力。

——摘编自孙宗明《中国政府参事制度的发展历程及其特色》

（1）根据材料并结合所学知识，简析新中国参事制度建设的特点。（9分）

（2）根据材料并结合所学知识，说明新中国参事制度建设的影响。（6分）

46.【历史——选修3：20世纪的战争与和平】（15分）

材料一

1900年以后，德国国内越来越流行这样一种逻辑：预防性战争对于长期安全是必需的。首先是军界领导人一致认可这一观点，同时，随着德国在相对力量上达到顶峰的证据日下明显，文职领导层也开始接受需要这一场全面战争的观点。……德国领导人认为，国家要生存，必须要进行战争，并且早打比晚打好，而这场战争应由德国率先打响。

——摘编自【美】戴尔·科普兰著《大战的起源》

材料二

不列颠民族总体上已意识到这个无可怀疑的事实，即德国计划以海军加强她无比强的陆军，到1920年，德国的海军将远远比英国目前拥有的舰队强大得多。……英国所有头脑清醒的人开始陷入深度忧虑。德国为什么要拥有这么庞大的海军？德国用海军与谁对抗与谁较量，除了我们外，她使用海军对付谁呢？一种日益沉重的感觉不再限于政治和外圈子，人们已意识到普鲁士人人心不良，他们妒忌不列颠帝国的辉煌，一旦找到于我们利的良机，他们会尽可能利用它。

——摘编自【英】温斯顿·丘吉尔著《第一次世界大战回忆录》

（1）根据材料一、二，概括德英两国关于战争的基本观点。（7分）

（2）根据材料一、二并结合所学知识，分析德英两国关于战争的基本观点产生的原因。（8分）

47.【历史——选修4：中外历史人物评说】（15分）

材料一

朱熹尝论安石“以文章节行高一世，而尤以道德经济为已任。被遇神宗，致位宰事，世方仰其有为，庶几复见二帝三王之盛。而安石乃汲汲以财利兵革为先务，引用凶邪，摈忠直，躁迫强决，使天下之人翕然表其乐生之心。卒之群奸嗣虐，流毒四海，至于崇宣和之际，而祸乱极点？此天下之公言也。”

——摘编自《宋史·王安石传》

材料二

“以不世之杰，而蒙天下之垢，易世而未之湔者，在泰西则有克伦威尔，而在吾国荆公。”……“荆公之时，国家全盛，熙河之捷，扩地数千里，开国百年以来未有者。”

——摘编自梁启超《王安石传》

（1）分别概括材料一、二对王安石的评价。（8分）

（2）根据材料并结合所学知识，简析影响人物评价的因素。（7分）

1号卷·A10联盟2022届高三开年考

文科综合能力测试（政治）参考答案

一、选择题（本大题共12小题，每小题4分，共48分。在每小题给出的四个选项中，只有一项是符合题目要求的）

题号	12	13	14	15	16	17	18	19	20	21	22	23
答案	C	A	C	D	D	B	D	C	D	B	B	A

12. C 从材料可以看出，因国家宏观调控措施落实到位，我国统调电厂煤炭供给增长持续大于煤炭需求增长，进而导致煤炭价格回落，C符合题意。A反映的是需求不变、供给增加导致商品价格下跌，B反映的是供给增加幅度小于需求增加幅度导致商品价格上涨，D反映的是供给增加、需求减少导致商品价格下跌，均与题意不符。
13. A 为保障能源消费和供应，国资央企在能源市场主动作为，这说明国资央企在重要行业和关键领域发挥着中坚作用，是国家安全和社会稳定的重要力量，①②符合题意。国资央企的作为与对外开放无关，③不选。我国的基本经济制度是中国特色社会主义制度的重要支柱，④错误。
14. C 从材料不难看出，北交所开市，可以完善证券市场，提高金融服务实体经济的能力，②符合题意。北交所开市，吸引更多资本来新三板淘金，促使创新资本转起来，有助于提升企业创新能力，③符合题意。国民经济控制力由国有经济掌控，①不选。北交所开市没有增加货币投放，④不选。
15. D 各主要经济体GDP增长率的调整表明世界经济增长存在不稳定和不确定因素，③符合题意。中国经济8%的高增长率表明中国是全球经济复苏的重要力量，④符合题意。供应链及疫情因素加剧了各国经济复苏的风险，①排除。材料没有涉及到发展不平衡问题，②不选。
16. D 从材料不难看出，公众服务智能平台正式上线，通过服务数字化，创新服务方式，整合行政资源，提高服务效率，提升为民服务水平，③④符合题意。材料没有涉及到依法行政问题，①不选。公众服务智能平台的目的是便民利民，而不是减轻政府的责任，②说法错误。
17. B 总结百年成就和历史经验，体现了党的政治自觉，有利于全面建设社会主义现代化强国，①④符合题意。这一决议与党内法律法规无关，②不选。中国共产党的执政和领导地位早已确立，③不选。
18. D 建立中国东盟全面战略伙伴关系，是中国、东盟关系史上新的里程碑，将为地区和平稳定、繁荣发展注入新的动力，有利于维护双方共同利益，推动共建新型国际关系，③④符合题意。我国实行不结盟政策，中国和东盟是战略伙伴关系，①说法错误。材料强调的是中国与东盟的伙伴关系，不单单是东盟，②与题意不符。
19. C 材料说明，通过创作三大历史题材的舞剧，对优秀传统文化进行创造性继承，为人民群众带去高雅艺术的享受，传递中华优秀传统文化的魅力，②③符合题意。巡演活动主要是满足人民文化需求，①不选。舞剧创作的最终价值追求是服务人民、服务社会，④说法不妥。
20. D 诚信自古以来就是中华民族的传统美德，信用文化对培育社会主义核心价值观以及加强思想道德建设都具有借鉴意义，③④符合题意。文化自信是一个国家一个民族发展中更基本、更深沉、更持久的力量，①排除。坚持社会主义核心价值观体系是彰显中国特色社会主义文化自信的必然要求，②排除。
21. B 河流奔腾向前，谁也无法阻挡，这说明规律是客观的，不以人的意志为转移，事物的发展是前进性和曲折性的统一，①④符合题意。材料侧重强调规律的客观性，未体现规律的普遍性，②不选。对事物的正确认识要经过从认识到实践、从实践

1号卷·A10联盟2022届高三开年考·文科综合能力测试（政治）参考答案 第1页 共2页

- 到认识的多次反复才能完成，③排除。
22. B 发现新世界的人，刚开始都是走错了路，这说明矛盾双方在一定条件下，可以相互转化，①符合题意。从开始时走错了路，到发现新世界，这离不开坚持不懈的追求，要善于分析和把握事物存在和发展的各种条件，④符合题意。促进矛盾双方转化，并非促进矛盾基本属性的转化，②错误。坚持量的积累，能够实现事物的质变，③错误。
23. A 榜样群体的事迹告诉我们既要坚持奉献精神，努力投身为人民服务的实践，又要培育家国情怀，坚持人民立场，①②符合题意。材料强调的是社会价值，且“追求个性价值”表述也不妥，③排除。要树立正确的价值导向，④不选。

二、非选择题（本大题3小题，共52分）

38.（14分）

- (1) 民营经济确实存在着资本无序扩张、垄断等违法违规行为，这体现市场调节具有自发性。（3分）
- (2) 对不法行为实施监管是我国政府实施科学宏观调控的表现，是完善社会主义市场经济体制的内在要求，监管举措针对的是违法违规行为，而不是针对特定所有制企业。（4分）
- (3) 民营经济在稳定增长、促进创新、增加就业、改善民生等方面发挥了重要作用，是推动经济社会发展的重要力量，我国始终坚持“两个毫不动摇”。（3分）
- (4) 监管举措有利于规范市场秩序，为包括民营企业在内的所有市场主体创造更公平、更优化的发展环境，推动民营经济依法诚信经营，推动市场经济健康发展，促进社会公平正义。（4分）

39.（12分）

- (1) 中国共产党的领导是中国特色社会主义最本质特征，基层立法联系点制度是党坚持科学执政、民主执政、依法执政的需要。
- (2) 基层立法联系点制度践行新时代全过程人民民主，进一步保证人民当家作主，体现人民民主是最广泛、最真实、最管用的民主。
- (3) 基层立法联系点“接地气”地听取基层群众的意见建议，如实反映民情、广泛收集民意，充分彰显立法的民主性和科学性。
- (4) 推进基层立法联系点制度，有利于坚持党的领导、人民当家作主和依法治国的有机统一。（每点3分，共12分）

40.（26分）

- (1) ①文化作为一种精神力量，能够在人们认识世界、改造世界的过程中转化为物质力量，对社会发展产生深刻影响。北大荒精神作为一种精神力量，促进了北大荒的发展，并转化为脱贫致富的物质力量；②文化反作用于经济，先进健康的文化促进经济的发展。在北大荒精神的指引下，第一批国营农场创建，掀起了北大荒大规模开发建设的高潮；③文化影响人的实践活动、认识活动。在北大荒精神的指引下，人们勇于担当、敢为先锋，奋力创造北大荒发展新的奇迹；④北大荒精神在北大荒巨变中发挥着深远持久的影响，不断激励着一代代北大荒人不断创造美好幸福的生活。（每点3分，共12分）
- (2) ①生产力决定生产关系，生产关系反作用于生产力，适合生产力状况的生产关系推动生产力的发展，不适合生产力状况的生产关系阻碍生产力的发展；（3分）②在社会主义社会，改革是解决生产力和生产关系矛盾、解放生产力的基本方式，是推动经济社会发展的强大动力；（3分）③北大荒从政企合一的管理体制整建制转入集团化企业化经营管理体制，推进现代企业制度持续完善，破除阻碍农业生产力发展的经济体制和经营机制弊端，解放了生产力，促进了经济发展。（4分）
- (3) ①坚定理想信念，立鸿鹄志、做奋斗者，从北大荒精神中汲取青春力量；②从点滴小事做起，脚踏实地，重在行动，让青春在建设北大荒的不懈奋斗中绽放光彩。（每点2分，共4分。本题为开放型试题，考生如有其他答案，需要从“传承北大荒精神”“践行北大荒精神”两个角度设置，才可给分。）

1号卷·A10联盟2022届高三开年考

文科综合能力测试（历史）参考答案

一、选择题（本大题共 12 小题，每小题 4 分，共计 48 分）

题号	24	25	26	27	28	29	30	31	32	33	34	35
答案	C	B	B	D	A	D	C	C	D	C	A	B

24. C 由材料信息可知，从西周到秦朝，姓氏由贵族专属到平民也能使用，说明原有宗法制度渐趋解体，故 C 项正确。姓氏制度的影响至始至终都存在，A 项表述与史实不符；贵族与平民仍有明确的界限，并没有趋于平等，B 项表述错误；婚姻关系仅仅是其中的一部分，D 项错在以偏概全。
25. B 由材料信息可知，秦汉时期楚地、吴东、江东等地农业、手工业、商业都得到了不同程度的发展，不同地区的物产也不同，这反映出秦汉时期南方经济存在着一定的地域差异，故 B 项正确。A、C 项从材料本身无法得出。材料主旨并非强调商业繁荣，除吴东外，楚地商业未有涉及、豫章之地的商业水平不高，故 D 项错误。
26. B 第一则史料出自《贞观政要》，是李世民与房玄龄的对话，从档案编撰主体及其立场来看，可以断言对李建成多有诬枉，于唐太宗有虚美；第二则史料出自《旧唐书》，说明世民发动玄武门之变绝非偶然，而是蓄谋已久。第三则史料出自宋代的《资治通鉴》，表明建成并无计划除掉世民，因生性仁厚而掉以轻心，当元吉自告奋勇想除掉世民，也被他制止；综合来看，反映出不同环境下人们的思想倾向影响了历史记述，故选 B 项。官修史书更容易受到政治的影响，A 项说法可排除；历史记述不一定要以亲身经历为基础，C 项错误。D 项说法不成立，可排除。
27. D 根据所学知识分析，由此画中的诗、书、画、印可知，该画属于文人画。从画中可看出，徐渭描绘了一只简约却颇具神采的螃蟹，描绘了深秋时节螃蟹的横行之态，抓住了螃蟹饱食稻子（“黄云”指稻子）后躲在洞穴中的特点，再从画卷题诗：“饱却黄云归穴去，付将甲冑欲何为。”可推知，该画意在讽刺那些饱食终日、享尽荣华而不愿英勇作战、报效国家的武将，具有借物讽喻的特点，故选 D 项。隐逸思想并非儒家思想，而是道家思想，排除 A 项；文人落寞生活，从画中无法体现，排除 B 项；此画作与文人画一脉相传，与反传统无关，排除 C 项。
28. A 由材料“进步史观蔓延到中国”“……以关照停滞的中国”等并结合所学可知，随着民族危机的加深和西方的进化论在中国的传播，希望通过学习西方进行变革的思想观念逐渐流行，鲁迅的主张恰恰是这种思想观念异动的表现，故 A 项正确。文学革命兴起于新文化运动期间，B 项排除；材料并未提及知识界追捧西方民主政治，C 项排除；传统文化统治地位动摇是在新文化运动时期，D 项排除。
29. D 由材料“广州起义备受推崇，秋收起义地位远低于广州起义”等并结合所学知识可知，广州起义的地位高企，主要是由于符合俄国式的革命道路特征，而自 1928 年 10 月，井冈山革命根据地开始建立，找到了正确的革命道路，但是并不意味着俄国式道路遭到彻底否定，材料表明党内对于革命道路的选择仍存在一定分歧，故 D 项正确。八七会议确定了武装夺取政权的革命方针，A 项排除；B 项表述与当时史实不符，排除；材料提及的时间处于土地革命阶段而非国民大革命，C 项排除。

1号卷·A10联盟2022届高三开年考·文科综合能力测试（历史）参考答案 第

30. C 由表格可知,抗日根据地发行的北海币币值相对稳定,而国统区物价指数都出现大幅度的上涨,这说明根据地的经济管理总体效果较好,故 C 项正确。民族工业在抗战期间环境继续恶化而非好转, A 项排除;材料未提及官僚资本的地位, B 项排除;抗战期间并未开展土地改革, D 项排除。
31. C 由材料“电影‘明星’成为反动腐朽的代名词”“政府则推选了新中国的 22 大明星”等并结合所学可知,从去明星化到推选明星,意在构建国家建设、符合人民需要的文艺氛围,这也说明文艺创作的发展植根于时代所需,故 C 项正确。百家争鸣强调的是学术领域的探讨而非文艺创作, A 项排除; B 项表述与史实不符合,排除;新中国成立即遏制了反动腐朽文化, D 项排除。
32. D 由题干材料信息可知,柏拉图是想通过理想中“善”的城邦与现实中的城邦对照,只有理念中的“善的城邦是最美好的且永恒不变的”,故 D 项正确。柏拉图是在《理想国》一书中描绘了符合他“理念”的善的城邦,但善的城邦并非依靠理念就能建立起来,故 A 项错误。根据材料并结合所学可知,柏拉图理想中的政体是哲学王统治,而非民主政治, B 项可排除。材料并未体现出雅典城邦存在道德沦丧问题, C 项说法错误。
33. C 由材料“……劳动是很好的抑制方法”“……由劳动转向了教育”等并结合所学可知,西方国家对儿童的管教由惩罚性质的劳动转向了重视教育,尤其是工人阶级子弟,主要是因为随着工业化的发展,需要受过一定教育的、具有一定文化素养的工人,故 C 项正确。思想解放并非其最主要的原因, A 项排除;政治统一并非是转向的主要原因,且德国统一是在 1871 年,与材料时间不符, B 项排除;福利国家建立于二战后, D 项排除。
34. A 由材料并结合所学可知,马克思主义经典理论认为社会主义的前提应该是建立在生产力高度发达的基础上,但是苏联通过优先发展重工业等一系列手段,建立了社会主义制度,开辟了苏联模式,具有一定的特殊性,故 A 项正确。苏联解体是苏联模式改革失败,并非是历史发展的必然性, B 项排除; C、D 项表述与史实不符,均排除。
35. B 由材料“……罗斯福予以坚决反对”“美国则施压英国……”并结合所学可知,战后美国因冷战等因素,对西欧的联合予以了支持,故 B 项正确。材料的主旨在于美国对于欧洲联合的变化,而非英美的矛盾, A 项排除;材料无法说明美苏冷战的危害, C 项排除;材料没有提及资本主义阵营的分化, D 项排除。

二、非选择题(本大题包括必做题和选做题两部分,其中 41—42 为必考题,45—47 为选考题,共 52 分)

41. (25 分)

- (1) 内涵:超越性即超越了不同的种族和地域;普遍性即符合人性及其生活需要的文明价值和秩序;整体性即统一性(大一统),是政治、文明、文化和道德的统一。(1 点 2 分,2 点 4 分,任答 2 点即可,共 4 分)
原因:宗法分封体制的影响;百家争鸣的促进;民族交融的推动等。(1 点 2 分,3 点 6 分,共 6 分)
- (2) 背景:西方侵略,民族危机加深;工业文明和西方近代民族国家思想传入;近代工商业的发展;政治变革和民主、民族意识的觉醒等。(1 点 3 分,3 点 9 分,任答 3 点即可,共 9 分)
- (3) 意义:推动中国外交政策的转变;为国内建设提供良好的国际环境;促进社会主义现代化建设和提高国际地位;推动中国积极融入世界体系中,有利于世界的和平与发展等。(1 点 2 分,3 点 6 分,任答 3 点即可,共 6 分)

1 号卷·A10 联盟 2022 届高三开年考·文科综合能力测试(历史)参考答案

42. (12分)

参考示例 1

论题：世界现代化进程呈现出明显的阶段性。(2分)

阐释：新航路开辟后，西欧国家占得先机，开始了现代化的探索，并走上了殖民掠夺发展资本主义的道路。之后为欧洲的部分国家所仿效，资本主义进入到早期殖民扩张阶段，并借此完成了资本的原始积累，推动了资本主义经济的发展。与此同时，英国率先在制度上建立了立宪政体，开启了政治民主化潮流，美国独立、法国大革命则是这股浪潮方兴未艾的表现，资本主义经济的发展获得了制度保障。工业革命的完成，进一步提升了资本主义国家的实力，其通过示范和模式移植推动了其他地区的现代化进程。二战后，由于冷战、以及全球化、科技革命等因素的发展，其他落后地区的现代化也纷纷取得了进展。

由此，现代化起于西欧最后扩展到全球范围内，呈现出明显的阶段性。(10分)

参考示例 2

论题：现代化在欧美的拓展。(2分)

阐释：1689年，英国颁行《权利法案》建立了君主立宪政体。之后，英国资本主义发展获得了制度保障，到了18世纪中期，英国建立了世界殖民霸权，获得了空前广阔的殖民地市场。在诸多因素的合力之下，英国率先开展了工业革命，并成为世界第一个实现现代化的国家。18世纪中后期，英国北美殖民地资本主义的发展、民主意识的增强，要求摆脱英国殖民统治、实现独立的呼声高涨，美国宣布独立并建立了联邦共和制国家，推动了美国资本主义的发展。法国大革命后，虽然经历了共和与君主政体的徘徊，但随着工业革命在法国的开展，法国最终也建立起共和制政体，有利于维护资产阶级的利益，推动了资本主义的发展。

英、美、法等国家的模式虽然有所差异，但是政治上的民主化、经济上的工业化等是其共同点，可见，现代化在欧美地区实现了空间上的拓展。(10分)

(以上“示例”仅供阅卷参考，不是唯一标准答案，本题也可以从现代化的模式、地区分布等角度自拟论题进行阐释，言之成理亦可赋分)

45. (15分)

(1) 特点：阶段性，随着国家建设的需要不断发展完善；体系化，建立了中央到地方的政府参事体系；制度化，党和国家先后颁行制度予以保障等。(1点3分，3点9分，共9分)

(2) 影响：有利于党和政府决策的科学性，促进社会主义现代化事业的发展；有利于团结爱国力量，促进祖国的统一大业；有利于发扬民主，推动社会主义民主政治的发展等。(1点2分，3点6分，共6分)

46. (15分)

(1) 基本观点：德国认为国家必须要通过战争才能生存，出于长期安全考虑，应率先发起一场预防性战争。(4分) 英国认为德国整军备战的目标是英国，德国人会抓住一切机会取代英国的地位。(3分)

(2) 原因：19世纪中后期，德国完成统一，作为后起国家，工业发展迅速，殖民地市场狭小，且保留了大量封建残余，军国主义色彩浓厚，倾向运用军事手段保障自身安全。

(4分) 英国作为当时世界上最大的殖民国家，虽然建立了强大海军，但20世纪初，英国有所衰退，担心其它国家对英国海权和殖民地利益的威胁和挑战。(4分)

47. (15分)

(1) 朱熹：批评否定王安石，认为改革以理财为核心，重用小人，激化了矛盾，是北宋灭亡的重要原因；(4分) 梁启超：认同肯定王安石，把王安石类比为英国资产阶级革命的领袖克伦威尔，其改革带来了富国强兵。(4分)

(2) 因素：评价者的立场和标准；评价者所处的时代背景；史料考订与发现。(1点3分，2点5分，3点7分，共7分)

1号卷·A10联盟2022届高三开年考·文科综合能力测试(历史)参考答案

1号卷·A10联盟2022届高三开年考

文科综合能力测试（地理）参考答案

一、选择题（本大题共 11 小题，每小题 4 分，共 44 分。在每小题给出的四个选项中，只有一项是符合题目要求的）

题号	1	2	3	4	5	6	7	8	9	10	11
答案	C	D	A	B	B	C	A	D	C	B	A

1. C 读图可知，2009 年至 2017 年粤东和粤西工业碳排放表现为转入且增幅最大，C 正确。
2. D 读图可知珠三角地区整体工业碳排放显著高于其他地区，所以 A、B、C 错误；广州位于珠三角内部，工业碳排放较大且整体呈现减少趋势，D 正确。
3. A 调整能源消费结构有利于减少化石能源消费比重，减少碳排放，①正确；产业转移使碳排放发生地出现转移，对碳排放总量影响较小，②错误；营造生态林可以增强对二氧化碳的吸收，但不属于减少碳排放范畴，③错误；产业升级一般表现为重工业比重下降、高新技术产业和第三产业比重上升，对能源消耗减少，④正确。
4. B 斯里兰卡位于南亚，受南亚季风（夏季西南季风，冬季东北季风）影响。斯里兰卡地势中南部高，以山地为主，四周较低，西南部为夏季西南季风的迎风坡，降水丰沛，所以湿润区应位于西南部，而大面积的东北部为夏季西南季风的背风坡，降水较少，应为干旱区，由此可判断该国干旱区与湿润区的分界线应为乙，故选 B。
5. B 图 3 为干旱区水库面积的季节变化图，该水库位于西南季风背风坡、东北季风迎风坡，在 10 月至次年 2 月受东北季风携带水汽抬升地形雨影响，面积较大。5 月水库面积异常变大，可能是由该月全国性大面积暴雨导致的，因此 B 正确。
6. C 斯里兰卡属于热带季风气候，全年分为热季（3—5 月）、雨季（6—10 月）和旱季（11—次年 2 月）三季，热季和旱季降水极少，旱季较长，是造成该国水资源长期严重短缺的主要自然原因，故选 C。
7. A 新奥尔松地区虽位于北冰洋，纬度位置高，地带性植被应该是冰原，但由于受北大西洋暖流影响显著，即使在冬季，日平均气温也可到 0℃以上，因此，地表植被最可能是苔原，故选 A。
8. D 新奥尔松地区位于北极圈以北地区，有极昼极夜现象，冬季为极夜，气温日变化幅度最小，④为冬季，故选 D。
9. C 新奥尔松地区气温日变化幅度大小主要受极昼极夜影响，即光照时数，故选 C。
10. B 道孚常受青藏高原地区风沙侵蚀，坐西朝东有利于防风采光，①正确；躲避洪水应该选择高地修建房屋，而不是临近河流，排除②；河流的主要功能是用水和运输，因该地位于长江上游，水运不便，排除④，③正确；因此答案选 B。
11. A “崩空”材料以树木为主，不能节省材料，建造难度较大，排除 B、D；木质材料使得居住冬暖夏凉，但并非建筑结构的优点，排除 C；“崩空”多由圆木交错重叠而成，结构整体性好，而道孚位于断裂带上，多地震，因此“崩空”有利于防范地震。

1号卷·A10联盟2022届高三开年考·文科综合能力测试（地理）参考答案

二、非选择题（共4题，56分，其中43、44题为选做题。）

36.（22分）

- （1）整体上空间分布不均；（2分）东部密集，西部稀疏；（2分）人口高度集中在少数大城市和多数小城镇，中等城镇发展滞后。（2分）
- （2）邻近阿拉伯海，海运便利；（2分）与内陆联系便利，经济腹地广阔；（2分）工业基础好，城市化水平较高，便于城镇间物资和人口的流动。（2分）
- （3）产业类型：第三产业或服务业。（2分）（若写企业，则不得分）
产业部门：交通、仓储、金融、商贸、旅游等。（任答两点得4分）
- （4）带动沿线交通发展，促进工业化进程，提高城市化水平；（2分）加强城市分工与协作，带动周边中小城镇发展，均衡国家城镇空间结构。（2分）

37.（24分）

- （1）该地冬季气候寒冷，植被耐寒；夏季气温高，蒸发量大，降水稀少，植被耐旱；全年晴天较多，植被喜光；春秋多大风，植被抗风；滨湖地带多盐碱，植被耐盐碱。（每点2分，任答3点得6分）
- （2）盛行风向：东北风。（2分）判断依据：该地雅丹个体形态狭长，呈东北——西南走向；（2分）最高点位于东北端，东北端陡峭，被风力侵蚀强，为迎风面。（2分）
- （3）该地气候干旱，昼夜温差大，风化作用强；（2分）春夏阵雨浸润软化岩石表层，且空气湿度大，夜晚水汽凝结，削弱了岩石的抗侵蚀能力；（2分）多大风，风力侵蚀作用强，使罗布泊雅丹形态更为低矮。（2分）
- （4）方面①：罗布泊水域范围扩大，周边地区空气湿度增大；（2分）周边地区昼夜温差缩小；（2分）罗布泊周边地区降水增多，（植被覆盖率增大，）风速减少等。（2分）
方面②：罗布泊水域面积扩大，水生生物数量增多；吸引众多鸟类及其他陆地动物栖息繁殖；促进沿湖地区生物群落多样化；生物多样性增加等。（每点2分，任答3点得6分）

43.（10分）

分布特征：出境旅游安全事故在区域分布上高度集中，地区间差异较大；（2分）东亚、东南亚地区占比较高，其它地区相对较低。（2分）
影响因素主要有：境外旅游地的自然环境条件（地形、气候、水文等）；（2分）旅游硬件设施情况（交通等）；（2分）社会文化环境（社会治安、政治形势、政策与态度等）等。（2分）（其它合理答案酌情给分）

44.（10分）

问题：机制砂的原料来源于矿山开采，会导致生态破坏；机制砂的加工环节，湿法工艺产生水污染；干法工艺产生大气污染；机器运转过程产生噪音污染。（任答三点得6分）
解决措施：矿山开采前对地表植被和土壤进行移植或处理；开采矿石后对被破坏的矿山植被恢复、复垦等；对粉尘污染进行降尘处理；对污泥水可以沉淀处理；机器运行过程中做好降噪处理。（任答两点得4分）

关于我们

自主选拔在线是致力于提供新高考生涯规划、强基计划、综合评价、三位一体、学科竞赛等政策资讯的升学服务平台。总部坐落于北京，旗下拥有网站（[网址: www.zizzs.com](http://www.zizzs.com)）和微信公众平台等媒体矩阵，用户群体涵盖全国90%以上的重点中学师生及家长，在全国新高考、自主选拔领域首屈一指。

如需第一时间获取相关资讯及备考指南，请关注**自主选拔在线**官方微信号：**zizzsw**。

